

MUNICÍPIO DE PARAÓPEBA MINAS GERAIS

CONCURSO PÚBLICO EDITAL N° 001/2012



Atendente de Saúde

MANHÃ

Organizador:



CARGO: ATENDENTE DE SAÚDE

Texto

Droga na escola

O tema não é novo nem de fácil solução. A droga matriculou-se na escola brasileira, sobretudo na de Ensino Médio, criando embaraços para pais e educadores. Tornou-se até objeto político, com a absurda proposta de discriminação da maconha.

Esse é notoriamente o começo de um processo que leva à cocaína e a outras drogas mais pesadas. É injustificável a sua defesa, mesmo que tenha o nobre objetivo de obter votos de seus prováveis usuários. Melhor seria que os neurônios desses políticos estivessem voltados para outras causas, menos danosas à formação de nossa juventude.

Alguns médicos se prestam a esclarecimentos de propósitos duvidosos: isso é menos perigoso do que o cigarro; beber é mais agressivo ao organismo do que uma simples “fumadinha”. São critérios de equiparação que não têm muito sentido. Como se o indivíduo fosse colocado diante da dúvida: “Você prefere morrer de tiro ou de enforcamento?”

Vivi uma experiência chocante. Dirigindo uma escola, na década de 70, na zona sul do Rio de Janeiro, soube que a maconha, de forma solerte, estava sendo comercializada nas últimas classes do Ensino Médio. Enviei a circular preventiva, chamei os pais para uma conversa (como sempre, compareceram somente 15%) e apurei a vigilância.

Uma coordenadora me disse que um determinado aluno adoecia toda quinta-feira, em torno das 10h. Era liberado, mas começou a ser visto a partir das 12h30, confraternizando com os alunos que saíam do primeiro turno. Com a ajuda de um inspetor, fui informado de que ele era “avião” de traficantes. Saía cedo para buscar a droga e voltava depois para fazer o serviço de distribuição. Não tive contemplação: foi expulso da escola. Por uns tempos, com certeza, o movimento diminuiu, antes de ser totalmente dominado.

Esse é o papel da escola.

(Arnaldo Niskier, fragmento)

01

De acordo com as ideias do texto, marque V para as afirmativas verdadeiras e F para as falsas.

- () Não são preocupantes os indícios do uso de drogas por adolescentes nas escolas brasileiras, mas os diretores devem estar alertos.
- () A escola deve desenvolver sua vocação para o policiamento de alunos usuários de drogas.
- () A discriminação da maconha é um passo perigoso para estimular o uso não só da maconha, mas também de outras drogas mais pesadas.

A sequência está correta em

- A) F, V, F B) F, F, V C) V, F, V D) V, V, V E) V, V, F

02

Infere-se do texto que

- A) o uso de drogas é menos perigoso do que beber.
- B) a droga é um problema de fácil solução.
- C) não adianta punir alunos usuários de drogas. Deve haver moderação na imposição de penas.
- D) os educadores brasileiros estimulam o uso de drogas.
- E) é injustificável a defesa e a comercialização da maconha.

03

“A droga matriculou-se na escola brasileira, sobretudo na de Ensino Médio, criando embaraços para pais e educadores.” A palavra destacada pode ser substituída sem alteração de sentido por

- A) principalmente. B) oposição. C) chamado. D) indispensável. E) indesejado.

04

As frases transcritas do texto apresentam o mesmo tempo verbal, EXCETO:

- A) “São critérios de equiparação que ...”
- B) “O tema não é novo nem de fácil solução ...”
- C) “Uma coordenadora me disse que um determinado aluno ...”
- D) “... o movimento diminuiu, antes de ser totalmente dominado.”
- E) “Alguns médicos se prestam a esclarecimentos ...”

05

Em “Não tive contemplação: foi expulso da escola.”, a palavra destacada apresenta como significado

- A) estremeção. B) inadequação. C) imprevisão. D) meditação. E) indignação.

06

Em relação à classe de palavras, relacione corretamente as colunas a seguir.

1. “Tornou-se até objeto político, ...” () Preposição.
2. “Esse é o papel da escola.” () Artigo.
3. “Melhor seria que os neurônios desses políticos...” () Pronome.

A sequência está correta em

- A) 1, 3, 2 B) 3, 2, 1 C) 3, 1, 2 D) 2, 1, 3 E) 1, 2, 3

07

“Enviei a circular preventiva, chamei os pais para uma conversa (como sempre, compareceram somente 15%) e apurei a vigilância.” O uso dos parênteses no trecho anterior se justifica em

- A) isolar elementos repetidos.
B) marcar uma reflexão ou comentário sobre o que se afirma.
C) marcar o vocativo.
D) indicar interferência no discurso.
E) separar partes do período.

08

Assinale as palavras acentuadas pela mesma razão.

- A) médio / saíram D) você / é
B) neurônios / médicos E) até / político
C) fácil / experiência

09

A palavra “expulso”, no 5º§ do texto, significa

- A) fingido. B) imune. C) excluído. D) informado. E) custoso.

10

Assinale a afirmativa grafada INCORRETAMENTE.

- A) Fumar é agressivo ao organismo.
B) Os professores esclareceram os fatos.
C) Isso é danoso à juventude.
D) O aluno foi expulso da escola.
E) Não há motivo para discriminar o uso da maconha.

RACIOCÍNIO LÓGICO

11

Seja a sequência de letras a seguir. A B C D E D C B A B C D E D C B A B C D E D C B... Qual será a 997ª letra?

- A) E B) D C) C D) B E) A

12

Um certo mês começou numa segunda-feira. O dia desse mês que foi véspera da última quinta-feira do mês, aconteceu no dia

- A) 23. B) 27. C) 26. D) 24. E) 25.

13










Um supermercado tem a tradição de realizar promoções na sessão de congelados de 4 em 4 dias. Se o funcionamento desse supermercado ocorre inclusive aos domingos e o primeiro dia de promoção caiu numa quarta-feira, então em qual dos dias citados demorou mais tempo a ter a sua primeira promoção?

- A) Quinta-feira B) Segunda-feira C) Sábado D) Terça-feira E) Sexta-feira

14

Considere a tabela. A interseção de uma linha representada por um número e uma coluna representada por uma letra indica um dos naipes do jogo de cartas. Qual das séries de combinações apresenta apenas naipes distintos?

- A) (2, B); (1, B); (3, C); (2, C)
- B) (2, A); (1, C); (3, A); (2, C)
- C) (2, A); (1, C); (3, C); (2, B)
- D) (2, A); (1, C); (3, B); (2, C)
- E) (2, A); (1, A); (3, B); (2, C)

| | A | B | C |
|---|---|---|---|
| 1 |  |  |  |
| 2 |  |  |  |
| 3 |  |  |  |

15

Considere a sequência de objetos.



Os sólidos geométricos associados a esses objetos são, respectivamente,

- A) paralelepípedo, cubo, cilindro, esfera.
- B) cilindro, cubo, esfera, cone.
- C) cubo, paralelepípedo, cone, esfera.
- D) cubo, paralelepípedo, esfera, cilindro.
- E) paralelepípedo, cubo, cone, esfera.

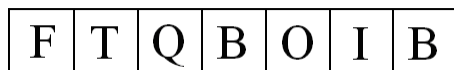
16

Considere que os termos da sequência foram sucessivamente obtidos, seguindo um determinado padrão (3, 7, 15, 31, 63, 127, 255, ...). Qual será o décimo termo dessa sequência?

- A) 1.537
- B) 1.929
- C) 1.945
- D) 2.047
- E) 2.319

17

Considere a sequência de letras.



Trocando-se cada letra dessa sequência pela sua antecedente no alfabeto obtém-se o nome de um(a)

- A) bebida.
- B) animal.
- C) pessoa.
- D) país.
- E) comida.

18

Na adição, cada figura representa um algarismo. Observe.

$$\begin{array}{r}
 167 \\
 + \square \bigcirc \triangle \\
 \hline
 579
 \end{array}$$

O produto obtido pela multiplicação dos algarismos que correspondem às 3 figuras é

- A) 4.
- B) 6.
- C) 8.
- D) 10.
- E) 12.

19

Numa padaria são vendidos pudins de dois tamanhos diferentes, sendo que o maior custa o triplo do preço do menor. Se 1/4 do pudim grande custa R\$4,50, qual será o preço da metade de um pudim pequeno?

- A) R\$2,50
- B) R\$4,00
- C) R\$3,00
- D) R\$3,50
- E) R\$2,80

20

Numa rua existem 3 prédios de alturas diferentes. Considere que o maior deles é 4 andares mais alto que a soma dos andares dos outros dois, e que o segundo maior tem 5 andares. Quantos andares, no máximo, tem o prédio mais alto?

- A) 11
- B) 13
- C) 12
- D) 14
- E) 10

CONHECIMENTOS ESPECÍFICOS

21

Sobre o atendimento telefônico, marque V para as afirmativas verdadeiras e F para as falsas.

- () Boa dicção e terminologia correta são imprescindíveis e não deve haver intimidade.
- () Ao tocar, o telefone deve ser atendido de imediato.
- () O uso do diminutivo é antipático e inadequado.

A sequência está correta em

- A) F, F, V B) V, V, F C) F, V, F D) V, V, V E) V, F, V

22

São atribuições e responsabilidades do Atendente de Saúde, EXCETO:

- A) Organizar o local de trabalho.
- B) Atender os telefonemas.
- C) Manter o arquivo atualizado.
- D) Planejar atividades relativas à pesquisa.
- E) Organizar e manter a agenda atualizada.

23

São funções do Atendente de Saúde, EXCETO:

- A) Agendar consultas.
- B) Cumprir medidas de prevenção e controle de infecção hospitalar.
- C) Zelar pela ordem e limpeza do ambiente de trabalho.
- D) Ser cordial e ter boa disposição.
- E) Receber e registrar medicamentos.

24

Para um bom atendimento telefônico, é necessário

- I. falar com outra pessoa, sem prestar atenção.
- II. evitar expressões afetivas.
- III. falar claro e pausadamente.

Está(ão) correta(s) apenas a(s) alternativa(s)

- A) I B) III C) I, II D) II, III E) I, II, III

25

O comportamento ético supõe as seguintes atitudes, EXCETO:

- A) Não depreciar os ausentes.
- B) Dizer a verdade.
- C) Cumprir o prometido.
- D) Apropriar-se de ideias alheias.
- E) Não divulgar problemas.

26

NÃO é aspecto a considerar no relacionamento pessoal no ambiente de trabalho

- A) adaptação à equipe de trabalho.
- B) tolerância.
- C) imparcialidade.
- D) explicação de fatos de maneira exagerada.
- E) autocontrole.

27

Para melhorar o atendimento é necessário que o atendente de saúde

- A) use microfone.
- B) dê informações precisas.
- C) peça ao paciente para atender o telefone.
- D) mantenha-se alheio aos que o rodeiam.
- E) deixe o telefone tocar várias vezes antes de atender.

28

São tarefas do Atendente de Saúde, EXCETO:

- A) Agendar.
- B) Informar.
- C) Encaminhar.
- D) Filtrar ligações telefônicas.
- E) Prescrever uso de medicamentos.

29

Analise as afirmativas.

- I. O Atendente de Saúde deve ter conhecimento pleno de sua função.
- II. Transmitir com segurança nas respostas e saber ouvir com atenção são deveres do Atendente de Saúde.
- III. O Atendente de Saúde não deve se impacientar jamais.

Está(ão) correta(s) apenas a(s) afirmativa(s)

- A) I
- B) II, III
- C) I, II
- D) II
- E) I, II, III

30

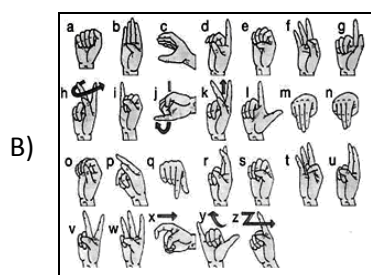

Assinale a seguir a função do Atendente de Saúde.

- A) Planejar treinamentos e eventos.
- B) Prestar apoio aos profissionais de enfermagem.
- C) Desenvolver programas computacionais.
- D) Controlar a movimentação dos veículos em garagens.
- E) Realizar campanhas de proteção à saúde em hospitais e unidades de pronto-atendimento.

CONHECIMENTOS GERAIS

31

Desde os primórdios da humanidade, o homem necessita se comunicar. Utilizou a parede das cavernas, tábuas de barro, pergaminhos. Hoje, são desenvolvidas tecnologias de comunicação nunca antes imaginadas. As seguintes imagens representam meios ou instrumentos de comunicação, EXCETO:



32

“ _____ é um termo usado para designar um fenômeno urbano que acontece a partir da união de duas ou mais cidades/municípios, constituindo uma única malha urbana, como se fosse uma única cidade.” Assinale a alternativa que completa corretamente a afirmativa anterior.

- A) Conurbação
- B) Metrópole
- C) Grande centro
- D) Cidade grande
- E) Explosão urbana

33

Hidrocarboneto refere-se a

- A) combustível fóssil.
- B) técnica forense.
- C) técnica musical.
- D) água destilada.
- E) técnica de pintura.

34

O Brasil é uma das nações do mundo que mais constrói barragens, e está altamente dependente em hidroeletricidade, com 80% da sua energia elétrica proveniente de grandes represas. Apesar de novas iniciativas para diversificar as suas fontes de geração de energia elétrica, as agências de planejamento de energia e as indústrias seguem pressionando pela grande expansão da geração de hidroeletricidade no Brasil, argumentando que isso seja crucial para a economia do país crescer. Enquanto, os críticos das hidrelétricas recomendam maneiras mais apropriadas e menos destrutivas de gerar energia, Maurício Tolmasquim, presidente da nova Empresa de Pesquisas Energéticas, a entidade com responsabilidade de planejar o futuro energético do Brasil, diz que os oponentes das barragens quer que Brasil volte à idade da pedra.

A construção de barragens no Brasil já provocou enormes impactos sociais e ambientais. O Movimento dos Atingidos por Barragens (MAB) se estima que um milhão de brasileiros já sofreram impactos da construção de barragens, e que 70% dessas populações nem sequer receberam indenização para as suas perdas. MAB, originalmente formado das populações atingidas por Itaipu nos anos 70, hoje se constitui um movimento no nível nacional, uma das organizações de atingidas por barragens mais fortes do mundo.

Controvérsias recentes mostram a falta de transparência e a impropriedade dos procedimentos para planejamento e licenciamento de novas represas no Brasil. Estudos de impacto ambiental da usina Barra Grande, no rio Pelotas, na bacia do Uruguai foram mostrados a ser fraudulentos, por omitir o fato de que a represa inundaria milhares de hectares de florestas primárias. Os estudos da hidrelétrica Estreito, no rio Tocantins, constataram que a formação da represa “ajudaria” os botos ameaçados, em restringir a sua mobilidade, facilitando o seu manejo. Estudos para barragens quase sempre subestimam o número de famílias elegíveis para compensação ou reassentamento. O governo brasileiro ignora as recomendações da Comissão Mundial de Barragens, dizendo que seguir as recomendações da CMB impossibilitaria a construção de novos projetos.

(<http://www.internationalrivers.org/am%C3%A9rica-latina/hidrel%C3%A9tricas-no-brasil>)

A partir da leitura do texto, marque **V** para as afirmativas verdadeiras ou **F** para as falsas.

- () A energia hidrelétrica representa um percentual insignificante no consumo energético brasileiro.
- () O texto expõe uma discussão entre ideias antagônicas sobre a utilização de energia hidrelétrica.
- () O texto possui caráter conceitual sobre a energia hidrelétrica.

A sequência está correta em

- A) V, V, F
- B) F, V, F
- C) V, F, F
- D) V, V, V
- E) F, V, V

35

Entende-se rede social como “uma das formas de representação dos relacionamentos afetivos ou profissionais dos seres humanos entre si ou entre seus agrupamentos de interesses mútuos.”

(<http://www.brasilseo.com.br/social-media-marketing/redes-sociais-e-sua-importancia-em-seo>)

Nesse sentido, são redes sociais, EXCETO:

- A) Orkut.
- B) Sonico.
- C) Facebook.
- D) Google Chrome.
- E) Twitter.

36

Ao longo do desenvolvimento da humanidade, o homem percebeu que são necessários órgãos supranacionais para regulamentarem, fiscalizarem, entre outras atribuições a nível internacional. São instituições supranacionais

- I. OMC
- II. Petrobras
- III. ONU
- IV. Marinha do Brasil
- V. FBI

Estão corretas apenas as alternativas

- A) I, II
- B) IV, V
- C) I, III
- D) III, V
- E) II, IV

37

Relacione corretamente os fatos da história do Brasil aos seus respectivos períodos de ocorrência.

- 1. Abolição da escravidão. () Período colonial.
- 2. Descoberta do ouro na região de Minas Gerais. () Período imperial.
- 3. Construção de Brasília. () 1ª República.
- 4. Semana de Arte Moderna. () Período Democrático na década de 1950.



A sequência está correta em

- A) 1, 2, 3, 4
- B) 2, 1, 4, 3
- C) 1, 2, 4, 3
- D) 3, 4, 1, 2
- E) 3, 1, 4, 2



38
A arte possui diversas formas de manifestação. Observe as obras e identifique a que representa uma expressão artística pictórica.

A) 



C) Café com pão
 Café com pão
 Café com pão
 Virgem Maria que foi isto maquinista?

Agora sim
 Café com pão
 Agora sim
 Café com pão

Voa, fumaça
 Corre, cerca
 Ai seu foguista
 Bota fogo
 Na fornalha
 Que eu preciso
 Muita força
 Muita força
 Muita força

(Trecho: Trem de Ferro – Manuel Bandeira)

39
“O Banco Central do Brasil é uma pessoa jurídica de caráter público, ou seja, é uma autarquia responsável diretamente pelas políticas monetárias do país, é a principal autoridade monetária. Antes de sua criação, em 31 de dezembro de 1964, os órgãos responsáveis pelas políticas monetárias do Brasil eram a Superintendência da Moeda e do Crédito (SUMOC), o Banco do Brasil e o Tesouro Nacional, atuando no controle monetário, na função de banco do governo e na emissão de papel-moeda, respectivamente.”

(<http://www.brasilecola.com/economia/banco-central-brasil.htm>)

A citação anterior refere-se ao campo semântico da

- A) política partidária.
- B) economia.
- C) cultura.
- D) sociedade.
- E) arte.

40

Analise a charge.



(http://www.juniao.com.br/weblog/archives/charge_cartum/index.html)

A partir da interpretação da charge, infere-se que o(a)(s)

- A) decisão dos governantes sempre representa a justiça.
- B) mídia é um instrumento de justiça.
- C) política, às vezes, é feita em cima de valores que não representam a justiça.
- D) Estados Unidos queriam que pessoas inocentes assassinassem Osama Bin Laden.
- E) telespectadora, devido à venda nos olhos, não está vendo nada na televisão. Por isso, insinua um diálogo falso.

INSTRUÇÕES

1. Material a ser utilizado: caneta esferográfica azul ou preta. Os objetos restantes devem ser colocados em local indicado pelo fiscal da sala, inclusive aparelho celular desligado e devidamente identificado com etiqueta.
2. Não é permitido consulta, utilização de livros, códigos, dicionários, apontamentos, apostilas, calculadoras e etc. Não é permitido ao candidato ingressar na sala de provas sem a respectiva identificação e o devido recolhimento de telefone celular, bip e outros aparelhos eletrônicos.
3. Durante a prova, o candidato não deve levantar-se, comunicar-se com outros candidatos e nem fumar.
4. A duração da prova é de 03 (três) horas, já incluindo o tempo destinado à entrega do Caderno de Provas e à identificação – que será feita no decorrer da prova – e ao preenchimento do Cartão de Respostas (Gabarito).
5. Somente em caso de urgência pedir ao fiscal para ir ao sanitário, devendo no percurso permanecer absolutamente calado, podendo antes e depois da entrada sofrer revista através de detector de metais. Ao sair da sala no término da prova, o candidato não poderá utilizar o sanitário. Caso ocorra uma emergência, o fiscal deverá ser comunicado.
6. O Caderno de Provas consta de 40 (quarenta) questões de múltipla escolha para os cargos de nível superior, médio magistério ou normal superior, médio técnico, médio e fundamental completo, e de 30 (trinta) questões para os cargos de nível fundamental incompleto. Leia-o atentamente.
7. **As questões das provas objetivas são do tipo múltipla escolha, com 05 (cinco) opções (A a E) e uma única resposta correta.**
8. Ao receber o material de realização das provas, o candidato deverá conferir atentamente se o Caderno de Provas corresponde ao cargo a que está concorrendo, bem como se os dados constantes no Cartão de Respostas (Gabarito) que lhe foi fornecido, estão corretos. Caso os dados estejam incorretos, ou o material esteja incompleto ou tenha qualquer imperfeição, o candidato deverá informar tal ocorrência ao fiscal.
9. Os fiscais não estão autorizados a emitir opinião e prestar esclarecimentos sobre o conteúdo das provas. Cabe única e exclusivamente ao candidato interpretar e decidir.
10. O candidato poderá retirar-se do local de provas somente a partir dos 90 (noventa) minutos após o início de sua realização, contudo não poderá levar consigo o Caderno de Provas, somente sendo permitida essa conduta apenas no decurso dos últimos 30 (trinta) minutos anteriores ao horário previsto para o seu término.
11. Os 3 (três) últimos candidatos de cada sala somente poderão sair juntos. Caso o candidato insista em sair do local de aplicação da prova, deverá assinar um termo desistindo do Concurso Público e, caso se negue, deverá ser lavrado o Termo de Ocorrência, testemunhado pelos 2 (dois) outros candidatos, pelo fiscal da sala e pelo coordenador da unidade.

RESULTADOS E RECURSOS

- Os gabaritos oficiais preliminares das provas objetivas serão divulgados na Internet, no site www.idecan.org.br, às **16h00min do dia subsequente ao da realização da prova escrita.**

- Os recursos deverão ser apresentados, conforme determinado no **item 8 do Edital de Concurso Público nº. 001/2012**, sendo observados os seguintes aspectos:

a) O candidato que desejar interpor recursos contra os gabaritos oficiais preliminares das provas objetivas disporá de **02 (dois) dias úteis**, a contar do dia subsequente ao da publicação, em requerimento próprio disponibilizado no link correlato ao Concurso Público no site www.idecan.org.br.

b) A interposição de recursos poderá ser feita **somente via Internet, através do Sistema Eletrônico de Interposição de Recursos**, com acesso pelo candidato com o fornecimento de dados referentes à sua inscrição, apenas no prazo recursal, ao IDECAN, conforme disposições contidas no site www.idecan.org.br, no *link* correspondente ao Concurso Público.