



CONCURSO PÚBLICO MUNICÍPIO DE CARANGOLA ESTADO DE MINAS GERAIS



EDITAL Nº. 001/2011

INSTRUÇÕES

- 01 - Material a ser utilizado: caneta esferográfica azul ou preta. Os objetos restantes devem ser colocados em local indicado pelo fiscal da sala, inclusive aparelho celular desligado e devidamente identificado com etiqueta.
- 02 - Não é permitido consulta, utilização de livros, códigos, dicionários, apontamentos, apostilas, calculadoras e etc. Não é permitido ao candidato ingressar na sala de provas sem a respectiva identificação e o devido recolhimento de telefone celular, bip e outros aparelhos eletrônicos.
- 03 - Durante a prova, o candidato não deve levantar-se, comunicar-se com outros candidatos e nem fumar.
- 04 - A duração da prova é de 03 (três) horas, já incluindo o tempo destinado à entrega do Caderno de Provas e à identificação – que será feita no decorrer da prova – e ao preenchimento do Cartão de Respostas (Gabarito).
- 05 - Somente em caso de urgência pedir ao fiscal para ir ao sanitário, devendo no percurso permanecer absolutamente calado, podendo antes e depois da entrada sofrer revista através de detector de metais. Ao sair da sala no término da prova, o candidato não poderá utilizar o sanitário. Caso ocorra uma emergência, o fiscal deverá ser comunicado.
- 06 - O Caderno de Provas consta de 30 (trinta) questões objetivas de múltipla escolha. Leia-o atentamente.
- 07 - As questões das provas objetivas são do tipo múltipla escolha, com 05 (cinco) opções (A a E) e uma única resposta correta.**
- 08 - Ao receber o material de realização das provas, o candidato deverá conferir atentamente se o Caderno de Provas corresponde ao cargo a que está concorrendo, observando o nome do cargo na parte superior da próxima página, bem como se os dados constantes no Cartão de Respostas (Gabarito) que lhe foi fornecido, estão corretos. Caso os dados estejam incorretos, ou o material esteja incompleto ou tenha qualquer imperfeição, o candidato deverá informar tal ocorrência ao fiscal.
- 09 - Os fiscais não estão autorizados a emitir opinião e prestar esclarecimentos sobre o conteúdo das provas. Cabe única e exclusivamente ao candidato interpretar e decidir.
- 10 - O candidato poderá retirar-se do local de realização das provas levando o Caderno de Provas, no decurso dos últimos 30 (trinta) minutos anteriores ao horário previsto para o seu término. O candidato poderá retirar-se do local de provas somente a partir dos 90 (noventa) minutos, após o início de sua realização, contudo não poderá levar consigo o Caderno de Provas.
- 11 - Os 3 (três) últimos candidatos de cada sala somente poderão sair juntos. Caso o candidato insista em sair do local de aplicação da prova, deverá assinar um termo desistindo do Concurso Público e, caso se negue, deverá ser lavrado o Termo de Ocorrência, testemunhado pelos 2 (dois) outros candidatos, pelo fiscal da sala e pelo coordenador da unidade escolar.

RESULTADOS E RECURSOS

- Os gabaritos oficiais preliminares das provas objetivas serão divulgados na Internet, no site www.idecan.org.br, a partir das 16h00min do dia útil subsequente ao da realização da prova escrita (segunda-feira).
- Os recursos deverão ser apresentados, conforme determinado no item 8 do Edital nº. 001/2011, sendo observados os seguintes aspectos:
- a) O candidato que desejar interpor recursos contra os gabaritos oficiais preliminares das provas objetivas disporá de **02 (dois) dias úteis**, a contar do segundo dia subsequente ao de sua divulgação (quarta-feira), em requerimento próprio disponibilizado no link correlato ao Concurso Público no site www.idecan.org.br.
- b) A interposição de recursos poderá ser feita **somente via internet**, através do **Sistema Eletrônico de Interposição de Recursos**, com acesso pelo candidato com o fornecimento de dados referentes à sua inscrição, apenas no prazo recursal, ao IDECAN, conforme disposições contidas no site www.idecan.org.br, no link correspondente ao Concurso Público.

08 – M



C
A
D
E
R
N
O
D
E
P
R
O
V
A
S

TEXTO: Em saneamento rural, Brasil é o 4º pior da América Latina

Acesso ao serviço básico entre a população que vive fora das áreas urbanas só não é pior que no Haiti, na Bolívia e no Peru.

O Brasil regrediu na tarefa de reduzir pela metade a proporção da população rural sem acesso a saneamento adequado. Quase dois terços dos brasileiros que vivem fora de áreas urbanas ainda não contam com o serviço básico. Isso significa que mais de 20 milhões de pessoas – o dobro da população de uma cidade como São Paulo – correm maior risco de contrair doenças infecciosas ou parasitárias, que são adquiridas principalmente pelo contato com o esgoto.

Em toda a América Latina e Caribe, o índice só não está abaixo das taxas de Haiti, Bolívia e Peru, que, ainda assim, evoluíram mais que o Brasil em direção a essa meta dos Objetivos de Desenvolvimento do Milênio, propostos pela ONU.

(Infante, Alan. Em saneamento rural, Brasil é o 4º pior da América Latina. 16 jun. 2005.

Disponível em: <<http://www.pnud.org.br/saneamento/reportagens/index.php?id01=1257&lay=san-31k->>>

01) O texto informa que

- A) o Brasil tem saneamento básico adequado.
- B) São Paulo possui 20 milhões de habitantes.
- C) grande parte da população rural do Brasil vive sem saneamento básico.
- D) poucas doenças são adquiridas pelo contato com o esgoto.
- E) o Brasil atingiu a meta proposta pela ONU quanto ao saneamento ambiental.

02) De acordo com as ideias do texto, marque V para as afirmativas verdadeiras e F para as falsas.

- () O meio rural ainda não conquistou os mesmos benefícios que o meio urbano.
- () O Brasil, em geral, está longe da meta proposta pela ONU, no documento chamado “Objetivos de Desenvolvimento do Milênio”.
- () Há desigualdade entre o campo e a cidade com relação à infraestrutura da população.

A sequência está correta em

- A) V, F, V
- B) V, V, V
- C) F, F, V
- D) F, V, F
- E) V, V, F

03) Em “Quase dois terços dos brasileiros que vivem fora das áreas urbanas ainda não contam com o serviço básico.” o ponto final (.) foi utilizado para

- A) marcar pausa de curta duração.
- B) finalizar o período.
- C) realizar questionamento.
- D) destacar gíria.
- E) denotar surpresa.

04) A palavra “América” é acentuada pelo mesmo motivo que a seguinte palavra

- A) só
- B) Bolívia
- C) evoluíram
- D) básico
- E) Milênio

05) Assinale a única palavra que se apresenta no masculino.

- A) meta
- B) cidade
- C) desenvolvimento
- D) doença
- E) população

06) Encontra-se no aumentativo a palavra

- A) população
- B) direção
- C) são
- D) abaixo
- E) milhões

07) “Em toda a América Latina e Caribe, o índice só não está abaixo das taxas de Haiti, Bolívia e Peru.” A palavra destacada apresenta como significado oposto

- A) na parte inferior.
- B) posição menos alta.
- C) acima.
- D) embaixo.
- E) neste instante.

08) Em “... correm maior risco de contrair doenças infecciosas e parasitárias.” a palavra destacada apresenta como significado correto

- A) perseguir.
- B) adquirir.
- C) perturbar.
- D) sobrar.
- E) friccionar.

09) Assinale a palavra escrita INCORRETAMENTE.

- A) índisse
- B) serviço
- C) urbana
- D) população
- E) esgoto

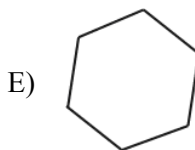
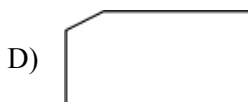
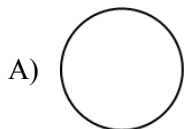
10) Apresentam-se no feminino as seguintes palavras, EXCETO:

- A) América
- B) proporção
- C) infecciosa
- D) Bolívia
- E) esgoto



MATEMÁTICA

- 11) O círculo não é um polígono porque NÃO tem linhas
A) retas. B) paralelas. C) horizontais. D) transversais. E) verticais.
- 12) Ana guarda uma xícara de leite de 120 mL todos os dias, ao final de uma semana ela junta tudo num recipiente para fazer um bolo. A quantidade total de leite para fazer o bolo é
A) 720 mL B) 740 mL C) 360 mL D) 840 mL E) 1 L
- 13) Os amigos de Pedro compraram 3 pizzas do mesmo tamanho para comemorar o seu novo emprego. Ele comeu metade de uma, $\frac{1}{6}$ da segunda e $\frac{1}{6}$ da terceira. Qual a fração que representa a quantidade total de fatias que ele comeu?
A) $\frac{3}{6}$ B) $\frac{5}{6}$ C) $\frac{5}{18}$ D) $\frac{6}{18}$ E) 3
- 14) Qual das figuras NÃO é um polígono?



- 15) Fábio comprou 18 bolebas a R\$0,30 cada uma. Fábio gastou
A) R\$5,40. B) R\$6,20. C) R\$5,20. D) R\$4,40. E) R\$15,40.
- 16) Antônio mora em Carangola e trabalha em Fervedouro. Ele gasta 25 minutos para ir e mais 25 minutos para voltar, todos os dias. Ao final de 5 dias úteis, quanto tempo Antônio fica na estrada?
A) 50 min B) 1h 40min C) 4h 10 min D) 3 h E) 4 h
- 17) Lúcia comprou 22 bombons; ela comeu 4 e dividiu o restante com seus 3 filhos. Quantos bombons cada filho comeu?
A) 8 B) 6 C) 5 D) 4 E) 7
- 18) Se 250 g equivale a $\frac{1}{4}$ do quilo, 750 g pode ser representado por
A) $\frac{2}{4}$ kg. B) $\frac{3}{8}$ kg. C) $\frac{1}{6}$ kg. D) $\frac{3}{4}$ kg. E) $\frac{4}{4}$ kg.
- 19) Ronaldo comprou 1 dúzia de brigadeiros e 1 dezena e meia de moranguinhos. No total, Ronaldo comprou quantos doces?
A) 25 B) 22 C) 37 D) 17 E) 27
- 20) Marco precisa perder 7 kg ao final de cada trimestre. Quantos kg ele perderá ao final de 1 ano?
A) 21 kg B) 42 kg C) 28 kg D) 36 kg E) 45 kg

CONHECIMENTOS GERAIS

- 21) Dentre as cidades apresentadas, marque a que NÃO sediará jogos na copa de 2014 no Brasil.
A) Rio de Janeiro. B) Manaus. C) Recife. D) Belém. E) Belo Horizonte.
- 22) Luiz Inácio Lula da Silva, uma das personalidades mais populares no cenário político, foi diagnosticado com câncer, localizado no(a)
A) laringe. B) esôfago. C) estômago. D) gânglio linfático. E) fígado.
- 23) Grande parte dos feriados nacionais é de origem católica, esta é, ainda, a religião que predomina no país. Analise as datas apresentadas e marque a que NÃO é um feriado cristão.
A) 12/10 B) 25/12 C) 15/11 D) 02/11 E) 13/12

CONCURSO PÚBLICO – MUNICÍPIO DE CARANGOLA/MG

- 24) “A Wikileaks é uma organização transnacional sem fins lucrativos, que publica, em seu site de postagens de fontes anônimas, fotos e informações confidenciais vazadas de governos ou empresas. Em 2010, seu principal editor e porta-voz foi acusado de estupro e agressão sexual, sendo esta mais uma retaliação por provocar uma saída justa entre as nações.” O criador do site é
- A) Bill Clinton. D) Steve Jobs.
B) Mark Zuckerberg. E) Julian Assange.
C) Bill Gates.
- 25) O Enem, Exame Nacional do Ensino Médio, criou uma marca de falhas. No ano de 2011, em qual estado brasileiro houve vazamento de provas?
- A) Ceará. D) Rio Grande do Sul.
B) Pernambuco. E) Pará.
C) Piauí.
- 26) Qual filme brasileiro foi indicado a concorrer ao Oscar 2012?
- A) Se eu fosse você 2. D) As mães de Chico Xavier.
B) Tropa de Elite 2. E) Assalto ao Banco Central.
C) Bruna Surfistinha.
- 27) Minas Gerais é um celeiro de grandes músicos. São exemplos de alguns, EXCETO:
- A) Ataulfo Alves. D) Milton Nascimento.
B) Ary Barroso. E) Clara Nunes.
C) Ângela Maria.
- 28) Em qual estado ocorreu um plebiscito, em 11 de dezembro, que ficou em pauta o seu desmembramento?
- A) Amazonas. B) Amapá. C) Pará. D) Tocantins. E) Mato Grosso.
- 29) São importantes fontes de energia, EXCETO:
- A) Hidráulica. B) Solar. C) Eólica. D) Fabril. E) Geotérmica.
- 30) Em 2012, ocorrerá as Olimpíadas em Londres, que é a capital de qual país?
- A) Suécia. B) Inglaterra. C) Espanha. D) Grécia. E) Irlanda.

