


LÍNGUA PORTUGUESA

LEIA TODOS OS TEXTOS, COM ATENÇÃO, PARA RESPONDER ÀS QUESTÕES DE 01 A 10.

TEXTO A**TEXTO B**

Se Vasco cair, Eurico ameaça “implodir” Dinamite.

O ex-presidente do Vasco, Eurico Miranda, mandou um recado ameaçador ao atual mandatário, Roberto Dinamite, em entrevista à Rádio Bandeirantes.

“Pense muito no que está fazendo com o Vasco, porque você não vai sair impune disso. Garanto que, nem que seja a última coisa que eu venha a fazer na minha vida, se o Vasco cair para a Segunda Divisão, eu vou acabar com você, com as suas vidas política e particular. Você só merece isso. Estou dizendo isso com todas as letras. Faça o diabo para impedir que o Vasco seja rebaixado. Pode continuar fazendo as suas lambanças, a sua auditoria, mas não deixe o Vasco cair. Se o Vasco for para a segunda divisão, eu vou acabar com você”, disparou.

(Fonte: <http://blog.miltonneves.ig.com.br/2008/10/21/se-vasco-cair-eurico-ameaca-implodir-com-dinamite/> (acessado em 10/06/12)).

1) Tendo em vista que há uma correlação entre os textos A e B, assinale a alternativa coerente acerca dos dois textos.

a) Fazendo referência a um filme (texto A), o site de humor não faz uma pilhéria, aludindo à remota possibilidade de o Vasco se manter na primeira divisão (Texto B).

b) O fato de o patrocinador, no primeiro texto, chamar-se champs – “campeão” em inglês – não se configura como uma ironia em relação à situação do clube, no segundo texto.

c) Para o leitor que não está familiarizado com o futebol, o título do texto B pode contribuir na construção do significado do A.

d) Ambos os textos, fazendo menção ao rebaixamento da equipe carioca, mostram-se como expressões de contrariedade ao rebaixamento.

e) A força semântica de “milagre” não pode se referir, com proporção de eventos bíblicos, à dificuldade em solucionar a situação do time.

TEXTO C**NOVO RUMO PROFISSIONAL**

Mudança de emprego ou de área de atuação deve ser encarada como possibilidade de autodescoberta

1 Pode ser um giro de 180 graus em outra direção ou uma mudança mais amena, para uma atividade relacionada à que você já executa. Não importa o tamanho do passo. Nem se você trocou estabilidade e um bom salário para investir num sonho. Ao longo da vida profissional, mais cedo ou mais tarde, todo mundo ensaia mudar de emprego ou de profissão em razão de novos projetos, desafios e insatisfações.

9 Esse momento normalmente acontece, segundo a psicóloga empresarial Márcia Coimbra, quando o profissional decide pautar sua trajetória no trabalho tendo em vista desejos pessoais. Além de trazer mais bem-estar quando são efetivamente realizadas, as transições profissionais ainda podem ser encaradas como uma possibilidade de autodescoberta, de reconhecimento da própria identidade.

17 No livro *Identidade de trabalho – Estratégias não-governamentais para reinventar sua carreira*, editado pela Harvard Business School Press, Hermínia Ibarra, professora de comportamento empresarial em Fontainebleau, na França, explica que, para ter satisfação, é preciso haver identificação com o trabalho. “Mas ela não é um tesouro escondido no fundo de cada um, esperando para ser descoberto. Ao contrário, é constituída de muitas possibilidades. Algumas tangíveis e concretas, outras definidas por coisas que fazemos e pelo meio onde vivemos, e outras que existem apenas na especulação de um futuro potencial e dos sonhos pessoais. É preciso estar sempre atento a tudo isso e de olho nas oportunidades”, afirma.

31 Na maioria das carreiras bem-sucedidas, segundo a autora, sempre existe um processo de tentativa e erro, de aprender fazendo, em que a experiência do aqui e agora ajuda a desenvolver as ideias sobre o que é plausível (e desejável) para o futuro, para a mudança. Portanto, o conselho é: “Se você está vislumbrando possibilidades em outras carreiras, corra para testá-las.”

38 Foi o que resolveu fazer a ex-funcionária pública Ivana Marques Macedo Forte, de 40 anos. Em 1999, ela pediu exoneração do cargo que ocupava na prefeitura, para batalhar emprego em uma empresa privada. Mas ainda não era o que ela queria. Depois de seis anos trabalhando na MBR como gerente de produção, decidiu respeitar o que ditava sua personalidade. “Nas duas guinadas que dei em minha vida profissional, as pessoas me tacharam de louca. Mas sempre tive uma veia empreendedora muito forte e queria poder usufruir de total autonomia, de praticar a gestão na qual acredito”, diz.

50 Com o marido e o irmão, ela abriu um fábrica de pães e hoje colhe frutos de sua coragem e determinação. “Estou feliz como nunca me senti em toda a minha vida profissional”, completa.

(Vanessa Jacinto/ Estado de Minas, acesso em 10/06/12)

2) O conteúdo desse texto, extraído do caderno Emprego, do jornal Estado de Minas, está voltado para:

- a) a seleção de profissionais capacitados.
- b) o surgimento de novas fontes de renda.
- c) a mudança de emprego em razão de novos objetivos.
- d) a divulgação de oportunidades de emprego.
- e) a divulgação de vagas no mercado de trabalho.

3) Em: “Mas ela não é um tesouro escondido no fundo de cada um” (linha 23), a palavra destacada se refere a:

- a) carreira
- b) satisfação
- c) identificação
- d) especulação
- e) pessoa

4) O trecho reescrito que não altera o sentido do texto original é:

- a) Ainda que você esteja vislumbrando possibilidades em outras carreiras, corra para testá-las.
- b) Quando você estiver vislumbrando possibilidades em outras carreiras, corra para testá-las.

- c) Onde você estiver vislumbrando possibilidades em outras carreiras, corra para testá-las.
- d) Caso você esteja vislumbrando possibilidades em outras carreiras, corra para testá-las.
- e) Conforme você esteja vislumbrando possibilidades em outras carreiras, corra para testá-las.

5) “Algumas tangíveis e concretas, outras definidas por coisas que fazemos e pelo meio onde vivemos”. [linha 25] A palavra destacada pode ser substituída corretamente por:

- a) que
- b) aonde
- c) nos quais
- d) o qual
- e) em que

TEXTO D

AÍ, GALERA

Jogadores de futebol podem ser vítimas de estereotipação. Por exemplo, você pode imaginar um jogador de futebol dizendo "estereotipação"? E, no entanto, por que não?

- Aí, campeão. Uma palavrinha pra galera.
- Minha saudação aos aficionados do clube e aos demais esportistas, aqui presentes ou no recesso dos seus lares.
- Como é?
- Aí galera.
- Quais são as instruções do técnico?
- Nosso treinador vaticinou que, com um trabalho de contenção coordenada, com energia otimizada, na zona de preparação, aumentam as probabilidades de, recuperado o esférico, concatenarmos um contragolpe agudo com parcimônia de meios e extrema objetividade, valendo-nos da desestruturação momentânea do sistema oposto, surpreendido pela reversão inesperada do fluxo da ação.
- Ahn?
- É pra dividir no meio e ir pra cima pra pegá eles sem calça.
- Certo. Você quer dizer mais alguma coisa?
- Posso dirigir uma mensagem de caráter sentimental, algo banal, talvez mesmo previsível e piegas, a uma pessoa à qual sou ligado por razões, inclusive, genéticas?
- Pode.
- Uma saudação para a minha progenitora.
- Como é?
- Alô, mamãe!

- Estou vendo que você é um, um...
- Um jogador que confunde o entrevistador, pois não corresponde à expectativa de que o atleta seja um ser algo primitivo com dificuldade de expressão e assim sabota a estereotipação?
- Estereotípico?
- Um chato?
- Isso.

(Luís Fernando Veríssimo)

6) Assinale a alternativa que retrata, no texto, duas situações relacionadas, que fogem à expectativa do público.

- a) A linguagem muito formal do jogador, inadequada à situação da entrevista, e um entrevistador que não entende nada do que lhe é dito.
- b) O uso da expressão "galera", por parte do entrevistador, e da expressão "progenitora", por parte do jogador.
- c) O desconhecimento, por parte do entrevistador, da palavra "estereotipação", e a fala do jogador em "é pra dividir no meio e ir pra cima pra pegá eles sem calça".
- d) O fato de os jogadores de futebol serem vítimas de estereotipação e o jogador entrevistado não corresponder ao estereótipo.
- e) O fato de o entrevistador se expressar muito bem e o jogador não falar em linguagem padrão.

7) A expressão "pegá eles sem calça" poderia ser SUBSTITUÍDA, em língua culta formal, sem comprometimento de sentido, por pegá-los...

- a) na mentira.
- b) desprevenidos.
- c) em flagrante.
- d) rapidamente.
- e) nus.

TEXTO E

DIARIAMENTE

“Para calar a boca: Rícino
 Para lavar a roupa: Omo
 Para viagem longa: Jato
 Para difíceis contas: Calculadora
 Para o pneu na lona: Jacaré
 Para a pantalonada: Nesga
 Para pular a onda: Litoral
 Para lápis ter ponta: Apontador
 Para o Pará e o Amazonas: Látex
 [...]

 Para levar na escola: Condução
 Para os dias de folga: Namorado
 Para o automóvel que capota: Guincho
 [...]

 Para saber a resposta: Vide-o-verso
 Para escolher a compota: Jundiá
 Para a menina que engorda: Hipofagi
 Para a comida das orcas: Krill
 Para o telefone que toca
 Para a água lá na poça
 Para a mesa que vai ser posta
 Para você o que você gosta: Diariamente”

(Marisa Monte)

8) A letra da canção apresenta uma construção especial, graças à repetição da palavra para. Sobre essa preposição, pode-se afirmar que ela transmite a ideia de:

- a) causa
- b) assunto
- c) companhia
- d) finalidade
- e) consequência


9) Identifique a alternativa em que se classificou INCORRETAMENTE a oração destacada:

- a) **Embora se alimentasse bem**, não apresentava boa saúde (subordinada adverbial concessiva).
- b) Ele apresentava uma boa saúde, **visto que sempre se alimentava bem** (subordinada adverbial causal).
- c) Melhorava de aparência, **à medida que deixava de fumar** (subordinada adverbial proporcional).

d) O movimento no restaurante era tanto, **que desistimos de comer** (subordinada adverbial consecutiva).

e) **Ainda que estivesse quase sem respirar**, ele não deixava de fumar (subordinada adverbial conformativa).

TEXTO F



TEXTO G



10) Assinale a alternativa que melhor descreve as críticas apresentadas nas duas charges.

a) Na segunda charge, ao criticar a estampa de camuflagem, o chargista quis mostrar as novas tendências no mundo da moda – o padrão soja e pasto.

b) Na primeira charge, ao trocar o pinguim de lugar, o chargista critica o aquecimento global, representado pelo calor do fogão.

c) Na primeira charge, ao colocar o pinguim sobre o fogão, o chargista quis representar as mudanças na decoração da cozinha.

d) Na segunda charge, ao criticar a vestimenta do soldado, o chargista quis mostrar que o padrão camuflagem não está mais na moda.

e) Na primeira charge, ao colocar o pinguim sobre o fogão, o chargista quis mostrar a resiliência dos animais, que se adaptam a quaisquer condições climáticas.

ATUALIDADES

11) A origem é o principal elemento para a caracterização dos resíduos sólidos. Segundo esse critério, os diferentes tipos de lixo podem ser agrupados em classes, a saber:

I. Lixo doméstico ou residencial.

II. Lixo público.

III. Lixo comercial.

IV. Lixo de fontes especiais (industrial, radioativo, agrícola, resíduos de serviços de saúde)

Está correto o que se afirma APENAS em

a) IV, apenas.

b) II e III, apenas.

c) I, II e III, apenas.

d) II, III e IV, apenas.

e) I, II, III e IV.

12) A matriz energética brasileira vem passando, ao longo dos anos por intensas e significativas mudanças, sobretudo em função da constante procura por fontes alternativas derivadas dos chamados agrocombustíveis. A produção desses combustíveis vem provocando alterações tanto nas áreas cultivadas quanto nas relações sociais que se estabelecem no campo brasileiro, especialmente pela expansão de alguns agrícolas. O principal cultivo associado aos agrocombustíveis, e que é responsável por essas alterações é:

a) Soja.

- b) Mamona.
- c) Cana-de-açúcar.
- d) Milho.
- e) Algodão.

13) O Brasil é um país que se destaca pela riqueza de sua rede hidrográfica; 12% da água doce de superfície, os rios, estão em território brasileiro. Dentre os rios brasileiros, o São Francisco se destaca tanto pela sua extensão como pela importância econômica e social das terras banhadas por ele. Sobre o rio São Francisco, suas características e importância, todas as alternativas estão corretas, EXCETO:

- a) O rio São Francisco e seus afluentes constituem uma importante bacia hidrográfica, obrigando usinas hidrelétricas como as de Paulo Afonso, Sobradinho, Três Marias, dentre outras que abastecem as regiões Sudeste e Nordeste do país.
- b) A importância do rio São Francisco está relacionada a sua utilização como hidrovia; por ele é escoada toda a produção agrícola das regiões Nordeste e Centro-Oeste.
- c) Recebe o cognome de “Rio da unidade nacional” por interligar o nordeste com o sudeste.
- d) O desmatamento de suas margens e das nascentes de muitos dos afluentes do São Francisco tem diminuído sensivelmente o volume de suas águas, podendo o rio que é perene tornar-se temporário.
- e) A transposição do rio São Francisco é um projeto polêmico, antigo e está sendo implantado pelo governo atual, com a construção de dutos e canais para levar a água do rio aos açudes e rios temporários do interior do Ceará, Rio Grande do Norte, Pernambuco e Paraíba.

14) As ações são os principais títulos negociados no mercado de capitais. Com relação ao mercado acionário, assinale a única opção FALSA:

- a) Uma ação representa a menor parcela do capital social de uma empresa.
- b) O detentor de uma ação (acionista) não é um credor da empresa, mas sim um de seus proprietários e, como tal, possui direito à participação nos resultados da empresa proporcionalmente ao número de ações que detém.
- c) As ações preferenciais asseguram prioridade na distribuição de resultados e conferem direito a voto.
- d) O retorno do investimento em ações pode ocorrer na forma de ganho de capital e eventos distribuídos pela empresa (dividendos, juros sobre o capital, bonificações em novas ações e subscrição).


e) Por serem objetos de negociação diária os preços das ações podem aumentar ou diminuir de acordo com o maior ou menor interesse dos investidores.

15) A Conferência das Nações Unidas sobre Desenvolvimento Sustentável, a Rio+20, em junho de 2012, na cidade do Rio de Janeiro. A Rio+20 foi assim conhecida porque marcou os vinte anos de realização da Conferência das Nações Unidas sobre Meio Ambiente e Desenvolvimento (Rio-92) e contribuiu para definir a agenda do desenvolvimento sustentável para as próximas décadas. Sobre essa Conferência, podemos afirmar:


- a) O objetivo da Conferência foi à renovação do compromisso econômico com o desenvolvimento sustentável, por meio da avaliação do progresso e da tecnologia.
- b) Teve como principais temas: A economia verde no contexto do desenvolvimento sustentável e da erradicação da pobreza; e A estrutura institucional para o desenvolvimento sustentável.
- c) A Agenda 21 é o Instrumento de planejamento para a construção de sociedades consumistas, em diferentes bases geográficas, que concilia métodos de tecnologia e eficiência econômica.
- d) O Governo brasileiro criou, no âmbito do Comitê Nacional de Organização, uma Coordenação de Sustentabilidade para analisar e propor ações para reduzir, mitigar ou compensar os impactos ambientais e sociais gerados pela Conferência. As ações foram organizadas em 4 dimensões: recursos hídricos, resíduos sólidos, energia e efeito estufa.
- e) Todas as alternativas estão corretas.

RACIOCÍNIO LÓGICO

16) Inicialmente 5 cartas foram embaralhadas na figura abaixo. Em cada embaralhamento, a primeira carta passa a ser a segunda, a segunda passa a ser a quarta, a terceira passa a ser a primeira, a quarta passa a ser a quinta e a quinta passa a ser a terceira.

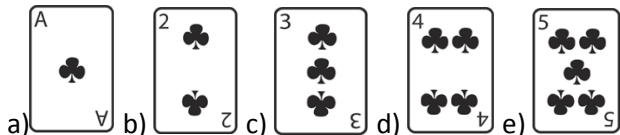


Posição inicial



Posição após o primeiro embaralhamento


Qual será a primeira carta após 2012 embaralhamentos?



17) Carmen, José, Regina e Geovai, repararam que Geovani é mais alto que Regina e que a diferença entre as alturas de Regina e Carmen é igual à diferença entre as alturas de Carmen e Geovani. Observaram também que a soma das alturas dos dois rapazes é igual à soma das alturas das duas garotas. Qual das alternativas a seguir é VERDADEIRA?

- a) A diferença entre as alturas de Geovani e Regina é igual à diferença entre as alturas de Carmen e José.
- b) Regina é mais alta que Carmen.
- c) A diferença entre as alturas dos meninos é igual à diferença entre as alturas das meninas.
- d) Regina é a mais baixa do grupo.
- e) Carmen é a mais alta de todos.

18) Fazendo oito cortes em um cubo, perto de seus vértices, obtemos um sólido com 14 faces, que numeramos de 1 a 14. Na figura abaixo, observamos esse sólido sob dois pontos de vista diferentes. Qual é o número da face oposta à face de número 13?



- a) 5
- b) 12
- c) 6
- d) 7
- e) 11

19) A figura abaixo mostra um retângulo com uma área de 720 cm², formado por nove retângulos menores e iguais. Qual é o perímetro, em centímetros, de um dos retângulos menores?



- a) 20
- b) 24
- c) 36
- d) 30
- e) 48

20) Quantos números naturais são entre 0 e 999, nos quais aparecem pelo menos um algarismo 2 e nenhum algarismo 3?

- a) 217
- b) 192
- c) 204
- d) 225
- e) 254

CONHECIMENTOS ESPECÍFICOS

21) Uma sociedade empresária adquiriu mercadorias para revenda por R\$5.000,00, neste valor incluído ICMS de R\$1.000,00. No mesmo período, revendeu toda a mercadoria adquirida por R\$9.000,00, neste valor incluído ICMS de R\$1.800,00. A sociedade empresária registrou, no período, despesas com representação comercial no montante de R\$1.200,00 e depreciação de veículos de R\$200,00.

Na Demonstração do Valor Adicionado - DVA, elaborada a partir dos dados fornecidos, o valor adicionado a distribuir é igual a:

- a) R\$1.800,00.
- b) R\$2.600,00.
- c) R\$3.200,00.
- d) R\$4.000,00.
- e) R\$4.200,00.

22) A movimentação ocorrida nas contas de Reservas de Lucros em um determinado período é evidenciada na seguinte demonstração contábil:

- a) Balanço Patrimonial.
- b) Demonstração do Valor Adicionado.
- c) Demonstração dos Fluxos de Caixa.
- d) Demonstração dos Lucros ou Prejuízos Acumulados.
- e) Demonstração das Mutações do Patrimônio Líquido.

23) De acordo com os dados abaixo e sabendo-se que o Estoque Final de Mercadorias totaliza R\$350.000,00, em 31.12.2011, o Resultado Líquido é de:

| Contas | Valor |
|--------------------------------|------------------|
| Caixa | R\$ 80.000,00 |
| Capital Social | R\$ 50.000,00 |
| Compras de Mercadorias | R\$ 800.000,00 |
| Depreciação Acumulada | R\$ 65.000,00 |
| Despesas com Juros | R\$ 110.000,00 |
| Despesas Gerais | R\$ 150.000,00 |
| Duplicatas a Pagar | R\$ 355.000,00 |
| Duplicatas a Receber | R\$ 140.000,00 |
| Estoque Inicial de Mercadorias | R\$ 200.000,00 |
| Móveis e Utensílios | R\$ 70.000,00 |
| Receita com Juros | R\$ 80.000,00 |
| Receitas com Vendas | R\$ 1.000.000,00 |

- a) R\$170.000,00.
- b) R\$240.000,00.
- c) R\$350.000,00.
- d) R\$390.000,00.
- e) R\$410.000,00.

24) Conforme a legislação vigente que regula o exercício profissional, o contabilista poderá ser penalizado por infração legal ao exercício da profissão. Assinale a opção que não corresponde à penalidade ético-disciplinar aplicável.

- a) Advertência reservada.
- b) Suspensão temporária do exercício da profissão.
- c) Advertência pública.
- d) Censura pública.
- e) Cassação do exercício profissional.

25) Um contabilista, em razão do enquadramento de empresa cliente em regime de tributação simplificado, resolve elaborar a escrituração contábil em regime de caixa. A atitude do contabilista:

- a) Está em desacordo com os Princípios de Contabilidade, mas não consiste em infração ao disposto no Código de Ética Profissional do Contabilista, qualquer que seja o porte da empresa.
- b) Não consiste em infração ao disposto no Código de Ética Profissional do Contabilista e está em conformidade

- com os Princípios de Contabilidade, caso a empresa em questão seja uma microempresa.
- c) Não consiste em infração ao disposto no Código de Ética Profissional do Contabilista, mas está em desacordo com os Princípios de Contabilidade, caso a empresa em questão seja uma microempresa.
- d) Está em desacordo com os Princípios de Contabilidade e consiste em infração ao disposto no Código de Ética Profissional do Contabilista, qualquer que seja o porte da empresa.
- e) Consiste em infração ao disposto no Código de Ética Profissional do Contabilista e está em conformidade com os Princípios de Contabilidade.

26) Presume-se que a entidade não tem a intenção nem a necessidade de entrar em liquidação, nem reduzir materialmente a escala das suas operações; se tal intenção ou necessidade existir, as demonstrações contábeis têm que ser preparadas numa base diferente e, nesse caso, tal base deverá ser divulgada.

A afirmação acima tem por base o Princípio da:

- a) Continuidade.
- b) Oportunidade.
- c) Prudência.
- d) Relevância.
- e) Entidade.

27) A conta que deve ser apresentada no passivo circulante ou passivo não circulante, conforme o prazo de realização é:

- a) Adiantamento de Clientes.
- b) Adiantamento a Fornecedores.
- c) Despesas Antecipadas.
- d) Duplicatas Descontadas.
- e) Provisão para Devedores Duvidosos.

28) Pela nova Lei das Sociedades por Ações, as despesas pré-operacionais devem ser consideradas como:

- a) Ativo Intangível.
- b) Ativo Diferido.
- c) Ativo Imobilizado.
- d) Ativo investimento.
- e) Despesas do período a que competem.

29) Os direitos que tenham por objeto bens incorpóreos destinados à manutenção da companhia ou exercidos com essa finalidade, inclusive o fundo de comercio adquirido são classificados no:

- a) Ativo Imobilizado.
- b) Ativo Intangível.
- c) Ativo Investimentos.
- d) Ativo Realizável a Longo Prazo.
- e) Ativo Circulante.

30) De acordo com as determinações da Lei nº 6.404/76 e atualizações, os direitos que tenham por objeto bens incorpóreos destinados à manutenção da Companhia, ou exercidos com essa finalidade, devem ser classificados no:

- a) Ativo Circulante.
- b) Ativo Realizável a Longo Prazo.
- c) Ativo Imobilizado.
- d) Ativo Diferido.
- e) Ativo Intangível.

31) Determinada Empresa S.A. emprestou para os quatro diretores do grupo R\$1.500.000,00. O evento foi formalizado por meio de contrato de mutuo, com juros de mercado, para pagamento em doze meses, conforme determina a lei societária vigente. Esse fato deve ser registrado como:

- a) Adiantamento a diretores – Passivo Circulante.
- b) Empréstimos a diretores – Ativo não Circulante.
- c) Adiantamento a diretores - Ativo Circulante.
- d) Empréstimos a diretores - Ativo Circulante.
- e) Empréstimos a Diretores - Passivo Circulante.

32) Não é dedução da receita bruta de vendas:

- a) Devoluções de vendas.
- b) Comissões sobre vendas.
- c) Abatimentos sobre vendas.
- d) PIS e COFINS.
- e) ICMS sobre vendas.

33) Assinale a opção CORRETA.

As despesas de fretes:

- a) E seguros pagas na aquisição de mercadorias para revenda devem ser classificadas como curto de aquisição de mercadorias.
- b) E seguros pagas na aquisição de mercadorias para revenda devem ser classificadas como despesas comerciais.
- c) Não pagas, devem ser classificadas no ativo diferido.

- d) Pagas na entrega de mercadorias vendidas devem ser classificadas como custo de mercadorias vendidas.
- e) Pagas na venda de mercadorias não alteram o resultado operacional.

34) Na demonstração do resultado, prevista no Artigo 187 da Lei 6.404/76, são consideradas outras receitas aquelas decorrentes de:

- a) Aplicações financeiras.
- b) Alienação de bens do ativo imobilizado.
- c) Ajuste positivo na avaliação de investimentos pelo método da equivalência patrimonial.
- d) Dividendos de investimentos avaliados pelo custo de aquisição.
- e) Reversão de provisão para créditos de liquidação duvidosa.

35) Marque a opção que indica receita não tributável pelo IRPJ e CSLL:

- a) Juros ganhos em aplicações financeiras.
- b) Receita na venda de equipamentos de uso.
- c) Receita de aluguel.
- d) Comissões ganhas na venda de mercadorias em consignação.
- e) Receita de equivalência patrimonial.

36) De acordo com o pronunciamento técnico CPC 03, na demonstração de fluxos de caixa, as mudanças no tamanho, na composição do capital próprio e no endividamento da entidade resultam de:

- a) Atividade de financiamento.
- b) Atividades de investimento.
- c) Atividades operacionais.
- d) Equivalentes a caixa.
- e) Fluxos de caixa.

37) A Demonstração do Valor Adicionado (DVA) evidencia.

- a) Quanto de riqueza uma empresa adicionou, de que forma essa riqueza foi distribuída e quanto ficou retido na empresa.
- b) Valor adicionado originado nas operações, os recursos oriundos das atividades de financiamento e o saldo de caixa no final do período.
- c) Montante de riqueza que uma empresa adicionou, o quanto dessa riqueza foi distribuída para os agentes e

acionistas e os lucros retidos na empresa sem destinação específica e as disponibilidades do período.

d) Receita adicionada pela empresa deduzida das despesas operacionais, exceto a financeira e o total de lucro retido em forma de reserva.

e) Riqueza adicionada pela empresa, a distribuição dos dividendos e a variação do patrimônio líquido do exercício.

38) Nos termos do pronunciamento do conceitual básico, emitido pelo Comitê de Pronunciamentos Contábeis, sobre a estrutura conceitual para a elaboração e apresentação das demonstrações contábeis. São pressupostos básicos para o preparo das demonstrações contábeis:

a) Continuidade e Identidade.

b) Regime de Competência e Continuidade.

c) Registro pelo Valor Original e Oportunidade.

d) Relevância e custo como base de valor.

e) Representação adequada e Materialidade.

39) Considerando o regime de competência, podemos dizer que APROPRIAR uma despesa é sempre equivalente a:

a) Pagar uma despesa.

b) Reconhecer a ocorrência do fato gerador de uma despesa antecipada.

c) Reconhecer a ocorrência do fato gerador de uma despesa paga e incorrida ou de uma despesa paga e não incorrida.

d) Reconhecer o fato gerador de uma despesa, independentemente do pagamento.

e) Reconhecer a ocorrência do fato gerador de uma despesa paga e incorrida.

40) Para uma empresa comercial, Resultado Operacional Bruto é o mesmo que.

a) Receita bruta menos custo das mercadorias vendidas.

b) Receita líquida menos custo das mercadorias vendidas menos despesas comerciais.

c) Receita líquida menos o custo das mercadorias vendidas, menos despesas operacionais.

d) Receita custo das mercadorias líquida menos vendidas.

e) Receita líquida menos despesas operacionais.