

LÍNGUA PORTUGUESA 10 QUESTÕES

Texto para as questões 1, 2 e 3

O resistente camelo

Há imensos desertos de areia na Arábia e na África. O clima ali é quente e seco. Existem longas extensões no deserto em que não há água.

As pessoas não poderiam ir muito longe nele se não tivessem ajuda. Mas elas têm a ajuda do camelo.

O camelo pode transportar uma pessoa, além de um fardo pesado. E ele não se importa de viver no deserto. Isso porque tem muitas vantagens que outros animais não têm.

Às vezes, o vento sopra no deserto e a areia acaba entrando em tudo: por exemplo, nos olhos, ouvidos e nariz das pessoas. Mas não nos do camelo. Ele tem longos cílios que impedem a areia de entrar em seus olhos. Não entra nos ouvidos, porque ele possui pelos protegendo as orelhas. E tem a capacidade de fechar as narinas para que a areia não entre.

A boca do camelo não é tão delicada quanto a dos outros animais. Ele é capaz de comer as plantas espinhosas do deserto sem machucá-la.

As patas do camelo são grandes e chatas e não afundam na areia macia. Ele consegue andar trinta milhas num dia e passar vários dias sem comer nem beber.

Mas é claro que, como todo mundo, ele também precisa de comida e água para viver. Só que não tão frequentemente quanto os outros animais. Quando tem comida, ele come muito. E guarda em sua corcunda. Quando tem água, também bebe um bocado. E conserva-a em outras partes do corpo. Depois vai usando a comida e a bebida à medida que vai necessitando.

O camelo não é um animal amigável nem se importa com os seres humanos. Mas, para os povos do deserto, é um animal extremamente importante.

Leonora e Arthur Hornblow

01. De acordo com o texto, o camelo tem algumas vantagens em relação aos outros animais que vivem no deserto. Assinale a única alternativa INCORRETA, sobre essas vantagens.

- A. Seus olhos e orelhas são protegidos por cílios e pelos que impedem a areia de entrar.

- B. Suas narinas também são protegidas da areia por pelos muito grossos.
- C. A boca do camelo é tão resistente que ele é capaz de comer plantas espinhosas sem se machucar.
- D. Graças ao tamanho e ao formato de suas patas, o camelo não afunda na areia macia.
- E. O camelo é capaz de passar vários meses sem comer nem beber

02. Por que o camelo não precisa de água nem de alimento com a mesma frequência que os outros animais?

- A. O camelo é um animal resistente e acostumado com a vida difícil nos desertos de areia, portanto pode passar meses sem beber água e nada acontece a ele.
- B. A boca do camelo, que não é delicada, possui um reservatório onde ele armazena água e alimento por vários dias.
- C. Diferentemente dos outros animais do deserto o camelo não precisa beber muita água, pois o seu organismo possui uma substância que libera um líquido necessário para sua sobrevivência.
- D. O camelo guarda o que come e a água que bebe em sua corcunda e em outras partes do corpo, depois vai usando à medida que vai necessitando.
- E. O camelo consegue andar trinta milhas num dia e passar vários dias sem comer nem beber porque recebeu treinamento para resistir a fome e a sede.

03. De acordo com o texto o que significa: "O camelo não é um animal amigável e nem se importa com os seres humanos"?

- A. Apesar de dócil e domesticado, o camelo prefere a companhia de outros animais que vivem no deserto.
- B. Significa que o camelo não é um animal que se relaciona com os seres humanos, ele não dá atenção para humanos.
- C. Porque a função do camelo é somente de transportar pessoas pelo deserto.
- D. O camelo, apesar de viver no deserto, só se adapta com as pessoas que vivem na mesma região.
- E. A vida do camelo junto aos humanos é triste e cansativa, pois é muito grande a exploração e os maus tratos.

04. Classificou-se, corretamente, a palavra dada em:

- A. Lâmpada – paroxítona
- B. Ideia – tritongo
- C. História – proparoxítona
- D. Bombom – oxítona
- E. Flor – monossílabo átono

05. Marque a alternativa em que todas as palavras são masculinas.

- A. Apêndice, champanha, guaraná
- B. Alvará, dinamite, omoplata
- C. Omelete, aguardente, sentinela
- D. Cal, telefonema, comichão
- E. Análise, hélice, cataplasma

06. Preencha as lacunas com D para dígrafo e EC para encontro consonantal.

- () blusa, crítica, faísca
- () Garfo, pneu, cascavel
- () exceção, palha, discípulo
- () desça, assassino, equivaler

Assinale a alternativa com a sequência correta:

- A. D, EC, EC, D
- B. EC, EC, D, D
- C. D, EC, D, EC
- D. EC, D, EC, D
- E. D, D, EC, EC

07. "Muitos atletas brasileiros atuam na Europa". Nesta oração o tipo de sujeito é:

- A. Sujeito composto.
- B. Sujeito simples.
- C. Sujeito oculto.
- D. Oração sem sujeito.
- E. Sujeito indeterminado.

08. Assinale a alternativa em que a oração possui predicado verbal.

- A. O dia amanheceu cinzento.

- B. Santos Dumont foi o inventor de talento.
- C. Os alunos ouviam a aula atentos
- D. O futebol é uma paixão séria.
- E. O exército americano chegou ao Brasil.

09. Marque a única alternativa em que não há ERRO na formação do plural do substantivo

- A. Todos os escrivãos abandonaram a delegacia da cidade.
- B. Os irmãos abraçaram-se comovidos.
- C. Muitos cidadãos protestaram contra a poluição ambiental.
- D. Os antigos gregos e romanos eram povos pagães.
- E. Ganhei seis lindas colherzinhas de prata.

10. Leia a frase do quadro abaixo:



Na frase há:

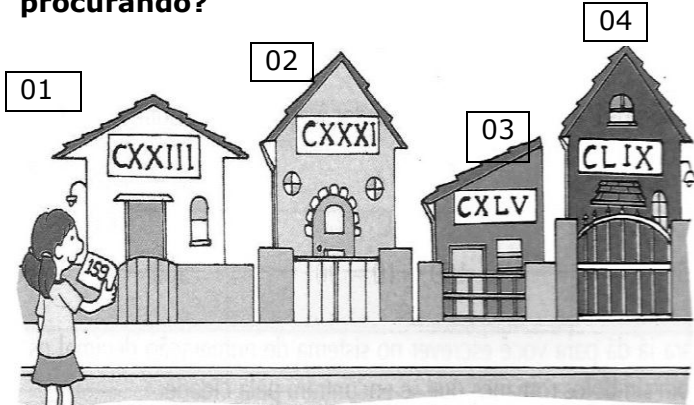
- A. 1 artigo 2 numerais
- B. 3 adjetivos e 1 verbo
- C. 2 pronomes e 2 advérbios
- D. 1 adjetivo e 3 verbos
- E. 3 pronomes e 3 adjetivos.

MATEMÁTICA 05 QUESTÕES

11. Num avião havia 128 passageiros. Em uma cidade desceram 53 passageiros e subiram 65. Quantos passageiros seguiram a viagem no avião?

- A. 140 passageiros
- B. 75 passageiros
- C. 118 passageiros
- D. 183 passageiros
- E. 63 passageiros

12. Lina está com número 159 anotado em um cartão. Qual das casas abaixo a Lina está procurando?



- A. O número da casa 01
- B. O número da casa 02
- C. O número da casa 03
- D. O número da casa 04
- E. Nenhuma das casas acima

13. Uma bibliotecária recebeu alguns pacotes com 657 livros no total. Ela quer distribuir esses livros igualmente em 14 estantes. Quantos livros deverá colocar em cada estante? Quantos livros sobrarão nos pacotes?

- A. A bibliotecária deverá colocar 46 livros em cada estante e sobrarão 15 livros nos pacotes.
- B. A bibliotecária deverá colocar 46 livros em cada estante e sobrarão 12 livros nos pacotes.
- C. A bibliotecária deverá colocar 26 livros em cada estante e sobrarão 13 livros nos pacotes.
- D. A bibliotecária deverá colocar 36 livros em cada estante e sobrarão 13 livros nos pacotes.
- E. A bibliotecária deverá colocar 46 livros em cada estante e sobrarão 13 livros nos pacotes.

14. Sara, Vanda e Silvia encomendaram uma pizza, que veio dividida em 8 pedaços. Sara comeu 2 pedaços, Vanda, 3 pedaços e Silvia somente 1 pedaço. Que fração da pizza sobrou?

- A. $\frac{4}{8}$
- B. $\frac{3}{8}$

- C. $\frac{8}{8}$
- D. $\frac{2}{8}$
- E. $\frac{1}{8}$

15. Leia o anúncio abaixo:

Condomínio Sete Torres



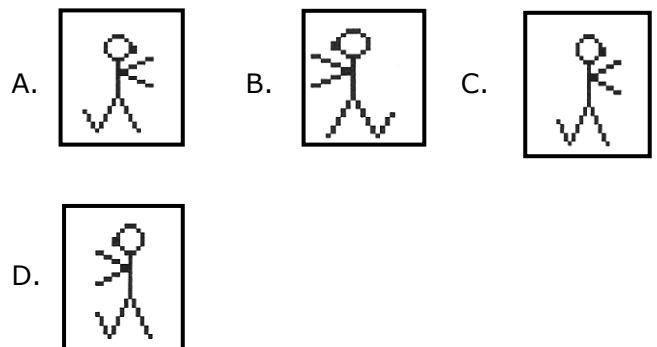
7 magníficos edifícios 5 andares em cada um 2 apartamentos por andar

Quantos apartamentos há ao todo nesse condomínio?

- A. 77 apartamentos
- B. 72 apartamentos
- C. 70 apartamentos
- D. 74 apartamentos
- E. 76 apartamentos

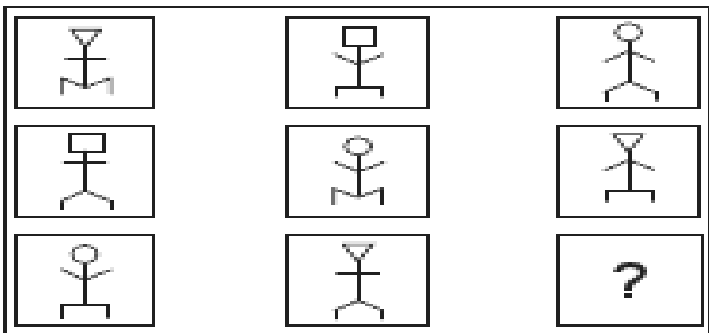
RACIOCÍNIO LÓGICO 05 QUESTÕES

16. Qual das figuras não pertence ao grupo abaixo?



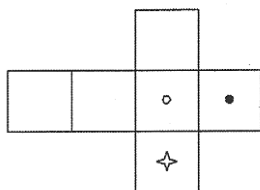
- E. Todas as figuras pertencem ao mesmo grupo.

17. Observe atentamente as figuras abaixo e assinale a alternativa com a figura que deverá substituir corretamente o ponto de interrogação.



- A.
- B.
- C.
- D.
- E.

18. A figura ao lado foi desenhada em cartolina e dobrada de modo a formar um cubo. Qual das alternativas mostra o cubo assim formado?



- A.
- B.
- C.
- D.
- E.

19. Carlindo sempre mente nas terças-feiras, quintas-feiras e sábados e, no restante dos dias da semana, sempre fala a verdade. Um dia, Afonsinho encontra Carlindo e ocorre o diálogo seguinte.

- Afonsinho pergunta: Que dia é hoje?
- Carlindo responde: Sábado.

- Afonsinho pergunta: E que dia será amanhã?
- Carlindo responde: Quarta-feira.

Em que dia da semana Afonsinho encontrou Carlindo?

- A. Domingo
- B. Terça-feira
- C. Quarta-feira
- D. Quinta-feira
- E. Sábado

20. Observe a figura do lado e assinale a alternativa que representa a sua vista frontal.



- A.
- B.
- C.
- D.
- E.

CONECIMENTOS ESPECIFICOS 20 QUESTÕES

21. Analise as afirmações referentes a Ética Profissional:

- 1) Comparecer todos os dias no trabalho é mais importante do que cumprir com horário;
- 2) Evitar falar em tom áspero com as pessoas na frente de estranhos, querer humilhar ou diminuir as pessoas..;

3) Para manter um ambiente de trabalho saudável é necessário ser tolerante e flexível, é saber ouvir as pessoas.

Marque a opção que apresenta os itens CORRETOS:

- A. Todos os itens estão corretos
- B. Apenas os itens 1 e 2 estão corretos
- C. Apenas os itens 2 e 3 está correto.
- D. Apenas os itens 1 e 3 estão corretos
- E. Todos os itens estão incorretos

22. Ter um bom relacionamento no ambiente de trabalho é muito importante para a convivência do dia a dia. Sobre relacionamento/convivência no ambiente de trabalho assinale a alternativa INCORRETA.

- A. No nosso ambiente de trabalho, o relacionamento profissional deve ser sempre cordial, amigável e respeitoso.
- B. O profissional precisa saber a diferença entre um contato amigável de um contato mais "íntimo", por isso, devemos prestar muita atenção se nossas atitudes estão adequadas ao nosso ambiente de trabalho.
- C. O relacionamento com o passar do tempo com as mesmas pessoas no dia a dia, tende a ficar mais próximo e com isso é normal começar a deixar de ser profissional para ser pessoal.
- D. Um relacionamento não pode ser somente profissional, mas o cuidado com as informações e atitudes pessoais é importantíssimo.
- E. Saiba ser tolerante com quem ainda não compreendeu seu temperamento ou seu estilo de vida. Faça amigos, seja pró-ativo e participativo.

23. Os equipamentos de proteção individual necessários para o maqueiro entrar no Centro Cirúrgico são:

- A. Capacete, botas de borracha, gorro e máscara.
- B. Gorro, propés, máscara e vestuário próprio para centro cirúrgico.

- C. Jaleco, gorro, máscara e óculos de proteção.
- D. Avental, máscara e botas.
- E. Todas as respostas estão corretas.

24. Para transportar um paciente de um local para o outro como o maqueiro pode potencializar a sua força física:

- A. Com a escalação de outro funcionário para ajudá-lo.
- B. Com o uso de uma dieta rica em calorias especialmente para o maqueiro.
- C. Com o uso de uma medicação a base de vitaminas e antibióticos.
- D. Com o uso de técnicas adequadas no trabalho.
- E. Com o uso de equipamentos eletrônicos.

25. Em caso de transporte de paciente em soroterapia, o maqueiro deverá observar se existe suporte acoplado à maca, caso contrário:

- A. Pedir ao paciente para segurar o soro até o seu destino.
- B. Chamar a enfermeira para ajudar a resolver o problema.
- C. Encarregar um familiar para assumir essa responsabilidade.
- D. Fechar os equipos de soro até o destino do paciente.
- E. Interromper o tratamento por sua própria iniciativa.

26. No que diz respeito ao transporte do paciente com suspeita de fratura de crânio, a maneira adequada para o transporte, após a sua imobilização será na posição de:

- A. Decúbito Lateral D ou E.
- B. Decúbito dorsal.
- C. Decúbito ventral.
- D. Elevação discreta da cabeça.
- E. Elevação dos membros inferiores, para promover melhor circulação na cabeça.

27. Para evitar riscos de contrair doenças no trabalho os trabalhadores devem ser vacinados contra:

- A. AIDS e gripe.
- B. Rubéola e meningite.
- C. Dengue e tuberculose.
- D. Lepra e sarampo.
- E. Tétano e Hepatite.

28. Quando se trata de carregamento de um paciente inconsciente da maca para o leito são necessárias no mínimo:

- A. Uma pessoa.
- B. Duas pessoas.
- C. Três pessoas.
- D. Quatro pessoas.
- E. Cinco Pessoas.

29. Um dos principais cuidados que o maqueiro deve observar para prevenir infecção em si mesmo e nos pacientes, refere-se a:

- A. Troca de roupa da maca e de uniforme a cada transporte de paciente.
- B. Uso dos equipamentos de proteção individual (EPI) e uso de lençóis descartáveis nas macas.
- C. Fazer uso de vitaminas e uma alimentação reforçada.
- D. Fazer uso de tratamento preventivo com antibiótico.
- E. Fazer uso de vacinas e de anti-inflamatórios.

30. Se um paciente estiver agitado o maqueiro deverá primeiramente, antes de transportá-lo, providenciar alguns cuidados como:

- A. Pedir a presença de familiares.
- B. Pedir a presença de um Psicólogo.
- C. Falar para o paciente que só pode transportá-lo depois que ele se acalmar.
- D. Realizar as contensões de braço, pernas ou tronco conforme rotina.

- E. Comunicar ao médico para aplicar tranquilizantes.

31. Ao transportar um paciente que esteja apresentando vômito de sangue, a posição para carregamento indicada ao maqueiro será:

- A. Em decúbito dorsal (barriga para cima).
- B. Em decúbito lateral (virado para um dos lados D ou E).
- C. Em decúbito ventral (barriga para baixo).
- D. Na posição de SIMS (perna dobrada).
- E. Na posição que o paciente preferir.

32. Numa situação onde houver contato com sangue, líquidos corporais, secreções, lesões e ferimentos, o maqueiro deve:

- A. Usar luvas cirúrgicas esterilizadas.
- B. Usar luvas de procedimentos contaminadas.
- C. Chamar o pessoal de enfermagem para assumir o transporte.
- D. Usar os equipamentos de proteção individual (EPI).
- E. Orientar os familiares para realizarem a tarefa.

33. Nos momentos de folga o maqueiro poderá atender favores aos pacientes, do tipo:

- A. Fazer ligações externas para dar recado à família.
- B. Fazer algumas comprinhas: biscoitos, doce, salgadinhos, entre outros.
- C. Facilitar a visita de parentes ou amigos fora do horário de visita.
- D. Fazer leituras religiosas, a pedido de pacientes analfabetos.
- E. Escrever cartas para entes queridos, a pedido do paciente.

34. Para garantir eficiência (com o efeito desejado) na lavagem das mãos, deve-se considerar:

- A. O tempo da lavagem e o tempo de secagem.
- B. A qualidade do sabão e a água destilada.

- C. A água corrente, sabão e uma fricção demorada.
- D. A substituição da água por uma solução como o álcool.
- E. O tipo de secagem e água corrente.

35. Pode-se entender sobre Ética profissional como:

- A. Conjunto de princípios básicos que regulam os costumes, a moral e a conduta das pessoas na sociedade.
- B. Normas de conduta moral que norteiam as ações do profissional no exercício da cidadania.
- C. Conjunto de princípios que estabelecem as regras de conduta do indivíduo no desempenho de suas atividades profissionais e em seu relacionamento com clientes e demais profissionais.
- D. Normas de conduta das organizações de saúde para a prestação de bens e serviços.
- E. Princípios que orientam e prescrevem a conduta pessoal de um profissional.

36. Sobre os princípios de Segurança no Ambiente de Trabalho Hospitalar, podemos citar as afirmativas abaixo:

- I. Instalação de corrimão nos acessos para escadas.
- II. Utilização de pisos antiderrapantes.
- III. Uso de equipamento de sinalização nas áreas onde estão sendo realizadas lavagem de pisos.
- IV. Sinalização visual que alerte para as áreas consideradas como de risco à saúde.
- V. Uso de calçados altos, porém abertos para maior conforto do profissional para sua rotina de trabalho.

Marque a alternativa correta:

- A. Somente as afirmativas I e III estão corretas.
- B. Somente a afirmativas IV e V estão corretas.
- C. Somente as afirmativas III e V estão corretas
- D. Somente a afirmativas I III IV e V estão corretas.

- E. Somente as afirmativas I III e V estão corretas.

37. O princípio do SUS que trata da continuidade e articulação das ações e serviços preventivos, curativos, individuais e coletivos, exigidos em todos os níveis de complexidade do sistema de saúde, é:

- A. Integralidade da Assistência.
- B. Universalidade.
- C. Equidade.
- D. Preservação da Autonomia.
- E. Descentralização Político-Administrativa.

38. Higiene e segurança são dois conceitos que se relacionam. As consequências do cumprimento de regras de higiene por cada indivíduo levam a:

- A. Ambientes públicos mais seguros, comportamentos individuais diferenciados, maior risco de doenças.
- B. Comportamentos mais seguros, espaços públicos de melhor qualidade e diminuição de situações de risco.
- C. Relacionamentos interpessoais fragilizados, aumento do risco de doenças, ambientes de trabalho mais seguros.
- D. Ambientes de trabalho de melhor qualidade, comportamentos coletivos fragilizados com problemas graves, risco de aparecimento de doenças.
- E. Comportamentos que ajudam a prevenir doenças, ambientes públicos mais insalubres, diminuição de problemas sociais.

39. Podemos considerar como uma das medidas de segurança no ambiente de trabalho:

- A. Carregar materiais pesados de maneira inadequada.
- B. Sinalizar as áreas que apresentam condições de salubridade adequadas.
- C. Manter nos setores, kits de primeiros socorros para os casos de acidentes.
- D. Uso de uniformes de mesma cor para funcionários antigos e novos.

- E. Realizar procedimentos que ofereçam risco sem fazer uso de equipamento de proteção coletiva.

40. Tomás Aquino trabalha no Hospital Municipal Universal na função de maqueiro, ao passar pelo corredor do Hospital observa que há uma pessoa caída no chão. Leia atentamente as opções abaixo e assinale aquela que apresenta a atitude correta que Tomás Aquino deve adotar como socorro inicial.

- A. Tomás Aquino deve solicitar a ajuda de um colega também maqueiro para juntos buscarem socorro para a pessoa caída.
- B. Tomás Aquino deverá sozinho colocar a paciente sobre a maca e dar início às compressões torácicas.
- C. Tomás Aquino deverá dirigir-se a sala de urgência em busca de socorro e relatar que há uma pessoa caída no corredor.
- D. Tomás Aquino deverá pressionar a sirene de alerta e solicitar a presença imediata de um clínico geral para socorrer a vítima.
- E. Tomás Aquino deverá aproximar-se da vítima, perguntar bem alto e claro "Está tudo bem?" e observar a resposta dela.