

PROVA
S12 V
TARDE

ATENÇÃO: VERIFIQUE SE
CÓDIGO E PROVA DESTE
CADERNO DE QUESTÕES
CONFEREM COM O SEU
CARTÃO DE RESPOSTAS



**Prefeitura de
Aracruz**

CARGO: ECONOMISTA

FRASE PARA EXAME GRAFOTÉCNICO (TRANSCREVA NO QUADRO DE SEU CARTÃO DE RESPOSTAS)

“Façamos da interrupção um caminho novo.”

LEIA ATENTAMENTE AS INSTRUÇÕES SEGUINTE:

1. Este **Caderno de Questões** contém questões de múltipla escolha, cada uma com 5 opções A, B, C, D e E.
2. Ao receber o material, verifique no **Cartão de Respostas** seu nome, número de inscrição, data de nascimento, cargo e prova. Qualquer irregularidade comunique imediatamente ao fiscal de sala. Não serão aceitas reclamações posteriores.
3. Leia atentamente cada questão e assinale no **Cartão de Respostas** a opção que responde corretamente a cada uma delas. O **Cartão de Respostas** será o único documento válido para a correção eletrônica. O preenchimento do **Cartão de Respostas** e a respectiva assinatura serão de inteira responsabilidade do candidato. Não haverá substituição do **Cartão de Respostas**, por erro do candidato.
4. Observe as seguintes recomendações relativas ao **Cartão de Respostas**:
 - A maneira correta de marcação das respostas é cobrir, fortemente, com esferográfica de tinta azul ou preta, o espaço correspondente à letra a ser assinalada.
 - Outras formas de marcação diferentes implicarão a rejeição do **Cartão de Respostas**.
 - Será atribuída nota zero às questões não assinaladas ou com falta de nitidez, ou com marcação de mais de uma opção, e as emendadas ou rasuradas.
5. O fiscal de sala não está autorizado a alterar qualquer destas instruções. Em caso de dúvida, solicite a presença do coordenador local.
6. Você só poderá retirar-se definitivamente do recinto de realização da prova após 1 hora contada do seu efetivo início, **sem levar este Caderno de Questões**.
7. Você só poderá levar este **Caderno de Questões** caso permaneça na sala até 1 hora antes do término da prova.
8. Por motivo de segurança, só é permitido fazer anotação durante a prova neste **Caderno de Questões** e no **Cartão de Respostas**. Qualquer outro tipo de anotação será motivo de eliminação automática do candidato.
9. Após identificado e instalado na sala, você não poderá consultar qualquer material, enquanto aguarda o horário de início da prova.
10. Os três últimos candidatos deverão permanecer na sala até que o último candidato entregue o **Cartão de Respostas**.
11. Ao terminar a prova, é de sua responsabilidade entregar ao fiscal o **Cartão de Respostas**. Não esqueça seus pertences.
12. O **Gabarito Oficial da Prova Objetiva** será disponibilizado no site www.funcab.org, conforme estabelecido no Cronograma.

BOA PROVA!

Leia o texto abaixo e responda às questões propostas.

Pitangas

Fui flagrado apanhando pitangas no bairro de Perdizes. Não apenas comendo algumas, como pode acontecer com qualquer humano ou passarinho. Com humanos, quando tocados por súbita tentação ou nostalgia; com passarinhos, ao cuidarem da própria subsistência.

O nome justo e certo para o que eu estava fazendo é colhendo: eu estava colhendo pitangas na Rua Itapicuru. Gordas pitangas, de cores variando do vermelho ao roxo. Havia um disfarçado constrangimento na atenção com que eu agia, não olhava para lado nenhum que não para as pontas dos galhos, com receio de encontrar algum olhar de censura. Aquelas frutas pertenciam por direito aos pássaros do bairro. Eles não tinham supermercados ou feiras para se abastecer, os alimentos deles talvez tivessem escasseado durante a longa seca recém-terminada. As chuvas trouxeram alívio para as pitangueiras, que, parece, estavam se arrebetando de vontade de dar pitangas.

Havia duas ou três circunstâncias a meu favor. Uma delas: fui menino de convivência com pitangueiras. Isso marca a gente, deixa uma carência insolúvel quando se muda para apartamento numa metrópole. Ninguém liga para os sem-pitangueira, é problema menor na cidade grande. Que eu soubesse, seria um problema só meu e dos sabiás.

Outra circunstância a meu favor: a minha geleia de jabuticaba estava no finzinho. Fiz eu mesmo essa geleia, com as frutas da safra passada que escaparam da voracidade dos micos que saem da mata para catar comida no nosso sítio. Melhor comerem as jabuticabas do que os ovos dos passarinhos. De repente, achei uma ótima ideia fazer geleia de pitanga.

Ainda uma coisa a meu favor – e foi mais um detalhe que passou pela minha cabeça no instante da minha estouvada decisão: quando saí do sítio no feriado passado, minha pitangueira estava frutificando. Quando voltar no próximo feriado, os micos não terão deixado nada para mim.

E, quase por último: feiras e mercados não vendem pitanga. É fruta que recusa o comércio: não dura, amassa na manipulação, fere-se, fica passada, mela, fermenta. Ainda assim, se houvesse pitangas à venda, eu não iria disputá-las nas árvores com os bem-te-vis de Perdizes.

Minha última justificativa: não se encontra geleia de pitanga no comércio de rotina. Pode haver, no Norte talvez, mas não encontrei por aqui. É fácil achar de abacaxi, laranja, maçã, amora, damasco, frutas vermelhas, morango, mirtilo, pêssego, até de

jabuticaba já vi. Outra que sumiu foi a de marmelo, mas essa minha sogra faz, no tempo da fruta. Não sei se há pitangas em outros países, talvez não. É obrigação nossa, nacional, tornar disponível a geleia de pitanga. Se fosse estrangeira, haveria, importada, como há a de blueberry.

Então, retomando o início: vinha eu de volta do supermercado, com dois saquinhos de compras miúdas, caminhando atento às armadilhas das calçadas, quando vi, no chão, o cenário perturbador: pitangas caídas, maduras, vítimas de algum vento da manhã, muitas delas comidas pela metade, quantidade de caroços limpos de frutinhas já degustadas... Olhei para o alto: afe! Pé carregado, do verde ao roxo. Adiante, outro pé, igual! Ah, o que a chuva e o sol haviam feito em quinze dias...

Foi automático: passei as compras de um saquinho do supermercado ao outro e comecei a colheita. Dava-me o prazer de escolher as mais bonitas. Quando ficaram mais difíceis, apanhei uma vassoura velha numa caçamba de demolição ali perto e com ela verguei os galhos mais altos, engordando o saquinho. Geleia rende pouco, e a fatura de matéria-prima me empolgava. Nesse momento, passava de carro um ex-colega de jornal, que me reconheceu e parou. Eu me senti ridículo. Já estava ensaiando explicações, longas talvez, que nos cansariam os dois, quando ele cortou:

– Maravilha! Eu sempre quis fazer isso e nunca tive coragem!

Desceu do carro e me ajudou.

(ÂNGELO, Ivan. Pitangas. *Revista Veja*. São Paulo. Edição: 2034 São Paulo: Abril, 13 nov. 2007. p. 226. Disponível em <http://vejasp.abril.com.br>).

Questão 01

O narrador agiu com “disfarçado constrangimento” porque acreditava que as pitangas pertencessem aos pássaros. Assinale a alternativa que transcreve a frase do texto que comprova essa atitude.

- “... não olhava para lado nenhum que não para as pontas dos galhos, com receio de encontrar algum olhar de censura.” (parágrafo 2)
- “Fui flagrado apanhando pitangas no bairro de Perdizes.” (parágrafo 1)
- “O nome justo e certo para o que eu estava fazendo é colhendo: eu estava colhendo pitangas na Rua Itapicuru.” (parágrafo 2)
- “Nesse momento, passava de carro um ex-colega de jornal, que me reconheceu e parou.” (parágrafo 9)
- “– e foi mais um detalhe que passou pela minha cabeça no instante da minha estouvada decisão...” (parágrafo 5)

Questão 02

A pitanga evoca, na memória do narrador, sua infância, o tempo em que foi “menino de convivência com pitangueiras”. Assinale a alternativa que apresenta as palavras ou expressões que marcam, no texto, saudade da terra natal.

- A) Súbita tentação; estouvada decisão.
- B) Olhar de censura; nostalgia.
- C) Colhendo pitangas; voracidade.
- D) Nostalgia; carência insolúvel.
- E) Arrebatando de vontade; súbita tentação.

Questão 03

Em, “As chuvas trouxeram alívio para as pitangueiras...” o emprego de 'trouxeram alívio', referindo-se à chuva, pode ser caracterizado como figura de linguagem denominada prosopopeia, porque:

- A) há associação, na própria expressão, de sensações percebidas por diferentes órgãos de sentido.
- B) na falta de uma palavra específica para designar a emoção, usou-se outra a partir de semelhança conceitual.
- C) atribui características humanas a um ser inanimado.
- D) há desejo de enfatizar uma ideia desnecessária à construção da frase.
- E) é uma linguagem centrada no exagero e que, ao mesmo tempo, atenua a ideia original.

Questão 04

Destes comentários sobre os trechos reproduzidos, o único que está correto é:

- A) “Gordas pitangas, de cores variando do vermelho ao roxo.” / denota a importância das características de aspecto, cor e quantidade das pitangas.
- B) “Foi automático: passei as compras de um saquinho do supermercado ao outro e comecei a COLHEITA.” / a palavra destacada na frase possui sentido conotativo.
- C) “– Maravilha! Eu sempre quis fazer isso e nunca tive coragem! / o travessão isola palavras intercaladas em outros enunciados.
- D) “Melhor comerem as jabuticabas do que os ovos dos passarinhos.” / denota o desinteresse do narrador pelas plantas e pássaros.
- E) “Fui flagrado apanhando pitangas no bairro de Perdizes” / o verbo FLAGRAR confere à ação de apanhar pitangas o sentido de algo errado, digno de punição.

Questão 05

O pronome ISSO da frase “– Maravilha! Eu sempre quis fazer isso e nunca tive coragem!”, no contexto, refere-se a:

- A) apanhar uma vassoura.
- B) colher pitangas.
- C) vergar os galhos mais altos.
- D) fazer geleia.
- E) engordar saquinhos.

Questão 06

Assinale a alternativa em que uma das orações do período expressa uma circunstância hipotética em relação à oração principal.

- A) “Havia um disfarçado constrangimento na atenção com que eu agia...”
- B) “As chuvas trouxeram alívio para as pitangueiras, que, parece, estavam se arrebatando de vontade de dar pitangas.”
- C) “É fácil achar de abacaxi, laranja, maçã, amora, damasco, frutas vermelhas, morango, mirtilo, pêssego, até de jabuticaba já vi.”
- D) “Ainda assim, se houvesse pitangas à venda, eu não iria disputá-las nas árvores com os bem-te-vis de Perdizes.”
- E) “É obrigação nossa, nacional, tornar disponível a geleia de pitanga.”

Questão 07

Está correto o emprego de ambos os elementos destacados em:

- A) O narrador se pergunta se aspirava O ar da cidade e se HAVERIAM de ser gordas e coloridas as pitangas.
- B) Quando tentamos entender o POR QUÊ das lembranças parece QUE esquecemos nossas carências.
- C) O ex-colega MESMO percebeu que era NECESSÁRIO aquela colheita.”
- D) Se as pitangas trazem BASTANTE lembranças, HAVERÁ outras nostalgias no narrador.
- E) Não era PROIBIDO a nostalgia nem aspirar À lembrança do passado.

Questão 08

Todos os segmentos transcritos admitem voz passiva, EXCETO:

- A) “Aqueles frutos pertenciam por direito aos pássaros do bairro.”
- B) “As chuvas trouxeram alívio para as pitangueiras.”
- C) “Isso marca a gente.”
- D) “Fiz eu mesmo essa geleia.”
- E) “... passei as compras de um saquinho do supermercado ao outro...”

Questão 09

Compare o emprego do verbo HAVER nas frases:

1. “HAVIA duas ou três circunstâncias a meu favor.”
2. “Ah, o que a chuva e o sol HAVIAM feito em quinze dias...”

A respeito das circunstâncias em que o verbo é empregado nas frases acima, analise os itens a seguir:

- I. O verbo HAVER, na frase 1, é impessoal, não flexionável, por isso permanece na terceira pessoa do singular.
- II. Em ambas as frases o verbo HAVER funciona como “existir”, por isso deve concordar com os termos aos quais se referem.
- III. O uso do verbo HAVER, na frase 2, está correto porque esse verbo, quando funciona como verbo auxiliar (integrante dos tempos compostos), tem sua flexão normal, qual seja, de pessoa, de tempo, de modo.

Assinale a alternativa que aponta o(s) item(ns) correto(s).

- A) Somente I.
- B) Somente II.
- C) Somente I e II.
- D) Somente I e III.
- E) Somente II e III.

Questão 10

Em relação ao emprego da conjunção E em “Quando ficaram mais difíceis, apanhei uma vassoura velha numa caçamba de demolição ali perto E com ela verguei os galhos mais altos, engordando o saquinho.”, é correto afirmar que essa conjunção:

- A) assume valor de elemento somatório e introduz oração cujo sujeito é o mesmo da oração anterior.
- B) liga duas orações e introduz oração com ideia de alternância, atribuindo à oração anterior ideia de conformidade.
- C) introduz oração com sujeito diferente do da oração anterior e, além de valor aditivo, atribui à oração anterior valor de causa.
- D) introduz oração com sujeito igual ao da oração anterior e liga orações com ideia de proporção.
- E) assume valor de elemento meramente somatório e introduz oração cujo sujeito é diferente do da oração anterior.

Questão 11

Os dois-pontos e as vírgulas usadas em “É fruta que recusa o comércio: não dura, amassa na manipulação, fere-se, fica passada, mela, fermenta.”, foram empregados, respectivamente, para:

- A) introduzir a fala de alguém, indicando o deslocamento dos agentes do discurso / separar palavras com o mesmo valor sintático.
- B) separar partes do período / delimitar orações intercaladas que já foram desenvolvidas e indicadas anteriormente.
- C) indicar uma citação / separar orações subordinadas adverbiais que foram desenvolvidas na organização do período.
- D) indicar o discurso direto, a fala da personagem, efetuado pela mudança do locutores e interlocutores / isolar os apostos.
- E) introduzir um esclarecimento a respeito de algo previamente mencionado / separar orações coordenadas assindéticas.

Questão 12

Assinale a alternativa em que a substituição feita nos fragmentos extraídos do texto torna o uso do acento grave obrigatório.

- A) Fui flagrado A apanhar pitangas no bairro de Perdizes.
- B) Aquelas frutas pertenciam por direito AS aves do bairro.
- C) As chuvas trouxeram alívio A pitangueiras.
- D) Preferem jabuticabas A ovos de passarinhos.
- E) Havia duas ou três circunstâncias mostradas A esse interlocutor.

Questão 13

Sobre os elementos em destaque em “O nome justo e certo para O que eu estava fazendo” é correto afirmar, considerando a ordem de ocorrência na frase, que:

- A) são sintagmas verbais que se estruturam, nesse contexto, em torno de verbos intransitivos e agem como adjuntos adnominais.
- B) os dois elementos são sintagmas nominais, e, no contexto, são artigos definidos, assumindo, no entanto, diferentes funções sintáticas.
- C) os elementos, nas duas ocorrências, são sintagmas verbais que agem como objeto direto do verbo.
- D) o primeiro elemento é um artigo definido, ligado a um núcleo nominal (nome), e o segundo elemento é um pronome substantivo demonstrativo.
- E) são sintagmas nominais que assumem diferentes classes gramaticais, mas possuem idêntica função sintática.

Questão 14

Em “Já estava ensaiando explicações, longas talvez, que nos cansariam os dois...” a oração adjetiva (que nos cansariam) pode ser substituída adequadamente, mantendo o sentido do texto, pelos seguintes adjetivos:

- A) prolixas – estafantes.
- B) monótonas – fatigantes.
- C) cansativas – enfadonhas.
- D) exaustivas – vivazes.
- E) estressantes – paralisantes.

Questão 15

Considere as seguintes afirmações relativas a aspectos sintático-semânticos do texto:

- I. Em “... a fatura de matéria-prima me EMPOLGAVA.” o termo em destaque pode ser entendido como “entusiasmava” e, sintaticamente é núcleo do predicado verbal.
- II. O último parágrafo do texto possui um período composto, formado, respectivamente, por uma oração coordenada assindética e outra coordenada sindética aditiva.
- III. De acordo com a estrutura da frase “... eu não iria disputá-las nas árvores com os bem-te-vis de Perdizes.”, o pronome oblíquo - LAS é um objeto indireto.

Assinale a alternativa que aponta o(s) item(ns) correto(s).

- A) Somente I.
- B) Somente I e II.
- C) Somente II.
- D) Somente I e III.
- E) Somente II e III.

NOÇÕES DE ADMINISTRAÇÃO PÚBLICA MUNICIPAL

Questão 16

Nos termos da Constituição Federal, assinale a alternativa correta.

- A) É excepcionalmente admitida a censura prévia, desde que comprovada a nocividade da publicação e amparada por decisão judicial.
- B) Não é admitida qualquer forma de censura que limite a liberdade de comunicação e informação.
- C) A censura prévia depende de prova do abuso do direito de informar.
- D) A censura prévia é ato discricionário da autoridade administrativa competente.
- E) Decisão judicial que impeça publicação nociva à intimidade ou privacidade, não pode ser considerada censura.

Questão 17

Segundo a Constituição Federal, é correto afirmar:

- A) É livre o exercício de qualquer trabalho, ofício ou profissão, sendo vedadas restrições legais à liberdade de profissão.
- B) A liberdade de profissão ressalva lei regulamentadora restritiva, que estabelecerá qualificações e requisitos necessários para exercer determinadas profissões.
- C) É livre o exercício de qualquer trabalho, ofício ou profissão, desde que autorizado pela autoridade administrativa competente.
- D) A liberdade de profissão encontra limites na discricionariedade administrativa.
- E) É livre o exercício de qualquer profissão, salvo a de médico, que depende de licença específica.

Questão 18

Para assegurar o conhecimento de informações relativas à pessoa do impetrante, constantes de registros ou bancos de dados de entidades governamentais ou de caráter público, conceder-se-á:

- A) mandado de segurança.
- B) mandado de injunção.
- C) *habeas corpus*.
- D) *habeas data*.
- E) reclamação constitucional.

Questão 19

“Simpatias ou animosidades pessoais, políticas ou ideológicas não podem interferir na atuação administrativa e muito menos interesses sectários de facções ou grupos de qualquer espécie”. Esta afirmação traduz o sentido do princípio da:

- A) legalidade.
- B) publicidade.
- C) motivação.
- D) impessoalidade.
- E) eficiência.

Questão 20

A República Federativa do Brasil constitui-se em Estado:

- A) Democrático de Direito.
- B) Monárquico.
- C) Aristocrático de Direito.
- D) Unitário.
- E) Meritocrático de Direito.

Questão 21

Segundo a Constituição Federal:

- A) somente por lei específica poderá ser criada autarquia e autorizada a instituição de empresa pública, de sociedade de economia mista e de fundação.
- B) a criação de autarquias depende de lei específica, podendo ser criadas empresas públicas ou sociedades de economia mista mediante mero decreto da autoridade administrativa competente.
- C) as sociedades de economia mista não dependem de lei específica para sua criação, que se dá por via estatuto de acionistas.
- D) as fundações públicas podem ser livremente criadas pela autoridade administrativa, independente de lei específica.
- E) as empresas públicas prescindem de lei para sua criação, que depende, contudo, de decreto legislativo aprovado pelo Poder Executivo.

Questão 22

Nos termos da Constituição Federal, a exoneração sem caráter punitivo do servidor público:

- A) consiste em ato discricionário, seja o servidor de carreira ou ocupante de cargo em comissão.
- B) não pode atingir servidores estáveis.
- C) pode ser motivada por insuficiência de desempenho.
- D) pode ser realizada sem oportunizar a manifestação do servidor.
- E) depende de sentença judicial transitada em julgado.

Questão 23

Conforme a Lei Municipal nº 2.897/06, que dispõe sobre a estruturação do Plano de Cargos, Carreiras e Vencimentos da Prefeitura Municipal de Aracruz, consiste em um dos requisitos para o servidor concorrer à promoção:

- A) estar no efetivo exercício do seu cargo.
- B) ter obtido, pelo menos, 80% na média de suas avaliações de desempenho.
- C) ter cumprido o interstício mínimo de 2 anos de efetivo exercício na classe em que se encontre.
- D) possuir, ao menos, 5 anos de carreira.
- E) ter cumprido o interstício mínimo de 1 ano de efetivo exercício na classe em que se encontre.

Questão 24

A Comissão de Desenvolvimento Funcional, prevista na Lei Municipal nº 2.897/06:

- A) será constituída por 10 membros, todos nomeados pelo Prefeito Municipal de Aracruz.
- B) será constituída por 5 membros, todos eleitos pelos servidores municipais de Aracruz.
- C) pautará suas decisões em critérios, fatores e métodos de avaliação de desempenho estabelecidos por lei municipal.
- D) deverá apurar, anualmente, a avaliação de desempenho dos servidores.
- E) terá alternância em sua composição a cada 4 anos.

Questão 25

Segundo a Lei Orgânica do Município de Aracruz, perderá o mandato o Vereador que:

- A) for investido no cargo de Secretário Municipal de Aracruz.
- B) estiver licenciado para tratar de interesses particulares.
- C) deixar de comparecer, em cada sessão legislativa, à terça parte das sessões ordinárias, salvo licença ou missão autorizada pela Câmara Municipal.
- D) exercer atividade empresarial.
- E) firmar ou manter contrato com pessoa jurídica de direito público, autarquia, empresa pública, sociedade de economia mista ou empresa concessionária de serviço público, salvo quando o contrato obedecer a cláusulas uniformes.

INFORMÁTICA BÁSICA

Questão 26

No Windows Explorer XP, é possível localizar os arquivos salvos no seu computador na seção:

- A) Unidades de Disco Rígido.
- B) Dispositivos com Armazenamento Removível.
- C) Local de rede.
- D) Impressoras.
- E) Painel de Controle.

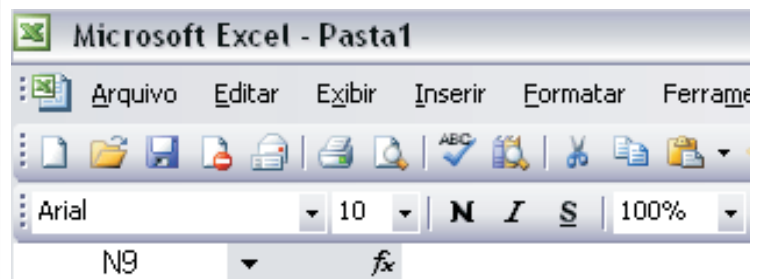
Questão 27

No Microsoft Office Word 2003, o ícone  permite:


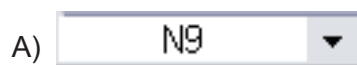
- A) selecionar diferentes estilos de marcador.
- B) fazer a marcação do texto selecionado.
- C) exibir os últimos marcadores utilizados na formatação de textos.
- D) alternar para o formato Numeração.
- E) alterar o espaçamento entre os parágrafos da lista.

Questão 28

Observe abaixo a imagem parcial da barra de ferramentas do Microsoft Office Excel 2003.



A barra de fórmulas é representada pela imagem:



Questão 29

Para evitar que sua conta seja invadida no futuro, algumas ações deverão ser executadas para mantê-la protegida, EXCETO:

- A) criar uma senha forte para sua conta, combinando letras maiúsculas e minúsculas e números e símbolos.
- B) configurar o computador para obter atualizações de software automaticamente.
- C) evitar que o seu sistema operacional tenha as últimas atualizações do site de seu fornecedor.
- D) nunca responder a emails que solicitem a sua senha do correio eletrônico.
- E) ao entrar na sua conta do Hotmail usando computadores públicos ou redes sem fio não seguras, considere a alteração da sua conta para sempre usar HTTPS.

Questão 30

Suponha que você queira enviar uma mensagem para diversos destinatários, com a condição de que os destinatários não tenham conhecimento dos demais. Seus endereços eletrônicos deverão ser enviados no campo:

- A) Para.
- B) Cc.
- C) Cco.
- D) o destinatário principal no Para e os demais no CC.
- E) o destinatário principal no Para e os demais no CCo.

CONHECIMENTOS ESPECÍFICOS

Questão 31

Suponha um gráfico formado por dois eixos: no vertical, têm-se os níveis de preços e no horizontal, os das quantidades de um produto X. A partir desses dois eixos, é apresentada uma interseção das curvas de demanda e de oferta de mercado desse produto. Nesse sentido, mantendo-se constante a posição da curva de oferta, *coeteris paribus*, mas havendo um deslocando da curva de demanda para a (assinalando a alternativa correta):

- A) esquerda, por exemplo, isso tende a acontecer se houver uma queda da renda média dos consumidores, sendo X um produto de consumo inferior.
- B) direita, por exemplo, isso pode ocorrer por causa do aumento do preço do produto complementar ao produto X.
- C) esquerda, por exemplo, isso tende a acontecer se houver uma queda do preço do produto substituto ao produto X.
- D) direita, por exemplo, isso pode ocorrer por causa do aumento do preço do próprio produto X, mediante a sua condição no mercado.
- E) esquerda, por exemplo, isso pode acontecer por causa da melhoria da tecnologia em produzir o produto X no mercado.

Questão 32

Os valores da tabela abaixo têm base na variação da demanda de feijão e arroz (de uma cesta de mercadorias, em função das preferências) de um consumidor para a sua família quando o preço do feijão sobe (todos os outros fatores, incluindo o preço do arroz, permanecendo constantes, *coeteris paribus*).

Produtos	Antes		Depois	
	P (R\$/kg)	Q (kg/mês)	P (R\$/kg)	Q (kg/mês)
Feijão	2,25	6,0	2,85	4,0
Arroz	1,72	7,0	1,72	5,0

A partir das condições acima, marque a opção correta.

- A) Feijão e arroz são produtos de consumo inferior.
- B) Arroz e feijão são produtos de consumo normal.
- C) Feijão e arroz são produtos complementares.
- D) Arroz e feijão são produtos substitutos.
- E) Feijão e arroz são produtos concorrentes.

Questão 33

A teoria do consumidor é uma teoria da microeconomia que descreve como os consumidores tomam decisões de compra e como os mesmos enfrentam os *tradeoffs* e as mudanças em seu ambiente de consumo. Nesse contexto, analise as proposições abaixo que se referem aos elementos estudados nessa teoria, e assinale a alternativa correta.

- I. As curvas de indiferença, representando todas as combinações de dois bens que produzem o mesmo grau de satisfação a um dado consumidor, possuem inclinação para baixo, ou seja, uma inclinação negativa da esquerda para a direita e não se interceptam.
 - II. A taxa marginal de substituição de Y por X corresponde à quantidade de Y à qual o consumidor se dispõe a renunciar para que possa obter uma unidade adicional de X. Essa taxa vai sendo aumentada à medida que nos movemos para baixo ao longo de uma mesma curva de indiferença.
 - III. Uma linha de restrição orçamentária se desloca para cima e à direita devido a um aumento da renda real do consumidor, bem como à queda simultânea dos preços de dois bens (X e Y), sendo que esses bens são definidos pelos eixos formadores dessa linha.
- A) I, II e III são verdadeiras.
B) I, II e III são falsas.
C) I e III são verdadeiras e II é falsa.
D) I e II são verdadeiras e III é falsa.
E) II e III são verdadeiras e I é falsa.

Questão 34

A teoria da produção estuda o processo de transformação de fatores adquiridos, por uma firma, em produtos finais para a venda no mercado. Dessa forma, leia atentamente as informações abaixo que dizem respeito a essa teoria e assinale a alternativa correta.

- I. Uma isoquanta de produção é uma curva que representa todas as possíveis combinações de insumos que resultam no mesmo volume de produção realizado por uma determinada empresa.
 - II. A lei dos rendimentos marginais decrescentes diz que, à medida que aumenta o uso de determinado insumo em incrementos iguais (mantendo-se fixos os demais insumos), acaba-se chegando a um ponto em que a produção adicional resultante decresce.
 - III. Em um mapa de linhas de isoquantas, cada isoquanta está associada a um nível diferente de produção, e os níveis de produção aumentam à medida que movemos essas linhas para cima e para a direita.
 - IV. Na análise de curto prazo da teoria da produção, o problema a ser destacado diz respeito à escolha que a empresa tende a fazer em termos de escala ou tamanho de operação, em função da quantidade do produto que essa empresa pretende produzir.
- A) I, II, III e IV são verdadeiras.
B) I, II, III e IV são falsas.
C) I, II e III são verdadeiras e IV é falsa.
D) I, II e IV são verdadeiras e III é falsa.
E) I, III e IV são verdadeiras e II é falsa.

Questão 35

O monopólio (puro) é um caso extremo de concorrência imperfeita em que uma única empresa vendedora tem o controle total da oferta de um determinado produto. Numa situação de mercado desse tipo, de uma maneira geral, a falta de concorrentes faz com que os preços praticados sejam superiores aos preços de mercado. Diante disso, vamos supor o quadro abaixo da empresa monopolista KLX.

função custo marginal	função receita marginal	função receita média
$CMg = 2Q - 120$	$RMg = 380 - 3Q$	$RMe = 200 - [(3Q)/2]$

Nesse sentido, sabendo-se que Q é a quantidade de produção, assinale a opção correta que demonstra qual é o valor do preço (unitário) do produto que tende a gerar a maximização do lucro total dessa empresa que já tem um bom tempo no mercado.

- A) R\$ 50,00
- B) R\$ 25,50
- C) R\$ 65,00
- D) R\$ 43,50
- E) R\$ 16,00

Questão 36

A microeconomia é a parte da teoria econômica que estuda o comportamento das unidades econômicas individuais, tais como os consumidores, as empresas e os mercados em que essas unidades estão englobadas, por exemplo. Dentro desse contexto, a microeconomia apresenta uma série de discussões que se referem também à teoria dos jogos, à questão das externalidades, bem como a respeito da teoria dos bens públicos.

Diante do exposto, leia atentamente as considerações abaixo e marque a alternativa correta.

- I. No que se refere à teoria dos custos de produção, o teorema de Coase informa que a curva de custo marginal de curto prazo é formada pelos pontos das curvas de custo marginal de longo prazo e que correspondem à produção ótima relativa a cada tamanho ideal escolhido para a planta de uma dada empresa.
- II. Existe ocorrência de um jogo cooperativo quando as empresas podem negociar contratos vinculados entre si, o que lhes permite gerar planejamentos estratégicos em conjunto. Enquanto o jogo não cooperativo é o jogo no qual a negociação e o cumprimento de contratos vinculados não são possíveis.
- III. Compreende-se como externalidade de estoque o resultado acumulado da ação de um produtor ou consumidor que, embora não se reflita no preço de mercado, afeta outros produtores ou mesmo outros consumidores.
- IV. Os bens públicos são aqueles bens que possuem como características básicas não serem exclusivos e nem disputáveis, ou seja, o custo marginal de provê-los para um consumidor adicional é maior do que um.

- A) I, II, III e IV são verdadeiras.
- B) I, II, III e IV são falsas.
- C) I e II são verdadeiras e III e IV são falsas.
- D) II e III são verdadeiras e I e IV são falsas.
- E) II e IV são verdadeiras e I e III são falsas.

Questão 37

A contabilidade nacional (ou contabilidade social) é o conjunto de estatísticas de ordem econômica, preparadas e sistematizadas com o objetivo de possibilitar uma visão quantitativa da economia de um país, sendo, na verdade, uma síntese contábil dos fatos que caracterizam a atividade econômica desse país. Em função disso, suponha o quadro abaixo que apresenta valores hipotéticos das contas (nacionais) de uma determinada economia.

Contas (Nacionais) do País	Valores (em \$ bilhões)
Produto Interno Líquido a custo de fatores (PILcf)	20.000,00
Renda Recebida do Exterior (RRdE)	3.000,00
Depreciação (D)	1.500,00
Impostos Indiretos (II)	9.000,00
Renda Enviada para o Exterior (REpE)	5.000,00
Subsídios (Sub)	2.000,00

Dadas as considerações acima, assinale a alternativa correta.

- A) Produto Interno Líquido a preços de mercado (PILpm) = \$ 25.000,00.
- B) Produto Interno Bruto a custo de fatores (PIBcf) = \$ 20.200,00.
- C) Renda Líquida do Exterior (RLE) = \$ 4.000,00.
- D) Produto Interno Bruto a preços de mercado (PIBpm) = \$ 27.000,00.
- E) Produto Nacional Bruto a preços de mercado (PNBpm) = \$ 26.500,00.

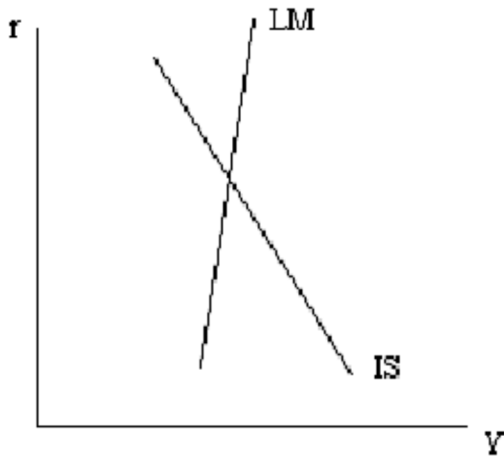
Questão 38

As alternativas abaixo se referem à macroeconomia keynesiana e clássica e bem como às definições de déficit das contas públicas. Nesse contexto, assinale a alternativa INCORRETA.

- A) No modelo macroeconômico keynesiano simples, como a economia de um país está no pleno emprego da utilização dos seus fatores de produção, o consumo depende diretamente da renda da economia e inversamente da taxa de juros.
- B) No que diz respeito à macroeconomia clássica, que partia do pressuposto de que o mundo econômico é governado por leis naturais, os preços e salários eram sempre flexíveis e a moeda não era utilizada com fins de entesouramento.
- C) Com base na teoria quantitativa da moeda, os clássicos concluíram que, sendo a velocidade da moeda constante, e dada uma determinada quantidade de moeda, a produção variava em relação inversa e proporcional aos preços.
- D) Define-se como déficit primário (ou fiscal) ao resultado da diferença entre os gastos públicos correntes com a receita fiscal corrente.
- E) Tem-se um déficit operacional quando a receita fiscal corrente é menor que o somatório dos gastos públicos correntes com os juros reais da dívida pública.

Questão 39

Conforme o desenho, tem-se uma interseção entre as curvas IS e LM, sendo r a taxa de juros e Y a renda (ou o produto) real da economia. Sabendo-se que essa interseção se apresenta em uma economia fechada e com governo cujas alterações no ponto de equilíbrio decorrem de deslocamentos dessas curvas em função de medidas de política econômica, leia atentamente as considerações abaixo e assinale a alternativa correta.



- I. Um aumento da oferta de moeda, por meio da política monetária, provoca uma alteração da posição da curva IS para a direita e para cima, levando a uma nova situação de equilíbrio, com aumento da taxa de juros e expansão do produto real.
 - II. Uma expansão monetária, por meio da política monetária, provoca um deslocamento para a direita e para baixo da curva LM, levando a uma nova situação de equilíbrio, com queda da taxa de juros e expansão na renda real.
 - III. Uma política fiscal contracionista, por meio de uma queda dos gastos públicos, provoca um deslocamento da curva LM para esquerda e para cima, fazendo elevar a taxa de juros, bem como a restrição da renda real numa nova posição de equilíbrio.
- A) I, II e III são verdadeiras.
 - B) I, II e III são falsas.
 - C) I é verdadeira e II e III são falsas.
 - D) II é verdadeira e I e III são falsas.
 - E) III é verdadeira e I e II são falsas.

Questão 40

Sabendo-se que as proposições abaixo dizem respeito à oferta e demanda agregada, bem como sobre a curva de Phillips, assinale a alternativa correta.

- I. Supondo uma interseção entre as curvas de oferta e demanda agregada, havendo deslocamentos da curva da demanda agregada (DA) no longo prazo, estes movimentos afetam somente o nível de preços, já, em curto prazo, tais deslocamentos dessa curva DA só tendem a afetar o produto agregado da economia.
 - II. O *trade-off* entre inflação e desemprego, sumarizado na curva de Phillips de curto prazo, será mais elevado caso sejam utilizadas políticas monetárias, em vez de políticas fiscais.
 - III. Seja no curto ou no longo prazo, o produto agregado encontra-se no nível de pleno emprego. Nesse sentido, deslocamentos da curva DA só devem gerar inflação, cuja intensidade é maior no longo prazo, fazendo com que a curva de Phillips seja cada vez mais côncava.
- A) I, II e III são verdadeiras.
 - B) I, II e III são falsas.
 - C) I e II são falsas e III é verdadeira.
 - D) I e III são falsas e II é verdadeira.
 - E) II e III são falsas e I é verdadeira.

Questão 41

O Sistema Financeiro do Brasil (SFB) pode ser definido como o conjunto de instituições e órgãos que regulam, fiscalizam e executam as operações relativas à circulação da moeda e do crédito. Nesse sentido, as alternativas abaixo se referem a alguns pressupostos a respeito desse sistema financeiro, estando INCORRETA apenas uma. Assinale-a.

- A) O Subsistema de Supervisão do SFB tem como função editar normas que definam os parâmetros para transferência de recursos dos poupadores aos tomadores e controlar o funcionamento das instituições e entidades que efetuem atividades de intermediação financeira.
- B) O Conselho Monetário Nacional (CMN) é considerado a autoridade monetária máxima de todo o sistema financeiro nacional. Entre as suas atribuições destacam-se, por exemplo, a autorização da emissão de papel-moeda e a aprovação do orçamento monetário.
- C) O Subsistema Operativo do SFB tem como função operacionalizar a transferência de recursos do poupador para o tomador, de acordo com as regras estabelecidas pelas entidades integrantes do Subsistema de Supervisão do SFB.
- D) As Instituições Financeiras Bancárias são as instituições financeiras autorizadas a captar recursos junto ao público sob a forma de depósitos à vista, podendo, por isso, criar moeda escritural, como é o caso dos bancos comerciais e das caixas econômicas.
- E) O Banco Central do Brasil (BCB) é considerado a autoridade monetária máxima responsável por captar recursos sob a forma de depósitos em caderneta de poupança, cujos recursos são destinados ao financiamento habitacional.

Questão 42

A adoção do sistema de metas de inflação tem sido uma das principais características da política econômica brasileira. No tocante a esse assunto, leia atentamente as opções abaixo e assinale a que NÃO condiz com as peculiaridades desse sistema.

- A) Utiliza-se de respostas expansionistas aos choques externos e de oferta, por meio da política econômica.
- B) Serve como elemento de coordenação das expectativas dos agentes econômicos.
- C) Opera como um guia de transparência na condução da política monetária.
- D) É uma estrutura em que a estabilidade de preços é o objetivo de longo prazo da política monetária.
- E) O foco é a estabilidade de preços, obtida a partir de três objetivos, ou seja, credibilidade, flexibilidade e legitimidade.

Questão 43

Tendo-se uma visão da economia fechada, as autoridades econômicas acabam se preocupando somente em compatibilizar as políticas fiscal e monetária para atingir seus objetivos. Entretanto, no que concerne à visão de uma economia aberta, as políticas destinadas ao equilíbrio do setor interno precisam estar compatíveis com o objetivo do equilíbrio do balanço de pagamentos. Dentro desse contexto, assinale a opção correta, que diz respeito ao modelo IS-LM-BP.

- A) Dada uma baixa mobilidade de capital, a taxa fixa de câmbio, a política fiscal é eficaz sobre a taxa de juros.
- B) Dada uma baixa mobilidade de capital, a taxa fixa de câmbio, a política monetária é eficaz sobre a renda.
- C) No regime de câmbio fixo e com alta mobilidade de capital, a política monetária é eficaz sobre a taxa de juros.
- D) No regime de câmbio flutuante e com alta mobilidade de capital, a política fiscal é eficaz sobre a renda.
- E) Dada uma alta mobilidade de capital, a taxa flexível de câmbio, a política monetária é ineficaz sobre a renda.

Questão 44

Leia atentamente as informações abaixo e assinale a alternativa correta em relação aos fatores determinantes do comportamento das exportações e importações de um dado país emergente:

- I. Um aumento da renda mundial certamente irá estimular o comércio internacional e, devido a isto, as exportações do país tenderão a aumentar.
- II. Subsídios e incentivos, sejam de ordem fiscal e/ou financeira, acabam sendo um determinante positivo para as exportações desse país.
- III. Um aumento da produção e da renda nacional significa que o país está crescendo e que demandará menos produtos importados.

- A) I, II e III são falsas.
- B) I é falsa e II e III são verdadeiras.
- C) II é falsa e I e III são verdadeiras.
- D) III é falsa e I e II são verdadeiras.
- E) I, II e III são verdadeiras.

Questão 45

As alternativas abaixo dizem respeito à análise do modelo de crescimento de Solow. Neste sentido, marque a alternativa correta.

- A) A taxa de poupança de um país determina de maneira inversa a quantidade de estoque de capital e, dessa forma, um menor nível de produção da economia.
- B) Se o investimento por trabalhador é inferior à depreciação por trabalhador, a mudança no capital por trabalhador é negativa e, neste caso, o capital por trabalhador diminui.
- C) Quanto mais elevado o crescimento populacional, mais alto o nível do produto por trabalhador, fazendo com que haja uma maior renda *per capita* para a economia de um país.
- D) No estado de crescimento equilibrado, o produto por trabalhador efetivo e o capital por trabalhador efetivo são constantes, isto é, crescem a uma taxa menor que a do progresso técnico.
- E) O nível de capital que maximiza o consumo é chamado de nível de Regra de Ouro. Nesse nível, o produto marginal líquido do capital é maior do que a taxa de crescimento do produto.

Questão 46

A liberalização passou a ganhar contornos mais definitivos nos anos de 1990. As primeiras indicações desse contexto relacionavam-se à nova Política Industrial e de Comércio Exterior que contemplava, entre outras, as seguintes estratégias:

- A) aumento progressivo dos níveis de proteção tarifária, cujo objetivo era o de alavancar uma maior produção dos produtos brasileiros, gerando, por conseguinte, maior liberdade de comércio no mercado interno.
- B) eliminação da distribuição indiscriminada e não aparente de incentivos e subsídios, ao mesmo tempo que fortalecia os mecanismos de defesa da concorrência na economia brasileira.
- C) fortalecimento de segmentos nacionais potencialmente competitivos, eliminando toda e qualquer afluência das empresas multinacionais, em função das condições pelas quais passava a economia mundial naquela época.
- D) exposição da indústria nacional à competição internacional, principalmente, devido às exportações, visando à melhoria de qualidade e de preço, por meio do aumento do número de setores oligopolizados nacionais (privados e estatais).
- E) capacitação tecnológica das empresas nacionais, por meio de queda significativa das importações, e apoio à difusão das inovações em setores estratégicos estatais, cujo objetivo era liberalizar, com controle, o mercado interno.

Questão 47

Entre 1995 e 2002, de certa forma, pode-se falar de dois tipos de governos de Fernando Henrique Cardoso (FHC). Entre outras considerações, a gestão de FHC:

- A) entre 1995 e 1998, caracterizou-se por uma política de câmbio flexível.
- B) teve crescente dependência do financiamento externo no período de 1995 e 1998.
- C) conseguiu um elevado equilíbrio fiscal como resultado do saldo das contas públicas entre 1995 e 1998.
- D) entre 1999 e 2002, caracterizou-se pela utilização de uma política de câmbio fixo.
- E) teve um aumento do déficit em conta corrente do balanço de pagamentos no período de 1999 e 2002.

Questão 48

O Brasil, ao longo das décadas, tem um desafio histórico de enfrentar uma herança de injustiça social que exclui parte significativa de sua população ao acesso a condições mínimas de dignidade e cidadania. Nesse contexto, no que tange às informações sobre distribuição de renda e políticas de combate à pobreza absoluta na economia brasileira, leia atentamente as informações abaixo e assinale a alternativa correta.

- I. Na década de 1990, a queda da inflação contribuiu para a diminuição do índice de pobreza absoluta.
 - II. O governo de Luis Inácio Lula da Silva foi o pioneiro na adoção de políticas sociais focalizadas no Brasil, tendo sido apoiado nessa iniciativa pelo Banco Mundial.
 - III. Durante o “milagre econômico”, de 1968 a 1973, a concentração de renda foi um dos fatores responsáveis pela taxa de crescimento praticamente estagnada do setor de bens de consumo não duráveis.
- A) I, II e III são verdadeiras.
 - B) I é verdadeira e II e III são falsas.
 - C) II é verdadeira e I e III são falsas.
 - D) III é verdadeira e I e II são falsas.
 - E) I, II e III são falsas.

Questão 49

Analisar o investimento de um projeto a ser feito por uma determinada organização econômica (seja ela privada ou estatal), compreende, entre outros procedimentos, EXCETO:

- A) o estudo do investimento a ser realizado.
- B) enumerar as alternativas viáveis.
- C) analisar cada alternativa do projeto.
- D) comparar as alternativas existentes.
- E) o cálculo da taxa selic no projeto.

Questão 50

Vamos supor que a empresa AET esteja considerando o estudo de determinados critérios para identificar a viabilidade de investimento em um determinado projeto. No que tange a tais critérios, leia (e analise) as alternativas abaixo e marque a correta.

- A) Se a AET for utilizar o critério do valor presente líquido, este pode ser considerado como sendo inferior ao retorno do critério do *payback*.
- B) Se a empresa em questão empregar o critério da taxa interna de retorno, esse critério, ao ser aplicável, sempre leva a mesma decisão que o valor presente líquido.
- C) No tocante a AET considerar somente o critério de *payback*, este acaba levando em conta todos os fluxos de caixa do projeto analisado.
- D) Se a AET aplicar o critério do retorno contábil médio, esse critério é superior aos da taxa interna de retorno e de *payback*, pois trabalha com dados contábeis dessa empresa.
- E) No tocante a AET levar em consideração somente o cálculo da taxa mínima de atratividade como critério de avaliação, esse cálculo sempre é menor que a taxa interna de retorno.