



Prefeitura de Manaus

Secretaria Municipal de Saúde (SEMSA)

CONCURSO PÚBLICO – EDITAL Nº 008/2012

866 – ASSISTENTE EM SAÚDE MAQUEIRO

Nome do Candidato

Número de Inscrição

--	--	--	--	--	--	--	--	--	--	--	--	--	--	--	--	--	--	--	--

LEIA COM ATENÇÃO AS INSTRUÇÕES ABAIXO

INSTRUÇÕES GERAIS

- O candidato receberá do fiscal:
Um Caderno de Questões contendo **60 (sessenta) questões** objetivas de múltipla escolha.
Uma Folha de Respostas personalizada para a Prova Objetiva.
- Ao ser autorizado o início da prova, verifique, no Caderno de Questões, se a numeração das questões e a paginação estão corretas e se não há falhas, manchas ou borrões. Se algum desses problemas for detectado, solicite ao fiscal outro caderno completo. Não serão aceitas reclamações posteriores.
- A totalidade das Provas terá a duração de **4 (quatro) horas**, incluindo o tempo para preenchimento da Folha de Respostas da Prova Objetiva.
- O candidato poderá se retirar da sala de prova após transcorridas **2 (duas) horas** do efetivo início da prova, entregando sua Folha de Respostas ao fiscal, a qual será o único documento válido para a correção.
- O candidato somente poderá levar o Caderno de Questões faltando **60 (sessenta) minutos** para o término do horário estabelecido para o fim da prova, desde que o candidato permaneça em sala até esse momento, deixando com o fiscal de sala a sua Folha de Respostas.
- Não serão permitidas consultas a quaisquer materiais, uso de telefone celular ou outros aparelhos eletrônicos.
- Caso seja necessária a utilização do sanitário, o candidato deverá solicitar permissão ao fiscal de sala, que designará um fiscal volante para acompanhá-lo no deslocamento, devendo manter-se em silêncio durante o percurso, podendo, antes da entrada no sanitário e depois da utilização deste, ser submetido a revista com detector de metais. Na situação descrita, se for detectado que o candidato estiver portando qualquer tipo de equipamento eletrônico, será eliminado automaticamente do concurso.
- Após o término da prova, ao sair da sala de prova, o candidato deverá retirar-se imediatamente do local de realização das provas, não podendo permanecer nas suas dependências, bem como não poderá utilizar os sanitários.

ATENÇÃO

- Verifique se seus dados estão corretos na Folha de Respostas.
- A Folha de Respostas NÃO pode ser dobrada, amassada, rasurada, manchada ou conter qualquer registro fora dos locais destinados às respostas.
- Assinale a alternativa que julgar correta para cada questão na Folha de Respostas, usando caneta esferográfica de **tinta preta, fabricada em material transparente**. Não será permitido uso de lápis, lapiseira e/ou borracha durante a realização das provas.
- Para cada questão, existe apenas **1 (uma)** resposta certa – não serão computadas questões não assinaladas ou que contenham mais de uma resposta, emendas ou rasuras.
- O modo correto de assinalar a alternativa é cobrindo, completamente, o espaço a ela correspondente, conforme modelo abaixo:



- Todas as questões deverão ser respondidas.

OS TEXTOS E AS QUESTÕES FORAM REDIGIDOS CONFORME O NOVO ACORDO ORTOGRÁFICO DA LÍNGUA PORTUGUESA, MAS ESTE NÃO SERÁ COBRADO NO CONTEÚDO.



CONCURSOS PÚBLICOS

06/2012

Espaço reservado para anotação das respostas

PREFEITURA DE MANAUS – SEMSA – CONCURSO PÚBLICO – EDITAL Nº 008/2012

866 – ASSISTENTE EM SAÚDE – MAQUEIRO



Nome: _____ Inscrição: _____

1	2	3	4	5	6	7	8	9	10	11	12	13	14	15	16	17	18	19	20
21	22	23	24	25	26	27	28	29	30	31	32	33	34	35	36	37	38	39	40
41	42	43	44	45	46	47	48	49	50	51	52	53	54	55	56	57	58	59	60

O gabarito da Prova Objetiva estará disponível no site da **Cetro Concursos (www.cetroconcursos.org.br)** a partir do dia **04 de junho de 2012**.

LÍNGUA PORTUGUESA

Leia o texto abaixo para responder às questões de 1 a 3.

A coruja e a águia

A coruja e a águia, depois de muita briga, resolveram fazer as pazes.

– Basta de guerra – disse a coruja. – O mundo é tão grande, e tolíce maior que o mundo é andarmos a comer os filhotes uma da outra.

– Perfeitamente – respondeu a águia. – Também eu não quero outra coisa.

– Nesse caso, combinemos isto: de ora em diante não comerás nunca os meus filhotes.

– Muito bem. Mas como posso distinguir os teus filhotes?

– Coisa fácil. Sempre que encontrares uns borrachos lindos, bem feitinhos de corpo, alegres, cheios de uma graça especial que não existe em filhote de nenhuma outra ave, já sabes, são os meus.

– Está feito! – concluiu a águia.

Dias depois, andando para a caça, a águia encontrou um ninho com três monstregos dentro, que piavam de bico muito aberto.

– Horríveis bichos! – disse ela. – Vê-se logo que não são os filhos da coruja.

E comeu-os.

Mas eram os filhos da coruja. Ao regressar à toca, a triste mãe chorou amargamente o desastre e foi justar contas com a rainha das aves.

– Quê? – disse esta, admirada – Eram teus filhos aqueles monstrenginhos? Pois, olha, não se pareciam nada com o retrato que deles me fizeste...

(Monteiro Lobato. *Fábulas*. 50ª edição, Editora Brasiliense. São Paulo, 1994.)

1. O ditado popular que mais se enquadra como moral da história é

- (A) “Quando um não quer, dois não brigam”.
- (B) “Quem o feio ama, bonito lhe parece”.
- (C) “Quem tudo quer nada tem”.
- (D) “De grão em grão a galinha enche o papo”.
- (E) “Mais vale um pássaro na mão do que dois voando”.

2. De acordo com o texto, é correto afirmar que

- (A) a águia comeu intencionalmente os filhotes da coruja, pois sabia que eram os mais feios da floresta.
- (B) a águia mentiu para a coruja ao dizer que não comeria seus filhotes.
- (C) a águia pensou que os filhotes do ninho não eram os da coruja por causa da descrição feita por esta.
- (D) a coruja ficou entristecida pelo fato da águia ter quebrado o pacto de amizade.
- (E) ficaram indícios de que a coruja provavelmente irá se vingar da águia.

3. De acordo com o trecho “A coruja e a águia, depois de muita briga, **resolveram** fazer as pazes.”, assinale a alternativa cujo verbo destacado encontra-se na mesma pessoa de “resolveram”.

- (A) “O mundo é tão grande, e tolíce maior que o mundo é **andarmos** a comer os filhotes uma da outra.”
- (B) “[...] de ora em diante não **comerás** nunca os meus filhotes.”
- (C) “**Eram** teus filhos aqueles monstrenginhos?”
- (D) “Mas como **posso** distinguir os teus filhotes?”
- (E) “Sempre que **encontrares** uns borrachos lindos [...]”

4. De acordo com a norma-padrão da Língua Portuguesa e em relação à regência verbal, assinale a alternativa correta.

- (A) Fomos no cinema assistir ao novo filme do Walter Salles.
- (B) Desobedeceu a lei e foi punido.
- (C) Entregou as flores à namorada no dia de seu aniversário.
- (D) Não lembrava mais de seu passado.
- (E) Esqueceu completamente das aulas que tinha no período da tarde.

5. Em relação à ortografia, leia as orações abaixo e, em seguida, assinale a alternativa que preenche correta e respectivamente as lacunas.

- 1. Observava o movimento na calçada enquanto o engra__ate lustrava seus sapatos.
 - 2. Estava hospitali__ado desde sexta-feira.
 - 3. Ganhou um bro__e novo do namorado.
 - 4. Quem me__eu nas minhas coisas?
- (A) x/ z/ ch/ x
 - (B) ch/ s/ x/ ch
 - (C) x/ z/ x/ ch
 - (D) ch/ s/ ch/ x
 - (E) x/ s/ x/ ch

6. Assinale a alternativa em que todas as palavras estão acentuadas corretamente.

- (A) Albúm/ fortuíto/ têxtil.
- (B) Velóz/ bíceps/ vácuo.
- (C) Caráter/ âncora/ maracujá.
- (D) Cipó/ denúncia/ urubú.
- (E) Melância/ côco/ leitão.

7. De acordo com a norma-padrão da Língua Portuguesa e em relação à concordância verbal, assinale a alternativa correta.

- (A) A maioria não quiseram ir à aula na emenda de feriado.
- (B) Fazem três anos que sai da escola.
- (C) – Que horas são? – Já são meio-dia.
- (D) Vinte quilômetros é muito para andar a pé.
- (E) Não ia a aquele lugar haviam anos.

8. Em relação aos antônimos, correlacione as colunas e, em seguida, assinale a alternativa que apresenta a sequência correta.

1. Habitual.	()	Instável.
2. Constante.	()	Afastado.
3. Próximo.	()	Atípico.
4. Prudente.	()	Desavisado.

- (A) 1/ 4/ 3/ 2
- (B) 2/ 3/ 1/ 4
- (C) 2/ 1/ 3/ 4
- (D) 4/ 3/ 1/ 2
- (E) 3/ 2/ 1/ 4

9. Assinale a alternativa correta em relação à ortografia.

- (A) Os visitantes precisam fazer o cadastro na portaria.
- (B) Ao pagar a conta, deixei uma gorgeta ao garçom.
- (C) As ferramentas guardadas estavam repletas de ferrugem.
- (D) A casa está muito suja, precisando de fachina.
- (E) Rezidia em um lugar privilegiado, perto da praia.

10. Assinale a alternativa correta em relação à pontuação.

- (A) Fábio, Marcela e Bruna, foram ao show do Roberto Carlos.
- (B) Mariana, era a caçula de oito irmãos.
- (C) João então disse vamos todos ao parque.
- (D) Em janeiro, Cláudia, irmã de Daniel, retornou de sua viagem ao exterior.
- (E) Todas as crianças que estavam no recinto, foram retiradas por medida de segurança.

11. De acordo com a norma-padrão da Língua Portuguesa e em relação à crase, assinale a alternativa correta.

- (A) Peça àqueles meninos que voltem para a sala de aula!
- (B) Disse à elas que não poderia ir ao teatro.
- (C) À todos, uma boa prova!
- (D) Estava cara à cara com a verdade.
- (E) Estava esperando desde às 6h.

12. Leia a oração abaixo.

Saiu cedo, mas chegou atrasado.

Assinale a alternativa cuja oração apresenta a mesma relação de coordenação que a oração acima.

- (A) Não só cantei como também dancei.
- (B) Passei no vestibular, portanto vou comemorar.
- (C) Fiquei muito cansada, contudo me diverti bastante.
- (D) Não fui à praia pois queria descansar durante o Domingo.
- (E) Só passei na prova porque me esforcei por muito tempo.

13. Assinale a alternativa que apresenta **erro** ortográfico.

- (A) Todos ficaram perplexos com a situação.
- (B) Foi a um evento beneficente.
- (C) Fez uma receita com vargem e jiló.
- (D) Enquanto viajava, observava a paisagem.
- (E) Todas as jabuticabas estavam azedas.

14. Assinale a alternativa **incorreta** em relação à acentuação.

- (A) Muitos países adotaram o método.
- (B) Decidiu ficar na cidade, pois criou raízes.
- (C) O juíz o condenou a 35 anos de prisão.
- (D) Guardou todas as coisas velhas em um baú.
- (E) Não fique perto do rio, pois está repleto de jacarés.

15. De acordo com a norma-padrão da Língua Portuguesa, assinale a alternativa correta em relação à conjugação verbal.

- (A) Eu ponharia este vaso na sala.
- (B) O material não cabeu no armário.
- (C) No momento do acidente, eu ainda não tinha chego.
- (D) Ontem, as crianças brincarão bastante no parque.
- (E) Meus irmãos e eu iríamos ao show se não tivesse chovido.

16. Assinale a alternativa correta em relação aos plurais.

- (A) Alemão – alemões.
- (B) Cidadão – cidadãos.
- (C) Sermão – sermãos.
- (D) Pagão – pagões.
- (E) Limão – limões.

17. Assinale a alternativa correta em relação aos numerais ordinais.

- (A) 30º – trintésimo.
- (B) 60º – sessentésimo.
- (C) 50º – quinquagésimo.
- (D) 40º – quarentésimo.
- (E) 400º – quatrocentésimo.

18. Assinale a alternativa correta em relação à ortografia.

- (A) Se você quiser, pode utilizar minhas coisas.
- (B) Estava distraída e não vi o enchame de abelhas.
- (C) Tinha um rosto anjelical.
- (D) Muitas pessoas morreram devido à escassez de água e alimentos.
- (E) Ficou em coma por ter bebido em excesso.

19. Assinale a alternativa correta em relação aos antônimos.

- (A) Néscio – inteligente.
- (B) Inculto – obtuso.
- (C) Rude – rústico.
- (D) Simples – simplório.
- (E) Social – coletivo.

20. Assinale a alternativa correta em relação à ortografia.

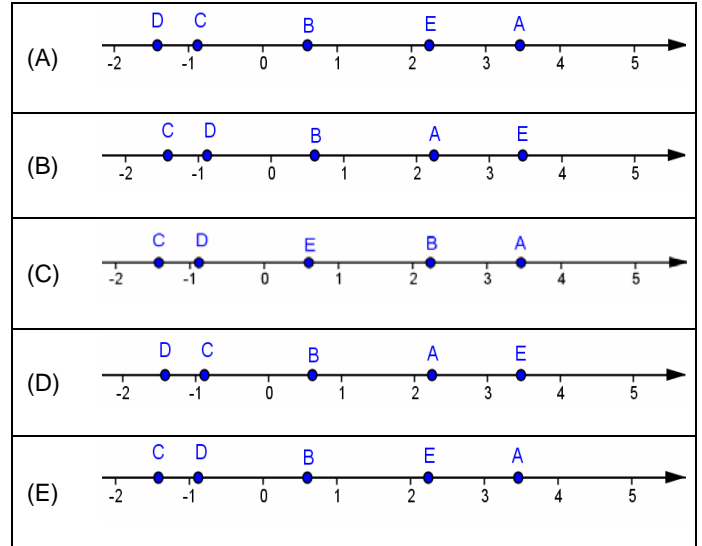
- (A) A jovem foi vítima de estrupo.
- (B) Pagou com atraso a fatura do cartão de crédito.
- (C) A comida daquele restaurante era simplimente maravilhosa.
- (D) Apagou todos os vestíjios de que tinha passado por lá.
- (E) Conseguiu hêsito em sua apresentação.

MATEMÁTICA

21. Dados os números $A = \sqrt{5}$, $B = \frac{3}{5}$, $C = -\sqrt{2}$,

$D = -\frac{7}{8}$, $E = 2\sqrt{3}$, assinale a alternativa que apresenta

a representação correta destes números na reta numérica.



22. Se $-6 < a < -1$ e $1 < b < 3$, então ab e $-\frac{b}{2}$ estão no intervalo

- (A) $] -18, -1[$.
- (B) $] -\frac{3}{2}, -\frac{1}{2}[$.
- (C) $] -18, -\frac{3}{2}[$.
- (D) $] -\frac{3}{2}, -1[$.
- (E) $] -18, -\frac{1}{2}[$.

23. Se 5kg de farinha de trigo custam R\$15,00, então 250g custam

- (A) R\$3,75.
- (B) R\$3,00.
- (C) R\$1,50.
- (D) R\$0,75.
- (E) R\$0,25.

24. Quando se transforma 5.162dm^2 em km^2 (quilômetros quadrados), obtêm-se

- (A) $0,00005162\text{km}^2$.
- (B) $0,0005162\text{km}^2$.
- (C) $0,005162\text{km}^2$.
- (D) $0,05162\text{km}^2$.
- (E) $0,5162\text{km}^2$.

25. O ser humano desenvolveu e inventou instrumentos tecnológicos com o objetivo de superar dificuldades. Sendo assim, relacione os anos 1590, 1707, 1876 e 1943 de acordo com as informações dadas abaixo e, em seguida, assinale a alternativa que apresenta a ordem crescente dos fatos.

1. O número que indica o ano em que o físico inglês John Floyer inventou o relógio de pulso é divisível por 3, mas não por 2.
2. O número que indica o ano em que o americano Alexander Graham Bell inventou o telefone é divisível por 2, mas não por 3.
3. O número que indica o ano em que a empresa japonesa Motorola lançou no mercado o walkie-talkie não é divisível por 2 nem por 3.
4. O número que indica o ano em que o holandês Zacharias Janssen fabricou o microscópio é divisível por 2 e por 3.

- (A) 1/ 2/ 3/ 4
- (B) 2/ 3/ 4/ 1
- (C) 4/ 1/ 2/ 3
- (D) 4/ 2/ 1/ 3
- (E) 1/ 3/ 2/ 4

26. A geratriz da dízima periódica $1,757575\dots$ é

- (A) $\frac{175}{99}$.
- (B) $\frac{175}{100}$.
- (C) $\frac{56}{33}$.
- (D) $\frac{58}{33}$.
- (E) $\frac{175}{66}$.

27. A forma fatorada do polinômio $x^3 - 10x^2 + 25x$ é

- (A) $(x^2 - 5)^2$.
- (B) $x(x - 25)$.
- (C) $(x^{1,5} - 5)^2$.
- (D) $x(x - 10)^2$.
- (E) $x(x - 5)^2$.

28. Dados os números reais $y = 7,5$, $w = \sqrt{60}$ e $z = \frac{15}{2}$, é correto afirmar que

- (A) $y = w = z$.
- (B) $y = z > w$.
- (C) $y = z < w$.
- (D) $y = w < z$.
- (E) $y = w \geq z$.

29. Se $x = 256$, $y = 512$ e $z = 1.024$, então $\left(\frac{xy}{z}\right)^8$ é

- (A) 2^{15} .
- (B) 2^{32} .
- (C) 2^{44} .
- (D) 2^{56} .
- (E) 2^{60} .

30. Deseja-se dividir igualmente 986 metros de linha em 17 carretéis. Portanto, cada carretel terá

- (A) 58cm de linha.
- (B) 580cm de linha.
- (C) 5.800cm de linha.
- (D) 58.000cm de linha.
- (E) 580.000cm de linha.

CONHECIMENTOS ESPECÍFICOS

31. De acordo com a Lei nº 8.080/90, a saúde tem como fatores determinantes e condicionantes, entre outros, o(a)

- I. alimentação.
- II. moradia.
- III. trabalho.
- IV. educação.
- V. lazer.

É correto o que está contido em

- (A) I, III e V, apenas.
- (B) II e IV, apenas.
- (C) I, II e III, apenas.
- (D) IV e V, apenas.
- (E) I, II, III, IV e V.

<p>32. As ações e serviços públicos de saúde e os serviços privados contratados ou conveniados que integram o Sistema Único de Saúde (SUS) são desenvolvidos de acordo com as diretrizes previstas no artigo 198 da Constituição Federal, obedecendo, ainda, ao seguinte princípio:</p> <p>(A) universalidade de acesso aos serviços de educação em saúde.</p> <p>(B) integralidade de assistência, entendida como conjunto articulado e descontinuo das ações e serviços curativos e coletivos.</p> <p>(C) igualdade da assistência à saúde, sem preconceitos ou privilégios de qualquer espécie.</p> <p>(D) informação, aos pacientes, sobre sua saúde, caso o médico ache estritamente necessário.</p> <p>(E) centralização político-administrativa.</p>	<p>35. De acordo com a Lei nº 9.836/99, capítulo V – Do Subsistema de Atenção à Saúde Indígena, assinale a alternativa correta.</p> <p>(A) Caberá ao Estado e aos Municípios, com seus recursos próprios, financiar o Subsistema de Atenção à Saúde Indígena.</p> <p>(B) A Funai promoverá a articulação do Subsistema instituído por esta Lei com os órgãos responsáveis pela Política Indígena do País.</p> <p>(C) O governo federal poderá atuar complementarmente no custeio e execução das ações.</p> <p>(D) Dever-se-á, eventualmente, levar em consideração a realidade local e a cultura dos povos indígenas.</p> <p>(E) O Subsistema de Atenção à Saúde Indígena deverá ser, como o SUS, descentralizado, hierarquizado e regionalizado.</p>
<p>33. Conforme a Lei nº 8.142/90, os recursos do Fundo Nacional de Saúde (FNS) serão alocados como</p> <p>I. despesas de custeio e de capital do Ministério da Saúde, seus órgãos e entidades, da administração direta e indireta.</p> <p>II. investimentos previstos em lei orçamentária, de iniciativa do Poder Legislativo e aprovados pelo Congresso Nacional.</p> <p>III. investimentos previstos no Plano Bienal do Ministério da Saúde.</p> <p>IV. cobertura das ações e serviços de saúde a serem implementados pelos Municípios, Estados e Distrito Federal.</p> <p>É correto o que está contido em</p> <p>(A) I, II e III, apenas.</p> <p>(B) II, III e IV, apenas.</p> <p>(C) I, III e IV, apenas.</p> <p>(D) I, II e IV, apenas.</p> <p>(E) II e III, apenas.</p>	<p>36. Conforme a Lei nº 10.424/02, Capítulo VI – Do Subsistema de Atendimento e Internação Hospitalar, na modalidade de assistência de atendimento e internação domiciliares incluem-se, principalmente, entre outros procedimentos necessários ao cuidado integral dos pacientes em seu domicílio, os seguintes procedimentos:</p> <p>I. médicos.</p> <p>II. de Enfermagem.</p> <p>III. fisioterapêuticos.</p> <p>IV. psicológicos.</p> <p>V. de Assistência Social.</p> <p>É correto o que está contido em</p> <p>(A) I, II, III, IV e V.</p> <p>(B) I, II e III, apenas.</p> <p>(C) IV e V, apenas.</p> <p>(D) I, II e V, apenas.</p> <p>(E) III e IV, apenas.</p>
<p>34. De acordo com a Lei nº 8.142/90, o O Sistema Único de Saúde (SUS), de que trata a Lei nº 8.080/90, contará, em cada esfera de governo, sem prejuízo das funções do Poder Legislativo, com as seguintes instâncias colegiadas:</p> <p>I. a Conferência de Saúde.</p> <p>II. o Conselho de Saúde.</p> <p>III. o Ministério da Saúde.</p> <p>É correto o que está contido em</p> <p>(A) III, apenas.</p> <p>(B) I e II, apenas.</p> <p>(C) I e III, apenas.</p> <p>(D) II e III, apenas.</p> <p>(E) I, II e III.</p>	<p>37. Assinale a alternativa que não apresenta um doença de notificação compulsória.</p> <p>(A) Tétano.</p> <p>(B) Varicela.</p> <p>(C) Coqueluche.</p> <p>(D) Sarampo.</p> <p>(E) Difteria.</p>

38. Com base no Decreto Federal nº 7.508/11, Capítulo III – Do planejamento da Saúde, marque V para verdadeiro ou F para falso e, em seguida, assinale a alternativa que apresenta a sequência correta.

- () O planejamento da saúde é obrigatório para os entes públicos e será indutor de políticas para a iniciativa privada.
- () O Conselho Nacional de Saúde estabelecerá as diretrizes a serem observadas na elaboração dos planos de saúde, de acordo com as características epidemiológicas e da organização de serviços nos entes federativos e nas Regiões de Saúde.
- () O Mapa da Saúde será utilizado na identificação das necessidades de saúde e orientará o planejamento integrado dos entes federativos, contribuindo para o estabelecimento de metas de saúde.
- () O planejamento da saúde em âmbito federal deve ser realizado de maneira centralizada, a partir das necessidades dos Municípios, considerando o estabelecimento de metas de saúde.

- (A) F/ F/ V/ F
- (B) V/ V/ V/ F
- (C) F/ V/ F/ V
- (D) V/ V/ V/ V
- (E) V/ F/ V/ F

39. Conforme a portaria nº 399/GM de 22 de fevereiro de 2006, que divulga o Pacto pela Saúde 2006, as prioridades do Pacto em Defesa do SUS são implementar um projeto permanente de mobilização social com a finalidade de

- I. mostrar a saúde como direito de cidadania e o SUS como sistema público universal garantidor desses direitos.
- II. alcançar, no curto prazo, a regulamentação da Emenda Constitucional nº 29, pelo Congresso Nacional.
- III. garantir, no longo prazo, o incremento dos recursos orçamentários e financeiros para a saúde.
- IV. aprovar o orçamento do SUS, composto pelos orçamentos das três esferas de gestão, explicitando o compromisso de cada uma delas.

E correto o que está contido em

- (A) I, II e III, apenas.
- (B) II, III e IV, apenas.
- (C) I, II e IV, apenas.
- (D) I, III e IV, apenas.
- (E) I, II, III e IV.

40. Com base no Decreto Federal nº 7.508/11, assinale a alternativa que apresenta a definição de Portas de Entrada.

- (A) Instâncias de pactuação consensual entre os entes federativos para definição das regras da gestão compartilhada do SUS.
- (B) Descrição geográfica da distribuição de recursos humanos e de ações e serviços de saúde ofertados pelo SUS e pela iniciativa privada, considerando-se a capacidade instalada existente, os investimentos e o desempenho aferido a partir dos indicadores de saúde do sistema.
- (C) Serviços de atendimento inicial à saúde do usuário no SUS.
- (D) Conjunto de ações e serviços de saúde articulados em níveis de complexidade crescente, com a finalidade de garantir a integralidade da assistência à saúde.
- (E) Serviços de saúde específicos para o atendimento da pessoa que, em razão de agravo ou de situação laboral, necessita de atendimento especial.

41. De acordo com a Lei nº 8.080/90, Título III – Dos serviços privados de assistência à saúde, Capítulo I – Do Funcionamento, analise as assertivas abaixo.

- I. Os serviços privados de assistência à saúde caracterizam-se pela atuação, por iniciativa própria, de profissionais liberais, legalmente habilitados, e de pessoas jurídicas de direito privado na promoção, proteção e recuperação da saúde.
- II. A assistência à saúde é livre à iniciativa privada.
- III. É permitida, em todos os casos, a participação direta ou indireta de empresas ou de capitais estrangeiros na assistência à saúde.



É correto o que se afirma em

- (A) I e III, apenas.
- (B) II e III, apenas.
- (C) III, apenas.
- (D) I e II, apenas.
- (E) I, II e III.

42. O conjunto de ações e serviços de saúde, prestados por órgãos e instituições públicas federais, estaduais e municipais, da Administração direta e indireta e das fundações mantidas pelo Poder Público, constitui o(a)

- (A) Sistema Único de Saúde.
- (B) Lei Orgânica da Saúde.
- (C) Unidade Básica de Saúde.
- (D) Ministério da Saúde.
- (E) Secretaria Estadual de Saúde.

<p>43. O conjunto de ações capaz de eliminar, diminuir ou prevenir riscos à saúde e de intervir nos problemas sanitários decorrentes do meio ambiente, da produção e circulação de bens e da prestação de serviços de interesse da saúde é denominado(a)</p> <p>(A) vigilância epidemiológica. (B) vigilância sanitária. (C) unidade básica de saúde. (D) saúde do trabalhador. (E) promoção da saúde.</p>	<p>46. O processo de limpeza hospitalar que ocorre em todas as superfícies horizontais e verticais de diferentes dependências, incluindo paredes, vidros, portas e pisos, realizado após a alta, óbito ou transferência do paciente, é denominado</p> <p>(A) limpeza periódica. (B) limpeza terminal. (C) esterilização. (D) limpeza concorrente. (E) desinfecção de ambientes.</p>
<p>44. São competências da direção estadual do Sistema Único de Saúde, exceto</p> <p>(A) promover a descentralização, para os Municípios, dos serviços e das ações de saúde. (B) acompanhar, controlar e avaliar as redes hierarquizadas do Sistema Único de Saúde. (C) prestar apoio técnico e financeiro aos Municípios e executar supletivamente ações e serviços de saúde. (D) participar, junto aos órgãos afins, do controle dos agravos do meio ambiente que tenham repercussão na saúde humana. (E) estabelecer critérios, parâmetros e métodos para o controle da qualidade sanitária de produtos, substâncias e serviços de consumo e uso humano.</p>	<p>47. Num atendimento de primeiros socorros a pacientes com parada cardiorrespiratória, deve-se observar, na avaliação primária,</p> <p>(A) nível de consciência, respiração e circulação. (B) respiração e batimentos cardíacos. (C) segurança da cena. (D) oxigenoterapia, monitorização cardíaca e punção venosa. (E) anamnese e exame físico.</p>
<p>45. Em relação aos serviços privados de assistência à saúde, analise as assertivas abaixo.</p> <p>I. Os serviços privados de assistência à saúde caracterizam-se pela atuação, por iniciativa própria, de profissionais liberais, legalmente habilitados, e de pessoas jurídicas e de direito privado na promoção, proteção e recuperação da saúde.</p> <p>II. Na prestação de serviços privados de assistência à saúde, serão observados os princípios éticos e as normas expedidas pelo órgão de direção do Sistema Único de Saúde quanto às condições para seu funcionamento.</p> <p>III. A assistência à saúde é restrita à iniciativa privada.</p> <p>IV. Em qualquer caso é obrigatória a autorização do órgão de direção nacional do Sistema Único de Saúde, submetendo-se a seu controle as atividades que forem desenvolvidas e os instrumentos que forem firmados.</p> <p>É correto o que se afirma em</p> <p>(A) I, II e III, apenas. (B) II e III, apenas. (C) I, II e IV, apenas. (D) I e IV, apenas. (E) I e II, apenas.</p>	<p>48. No exame físico do paciente vítima de trauma abdominal fechado, ao realizar a palpação, o abdômen rígido e doloroso é sinal indicativo de</p> <p>(A) obstrução arterial. (B) lesão raquimedular. (C) tamponamento cardíaco. (D) hemorragia interna. (E) insuficiência renal.</p> <p>49. A cessação súbita da atividade cardíaca e da respiração, ocasionando a interrupção circulatória e privação tecidual de oxigênio e nutrientes, podendo levar à morte em poucos minutos, é denominada</p> <p>(A) infarto agudo do miocárdio. (B) pneumotórax. (C) parada cardiorrespiratória. (D) choque cardiogênico. (E) embolia pulmonar.</p> <p>50. Sobre a reanimação cardiopulmonar (RCP), assinale a alternativa incorreta.</p> <p>(A) Antes de iniciar a RCP, o paciente deve ser posicionado sobre uma superfície rígida. (B) A desfibrilação deve ser utilizada apenas nos ritmos cardíacos de assistolia e fibrilação ventricular. (C) O ponto correto de compressão torácica é o centro da linha intermamilar, sobre o esterno. (D) Ao realizar a compressão torácica, o tórax deve ser rebaixado cerca de 4 a 5cm. (E) A RCP só deverá ser interrompida quando retornar a respiração e os batimentos cardíacos ou após a constatação do óbito.</p>

<p>51. O acúmulo de ar na cavidade pleural, restringindo o parênquima pulmonar e prejudicando a respiração, é denominado</p> <p>(A) contusão cardíaca. (B) hemotórax. (C) tamponamento cardíaco. (D) tórax instável. (E) pneumotórax.</p>	<p>É correto o que se afirma em</p> <p>(A) I e II, apenas. (B) II e III, apenas. (C) I, III e IV, apenas. (D) II, III e IV, apenas. (E) III e IV, apenas.</p>
<p>52. Um dos traumas musculoesqueléticos mais comuns consiste na desarticulação parcial ou total dos segmentos ósseos na cápsula articular. Este trauma é denominado</p> <p>(A) entorse. (B) fratura fechada. (C) contusão. (D) luxação. (E) fratura exposta.</p>	<p>55. A coleta e transporte interno dos Resíduos dos Serviços de Saúde (RSS) consistem no traslado dos resíduos dos pontos de geração até local destinado ao armazenamento temporário ou armazenamento externo, com a finalidade de disponibilização para a coleta. São recomendações para a coleta e transporte dos RSS, exceto:</p> <p>(A) os carros de coleta devem ter, preferencialmente, pneus de borracha e estar devidamente identificados com símbolos de risco. (B) sinalizar o itinerário da coleta de forma apropriada. (C) utilizar transporte por meio de dutos ou tubos de queda. (D) coletar resíduos recicláveis de forma separada. (E) estabelecer turnos, horários e frequência de coleta.</p>
<p>53. Os resíduos dos serviços de saúde são classificados em cinco grupos. Os resíduos do grupo A englobam os componentes com possível presença de agentes biológicos que, por suas características de maior virulência ou concentração, podem apresentar risco de infecção. Sendo assim, assinale a alternativa que apresenta um resíduo classificado neste grupo</p> <p>(A) bolsa transfusional com restos de sangue. (B) reagentes de laboratório. (C) sobras de alimentos. (D) resíduo contendo metais pesados. (E) lâmina de bisturi.</p>	<p>56. Os resíduos dos serviços de saúde classificados no grupo C são quaisquer materiais resultantes de atividades humanas que contenham radionuclídeos em quantidades superiores aos limites de isenção especificados na legislação vigente. Dessa forma, assinale a alternativa que apresenta a forma como deve ser feito o acondicionamento desses resíduos.</p> <p>(A) Devem ser acondicionados em sacos brancos leitosos ou sacos vermelhos, com simbologia de radioativo. (B) Devem ser acondicionados em recipientes de material rígido, adequados para cada tipo de substância, respeitadas as suas características físico-químicas e seu estado físico. (C) Devem ser acondicionados em sacos impermeáveis, de acordo com as orientações dos serviços locais de limpeza urbana. (D) Devem ser acondicionados em recipiente rígido, estanque, resistente à punctura, ruptura e vazamento, impermeável, com tampa, contendo a simbologia da substância. (E) Devem ser acondicionados em recipientes de chumbo, com blindagem adequada ao tipo e ao nível de radiação emitida, e ter a simbologia de radioativo.</p>
<p>54. Analise as assertivas abaixo sobre o Plano de Gerenciamento dos Resíduos de Serviços de Saúde (PGRSS).</p> <p>I. O PGRSS é o documento que aponta e descreve as ações relativas ao manejo de resíduos sólidos, que correspondem às seguintes etapas: segregação, acondicionamento, coleta, armazenamento, transporte, tratamento e disposição final.</p> <p>II. O planejamento do programa deve ser feito pela Enfermeira do Trabalho e pela Enfermeira do Controle de Infecção Hospitalar da instituição.</p> <p>III. O PGRSS deve considerar as características e riscos dos resíduos, as ações de proteção à saúde e ao meio ambiente e os princípios da biossegurança de empregar medidas técnicas administrativas e normativas para prevenir acidentes.</p> <p>IV. Devem fazer parte do PGRSS ações para emergências e acidentes, ações de controle integrado de pragas e de controle químico, compreendendo medidas preventivas e corretivas assim como de prevenção de saúde ocupacional.</p>	<p>57. No gerenciamento de resíduos de serviços de saúde, o</p> <p></p> <p>símbolo  significa que o resíduo é</p> <p>(A) corrosivo. (B) inflamável. (C) explosivo. (D) tóxico. (E) oxidante.</p>

58. Os procedimentos que envolvem a movimentação e o transporte de pacientes precisam ser realizados de maneira adequada, para evitar acidentes e o adoecimento do profissional. São recomendações para a movimentação e o transporte de pacientes, **exceto**:

- (A) manter os pés unidos e totalmente apoiados no chão durante a mobilização do paciente para diminuir o risco de lesões na coluna dos profissionais.
- (B) trabalhar o mais próximo possível do corpo do cliente, que deverá ser erguido ou movido.
- (C) usar o peso corporal como um contrapeso ao do paciente.
- (D) realizar a manipulação de pacientes com a ajuda de outros profissionais sempre que possível.
- (E) usar uniforme que permita liberdade de movimentos e sapatos apropriados.

59. Sobre os primeiros socorros a pessoas vítimas de queimaduras, assinale a alternativa correta.

- (A) Na queimadura química por pó, deve-se irrigar o local afetado abundantemente com soro fisiológico.
- (B) Na queimadura química por líquido, deve-se retirar imediatamente as vestes molhadas aderidas à pele.
- (C) Na queimadura elétrica, deve-se identificar os pontos de entrada e saída da corrente, analisando os possíveis órgãos atingidos pelo trajeto da corrente elétrica dentro do corpo.
- (D) Na queimadura elétrica, deve-se retirar a vítima de poças de água imediatamente.
- (E) Nas queimaduras térmicas por frio, o paciente costuma apresentar inicialmente lesões nos órgãos internos e, após certo tempo, apresentam danos nas extremidades.

60. São princípios norteadores da Política Nacional de Humanização, **exceto**:

- (A) apoio à construção de redes cooperativas, solidárias e comprometidas com a produção de saúde e com a produção de sujeitos.
- (B) fortalecimento de trabalho profissional individual, buscando a especialização dos profissionais da saúde.
- (C) construção de autonomia e protagonismo dos sujeitos e coletivos implicados na rede do Sistema Único de Saúde.
- (D) fortalecimento do controle social com caráter participativo em todas as instâncias gestoras do Sistema Único de Saúde.
- (E) compromisso com a democratização das relações de trabalho e valorização dos profissionais de saúde, estimulando processos de educação permanente.