



PREFEITURA MUNICIPAL DE JAHU

ESTADO DE SÃO PAULO

**Engenheiro de Segurança
do Trabalho I**

MANHÃ

CONCURSO PÚBLICO EDITAL 003/2012

Organizadora:



CARGO: ENGENHEIRO DE SEGURANÇA DO TRABALHO I

Texto I

O mundo não é um bufê de festinha infantil

Nesta altura do campeonato já dá para dizer que todos concordam com a importância de deixar um planeta melhor para os nossos filhos. E que, exatamente por isso, a sustentabilidade é uma questão importante dos nossos tempos. O fato de termos atingido esse consenso, porém, não é motivo para a humanidade bater no peito e acreditar que deu um passo à frente. Dar o mundo de presente aos filhos? Vá a uma loja de brinquedos lotada às vésperas do Dia das Crianças ou a uma festinha de aniversário em bufê infantil, desses que têm floresta com tirolesa, campo de futebol e montanha-russa interna, e você descobrirá que os pais estão dispostos a dar muito mais para suas crias atualmente.

O problema de deixar um mundo melhor para os seus filhos é que, como tantos milionários descobrem ao entregar o patrimônio de presente aos herdeiros, isso não garante que também eles serão capazes de repassar a fortuna para a geração seguinte. E, do jeito que andam as coisas, com esta geração de crianças que se entopem de brigadeiro nas festinhas, sem nem mesmo respeitar o silencioso pacto de espera até o momento do Parabéns a Você, é difícil de acreditar que o plano dê certo. Quanto mais vou a aniversários, menos confiante eu fico na possibilidade de meus netos receberem dos pais deles um planeta razoável.

O que me leva a acreditar que está na hora de inverter um pouco o consenso – a conclusão não é minha, aliás, já ouvi um monte de gente boa defendendo a mesma coisa. Papel e caneta na mão porque aqui vai a nova receita: a missão que cabe a você, todos os dias, é lutar por filhos melhores. O que de certa forma até facilita as coisas: não se trata de entregar tudo de bom no mundo para eles, mas apenas de fazer com que eles entreguem ao mundo o melhor em tudo.

Isso não significa formar uma geração de monges altruístas. Pelo contrário, eles têm incontáveis opções de caminhos para produzir coisas boas. Mas precisam saber que algumas regras são imutáveis. As principais: honestidade não tem meio-termo; somos livres para fazer escolhas, mas não para decidir o preço a pagar por elas; você é o principal responsável por suas conquistas e fracassos; os brigadeiros não são infinitos e você está enganado se acha que tem mais direito a eles do que seu coleguinha. Saber que o esforço é o único requisito mínimo ajuda. Agora junte tudo e você verá que alguém por aí claramente se enganou ao formular a famosa ideia do mundo melhor para as criancinhas. Deixar tudo pronto para elas desfrutarem é a maneira mais segura de garantir o fracasso da missão. O verdadeiro objetivo, portanto, não é entregar a chave de um mundo lindão de presente, mas a responsabilidade de cuidar dele como herança.

Um grande abraço.

(Sérgio Gwercman, Diretor de Redação. Superinteressante. Dezembro de 2011)

01

A expressão “nesta altura do campeonato” denota uma ideia de

- A) lugar. B) modo. C) tempo. D) oposição. E) conclusão.

02

Tendo em vista a importância e função dos elementos de coesão textual, o termo destacado em “E que, exatamente por isso, a sustentabilidade é uma questão importante dos nossos tempos.” refere-se

- A) ao futuro das novas gerações.
B) aos atos inconsequentes contra o meio ambiente.
C) à importância da sustentabilidade em nossos tempos.
D) à opinião em comum que todos possuem a respeito dos filhos.
E) ao fato de que é importante deixar um planeta melhor para as próximas gerações.

03

Dentre os trechos destacados a seguir, está expressa ideia de oposição em

- A) “... atingido esse consenso, porém, não é motivo para a humanidade...”
B) “Dar o mundo de presente aos filhos? Vá a uma loja de brinquedos lotada...”
C) “... isso não garante que também eles serão capazes de repassar a fortuna...”
D) “... sem nem mesmo respeitar o silencioso pacto de espera...”
E) “Quanto mais vou a aniversários, menos confiante eu fico...”

04

Por seus aspectos estruturais, o texto pode ser classificado como

- A) narrativo. B) injuntivo. C) expositivo. D) dissertativo. E) informativo.



05

A partir de alguns argumentos o autor sustenta sua tese no texto expressando seu ponto de vista. A tese defendida no texto pelo autor está expressa em

- A) As conquistas e fracassos da vida infantil.
- B) A disposição dos pais em suprir toda a demanda dos filhos.
- C) A sustentabilidade exercida apenas pelas próximas gerações.
- D) Deixar um planeta melhor: a solução para a preservação do meio ambiente.
- E) A construção de valores morais e éticos: um caminho para o exercício da sustentabilidade.

06

A principal ideia defendida no texto pode ser ilustrada com o seguinte provérbio popular

- A) “Filho de peixe, peixinho é.”
- B) “Mais vale um pássaro na mão do que dois voando.”
- C) “Diga-me com quem andas que eu direi quem tu és”.
- D) “Água mole em pedra dura tanto bate até que fura.”
- E) “É melhor ensinar a pescar do que entregar o peixe.”

07

O uso de dois pontos (:) no trecho “O que de certa forma até facilita as coisas: não se trata de entregar tudo de bom no mundo para eles, mas apenas de fazer com que eles entreguem ao mundo o melhor em tudo.” indica

- A) anúncio de um aposto.
- B) inserção de uma enumeração.
- C) explicação da ideia anterior.
- D) pausa maior que a da vírgula.
- E) inserção de uma citação direta.

08

“O verdadeiro objetivo, portanto, não é entregar a chave de um mundo lindão de presente, mas a responsabilidade de cuidar dele como herança.” Dentre as reescritas do trecho destacado anteriormente, NÃO há prejuízo gramatical ou alteração semântica em

- A) O verdadeiro objetivo não é entregar a chave de um mundo lindão de presente, já que é grande a responsabilidade de cuidar dele como herança.
- B) A responsabilidade de cuidar do mundo como herança é o verdadeiro objetivo, e não entregar a sua chave de presente.
- C) O verdadeiro objetivo, entretanto, não é entregar a chave de um mundo lindão de presente, porém a responsabilidade de cuidar dele como herança.
- D) A responsabilidade de cuidar do mundo, portanto, não é entregar a sua chave de presente, nem seu verdadeiro objetivo.
- E) A herança de cuidar do mundo é o objetivo, portanto, de entregar sua chave de presente.

Texto II

Você não quer contar esta história para seus filhos, quer?



(www.greenpeace.org.br)

09

A respeito das características textuais dos textos I e II, é correto afirmar que

- A) são semelhantes quanto à escolha da linguagem utilizada.
- B) possuem a mesma função comunicativa: persuadir seu interlocutor.
- C) são idênticos quanto ao conteúdo, pois apresentam os mesmos argumentos.
- D) indicam textos predominantemente objetivos em que a linguagem é clara e simples.
- E) narram fatos cotidianos com a finalidade de convencer o leitor sobre um ponto de vista.

10

Relativo à imagem, o questionamento da propaganda faz referência à(ao)

- A) poluição do meio ambiente.
- B) personagem “Chapeuzinho Vermelho”.
- C) slogan do *Greenpeace* que é registrado no canto direito.
- D) paisagem repleta de tocos de árvores que foram derrubadas.
- E) despreocupação da personagem diante do cenário à sua frente.

RACIOCÍNIO LÓGICO

11

Para percorrer a distância entre duas cidades, um veículo com velocidade média de 60 km/h, gasta 3 horas. Aumentando em 1/5 o valor dessa velocidade, a redução no tempo do trajeto, será de

- A) 30 minutos.
- B) 20 minutos.
- C) 50 minutos.
- D) 40 minutos.
- E) 10 minutos.

12

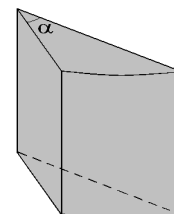
Numa escola, a equipe de professores é composta por 12 mulheres e 4 homens. Escolhendo-se, aleatoriamente, 2 professores para acompanhar uma turma em uma viagem, a probabilidade de que essas pessoas sejam um homem e uma mulher, é de

- A) 36%.
- B) 40%.
- C) 48%.
- D) 50%.
- E) 54%.

13

Um queijo em formato cilíndrico foi repartido em várias fatias iguais a da figura ao lado. Sendo o ângulo α na fatia representada igual a 24° , e o volume da mesma igual a $0,2 \text{ dm}^3$, então o volume do queijo inteiro é

- A) $3,0 \text{ dm}^3$.
- B) $2,4 \text{ dm}^3$.
- C) $3,2 \text{ dm}^3$.
- D) $2,6 \text{ dm}^3$.
- E) $2,8 \text{ dm}^3$.



14

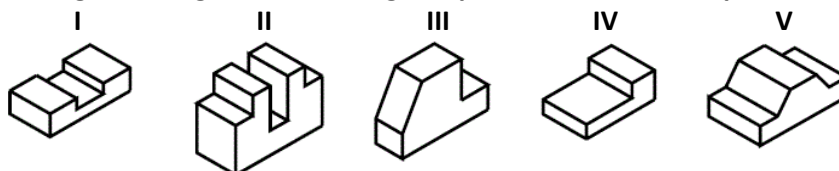
Uma cantora deseja escolher 9 músicas de uma lista de 15 para realizar uma apresentação. De quantas maneiras ela poderá fazer a escolha, sendo que das 5 músicas lentas da lista, pelo menos 3 deverão ser escolhidas?

- A) 3.570
- B) 3.360
- C) 2.840
- D) 1.680
- E) 2.450

15

Considere a sequência de figuras a seguir. Qual das figuras possui um número ímpar de faces?

- A) I
- B) II
- C) III
- D) IV
- E) V



16

Sejam os conjuntos $M = \{a, F, h, i, Q, r, T, x\}$, $N = \{b, E, h, j, o, Q, s, x\}$ e $P = \{a, c, E, F, h, o, T, u\}$. O conjunto $(M \cap P) \cup (M \cap N)$ apresenta

- A) 2 letras maiúsculas e 4 minúsculas.
- B) 1 vogal e 6 consoantes.
- C) 3 letras maiúsculas e 3 minúsculas.
- D) 2 vogais e 4 consoantes.
- E) apenas letras maiúsculas e nenhuma vogal.

17

Num circo, em uma certa noite, foram apresentadas 4 atrações. Considere que

- o espetáculo começou e terminou com a apresentação de um único artista.
- o trapezista se apresentou depois do mágico.
- o palhaço e a bailarina se apresentaram juntos.
- o malabarista se apresentou antes do mágico.
- o número do mágico foi a penúltima atração.

As duas primeiras atrações a se apresentarem foram, respectivamente, os números

- A) do malabarista e do trapezista. D) do malabarista e do palhaço com a bailarina.
B) do palhaço com a bailarina e do trapezista. E) do trapezista e do mágico.
C) do trapezista e do mágico.

18

Paula comprou uma geladeira e pagou x reais de entrada e o restante foi dividido em doze parcelas iguais. Se cada parcela corresponde a $\frac{2}{3}$ do valor pago à vista, então o valor pago por essa geladeira foi

- A) $7x$. B) $8x$. C) $9x$. D) $10x$. E) $11x$.

19

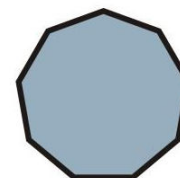
O produto de dois números naturais consecutivos é igual a p . Multiplicando-se o sucessor do maior desses números pelo antecessor do menor deles, obtém-se como produto

- A) $p - 1$. B) $p + 2$. C) p . D) $p - 2$. E) $p + 1$.

20

A soma dos ângulos internos de um triângulo é sempre igual a 180° . Assim, a soma dos ângulos internos do polígono ao lado é

- A) 1080° . D) 900° .
B) 1440° . E) 1620° .
C) 1260° .



CONHECIMENTOS ESPECÍFICOS

21

“Quando o calor se transmite através de uma massa de ar aquecida, que se desloca do local em chamas, levando para outros locais quantidade de calor suficiente, para que os materiais combustíveis aí existentes atinjam seu ponto de combustão, originando outro foco de fogo”, denomina-se

- A) convecção. D) irradiação.
B) condução. E) ondas caloríficas.
C) reação em cadeia.

22

Assinale a alternativa que apresenta a correspondência correta da cor dos riscos físicos, na elaboração do mapa de riscos.

- A) Marrom. B) Vermelho. C) Amarelo. D) Azul. E) Verde.

23

Analise as afirmativas.

- I. Risco é a capacidade de uma grandeza com potencial para causar lesões ou danos à saúde das pessoas.
II. Perigo é uma situação ou condição de risco com probabilidade de causar lesão física ou dano à saúde das pessoas por ausência de medidas de controle.
III. Causa de acidente é a qualificação da ação, frente a um risco/perigo, que contribuiu para que um dano seja pessoal ou impessoal.
IV. Controle é uma ação que visa eliminar/controlar o risco ou quando isso não é possível, reduzir a níveis aceitáveis o risco na execução de uma determinada etapa do trabalho, seja através da adoção de materiais, ferramentas, equipamentos ou metodologia apropriada.

Estão corretas apenas as afirmativas

- A) I, II B) I, III C) III, IV D) II, IV E) I, II, III, IV

24

Analise as afirmativas concernentes à análise preliminar de riscos.

- I. Trata-se de uma técnica de análise posterior de riscos.
- II. É uma visão do trabalho a ser executado, que permite a identificação dos riscos envolvidos em cada passo da tarefa e, ainda, propicia condição para evitá-los ou conviver com eles em segurança.
- III. Por se tratar de uma técnica aplicável a todas as atividades, é o fato de promover e estimular o trabalho em equipe e a responsabilidade solidária.

Está(ão) correta(s) apenas a(s) afirmativa(s)

- A) I, II B) I, III C) II, III D) I E) I, II, III

25

Analise as afirmativas de acordo com o código de ética profissional.

- Da honradez da profissão: a profissão é alto título de honra e sua prática exige conduta honesta, digna e cidadã.
- Da eficácia profissional: a profissão realiza-se pelo cumprimento responsável e competente dos compromissos profissionais, munindo-se de técnicas adequadas, assegurando os resultados propostos e a qualidade satisfatória nos serviços e produtos e observando a segurança nos seus procedimentos.
- Do relacionamento profissional: a profissão é praticada através do relacionamento honesto, justo e com espírito progressista dos profissionais para com os gestores, ordenadores, destinatários, beneficiários e colaboradores de seus serviços, com igualdade de tratamento entre os profissionais e com lealdade na competição.
- Da intervenção profissional sobre o meio: a profissão é exercida com base nos preceitos do desenvolvimento sustentável na intervenção sobre os ambientes natural e construído, e da incolumidade das pessoas, de seus bens e valores.
- Da liberdade e segurança profissionais: a profissão é de livre exercício aos qualificados, sendo a segurança de sua prática, de interesse coletivo.

As afirmativas anteriores se referem aos

- A) deveres da profissão. D) obrigações da profissão.
B) direitos da profissão. E) objetivos esperados.
C) princípios éticos.

26

Sobre a RR-9, analise as afirmativas.

- I. Sempre que vários empregadores realizam simultaneamente atividades no mesmo local de trabalho, terão o dever de executar ações integradas para aplicar as medidas previstas no PPRA, visando a proteção de todos os trabalhadores expostos aos riscos ambientais gerados.
- II. O conhecimento e a percepção que os trabalhadores têm do processo de trabalho e dos riscos ambientais presentes, incluindo os dados consignados no Mapa de Riscos, previstos na NR-5, deverão ser considerados para fins de planejamento e execução do PPRA em todas as suas fases.
- III. O empregador deverá garantir que, na ocorrência de riscos ambientais nos locais de trabalho que coloquem em situação de grave e iminente risco um ou mais trabalhadores, estes possam interromper de imediato as suas atividades, comunicando o fato ao superior hierárquico direto para as devidas providências.

Está(ão) correta(s) apenas a(s) afirmativa(s)

- A) I, II B) I, III C) II, III D) I, II, III E) II

27

Sobre a NR 07, é INCORRETO afirmar que

- A) o PCMSO deverá obedecer a um planejamento em que estejam previstas as ações de saúde a serem executadas durante o ano, devendo estas serem objeto de relatório anual.
- B) o relatório anual deverá discriminar, por setores da empresa, o número e a natureza dos exames médicos, incluindo avaliações clínicas e exames complementares, estatísticas de resultados considerados anormais, assim como o planejamento para o próximo ano, tomando como base o modelo proposto no Quadro III da NR 07.
- C) o relatório anual deverá ser apresentado e discutido na CIPA, quando existente na empresa, de acordo com a NR 5, sendo sua cópia anexada ao livro de atas daquela comissão.
- D) o relatório anual do PCMSO não poderá ser armazenado na forma de arquivo informatizado.
- E) as empresas desobrigadas de indicarem médico coordenador ficam dispensadas de elaborar o relatório anual.

28

Nas operações de mergulho com equipamento de ar comprimido e suprido pela superfície, a profundidade máxima permitida é

- A) 40 m. B) 50 m. C) 60 m. D) 120 m. E) 150 m.

29

De acordo com a NR 05, é INCORRETO afirmar que

- A) havendo participação inferior a 50% dos empregados na votação, não haverá a apuração dos votos e a comissão eleitoral deverá organizar outra votação, que ocorrerá no prazo máximo de 10 dias.
B) as denúncias sobre o processo eleitoral deverão ser protocolizadas na unidade descentralizada do MTE, até 90 dias após a data da posse dos novos membros da CIPA.
C) assumirão a condição de membros titulares e suplentes, os candidatos mais votados.
D) em caso de empate, assumirá aquele que tiver maior tempo de serviço no estabelecimento.
E) os candidatos votados e não eleitos serão relacionados na ata de eleição e apuração, em ordem decrescente de votos, possibilitando nomeação posterior, em caso de vacância de suplentes.

30

No que tange a NR 17, o trabalho manual sentado ou que tenha de ser feito em pé, as bancadas, as mesas, as escrivaninhas e os painéis devem proporcionar ao trabalhador condições de boa postura, visualização e operação e atender aos seguintes requisitos mínimos, EXCETO:

- A) Altura e características da superfície de trabalho compatíveis com o tipo de atividade, com a distância requerida dos olhos ao campo de trabalho e com a altura do assento.
B) Área de trabalho de fácil alcance pelo trabalhador.
C) Área de trabalho de fácil visualização pelo trabalhador.
D) Características dimensionais que possibilitem posicionamento e movimentação adequados dos segmentos corporais.
E) Altura fixa do assento, bem como da superfície de trabalho.

CONHECIMENTOS GERAIS

31

Leia o texto e complemente corretamente a afirmativa.

Prezados Senhores do Conselho Nacional de Autorregulamentação Publicitária – Conar,

Em função da recente revisão das normas para a publicidade que contenha apelos de sustentabilidade, gostaria de observar e sugerir a supressão de expressões como “economia de baixo carbono”, “produção de baixo carbono”, “redução de emissões de carbono”, “economia verde ou de baixo carbono”, e todas as demais que façam menção à redução das emissões de carbono e sua relação com a sustentabilidade e/ou mudanças climáticas da propaganda, já que elas não seguem os princípios estabelecidos no Parágrafo Único da Cláusula 36: veracidade, exatidão, pertinência e relevância. Uma eventual redução das emissões de carbono em nada contribui para a questão da sustentabilidade, senão o contrário.

(Trecho da carta do engenheiro agrônomo Mário de Carvalho Fontes Neto enviada ao Conar e divulgada no site Fakeclima – <http://www.fakeclimate.com/beta/>)

O posicionamento do engenheiro agrônomo é típico de uma corrente de pesquisadores brasileiros que

- A) apostam em ações mais incisivas de combate aos países desenvolvidos, responsáveis diretos por fenômenos como aquecimento global e efeito estufa.
B) atuam em defesa dos interesses de empresas, como mineradoras, petrolíferas, entre outras, consideradas agressoras do meio ambiente pela essência de exploração de seus produtos.
C) desenvolvem projetos e apontam soluções inovadoras para a conquista do equilíbrio do clima, de forma a evitar a intensificação de fenômenos como a desertificação.
D) estão à frente de descobertas inovadoras sobre o aquecimento global que apontam outros vilões responsáveis pelo aumento da temperatura do planeta.
E) são denominados céticos do clima, por não acreditarem no aquecimento global, efeito estufa, entre outros fenômenos amplamente divulgados e defendidos, atualmente.



32

A Organização das Nações Unidas (ONU) anunciou que a Terra alcançou 7 bilhões de habitantes humanos. Sobre a situação populacional do planeta é correto afirmar que

- A) a contagem populacional mundial é realizada pela ONU e seus resultados inquestionáveis.
- B) as pessoas vivem mais atualmente, têm mais filhos e a população fica mais velha no mundo.
- C) espera-se que os Estados Unidos superem a China em números populacionais nos próximos anos.
- D) o Brasil vive um processo de diminuição populacional com a redução da taxa de fecundidade.
- E) os continentes da Ásia e da África concentram os maiores números populacionais da Terra.

33

Os países do norte da África e Oriente Médio, que têm maioria de sua população de origem árabe, vivem um processo intenso de mudanças ocasionadas por conflitos internos e derrubadas de governos autoritários que há muito se encontram no poder. Sobre este processo histórico, denominado “Primavera Árabe”, é INCORRETO afirmar que

- A) a Liga Árabe, liderada pela Arábia Saudita e Catar, assumiu um papel de destaque na mediação das crises e dos conflitos oriundos da “Primavera Árabe”.
- B) a morte violenta de *Muammar Kadafi*, definitivamente marcou o fim de mais de quatro décadas de um governo personalista e polêmico, na Líbia.
- C) após resistir às manifestações contrárias a seu governo por vários meses, *Ali Abdullah Saleh*, governante do Iêmen, não resistiu, transferindo o poder a um governo provisório.
- D) considerada o maior foco de tensão do mundo árabe, a Síria, através da intervenção da ONU, teve o governo de *Bashar al-Assad* deposto, após muitos conflitos sangrentos.
- E) os governos de *Zine al-Abidine Ben Ali* na Tunísia, e de *Hosni Mubarak* no Egito, foram os primeiros a serem atingidos pelas revoltas populares que se alastraram pelo mundo árabe.

34

Um dos grandes desafios do mundo para este novo século é a geração de energia para o crescimento econômico sem comprometimento do meio ambiente, de acordo com os fundamentos do desenvolvimento sustentável. NÃO é correto afirmar sobre o tema apresentado neste enunciado, que

- A) as fontes de energia não renováveis podem se esgotar, pois demoram milhões de anos para serem repostas; como exemplo, tem-se o petróleo.
- B) as fontes de energia renováveis são mais rapidamente repostas pela natureza, como a biomassa, energia eólica, solar, entre outras.
- C) cerca de 90% da energia gerada no mundo são originárias de fontes não renováveis, assim como no Brasil, onde quase não se utilizam as fontes renováveis.
- D) durante o século XX, o petróleo foi o combustível mais utilizado e causador de grandes acidentes graves, como os vazamentos em mares e rios.
- E) o conceito de fontes limpas é utilizado para os tipos de fontes de energia que não emitem gases do efeito estufa, como o dióxido de carbono e o metano.

35

O estudo da violência no Brasil, realizado através do documento denominado “Mapa da Violência 2012”, pelo Instituto Sangari, apresenta um novo dado no que tange a violência no país que merece atenção, planejamento e ações das autoridades. Trata-se do fato de que

- A) a violência está se deslocando das grandes cidades para regiões de menor densidade demográfica, num processo de interiorização.
- B) a violência vem aumentando mais nas regiões Sul, Sudeste e Centro-Oeste do Brasil, e nas regiões Norte e Nordeste vem diminuindo significativamente.
- C) as milícias nas favelas das grandes cidades vêm reduzindo os índices de violência, já que se baseiam no trabalho voluntário de ex-policiais na proteção da população.
- D) as Unidades de Polícia Pacificadora, no Rio de Janeiro, não estão conseguindo reverter o quadro de violência nas favelas cariocas, já que o tráfico continua dominando tais favelas.
- E) os índices de violência no Brasil estão diminuindo em função das políticas públicas de combate à impunidade e treinamento mais eficaz na qualificação dos policiais.

36

“Novo ministro do trabalho carrega a defesa do trabalhador em seu DNA, mas suas posições em favor de temas polêmicos dividem o PDT e setores do governo.”

(Revista Istoé, edição 2217, 09/05/2012)

A reportagem sobre Brizola Neto (PDT-RJ), ministro do trabalho, faz referência a seu avô Leonel Brizola, fundador do Partido Democrático Trabalhista e político de grande expressão na história do Brasil, e do tio-avô, ex-ministro do trabalho do governo Getúlio Vargas, ex-vice-presidente e presidente da República do Brasil,

- A) Carlos Lacerda.
- B) Itamar Franco.
- C) João Goulart.
- D) José Sarney.
- E) Tancredo Neves.

37

Considerado um caldeirão em constante ebulição, o Oriente Médio vem protagonizando situações que geram expectativa e apreensão na comunidade internacional. Sobre a situação dos países dessa região do planeta, é correto afirmar que

- A) a ocupação militar no Iraque chegou ao fim em 2011, com a retirada dos últimos soldados norte-americanos do país, que já foi governado por *Saddam Hussein*.
- B) Israel e Irã vêm ensaiando uma aproximação desde que o país árabe anunciou que não mais apoiaria as ações de grupos, como o *Hezbollah* e *Hamas*.
- C) o presidente palestino foi a ONU, em 2012, solicitar reconhecimento do estado, tendo recebido apoio dos países integrantes do G8 e do Brics.
- D) o programa nuclear do Irã é um dos principais focos de tensão, já que o país vem fabricando armas, tendo divulgado, inclusive, a construção de uma bomba atômica.
- E) os grupos palestinos *Hamas* e *Fatah* são patrocinados pela Rússia para combater o domínio de Israel e, conseqüentemente, dos EUA na região.

38

Mais um julgamento no Supremo Tribunal Federal (STF) atraiu a atenção da opinião pública brasileira no primeiro semestre de 2012, sendo que, neste caso, envolveu a Universidade de Brasília (UnB), o Partido Democratas (DEM) e

- A) a organização da UnB de avaliações educacionais em que também é avaliada.
- B) as cotas étnico-raciais instituídas pela UnB, em 2004, consideradas válidas.
- C) o INEP, na contratação dos serviços da instituição de ensino sem processo licitatório.
- D) o favorecimento de filhos de políticos incluídos sem passar pelo vestibular.
- E) o mensalão do Distrito Federal denunciado pelos professores da educação distrital.

39

A tela do pintor expressionista norueguês *Edvard Munch* foi vendida em um leilão organizado pela *Sotheby's*, de Nova York, num valor recorde de US\$ 119,9 milhões. Seu nome é

- A) “*Bal au moulin de la Galette*”.
- B) “*L’Homme Qui Marche I*”.
- C) “O Grito”.
- D) “O massacre dos inocentes”.
- E) “Retirantes”.



40

No dia das mães (13 de maio) de 2012, a presidente da República, Dilma Rousseff, anunciou em cadeia nacional de telecomunicação, um programa que envolve uma série de medidas em benefício de mulheres e crianças denominado

- A) “Brasil Carinhoso”.
- B) “Brasil Sem Miséria”.
- C) “Guri”.
- D) “Nossa Bolsa”.
- E) “Rede de Proteção Social”.

INSTRUÇÕES

1. Material a ser utilizado: caneta esferográfica azul ou preta. Os objetos restantes devem ser colocados em local indicado pelo fiscal da sala, inclusive aparelho celular desligado e devidamente identificado com etiqueta.
2. Não é permitido consulta, utilização de livros, códigos, dicionários, apontamentos, apostilas, calculadoras e etc. Não é permitido ao candidato ingressar na sala de provas sem a respectiva identificação e o devido recolhimento de telefone celular, bip e outros aparelhos eletrônicos.
3. Durante a prova, o candidato não deve levantar-se, comunicar-se com outros candidatos e nem fumar.
4. A duração da prova é de 03 (três) horas, já incluindo o tempo destinado à entrega do Caderno de Provas e à identificação – que será feita no decorrer da prova – e ao preenchimento do Cartão de Respostas (Gabarito).
5. Somente em caso de urgência pedir ao fiscal para ir ao sanitário, devendo no percurso permanecer absolutamente calado, podendo antes e depois da entrada sofrer revista através de detector de metais. Ao sair da sala no término da prova, o candidato não poderá utilizar o sanitário. Caso ocorra uma emergência, o fiscal deverá ser comunicado.
6. O Caderno de Provas consta de 40 (quarenta) questões de múltipla escolha, exceto para o cargo de Hortelão em que o Caderno de Provas consta de 30 (trinta) questões. Leia-o atentamente.
7. **As questões das provas objetivas são do tipo múltipla escolha, com 05 (cinco) opções (A a E) e uma única resposta correta.**
8. Ao receber o material de realização das provas, o candidato deverá conferir atentamente se o Caderno de Provas corresponde ao cargo a que está concorrendo, bem como se os dados constantes no Cartão de Respostas (Gabarito) que lhe foi fornecido, estão corretos. Caso os dados estejam incorretos, ou o material esteja incompleto ou tenha qualquer imperfeição, o candidato deverá informar tal ocorrência ao fiscal.
9. Os fiscais não estão autorizados a emitir opinião e prestar esclarecimentos sobre o conteúdo das provas. Cabe única e exclusivamente ao candidato interpretar e decidir.
10. O candidato poderá retirar-se do local de provas somente a partir dos 90 (noventa) minutos após o início de sua realização, contudo não poderá levar consigo o Caderno de Provas, somente sendo permitida essa conduta apenas no decurso dos últimos 30 (trinta) minutos anteriores ao horário previsto para o seu término.
11. Os 3 (três) últimos candidatos de cada sala somente poderão sair juntos. Caso o candidato insista em sair do local de aplicação da prova, deverá assinar um termo desistindo do Concurso Público e, caso se negue, deverá ser lavrado o Termo de Ocorrência, testemunhado pelos 2 (dois) outros candidatos, pelo fiscal da sala e pelo coordenador da unidade.

RESULTADOS E RECURSOS

- As provas aplicadas, assim como os gabaritos preliminares das provas escritas objetivas de múltipla escolha serão divulgados na Internet, no site www.consulplan.net, a partir da 00h00min do dia subsequente ao da realização da provas.

- Os recursos deverão ser apresentados, conforme determinado no item 8 do Edital de Concurso Público nº. 003/2012, sendo observados os seguintes aspectos:

- a) O candidato que desejar interpor recursos contra os gabaritos oficiais preliminares das provas objetivas disporá de **02 (dois) dias úteis**, a partir do dia subsequente ao da divulgação, em requerimento próprio disponibilizado no *link* correlato ao Concurso Público no *site* www.consulplan.net.
- b) A interposição de recursos poderá ser feita **somente via Internet, através do Sistema Eletrônico de Interposição de Recursos**, com acesso pelo candidato com o fornecimento de dados referentes à sua inscrição, apenas no prazo recursal, à **CONSULPLAN**, conforme disposições contidas no site www.consulplan.net, no *link* correspondente ao Concurso Público.