



P.M. Itaquaquecetuba
Concurso Público 01/2012

INSTITUIÇÃO
SOLER
DE ENSINO

CARGO:
AUXILIAR DE SALA ESPECIAL

INSCRIÇÃO Nº: _____

ASSINATURA DO CANDIDATO:

**Cargos: Agente Cultural
Auxiliar de Sala Especial**

Leia o texto abaixo e responda às questões de 01 a 04:

Soneto de Carnaval

Distante o meu amor, se me afigura
O amor como um patético tormento
Pensar nele é morrer de desventura
Não pensar é matar meu pensamento.

Seu mais doce desejo se amargura
Todo o instante perdido é um sofrimento
Cada beijo lembrado uma tortura
Um ciúme do próprio ciumento.

E vivemos partindo, ela de mim
E eu dela, enquanto breves vão-se os anos
Para a grande partida que há no fim

De toda a vida e todo o amor humanos:
Mas tranquila ela sabe, e eu sei tranquilo
Que se um fica o outro parte a redimi-lo.

Vinicius de Moraes

01. Assinale a alternativa correta quanto ao motivo do “conflito constante” do eu lírico:

- a) Trata-se de um amor sempre presente, por isso o faz sentir-se saudoso e angustiado.
- b) Trata-se de um amor nem sempre presente, por isso não o faz sentir-se saudoso e angustiado.
- c) Trata-se de um amor nem sempre presente, por isso o faz sentir-se saudoso e angustiado.
- d) Nenhuma das alternativas está correta.

02. Identifique a alternativa correta quanto a reação do eu lírico na segunda estrofe em relação às características desse amor de carnaval:

- a) Como o amor é distante, seus desejos e lembranças o tornam feliz, e ele parece competir consigo mesmo, na tentativa de vivenciar melhor esse sentimento.
- b) Como o amor é distante, seus desejos e lembranças o tornam infeliz, e ele parece competir consigo mesmo, na tentativa de vivenciar melhor esse sentimento.
- c) Como o amor é próximo, seus desejos e lembranças o tornam infeliz, e ele parece competir consigo mesmo, na tentativa de vivenciar melhor esse sentimento.
- d) Nenhuma das alternativas está correta.

03. Assinale a alternativa correta quanto ao porque do eu lírico se preocupar tanto com a passagem do tempo no terceiro terceto:

- a) Os momentos de amor entre ele e a mulher amada são poucos e curtos; parecem ocorrer somente durante a época do carnaval. Ele percebe, então, que o fim da vivência desse amor está próximo.
- b) Os momentos de amor entre ele e a mulher amada não são poucos e curtos; parecem ocorrer somente durante a época do carnaval. Ele percebe, então, que o fim da vivência desse amor está próximo.
- c) Os momentos de amor entre ele e a mulher amada são poucos porém longos como o carnaval; parecem não ocorrer somente durante a época do carnaval. Ele percebe, então, que o fim da vivência desse amor nunca está próximo.
- d) Nenhuma das alternativas está correta.

04. Identifique a alternativa correta quanto a resignação do eu lírico no último terceto:

- a) Tanto ele quanto a amada se sentem culpados por não terem desfrutado desse amor e, quando separados finalmente pela morte, não terão o perdão um do outro.
- b) Tanto ele quanto a amada não se sentem culpados por terem desfrutado desse amor e, quando separados finalmente pela morte, terão o perdão um do outro.

- c) Tanto ele quanto a amada se sentem culpados por não terem desfrutado desse amor e, quando separados finalmente pela morte, terão o perdão um do outro.
- d) Nenhuma das alternativas está correta.

05. Assinale alternativa correta quanto ao sentido das frases:

- I – encerram a declaração ou enunciado de juízo acerca de alguém ou de alguma coisa.
 - II – contém uma ordem, proibição, exortação ou pedido.
 - III – traduzem admiração, surpresa, arrependimento, etc.
 - IV – exprimem um desejo.
- a) I – declarativa; II – exclamativa; III – imperativa; IV – optativa.
 - b) I – declarativa; II – imperativa; III – exclamativa; IV – optativa.
 - c) I – declarativa; II – imperativa; III – optativa; IV – exclamativa.
 - d) Nenhuma das alternativas está correta.

06. Identifique a alternativa correta quanto ao sujeito no enunciado “O Nilo fertiliza o Egito.”:

- a) Sujeito agente.
- b) Sujeito paciente.
- c) Sujeito indeterminado.
- d) Nenhuma das alternativas está correta.

07. Assinale a alternativa correta em que a frase encontra-se com predicado verbo-nominal:

- a) O pintor ofereceu o quadro a uma amiga.
- b) O espião é aquele.
- c) Eu assisti à cena revoltado.
- d) Nenhuma das alternativas está correta.

08. Identifique a alternativa correta quanto aos modos do verbo:

- I – Descansa, dorme em paz, Ana Maria é sua amiga.
 - II – Deus o acompanhe.
 - III – Amanhã vou a Petrópolis.
- a) I – imperativo; II – indicativo; III – subjuntivo.
 - b) I – imperativo; II – subjuntivo; III – indicativo.
 - c) I – indicativo; II – subjuntivo; III – imperativo.
 - d) Nenhuma das alternativas está correta.

09. Assinale a alternativa correta quanto ao pronome de tratamento utilizado para dirigir-se a cardeais:

- a) Vossa Santidade.
- b) Vossa Eminência.
- c) Vossa Reverendíssima.
- d) Nenhuma das alternativas está correta.

10. Identifique a alternativa correta em que o verbo do enunciado encontra-se na forma passiva:

- a) O homem é afligido pelas doenças.
- b) A criança era conduzida pelo pai.
- c) Seriam abertas novas escolas.
- d) Todas as alternativas estão corretas.

11. Assinale a alternativa correta em relação a classificação da palavra quanto ao número de sílabas da palavra “saúde”:

- a) Dissílabo.
- b) Trissílabo.
- c) Polissílabo.
- d) Nenhuma das alternativas está correta.

12. Identifique a alternativa correta quanto a classificação das palavras em relação a sua sílaba tônica:

- I – quilômetro
 - II – rapaz
 - III – mesa
- a) I – proparoxítona; II – oxítona; III – paroxítona.
 - b) I – paroxítona; II – oxítona; III – proparoxítona.
 - c) I – oxítona; II – proparoxítona; III – paroxítona.
 - d) Nenhuma das alternativas está correta.

Matemática

13. Carlinhos tinha 13 bolinhas de gude. Jogando com seus amigos, ele ganhou o dobro de bolinhas que ele tinha. Quando ele chegou em casa teve uma grande surpresa. Seu pai perguntou o número de bolinhas de gude que Carlinhos tinha e disse que lhe

daria o triplo mais uma dezena e meia. Com quantas bolinhas de gude Carlinhos ficou?

- a) 87 bolinhas de gude.
- b) 93 bolinhas de gude.
- c) 96 bolinhas de gude.
- d) 100 bolinhas de gude.

14. Tadeu foi à feira e comprou 6 dúzias de maracujá. Quando chegou em sua casa, selecionou 3 dezenas para fazer um suco e 2 dezenas para fazer uma torta. Quantos maracujás sobraram?

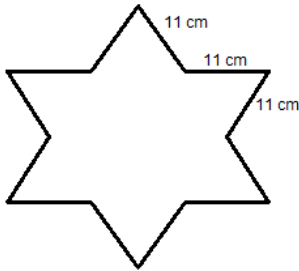
- a) 22 maracujás.
- b) 12 maracujás.
- c) 34 maracujás.
- d) 24 maracujás.

15. Quando Tadeu terminou de fazer sua torta de maracujá, ele chamou duas amigas para comer junto com ele. A primeira amiga comeu $\frac{2}{7}$ da torta, a segunda comeu $\frac{2}{6}$ e ele comeu $\frac{1}{4}$ da torta. Quanto foi que sobrou dessa torta?

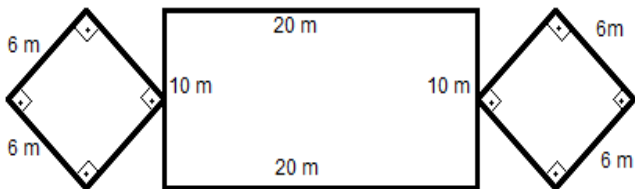
- a) $\frac{11}{84}$
- b) $\frac{5}{17}$
- c) $\frac{13}{168}$
- d) $\frac{13}{84}$

16. A figura abaixo possui todos os lados iguais. Calcule o perímetro desta figura.

- a) 132 cm^2
- b) 123 cm^2
- c) 132 cm
- d) 123 cm



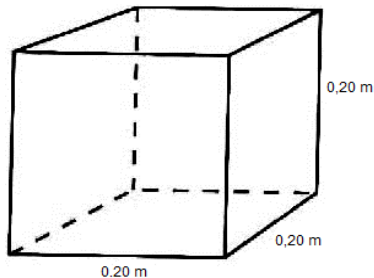
17. Calcule a área da seguinte figura:



- a) 108 m
- b) 108 m^2
- c) 272 m
- d) 272 m^2

18. Qual é o volume deste cubo?

- a) $0,08 \text{ m}^3$
- b) $0,8 \text{ m}^3$
- c) $0,008 \text{ m}^3$
- d) 8 m^3



19. Um atleta corre 100 metros em 10 segundos a uma velocidade 46 km/h. A quantos km/h esse mesmo atleta precisaria correr para fazer o tempo de 9,2 segundos?

- a) 47 km/h
- b) 48 km/h
- c) 49 km/h
- d) 50 km/h

20. Resolva a equação $3x^2 + 12x - 63 = 0$:

- a) $S = \{9; -7\}$
- b) $S = \{-7; 3\}$
- c) $S = \{3; 7\}$
- d) $S = \{-6; 3\}$

21. Pedro tem quatro vezes a idade de seu filho Daniel e Carol é apenas seis anos mais velha que Daniel. Juntos eles tem 84 anos. Qual é a idade de cada um?

- a) Pedro tem 52 anos, Daniel tem 13 anos e Carol tem 19 anos.
- b) Pedro tem 50 anos, Daniel tem 15 anos e Carol tem 19 anos.
- c) Pedro tem 52 anos, Daniel tem 12 anos e Carol tem 20 anos.
- d) Pedro tem 51 anos, Daniel tem 12 anos e Carol tem 21 anos.

22. O quadrado de um número menos cinco vezes o mesmo número é igual a 374.

- a) $S = \{12; 16\}$
- b) $S = \{-17; 22\}$
- c) $S = \{-14; 18\}$
- d) $S = \{-13; 17\}$

23. Uma máquina de lavar roupa custa R\$ 999,00. Fazendo o pagamento a vista, obtém um desconto de 9%. Qual é o valor da máquina de lavar roupa a vista?

- a) R\$ 900,00
- b) R\$ 900,99
- c) R\$ 909,09
- d) R\$ 899,09

24. Calcular os juros de R\$ 1587,88 durante 10 meses a uma taxa de 5% ao mês.

- a) R\$ 789,78
- b) R\$ 882,68
- c) R\$ 642,98
- d) R\$ 793,94

Conhecimentos Gerais

25. Diz-se de plantas adaptadas a ambientes secos (climas áridos ou semi-áridos). Pode desenvolver espinhos no lugar de folhas, para diminuir a transpiração. Trata-se da expressão:

- a) Xerófila.
- b) Higrófila.
- c) Tropófila.
- d) Caducifólia.

26. Movimento que surgiu na França do século XVII e defendia o domínio da razão sobre a visão teocêntrica que dominava a Europa desde a Idade Média. Os pensadores que defendiam estes ideais acreditavam que o pensamento racional deveria ser levado adiante substituindo as crenças religiosas e o misticismo, que, segundo eles, bloqueavam a evolução do homem. O homem deveria ser o centro e passar a buscar respostas para as questões que, até então, eram justificadas somente pela fé. Os defensores deste movimento eram denominados de:

- a) Absolutistas.
- b) Serenistas.
- c) Reformistas.
- d) Iluministas.

27. No início da República, as regiões mais pobres do Brasil eram terreno fértil para o aparecimento de lideranças religiosas de caráter messiânico. Na área do Contestado (região entre Paraná e Santa Catarina) não foi diferente, pois, diante da crise econômica e insatisfação popular em viviam muitos camponeses, ganhou força a figura de um beato. Este pregava a criação de um mundo novo, regido pelas leis de Deus, onde todos viveriam em paz, com prosperidade justiça e terras para trabalhar. O beato conseguiu reunir milhares de seguidores, principalmente de camponeses sem terras.

<http://www.suapesquisa.com/historiadosbrasil/>

O nome do beato a que se refere o texto é:

- a) José de Deus.
- b) José Maria.
- c) Francisco José.
- d) Antonio Conselheiro.

28. A plataforma continental do estado de(o) _____ responde por cerca de 80% de todo o petróleo produzido no Brasil. O estado brasileiro que completa a lacuna é:

- a) São Paulo.
- b) Espírito Santo.
- c) Bahia.
- d) Rio de Janeiro.

29. Constitui um ato do poder público que declara que os delitos praticados em determinada época, por motivos políticos, devem ser esquecidos, ou seja, não podem ser passíveis de punição. No Brasil a reivindicação desse ato ocorreu nos últimos anos da década de 1970 e marcou o início do processo de abertura política no período final do regime militar (1964-1985). Trata-se da:

- a) Moratória Social.
- b) Anistia.
- c) Habeas Corpus.
- d) Perdão Geral.

30. Renascimento é o nome que se dá a um grande movimento de mudanças culturais, que atingiu as camadas urbanas da Europa Ocidental entre os séculos XIV e XVI. São características desse movimento, exceto:

<http://www.historianet.com.br/conteudo/default.aspx?codigo=191>

- a) Retomada dos valores da cultura greco-romana, ou seja, da cultura clássica.
- b) Considerado um importante período de transição envolvendo as estruturas feudo capitalistas.
- c) As bases desse movimento eram proporcionadas por uma corrente filosófica reinante, o humanismo, que agregava aspectos da escolástica medieval e propunha o retorno às virtudes da antiguidade.
- d) Platão, Aristóteles, Virgílio, Sêneca e outros autores greco-romanos começam a ser traduzidos e rapidamente difundidos.

31. Muitos acreditavam que só que até de olhar um doente podia contaminar alguém. Para a maioria, no entanto, a epidemia era um castigo divino. A _____, que se alastrou rapidamente por grande parte da Europa no século XIV. A proximidade entre as pessoas favoreceu a contaminação nas cidades, onde ocorreram os mais altos índices de mortalidade. Algumas viram metade de sua população morrer. Pelas estimativas mais conservadoras a epidemia teria varrido um terço da população europeia.

A epidemia a que se refere o texto era ocasionada pela propagação da:

- a) Leishmaniose.
- b) Gripe espanhola.
- c) Peste bubônica.
- d) Leptospirose.

32. O processo de reformas religiosas teve início no século XVI. Podemos destacar como causas dessas reformas: abusos cometidos pela Igreja Católica e uma mudança na visão de mundo, fruto do pensamento renascentista. Preocupados com os avanços do protestantismo e com a perda de fiéis, bispos e papas reúnem-se na cidade italiana de Trento (Concílio de Trento) com o objetivo de traçar um plano de reação. No Concílio de Trento ficou definido: I. Catequização dos habitantes de terras descobertas, através da ação dos jesuítas.

II. Retomada do Tribunal do Santo Ofício - Inquisição objetivando punir e condenar os acusados de heresias.

III. Criação do Índice de Livros Proibidos para evitar a propagação de ideias contrárias à Igreja Católica.

IV. Incorporação aos preceitos religiosos católicos o pensamento baseado na ciência e na busca da verdade através de experiências e da razão articulado ao pensamento religioso.

Assinale a opção que apresenta as alternativas corretas:

- a) II e III.
- b) I, II e III.
- c) II, III e IV.
- d) I, II, III e IV.

33. O Índice de Desenvolvimento Humano (IDH) é calculado a partir de três indicadores. São eles:

I – Violência contra a mulher, isto é, o aumento considerável dos casos de agressões, espancamentos e mortes de mulheres nos municípios.

II – Expectativa de vida, isto é, o tempo médio de vida existente entre a população de uma região.

III – Grau de escolaridade, isto é, a instrução da população, o tipo e a quantidade de escolas, de professores e de alunos, nos vários graus de ensino.

IV – A renda *per capita*, isto é, a renda média que cada habitante de uma região teria, se a riqueza total fosse dividida igualmente entre todos.

Estão corretas as alternativas:

- a) I, II e III.
- b) I, II e IV.
- c) II, III e IV.
- d) I, III e IV.

34. Área intensamente urbanizada que em uma pequena extensão, reúne várias metrópoles e inúmeras outras cidades. Trata-se da:

- a) Megalópole.
- b) Megacidade.
- c) Rede urbana.
- d) Região metropolitana.

35. Leia as frases a seguir:

- Corresponde a uma rede de áreas (fragmentos de um dado bioma) protegidas entremeadas por áreas de ocupação humana.

- Nessa rede, o manejo realizado postula a garantia da sobrevivência de todas as espécies (fauna e flora), a manutenção dos processos evolutivos e, quando possível, o desenvolvimento de uma economia baseada no uso sustentável de seus recursos naturais.

- Na Mata Atlântica, por exemplo, a formação das redes de áreas protegidas objetiva conectar os fragmentos de florestas existentes.

A formação de redes de áreas protegidas e/ou fragmentos de biomas a que se refere às afirmativas são denominados(as) de:

- a) Corredores ecológicos.
- b) Reservas Biológicas.
- c) Estações Ecológicas.
- d) Reservas extrativistas.

36. A erosão é um processo de deslocamento de terra ou de rochas de uma superfície. A erosão pode ocorrer por ação de fenômenos da natureza ou do ser humano. São formas de evitar a erosão:

I. Não retirar coberturas vegetais de solos, principalmente de regiões montanhosas.

II. Planejar qualquer tipo de construção (rodovias, prédios, hidrelétricas, túneis, etc) para que não ocorra, no momento ou futuramente, o deslocamento de terra.

III. Monitorar as mudanças que ocorrem no solo e utilizar máquinas e implementos agrícolas de forma intensiva.

IV. Realizar o reflorestamento de áreas devastadas, principalmente em regiões de encosta.

Assinale a opção que apresenta as alternativas corretas:

- a) II e III.
- b) II, III e IV.
- c) I, II e IV.
- d) I, II, III e IV.

37. A Assíria foi um reino acádio semita em torno da região do alto rio Tigre, no norte da Mesopotâmia (atual norte do Iraque), e que dominou por diversas vezes ao longo da história os impérios existentes naquela região, desde a tomada da Babilônia até a sua reconquista. Sobre os assírios considere as proposições:

I. Esse povo destacou-se pela organização e desenvolvimento de uma cultura militar. Encaravam a guerra como uma das principais formas de conquistar poder e desenvolver a sociedade.

II. Eram excelentes observadores dos astros e com grande conhecimento de astronomia, desenvolveram um preciso relógio de sol.

III. Uma elite formada por sacerdotes e guerreiros submetia a população cobrando impostos tanto na forma de trabalhos como em mercadorias.

IV. Eram extremamente cruéis com os povos inimigos que conquistavam. Impunham aos vencidos, castigos e crueldades

como uma forma de manter respeito e espalhar o medo entre os outros povos.

Assinale a opção que apresenta as alternativas corretas:

- a) II e III.
- b) I, III e IV.
- c) II, III e IV.
- d) I, II, III e IV.

38. São morfologias litorâneas em forma de paredões resultantes do trabalho de desgaste realizados pelas águas do mar denominando de abrasão marinha e relacionadas às oscilações do nível do mar e mudanças nas condições climáticas que ocorreram nos últimos 120.000 anos. Essas formas passam atualmente por um elevado estágio de descaracterização, com erosão das encostas, construção de casas e demais equipamentos turísticos na proximidade das escarpas e áreas adjacentes e modificações não planejadas dos sistemas de escoamento das águas das chuvas.

As formas litorâneas a que se refere o texto são denominadas de:

- a) Tômbolos.
- b) Restingas.
- c) Fiordes.
- d) Falésias.

39. A política colonialista inglesa não foi aplicada de maneira igual para suas treze colônias da América do Norte. No processo de colonização das quatro colônias do norte - Massachusetts, Nova Hampshire, Rhode Island e Connecticut - que formavam a Nova Inglaterra, e das quatro colônias do centro - Nova York, Nova Jersey, Pensilvânia e Dela Ware - desenvolveu-se um modelo de colônia de povoamento.

Sobre esse modelo de colonização considere as proposições:

I. Colonização pautada em médias e pequenas fazendas, os colonos trabalhavam e desenvolviam os locais, gerando prosperidade econômica.

II. Liberdade para o trabalho e autonomia comercial, não sendo totalmente dependente da metrópole.

III. Faziam a prática da monocultura agroexportadora e da escravidão indígena.

IV. Formação de mercado interno e prática de economia de subsistência.

Assinale a opção que apresenta as alternativas corretas:

- a) I e IV.
- b) I, II e IV.
- c) II, III e IV.
- d) I, II, III e IV.

40. Conforme dispõe o Artigo 26º da Lei orgânica do município de Itaquaquecetuba o mandato do vereador será cassado quando:

I. Ferir o decoro parlamentar.

II. Decoro com a fidelidade partidária.

III. Praticar atos de improbidade administrativa.

IV - Atentar contra a Constituição e Legislação em vigor.

Assinale a opção que apresenta as alternativas corretas:

- a) II e III.
- b) I, III e IV.
- c) II, III e IV.
- d) I, II, III e IV.