

CARGO: COZINHEIRA e MASSOTERAPEUTA

FRASE PARA EXAME GRAFOTÉCNICO (TRANSCREVA NO QUADRO DE SEU CARTÃO DE RESPOSTAS)

“Só fazemos melhor, aquilo que repetidamente insistimos em melhorar.”

LEIA ATENTAMENTE AS INSTRUÇÕES SEGUINTE:

1. Este **Caderno de Questões** contém questões de múltipla escolha, cada uma com 5 opções A, B, C, D e E.
2. Ao receber o material, verifique no **Cartão de Respostas** seu nome, número de inscrição, data de nascimento, cargo e prova. Qualquer irregularidade comunique imediatamente ao fiscal de sala. Não serão aceitas reclamações posteriores.
3. Leia atentamente cada questão e assinale no **Cartão de Respostas** a opção que responde corretamente a cada uma delas. O **Cartão de Respostas** será o único documento válido para a correção eletrônica. O preenchimento do **Cartão de Respostas** e a respectiva assinatura serão de inteira responsabilidade do candidato. Não haverá substituição do **Cartão de Respostas**, por erro do candidato.
4. Observe as seguintes recomendações relativas ao **Cartão de Respostas**:
 - A maneira correta de marcação das respostas é cobrir, fortemente, com esferográfica de tinta azul ou preta, o espaço correspondente à letra a ser assinalada.
 - Outras formas de marcação diferentes implicarão a rejeição do **Cartão de Respostas**.
 - Será atribuída nota zero às questões não assinaladas ou com falta de nitidez, ou com marcação de mais de uma opção, e as emendadas ou rasuradas.
5. O fiscal de sala não está autorizado a alterar qualquer destas instruções. Em caso de dúvida, solicite a presença do coordenador local.
6. Você só poderá retirar-se definitivamente do recinto de realização da prova após 1 hora contada do seu efetivo início, **sem levar este Caderno de Questões**.
7. Você só poderá levar este **Caderno de Questões** caso permaneça na sala até 1 hora antes do término da prova.
8. Por motivo de segurança, só é permitido fazer anotação durante a prova neste **Caderno de Questões** e no **Cartão de Respostas**. Qualquer outro tipo de anotação será motivo de eliminação automática do candidato.
9. Após identificado e instalado na sala, você não poderá consultar qualquer material, enquanto aguarda o horário de início da prova.
10. Os três últimos candidatos deverão permanecer na sala até que o último candidato entregue o **Cartão de Respostas**.
11. Ao terminar a prova, é de sua responsabilidade entregar ao fiscal o **Cartão de Respostas**. Não esqueça seus pertences.
12. O **Gabarito Oficial da Prova Objetiva** será disponibilizado no site www.funcab.org, conforme estabelecido no Cronograma.

BOA PROVA!

Leia o texto abaixo e responda às questões propostas.

CHORAR FAZ BEM

[...] Comecei a ficar mais atenta às verdadeiras razões dos meus choros, que, aliás, costumam ser raros.

Já aconteceu de eu quase chorar por ter tropeçado na rua, por uma coisa à toa. É que, dependendo da dor que você traz dentro, dá mesmo vontade de aproveitar a ocasião para sentar no fio da calçada e chorar como se tivéssemos sofrido uma fratura exposta.

Qualquer coisa pode servir de motivo. Chorar porque fomos multados, porque a empregada não veio, porque o zíper arrebentou bem na hora de sairmos pra festa. Que festa, cara-pálida?

Por dentro, estamos em pleno velório de nós mesmos, chorando nossa miséria existencial, isso sim. Não pretendo soar melodramática, mas é que tem dias em que a gente inventa de se investigar, de lembrar dos sonhos da adolescência, de questionar nossas escolhas, e descobre que muita coisa deu certo, e outras não. Resolve pesar na balança o que foi privilegiado e o que foi descartado, e sente saudades do que descartou.

Normal, normalíssimo.

São aqueles momentos em que estamos nublados, um pouco mais sensíveis do que gostaríamos, constatando a passagem do tempo. Então a gente se pergunta: o que é que estou fazendo da minha vida?

Vá que tudo isso passe pela sua cabeça enquanto você está trabalhando no computador. De repente, a conexão cai, e em vez de desabafar com um simples palavrão, você faz o quê? Cai no berreiro. Evidente.

Eu sorrio muito mais do que choro, razões não me faltam para ser alegre, mas chorar faz bem, dizem. Eu não gosto. Meu rosto fica inchado e o alívio prometido não vem.

Em público, então, sinto a maior vergonha, é como se estivesse sendo pega em flagrante delito. O delito de estar emocionada. Mas emocionar-se não é uma felicidade?

Neste admirável mundo de contradições em que a gente vive, podemos até não gostar de chorar, mas trata-se apenas da nossa humanidade se manifestando: a conexão do computador, às vezes, cai; por outro lado, a conexão conosco mesmo, às vezes, se dá. Sendo assim, sou obrigada a reconhecer: chorar faz bem, não importa o álibi. É sempre a dor do crescimento. (MEDEIROS, Martha. Fonte: ot.com.br/2010/07/chorar-faz-bem-martha-medeiros.html Adaptado)

Questão 01

Existem algumas razões para chorar. Assinale a opção que está em **DESACORDO** com as razões indicadas no texto:

- A) “[...] a conexão do computador, às vezes, cai; [...]” (parágrafo 10)
- B) “[...] fomos multados, [...]” (parágrafo 3)
- C) “[...] a empregada não veio, [...]” (parágrafo 3)
- D) “[...] o zíper arrebentou [...]” (parágrafo 3)
- E) “Em público, então, sinto a maior vergonha, [...]” (parágrafo 9)

Questão 02

Na frase: “Eu **NÃO** gosto.” (parágrafo 8), a palavra em destaque é classificada como:

- A) pronome.
- B) advérbio.
- C) verbo.
- D) preposição.
- E) adjetivo.

Questão 03

Em: “São aqueles momentos em que estamos **NUBLADOS** [...]”. (parágrafo 6), apenas uma opção altera o sentido da frase, ao substituir a palavra em destaque:

- A) melancólicos.
- B) tristes.
- C) sensíveis.
- D) felizes.
- E) preocupados.

Questão 04

Em: “É sempre a **DOR** do crescimento.” (parágrafo 10), a palavra em destaque pode ser associada:

- A) a chorar.
- B) a computador.
- C) à festa.
- D) à rua.
- E) à felicidade.

Questão 05

Pode-se afirmar que a autora chega à conclusão de que chorar faz bem, porque ela:

- A) chora muito.
- B) chora por qualquer motivo.
- C) considera o choro a manifestação de nossa humanidade.
- D) não gosta de chorar.
- E) quase tropeçou na rua.

Questão 06

Uma das opções abaixo altera a conjugação dos verbos, em destaque, na frase: “Meu rosto FICA inchado e o alívio prometido não VEM.” (parágrafo 8), para o futuro do pretérito do indicativo. Assinale-a.

- A) Meu rosto FICAVA inchado e o alívio prometido não VINHA.
- B) Meu rosto FICARIA inchado e o alívio prometido não VIRIA.
- C) Meu rosto FICOU inchado e o alívio prometido não VEIO.
- D) Meu rosto FICA inchado e o alívio prometido não VEIO.
- E) Meu rosto FICARÁ inchado e o alívio prometido não VIRÁ.

Questão 07

Assinale a opção cujas palavras são acentuadas, porque são proparoxítonas.

- A) tivéssemos - admirável - normalíssimo
- B) nós - dá - aliás
- C) zíper - admirável - até
- D) você - razões - aliás
- E) gostaríamos - público - álibi

Questão 08

Apenas uma opção representa um período simples, com uma oração absoluta. Identifique-a.

- A) “Chorar porque fomos multados, [...]”. (parágrafo 3)
- B) “Meu rosto fica inchado e o alívio prometido não vem.” (parágrafo 8)
- C) “Cai no berreiro.” (parágrafo 7)
- D) “Comecei a ficar mais atenta às verdadeiras razões dos meus choros, que, aliás, costumam ser raros.” (parágrafo 1)
- E) “Vá que tudo isso passe pela sua cabeça enquanto você está trabalhando no computador.” (parágrafo 7)

Questão 09

Assinale a opção cuja palavra em destaque é um substantivo:

- A) “NORMAL, normalíssimo.” (parágrafo 5)
- B) “[...] a CONEXÃO do computador, às vezes, cai; [...]” (parágrafo 10)
- C) “Comecei a ficar mais atenta às VERDADEIRAS razões [...]” (parágrafo 1)
- D) “Eu SORRIO muito mais do que choro, [...]” (parágrafo 8)
- E) “[...] chorar faz BEM, [...]” (parágrafo 10)

Questão 10

Apenas uma opção está correta quanto à concordância, na reescritura da seguinte frase:

“Sendo assim, sou obrigada a reconhecer: chorar faz bem, não importa o álibi.”

- A) Sendo assim, SOMOS OBRIGADOS a reconhecer: chorar faz bem, não IMPORTAM OS ÁLIBIS.
- B) Sendo assim, ELAS SÃO OBRIGADAS a reconhecer: chorar faz bem, não IMPORTAM O ÁLIBI.
- C) Sendo assim, ELES SÃO OBRIGADO a reconhecer: chorar faz bem, não IMPORTA OS ÁLIBIS.
- D) Sendo assim, ELES SÃO OBRIGADOS a reconhecer: chorar faz bem, não IMPORTAM O ÁLIBI.
- E) Sendo assim, SOMOS OBRIGADA a reconhecer: chorar faz bem, não IMPORTA OS ÁLIBIS.

MATEMÁTICA


Questão 11

Se $\frac{1}{8}$ das Cozinheiras de uma grande escola são contratadas e as outras 14 são concursadas, qual o número de Cozinheiras dessa escola?


- A) 15
- B) 16
- C) 17
- D) 18
- E) 20

Questão 12

Rafael comprou um ábaco para trabalhar com operações matemáticas no sistema decimal e realizou uma subtração entre P e Q. (os números representados nos ábacos)



Número P



Número Q

Calcule o valor de $P - Q$.

- A) 2467
- B) 2674
- C) 2764
- D) 3746
- E) 3674

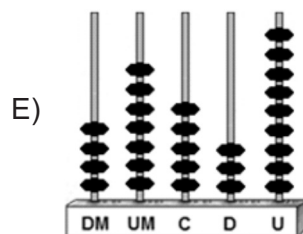
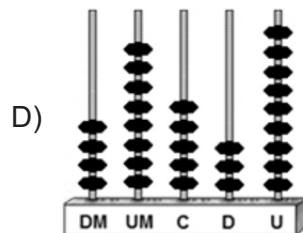
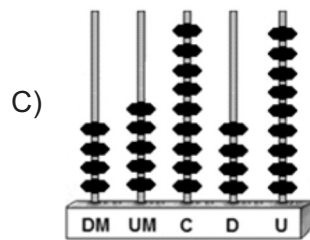
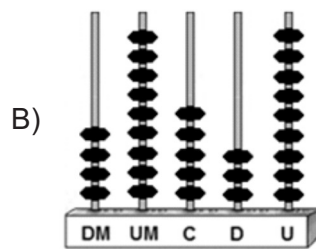
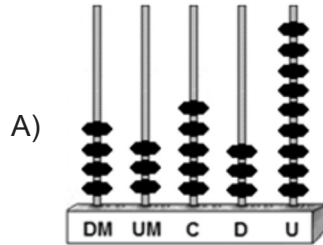
Questão 13

Cristina viajou para Armação dos Búzios com um amigo. Eles compraram um pacote turístico promocional na Internet, com 40% de desconto e pagaram apenas R\$ 960,00 pelo final de semana em um hotel. Calcule o valor, em reais, do mesmo pacote sem o desconto.

- A) R\$ 1.000,00
- B) R\$ 1.200,00
- C) R\$ 1.400,00
- D) R\$ 1.600,00
- E) R\$ 1.800,00

Questão 14

De acordo com o censo do IBGE de 2006, o município de Armação dos Búzios registrou um PIB: *PER CAPITA* de R\$ 49.539,00. Esse valor é melhor representado, no sistema decimal de numeração, na figura.



Questão 15

Rafael coordena uma equipe de 20 Massoterapeutas que atende 300 pacientes por dia. Devido ao aumento de pós-operatórios e de casos de problemas na coluna, a procura de atendimentos aumentou em 60%. Calcule o número de novos Massoterapeutas que Rafael precisa contratar para atender, com a mesma eficiência, toda a clientela.

- A) 10
- B) 12
- C) 14
- D) 16
- E) 18

Questão 16

Maria Emília é professora de gastronomia de uma turma em que $\frac{2}{5}$ são homens, 18 são mulheres e 75% dos homens são casados. Calcule o número de homens solteiros.

- A) 1
- B) 2
- C) 3
- D) 6
- E) 9

Questão 17

Armação dos Búzios é um município do Estado do Rio de Janeiro localizado na Região dos Lagos, e mundialmente conhecido por suas 23 praias. Localiza-se a cerca de 169 km da capital do estado. Cristina mora no Rio de Janeiro e todos os dias atravessa a ponte Rio-Niterói para trabalhar em Niterói. A ponte Rio-Niterói mede aproximadamente 13 km e ela gasta exatamente 3 litros de gasolina só para atravessar a ponte na ida e volta do trabalho. Quantos litros de gasolina ela gastaria no trajeto de ida e volta de sua casa até Armação dos Búzios com o mesmo carro que trabalha diariamente?

- A) 26
- B) 30
- C) 33
- D) 39
- E) 42

Questão 18

Durante uma festa, um grupo de 18 garçons de um bufet serve todos os salgadinhos e bebidas em 6 horas. Em uma festa com igual número de salgadinhos e bebidas, faltaram 6 garçons desse grupo e o bufet teve que trabalhar um tempo a mais para executar a mesma tarefa. Calcule quantas horas a mais durou a festa.

- A) 1 hora.
- B) 2 horas.
- C) 3 horas.
- D) 4 horas.
- E) 5 horas.

Questão 19

Carla aplicou R\$ 1.800,00, a juros simples, a uma taxa de 3% ao mês e depois de certo tempo recebeu R\$ 540,00 de juros. Este total corresponde à aplicação do valor inicial durante:

- A) 8 meses.
- B) 10 meses.
- C) 1 ano.
- D) 1 ano e 2 meses.
- E) 1 ano e 4 meses.

Questão 20

Renato é dono de uma loja de biquínis em Armação dos Búzios. No final do verão, ele fez uma grande liquidação.

Vendeu os 40 biquínis por R\$ 70,00 cada um com 30% de desconto.

Vendeu os 15 maiôs por R\$ 90,00 cada um com 40% de desconto.

Calcule o valor total, em reais, que Renato deu em descontos.

- A) R\$ 1.700,00
- B) R\$ 1.800,00
- C) R\$ 1.900,00
- D) R\$ 2.000,00
- E) R\$ 2.100,00

CONHECIMENTOS GERAIS

Questão 21

Fernando de Noronha é uma ilha paradisíaca no litoral brasileiro que já recebeu a denominação de território federal. Em vez de se transformar em um estado brasileiro, a ilha foi direcionada para a administração de um estado pré-existente. O estado ao qual a ilha de Fernando de Noronha pertence é:

- A) Bahia.
- B) Santa Catarina.
- C) Pernambuco.
- D) São Paulo.
- E) Ceará.

Questão 22

A imagem a seguir apresenta os Arcos da Lapa, monumento símbolo não somente da cidade do Rio de Janeiro como de todo estado. A construção dos Arcos da Lapa teve o seguinte objetivo:



(Fonte: http://farm1.static.flickr.com/31/38915251_8baa9f1d39.jpg)

- A) atração de turistas estrangeiros.
- B) transporte de água potável.
- C) divisão entre as zonas norte e sul carioca.
- D) defesa contra invasões indígenas.
- E) conexão ferroviária com os morros.

Questão 23

O município de Armação dos Búzios possui uma característica que o coloca em destaque no cenário econômico fluminense. O município encontra-se, atualmente, entre os três mais importantes do estado no setor de:

- A) indústria têxtil.
- B) pecuária leiteira.
- C) hotelaria.
- D) produção de navios.
- E) citricultura.

Questão 24

O mapa a seguir apresenta um estado brasileiro cuja capital está assentada na seguinte formação geográfica:



(Fonte: <http://www.brasilecola.com.jpg>)

- A) ilha.
- B) serra.
- C) planalto.
- D) península.
- E) falésias.

Questão 25

O estado do Rio de Janeiro, apesar do pequeno território, possui uma diversidade de aspectos geográficos. Alguns são específicos de uma região, outros podem ser considerados como uma característica geral do estado. Uma característica do relevo do estado é que:

- A) a serra do Mar é mais próxima do litoral na porção norte e noroeste do estado.
- B) a maior extensão de planície localiza-se na região do Médio Vale do Paraíba.
- C) a Costa Verde possui a menor planície já que a serra do Mar se aproxima do litoral.
- D) a região Metropolitana possui o ponto com maior altitude do estado.
- E) a serra da Mantiqueira faz a conexão direta entre Volta Redonda e Macaé.

Questão 26

A partir do século XVIII, o processo histórico de povoamento da região, onde atualmente localiza-se o município de Armação dos Búzios, teve início na seguinte condição:

- A) Exploração do petróleo.
- B) Agricultura cafeeira.
- C) Reserva ambiental.
- D) Pesca da baleia
- E) Fortes militares.

Questão 27

A charge a seguir faz referência ao problema do aquecimento global muito debatido na atualidade. A consequência do aquecimento global melhor representada na charge é:



(Fonte: <http://www.matutando.com/wp-content/uploads/2010/03/aquecimento-global.jpg>)

- A) congelamento das regiões tropicais.
- B) emissão de gases poluentes.
- C) aumento da biodiversidade.
- D) derretimento das calotas polares.
- E) buraco na camada de ozônio.

Questão 28

As cinco regiões brasileiras definidas pelo Instituto Brasileiro de Geografia e Estatística – IBGE – possuem algumas características semelhantes e muitas diferenças. As duas regiões brasileiras que se diferenciam das demais por NÃO possuírem fronteiras com países sulamericanos são:

- A) Nordeste e Norte.
- B) Sul e Sudeste.
- C) Centro-Oeste e Sul.
- D) Norte e Centro-Oeste.
- E) Nordeste e Sudeste.

Questão 29

Nas últimas décadas, a economia do estado do Rio de Janeiro vem passando por transformações que geram mudanças nos aspectos sociais para a população fluminense. Uma transformação social ocorrida nos últimos anos é:

- A) deslocamento populacional em direção às cidades de porte pequeno e médio.
- B) aumento do desemprego nos setores tradicionais como turismo e indústria.
- C) redução drástica do número de pessoas que vivem em áreas de favelas.
- D) aumento significativo da população vivendo e trabalhando em atividades agrícolas.
- E) o número de homens dobrou em relação ao de mulheres em função da oferta de emprego.

Questão 30

Armação dos Búzios é reconhecida, entre outros fatores, por suas belezas naturais. O município possui a seguinte característica natural predominante:

- A) correntes marítimas quentes que banham todas as praias.
- B) chuvas concentradas no inverno quando a temperatura diminui.
- C) mata de Araucária resistente à elevada amplitude térmica.
- D) relevo de planalto com estreita planície costeira e poucas chuvas.
- E) temperaturas elevadas com concentração das chuvas no verão.