

# **PREFEITURA MUNICIPAL DE GRANDES RIOS**

**ESTADO DO PARANÁ**

**CONCURSO PÚBLICO MUNICIPAL - 08/01/2012 - MANHÃ  
EDITAL N° 001/2011**

## **CARGO: AUXILIAR ADMINISTRATIVO III - FUNDO**

**N° DE INSCRIÇÃO \_\_\_\_\_**

**Prezado Candidato, leia atentamente as instruções a seguir:**

- 1. Coloque o seu número de inscrição na capa da prova;*
- 2. Assine o cartão resposta no verso;*
- 3. A prova terá 02hs30min de duração;*
- 4. O candidato somente poderá se retirar da sala, após 1 (uma) hora do início da prova;*
- 5. Use caneta esferográfica azul ou preta;*
- 6. Cada questão possui somente uma resposta correta;*
- 7. Você poderá responder no caderno de prova, utilizando-o como rascunho se necessário, mas, deverá assinalar no cartão resposta que acompanha o mesmo;*
- 8. Não serão permitidas consultas de espécie alguma durante a aplicação da prova;*
- 9. A prova conterà 20 (vinte) questões de múltipla escolha (a,b,c,d);*
- 10. A resposta assinalada no cartão resposta não poderá apresentar dúvidas e/ou rasuras, nesse caso será anulada a questão;*
- 11. Ao terminar a prova, o candidato entregará obrigatoriamente ao fiscal de sala todo o material recebido no início da prova;*
- 12. Tenha calma para não prejudicar seu desempenho.*

***Boa Prova!***

## DEBAIXO DA PONTE

1° Moravam debaixo da ponte. Oficialmente, não é lugar onde se more, porém eles moravam. Ninguém lhes cobrava aluguel, imposto predial, taxa de condomínio: a ponte é de todos, na parte de cima; de ninguém, na parte de baixo. Não pagavam conta de luz e gás, porque luz e gás não consumiam. Não reclamavam contra falta d'água, raramente observada por baixo de pontes. Problema de lixo não tinham; podia ser atirado em qualquer parte, embora não conviesse atirá-lo em parte alguma, se dele vinham muitas vezes o vestuário, o alimento, objetos de casa. Viviam debaixo da ponte, podiam dar esse endereço a amigos, recebê-los, fazê-los desfrutar comodidades internas da ponte.

2° \_\_\_\_\_ tarde surgiu precisamente um amigo que morava nem ele mesmo sabia onde, mas certamente morava: nem só a ponte é lugar de moradia para quem não dispõe de outro rancho. Há bancos confortáveis nos jardins, muito disputados; a calçada, um pouco menos propícia; a cavidade na pedra, o mato. Até o ar é uma casa, se soubermos habitá-lo, principalmente o ar da rua. O que morava não se sabe onde vinha visitar os de debaixo da ponte e trazer-lhes uma grande posta de carne.

3° Nem todos os dias se pega uma posta de carne. Não basta procurá-la; é preciso que ela exista, o que costuma acontecer dentro de certas limitações de espaço e de lei. Aquela vinha até eles, debaixo da ponte, e não estavam sonhando, sentiam \_\_\_\_\_ presença física da ponte, o amigo rindo diante deles, a posta bem pegável, comível. Fora encontrada no vazadouro, supermercado para quem sabe freqüentá-lo, e aqueles três o sabiam, de longa e olfativa ciência.

4° Comê-la crua ou sem tempero não teria o mesmo gosto. Um de debaixo da ponte saiu \_\_\_\_\_ caça de sal. E havia sal jogado a um canto de rua, dentro da lata. Também o sal existe sob determinadas regras, mas pode tornar-se acessível conforme as circunstâncias. E a lata foi trazida para debaixo da ponte.

5° Debaixo da ponte os três preparavam comida. Debaixo da ponte **a** comeram. Não sendo operação diária, cada um saboreava duas vezes: **a** carne e **a** sensação de raridade da carne. E iriam aproveitar o resto do dia dormindo (pois não \_\_\_\_\_ coisa melhor, depois de um prazer, do que o prazer complementar do esquecimento), quando começaram **a** sentir dores.

6° Dores que foram aumentando, mas podiam ser atribuídas ao espanto de alguma parte do organismo de cada um, vendo-se alimentado sem que lhe houvesse chegado notícia prévia de alimento. Dois morreram logo, o terceiro agoniza no hospital. Dizem uns que morreram da carne, dizem outros que do sal, pois era soda cáustica. Há duas vagas debaixo da ponte.

ANDRADE, Carlos Drummond de. Debaixo da ponte. In: *Obra Completa*, Rio de Janeiro: José Aguilar Editora, 1967, p. 896-897.

### 01 - Assinale a alternativa que preenche corretamente as lacunas do texto:

- a) À – a – à – há.
- b) Á – a – à – a.
- c) Á – à – a – há.
- d) A – à – a – à.

### 02 - Atente para as afirmativas relacionadas ao texto:

**I - A indeterminação das personagens cria o efeito de sentido de “anonimato” de uma miséria tão absoluta que os priva até mesmo de um nome próprio.**

**II - Ao indefinir o momento da ação o autor eterniza a miséria e permite que o final do texto seja aberto em um movimento cíclico que retoma o início do texto.**

**III - O texto apresenta certos valores que são antagônicos como o percurso da morte (a miséria absoluta) para a vida (quando os sujeitos conseguem alimentos) e para a morte (quando os sujeitos são envenenados pela comida).**

**Quais afirmativas estão corretas?**

- a) apenas I e II.
- b) apenas I e III.
- c) apenas II e III.
- d) todas as alternativas.

### 03 - Assinale a alternativa em que estão corretamente identificadas as relações de sentido estabelecidas pelas palavras destacadas no primeiro parágrafo (*porém, porque e embora*):

- a) consequência – causa – conclusão.
- b) oposição – explicação – concessão.
- c) conclusão – causa – tempo.
- d) concessão – finalidade – conformidade.

### 04 - Assinale a alternativa em que a análise morfológica dos termos destacados está correta:

*Debaixo da ponte os três preparavam a comida. Debaixo **a** comeram. Não sendo operação diária, cada um saboreava duas vezes: **a** carne e **a** raridade da carne. E iriam aproveitar o resto do dia dormindo (pois não há nada melhor, depois de um prazer, do que complementar do esquecimento)... quando começaram **a** sentir dores...*

- a) pronome pessoal do caso oblíquo – artigo definido – artigo definido – preposição.
- b) advérbio – artigo definido – artigo definido – artigo definido.

- c) artigo – pronome demonstrativo – pronome demonstrativo – preposição.  
 d) preposição – artigo indefinido – artigo definido – preposição.

**05 - Analise as frases extraídas do texto e as afirmações feitas sobre cada uma, em seguida assinale a alternativa que contém afirmação incorreta:**

- a) “Dores que foram aumentando, mas podiam ser atribuídas ao espanto de alguma parte do organismo de cada um,...”  
 Afirmação: a locução verbal destacada dá ideia de graduação.  
 b) “Fora encontrada no vazadouro, supermercado para quem sabe frequentá-lo, e aqueles três o sabiam de longa e olfativa ciência.”  
 Afirmação: O pronome destacado substitui a expressão “*frequentar o vazadouro*”.  
 c) “Mas pode tornar-se acessível.”  
 Afirmação: o termo destacado poderia ser substituído por conquanto sem prejuízo algum para a frase.  
 d) “Há duas vagas debaixo da ponte.”  
 Afirmação: o verbo “*haver*” apresenta duas formas de igual valor e função: “*havemos*” e “*hemos*”.

**06 - As artes marciais estão em alta na mídia atualmente. Em 2011, algumas emissoras de televisão transmitiram ao vivo, eventos de artes marciais do UFC® (Ultimate Fighting Championship), no qual os lutadores se enfrentam em um ringue no formato de octógono. Considere que em um campeonato não oficial de artes marciais, será utilizado como ringue de lutas, um octógono regular de arestas medindo 3 m. A área de luta será:**

**Dado:**  $\sqrt{2} = 1,4$ .

- a) maior que 40 m<sup>2</sup> e menor que 45 m<sup>2</sup>.  
 b) maior que 45 m<sup>2</sup> e menor que 50 m<sup>2</sup>.  
 c) maior que 50 m<sup>2</sup> e menor que 55 m<sup>2</sup>.  
 d) maior que 55 m<sup>2</sup> e menor que 60 m<sup>2</sup>.

**07 - O quadrado de um número, menos o seu quádruplo é igual a – 6. Esse número é:**

- a) 2.  
 b) 3.  
 c) 4.  
 d) 5.

**08 - Uma montadora de automóveis fabrica determinado modelo de veículo em três cores (branco, preto e cinza), e com três configurações de opcionais diferentes (básico, luxo e gran luxo). A tabela 1 que segue é representativa das vendas da primeira semana do mês de dezembro, e a tabela 2 é referente ao valor de venda de cada modelo, de acordo com sua configuração de opcionais.**

	Básico	Luxo	Gran Luxo
Branco	14	9	5
Preto	8	10	4
Cinza	22	15	6

Tabela 1

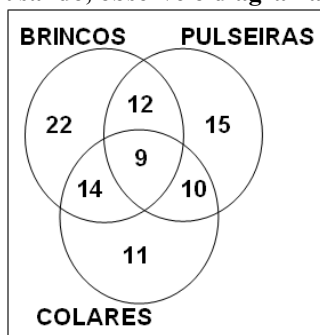
Preço de Venda (em R\$)	
Básico	32000,00
Luxo	40000,00
Gran Luxo	48000,00

Tabela 2

**No que se refere aos carros vendidos na cor preta, o montante, em reais, faturado nessas vendas foi de:**

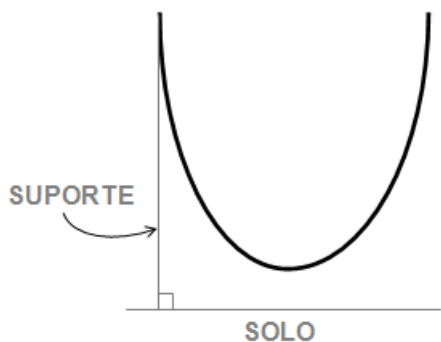
- a) menos de 1/2 milhão.  
 b) pouco mais de 1/2 milhão.  
 c) 3/4 de milhão.  
 d) mais de 4/5 de milhão.

**09 - Um grupo de amigas está se preparando para uma confraternização. No que se refere às jóias que estão usando, observe o diagrama de Venn abaixo, e assinale a alternativa correta:**



- a) O número de pessoas que usam brincos é o dobro do número de pessoas que usam colares.  
 b) Apenas 15 pessoas estão usando pulseiras.  
 c) O número de pessoas que usam pulseiras excede em 2 o número de pessoas que usam colares.  
 d) O número de pessoas que usam brincos e pulseiras é igual a 12.

10 - Um artista projetou uma escultura, com suas medidas em metros, no formato de parábola que satisfaz a função  $x^2 + 2x + 2 = 0$ , sendo fixada por um suporte lateral, na vertical, como ilustra a figura que segue.



Desconsiderando-se o suporte, a menor distância entre a escultura (em destaque na figura) e o solo será de:

- a) 0,5 m.
- b) 1 m.
- c) 1,5 m.
- d) 2 m.

11 - Rege a Constituição Federal que os Ministros de Estado serão escolhidos dentre brasileiros com idade:

- a) maior de dezoito anos.
- b) maior de vinte e um anos.
- c) maior de 30 anos.
- d) maior de 35 anos.

12 - De acordo com a Constituição Federal, quem decide a perda de mandato de um Senador cujo procedimento for declarado incompatível com o decoro parlamentar é:

- a) A Câmara dos Deputados.
- b) O Senado Federal.
- c) O Presidente da República.
- d) O Supremo Tribunal Federal.

13 - Com relação aos ofícios, marque V para verdadeiro e F para falso. Após, assinale a alternativa desejada:

( ) O local e a data são colocados no lado direito da mesma linha em que se coloca o número de controle do ofício, devendo-se observar o uso, para o primeiro dia do mês, de numeral cardinal.

( ) O vocativo é a primeira referência que se faz, no texto, ao destinatário do ofício e determina a forma de tratamento a ser utilizada no documento.

( ) O ofício, assim como as cartas, simula de alguma forma o ritual de uma conversação. A saudação, a “conversa” e a despedida corresponderiam, respectivamente, ao vocativo, ao assunto tratado e ao fecho.

( ) Deve-se indicar, na primeira página do ofício, o nome, o cargo e o endereço do destinatário. Este último pode ser completo ou constituído simplesmente do nome do município e da sigla do Estado.

A seqüência correta de cima para baixo é:

- a) V, V, V, V.
- b) V, V, F, V.
- c) F, V, V, V.
- d) F, V, F, V.

14 - Assinale a única alternativa que contém uma característica que não deve estar presente na correspondência oficial:

- a) concisão.
- b) uniformidade.
- c) prolixidade.
- d) objetividade.

15 - O registro do que se passa em uma reunião oficial, cujo teor tem valor documental, é denominado:

- a) Edital.
- b) Circular.
- c) Resolução.
- d) Ata.

16 - O método de arquivamento onde primeiramente é preparado um jogo de doze guias com os nomes dos meses e depois um jogo de guias numeradas de 1 a 31, representando os dias dos meses, sendo que este último jogo deve ser disposto após a guia do mês em curso, é denominado:

- a) Método duplex.
- b) Método cronológico.
- c) Método alfa-numérico.
- d) Método variadex.

**17 - O Servidor Público que trata o munícipe, de cima para baixo, ou seja, como se ele não soubesse nada, com desprezo, comete um dos seguintes pecados do atendimento:**

- a) Apatia.
- b) Empatia.
- c) Desdém.
- d) Robotismo.

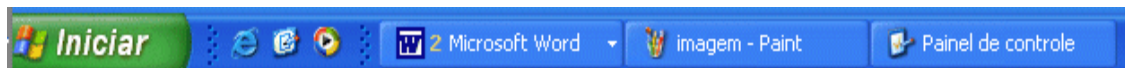
**18 - No Microsoft Word é possível fazer o controle automático de linhas órfãs e viúvas. As linhas órfãs podem ser definidas como:**

- a) A primeira linha de um parágrafo impressa sozinha na parte inferior de uma página.
- b) A última linha de um parágrafo impressa sozinha na parte inferior de uma página.
- c) A última linha de um parágrafo impressa sozinha na parte superior de uma página.
- d) A primeira linha de um parágrafo impressa sozinha na parte superior de uma página.

**19 - Com relação ao teclado de um computador, assinale a alternativa que corresponde a tecla que, estando pressionada, ativa os caracteres numéricos localizados à direita do teclado:**

- a) Caps Lock.
- b) Num Lock.
- c) Back Space.
- d) Alt Gr.

**20 - Observe a figura abaixo e assinale a alternativa que dá a sua denominação:**



- a) barra de ferramentas.
- b) barra de tarefas.
- c) barra de formatação.
- d) barra de desenho.