



Leia atentamente o texto a seguir para responder às questões de 01 a 04.

TEXTO:

Homens X Mulheres – como eles estão ficando

- 5 Durante a infância, as diferenças entre meninos e meninas são mínimas. Mas já dá para reconhecer aquelas características que durante tanto tempo foram responsabilizadas pelas diferenças intelectuais entre os gêneros. Meninas falam mais cedo — e usam mais palavras para se comunicar, já a partir do primeiro ano de idade. Também conversam com frases mais complexas ("Me dá boneca", em vez de só "Bola"), o que rendeu a elas a fama de matracas — injustamente. Meninos, por sua vez, mostram, desde cedo, uma facilidade com questões espaciais, aquelas que exigem rotações mentais de objetos. Essa habilidade, aliás, é a que deu fundamento à teoria de que homens são melhores em matemática do que mulheres. (Em 2005, até mesmo o reitor de Harvard insinuou isso — o que acabou provocando sua saída do cargo.) E foi usada para explicar por que homens e mulheres escolhem
- 10 carreiras diferentes para trabalhar: eles vão para a engenharia, elas vão para a psicologia, como se fossem geneticamente predestinados para isso. O problema aqui não está na dificuldade com números (que, aliás, as mulheres não têm: resolver problemas espaciais jamais foi correlacionado à facilidade para estudar matemática). Está nas consequências da escolha da profissão.

Homens X Mulheres – como eles estão ficando. In: **Superinteressante**. Disponível em: <<http://super.abril.com.br/cotidiano/homens-x-mulheres-eles-estao-ficando-632124.shtml>>. Acesso em: 18 dez. 2011. Adaptado.

Questão 01 (Peso 1)

O texto em destaque permite afirmar:

- A) A inexistência de diferenças significativas na educação dada às meninas e aos meninos nos primeiros anos de vida é um fato.
- B) Algumas características que diferenciam, cognitivamente, o homem da mulher são reconhecidas apenas depois da infância.
- C) As mulheres não conversam mais que os homens, elas apenas não apresentam a mesma habilidade com questões espaciais.
- D) A escolha profissional de homens e de mulheres está vinculada a conceitos culturais e de gênero que se vão formando ao longo dos tempos.
- E) A mulher não se sente capaz de escolher profissões que lhe exijam cálculos matemáticos, já que isso não é uma característica peculiar do gênero feminino.

Questão 02 (Peso 2)

Infere-se da leitura do texto que

- A) tanto homens quanto mulheres são trabalhados, culturalmente, como seres semelhantes, embora sejam diferentes.
- B) as distinções biológicas entre os dois gêneros levam à constatação de que homens são mais inteligentes que as mulheres.
- C) o discurso generalizado de que "mulheres são matracas" tem seu fundamento no fato de elas aprenderem a falar muito cedo.
- D) as diferenças culturais estabelecidas entre os dois gêneros são fundamentadas, erroneamente, a partir de suas distinções biológicas.
- E) os homens e as mulheres escolhem carreiras profissionais que desconstroem a tese de que "homens são mais inteligentes que mulheres".

Questão 03 (Peso 3)

A análise dos aspectos linguísticos que compõem o texto permite afirmar:

- A) A expressão “Durante a infância” (linha 1) apresenta a mesmo valor sintático e semântico de “que, durante tanto tempo, foram responsabilizadas pelas diferenças intelectuais entre os gêneros” (linha 2-3).
- B) A palavra “mínimas” (linha 1) completa o sentido da forma verbal “são” (linha 1), funcionando, portanto, como objeto direto.
- C) Os conectores “e” (linha 3) e “para” (linha 3), embora pertençam a mesma classe de palavras, estabelecem diferentes relações no período, ou seja, oposição e direção respectivamente.
- D) Os termos “aquelas” (linha 6) e “Essa habilidade” (linha 7) retomam o mesmo elemento textual: “questões espaciais” (linha 6).
- E) O vocábulo “aliás” (linha 7) introduz, na frase, uma ponderação, ao adicionar uma nova ideia relacionada com a facilidade dos homens quanto às questões espaciais.

Questão 04 (Peso 1)

O uso das aspas em “Me dá boneca” (linha 4) justifica-se por ser

- A) uma ironia em relação ao comportamento feminino.
- B) um indício de frase retirada de outro contexto escrito.
- C) a ênfase dada a uma ideologia com a qual o articulista não concorda.
- D) uma citação da fala feminina, tomada como exemplo da afirmação anterior.
- E) uma caracterização do discurso indireto de indivíduos que pensam diferente do articulista.

Questão 05 (Peso 1)



LAERTE. Piratas do Tietê. **Folha de S. Paulo**, domingo, 4 de dezembro de 2011. Disponível em: <<http://www1.folha.uol.com.br/fsp/quadrin/12748-piratas-do-tiete.shtml>>. Acesso em: 18 dez. 2011.

A leitura dessa tira permite inferir que a

- A) burocracia pode gerar atitudes irracionais e intolerantes.
- B) perda de tempo, no serviço público, com funções inúteis, é uma realidade.
- C) solução para a demanda do serviço público é o aumento do quadro de funcionários.
- D) manutenção das normas burocráticas, mesmo diante de uma situação constrangedora, é fundamental.
- E) quantidade de trabalho para o funcionário público, por ser demasiada, gera o descontentamento da população.



Leia atentamente o texto a seguir para responder às questões de 06 a 08.

TEXTO:

Democracia de teto e paredes

- Ninguém “mora na rua”; antes, quem está na rua não mora. Quem está fora dos básicos direitos constitucionais está excluído da sociedade. E muito mais além da Constituição, está excluído pelo próprio *status* com que é medido. O *status* de “morador de rua” é apenas um modo de incluir os excluídos na ordem do discurso acobertadora do fascismo prático de cada dia, oculto sob o véu da autista sensibilidade burguesa. Se o princípio de autoconservação a qualquer custo é a base da ação de indivíduos unidos na massa, está imediatamente perdida a dimensão do outro sem a qual não podemos dizer que haja ética ou política. Mesmo sob o *status* de morador de rua, o mendigo da nossa esquina é a prova do fracasso de todos os sistemas. Se as estatísticas não mudarem comprovando que a tendência da exceção pode ser a regra, talvez a democracia de teto e paredes não sirva mais a ninguém em breve.
- 5
- 10 Só que às avessas.

TIBURI, Márcia. Ninguém mora onde não mora ninguém. Pequena reflexão sobre as pessoas abandonadas nas ruas das grandes cidades. Revista Cult. Disponível em: <<http://revistacult.uol.com.br/home/2011/03/ninguem-mora-onde-nao-mora-ninguem/>>. Acesso em: 18 dez. 2011. Adaptado.

Questão 06 (Peso 1)

Segundo a articulista, “quem está na rua não mora” porque

- A) acaba por fazer parte de um grupo que está além da própria Constituição.
- B) se trata de uma condição que já virou uma regra social frequente, diante do contingente de “moradores de rua”.
- C) representa, embora esteja fora dos parâmetros constitucionais, a classe incluída no que se chama “morador de rua”.
- D) não se apropria dos direitos considerados essenciais para qualquer cidadão e apenas contempla um discurso socialmente mascarado.
- E) não passa de uma situação que explicita unicamente o fracasso social e moral do indivíduo diante da própria sociedade em que está inserido.

Questão 07 (Peso 3)

A análise linguística do texto em evidência permite afirmar:

- A) O vocábulo “antes” (linha 1) denota, no contexto em que está inserido, o sentido de algo contrário a um discurso comumente utilizado.
- B) A expressão “pelo próprio *status*” (linhas 2 e 3) completa o sentido da locução verbal “está excluído” (linha 2), classificando-se, portanto, como objeto indireto.
- C) A palavra “apenas” (linha 3) restringe o sentido da frase e sugere exclusão, assim como o termo “Só que” (linha 10).
- D) A forma verbal “está” (linha 6) apresenta o mesmo sujeito da forma verbal “haja” (linha 7).
- E) A pista linguística “mais” (linha 9) completa a forma verbal “sirva” (linha 9), expressando a ideia de quantidade.



Questão 08 (Peso 3)

*“Se o princípio de autoconservação a qualquer custo é a base da ação de indivíduos unidos na massa, está imediatamente perdida a dimensão do outro sem a qual não podemos dizer que haja ética ou política”.
(linhas de 5 a 7)*

A reestruturação do período em destaque, sem comprometimento semântico, está correta na alternativa

- A) Enquanto o princípio de autoconservação a qualquer custo está na base da ação da união de indivíduos em massa, está imediatamente perdida a dimensão do outro, de modo que não se pode dizer que se tem ética ou política.
- B) No caso de o princípio de autoconservação a qualquer custo ser a base da ação de indivíduos unidos na massa, a dimensão do outro, sem a qual não podemos dizer que exista ética ou política, está perdida imediatamente.
- C) Está perdida imediatamente a dimensão do outro, quando não podemos dizer que houve ética ou política, já que o princípio de autoconservação a qualquer custo é a base da ação de indivíduos unidos na massa.
- D) Como o princípio da autoconservação é, a todo custo, a base da ação de indivíduos unidos pela massa, está perdida imediatamente a dimensão do outro, pois não podemos dizer que existam ética ou política.
- E) Caso o princípio de autoconservação seja, a qualquer custo, a base da ação de indivíduos na massa, imediatamente a dimensão do outro está perdida, enquanto não pudermos dizer que houve ética ou política.

Questão 09 (Peso 2)

Poeminha difícil

Renato de Mattos Motta

Diffícil fazer poesia
só por puro sentimento
parece pão sem fermento
apenas forma vazia
cada verso, sem graça, insosso
condena o texto

ao poço



MOTTA. Renato de Mattos. Poeminha difícil. Disponível em: < <http://www.overmundo.com.br/banco/poeminha-dificil>>. Acesso em: 21 dez. 2011.

A imagem que se constrói no último verso, devidamente contextualizado, sugere que o poema

- A) retrata o estado emocional do próprio sujeito poético.
- B) ilustra um exemplo de texto elaborado somente por causa do puro sentimento.
- C) sintetiza um exemplo de poesia que, para a voz poética, representa o verso engajado e social.
- D) transmite que a poesia sem expressão sentimental está condenada à falta de beleza e de prazer.
- E) deve sempre ser feito a partir da preocupação formal em detrimento da valorização do sentimento lírico.



Questão 10 (Peso 2)

É possível alimentar sete bilhões de pessoas?

“É necessária uma segunda revolução verde, na qual os consumidores incorporem hábitos cotidianos diferentes dos atuais, mais conscientes dos impactos ambientais.”

BOFF, Leonardo. É possível alimentar sete bilhões de pessoas? Opinião. Site Congresso em foco. Disponível em: < <http://congressoemfoco.uol.com.br/opiniao/colunistas/e-possivel-alimentar-sete-bilhoes-de-pessoas/>>. Acesso em: 21 dez. 2011.

A leitura atenta do discurso do teólogo e filósofo Leonardo Boff está em consonância com os versos presentes na alternativa

- A) “Cadê a flor que estava aqui?/ Poluição comeu./ E o peixe que é do mar?/ Poluição comeu/ E o verde onde que está ?/ Poluição comeu/ Nem o Chico Mendes sobreviveu” (Xote Ecológico - Luiz Gonzaga).
- B) “Tanto amor perdido no mundo/ Verdadeira selva de enganos/ A visão cruel e deserta de um futuro de poucos anos/ Sangue verde derramado/ O solo manchado, feridas na Selva/ A lei do machado” (Amazônia - Roberto Carlos e Erasmo Carlos).
- C) “Águas escuras dos rios que levam a fertilidade ao sertão/ Águas que banham aldeias e matam a sede da população...” (Planeta Água - Guilherme Arantes).
- D) “Anda!/ Quero te dizer nenhum segredo/ Falo nesse chão, da nossa casa/ Vem que tá na hora de arrumar...” (Sal da Terra - Beto Guedes).
- E) “A vida e a natureza sempre à mercê da poluição/ Se invertem as estações do ano/ Faz calor no inverno e frio no verão/ Os peixes morrendo nos rios/ Estão se extinguindo espécies animais/ E tudo que se planta, colhe/ O tempo retribui o mal que a gente faz” (Planeta Azul - Xororó e Aldemir).

Questão 11 (Peso 1)

Para intensificar as ações de combate à dengue, a Secretaria de Saúde de um município consultou 15 de seus servidores sobre a possibilidade de estender-se a visitação às residências dos moradores aos finais de semana.

Dos servidores consultados, sabe-se que

- cinco podem trabalhar apenas aos domingos;
- três não podem trabalhar nos finais de semana;
- três deles, pelo menos, podem trabalhar tanto aos sábados quanto aos domingos.

Assim sendo, pode-se concluir que o número de servidores consultados que podem trabalhar apenas aos sábados é, no máximo, igual a

- A) 3.
- B) 4.
- C) 5.
- D) 6.
- E) 7.



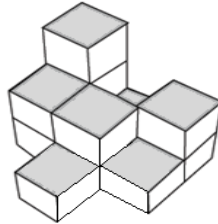
Questão 12 (Peso 1)

Em um torneio de futebol, a cada vitória, o time ganha 3 pontos, a cada empate, ganha 2 pontos e, a cada derrota, perde 1 ponto. Sabe-se que o time X jogou oito partidas, fez um total de 13 pontos e, desses jogos, venceu dois, empatou três e perdeu um. Com base nessas informações, é correto afirmar que, relativamente às outras partidas, X

- A) venceu ambas.
- B) empatou ambas.
- C) venceu uma e perdeu a outra.
- D) empatou uma e perdeu a outra.
- E) empatou uma e venceu a outra.

Questão 13 (Peso 2)

Em um almoxarifado, as caixas de mesmo tamanho são armazenadas, empilhadas umas sobre as outras.



Após a retirada de algumas caixas cúbicas, de arestas iguais a 40cm, de uma de uma dessas pilhas, ela ficou na forma indicada na figura.

Então, o volume total das caixas restantes, em m^3 , é igual a

- A) $3 \cdot 4^4 \cdot 10^{-3}$.
- B) $3 \cdot 4^3 \cdot 10^{-2}$.
- C) $4^4 \cdot 10^{-2}$.
- D) $3^2 \cdot 4^4 \cdot 10^{-3}$.
- E) $4 \cdot 3^4 \cdot 10^{-1}$.

Questão 14 (Peso 3)

Em uma viagem de carro entre duas cidades, um quarto do trajeto foi percorrido com um rendimento de 8 km por litro de combustível, e o restante do trajeto foi percorrido com um rendimento de 10 km por litro.

Nessas condições, pode-se afirmar que o rendimento de todo o trajeto foi, em km por litro, aproximadamente igual a

- A) 9,4.
- B) 9,5.
- C) 9,6.
- D) 9,7.
- E) 9,8.



Questão 15 (Peso 1)

Um capital de R\$12000,00 foi aplicado a uma taxa trimestral de juros simples de 3,5%.

O prazo dessa aplicação, para que seja obtido um montante de R\$14940,00, deverá ser de um ano e

- A) cinco meses.
- B) seis meses.
- C) sete meses.
- D) oito meses.
- E) nove meses.

Questão 16 (Peso 3)

Dois trabalhadores receberam juntos R\$1800,00 por x dias de trabalho. Um deles recebeu 2x reais por dia de trabalho, enquanto o outro, por ser mais especializado, recebeu R\$10,00 a mais que o primeiro por dia de trabalho.

Com base nessas informações, pode-se afirmar que

- A) o menos especializado recebeu um total de R\$ 700,00.
- B) o menos especializado recebeu um total de R\$ 850,00.
- C) o mais especializado recebeu um total de R\$ 1000,00.
- D) o mais especializado recebeu um total de R\$ 1050,00.
- E) a soma das diárias recebidas pelos dois trabalhadores é de R\$ 100,00.

Questão 17 (Peso 2)

Um técnico em informática resolveu fazer uma poupança mensal para atualizar alguns equipamentos que utiliza em seu trabalho. De acordo com seus cálculos, guardando R\$100,00 no primeiro mês e, nos meses subsequentes, o valor poupado no mês anterior acrescido de uma cota fixa x, ao final de um ano, teria o valor necessário.

Nessas condições, pode-se calcular o valor poupado nesse período, através da expressão indicada em

- A) $S(x) = 1100 + 11x$.
- B) $S(x) = 1100 + 12x$.
- C) $S(x) = 1200 + 11x$.
- D) $S(x) = 1200 + 66x$.
- E) $S(x) = 1200 + 72x$.

Questão 18 (Peso 3)

Uma área que é normalmente iluminada por seis lâmpadas — quatro de 20W e duas de 40W — pode ter o seu consumo de energia reduzido a 80W de n maneiras distintas.

Nessas condições, o valor de n é igual a

- A) 3.
- B) 6.
- C) 8.
- D) 12.
- E) 14.



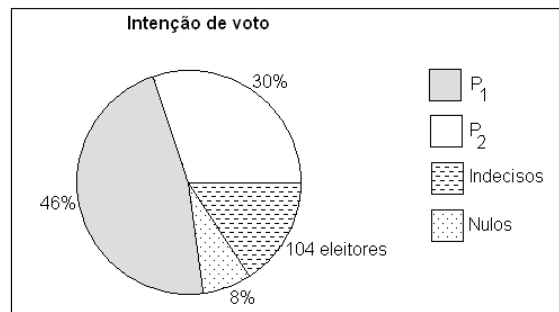
Questão 19 (Peso 2)

A avaliação dos candidatos inscritos em um concurso é feita em três etapas distintas, sendo a média final obtida através da média ponderada da pontuação obtida em cada uma delas.

Sabendo-se que os pesos da primeira, segunda e terceira etapas são, respectivamente, 3, 4 e 2, pode-se afirmar que a média final de um candidato que fez 65 pontos na primeira etapa, 51 pontos na segunda e 75 pontos na terceira foi igual a

- A) 58.
- B) 61.
- C) 64.
- D) 67.
- E) 70.

Questão 20 (Peso 3)



Os nomes de P₁ e P₂ têm sido citados como pré-candidatos ao cargo de prefeito de um município nas eleições de 2012 e, por essa razão, um instituto de pesquisas resolveu entrevistar um grupo de eleitores do município quanto à sua intenção de voto.

Analisando-se os resultados obtidos e representados no gráfico, pode-se afirmar que o número de eleitores entrevistados que votariam em P₁ ou em P₂ é igual a

- A) 195.
- B) 299.
- C) 403.
- D) 494.
- E) 598.

Questão 21 (Peso 1)

O servidor público municipal do município de Dom Macedo Costa terá direito, na forma da Lei Orgânica Municipal, à remuneração do serviço extraordinário em valor superior a

- A) 50% (cinquenta por cento) à do normal.
- B) 40% (quarenta por cento) à do normal.
- C) 30% (trinta por cento) à do normal.
- D) 20% (vinte por cento) à do normal.
- E) 10% (dez por cento) à do normal.



Questão 22 (Peso 2)

O salário do servidor público municipal do Município de Dom Macedo Costa, na forma da Lei Orgânica Municipal, será fixado por

- A) decreto, de acordo o cargo ou função correspondente ao seu nível, podendo o servidor ser promovido por merecimento ou antiguidade, através de decreto do Poder Executivo Municipal.
- B) decreto, de acordo o cargo ou função correspondente ao seu nível, podendo o servidor ser promovido por merecimento, através de decreto do Poder Executivo Municipal.
- C) decreto, de acordo o cargo ou função correspondente ao seu nível, podendo o servidor ser promovido por antiguidade, através de decreto do Poder Executivo Municipal.
- D) lei, de acordo o cargo ou função correspondente ao seu nível, podendo o servidor ser promovido por merecimento, através de decreto do Poder Executivo Municipal.
- E) lei, de acordo o cargo ou função correspondente ao seu nível, podendo o servidor ser promovido por antiguidade, através de decreto do Poder Executivo Municipal.

Questão 23 (Peso 3)

De acordo com a Lei Orgânica Municipal, identifique com **V** as afirmativas verdadeiras e com **F**, as falsas.

- () O servidor público municipal do Município de Dom Macedo Costa, em exercício de mandato eletivo, investido no cargo de prefeito, será afastado do exercício do cargo, podendo optar pela sua remuneração e, no exercício do cargo de vereador, havendo compatibilidade de horário, perceberá a remuneração de vereador e de sua função de origem.
- () É livre a associação profissional ou sindical do servidor público municipal, na forma da lei municipal.
- () O servidor público municipal estável só perderá o cargo em virtude de sentença judicial transitada em julgado.
- () O regime jurídico único do servidor municipal será estatutário ou celetista.
- () O direito de greve assegurado ao servidor público municipal não se aplica ao que exerce atividade essencial, assim definida em lei federal e estadual.

A alternativa que contém a sequência correta, de cima para baixo, é a

- A) V V V V V
- B) F F F V V
- C) F V V V F
- D) V V V F F
- E) V F F F V



Questão 24 (Peso 3)

Em relação a Legislação do SUS ,numere a segunda coluna de acordo com a primeira.

- | | |
|-------------|---|
| (1) 8080/90 | () Lei federal que dispõe sobre as condições para a promoção, proteção e recuperação da saúde, a organização e o funcionamento dos serviços correspondentes e dá outras providências |
| (2) 8142/90 | () Portaria que aprova a Política Nacional da Atenção Básica, estabelecendo a revisão de diretrizes e as normas para a organização da Atenção Básica para o Programa Saúde da Família (PSF) e o Programa Agentes Comunitários de Saúde (PACS). |
| (3) 399/06 | () Divulga o Pacto pela Saúde, consolidação do SUS, e aprova as diretrizes operacionais do referido Pacto. |
| (4) 648/06 | () Lei federal que dispõe sobre a participação da comunidade na gestão do SUS e sobre as transferências intergovernamentais de recursos financeiros na área da saúde e dá outras providências. |

A alternativa que apresenta a sequência correta, de cima para baixo, é a

- A) 1 2 4 3
- B) 1 4 3 2
- C) 2 4 1 3
- D) 3 1 4 2
- E) 4 3 2 1

Questão 25 (Peso 2)

O Art. 2º da Lei nº 8080/90 trata do seguinte assunto:

- A) O dever do Estado exclui o das pessoas, da família, das empresas e da sociedade.
- B) Os níveis de saúde da população expressam o investimento na área hospitalar do país.
- C) A saúde tem como fatores determinantes e condicionantes, exclusivamente, a alimentação, a moradia e o saneamento básico.
- D) A saúde é um direito fundamental do ser humano, devendo o Estado prover as condições indispensáveis ao seu pleno exercício
- E) O dever do Estado de garantir a saúde consiste na formulação e execução de políticas públicas que visem à ampliação da rede hospitalar.

Questão 26 (Peso 2)

O Pacto em Defesa do SUS prioriza

- A) estabelecer as diretrizes para gestão do SUS.
- B) elaborar e divulgar a carta de direitos dos usuários do SUS.
- C) implantar a política nacional de saúde da pessoa idosa, buscando atenção integral.
- D) definir, de forma inequívoca, as responsabilidades sanitárias de cada instância gestora do SUS.
- E) fortalecer a capacidade de resposta do Sistema de Saúde às doenças emergentes e endemias.



Questão 27 (Peso 1)

O Pacto pela Vida é o compromisso entre os gestores do SUS em torno de prioridades que apresentam impacto sobre a situação de saúde da população brasileira.

Essas prioridades são

- A) a promoção da saúde, a redução da mortalidade infantil e materna e a saúde do idoso.
- B) a promoção da saúde, a regulação e a redução da mortalidade infantil e materna.
- C) a saúde do idoso, o fortalecimento da atenção básica e a regulação.
- D) o controle do câncer de colo do útero e mama e o controle social.
- E) o controle social, a promoção da saúde e a saúde do idoso.

Questão 28 (Peso 3)

Em relação aos Sistemas de Informações, numere a segunda coluna de acordo com a primeira.

- | | |
|------------|--|
| (1) SIM | () Tem como objetivos coletar, transmitir e disseminar dados gerados na rotina do sistema de vigilância epidemiológica das três esferas de governo, fornecer informações para análise do perfil de morbidade. |
| (2) SINAN | () Utiliza como instrumento de coleta de dados a declaração de óbito (DO). |
| (3) SINASC | () É um sistema de saúde que disponibiliza indicadores sociais, permitindo aos gestores municipais a monitorização das condições sociodemográficas e ambientais das áreas cobertas. |
| (4) SIAB | () Propicia dados sobre gravidez, parto e condições da criança ao nascer. |

A alternativa que apresenta a sequência correta, de cima para baixo, é a

- A) 1 2 4 3
- B) 2 1 4 3
- C) 2 4 1 3
- D) 3 1 4 2
- E) 4 3 2 1

Questão 29 (Peso 1)

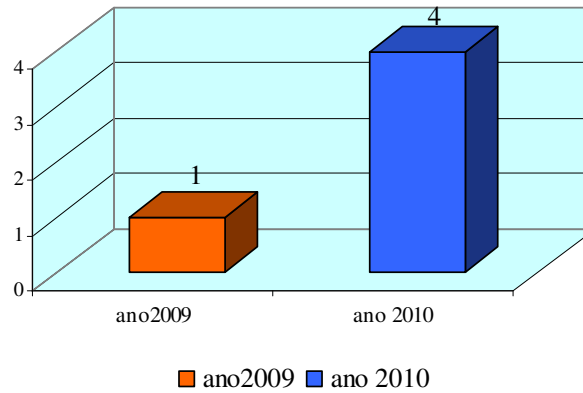
A alternativa que corresponde a um agravo de notificação imediata é a

- A) Sarampo.
- B) Botulismo.
- C) Hanseníase.
- D) Hepatites virais.
- E) Doença de Chagas.



Questão 30 (Peso 2)

CASOS DE DENGUE NOTIFICADOS E CONFIRMADOS NOS ANOS DE 2009 E 2010 NO MUNICÍPIO X



De acordo com o gráfico pode-se afirmar:

- A) O gráfico demonstra que houve redução da incidência de dengue, em 2010, no município X.
- B) Dois tipos de vírus circulantes no município X foram detectados no ano de 2010.
- C) O número de casos confirmados de dengue do município X foi, no ano de 2009, maior que o ano de 2010.
- D) O principal criadouro do mosquito no município X, de acordo com o gráfico, são os tonéis.
- E) O aumento do número de casos confirmados de dengue, em 2010, pode ser observado quando comparado ao ano anterior.