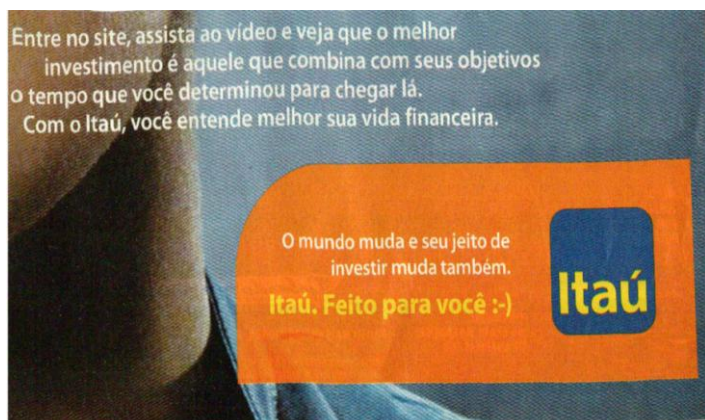


**LÍNGUA PORTUGUESA 10 QUESTÕES****01. Leia atentamente o anúncio publicitário e marque a alternativa INCORRETA.**

- A) O sujeito das formas verbais assista, entre e veja é o mesmo – sujeito oculto (você).
- B) A palavra “que” é o conectivo que liga orações; classifica-se como pronome relativo em todas as ocorrências.
- C) A oração “...veja que o melhor investimento é aquele...” é objeto direto oracional.
- D) “... que combina com seus objetivos...” é oração com valor de adjetivo.
- E) O período da parte superior do anúncio é composto por 8 orações.

**02.****Assinale a alternativa ERRADA.**

- A) As palavras “único” e “médio” são acentuadas pela mesma regra.
- B) Caminhão é uma palavra formada por 8 letras e 7 fonemas.

- C) No segundo período, a palavra “caminhão” no plural implicaria em flexão do verbo “ter”, ou seja, “têm”.
- D) O segundo período é composto por duas orações.
- E) A palavra “que” equivale a preposição e não a conjunção.

**03. Leia o texto atentamente.**

Isso sim é protesto...

O grupo feminista seminuas fundado em Kiev exporta suas táticas ousadas. Elas começaram protestando contra o turismo sexual na Ucrânia, em 2008, e depois diversificaram suas causas. Já se revoltaram contra a proibição às mulheres sauditas de dirigir, contra os presentes caros recebidos por jornalistas e contra os processos judiciais com motivação política em seu país. Fantasiadas de acordo com a causa do dia, gritando slogans e munidas de cartazes, as jovens, quase todas loiras e na flor dos seus 20 e poucos anos, começam a manifestação com pouca roupa e terminam arrastadas pela polícia com quase nenhuma. Das mais de 300 integrantes do grupo, o Femen, quarenta formam o chamado “núcleo do topless”. Elas explicam que, compreensivelmente, ninguém prestava muita atenção nelas antes de começarem a tirar a blusa e o sutiã. “Os homens gostam de seios, mas não gostam de mulher com opinião” é um de seus motes. Deve ser por isso que, depois de dirigirem muitos de seus protestos contra o presidente Viktor Yanukovich, as líderes do grupo, cuja sede fica, apropriadamente, no Café Cupido, em Kiev, receberam a visita de agentes do serviço secreto que ameaçaram “quebrar suas pernas e braços”. Confiante em que o mundo tem muito a aprender no quesito protesto pacífico - estão aí os invasores da reitoria da USP para provar -, o Femen começou a exportar suas táticas. Recentemente, três ucranianas foram a Paris lavar a calçada da casa de Dominique Strauss-Kahn, indignadas porque o ex-diretor do FMI se livrou de duas acusações de estupro neste ano. Muito marmanjo se pergunta quando haverá um movimento “Ocupe Kiev”.

Diogo Schelp - Fonte: Veja - Edição 2242.

**Sobre o texto, responda:**

- A) O primeiro período deixa entrever um pretexto para exposição da nudez.
- B) O grupo foi fundado com a intenção de incentivar protestos pacíficos.
- C) O fato de serem loiras e na flor dos seus 20 e poucos anos contribui para o descrédito do movimento.
- D) "Os homens gostam de seios, mas não gostam de mulher com opinião". A palavra "mas" representa semanticamente uma quebra de expectativa.
- E) A ameaça sofrida reforça o fato de que a alienação é de fato um interesse político.

**04. LEIA.**

"SE O FILME NÃO DER CERTO, ELES TE MATAM PRIMEIRO E DEPOIS SE MATAM"

Ridley Scott, diretor de cinema, falando dos riscos dos projetos muito caros.

"SE SURGISSE UM CONVITE (PARA TRABALHAR NA GLOBO), EU ACEITARIA. O MEU AVÔ É MEU AVÔ E NÃO MEU PATRÃO."

Do neto de Silvio Santos *Tiago Abravanel*, que faz Tim Maia no espetáculo *vale Tudo*, o Musical, em cartaz no Rio, falando ao portal IG.

- A) Na fala de Ridley Scott, a palavra "se" possui o mesmo valor semântico, ou seja, sentido.
- B) O emprego da vírgula, no primeiro trecho, ocorre em função do período composto está na ordem inversa.
- C) O trecho "... e não meu patrão" não é classificado como oração, pois não há presença de verbo.
- D) A palavra "meu" em "o meu avô é meu avô..." acompanham núcleos que possuem a mesma função sintática.
- E) O emprego da vírgula, no segundo trecho, é meramente enfático, podendo ser retirada sem causar prejuízo às normas impostas pela gramática normativa.

**05.**

*Desde que, há três anos, alucinou em público, perdeu a guarda dos filhos, raspou os cabelos e teve que ser interditada pelo pai, Britney Spears, 29 anos, tenta reassumir o posto de perigete suprema do Showbusiness.*

*Em um show em Londres, depois de pedir em seu camarim um pôster de Lady Diana e vastas porções de fish and chips (o peixe frito com batata frita que os ingleses adoram), a cantora subiu ao palco e deu tudo de si. Nem a gargantilha um tantinho apertada atrapalhou a performance, em todos os sentidos, da pesada. No dia 15, a turnê chega ao Rio de Janeiro. Produção, suspende a feijoada!*

- A) A locução conjuntiva "desde que" expressa valor de tempo.
- B) O título da notícia apresenta uma leve ironia em função de Britney está acima do peso.
- C) O verbo "haver" em "há três anos" é impessoal por indicar tempo decorrido.
- D) A única intenção do autor é enfatizar as dificuldades pessoais vividas por Britney.
- E) No último período, "Produção, suspende a feijoada!" o sintagma produção não tem função de agente da ação, ou seja, não é sujeito de *suspender*.

- 06.** "Custa-me dizer que eu era dos mais adiantados da escola; mas era. Não digo também que era dos mais inteligentes, por um escrúpulo fácil de entender e de excelente efeito no estilo, mas não tenho outra convicção."

Conto da escola, Machado de Assis.

Sobre o trecho é **INCORRETO** dizer:

- A) Há uma incompatibilidade semântica, pois o enunciador diz que não vai dizer que era o mais inteligente da escola.
- B) Para corroborar com a informação do trecho, usa a oração "não tenho outra convicção".
- C) Trata-se de uma preterição (missão, falta) uma vez que a sua intenção é intensificar o sentido.
- D) A partir de um recurso linguístico, estabelece-se uma oposição entre o que se diz e o que se diz que se diz.
- E) Neste trecho, pretende-se não querer dizer aquilo que, no entanto, não é afirmado claramente.

07.

**LIBERDADE, LIBERDADE**

"A Rússia é a Rússia. Não é parte da Europa, não é parte de nada", diz *Alyona Frizen*, de 22 anos, estudante de linguística da Universidade Estatal de Moscou. O orgulho pela terra natal apenas fez crescer sua angústia com o que considera ser uma fase de "estagnação", palavra em voga entre os moscovitas. A liberdade é aquilo de que *Alyona* mais gosta em seu país. E do que ela menos gosta é a falta de liberdade. A estudante explica: "*Temos liberdade para viver*, para fazer aquilo de que gostamos. Já na esfera política não temos liberdade. Vivemos numa democracia artificial". Ela se refere ao fato de não haver, por uma manobra do governo, opções reais de candidatos e presidentes. Obra de Putin, assim como a inauguração da reconstruída Catedral de Cristo salvador, ao fundo na foto, cuja estrutura original fora destruída em 1931 por Stalin. Talvez por isso *Alyona* e suas amigas não morram de amores por esse cartão-posta da cidade.

- A) No trecho "A liberdade é aquilo de que Alyona mais gosta em seu país", a palavra "de" pode ser retirada do trecho sem causar prejuízos linguísticos e gramaticais.
- B) Na primeira linha, onde se lê "A Rússia é a Rússia" pode ser observado a reiteração de sons consonantais chamada assonância.
- C) Ao citar o termo "estagnação" afirma que entre os moscovitas essa palavra já caiu em desuso, ou seja, fora de moda, que traduz algo de forma vaga.
- D) A inauguração da reconstrução da Catedral de Cristo Salvador, segundo o trecho, pode ter sido causada por uma estratégia política de Putin que envolve interesses estratégicos da Rússia.
- E) O relato de Alyona Frizen deixa claro a obediência e afeição a governantes autoritários e paternalistas.

08. Leia o trecho abaixo e aponte as proposições verdadeiras.

A garantia sumiu

**J. R. Guzzo**

"Eles, os ministros demitidos nestes dez últimos meses, vão embora, provavelmente rumo a um merecido esquecimento. O que fica nos lugares que desocuparam? Ou melhor: o que muda? Agora já são seis; mais um pouco e já se poderia formar uma Associação dos Ex-Ministros do Governo Dilma Rousseff. Parece, em todo caso, que a quantidade de gente posta na rua até agora é suficiente para pensar em alterações no bioma onde vivem as nossas mais notáveis autoridades. O mais provável é que só com a passagem do tempo, muita pesquisa e trabalho sério será possível descobrir, no futuro, se toda essa mudança na fauna, vegetação e clima do mundo oficial deixou as coisas mais ou menos na mesma, ou se o país ganhou. Por exemplo: a demissão do ministro dos Transportes vai resultar em mais estradas? A demissão do ministro da Agricultura vai melhorar a agricultura? Haverá mais turistas? O cidadão comum praticará mais esporte? É muito positivo, sem dúvida, que a presidente Dilma Rousseff tenha mostrado que denúncias de corrupção podem causar perda de emprego para os envolvidos. Mas os governos existem, no fim das contas, para tornar a vida das pessoas mais cômoda. Se não fizerem isso, para que poderiam servir?

Desde já, provavelmente, dá para dizer uma coisa: pior do que estava não fica. Parece pouco, mas não é; a experiência brasileira mostra que sempre pode ficar pior. No caso, a impressão é que não ficou. Os substitutos, pelo menos até agora, não chamaram a atenção de ninguém por saírem da linha ou por provocarem uma nova bateria de acusações.

[...]"

- A) ( ) O sujeito da forma verbal "parece" em "Parece, em todo caso, que a quantidade de gente posta na rua até agora é suficiente..." está presente no trecho e é oracional.
- B) ( ) No trecho "... onde vivem as nossas mais notáveis autoridades." O sujeito da forma verbal que compõe o período é oculto podendo ser identificado pela desinência do verbo em questão.

- C) ( ) "... se toda essa mudança na fauna, vegetação e clima do mundo oficial ..." a palavra "se" no início do período poderia, facilmente, ser substituída por conjunção com valor semântico de dúvida.
- D) ( ) as frases interrogativas presentes neste trecho remetem à ideia de que o palácio do Planalto está preocupado com a opinião pública.
- E) ( ) o trecho traduz de forma clara a soberania dos ministros e outros mandarins da esfera superior do governo.
- A) V,F,V,F,F.  
 B) V,V,F,V,V.  
 C) F,F,V,F,F.  
 D) F,V,F,V,F.  
 E) V,F,F,V,F.

**09. Leia o trecho a seguir.**

A nova Rússia

"[...]

*A extinção da URSS selou a vitória ideológica, moral e material do capitalismo sobre o comunismo, além de libertar os russos de um dos regimes mais opressores da história. A Rússia não está preparando nenhuma grande celebração para a data, como o fez a Alemanha por ocasião dos vinte anos da queda do Muro de Berlim, em 1989, considerada a primeira etapa do fim da Guerra Fria. Jovens de classe média como Alyona demonstram escasso, se é que algum entusiasmo com a efeméride, apesar de entenderem que se ainda vivessem sobre a ditadura soviética não teriam liberdade para viajar, para consumir, para abrir um negócio, para ler qualquer livro ou mesmo para se divertir como preferem – ou seja, para fazerem tudo o que mais amam.*

"[...]"

**É correto afirmar que:**

- A) O trecho em destaque pode ser parafraseado por "Demonstram pouco entusiasmo por condição atual de seu país".
- B) Representa uma retórica rebuscada.
- C) Usa um jargão adequado.
- D) Prefere uma comunicação atraente.
- E) Utiliza uma fala despojada.

**10. Leia o trecho abaixo e responda.**

"[...] É natural que, por não estarem confinados a atender um público-alvo específico, como acontece na escola, os professores do Tira-Dúvidas potencializam a experiência pedagógica para muito além de questões idiomáticas meramente técnicas. **Agrega-se, ali, a experiência humana. (...)**"

Língua Portuguesa, nov.2011.

Quanto ao emprego dos pronomes, no trecho destacado, a reescrita inadequada é referida no item:

- A) A experiência humana se agrega ali.  
 B) Ali, agrega-se a experiência humana.  
 C) Ali, se agrega a experiência humana.  
 D) Ali, a experiência humana se agrega.  
 E) Ali, a experiência humana agrega-se.

**ATUALIDADES 05 QUESTÕES**

**11. A sigla BRIC (Brasil, Rússia, Índia e China) reúne o grupo de países com elevado potencial econômico. O bloco fez a sua primeira reunião oficial em junho de 2009. A partir dessa reunião, é correto afirmar que esses países têm, como posição comum:**

- A) Desafiar a liderança política dos Estados Unidos do G20, grupo que reúne as maiores economias do mundo.
- B) Enfrentar a União Europeia na Organização Mundial do Comércio (OMC), defendendo o aumento dos subsídios agrícolas.
- C) Criar uma nova ordem global, em que o papel desses quatro países nas questões econômicas e políticas seja ampliado.
- D) Pleitear a reforma da Organização das Nações Unidas (ONU), especialmente o Conselho de Segurança, incluindo o Japão e a Alemanha.
- E) Adotar as mesmas posições na Conferência de Copenhague (COP-15), pois são países que emitem baixas taxas de CO<sub>2</sub> na atmosfera.

**12. A Petrobras começou em maio de 2009 a extração do Petróleo do Poço de Tupi na Bacia de Santos, abrindo uma nova era da produção do ouro negro no país. Leia as informações a seguir sobre o Pré-Sal.**

- I. O petróleo encontrado nessa área está a profundidades que superam os sete mil metros, abaixo de uma extensa camada de sal que, segundo geólogos, conserva a qualidade do petróleo.
- II. Tupi tem uma reserva estimada pela Petrobras entre cinco bilhões e oito bilhões de barris de petróleo, sendo considerada uma das maiores descobertas do mundo dos últimos sete anos.
- III. A região em volta do Pré-Sal não será leiloada até que sejam definidas as novas regras de exploração de petróleo no país (Lei do Petróleo), que voltaram a ser discutidas.
- IV. A União e alguns Estados da Federação, especialmente o Rio de Janeiro, São Paulo e Espírito Santo, discutem e disputam a distribuição dos royalties do petróleo da camada Pré-Sal.

**Estão corretas as informações:**

- A) I, II, III e IV.
- B) I e IV, apenas.
- C) II e IV, apenas.
- D) II e III, apenas.
- E) I e III, apenas.

**13. Em relação às atuais políticas públicas de acesso ao ensino superior no Brasil, é correto afirmar que:**

- A) O ProUni (Programa Universidade para Todos) oferece bolsas para permanência de estudantes nas universidades públicas e o Enem (Exame Nacional do Ensino Médio) seleciona estudantes para universidades públicas federais.
- B) O ProUni (Programa Universidade para Todos) e o Enade (Exame Nacional de Desempenho de Estudantes) selecionam estudantes para as universidades públicas federais.
- C) O Sisu (Sistema de Seleção Unificada) e o Enade (Exame Nacional de Desempenho de Estudantes) são processos de seleção para o ingresso de estudantes em universidades públicas e privadas.

- D) A nota do Enem (Exame Nacional do Ensino Médio) é utilizada na seleção de estudantes para vagas de universidades pelo Sisu (Sistema de Seleção Unificada) ou ProUni (Programa Universidade para Todos).
- E) O Enem (Exame Nacional do Ensino Médio) e o ProUni (Programa Universidade para Todos) selecionam estudantes para o ingresso em universidades públicas estaduais.

**14. As medidas que estão sendo tomadas, em várias partes do mundo, para enfrentar o desafio da preservação ambiental não incluem:**

- A) O incentivo à utilização de carros elétricos, como ocorre em Londres.
- B) O estímulo ao uso de bicicletas em áreas urbanas, como acontece em Paris.
- C) A ampliação das áreas destinadas à circulação de pedestres em detrimento dos carros.
- D) A produção de energia com maior aproveitamento da energia solar e eólica.
- E) A multiplicação das usinas termelétricas movidas a carvão ou a óleo combustível.

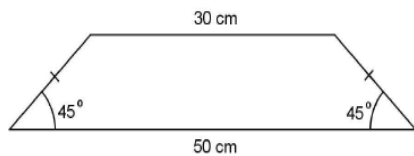
**15. Cumprindo um caráter social, a produção do biodiesel pretende, também, gerar trabalho e agregar valores à produção de pequenos agricultores de determinadas matérias-primas. Quanto ao biodiesel, assinale a alternativa INCORRETA.**

- A) A produção do biodiesel tem a finalidade única de utilização no mercado automotivo.
- B) O biodiesel é um combustível biodegradável derivado de fontes renováveis.
- C) O uso do biodiesel deverá colaborar para diminuir a agressão à camada de ozônio.
- D) A mamona é a melhor opção para o semiárido nordestino produzir o biodiesel.
- E) Canola, soja, pinhão manso, entre outros, são apropriados para produção do biodiesel.

**RACIOCÍNIO LÓGICO 05 QUESTÕES**

16. Área de trapézios – Unindo quatro trapézios idênticos, que têm lados não paralelos iguais e bases medindo 50 e 30 cm, como o da figura dada, podemos formar um quadrado de 2 500 cm<sup>2</sup> de área, que tem um “buraco” quadrado no meio. Qual é a área, em cm<sup>2</sup>, de cada um dos quatro trapézios?

- A) 200.
- B) 250.
- C) 300.
- D) 350.
- E) 400.

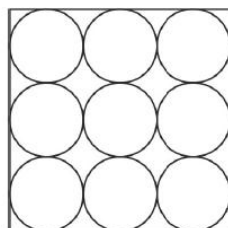


17. Uma distração – Em vez de multiplicar certo número por 6, Júlia se distraiu e dividiu o número por 6. O erro cometido por Júlia foi de aproximadamente:

- A) 100%.
- B) 97%.
- C) 83%.
- D) 17%.
- E) 3%.

18. Discos de papelão – Para fabricar nove discos de papelão circulares para o Carnaval usam-se folhas quadradas de 10 cm de lado, como indicado na figura. Qual é a área (em cm<sup>2</sup>) do papel não aproveitado?

- A) 25.
- B) 22,5.
- C) 21,5.
- D) 21.
- E) 2.

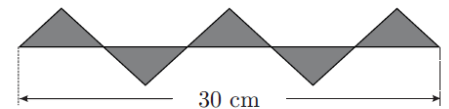


19. Brincos e brincos – Numa certa povoação africana vivem 800 mulheres, 3% das quais usam apenas um brinco. Das demais, a metade usa dois brincos e a outra metade, nenhum. Qual é o número total de brincos usados por todas as mulheres dessa povoação?

- A) 776.
- B) 788.
- C) 800.
- D) 812.
- E) 824.

20. Faixa decorativa – A figura dada é composta de triângulos retângulos isósceles, todos congruentes. Qual é a área, em cm<sup>2</sup>, da parte sombreada?

- A) 20
- B) 25
- C) 35
- D) 45
- E) 50



**CONHECIMENTOS ESPECÍFICOS**

**20 QUESTÕES**

21. Leia.

Por trás do que lembro,  
ouvi de uma terra desertada,  
vaziada, não vazia,  
mais que seca calcinada.  
De onde tudo fugia,  
onde só pedra é que ficava,  
pedras e poucos homens  
com raízes de pedra, ou de cabra.  
Lá o céu perdia as nuvens,  
derradeiras de suas aves;  
as árvores, a sombra,  
que nelas já não pousava.  
Tudo o que não fugia,  
gaviões, urubus, plantas bravas,  
a terra devastada  
ainda mais fundo devastava.

**João Cabral de Melo Neto**

**O texto faz referência a qual fenômeno que ocorre na região do Nordeste denominada de Sertão Nordestino?**

- A) Friagem.
- B) Assoreamento.
- C) Seca.
- D) Explosão Demográfica.
- E) Desertificação.

**22. "O Brasil em termos socioeconômico apresenta-se como país de contraste ou dualista, possuindo predominantemente características de nação subdesenvolvida, porém com marcantes características (industrialização e urbanização) de desenvolvimento". O Brasil é um país:**

- **Capitalista (economia de mercado);**
- **Periférico (situado as margens ou na periferia do capitalismo);**
- **Subdesenvolvido (violentas desigualdades sociais e indicadores econômicos desfavoráveis).**

**A localização geográfica do Brasil e suas características políticas, econômicas e sociais enquadram-no em determinados blocos de nações. Quando havia o chamado conflito leste-oeste, o Brasil assumia sua posição de país:**

- A) Oriental e Capitalista.
- B) Ocidental e Capitalista.
- C) Ocidental e Socialista.
- D) Oriental e Socialista.
- E) Desenvolvido e Socialista.

**23. Análise as afirmativas e assinale aquelas que estiverem corretas, quanto à demografia do Brasil:**

- 04.** A ocupação humana é maior no litoral brasileiro ou numa zona até 500 quilômetros. Isto se explica porque no início da colonização brasileira estas foram as primeiras áreas a ser ocupadas.
- 06.** No Brasil, assim como a natalidade a mortalidade caiu, especialmente a partir do processo de industrialização, que trouxe melhorias na assistência médica e sanitária à população, além da urbanização acentuada.

**08.** Poucos países conheceram um crescimento populacional tão grande e rápido como o que ocorreu no Brasil nos últimos 120 anos. De 1872 (primeiro censo) a 1991 (décimo censo), a população brasileira passou de quase dez milhões para pouco menos de 150 milhões de pessoas, um aumento de quinze vezes em menos de 120 anos.

**12.** A população brasileira apresenta distribuição geográfica bastante irregular (mal distribuída ou desigual), mostrando um enorme contraste entre a fachada litorânea, onde se concentra o grosso da população, e o interior do país muito vasto (grande extensão) mas fracamente povoado.

**Após ter assinalado as corretas faça a soma das proposições verdadeiras, que é:**

**O somatório correto é:**

- A) 20.
- B) 22.
- C) 24.
- D) 26.
- E) 30.

**24. Analise as afirmativas abaixo:**

- I. O crescimento vegetativo corresponde à única forma possível de crescimento ou redução da população mundial.
- II. O grande responsável pelo declínio do crescimento demográfico nos países desenvolvidos foi à melhoria dos padrões de vida da população.
- III. A população mundial vem apresentando um ritmo de crescimento bastante acelerado, esse fato causa grandes preocupações, já que as consequências socioeconômicas, políticas e ambientais poderão se tornar extremamente graves.
- IV. As razões para uma diminuição do crescimento demográfico relacionam-se com: urbanização, industrialização e incentivos à redução da natalidade (como a disseminação de anticoncepcionais).

**A leitura dos textos nos permite afirmar que:**

- A) Apenas as afirmativas I e II são verdadeiras.
- B) Apenas as afirmativas II e IV são verdadeiras.

- C) Apenas as afirmativas III e IV são verdadeiras.
- D) Todas as afirmativas são falsas.
- E) Todas as afirmativas são verdadeiras.

**25. No período de chuva, o Brasil enfrenta sérios problemas socioambientais, principalmente em suas áreas urbanas, as quais apresentam uma grande perda de estruturas edificadas e, eventualmente, de vidas humanas, decorrentes de inundações e desmoronamentos de encostas. Com base nessas informações, é correto afirmar que esses problemas estão relacionados:**

- A) À ocupação irregular de áreas de risco, tais como encostas íngremes e margens de cursos d' água.
- B) Ao asfaltamento e drenagem das ruas, que expõe o solo à erosão, provocando o deslizamento de encostas.
- C) À previsão meteorológica deficiente, que não consegue atualmente prever a grande quantidade de chuva.
- D) À especulação imobiliária, que expulsa a população carente das áreas de risco e incentiva a organização dos espaços urbanos.
- E) A preocupação por parte dos governantes, que tentam a todo custo melhorar o padrão de vida dos habitantes.

**26. Analise as dez características a seguir e depois assinale a alternativa correta:**

1. Elevado crescimento populacional.
2. Elevada proporção de jovens.
3. Elevada proporção de ativos.
4. Elevada proporção de ativos no setor primário.
5. Elevada proporção de subempregados.
6. Elevada proporção de população feminina.
7. Elevados gastos assistenciais com inativos.
8. Elevados investimentos em educação.
9. Elevada produtividade econômica.
10. Elevada dependência econômica.

**A alternativa correta:**

- A) De 1 a 5 referem-se aos países subdesenvolvidos e de 6 a 10 aos subdesenvolvidos.
- B) São na maior parte referentes a países desenvolvidos.

- C) São na maioria referentes aos países subdesenvolvidos.
- D) Referem-se aos países subdesenvolvidos.
- E) Referem-se aos países desenvolvidos

**27. Considere os itens a seguir para responder a questão.**

- I. Consiste no derramamento do magma na superfície do planeta, o que pode ocorrer através de fendas ou orifícios na crosta. Na superfície, o magma esfria e torna-se sólido, formando uma nova camada rochosa.
- II. Ocorre em função do contato das rochas com as águas e a umidade, ocasionando reações de destruição da rocha original. Sua ação é mais intensa nas regiões tropicais úmidas e equatoriais.
- III. Trata-se da retirada de material rochoso das áreas mais altas do relevo terrestre pela água, que é transportado como materiais em suspensão para as áreas mais baixas e nelas se depositam, formando camadas de sedimentos.

**Sobre os agentes modificadores do relevo terrestre, descritos em I, II e III, pode-se afirmar que:**

- A) Todos são agentes externos, ou seja, atuam modificando somente a parte superficial do relevo terrestre.
- B) I é um agente interno, formador do relevo, enquanto II e III são agentes externos esculpadores do relevo.
- C) I e II são agentes internos, por se tratarem de processos de transformações químicas das rochas, enquanto III é um agente erosivo externo.
- D) Apenas o agente III é atual, enquanto I e II atuaram no passado, criando as grandes formas do relevo.
- E) São todos agentes erosivos, ou seja, suas ações sobre a superfície destroem o relevo original.

**28. A rede hidrográfica brasileira apresenta, dentre outras, as seguintes características:**

- A) Grande potencial hidráulico, predomínio de rios perenes e predomínio de foz do tipo delta.
- B) Drenagem exorréica, predomínio de rios de planalto e regime de alimentação pluvial.
- C) Predomínio de rios temporários, drenagem endorréica e grande potencial hidráulico.



- D) Regime de alimentação pluvial, baixo potencial hidráulico e predomínio de rios de planície.
- E) Drenagem endorréica, predomínio de rios perenes e regime de alimentação pluvial.

**29. A agropecuária no Brasil apresenta duas faces diferentes. Uma – denominada agronegócios (agribusiness) – é a da modernidade e da elevada produtividade, que a coloca entre as mais competitivas do mundo, apesar das barreiras encontradas pelos produtos agrícolas brasileiros nos principais mercados internacionais. Outra se caracteriza pela miséria dos trabalhadores rurais, que perdem seus empregos e suas terras e tornam-se incapazes de prover a própria subsistência.**

LUCCI, Elian A.; BRANCO, Anselmo L.; MENDONÇA, Cláudio. Geografia geral e do Brasil. São Paulo: Saraiva 2003, p. 133.

**De acordo com o texto acima e seus conhecimentos sobre a atividade agrícola brasileira, julgue as proposições abaixo marcando V (verdadeiro) ou F (falso).**

- ( ) Parte da exploração agrícola está entre as mais modernas do mundo, competindo em produtividade e preço com a produção dos países centrais, além de constituir um dos maiores setores de exportação do país.
- ( ) A constituição de cadeias produtivas que integram vários setores da economia, como fornecedores de insumo, produção, processamento, transformação e distribuição de produtos agrícolas, são denominados agronegócios.
- ( ) O avanço dos cultivos comerciais, principalmente da soja, do algodão e da pecuária bovina em áreas de agricultura tradicional, tem como consequência a expropriação do pequeno agricultor e a degradação ambiental, entre outros fatores.
- ( ) No espaço rural brasileiro são percebidas duas realidades que se contrapõem. De um lado, o meio físico/comercial e, de outro, o tradicional.

**Marque a alternativa CORRETA:**

- A) F, F, F, V.  
 B) V, F, F, F.  
 C) V, F, V, F.  
 D) V, V, V, V.  
 E) F, V, F, V.

**30. Orientar-se no espaço terrestre, do ponto de vista geográfico, sempre foi uma das preocupações básicas do ser humano. No princípio da humanidade, a busca pelo alimento e abrigo; com o passar do tempo, a necessidade de traçar rotas comerciais, rotas de navegação, localização de recursos no subsolo, ocupação e povoamento de novas terras, etc.**

**Considere, então, as afirmativas a seguir.**

- I. O espaço entre o Sudeste e o Noroeste tem 2 pontos cardeais, um colateral e 4 subcolaterais partindo de qualquer direção.
- II. Os pontos subcolaterais têm suas iniciais começando por um ponto cardinal.
- III. A representação gráfica da orientação é feita através da rosa-dos-ventos.
- IV. A distância Sudoeste-Sudeste é de 180°.

- A) Somente a afirmativa I está correta.  
 B) Somente as afirmativas II e III estão corretas.  
 C) Somente as afirmativas III e IV estão corretas.  
 D) Somente as afirmativas I, II e III estão corretas.  
 E) Todas as afirmativas estão corretas.

**31. Faça a correlação entre as colunas a seguir:**

- ( A ) "Planeta Água" ou "Inferno Verde."  
 ( B ) Sertão Nordestino.  
 ( C ) Campos Limpos.  
 ( D ) Planície inundável.  
 ( E ) Mais antigo bioma brasileiro.  
 ( F ) Floresta pluvial costeira.  
 ( G ) Característico das regiões flúvio-marinha.

- ( ) Mangues  
 ( ) Mata Atlântica  
 ( ) Cerrado  
 ( ) Pantanal  
 ( ) Pampas  
 ( ) Caatinga  
 ( ) Floresta Amazônica

**A opção correta é:**

- A) G, F, E, D, C, B, A.
- B) D, B, A, C, E, F, G.
- C) C, A, D, E, B, G, F.
- D) G, A, C, D, E, F, B.
- E) F, E, A, C, D, B, G.

32.

**Invadindo Espaços**

As cidades que antes serviam para abrigar os cidadãos, hoje são o ambiente típico dos automóveis.

Nos países em desenvolvimento, a ação do poder público em favor do automóvel foi e tem sido tão eficaz que fica cada vez mais difícil para os moradores das cidades viver com um mínimo de conforto sem um automóvel particular. Só os que, em razão do seu padrão de renda, não podem almejar ter um carro sujeitam-se ao ineficiente sistema de transporte público. Neles perdem várias horas do dia, muitos dias por ano, alguns anos de vida.

Se as condições fossem outras, se o transporte público fosse mais eficiente, menor seria a parcela de renda que boa parte da população precisa reservar para compra e manutenção de um carro particular, menores seriam as demandas por investimentos públicos no sistema viário, maiores seriam as disponibilidades da renda pessoal para outras atividades, incluindo lazer, e maiores seriam os recursos que o poder público poderia destinar para melhorar a qualidade de vida de uma população.

OKUBARO, Jorge J. O automóvel, um condenado? São Paulo: SENAC, 2001. p. 52-53. (Adaptado).

**De acordo com a análise do texto acima, é CORRETO afirmar:**

- A) O elevado custo, os problemas de congestionamento das grandes cidades (ônibus, automóveis, caminhões) são os maiores responsáveis pela poluição atmosférica nos centros urbanos, ocasionando a redução na qualidade de vida da população.
- B) A baixa tarifa do transporte urbano é um incentivo ao trabalhador, independentemente do tempo gasto para o deslocamento entre a casa e o trabalho, o que resulta em ganho no orçamento no final do mês.

- C) A qualidade do transporte coletivo urbano, fruto de estratégias de planejamento, acaba por estimular a utilização do transporte coletivo, diminuindo o número de veículos nos grandes centros urbanos.
- D) A crescente preocupação com o planejamento urbano pelos órgãos oficiais do governo tem trazido melhorias na condução do tráfego e a diminuição dos custos na infraestrutura viária.
- E) Os problemas urbanos são responsáveis pela excelente qualidade de vida da população.

**33. A água constitui um elemento fundamental para o desenvolvimento da vida no nosso planeta. Com relação a esse elemento, assinale a alternativa correta.**

- A) A água do planeta está sendo comprometida pela poluição doméstica, industrial e agrícola, e pelos desequilíbrios ambientais resultantes dos desmatamentos e do uso indevido do solo.
- B) Desvios de água para projetos de irrigação, construção de hidrelétricas, consumo excessivo, desmatamento e poluição, têm contribuído para a redução de conflitos entre usuários.
- C) A água tem sido utilizada para a geração de energia elétrica assegurando a sustentabilidade do meio ambiente local.
- D) O Brasil possui pouca quantidade de água superficial e subterrânea devido às suas características geológicas dominantes.
- E) A diminuição da chuva no Brasil tem sido o maior problema ligado à falta de água para abastecer as cidades.

**34. A busca descontrolada do crescimento econômico pelas sociedades contemporâneas tem gerado o agravamento dos problemas socioambientais no planeta. Sobre esses impactos é correto afirmar que:**

- A) A proteção das águas dos rios, em áreas florestais, tem contribuído para o crescimento do uso irracional e aumento da poluição de seus recursos hídricos.
- B) O incentivo à redução do desmatamento intensifica a preservação das espécies vegetais, em áreas de floresta, e, ao mesmo tempo, combate o aquecimento global.
- C) O crescimento da pecuária, nas pradarias e nas savanas tropicais, contribui para a implantação de programas de preservação de organismos vivos de todas as origens.

- D) As políticas e as práticas para o desenvolvimento sustentável alteram a composição atmosférica e intensificam o desaparecimento de corredores de biodiversidade no planeta.
- E) O processo de desertificação no planeta, intensificado pelas atividades econômicas, preserva os cursos de água e a vegetação ribeirinha presente nas estepes tropicais.

**35. Qual das alternativas seguintes NÃO faz uma afirmativa correta sobre a situação da agricultura brasileira?**

- A) Nas últimas décadas, com o avanço do capitalismo no campo, a agricultura passou por um processo de modernização; mas isso não garantiu a melhoria do padrão de vida de grande parte dos trabalhadores rurais.
- B) Nos últimos anos, a manutenção de latifúndios vem sendo duplamente ameaçada: pela ocupação de terras e pela queda do preço da terra.
- C) Nos anos 90, o Movimento dos Sem Terra (MST) tem sido o mais forte movimento social em prol da distribuição da terra no país e vem contando com o apoio de grandes proprietários de terra e de grandes empresários rurais.
- D) Na última década, as indústrias de alimentos inovam e diversificam os produtos alimentícios agregando maior valor à matéria-prima fornecida pelos produtores rurais e transferindo renda do campo para as grandes indústrias e cadeias de supermercados.
- E) A partir da década de 1960, a modernização da produção agrícola teve como condição básica os créditos agrícolas garantidos pelo Estado, e os grandes beneficiários foram os grupos sociais com maior poder político e econômico.

**36. Os resultados dos últimos censos realizados no Brasil mostram que as mulheres vêm tendo menos filhos, assim como mostram, também, que a expectativa de vida da população em geral tem aumentado. Esses fatores contribuem para a mudança no perfil da população brasileira.**

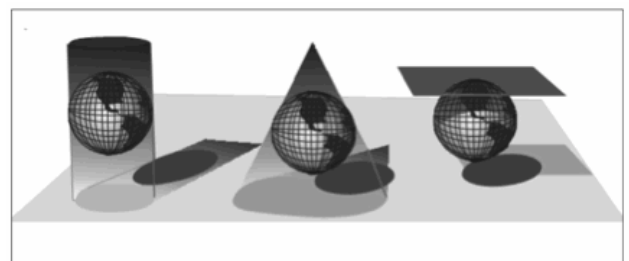
**Com base em seus conhecimentos e nas informações anteriores sobre a dinâmica populacional brasileira, analise as seguintes afirmativas.**

- I. A difusão dos métodos contraceptivos e as transformações econômicas e sociais decorrentes da industrialização e da urbanização, que levam a mulher ao mercado de trabalho, contribuíram para o aumento da longevidade da população no Brasil.
- II. A melhoria no acesso aos serviços de saúde, as campanhas de vacinação, o aumento da escolaridade e a ampliação do saneamento básico são motivos que favoreceram o aumento da expectativa de vida dos brasileiros nos últimos anos.
- III. A taxa de mortalidade infantil no Brasil - que está associada à falta de água potável, de saneamento básico e de medicina preventiva -, diminuiu nas últimas décadas, indicando uma melhoria nos sistemas de saúde e nutrição do país.
- IV. O aumento do número de idosos, juntamente com o maior número de nascimentos, altera o perfil demográfico do país, cuja tendência passa a ser a de predomínio da população de jovens.
- IV. A principal tendência demográfica observada no Brasil é a desaceleração do crescimento populacional, em virtude da queda da taxa de fertilidade, do aumento na proporção de idosos e do crescimento da urbanização.

**Estão corretas apenas as afirmativas:**

- A) II, IV e V.  
 B) I, III e IV.  
 C) II, III e V.  
 D) III, IV e V.  
 E) I e IV.

**37. A questão refere-se às imagens abaixo.**



Fonte: DUARTE, Paulo Araújo. Fundamentos de Cartografia. Florianópolis: Editora UFSC, 2002.

**Em relação às figuras, é correto afirmar que.**

- A) Expressam tipos de projeções básicas da técnica cartográfica, das quais se derivam a maioria dos mapas conhecidos.
- B) Apresentam uma construção complexa de modelagem matemática da Terra, transformando a parte plana em um mapa bidimensional.
- C) Geram distorções lineares no cilindro, no cone e no plano, respectivamente, considerando determinadas propriedades geográficas.
- D) Caracterizam-se pela propriedade de deformação das áreas representadas, mantendo uma relação constante com a superfície terrestre.
- E) Demonstram um plano de referência geodésica representado pela base dos levantamentos horizontais e verticais de determinação altimétrica e planimétrica.

**38. Sobre aspectos cartográficos, assinale a afirmativa correta.**

- A) As elevações do relevo são representadas por linhas isobáricas que ligam pontos ou cotas de igual altitude em intervalos iguais.
- B) O elemento que estabelece a relação ou a proporção entre a dimensão real de um lugar e sua representação no mapa é denominado escala.
- C) Uma escala pequena (1/2.000 ou 1/10.000) é utilizada para os mapas de áreas urbanas, uma escala grande (1/1.000.000 ou 1/50.000.000) para os de áreas de estados, países, continentes ou mesmo o mapa-múndi.
- D) Os mapas temáticos tratam de temas específicos como relevo, clima, solo, hidrografia, sem abordar temas econômicos, políticos e sociais.
- E) Uma escala gráfica é representada sob a forma de uma razão (1:50.000) ou de uma proporção (1/50.000), uma numérica se expressa por meio de uma linha reta graduada.

**39. Sobre as cidades pode-se afirmar corretamente, exceto:**

- A) Muitas cidades cresceram em função das indústrias que nelas se instalaram.
- B) Nas cidades concentram-se os grandes centros de decisões político-econômicas e científico-tecnológicas.

- C) A expansão urbana (cidades) pode resultar de várias formas de aglomeração urbana.
- D) Problemas como o uso de drogas, falta de moradia, doenças e poluição se originam no meio rural.
- E) A agricultura que possibilitou a fixação do homem à terra, libertando-o da necessidade de se deslocar.

**40. A tropicalidade é um dos fatores que mais influenciam no comportamento climático de áreas do território brasileiro. A primeira coluna do quadro faz referência às características do ambiente tropical e a segunda coluna procura relacionar essas características com sua manifestação e efeitos sobre o Brasil.**

	CARACTERÍSTICAS	EFEITOS NO BRASIL
1	Temperaturas superiores a 18 °C e diferenças sazonais marcadas, sobretudo, pelo regime de chuvas.	Ocorre em cerca de 95% do território brasileiro.
2	Amplitude térmica anual inferior a 6 °C.	Registra-se desde o extremo setentrional até o paralelo de 20° de latitude Sul, aproximadamente.
3	Circulação atmosférica controlada pela Zona de Convergência Intertropical (ZCIT), baixas pressões equatoriais, alísios e altas pressões subtropicais.	Afeta quase todo o país, exceto onde a ação da frente polar é mais relevante, como ao sul do Trópico de Capricórnio.
4	Cobertura vegetal que vai do deserto quente à floresta ombrófila, passando pela savana.	Presença dos três tipos de cobertura: deserto quente (Caatinga); floresta ombrófila (Mata Atlântica) e savanas (Cerrado e Pantanal).
5	Regimes fluviais controlados pelo comportamento da precipitação.	Todas as bacias hidrográficas apresentam rios de regime exclusivamente pluvial, sobretudo os da bacia amazônica.

**As correlações corretas entre características e efeitos são:**

- A) 1, 2 e 3.
- B) 3, 4 e 5.
- C) 1, 2 e 4.
- D) 2, 4 e 5.
- E) 1, 3 e 5.