

LÍNGUA PORTUGUESA 10 QUESTÕES

Texto para as questões 1, 2 e 3

O resistente camelo

Há imensos desertos de areia na Arábia e na África. O clima ali é quente e seco. Existem longas extensões no deserto em que não há água.

As pessoas não poderiam ir muito longe nele se não tivessem ajuda. Mas elas têm a ajuda do camelo.

O camelo pode transportar uma pessoa, além de um fardo pesado. E ele não se importa de viver no deserto. Isso porque tem muitas vantagens que outros animais não têm.

Às vezes, o vento sopra no deserto e a areia acaba entrando em tudo: por exemplo, nos olhos, ouvidos e nariz das pessoas. Mas não nos do camelo. Ele tem longos cílios que impedem a areia de entrar em seus olhos. Não entra nos ouvidos, porque ele possui pelos protegendo as orelhas. E tem a capacidade de fechar as narinas para que a areia não entre.

A boca do camelo não é tão delicada quanto a dos outros animais. Ele é capaz de comer as plantas espinhosas do deserto sem machucá-la.

As patas do camelo são grandes e chatas e não afundam na areia macia. Ele consegue andar trinta milhas num dia e passar vários dias sem comer nem beber.

Mas é claro que, como todo mundo, ele também precisa de comida e água para viver. Só que não tão frequentemente quanto os outros animais. Quando tem comida, ele come muito. E guarda em sua corcunda. Quando tem água, também bebe um bocado. E conserva-a em outras partes do corpo. Depois vai usando a comida e a bebida à medida que vai necessitando.

O camelo não é um animal amigável nem se importa com os seres humanos. Mas, para os povos do deserto, é um animal extremamente importante.

Leonora e Arthur Hornblow

01. De acordo com o texto, o camelo tem algumas vantagens em relação aos outros animais que vivem no deserto. Assinale a única alternativa INCORRETA, sobre essas vantagens.

- A. Seus olhos e orelhas são protegidos por cílios e pelos que impedem a areia de entrar.

- B. Suas narinas também são protegidas da areia por pelos muito grossos.
- C. A boca do camelo é tão resistente que ele é capaz de comer plantas espinhosas sem se machucar.
- D. Graças ao tamanho e ao formato de suas patas, o camelo não afunda na areia macia.
- E. O camelo é capaz de passar vários meses sem comer nem beber.

02. Por que o camelo não precisa de água nem de alimento com a mesma frequência que os outros animais?

- A. O camelo é um animal resistente e acostumado com a vida difícil nos desertos de areia, portanto pode passar meses sem beber água e nada acontece a ele.
- B. A boca do camelo, que não é delicada, possui um reservatório onde ele armazena água e alimento por vários dias.
- C. Diferentemente dos outros animais do deserto o camelo não precisa beber muita água, pois o seu organismo possui uma substância que libera um líquido necessário para sua sobrevivência.
- D. O camelo guarda o que come e a água que bebe em sua corcunda e em outras partes do corpo, depois vai usando à medida que vai necessitando.
- E. O camelo consegue andar trinta milhas num dia e passar vários dias sem comer nem beber porque recebeu treinamento para resistir a fome e a sede.

03. De acordo com o texto o que significa: "O camelo não é um animal amigável e nem se importa com os seres humanos"?

- A. Apesar de dócil e domesticado, o camelo prefere a companhia de outros animais que vivem no deserto.
- B. Significa que o camelo não é um animal que se relaciona com os seres humanos, ele não dá atenção para humanos.
- C. Porque a função do camelo é somente de transportar pessoas pelo deserto.
- D. O camelo, apesar de viver no deserto, só se adapta com as pessoas que vivem na mesma região.
- E. A vida do camelo junto aos humanos é triste e cansativa, pois é muito grande a exploração e os maus tratos.

04. Classificou-se, corretamente, a palavra dada em:

- A. Lâmpada – paroxítona.
- B. Ideia – tritongo.
- C. História – proparoxítona.
- D. Bombom – oxítona.
- E. Flor – monossílabo átono.

05. Marque a alternativa em que todas as palavras são masculinas.

- A. Apêndice, champanha, guaraná.
- B. Alvará, dinamite, omoplata.
- C. Omelete, aguardente, sentinela.
- D. Cal, telefonema, comichão
- E. Análise, hélice, cataplasma.

06. Preencha as lacunas com D para dígrafo e EC para encontro consonantal.

- () blusa, crítica, faísca
- () Garfo, pneu, cascavel
- () exceção, palha, discípulo
- () desça, assassino, equivaler

Assinale a alternativa com a sequência correta:

- A. D, EC, EC, D.
- B. EC, EC, D, D.
- C. D, EC, D, EC.
- D. EC, D, EC, D.
- E. D, D, EC, EC.

07. "Muitos atletas brasileiros atuam na Europa". Nesta oração o tipo de sujeito é:

- A. Sujeito composto.
- B. Sujeito simples.
- C. Sujeito oculto.
- D. Oração sem sujeito.
- E. Sujeito indeterminado.

08. Assinale a alternativa em que a oração possui predicado verbal.

- A. O dia amanheceu cinzento.
- B. Santos Dumont foi o inventor de talento.
- C. Os alunos ouviam a aula atentos
- D. O futebol é uma paixão séria.
- E. O exército americano chegou ao Brasil.

09. Marque a única alternativa em que não há ERRO na formação do plural do substantivo

- A. Todos os escrivãos abandonaram a delegacia da cidade.
- B. Os irmãos abraçaram-se comovidos.
- C. Muitos cidadãos protestaram contra a poluição ambiental.
- D. Os antigos gregos e romanos eram povos pagães.
- E. Ganhei seis lindas colherzinhas de prata.

10. Leia a frase do quadro abaixo:



Na frase há:

- A. 1 artigo 2 numerais.
- B. 3 adjetivos e 1 verbo.
- C. 2 pronomes e 2 advérbios.
- D. 1 adjetivo e 3 verbos.
- E. 3 pronomes e 3 adjetivos.

MATEMÁTICA 05 QUESTÕES

11. Num avião havia 128 passageiros. Em uma cidade desceram 53 passageiros e subiram 65. Quantos passageiros seguiram a viagem no avião?

- A. 140 passageiros.

- B. 75 passageiros.
- C. 118 passageiros.
- D. 183 passageiros.
- E. 63 passageiros.

12. Lina está com número 159 anotado em um cartão. Qual das casas abaixo a Lina está procurando?



- A. O número da casa 01.
- B. O número da casa 02.
- C. O número da casa 03.
- D. O número da casa 04.
- E. Nenhuma das casas acima.

13. Uma bibliotecária recebeu alguns pacotes com 657 livros no total. Ela quer distribuir esses livros igualmente em 14 estantes. Quantos livros deverá colocar em cada estante? Quantos livros sobrarão nos pacotes?

- A. A bibliotecária deverá colocar 46 livros em cada estante e sobrarão 15 livros nos pacotes.
- B. A bibliotecária deverá colocar 46 livros em cada estante e sobrarão 12 livros nos pacotes.
- C. A bibliotecária deverá colocar 26 livros em cada estante e sobrarão 13 livros nos pacotes.
- D. A bibliotecária deverá colocar 36 livros em cada estante e sobrarão 13 livros nos pacotes.
- E. A bibliotecária deverá colocar 46 livros em cada estante e sobrarão 13 livros nos pacotes.

14. Sara, Vanda e Silvia encomendaram uma pizza, que veio dividida em 8 pedaços. Sara comeu 2 pedaços, Vanda, 3 pedaços e Silvia somente 1 pedaço. Que fração da pizza sobrou?

- A. $\frac{4}{8}$
- B. $\frac{3}{8}$
- C. $\frac{8}{8}$
- D. $\frac{2}{8}$
- E. $\frac{1}{8}$

15. Leia o anúncio abaixo:

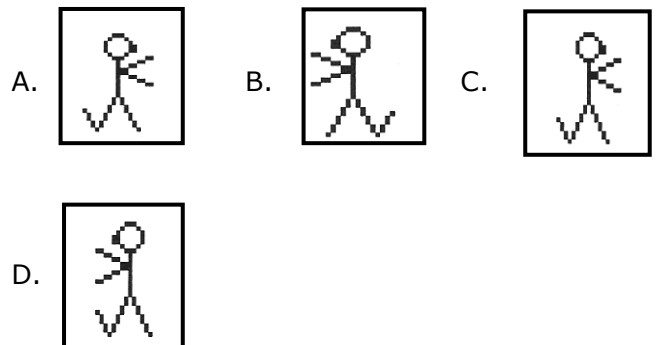


Quantos apartamentos há ao todo nesse condomínio?

- A. 77 apartamentos.
- B. 72 apartamentos.
- C. 70 apartamentos.
- D. 74 apartamentos.
- E. 76 apartamentos.

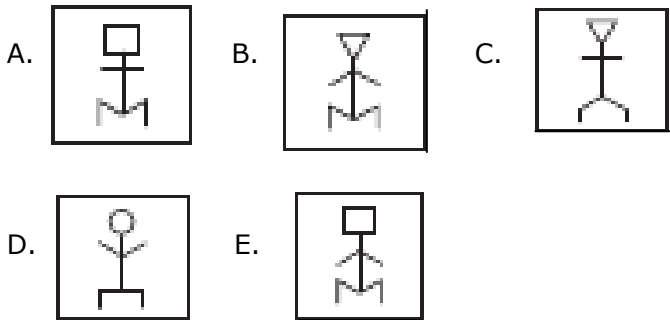
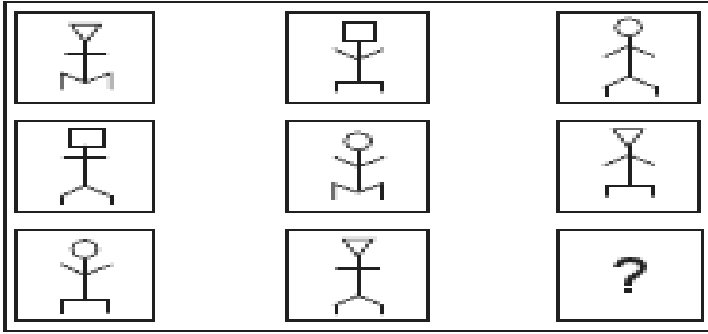
RACIOCÍNIO LÓGICO 05 QUESTÕES

16. Qual das figuras não pertence ao grupo abaixo?

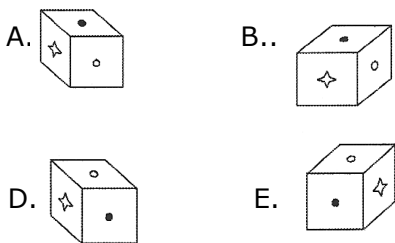
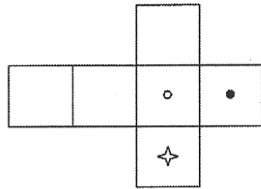


E. Todas as figuras pertencem ao mesmo grupo.

17. Observe atentamente as figuras abaixo e assinale a alternativa com a figura que deverá substituir corretamente o ponto de interrogação.



18. A figura ao lado foi desenhada em cartolina e dobrada de modo a formar um cubo. Qual das alternativas mostra o cubo assim formado?



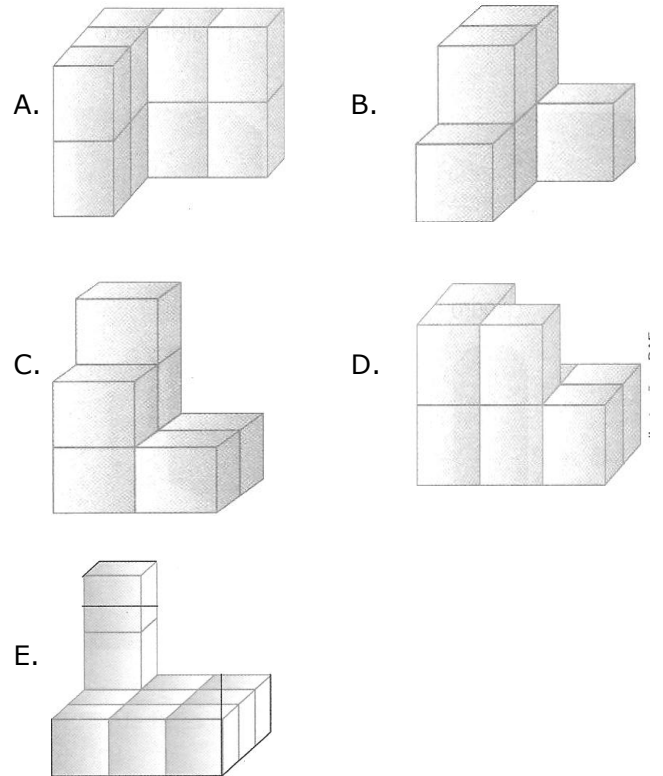
19. Carlindo sempre mente nas terças-feiras, quintas-feiras e sábados e, no restante dos dias da semana, sempre fala a verdade. Um dia, Afonsinho encontra Carlindo e ocorre o diálogo seguinte.

- Afonsinho pergunta: Que dia é hoje?
- Carlindo responde: Sábado.
- Afonsinho pergunta: E que dia será amanhã?
- Carlindo responde: Quarta-feira.

Em que dia da semana Afonsinho encontrou Carlindo?

- A. Domingo.
- B. Terça-feira.
- C. Quarta-feira.
- D. Quinta-feira.
- E. Sábado.

20. Observe a figura do lado e assinale a alternativa que representa a sua vista frontal.



**CONHECIMENTOS ESPECIFICOS
20 QUESTÕES**

21. Como devem ficar os latões que armazenam o lixo?

- A. Bem tampados.
- B. Com furos, para que a água possa escorrer.
- C. Sempre abertos para exalar o mau cheiro.

- D. Sujos, pois não é necessário lavá-los.
E. Em cima de estrados para não escorrer no chão, mas devem ficar abertos.

22. Nem tudo é lixo e deve ser jogado fora. Quais materiais abaixo podem ser vendidos para depois serem reciclados, gerando renda para quem faz a limpeza?

- A. Cascas de frutas e verduras.
B. Folhas de árvores e frutos maduros.
C. Papel ou papelão.
D. Sobras de comida pronta.
E. Resíduos farmacêuticos


23. São locais públicos onde os funcionários encarregados de fazerem a limpeza devem atuar, EXCETO:

- A. Avenidas e Ruas.
B. Casas do Prefeito e do Presidente da Câmara.
C. Escolas públicas.
D. Parque e Praças municipais.
E. Postos de saúde

24. O capim retirado dos canteiros de praças e ruas deve ter que destinação:

- A. Deve ser espalhado pelas ruas.
B. Deve ser jogado nos lotes vagos.
C. Deve ser queimado no mesmo local onde foi retirado.
D. Deve ser recolhido e colocado no lixo.
E. Deve ser jogado em terrenos particulares.

25. Qual das ferramentas abaixo deve ser utilizada para cortar grama em jardins:



26. A falta de cuidado no manuseio com o lixo pode causar ao gari:

- A. Desgaste da roupa.
B. Acidente e doenças graves.
C. Aumento de produção.
D. Diminuição na produção.
E. Danos ao equipamento de segurança.

27. Qual dano pode acontecer caso o gari desça ou suba no caminhão de lixo em movimento:

- A. Lesões corporais.
B. Danos ao veículo.
C. Danos ao equipamento.
D. Desgaste ao calçado.
E. Desgaste ao uniforme

28. Um servidor público que tem um bom relacionamento com os colegas, deve ser um servidor:

- A. Dinâmico, participativo, formal e egoísta.
B. Equilibrado, respeitador, formal e ambicioso.
C. Dinâmico, respeitador, participante e competente.
D. Ambicioso, severo, formal e competente.

E. Equilibrado, formal, participante e individualista.

29. São atitudes que favorecem a harmonia entre as pessoas, especialmente no ambiente de trabalho:

- I. Controlar suas reações agressivas e evitar atos de indelicadeza e ironia.
- II. Mostrar paciência quanto alguém não rende como o esperado.
- III. Procurar as causas de suas antipatias a fim de superá-las.

Marque a alternativa correta:

- A. Apenas as alternativas I e III estão corretas.
- B. Apenas a alternativa I esta correta.
- C. Apenas as alternativas II e III estão corretas.
- D. Apenas as alternativas I e II estão corretas.
- E. As alternativas I, II e III estão corretas.

30. São substâncias que destroem determinados organismos (micro), e são grandes aliados nos serviços de limpeza e higiene:

- A. Desinfetante.
- B. Detergente.
- C. Limpa pedra.
- D. Limpador amoniacal.
- E. Aromatizante.

31. Segurança do Trabalho é:

- A. É o que ocorre pelo exercício do trabalho, a serviço da empresa, provocando lesão corporal ou perturbação funcional, que cause a morte, ou perda, ou redução permanente ou temporária, da capacidade para o trabalho.
- B. Fica caracterizado como acidente de trabalho também aquele que ocorra na ida ou na volta do trabalho, ou o ocorrido no mesmo trajeto quando o trabalhador efetua as refeições na sua residência.
- C. É a produzida ou desencadeada pelo exercício do trabalho peculiar à determinada atividade e constante da respectiva relação elaborada pelo Ministério do Trabalho e Emprego e o da Previdência Social.

D. É o conjunto de medidas técnicas, médicas e educacionais, empregadas para prevenir acidentes, quer eliminando condições inseguras do ambiente de trabalho quer instruindo ou convencendo pessoas na implantação de práticas preventivas.

E. É a adquirida ou desencadeada em função de condições especiais em que o trabalho é realizado e com ele se relacione diretamente (também constante da relação supracitada)

32. É um conjunto de hábitos de limpeza e asseio com que cuidamos do nosso corpo, por ser um vetor de importância em nosso dia a dia, acaba por influenciar no relacionamento inter social, pois implica na aplicação de hábitos, que viram normas de vida em caráter individual.

- A. Higiene funcional.
- B. Higiene Bucal.
- C. Higiene Pessoal.
- D. Assepsia.
- E. Antissepsia.

33. Durante a noite os garis devem ter mais cuidados com relação a acidentes por causa da:

- A. Maior velocidade.
- B. Maior quantidade de lixo.
- C. Falta de equipamento.
- D. Menor visibilidade.
- E. Maior visibilidade.

34. Podemos citar como exemplo de material não reciclável:

- A. Papel sanitário usado.
- B. Vidro colorido.
- C. Plástico.
- D. Ferro.
- E. Alumínio.

35. É obrigatório o uso do Equipamento de Proteção Individual (EPI). A quem cabe adquirir esse equipamento:

- A. Empregado.
- B. Empregador.
- C. Presidente da CIPA.

- D. Médico do trabalho.
- E. Fiscal do trabalho.

36. Leia com atenção sobre as principais atividades atribuídas à limpeza pública de um município:

- I. Coleta de lixo, varrição de vias públicas, capinação, raspagem e operação de aterros sanitários.
- II. Pintura de guias e sarjetas, limpeza de locais de feiras livres e limpeza de bocas de lobo.
- III. Coleta seletiva, coleta de resíduos de serviços de saúde e coletas especiais (bota-fora).
- IV. Apreensão de animais, limpeza de praias, coleta de entulhos e limpeza de logradouros públicos.
- V. Operação de sistemas de transbordo de lixo e operação de sistemas de tratamento de lixo.

De acordo com as afirmativas acima, marque a alternativa certa:

- A. Somente as afirmativas I, II, III e V estão corretas.
- B. Somente as afirmativas I, III e V estão corretas.
- C. Somente as afirmativas I, III e IV estão corretas.
- D. Somente as afirmativas I, II, III e IV estão corretas.
- E. Todas as afirmativas estão corretas.

37. O profissional que trabalha como gari, que recolhe o lixo para manter a nossa cidade limpa deve usar equipamentos para se proteger de contaminações. Qual alternativa confere com os equipamentos adequados:

- A. Avental de papel e luvas.
- B. Botas ou sapato fechado e avental.
- C. Óculos de segurança e avental de plástico.
- D. Luvas, botas ou sapato fechado.
- E. Luvas e óculos de segurança.

38. O gari deve ter cuidados com o seu equipamento de trabalho. Ao terminar o serviço a vassoura deve ser:

- A. Deixada de molho numa bacia e, depois, colocada no sol.
- B. Deixada de molho em creolina e, depois, enxugada com pano de camurça.
- C. Lavada com cloro e guardada no armário.
- D. Lavada com água e guardada no armário.
- E. Lavada com água e sabão e pendurada com a piaçava para cima.

39. Como norma de segurança, existe um tipo de lixo que é considerado altamente tóxico e precisa receber tratamento especial e ser incinerado. Este é um lixo:

- A. Doméstico.
- B. Formado por embalagens.
- C. Hospitalar.
- D. Biogás.
- E. De saneamento básico.

40. O Gari deve ter procedimentos importantes quando assumir a limpeza. Acerca disso, marque a alternativa INCORRETA:

- A. Não deixar a mangueira escorrendo enquanto esfregar uma área grande.
- B. Usar balde com pano úmido na limpeza de saguão de entradas, corredores e salas.
- C. Substituir a vassoura pelo esguicho, quando efetuar a limpeza.
- D. Ao usar escada para limpar lugares altos, verificar se a mesma está em perfeita segurança e solicitar o apoio de um colega de serviço.
- E. Manter as mãos constantemente limpas durante os trabalhos e lavá-las sempre que houver interrupção, antes do reinício.