



Cidade de São José dos Campos

Prefeitura Municipal


CONCURSO PÚBLICO

013. PROVA OBJETIVA

ANALISTA EM GESTÃO MUNICIPAL – NÍVEL SUPERIOR

- ♦ Você recebeu sua folha de respostas e este caderno contendo 60 questões objetivas.
- ♦ Confira seu nome e número de inscrição impressos na capa deste caderno.
- ♦ Leia cuidadosamente as questões e escolha a resposta que você considera correta.
- ♦ Responda a todas as questões.
- ♦ Marque, na folha intermediária de respostas, localizada no verso desta página, a letra correspondente à alternativa que você escolheu.
- ♦ Transcreva para a folha de respostas, com caneta de tinta azul ou preta, todas as respostas anotadas na folha intermediária de respostas.
- ♦ A duração da prova é de 4 horas.
- ♦ Só será permitido sair da sala após transcorrida a metade do tempo de duração da prova.
- ♦ Ao sair, você entregará ao fiscal a folha de respostas e este caderno, podendo destacar esta capa para futura conferência com o gabarito a ser divulgado.

AGUARDE A ORDEM DO FISCAL PARA ABRIR ESTE CADERNO DE QUESTÕES.



Cidade de São José dos Campos

Prefeitura Municipal

FOLHA INTERMEDIÁRIA DE RESPOSTAS

QUESTÃO	RESPOSTA
01	A B C D E
02	A B C D E
03	A B C D E
04	A B C D E
05	A B C D E

06	A B C D E
07	A B C D E
08	A B C D E
09	A B C D E
10	A B C D E

11	A B C D E
12	A B C D E
13	A B C D E
14	A B C D E
15	A B C D E

16	A B C D E
17	A B C D E
18	A B C D E
19	A B C D E
20	A B C D E

QUESTÃO	RESPOSTA
21	A B C D E
22	A B C D E
23	A B C D E
24	A B C D E
25	A B C D E

26	A B C D E
27	A B C D E
28	A B C D E
29	A B C D E
30	A B C D E

31	A B C D E
32	A B C D E
33	A B C D E
34	A B C D E
35	A B C D E

36	A B C D E
37	A B C D E
38	A B C D E
39	A B C D E
40	A B C D E

QUESTÃO	RESPOSTA
41	A B C D E
42	A B C D E
43	A B C D E
44	A B C D E
45	A B C D E

46	A B C D E
47	A B C D E
48	A B C D E
49	A B C D E
50	A B C D E

51	A B C D E
52	A B C D E
53	A B C D E
54	A B C D E
55	A B C D E

56	A B C D E
57	A B C D E
58	A B C D E
59	A B C D E
60	A B C D E

LÍNGUA PORTUGUESA

Leia o texto para responder às questões de números **01** a **05**.

Deu na *Folha* que o caos do trânsito paulistano atingiu o ABC. Os suspeitos são os de sempre: aumento da frota, *boom* imobiliário e sistema viário obsoleto.

Esse é um daqueles paradoxos do mundo moderno. A fim de aumentar a qualidade de vida, muitas famílias decidem ir morar um pouquinho mais longe, onde poderão usufruir de casas maiores e mais tranquilidade. Só que, **como** muitos _____ a mesma ideia, o lugar acaba ficando mais barulhento e _____ os congestionamentos, dois dos fatores que mais deterioram a qualidade de vida.

(Hélio Schwartzman, *Folha de S.Paulo*, 14.02.2012)

- 01.** As lacunas do texto devem ser preenchidas, correta e respectivamente, com
- (A) tem ... veem
 - (B) têm ... vêm
 - (C) tem ... vem
 - (D) têm ... vem
 - (E) tem ... vêm
- 02.** O paradoxo referido no segundo parágrafo do texto diz respeito
- (A) à falta de planejamento no trânsito, devido ao aumento da frota, ao *boom* imobiliário e ao sistema viário obsoleto.
 - (B) ao combate excessivo feito aos dois fatores que mais deterioram a qualidade de vida das pessoas.
 - (C) à busca de qualidade de vida que fica comprometida com os congestionamentos e os barulhos.
 - (D) ao fato de todas as pessoas pensarem da mesma forma e, assim, conseguirem um padrão melhor de vida.
 - (E) à crise gerada no trânsito do ABC sem que isso represente alteração na qualidade de vida dos moradores.

Para responder às questões de números **03** e **04**, considere o período – Os suspeitos são os de sempre: aumento da frota, *boom* imobiliário e sistema viário obsoleto.

- 03.** Em relação à pontuação no período, é correto afirmar que o emprego
- (A) da vírgula se dá pelo mesmo motivo que na frase – O *boom* imobiliário, que tem alterado o visual citadino, está em ascensão.
 - (B) dos dois pontos se dá pelo mesmo motivo que na frase – Ontem ele chegou e disse: Vamos jantar fora!
 - (C) da vírgula se dá pelo mesmo motivo que na frase – O *boom* imobiliário, diriam os pessimistas, pode reverter-se em problemas no futuro.
 - (D) dos dois pontos se dá pelo mesmo motivo que na frase – A esposa tinha suas razões para admirá-lo: caráter, sensibilidade, respeito e fidelidade.
 - (E) da vírgula se dá pelo mesmo motivo que na frase – Venha ver, querido, como o entardecer está revestido de magia!
- 04.** Na frase – Os suspeitos são **os** de sempre... – a palavra em destaque tem o mesmo emprego que se verifica na palavra destacada em:
- (A) Os carros estavam em alta velocidade, quando policiais **os** interceptaram.
 - (B) **Quem** poderia fazer o favor de me encomendar o novo dicionário?
 - (C) Alguns funcionários perguntaram se **os** salários atrasariam naquele mês.
 - (D) Todos os alunos fizeram a prova, mas só **alguns** assinaram a presença.
 - (E) **Aqueles** que precisavam de mais informações foram auxiliados.
- 05.** A conjunção “como”, em destaque no segundo parágrafo do texto, estabelece entre as orações do período relação de
- (A) causa.
 - (B) conformidade.
 - (C) comparação.
 - (D) finalidade.
 - (E) tempo.

Para responder às questões de números **06 a 10**, leia o texto de Hélio Schwartzman.

A felicidade não mora ao lado

SÃO PAULO – Pesquisas mostram que a felicidade é, em larga medida, hereditária. Se você nasceu com um espírito jubiloso, parabéns. Se, por outro lado, tem um temperamento saturnino, é melhor acostumar-se com ele.

Eventos externos importam, mas de forma menos dramática e duradoura do que se imagina. Um bom exemplo é o de pessoas que sofrem acidentes que as deixam com deficiências físicas. Andrew Oswald avaliou o impacto dessas sequelas e concluiu que, num primeiro momento, elas reduzem bastante o grau de felicidade. Mas, com o passar do tempo, este volta a elevar-se, até estacionar em níveis semelhantes aos verificados antes do acidente. É o que os psicólogos chamam de “adaptação hedônica”.

Existem, porém, alguns fatores que se mostram resistentes à adaptação hedônica, isto é, aos quais não nos acostumamos, como se sabe por meio de mensurações dos hormônios de estresse. Enfrentar trânsito está nessa categoria. Ruídos, especialmente os intermitentes, também. Outros elementos pouco sensíveis à adaptação e que, por isso, conspiram contra a felicidade são a falta de controle sobre o ambiente e as relações conflituosas com familiares.

Isso nos lança no pior dos mundos. Nós nos acostumamos rapidamente ao espaço extra da casa nova, que deixa então de acrescentar felicidade, e passamos o resto de nossos dias pensando no trânsito barulhento.

(Folha de S.Paulo, 14.02.2012. Adaptado)

06. Segundo o autor, a adaptação hedônica implica a

- (A) elevação do grau de felicidade para a manutenção do estresse.
- (B) queda irreversível do grau de felicidade depois de acidentes.
- (C) redução do grau de felicidade com o passar da idade.
- (D) busca da elevação do grau de felicidade depois de algum trauma.
- (E) estabilidade do grau de felicidade depois de um acidente de carro.

07. No texto, a expressão “espírito jubiloso” estabelece relação de oposição com “temperamento saturnino”, sendo que o adjetivo desta expressão significa

- (A) ansioso.
- (B) triste.
- (C) evasivo.
- (D) festivo.
- (E) omissivo.

08. As informações textuais permitem afirmar que

- (A) trânsito e sons que param e recomeçam são fatores resistentes à adaptação hedônica.
- (B) a falta de controle sobre o ambiente potencializa o processo de adaptação hedônica.
- (C) as relações familiares são fatores incapazes de comprometer a adaptação hedônica.
- (D) os sons que mais comprometem a adaptação hedônica são aqueles que não cessam.
- (E) as situações de estresse são as mais adequadas para o processo de adaptação hedônica.

09. Analise as afirmações:

- I. De acordo com a norma-padrão da língua portuguesa, está correta quanto à crase: *Se, por outro lado, tem um temperamento saturnino, é melhor adaptar-se à ele.*
- II. De acordo com a norma-padrão da língua portuguesa, está correta quanto à regência nominal: *Andrew Oswald avaliou o impacto dessas sequelas e chegou à conclusão que, num primeiro momento, elas reduzem bastante o grau de felicidade.*
- III. De acordo com a norma-padrão da língua portuguesa, está correta quanto à regência verbal: *Mas, com o passar do tempo, este volta a elevar-se, até atingir níveis semelhantes aos verificados antes do acidente e estacionar.*

Está correto apenas o que se afirma em

- (A) I.
- (B) II.
- (C) III.
- (D) I e III.
- (E) II e III.

10. Na frase – Nós **nos** acostumamos rapidamente ao espaço extra da casa nova... – o pronome em destaque expressa sentido de

- (A) posse.
- (B) singularidade.
- (C) reciprocidade.
- (D) indefinição.
- (E) reflexividade.

MATEMÁTICA E RACIOCÍNIO LÓGICO

11. O atleta J, com posicionamento voltado para o Norte, inicia uma caminhada nesse sentido. Anda 10 metros, para, gira 45° no sentido anti-horário, anda 10 metros, para, gira 80° no sentido horário, anda 10 metros, para, gira 130° no sentido anti-horário, anda 10 metros, para, gira 200° no sentido horário, anda 10 metros, para, gira 42° no sentido horário, anda 10 metros e para. Um único giro suficiente para que o atleta K, com posicionamento voltado para o Norte, inicie sua caminhada em uma direção paralela e sentido igual à última etapa percorrida por J pode ser

- (A) girar 147° no sentido anti-horário.
- (B) girar 187° no sentido horário.
- (C) girar 213° no sentido anti-horário.
- (D) girar 315° no sentido horário.
- (E) girar 345° no sentido horário.

12. Um valor de R\$ 8.000,00 é aplicado a uma taxa de juros simples de 2,5% a.m. Outra aplicação é feita com o valor de R\$ 50.000,00 a uma taxa de juros simples de 60% ao ano, durante quatro meses. O tempo necessário para que o montante da primeira aplicação seja igual aos juros obtidos na segunda aplicação é, em meses, igual a

- (A) 9.
- (B) 10.
- (C) 11.
- (D) 12.
- (E) 13.

13.
$$\begin{cases} \sqrt[3]{729} \cdot x + \sqrt[3]{125} \cdot y + 2^4 = 146 \\ \frac{\sqrt{225}}{\sqrt[3]{27}} \cdot x - \sqrt{25} \cdot y + 4^3 = 74 \end{cases}$$

Os valores das incógnitas x e y que satisfazem esse sistema de equações são, respectivamente,

- (A) 10 e 8.
- (B) 8 e 10.
- (C) 12 e 6.
- (D) 6 e 12.
- (E) 8 e 12.

14. Uma rede de academias de ginástica possui 262 profissionais nas modalidades de musculação, ginástica e preparo físico. Os profissionais que atuam apenas em musculação são cinco a menos do que aqueles que são apenas preparadores físicos. Os que atuam apenas na modalidade ginástica são dois a mais do que aqueles que atuam apenas em preparo físico e musculação simultaneamente. Estes últimos, por sua vez, correspondem à metade dos que só atuam em preparo físico. Resta ainda um último grupo que atua apenas nas modalidades de musculação e ginástica simultaneamente e são em número de 25 profissionais.

A partir dessas informações e sabendo que não existem profissionais que atuam de forma diferente das mencionadas, pode-se afirmar que o número de profissionais dessa rede de academias, que atuam em mais de uma modalidade, é

- (A) 15.
- (B) 40.
- (C) 42.
- (D) 50.
- (E) 65.

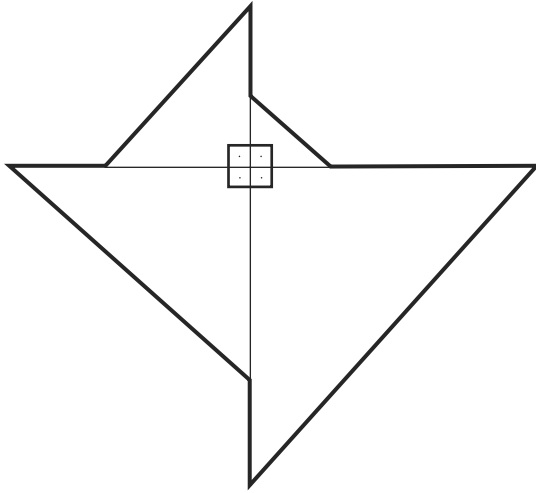
15. O número de divisões sucessivas por 2, sempre considerando o quociente da divisão como o dividendo da divisão seguinte, para que a partir do número 2 500 obtenha-se pela primeira vez um quociente menor que um, é

- (A) 10.
- (B) 11.
- (C) 12.
- (D) 13.
- (E) 14.

16. Um aposento retangular de uma casa foi construído com um acréscimo de 12% no seu comprimento em relação ao comprimento no projeto original. No entanto, a largura sofreu uma redução de 12% em relação à largura no projeto original. Sendo assim, em relação ao projeto original, a área desse aposento

- (A) aumentou menos que 2%.
- (B) diminuiu menos que 2%.
- (C) permaneceu exatamente igual.
- (D) diminuiu mais que 2%.
- (E) aumentou mais que 2%.

17. Observe a figura.



A figura é uma composição de quatro triângulos retângulos isósceles. As medidas dos catetos de cada triângulo são, respectivamente, 1 cm, 2 cm, 3 cm e 4 cm.

Dessa forma, a medida aproximada do perímetro da figura obtida por essa composição e destacada com traços mais grossos é, em cm,

(Se necessário, considere em seus cálculos os valores aproximados: $\sqrt{2} = 1,4$; $\sqrt{3} = 1,7$; $\sqrt{5} = 2,2$)

- (A) 9,7.
- (B) 12,2.
- (C) 14.
- (D) 20.
- (E) 22,2.

18. Um cilindro, cujo volume total interno é de 55 litros, está completamente cheio de água. Um cubo, cujas arestas internas medem 50 cm, está com a metade de sua capacidade ocupada com água. Despeja-se todo o conteúdo do cilindro dentro do cubo. Desse modo,

Dados: 1 m³ corresponde a 1 000 litros

- (A) o cubo fica completamente cheio e doze litros e meio escorrem para o lado de fora do cubo.
- (B) o cubo fica completamente cheio e sete litros e meio escorrem para o lado de fora do cubo.
- (C) o cubo fica completamente cheio e nada escorre para fora do cubo.
- (D) o cubo não fica cheio e ainda sobra espaço para sete litros e meio.
- (E) o cubo não fica cheio e ainda sobra espaço para doze litros e meio.

19. Uma pessoa irá caminhar com as seguintes determinações:
- I. só caminhará nos sentidos Norte (N), Sul (S), Leste (L) e Oeste(O);
 - II. caminhará sempre em etapas de 500 m, se o sentido for L e em etapas de 400 m se o sentido for O;
 - III. caminhará o dobro do que caminhou na etapa anterior se o sentido for N;
 - IV. caminhará a metade do que caminhou na etapa anterior se o sentido for S;
 - V. as etapas que a pessoa caminhará serão determinadas pelos símbolos dos sentidos: cada letra representará uma etapa naquele sentido.

A distância, em Km, percorrida por uma pessoa que cumpre o percurso L, S, O, N, L, N, S, O, S, N é

- (A) 4,85.
- (B) 4,90.
- (C) 4,95.
- (D) 5,05.
- (E) 5,25.

20. Uma pesquisa demonstrou que 12 kg de gás é suficiente para preparar 3 refeições diárias, compostas de um cardápio A, que servem 8 pessoas durante 30 dias. Com 4 kg a mais que os 12 kg de gás já mencionados e com a necessidade de preparar 4 refeições diárias, do mesmo cardápio A, para servir 6 pessoas, o número de dias nos quais isso será possível, seguindo as proporções demonstradas na pesquisa, é

- (A) 40.
- (B) 42.
- (C) 45.
- (D) 48.
- (E) 50.

21. Em um certo dia o chefe entra no escritório, percebe que uma tarefa não foi feita, e diz: “Ninguém era responsável pela tarefa ou o responsável por ela não a fez.”. No dia seguinte, o mesmo chefe entra no escritório, percebe que uma tarefa havia sido feita e diz uma frase que é exatamente a negação lógica da frase que ele havia dito e que está escrita no início dessa questão. Uma frase que é a negação lógica da frase dita pelo chefe no início dessa questão é:

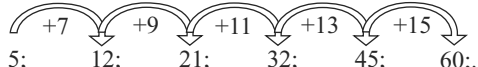
- (A) Alguém era responsável pela tarefa ou o responsável a fez.
- (B) O responsável pela tarefa não a fez.
- (C) Ninguém era responsável pela tarefa, mas alguém a fez.
- (D) Todos eram responsáveis pela tarefa e todos a fizeram.
- (E) Alguém era responsável pela tarefa e o responsável a fez.

22. Sabe-se que $945 = 3 \cdot 3 \cdot 3 \cdot 5 \cdot 7$ e que $990 = 2 \cdot 3 \cdot 3 \cdot 5 \cdot 11$. O maior número que pode ser utilizado como divisor dos elementos da fração $\frac{945}{990}$ de modo a deixá-la irredutível é

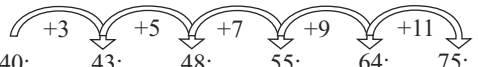
- (A) 5.
- (B) 9.
- (C) 15.
- (D) 45.
- (E) 90.

23. Observe as seqüências de números naturais I e II, ilimitadas, e suas respectivas leis de formação, expressas por setas na formação dos novos termos:

Seqüência I: 5; 12; 21; 32; 45; 60;...



Seqüência II: 40; 43; 48; 55; 64; 75;...



Dessa forma, a diferença entre o décimo termo da seqüência I e o nono termo da seqüência II, nessa ordem, é

- (A) - 4.
(B) 2.
(C) 8.
(D) 14.
(E) 20.
24. Uma empresa avalia a qualidade do seu serviço de atendimento ao cliente, pedindo a este que atribua uma nota ao atendimento recebido. O cliente deve escolher um dos números naturais de 1 a 5 para graduar a sua avaliação, levando em conta que o número 1 significa “completamente insatisfeito” e o número 5 significa “plenamente satisfeito”.

Um atendente, após seu período de trabalho, recebeu 93 notas conforme mostra a tabela:

NOTAS	1	2	3	4	5
NÚMERO DE ATRIBUIÇÕES	26	0	9	16	42

A média aritmética ponderada, aproximada para o número natural mais próximo, desse atendente, é

- (A) 1.
(B) 2.
(C) 3.
(D) 4.
(E) 5.
25. Cria-se, associado a um experimento, um parâmetro chamado TRUCX. O parâmetro TRUCX é inversamente proporcional ao tempo de duração do experimento. Quando TRUCX é 50, o tempo de duração do experimento é de 3 horas e 30 minutos. Com um TRUCX 50% a mais que 50, o tempo de duração do experimento é de
- (A) 1 hora e 30 minutos.
(B) 1 hora e 45 minutos.
(C) 2 horas.
(D) 2 horas e 15 minutos.
(E) 2 horas e 20 minutos.

ATUALIDADES

26. A UE (União Europeia) aprovou nas primeiras horas desta terça-feira (21.02) o acordo que prevê um segundo resgate financeiro à Grécia, no valor de 130 bilhões de euros. O acordo só foi aprovado mediante a formulação, por parte da Grécia, de diversas medidas de austeridade que visam reduzir a dívida do país.

(operamundi.uol.com.br, 21.02.2012. Adaptado)

Em geral, a reação da população grega aos acordos do seu governo com a União Europeia tem sido marcada por

- (A) compreensão, pois os acordos beneficiam toda a população.
(B) apatia, pois não lhes resta outra alternativa para sair da crise.
(C) alegria, pois o resgate financeiro será utilizado em políticas sociais.
(D) revolta, pois haverá corte de gastos com salários e assistência social.
(E) resignação, pois anos de crise deixaram a população conformada.
27. Uma resolução da ONU que tentaria encerrar a crise na Síria foi vetada neste sábado em Nova York. Dois membros permanentes do Conselho de Segurança da ONU rejeitaram a proposta de resolução que apoiava o plano de paz da Liga Árabe e pedia que o presidente sírio, Bashar al-Assad, renunciasse ao cargo.

(Portal BBC Brasil, 04.02.2012. Adaptado)

Os países que votaram contra a resolução da ONU são

- (A) França e Inglaterra.
(B) Estados Unidos e Alemanha.
(C) Rússia e China.
(D) Japão e Índia.
(E) Canadá e Itália.
28. As mobilizações das Polícias Militares por todo o Brasil, das quais a greve que terminou no dia 11 de fevereiro na Bahia foi o principal exemplo, estão relacionadas à pressão pela aprovação da Proposta de Emenda Constitucional n.º 300, a PEC-300, no Congresso. A PEC-300 está para ser votada no Congresso há mais de três anos. Caso aprovada, estabeleceria, para os policiais militares de todos os Estados,
- (A) um piso salarial nacional.
(B) uma remuneração idêntica equivalente ao dobro do salário mínimo.
(C) uma política comum de benefícios e complementos salariais.
(D) o direito à aposentadoria integral.
(E) o direito à estabilidade no serviço público.

CONHECIMENTOS ESPECÍFICOS

29. Nos EUA, o Partido Republicano está em processo de escolha do seu candidato à presidência para as eleições de novembro de 2012, em que enfrentará o atual presidente Barack Obama, do Partido Democrata.
- Uma das críticas feita pelos pré-candidatos republicanos a Obama tem sido direcionada
- (A) ao insucesso dos EUA na guerra da Bósnia.
 - (B) ao excelente desempenho econômico dos EUA em meio à crise.
 - (C) à política de distanciamento do governo federal com Cuba.
 - (D) ao programa de socialização de terras.
 - (E) à inação do governo diante do aumento do poderio chinês.
30. De acordo com dados divulgados em janeiro de 2012 pelo IBGE, a taxa de desemprego no país ficou em 4,7% em dezembro do ano passado, menor percentual desde março de 2002, quando o IBGE mudou a forma de cálculo da pesquisa. Esses dados indicam que
- (A) mesmo com o crescimento econômico dos últimos anos, o Brasil não vem conseguindo diminuir o número de desempregados.
 - (B) os reflexos da crise financeira internacional ainda não chegaram ao país, que segue reduzindo o desemprego.
 - (C) apesar de ser agora a sexta maior economia do mundo, o Brasil convive com as maiores taxas de desemprego de sua história.
 - (D) o país precisa, com urgência, de uma política de criação de postos de trabalho, pois o desemprego só tem crescido.
 - (E) é preciso desestimular o crescimento, pois uma taxa de desemprego de 4,7% é insustentável para o desenvolvimento do país.
31. A interpermeabilidade dos patrimônios público e privado era a característica que definia o governo nas sociedades
- (A) pré-capitalistas e pré-democráticas.
 - (B) pós-capitalistas e pós-democráticas.
 - (C) de manufatura celular e de conflito.
 - (D) de dominação segundo Weber e a autoridade burocrática.
 - (E) de dimensões junguianas e diretivo-autoritárias.
32. Com o advento do Departamento Administrativo de Serviço Público – DASP surge o modelo de administração pública
- (A) de autoridade carismática.
 - (B) de abuso de autoridade.
 - (C) de autoridade tradicional.
 - (D) burocrático.
 - (E) mecanicista.
33. Caracterizar a sociedade como um campo de conflito, cooperação e incerteza, em que os cidadãos defendem seus interesses e afirmam suas posições ideológicas, é uma pressuposição da administração pública
- (A) patrimonialista.
 - (B) burocrática.
 - (C) gerencial.
 - (D) inatista.
 - (E) prudencial.
34. Assinale a alternativa que dá complemento ao pensamento a seguir.
- De acordo com o art. 1.º do Decreto n.º 6.170, de 2007, sobre as normas relativas às transferências de recursos da União mediante convênios e contratos de repasse, e que regulamenta os convênios, contratos de repasse e termos de cooperação celebrados pelos órgãos e entidades da administração pública federal com órgãos ou entidades públicas ou privadas sem fins lucrativos, para a execução de programas, projetos e atividades de interesse recíproco que envolvam a transferência de recursos oriundos
- (A) da administração pública federal, direta ou indireta.
 - (B) da administração pública federal, e, órgão ou entidade da administração pública estadual.
 - (C) da administração pública federal, direta ou indireta, e, órgão ou entidade da administração pública estadual, distrital ou municipal, direta ou indireta.
 - (D) do Orçamento Fiscal e da Seguridade Social da União.
 - (E) do Tesouro Nacional e do Banco Central do Brasil.

35. Em conformidade com o Decreto n.º 6.170, de 25 de Julho de 2007, o conveniente é o órgão
- (A) da administração pública federal direta ou indireta, responsável pela transferência dos recursos financeiros ou pela descentralização dos créditos orçamentários destinados à execução do objeto do convênio.
 - (B) ou entidade da administração pública direta e indireta da União que pactua a execução de programa, projeto, atividade ou evento, por intermédio de instituição financeira federal (mandatária) mediante a celebração de contrato de repasse.
 - (C) ou entidade da administração pública direta e indireta, de qualquer esfera de governo, bem como entidade privada sem fins lucrativos, com o qual a administração federal pactua a execução de programa, projeto/atividade ou evento mediante a celebração de convênio.
 - (D) ou entidade da administração pública direta e indireta, de qualquer esfera de governo, bem como entidade privada com fins lucrativos, com a qual a administração federal pactua a execução de contrato de repasse.
 - (E) da administração pública direta e indireta, de qualquer esfera de governo, ou entidade privada que participa do convênio para manifestar consentimento ou assumir obrigações em nome próprio.
36. O instrumento administrativo por meio do qual a transferência dos recursos financeiros se processa por intermédio de instituição ou agente financeiro público federal, atuando como mandatário da União, é denominado
- (A) convênio.
 - (B) contrato de repasse.
 - (C) termo de cooperação.
 - (D) termo aditivo.
 - (E) objeto.
37. Conforme o art. 26 da Portaria Interministerial n.º 127, de 2008, que estabelece normas para execução do disposto no Decreto n.º 6.170, de 25 de julho de 2007, a comprovação da regularidade, bem como das condições para a celebração, será efetuada mediante consulta aos sistemas de informação do Governo Federal ou, na impossibilidade de efetuá-la,
- (A) o convênio será extinto no caso de não cumprimento da condição no prazo fixado no instrumento, prorrogável uma única vez por igual período a contar da celebração.
 - (B) o convênio será extinto no caso de não cumprimento da condição no prazo fixado no instrumento, prorrogável duas vezes por igual período a contar da celebração.
 - (C) o convênio será extinto no caso de não cumprimento da condição no prazo fixado no instrumento, prorrogável, no máximo, três vezes por igual período a contar da celebração.
 - (D) mediante apresentação da devida documentação junto ao órgão responsável pela manutenção do respectivo sistema.
 - (E) enquanto a condição não se verificar não terá efeito a celebração pactuada.
38. O art. 34 da Portaria Interministerial n.º 127, de 2008, determina que aos atos de celebração, alteração, liberação de recursos, acompanhamento da execução e a prestação de contas dos convênios e contratos será dada publicidade em sítio eletrônico específico denominado
- (A) Portal dos Convênios.
 - (B) SICONV.
 - (C) Portal da Lei de Diretrizes Orçamentárias.
 - (D) Tesouro Nacional.
 - (E) Ministério da Fazenda.
39. Em conformidade com o art. 24 da Lei n.º 11.079/2004, que institui normas gerais para licitação e contratação de parceria público-privada no âmbito da administração pública, as diretrizes para a concessão de crédito destinado ao financiamento de contratos de parcerias público-privadas, bem como para participação de entidades fechadas de previdência complementar serão estabelecidas, na forma da legislação pertinente,
- (A) pelo Banco Central do Brasil.
 - (B) pela Secretaria do Tesouro Nacional.
 - (C) pelo Conselho Monetário Nacional.
 - (D) pela União.
 - (E) pelo Ministério da Fazenda.
40. A maneira pela qual o orçamento é elaborado, segundo o regime político vigente, variando de acordo com a forma de governo, é denominada tipo de orçamento. O tipo previsto nas Constituições Brasileiras de 1934, 1946, 1967 e 1988 é o
- (A) arrecadatório.
 - (B) judiciário.
 - (C) legislativo.
 - (D) executivo.
 - (E) misto.
41. O princípio orçamentário da universalidade preceitua que
- (A) ninguém será obrigado a fazer ou deixar de fazer alguma coisa senão em virtude de lei.
 - (B) o orçamento único deve conter todas as receitas e todas as despesas pelos seus valores brutos, compreendendo um plano financeiro global, não devendo existir despesas ou receitas estranhas ao controle da atividade econômica estatal.
 - (C) todas as receitas e despesas devem constar da lei orçamentária e de créditos adicionais pelos seus valores brutos, vedadas as deduções, conforme preceitua o art. 2.º da Lei n.º 4.320/64.
 - (D) o orçamento tem como característica fundamento de periodicidade anual.
 - (E) há uma única lei orçamentária, considerando logicamente cada ente federativo e visa à prática de movimentação financeira do Tesouro, consubstanciado no chamado princípio de unidade de caixa, objetivando o cumprimento da fiscalização orçamentária e financeira por parte do Poder Legislativo.

42. A Lei de Diretrizes Orçamentárias tem iniciativa de competência do
- (A) Poder Executivo.
 - (B) Poder Legislativo.
 - (C) Ministro da Fazenda.
 - (D) Ministro da Economia.
 - (E) Presidente do Banco Central.
43. A Lei Orçamentária Anual compreende o orçamento de investimento das empresas, da seguridade social e
- (A) programa de gestão e políticas públicas.
 - (B) fiscal.
 - (C) cadastro de programas.
 - (D) cadastro de ações.
 - (E) proposta orçamentária.
44. Em conformidade com o art. 7.º da Lei Complementar n.º 101/2000, que estabelece normas de finanças públicas voltadas para a responsabilidade na gestão fiscal e dá outras providências, o resultado do Banco Central do Brasil, apurado após a constituição ou reversão de reservas, constitui receita do Tesouro Nacional, e será transferido até o
- (A) primeiro dia útil subsequente à aprovação dos balanços semestrais.
 - (B) terceiro dia útil subsequente à aprovação dos balanços semestrais.
 - (C) quinto dia útil subsequente à aprovação dos balanços semestrais.
 - (D) décimo dia útil subsequente à aprovação dos balanços semestrais.
 - (E) trigésimo dia subsequente à aprovação dos balanços semestrais.
45. De acordo com o art. 19 da Lei Complementar n.º 101/2000, para os fins do disposto no *caput* do art. 169 da Constituição, a despesa total com pessoal, em cada período de apuração e em cada ente da Federação, não poderá exceder os percentuais da receita corrente líquida, de
- (A) Municípios: 30%, Estados: 40% e União: 50%.
 - (B) Municípios: 30%, Estados: 60% e União: 50%.
 - (C) Municípios: 50%, Estados: 40% e União: 60%.
 - (D) Municípios: 50%, Estados: 60% e União: 70%.
 - (E) Municípios: 60%, Estados: 60% e União: 50%.
46. A Lei Complementar n.º 101/2000 define que refinanciamento da dívida mobiliária representa
- (A) a emissão de títulos para pagamento do principal acrescido da atualização monetária.
 - (B) o montante total, apurado sem duplicidade, das obrigações financeiras do ente da Federação, assumidas em virtude de leis, contratos, convênios ou tratados e da realização de operações de crédito, para amortização em prazo superior a doze meses.
 - (C) a dívida pública tratada por títulos emitidos pela União, inclusive os do Banco Central do Brasil, Estados e Municípios.
 - (D) o compromisso financeiro assumido em razão de mútuo, abertura de crédito, emissão e aceite de título, aquisição financiada de bens, recebimento antecipado de valores provenientes da venda a termo de bens e serviços, arrendamento mercantil e outras operações assemelhadas, inclusive com o uso de derivativos financeiros.
 - (E) o compromisso de adimplência de obrigação financeira ou contratual assumida por ente da Federação ou entidade a ele vinculada.
47. Teoria em Administração significa um conjunto de conhecimentos organizados, produzidos pela experiência prática das organizações. Essas teorias compreendem dois tipos principais de conhecimentos, os descritivos e os prescritivos. Os conhecimentos prescritivos
- (A) procuram explicar o que são as organizações e como são administradas.
 - (B) apresentam diferentes autores com diferentes explicações para os mesmos eventos.
 - (C) apresentam diferentes autores com as mesmas explicações para os eventos diferentes.
 - (D) são permeados por muitas teorias que explicam de forma diferente as mesmas coisas.
 - (E) procuram explicar como as organizações devem ser administradas.
48. As teorias prescritivas propõem recomendações e são divididas em duas categorias: as doutrinas e
- (A) as confirmações.
 - (B) os princípios.
 - (C) os preceitos.
 - (D) as técnicas.
 - (E) as avaliações.

49. A produção de conhecimentos administrativos por meio da aplicação de métodos científicos é semelhante a outras formas de pesquisa, que se dedicam ao estudo de outros fenômenos. Há cinco métodos mais comuns usados na pesquisa de administração: experimento, levantamento simples, levantamento correlacional,
- (A) método do caso e incidente crítico.
 - (B) grupo experimental e grupo de controle.
 - (C) modelo de Fiedler e modelo diretivo.
 - (D) modelo de Hersey-Blanchard e modelo holístico.
 - (E) modelo de Tannenbaum e Schmidt e modelos de decisão.
50. A Teoria Geral da Administração abrange os conhecimentos descritivos e prescritivos que se relacionam com as organizações, os administradores e o processo administrativo. As correntes de pensamento ou grupo de autores que privilegiam ou preferem determinado enfoque são denominadas (os)
- (A) filosofia.
 - (B) estereótipos.
 - (C) escolas.
 - (D) linha de Pesquisa.
 - (E) linha de Experimentação.
51. A motivação é o processo responsável pela intensidade, direção e persistência dos esforços de uma pessoa em relação ao alcance de uma determinada meta. A teoria ERG argumenta basicamente que as necessidades de nível baixo levam a um desejo de satisfazer as necessidades de nível alto e que múltiplas necessidades podem operar em conjunto. Para a teoria ERG há três grupos de necessidades essenciais: existência, relacionamento e
- (A) autorrealização.
 - (B) estima.
 - (C) segurança.
 - (D) fisiológica.
 - (E) crescimento.
52. Na teoria de McClelland, a necessidade de fazer as outras pessoas se comportarem de uma maneira que não o fariam naturalmente representa a necessidade de
- (A) realização.
 - (B) poder.
 - (C) associação.
 - (D) responsabilidade social.
 - (E) assunção de riscos moderados.
53. A teoria do reforço que apregoa que o comportamento é uma função de suas consequências apresenta um desacordo filosófico à teoria da
- (A) justiça de distribuição.
 - (B) justiça de processo.
 - (C) fixação de objetivos.
 - (D) equidade.
 - (E) expectativa.
54. A liderança é a capacidade de influenciar um grupo em direção ao alcance de objetivos. As teorias que propõem que comportamentos específicos diferenciam os líderes dos liderados são denominadas comportamentais. Estudos sobre liderança realizados pela Universidade de Michigan chegaram a duas dimensões do comportamento de liderança: orientação para o funcionário e
- (A) estrutura de iniciação.
 - (B) consideração.
 - (C) orientação para a produção.
 - (D) orientação para o *grid* gerencial.
 - (E) orientação para o desenvolvimento.
55. A teoria sobre liderança que oferece uma seqüência de regras que devem ser seguidas na determinação da forma e da quantidade de participação no processo decisório, em diferentes situações, é denominada
- (A) Teoria da meta de Myers-Briggs.
 - (B) Modelo da liderança de Baldrige.
 - (C) Teoria da troca de imperativos categóricos.
 - (D) Modelo de participação e liderança.
 - (E) Teoria do recurso cognitivo.
56. Pode-se apontar duas dimensões para a teoria ética: a ética da convicção (tratado dos deveres) e a ética da responsabilidade (estudo dos fins humanos). Representa uma característica da Ética da Responsabilidade
- (A) o entendimento que decisões decorrem da aplicação de uma tábua de valores preestabelecidos.
 - (B) a aplicação da máxima: “faça algo porque é um mandamento”.
 - (C) a utilização da vertente de princípio: “respeite as regras haja o que houver”.
 - (D) a utilização da vertente da esperança: “o sonho antes de tudo”.
 - (E) a utilização da vertente utilitarista: “faça o maior bem para mais gente”.

57. A diferença entre o maior e o menor valor em um conjunto de dados é denominado (a)

- (A) curva normal.
- (B) amplitude total.
- (C) média.
- (D) média ponderada.
- (E) moda.

Considere a seguinte distribuição de quantidade de horas para a produção de uma determinada atividade no período de 80 dias para responder às questões de números 58 a 60.

dia	1	2	3	4	5	6	7	8	9	10	11	12	13	14	15	16	17	18	19	20
tempo	3	3	4	5	8	4	5	6	3	2	2	1	1	6	6	6	3	4	5	6
dia	21	22	23	24	25	26	27	28	29	30	31	32	33	34	35	36	37	38	39	40
tempo	5	3	2	5	1	4	5	6	5	2	2	8	8	6	3	6	4	4	9	2
dia	41	42	43	44	45	46	47	48	49	50	51	52	53	54	55	56	57	58	59	60
tempo	1	3	2	3	1	4	5	6	7	8	2	8	8	2	3	6	4	1	9	2
dia	61	62	63	64	65	66	67	68	69	70	71	72	73	74	75	76	77	78	79	80
tempo	4	3	7	3	1	2	5	1	7	8	4	8	8	2	5	6	4	1	2	2

58. A Média desse conjunto de dados é

- (A) 2.
- (B) 4,26.
- (C) 4,77.
- (D) 5,10.
- (E) 6.

59. A Moda desse conjunto de dados é

- (A) 2.
- (B) 3.
- (C) 5.
- (D) 6.
- (E) 7.

60. A Mediana desse conjunto de dados é

- (A) 8.
- (B) 7.
- (C) 6.
- (D) 5.
- (E) 4.