



# Cidade de São José dos Campos

## Prefeitura Municipal


CONCURSO PÚBLICO

### **014. PROVA OBJETIVA**

#### **ANALISTA EM GESTÃO MUNICIPAL – ADMINISTRAÇÃO DE EMPRESAS**

- ♦ Você recebeu sua folha de respostas e este caderno contendo 60 questões objetivas.
- ♦ Confira seu nome e número de inscrição impressos na capa deste caderno.
- ♦ Leia cuidadosamente as questões e escolha a resposta que você considera correta.
- ♦ Responda a todas as questões.
- ♦ Marque, na folha intermediária de respostas, localizada no verso desta página, a letra correspondente à alternativa que você escolheu.
- ♦ Transcreva para a folha de respostas, com caneta de tinta azul ou preta, todas as respostas anotadas na folha intermediária de respostas.
- ♦ A duração da prova é de 4 horas.
- ♦ Só será permitido sair da sala após transcorrida a metade do tempo de duração da prova.
- ♦ Ao sair, você entregará ao fiscal a folha de respostas e este caderno, podendo destacar esta capa para futura conferência com o gabarito a ser divulgado.

**AGUARDE A ORDEM DO FISCAL PARA ABRIR ESTE CADERNO DE QUESTÕES.**



# Cidade de São José dos Campos

## Prefeitura Municipal

### FOLHA INTERMEDIÁRIA DE RESPOSTAS

QUESTÃO	RESPOSTA
01	A B C D E
02	A B C D E
03	A B C D E
04	A B C D E
05	A B C D E

06	A B C D E
07	A B C D E
08	A B C D E
09	A B C D E
10	A B C D E

11	A B C D E
12	A B C D E
13	A B C D E
14	A B C D E
15	A B C D E

16	A B C D E
17	A B C D E
18	A B C D E
19	A B C D E
20	A B C D E

QUESTÃO	RESPOSTA
21	A B C D E
22	A B C D E
23	A B C D E
24	A B C D E
25	A B C D E

26	A B C D E
27	A B C D E
28	A B C D E
29	A B C D E
30	A B C D E

31	A B C D E
32	A B C D E
33	A B C D E
34	A B C D E
35	A B C D E

36	A B C D E
37	A B C D E
38	A B C D E
39	A B C D E
40	A B C D E

QUESTÃO	RESPOSTA
41	A B C D E
42	A B C D E
43	A B C D E
44	A B C D E
45	A B C D E

46	A B C D E
47	A B C D E
48	A B C D E
49	A B C D E
50	A B C D E

51	A B C D E
52	A B C D E
53	A B C D E
54	A B C D E
55	A B C D E

56	A B C D E
57	A B C D E
58	A B C D E
59	A B C D E
60	A B C D E

## LÍNGUA PORTUGUESA

Leia o texto para responder às questões de números **01** a **05**.

Deu na *Folha* que o caos do trânsito paulistano atingiu o ABC. Os suspeitos são os de sempre: aumento da frota, *boom* imobiliário e sistema viário obsoleto.

Esse é um daqueles paradoxos do mundo moderno. A fim de aumentar a qualidade de vida, muitas famílias decidem ir morar um pouquinho mais longe, onde poderão usufruir de casas maiores e mais tranquilidade. Só que, **como** muitos \_\_\_\_\_ a mesma ideia, o lugar acaba ficando mais barulhento e \_\_\_\_\_ os congestionamentos, dois dos fatores que mais deterioram a qualidade de vida.

(Hélio Schwartsman, *Folha de S.Paulo*, 14.02.2012)

- 01.** As lacunas do texto devem ser preenchidas, correta e respectivamente, com
- (A) tem ... veem
  - (B) têm ... vêm
  - (C) tem ... vem
  - (D) têm ... vem
  - (E) tem ... vêm
- 02.** O paradoxo referido no segundo parágrafo do texto diz respeito
- (A) à falta de planejamento no trânsito, devido ao aumento da frota, ao *boom* imobiliário e ao sistema viário obsoleto.
  - (B) ao combate excessivo feito aos dois fatores que mais deterioram a qualidade de vida das pessoas.
  - (C) à busca de qualidade de vida que fica comprometida com os congestionamentos e os barulhos.
  - (D) ao fato de todas as pessoas pensarem da mesma forma e, assim, conseguirem um padrão melhor de vida.
  - (E) à crise gerada no trânsito do ABC sem que isso represente alteração na qualidade de vida dos moradores.

Para responder às questões de números **03** e **04**, considere o período – Os suspeitos são os de sempre: aumento da frota, *boom* imobiliário e sistema viário obsoleto.

- 03.** Em relação à pontuação no período, é correto afirmar que o emprego
- (A) da vírgula se dá pelo mesmo motivo que na frase – O *boom* imobiliário, que tem alterado o visual citadino, está em ascensão.
  - (B) dos dois pontos se dá pelo mesmo motivo que na frase – Ontem ele chegou e disse: Vamos jantar fora!
  - (C) da vírgula se dá pelo mesmo motivo que na frase – O *boom* imobiliário, diriam os pessimistas, pode reverter-se em problemas no futuro.
  - (D) dos dois pontos se dá pelo mesmo motivo que na frase – A esposa tinha suas razões para admirá-lo: caráter, sensibilidade, respeito e fidelidade.
  - (E) da vírgula se dá pelo mesmo motivo que na frase – Venha ver, querido, como o entardecer está revestido de magia!
- 04.** Na frase – Os suspeitos são **os** de sempre... – a palavra em destaque tem o mesmo emprego que se verifica na palavra destacada em:
- (A) Os carros estavam em alta velocidade, quando policiais **os** interceptaram.
  - (B) **Quem** poderia fazer o favor de me encomendar o novo dicionário?
  - (C) Alguns funcionários perguntaram se **os** salários atrasariam naquele mês.
  - (D) Todos os alunos fizeram a prova, mas só **alguns** assinaram a presença.
  - (E) **Aqueles** que precisavam de mais informações foram auxiliados.
- 05.** A conjunção “como”, em destaque no segundo parágrafo do texto, estabelece entre as orações do período relação de
- (A) causa.
  - (B) conformidade.
  - (C) comparação.
  - (D) finalidade.
  - (E) tempo.

Para responder às questões de números 06 a 10, leia o texto de Hélio Schwartzman.

*A felicidade não mora ao lado*

SÃO PAULO – Pesquisas mostram que a felicidade é, em larga medida, hereditária. Se você nasceu com um espírito jubiloso, parabéns. Se, por outro lado, tem um temperamento saturnino, é melhor acostumar-se com ele.

Eventos externos importam, mas de forma menos dramática e duradoura do que se imagina. Um bom exemplo é o de pessoas que sofrem acidentes que as deixam com deficiências físicas. Andrew Oswald avaliou o impacto dessas sequelas e concluiu que, num primeiro momento, elas reduzem bastante o grau de felicidade. Mas, com o passar do tempo, este volta a elevar-se, até estacionar em níveis semelhantes aos verificados antes do acidente. É o que os psicólogos chamam de “adaptação hedônica”.

Existem, porém, alguns fatores que se mostram resistentes à adaptação hedônica, isto é, aos quais não nos acostumamos, como se sabe por meio de mensurações dos hormônios de estresse. Enfrentar trânsito está nessa categoria. Ruídos, especialmente os intermitentes, também. Outros elementos pouco sensíveis à adaptação e que, por isso, conspiram contra a felicidade são a falta de controle sobre o ambiente e as relações conflituosas com familiares.

Isso nos lança no pior dos mundos. Nós nos acostumamos rapidamente ao espaço extra da casa nova, que deixa então de acrescentar felicidade, e passamos o resto de nossos dias pensando no trânsito barulhento.

(Folha de S.Paulo, 14.02.2012. Adaptado)

06. Segundo o autor, a adaptação hedônica implica a

- (A) elevação do grau de felicidade para a manutenção do estresse.
- (B) queda irreversível do grau de felicidade depois de acidentes.
- (C) redução do grau de felicidade com o passar da idade.
- (D) busca da elevação do grau de felicidade depois de algum trauma.
- (E) estabilidade do grau de felicidade depois de um acidente de carro.

07. No texto, a expressão “espírito jubiloso” estabelece relação de oposição com “temperamento saturnino”, sendo que o adjetivo desta expressão significa

- (A) ansioso.
- (B) triste.
- (C) evasivo.
- (D) festivo.
- (E) omissivo.

08. As informações textuais permitem afirmar que

- (A) trânsito e sons que param e recomeçam são fatores resistentes à adaptação hedônica.
- (B) a falta de controle sobre o ambiente potencializa o processo de adaptação hedônica.
- (C) as relações familiares são fatores incapazes de comprometer a adaptação hedônica.
- (D) os sons que mais comprometem a adaptação hedônica são aqueles que não cessam.
- (E) as situações de estresse são as mais adequadas para o processo de adaptação hedônica.

09. Analise as afirmações:

- I. De acordo com a norma-padrão da língua portuguesa, está correta quanto à crase: *Se, por outro lado, tem um temperamento saturnino, é melhor adaptar-se à ele.*
- II. De acordo com a norma-padrão da língua portuguesa, está correta quanto à regência nominal: *Andrew Oswald avaliou o impacto dessas sequelas e chegou à conclusão que, num primeiro momento, elas reduzem bastante o grau de felicidade.*
- III. De acordo com a norma-padrão da língua portuguesa, está correta quanto à regência verbal: *Mas, com o passar do tempo, este volta a elevar-se, até atingir níveis semelhantes aos verificados antes do acidente e estacionar.*

Está correto apenas o que se afirma em

- (A) I.
- (B) II.
- (C) III.
- (D) I e III.
- (E) II e III.

10. Na frase – Nós **nos** acostumamos rapidamente ao espaço extra da casa nova... – o pronome em destaque expressa sentido de

- (A) posse.
- (B) singularidade.
- (C) reciprocidade.
- (D) indefinição.
- (E) reflexividade.

## MATEMÁTICA E RACIOCÍNIO LÓGICO

11. O atleta J, com posicionamento voltado para o Norte, inicia uma caminhada nesse sentido. Anda 10 metros, para, gira  $45^\circ$  no sentido anti-horário, anda 10 metros, para, gira  $80^\circ$  no sentido horário, anda 10 metros, para, gira  $130^\circ$  no sentido anti-horário, anda 10 metros, para, gira  $200^\circ$  no sentido horário, anda 10 metros, para, gira  $42^\circ$  no sentido horário, anda 10 metros e para. Um único giro suficiente para que o atleta K, com posicionamento voltado para o Norte, inicie sua caminhada em uma direção paralela e sentido igual à última etapa percorrida por J pode ser

- (A) girar  $147^\circ$  no sentido anti-horário.
- (B) girar  $187^\circ$  no sentido horário.
- (C) girar  $213^\circ$  no sentido anti-horário.
- (D) girar  $315^\circ$  no sentido horário.
- (E) girar  $345^\circ$  no sentido horário.

12. Um valor de R\$ 8.000,00 é aplicado a uma taxa de juros simples de 2,5% a.m. Outra aplicação é feita com o valor de R\$ 50.000,00 a uma taxa de juros simples de 60% ao ano, durante quatro meses. O tempo necessário para que o montante da primeira aplicação seja igual aos juros obtidos na segunda aplicação é, em meses, igual a

- (A) 9.
- (B) 10.
- (C) 11.
- (D) 12.
- (E) 13.

13. 
$$\begin{cases} \sqrt[3]{729} \cdot x + \sqrt[3]{125} \cdot y + 2^4 = 146 \\ \frac{\sqrt{225}}{\sqrt[3]{27}} \cdot x - \sqrt{25} \cdot y + 4^3 = 74 \end{cases}$$

Os valores das incógnitas  $x$  e  $y$  que satisfazem esse sistema de equações são, respectivamente,

- (A) 10 e 8.
- (B) 8 e 10.
- (C) 12 e 6.
- (D) 6 e 12.
- (E) 8 e 12.

14. Uma rede de academias de ginástica possui 262 profissionais nas modalidades de musculação, ginástica e preparo físico. Os profissionais que atuam apenas em musculação são cinco a menos do que aqueles que são apenas preparadores físicos. Os que atuam apenas na modalidade ginástica são dois a mais do que aqueles que atuam apenas em preparo físico e musculação simultaneamente. Estes últimos, por sua vez, correspondem à metade dos que só atuam em preparo físico. Resta ainda um último grupo que atua apenas nas modalidades de musculação e ginástica simultaneamente e são em número de 25 profissionais.

A partir dessas informações e sabendo que não existem profissionais que atuam de forma diferente das mencionadas, pode-se afirmar que o número de profissionais dessa rede de academias, que atuam em mais de uma modalidade, é

- (A) 15.
- (B) 40.
- (C) 42.
- (D) 50.
- (E) 65.

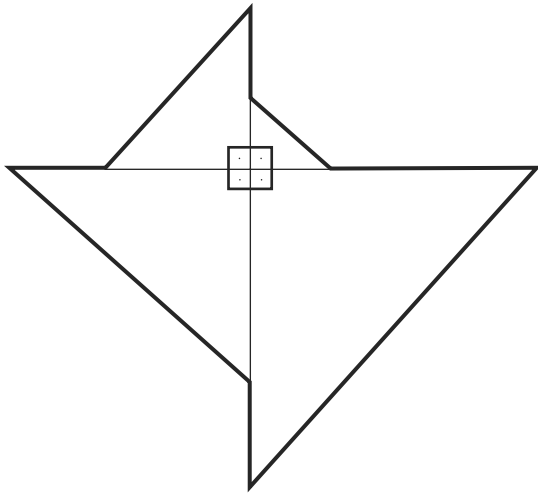
15. O número de divisões sucessivas por 2, sempre considerando o quociente da divisão como o dividendo da divisão seguinte, para que a partir do número 2 500 obtenha-se pela primeira vez um quociente menor que um, é

- (A) 10.
- (B) 11.
- (C) 12.
- (D) 13.
- (E) 14.

16. Um aposento retangular de uma casa foi construído com um acréscimo de 12% no seu comprimento em relação ao comprimento no projeto original. No entanto, a largura sofreu uma redução de 12% em relação à largura no projeto original. Sendo assim, em relação ao projeto original, a área desse aposento

- (A) aumentou menos que 2%.
- (B) diminuiu menos que 2%.
- (C) permaneceu exatamente igual.
- (D) diminuiu mais que 2%.
- (E) aumentou mais que 2%.

17. Observe a figura.



A figura é uma composição de quatro triângulos retângulos isósceles. As medidas dos catetos de cada triângulo são, respectivamente, 1 cm, 2 cm, 3 cm e 4 cm.

Dessa forma, a medida aproximada do perímetro da figura obtida por essa composição e destacada com traços mais grossos é, em cm,

(Se necessário, considere em seus cálculos os valores aproximados:  $\sqrt{2} = 1,4$ ;  $\sqrt{3} = 1,7$ ;  $\sqrt{5} = 2,2$ )

- (A) 9,7.
- (B) 12,2.
- (C) 14.
- (D) 20.
- (E) 22,2.

18. Um cilindro, cujo volume total interno é de 55 litros, está completamente cheio de água. Um cubo, cujas arestas internas medem 50 cm, está com a metade de sua capacidade ocupada com água. Despeja-se todo o conteúdo do cilindro dentro do cubo. Desse modo,

**Dados:** 1 m<sup>3</sup> corresponde a 1 000 litros

- (A) o cubo fica completamente cheio e doze litros e meio escorrem para o lado de fora do cubo.
- (B) o cubo fica completamente cheio e sete litros e meio escorrem para o lado de fora do cubo.
- (C) o cubo fica completamente cheio e nada escorre para fora do cubo.
- (D) o cubo não fica cheio e ainda sobra espaço para sete litros e meio.
- (E) o cubo não fica cheio e ainda sobra espaço para doze litros e meio.

19. Uma pessoa irá caminhar com as seguintes determinações:

- I. só caminhará nos sentidos Norte (N), Sul (S), Leste (L) e Oeste(O);
- II. caminhará sempre em etapas de 500 m, se o sentido for L e em etapas de 400 m se o sentido for O;
- III. caminhará o dobro do que caminhou na etapa anterior se o sentido for N;
- IV. caminhará a metade do que caminhou na etapa anterior se o sentido for S;
- V. as etapas que a pessoa caminhará serão determinadas pelos símbolos dos sentidos: cada letra representará uma etapa naquele sentido.

A distância, em Km, percorrida por uma pessoa que cumpre o percurso L, S, O, N, L, N, S, O, S, N é

- (A) 4,85.
- (B) 4,90.
- (C) 4,95.
- (D) 5,05.
- (E) 5,25.

20. Uma pesquisa demonstrou que 12 kg de gás é suficiente para preparar 3 refeições diárias, compostas de um cardápio A, que servem 8 pessoas durante 30 dias. Com 4 kg a mais que os 12 kg de gás já mencionados e com a necessidade de preparar 4 refeições diárias, do mesmo cardápio A, para servir 6 pessoas, o número de dias nos quais isso será possível, seguindo as proporções demonstradas na pesquisa, é

- (A) 40.
- (B) 42.
- (C) 45.
- (D) 48.
- (E) 50.

21. Em um certo dia o chefe entra no escritório, percebe que uma tarefa não foi feita, e diz: “Ninguém era responsável pela tarefa ou o responsável por ela não a fez.” No dia seguinte, o mesmo chefe entra no escritório, percebe que uma tarefa havia sido feita e diz uma frase que é exatamente a negação lógica da frase que ele havia dito e que está escrita no início dessa questão. Uma frase que é a negação lógica da frase dita pelo chefe no início dessa questão é:

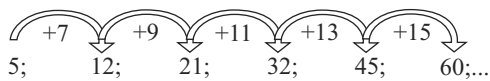
- (A) Alguém era responsável pela tarefa ou o responsável a fez.
- (B) O responsável pela tarefa não a fez.
- (C) Ninguém era responsável pela tarefa, mas alguém a fez.
- (D) Todos eram responsáveis pela tarefa e todos a fizeram.
- (E) Alguém era responsável pela tarefa e o responsável a fez.

22. Sabe-se que  $945 = 3 \cdot 3 \cdot 3 \cdot 5 \cdot 7$  e que  $990 = 2 \cdot 3 \cdot 3 \cdot 5 \cdot 11$ . O maior número que pode ser utilizado como divisor dos elementos da fração  $\frac{945}{990}$  de modo a deixá-la irredutível é

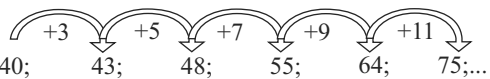
- (A) 5.
- (B) 9.
- (C) 15.
- (D) 45.
- (E) 90.

23. Observe as seqüências de números naturais I e II, ilimitadas, e suas respectivas leis de formação, expressas por setas na formação dos novos termos:

Seqüência I: 5; 12; 21; 32; 45; 60;...



Seqüência II: 40; 43; 48; 55; 64; 75;...



Dessa forma, a diferença entre o décimo termo da seqüência I e o nono termo da seqüência II, nessa ordem, é

- (A) - 4.  
 (B) 2.  
 (C) 8.  
 (D) 14.  
 (E) 20.
24. Uma empresa avalia a qualidade do seu serviço de atendimento ao cliente, pedindo a este que atribua uma nota ao atendimento recebido. O cliente deve escolher um dos números naturais de 1 a 5 para graduar a sua avaliação, levando em conta que o número 1 significa “completamente insatisfeito” e o número 5 significa “plenamente satisfeito”.

Um atendente, após seu período de trabalho, recebeu 93 notas conforme mostra a tabela:

NOTAS	1	2	3	4	5
NÚMERO DE ATRIBUIÇÕES	26	0	9	16	42

A média aritmética ponderada, aproximada para o número natural mais próximo, desse atendente, é

- (A) 1.  
 (B) 2.  
 (C) 3.  
 (D) 4.  
 (E) 5.
25. Cria-se, associado a um experimento, um parâmetro chamado TRUCX. O parâmetro TRUCX é inversamente proporcional ao tempo de duração do experimento. Quando TRUCX é 50, o tempo de duração do experimento é de 3 horas e 30 minutos. Com um TRUCX 50% a mais que 50, o tempo de duração do experimento é de
- (A) 1 hora e 30 minutos.  
 (B) 1 hora e 45 minutos.  
 (C) 2 horas.  
 (D) 2 horas e 15 minutos.  
 (E) 2 horas e 20 minutos.

## ATUALIDADES

26. A UE (União Europeia) aprovou nas primeiras horas desta terça-feira (21.02) o acordo que prevê um segundo resgate financeiro à Grécia, no valor de 130 bilhões de euros. O acordo só foi aprovado mediante a formulação, por parte da Grécia, de diversas medidas de austeridade que visam reduzir a dívida do país.

(operamundi.uol.com.br, 21.02.2012. Adaptado)

Em geral, a reação da população grega aos acordos do seu governo com a União Europeia tem sido marcada por

- (A) compreensão, pois os acordos beneficiam toda a população.  
 (B) apatia, pois não lhes resta outra alternativa para sair da crise.  
 (C) alegria, pois o resgate financeiro será utilizado em políticas sociais.  
 (D) revolta, pois haverá corte de gastos com salários e assistência social.  
 (E) resignação, pois anos de crise deixaram a população conformada.
27. Uma resolução da ONU que tentaria encerrar a crise na Síria foi vetada neste sábado em Nova York. Dois membros permanentes do Conselho de Segurança da ONU rejeitaram a proposta de resolução que apoiava o plano de paz da Liga Árabe e pedia que o presidente sírio, Bashar al-Assad, renunciasse ao cargo.

(Portal BBC Brasil, 04.02.2012. Adaptado)

Os países que votaram contra a resolução da ONU são

- (A) França e Inglaterra.  
 (B) Estados Unidos e Alemanha.  
 (C) Rússia e China.  
 (D) Japão e Índia.  
 (E) Canadá e Itália.
28. As mobilizações das Polícias Militares por todo o Brasil, das quais a greve que terminou no dia 11 de fevereiro na Bahia foi o principal exemplo, estão relacionadas à pressão pela aprovação da Proposta de Emenda Constitucional n.º 300, a PEC-300, no Congresso. A PEC-300 está para ser votada no Congresso há mais de três anos. Caso aprovada, estabelecerá, para os policiais militares de todos os Estados,
- (A) um piso salarial nacional.  
 (B) uma remuneração idêntica equivalente ao dobro do salário mínimo.  
 (C) uma política comum de benefícios e complementos salariais.  
 (D) o direito à aposentadoria integral.  
 (E) o direito à estabilidade no serviço público.

29. Nos EUA, o Partido Republicano está em processo de escolha do seu candidato à presidência para as eleições de novembro de 2012, em que enfrentará o atual presidente Barack Obama, do Partido Democrata.

Uma das críticas feita pelos pré-candidatos republicanos a Obama tem sido direcionada

- (A) ao insucesso dos EUA na guerra da Bósnia.
- (B) ao excelente desempenho econômico dos EUA em meio à crise.
- (C) à política de distanciamento do governo federal com Cuba.
- (D) ao programa de socialização de terras.
- (E) à inação do governo diante do aumento do poderio chinês.

30. De acordo com dados divulgados em janeiro de 2012 pelo IBGE, a taxa de desemprego no país ficou em 4,7% em dezembro do ano passado, menor percentual desde março de 2002, quando o IBGE mudou a forma de cálculo da pesquisa.

Esses dados indicam que

- (A) mesmo com o crescimento econômico dos últimos anos, o Brasil não vem conseguindo diminuir o número de desempregados.
- (B) os reflexos da crise financeira internacional ainda não chegaram ao país, que segue reduzindo o desemprego.
- (C) apesar de ser agora a sexta maior economia do mundo, o Brasil convive com as maiores taxas de desemprego de sua história.
- (D) o país precisa, com urgência, de uma política de criação de postos de trabalho, pois o desemprego só tem crescido.
- (E) é preciso desestimular o crescimento, pois uma taxa de desemprego de 4,7% é insustentável para o desenvolvimento do país.

## CONHECIMENTOS ESPECÍFICOS

31. A proposta do novo serviço público possui contornos que remontam às décadas de 1970 e 1980, entendendo-se o ser humano, antes de mais nada, como um ser político que age na comunidade, que por sua vez, é politicamente articulada e requer a participação do cidadão para a construção do bem comum.

Essa proposta traduz o entendimento sobre serviço público que é:

- (A) busca-se a eficiência pela maximização da produtividade em massa.
- (B) os custos e a ineficiência da Administração Pública demonstram que têm pouca qualificação para suas demandas.
- (C) o paradigma vigente é o do interesse próprio.
- (D) o bem comum do cidadão justifica a busca do interesse privado.
- (E) o bem comum precede a busca do interesse privado.

32. Por serviço público entende-se aquele que

- (A) presume prévia existência de um produto estático.
- (B) é o produto cristalizado de uma operação humana.
- (C) ao ser entregue ao uso comum, o administrador extrai-lhe proveitos, independentemente da atuação de terceiros.
- (D) se propõe a atender conveniências ou necessidades da coletividade em geral.
- (E) trata de um desempenho cujo objeto é a construção de uma obra que independe de uma prestação de contas.

33. É vedada a celebração de contrato de parceria público-privada cujo período de prestação do serviço seja

- (A) superior a 8 (oito) anos.
- (B) inferior a 5 (cinco) anos.
- (C) superior a 5 (cinco) anos.
- (D) entre 6 (seis) e 7 (sete) anos.
- (E) entre 5 (cinco) e 6 (seis) anos.

34. A contraprestação da Administração Pública, nos contratos de parceria público-privada, poderá prever o pagamento ao parceiro privado de

- (A) outorga de créditos em face da administração pública.
- (B) outorga de créditos sobre bens públicos eventuais.
- (C) cessão de débitos não tributários.
- (D) remuneração fixa vinculada ao seu desempenho.
- (E) remuneração variável vinculada ao seu desempenho.



35. Quando são abordados os propósitos gerais que devem estar contidos no plano orçamentário, afirma-se que ele incorpora os dados do cenário aprovado e das premissas orçamentárias. Entre as alternativas a seguir, identifique aquela que nomeia corretamente essa explicação.
- (A) Canal de comunicação e coordenação.
  - (B) Instrumento de motivação.
  - (C) Instrumento de avaliação e controle.
  - (D) Sistema de autorização.
  - (E) Meio para projeções e planejamento.
36. É possível fazer a análise financeira com ferramental tradicional de análise de balanço. Tomam-se como 100% todas as contas de um determinado período e faz-se uma relação percentual sobre os dados desse período. Uma dessas técnicas, que é a que analisa o crescimento (ou variação) de um ou mais períodos, é denominada
- (A) análise vertical.
  - (B) análise horizontal real.
  - (C) análise horizontal.
  - (D) indicadores econômico-financeiros.
  - (E) restrições dos dados.
37. O Plano Plurianual estrutura-se em 3 (três) dimensões. Identifique, entre as alternativas, aquela que nomeia corretamente o conceito a seguir:  
Define caminhos exequíveis para o alcance dos objetivos e das transformações definidas na dimensão estratégica, considerando as variáveis inerentes à política pública tratada. Vincula os programas temáticos para consecução dos objetivos assumidos, estes materializados pelas iniciativas expressas no plano.  
Trata-se da Dimensão
- (A) operacional.
  - (B) social.
  - (C) técnica.
  - (D) estratégica.
  - (E) tática.
38. O programa temático retrata, nas orientações para elaboração do Plano Plurianual 2012/2015, a agenda de governo organizada pelos temas de políticas públicas e
- (A) declara às empresas estatais a entrega de ações.
  - (B) orienta o controle de leis.
  - (C) orienta a ação governamental.
  - (D) instrumentaliza um conjunto de ações e controles ao setor privado.
  - (E) visualiza os controles sobre os programas operacionais do governo.
39. A evolução do orçamento vem sendo gradativa, deixando de ser tradicional nos casos em que a função principal era propiciar o controle sobre as finanças públicas, visualizando receita x despesas, passando para o orçamento por
- (A) gastos.
  - (B) desempenho.
  - (C) práticas contábeis.
  - (D) práticas econômicas.
  - (E) ação exclusiva.
40. A proposta da Lei Orçamentária Anual – LOA compreende os três tipos distintos de orçamentos da União: o Orçamento fiscal, o Orçamento de investimento e o
- (A) Orçamento da seguridade social.
  - (B) Orçamento da previdência social.
  - (C) Orçamento das despesas das empresas estatais.
  - (D) Orçamento das receitas das empresas estatais.
  - (E) Orçamento dos investimentos das secretarias municipais.
41. O projeto de Lei Orçamentária será acompanhado de demonstrativo regionalizado do efeito, sobre as receitas e despesas, decorrentes de isenções, anistias, remissões, subsídios e benefícios de natureza financeira, tributária e creditícia.
- O destacado no parágrafo anterior deixa claro que deve haver compatibilidade entre a LOA, a PPA e a LDO. O motivo dessa compatibilidade deve-se ao fato de que a LOA
- (A) compõe as orientações para elaboração da PPA.
  - (B) foi a definição do planejamento.
  - (C) estabelece os programas de longa duração do governo.
  - (D) estimula as receitas e os gastos que o governo espera para o próximo ano.
  - (E) orienta e elabora a execução do orçamento anual.
42. O Estado tem três funções declaradas: a alocativa, a redistributiva e a estabilizadora. Essas três funções devem estar interligadas com a tributação que é um instrumento de execução política econômica para poder obter
- (A) a condição política plena.
  - (B) a remuneração ao funcionalismo.
  - (C) a maximização de bem-estar social.
  - (D) os mecanismos qualitativos necessários para manter o poder.
  - (E) os mecanismos quantitativos que afetam as regras da propriedade privada.

43. O imposto sobre a propriedade predial e territorial urbana, de competência dos Municípios, tem como fato gerador a propriedade, o domínio útil ou a posse de bem imóvel por natureza ou acessão física, como definido na Lei Civil, localizado na zona urbana do município. Para os efeitos deste imposto, entende-se como zona urbana a que compreende: meio-fio ou calçamento, com canalização de águas pluviais; abastecimento de água; sistema de esgotos sanitários e abastecimento de água; rede de iluminação pública com ou sem posteamento para distribuição e escola primária ou posto de saúde a uma distância máxima de 3 (três) quilômetros do imóvel considerado. Para efeito ainda deste imposto, é observado o requisito único da existência de melhoramentos indicados em:
- (A) pelo menos 2 (dois) desses quesitos.
  - (B) pelo menos 3 (três) desses quesitos.
  - (C) pelo menos 4 (quatro) desses quesitos.
  - (D) por 1 (um) desses quesitos.
  - (E) pelo livre arbítrio da municipalidade.
44. Organizar a atividade humana de modo estável para a consecução de fins organizacionais explícitos é o objetivo da
- (A) burocracia.
  - (B) produtividade.
  - (C) dependência de recursos.
  - (D) cultura e aprendizagem organizacional.
  - (E) racionalidade.
45. Como corpo de conhecimentos, métodos e técnicas, a administração estrutura-se em torno de dois pilares:
- I. o primeiro diz respeito à eficiência potencial;
  - II. o primeiro diz respeito à eficiência real;
  - III. o segundo diz respeito à eficiência potencial;
  - IV. o segundo diz respeito à eficiência real.
- Assinale a alternativa que reúne os dois itens corretos.
- (A) II e III.
  - (B) II e IV.
  - (C) I e IV.
  - (D) I e III.
  - (E) I e II.
46. A cultura de uma organização é percebida por meio da linguagem, dos símbolos e das imagens, das histórias e dos mitos, dos rituais e das cerimônias, dos hábitos e dos valores que permeiam essa organização, além dos seus objetos visíveis e físicos. Para Schein, a origem dos elementos que compõem a cultura de uma organização está na luta pela sua sobrevivência. De acordo com a visão sistêmica, uma organização, tal qual um organismo, luta para fugir da “morte” (entropia). Dessa forma, para desenvolver-se e sobreviver, o grupo organizacional tem dois grandes problemas a solucionar. Identifique esses problemas entre as alternativas a seguir.
- (A) Adaptar-se à coerência interna e manter-se no meio ambiente.
  - (B) Adaptar-se ao meio ambiente e manter a coerência interna.
  - (C) Adaptar-se à coerência externa e manter-se no meio ambiente.
  - (D) Adaptar-se ao meio ambiente e manter a coerência externa.
  - (E) Adaptar-se ao ambiente interno e manter a coerência externa.
47. Os textos sobre cultura organizacional produzem três conjuntos de sentidos:
- I. referem-se à cultura como algo ligado aos padrões e hábitos, ao exercício do poder e aos comportamentos;
  - II. como aquilo que é capaz de produzir idealidade grupal / organizacional e mesmo nacional;
  - III. interpretam a realidade das organizações.
- Identificando o fator relevante de cada um dos conjuntos de sentidos entre as alternativas a seguir, assinale aquela que os apresenta na sequência correta.
- (A) Imagem Identitária; Mecanismo e Instrumento; Valor.
  - (B) Valor; Imagem Identitária; Mecanismo e Instrumento.
  - (C) Mecanismo e Instrumento; Valor; Imagem Identitária.
  - (D) Imagem Identitária; Valor; Mecanismo e Instrumento.
  - (E) Valor; Mecanismo e Instrumento; Imagem Identitária.
48. A busca de informações, a realização de contratos, a burocracia são alguns dos custos necessários para
- (A) tipificar reciprocamente os papéis e ações rotineiras de múltiplos fatores.
  - (B) a relação das organizações com outros setores e não do próprio setor.
  - (C) que agentes econômicos estimulem gastos indiretos para convencer outras organizações.
  - (D) tratar da política consciente de “fazer vistas grossas” (*overlooking*).
  - (E) efetivar trocas comerciais e interações entre indivíduos e agentes econômicos.

49. As organizações ou uma de suas unidades organizacionais, são acionadas para o processamento de informações e insumos obtidos do ambiente pelo subsistema Entrada para a produção de bens e serviços. Estes, por sua vez, encontram no contexto atores ou agentes que necessitam deles. Entre as alternativas a seguir, indique a que contém corretamente atores ou agentes que preencham essas condições.
- (A) Consumidores e fornecedores.  
 (B) Consumidores e expectativas pessoais.  
 (C) Consumidores e competências.  
 (D) Usuários e formação.  
 (E) Usuários e comprometimento.
50. A gestão da cadeia de suprimentos é entendida como
- I. a integração dos processos-chave de um negócio;
  - II. partindo do fornecedor até a produção do produto acabado;
  - III. partindo do usuário final até os fornecedores iniciais de produtos, serviços e informações;
  - IV. que adicionam retorno somente ao vendedor e ao acionista;
  - V. que adicionam valor para o comprador e para outros *stakeholders*.
- Entre as alternativas a seguir, assinale a que apresenta apenas as assertivas corretas.
- (A) I, II e III.  
 (B) I, III e V.  
 (C) II, III e IV.  
 (D) II, IV e V.  
 (E) III, IV e V.
51. Estudos de logística, a partir da cadeia de fornecimento ou de suprimentos, entendem que esta possui algumas atividades primárias e outras secundárias. As atividades primárias são aquelas que são identificadas pela sua importância primária para o atingimento dos objetivos de custo e nível de serviço. Entre as alternativas, indique a que contém somente atividades consideradas primárias.
- (A) Armazenagem, manutenção da informação e transportes.  
 (B) Armazenagem, manuseio de materiais e processamento de pedidos.  
 (C) Manuseio de materiais, manutenção de estoques e programação e controle da produção.  
 (D) Transportes, manutenção de estoques e processamento de pedidos.  
 (E) Transportes, armazenagem e manutenção da informação.
52. A movimentação de produtos do consumidor em direção ao produtor na cadeia de distribuição indica o conceito de logística
- (A) integrada.  
 (B) reversa.  
 (C) processual.  
 (D) linear.  
 (E) de intervenção.
53. Nas primeiras teorias motivacionais, o homem é visto como um ser racional que procura satisfazer seus desejos por meio da ação orientada pelo pensamento. Uma dessas teorias defende o princípio de que o comportamento do homem é orientado pela busca do prazer. Trata-se da teoria
- (A) do impulso.  
 (B) do instinto.  
 (C) hedonista.  
 (D) da hierarquia.  
 (E) higiênica.
54. Com base em análises de pesquisa e experiência de trabalho com muitas organizações e gestores distintos, surgiram quatro perspectivas ou referenciais que são a base das lideranças eficazes. Cada uma dessas perspectivas ou referenciais vê o mundo a partir de um conjunto específico de valores e de suposições básicas. Um referencial, em que a organização é como uma máquina e cabe a seu líder ou líderes a reorganização, cujo esforço deve encaminhar para a restauração do equilíbrio dessa mesma organização, é o
- (A) simbólico.  
 (B) político.  
 (C) dos recursos humanos.  
 (D) pós-moderno.  
 (E) estrutural.
55. O poder é um dos objetos da Liderança. A palavra poder tem dois significados que vêm do grego: da palavra *cratos*, que significa poder ou autoridade suprema e da palavra *arque*, que significa o que está na frente, o que tem o comando. Palavras compostas com essa raiz designam a quantidade dos que governam:
- I. governo de um só;
  - II. governo de alguns;
  - III. governo de ninguém.
- Assinale a alternativa que apresenta, respectivamente, a tipologia que identifica os governos que representam essas designações.
- (A) Oligarquia; Monarquia; Anarquia.  
 (B) Anarquia; Monarquia; Oligarquia.  
 (C) Oligarquia; Anarquia; Monarquia.  
 (D) Monarquia; Oligarquia; Anarquia.  
 (E) Monarquia; Anarquia; Oligarquia.

56. A forma extrema ou avançada de estresse é fruto de estresse laboral crônico, que afeta os profissionais e sua relação com o trabalho. Essa síndrome leva a que a ocupação deixe de fazer sentido e inicie e cresça o desinteresse e sentimentos de realização profissional. Essa síndrome recebe a denominação de
- (A) Absenteísmo.
  - (B) Turnover.
  - (C) Burnout.
  - (D) Foucault.
  - (E) Neuropsicosocial.
57. Assinale a alternativa correta que representa o sistema que tem por finalidade cadastrar e habilitar parcialmente pessoas físicas ou jurídicas interessadas em participar de licitações, realizadas por órgãos/entidades do Poder Executivo Federal, bem como acompanhar o desempenho dos fornecimentos contratados.
- (A) SICAF.
  - (B) SISG.
  - (C) SISCOM.
  - (D) SIAFI.
  - (E) SIDEC.
58. O levantamento de informações é responsável por possibilitar o delineamento do perfil das políticas públicas, subsidiando e racionalizando os trabalhos de planejamento e, conseqüentemente, a execução das ações de controle. Os levantamentos de informações visando ao controle interno do Poder Executivo Federal, têm o propósito de, entre outros,
- (A) conhecer as áreas e os aspectos abordados na execução de planos de ação implementados pelos órgãos do sistema de planejamento estratégico e operacional.
  - (B) determinar quais programas e ações de governo, a organização, os sistemas, as operações na elaboração das atividades identificadas no planejamento estratégico-operacional.
  - (C) determinar as áreas específicas e os aspectos a serem subordinados no planejamento das áreas quando da elaboração dos controles internos e externos.
  - (D) verificar o cumprimento das ações efetivadas sem divulgação dos órgãos ligados respectivamente à esfera Estadual e Municipal.
  - (E) verificar o cumprimento das recomendações e determinações dos órgãos do Sistema de Controle Interno e do Controle Externo, respectivamente.
59. A qualificação de fornecedores, com o fim de facilitar o julgamento de seu empenho, envolve conhecimentos técnicos e comerciais a respeito do assunto. Para qualificar fornecedores, é preciso verificar as seguintes condições: a estrutura organizacional do fornecedor; o planejamento, o controle e as melhorias da qualidade do fornecedor, o processo, as instalações e os laboratórios do fornecedor; a capacidade de atendimento comercial do fornecedor; os recursos de pessoal do fornecedor; e
- (A) o interesse dos acionistas na negociação com o fornecedor.
  - (B) o planejamento estratégico do fornecedor.
  - (C) a situação financeira do fornecedor.
  - (D) a situação produtiva dos fornecedores do fornecedor.
  - (E) a aceitação das regras impostas pelo fornecedor.
60. Existem quatro diferentes níveis de relacionamento entre contratantes e fornecedores. Um desses níveis busca o gerenciamento comum dos procedimentos de negócios, a avaliação global dos fornecedores, as parcerias com fornecedores mais importantes, a integração entre os sistemas de garantia da qualidade, entre outros. Este tópico refere-se à
- (A) abordagem convencional.
  - (B) integração operacional.
  - (C) integração tática.
  - (D) integração estratégica.
  - (E) melhoria da qualidade.