



# **Prefeitura de SOROCABA**

CONCURSO PÚBLICO

## **019. PROVA OBJETIVA**

TÉCNICO EM ENFERMAGEM – SAAE

- ♦ Você recebeu sua folha de respostas e este caderno contendo 50 questões objetivas.
- ♦ Confira seu nome e número de inscrição impressos na capa deste caderno.
- ♦ Leia cuidadosamente as questões e escolha a resposta que você considera correta.
- ♦ Responda a todas as questões.
- ♦ Marque, na folha intermediária de respostas, localizada no verso desta página, a letra correspondente à alternativa que você escolheu.
- ♦ Transcreva para a folha de respostas, com caneta de tinta azul ou preta, todas as respostas anotadas na folha intermediária de respostas.
- ♦ A duração da prova é de 4 horas.
- ♦ A saída do candidato da sala será permitida após transcorrida a metade do tempo de duração da prova.
- ♦ Ao sair, você entregará ao fiscal a folha de respostas e este caderno, podendo destacar esta capa para futura conferência com o gabarito a ser divulgado.

**AGUARDE A ORDEM DO FISCAL PARA ABRIR ESTE CADERNO DE QUESTÕES.**



**Prefeitura de**  
**SOROCABA**

**FOLHA INTERMEDIÁRIA DE RESPOSTAS**

QUESTÃO	RESPOSTA				
01	<input type="checkbox"/> A	<input type="checkbox"/> B	<input type="checkbox"/> C	<input type="checkbox"/> D	<input type="checkbox"/> E
02	<input type="checkbox"/> A	<input type="checkbox"/> B	<input type="checkbox"/> C	<input type="checkbox"/> D	<input type="checkbox"/> E
03	<input type="checkbox"/> A	<input type="checkbox"/> B	<input type="checkbox"/> C	<input type="checkbox"/> D	<input type="checkbox"/> E
04	<input type="checkbox"/> A	<input type="checkbox"/> B	<input type="checkbox"/> C	<input type="checkbox"/> D	<input type="checkbox"/> E
05	<input type="checkbox"/> A	<input type="checkbox"/> B	<input type="checkbox"/> C	<input type="checkbox"/> D	<input type="checkbox"/> E

06	<input type="checkbox"/> A	<input type="checkbox"/> B	<input type="checkbox"/> C	<input type="checkbox"/> D	<input type="checkbox"/> E
07	<input type="checkbox"/> A	<input type="checkbox"/> B	<input type="checkbox"/> C	<input type="checkbox"/> D	<input type="checkbox"/> E
08	<input type="checkbox"/> A	<input type="checkbox"/> B	<input type="checkbox"/> C	<input type="checkbox"/> D	<input type="checkbox"/> E
09	<input type="checkbox"/> A	<input type="checkbox"/> B	<input type="checkbox"/> C	<input type="checkbox"/> D	<input type="checkbox"/> E
10	<input type="checkbox"/> A	<input type="checkbox"/> B	<input type="checkbox"/> C	<input type="checkbox"/> D	<input type="checkbox"/> E

11	<input type="checkbox"/> A	<input type="checkbox"/> B	<input type="checkbox"/> C	<input type="checkbox"/> D	<input type="checkbox"/> E
12	<input type="checkbox"/> A	<input type="checkbox"/> B	<input type="checkbox"/> C	<input type="checkbox"/> D	<input type="checkbox"/> E
13	<input type="checkbox"/> A	<input type="checkbox"/> B	<input type="checkbox"/> C	<input type="checkbox"/> D	<input type="checkbox"/> E
14	<input type="checkbox"/> A	<input type="checkbox"/> B	<input type="checkbox"/> C	<input type="checkbox"/> D	<input type="checkbox"/> E
15	<input type="checkbox"/> A	<input type="checkbox"/> B	<input type="checkbox"/> C	<input type="checkbox"/> D	<input type="checkbox"/> E

16	<input type="checkbox"/> A	<input type="checkbox"/> B	<input type="checkbox"/> C	<input type="checkbox"/> D	<input type="checkbox"/> E
17	<input type="checkbox"/> A	<input type="checkbox"/> B	<input type="checkbox"/> C	<input type="checkbox"/> D	<input type="checkbox"/> E
18	<input type="checkbox"/> A	<input type="checkbox"/> B	<input type="checkbox"/> C	<input type="checkbox"/> D	<input type="checkbox"/> E
19	<input type="checkbox"/> A	<input type="checkbox"/> B	<input type="checkbox"/> C	<input type="checkbox"/> D	<input type="checkbox"/> E
20	<input type="checkbox"/> A	<input type="checkbox"/> B	<input type="checkbox"/> C	<input type="checkbox"/> D	<input type="checkbox"/> E

21	<input type="checkbox"/> A	<input type="checkbox"/> B	<input type="checkbox"/> C	<input type="checkbox"/> D	<input type="checkbox"/> E
22	<input type="checkbox"/> A	<input type="checkbox"/> B	<input type="checkbox"/> C	<input type="checkbox"/> D	<input type="checkbox"/> E
23	<input type="checkbox"/> A	<input type="checkbox"/> B	<input type="checkbox"/> C	<input type="checkbox"/> D	<input type="checkbox"/> E
24	<input type="checkbox"/> A	<input type="checkbox"/> B	<input type="checkbox"/> C	<input type="checkbox"/> D	<input type="checkbox"/> E
25	<input type="checkbox"/> A	<input type="checkbox"/> B	<input type="checkbox"/> C	<input type="checkbox"/> D	<input type="checkbox"/> E

QUESTÃO	RESPOSTA				
26	<input type="checkbox"/> A	<input type="checkbox"/> B	<input type="checkbox"/> C	<input type="checkbox"/> D	<input type="checkbox"/> E
27	<input type="checkbox"/> A	<input type="checkbox"/> B	<input type="checkbox"/> C	<input type="checkbox"/> D	<input type="checkbox"/> E
28	<input type="checkbox"/> A	<input type="checkbox"/> B	<input type="checkbox"/> C	<input type="checkbox"/> D	<input type="checkbox"/> E
29	<input type="checkbox"/> A	<input type="checkbox"/> B	<input type="checkbox"/> C	<input type="checkbox"/> D	<input type="checkbox"/> E
30	<input type="checkbox"/> A	<input type="checkbox"/> B	<input type="checkbox"/> C	<input type="checkbox"/> D	<input type="checkbox"/> E

31	<input type="checkbox"/> A	<input type="checkbox"/> B	<input type="checkbox"/> C	<input type="checkbox"/> D	<input type="checkbox"/> E
32	<input type="checkbox"/> A	<input type="checkbox"/> B	<input type="checkbox"/> C	<input type="checkbox"/> D	<input type="checkbox"/> E
33	<input type="checkbox"/> A	<input type="checkbox"/> B	<input type="checkbox"/> C	<input type="checkbox"/> D	<input type="checkbox"/> E
34	<input type="checkbox"/> A	<input type="checkbox"/> B	<input type="checkbox"/> C	<input type="checkbox"/> D	<input type="checkbox"/> E
35	<input type="checkbox"/> A	<input type="checkbox"/> B	<input type="checkbox"/> C	<input type="checkbox"/> D	<input type="checkbox"/> E

36	<input type="checkbox"/> A	<input type="checkbox"/> B	<input type="checkbox"/> C	<input type="checkbox"/> D	<input type="checkbox"/> E
37	<input type="checkbox"/> A	<input type="checkbox"/> B	<input type="checkbox"/> C	<input type="checkbox"/> D	<input type="checkbox"/> E
38	<input type="checkbox"/> A	<input type="checkbox"/> B	<input type="checkbox"/> C	<input type="checkbox"/> D	<input type="checkbox"/> E
39	<input type="checkbox"/> A	<input type="checkbox"/> B	<input type="checkbox"/> C	<input type="checkbox"/> D	<input type="checkbox"/> E
40	<input type="checkbox"/> A	<input type="checkbox"/> B	<input type="checkbox"/> C	<input type="checkbox"/> D	<input type="checkbox"/> E

41	<input type="checkbox"/> A	<input type="checkbox"/> B	<input type="checkbox"/> C	<input type="checkbox"/> D	<input type="checkbox"/> E
42	<input type="checkbox"/> A	<input type="checkbox"/> B	<input type="checkbox"/> C	<input type="checkbox"/> D	<input type="checkbox"/> E
43	<input type="checkbox"/> A	<input type="checkbox"/> B	<input type="checkbox"/> C	<input type="checkbox"/> D	<input type="checkbox"/> E
44	<input type="checkbox"/> A	<input type="checkbox"/> B	<input type="checkbox"/> C	<input type="checkbox"/> D	<input type="checkbox"/> E
45	<input type="checkbox"/> A	<input type="checkbox"/> B	<input type="checkbox"/> C	<input type="checkbox"/> D	<input type="checkbox"/> E

46	<input type="checkbox"/> A	<input type="checkbox"/> B	<input type="checkbox"/> C	<input type="checkbox"/> D	<input type="checkbox"/> E
47	<input type="checkbox"/> A	<input type="checkbox"/> B	<input type="checkbox"/> C	<input type="checkbox"/> D	<input type="checkbox"/> E
48	<input type="checkbox"/> A	<input type="checkbox"/> B	<input type="checkbox"/> C	<input type="checkbox"/> D	<input type="checkbox"/> E
49	<input type="checkbox"/> A	<input type="checkbox"/> B	<input type="checkbox"/> C	<input type="checkbox"/> D	<input type="checkbox"/> E
50	<input type="checkbox"/> A	<input type="checkbox"/> B	<input type="checkbox"/> C	<input type="checkbox"/> D	<input type="checkbox"/> E

## LÍNGUA PORTUGUESA

Leia o texto para responder às questões de números **01** a **10**.

### *Casas importadoras ajudaram a transformar a cidade de Santos*

A cidade de Santos ao final do século XIX não foi apenas um intermediário do comércio do café com o mundo, mas também recebeu uma figura histórica importante: o importador. Em sua pesquisa pela Faculdade de Filosofia, Letras e Ciências Humanas da USP, Carina Marcondes F. Pedro mostra que as casas importadoras tiveram papel fundamental na cidade.

Os importadores recebiam produtos vindos da Europa e vendiam para comerciantes locais, que os revendiam com lucros significativos para outros municípios do estado, como São Paulo, ou mesmo em Santos. Segundo a pesquisadora, o contexto do período foi propício para que essa atividade crescesse, pois o estado de São Paulo se sustentava com a produção de café. Porém a sua indústria era incipiente e, conforme cresciam as cidades enriquecidas com o café, mais produtos eram importados da Europa.

Nesse processo, as importadoras colaboraram na transformação de Santos. Seus proprietários intervieram muito na cidade. Uma dessas intervenções veio pela exigência de investimentos no porto cujo primeiro trecho é inaugurado em 1892. Nesse trecho, as pontes de madeira, onde inicialmente atracavam os barcos e navios, foram trocadas por um acostamento linear em amurada. Este não mais impedia a entrada de embarcações maiores.

Esses comerciantes colaboraram ainda para a instalação de bondes na década de 1870. Reivindicaram na Câmara Municipal a iluminação pública da cidade e também agiam localmente nas ruas e quarteirões onde ficavam seus escritórios, com o alargamento das ruas para melhorar a passagem dos transportes. Embora as mudanças visassem ao benefício de seus negócios, atingiam igualmente a população.

Além disso, por precisarem trabalhar com o porto, os importadores impulsionaram o desenvolvimento da cidade de Santos para o litoral, a qual, antes, localizava-se mais no centro antigo. Depois de 1905, a cidade expandiu-se para o litoral, com mais pessoas morando perto da praia.

Quase todos os importadores no período estudado (de 1870 a 1900) eram europeus, da Inglaterra, França e Alemanha. Traziam de tudo do velho continente: de produtos alimentícios, como bebidas alcoólicas, em especial vinhos, bacalhau e presuntos, até materiais de construção, matéria-prima como carvão, ou mesmo móveis. As embarcações que os traziam passavam por vários portos europeus, diversificando as mercadorias.

Segundo a pesquisa, Santos não foi, portanto, somente um porto de passagem ou um porto do café.

(<http://leiturasdahistoria.uol.com.br>, agência USP. Adaptado)

**01.** Segundo o texto,

- (A) o centro antigo de Santos impedia investimentos para o desenvolvimento do porto da cidade.
- (B) os importadores intervinham na cidade de Santos, porém a população não se beneficiava com as melhorias.
- (C) havia intercâmbio, isto é, importação e exportação de café por meio das casas importadoras.
- (D) a produção de café no estado de São Paulo influenciava diretamente o ritmo das vendas de produtos europeus.
- (E) a indústria nacional e a produção de café mantinham próspera a economia do país.

**02.** No trecho – Porém, a sua indústria era **incipiente**... (2.º parágrafo) – a palavra destacada pode ser substituída, sem prejuízo do sentido do texto, por

- (A) desqualificada.
- (B) experiente.
- (C) principiante.
- (D) potente.
- (E) infundada.

**03.** No trecho – Os importadores recebiam produtos vindos da Europa e vendiam para comerciantes locais, que **os** revendiam com lucros significativos para outros municípios do estado, como São Paulo, ou mesmo em Santos. (2.º parágrafo) – o pronome pessoal oblíquo **os** refere-se a

- (A) comerciantes.
- (B) produtos.
- (C) lucros.
- (D) municípios.
- (E) importadores.

**04.** A frase em que a preposição destacada estabelece uma relação de lugar é

- (A) ... alargamento das ruas para melhorar a passagem **dos** transportes. (4.º parágrafo)
- (B) ... (os importadores) vendiam **para** comerciantes locais... (2.º parágrafo)
- (C) ... pois o estado de São Paulo se sustentava com a produção **de** café. (2.º parágrafo)
- (D) ... os importadores impulsionaram o desenvolvimento da cidade de Santos **para** o litoral... (5.º parágrafo)
- (E) ... de produtos alimentícios, como bebidas alcoólicas (...) bacalhau e presuntos, **até** materiais de construção... (6.º parágrafo)

05. Observe as frases:

- I. Trocaram-se as pontes de madeira por um acostamento linear em amurada.
- II. Havia pontes de madeira no primeiro trecho do porto de Santos.
- III. A instalação de bondes e a iluminação pública beneficiou não só os comerciantes mas também a população.

A concordância verbal está de acordo com a norma-padrão da língua portuguesa em

- (A) I, apenas.
- (B) III, apenas.
- (C) I e III, apenas.
- (D) II e III, apenas.
- (E) I, II e III.

06. Ao final do século XIX, a cidade de Santos, \_\_\_\_\_ partia o café para o mundo, recebeu uma figura histórica importante, o importador, \_\_\_\_\_ atuação alterou a paisagem urbana da cidade.

Na norma-padrão da língua portuguesa, as lacunas da frase devem ser completadas, correta e respectivamente, por

- (A) onde ... que a
- (B) de onde ... cuja
- (C) da qual ... cuja a
- (D) de onde ... a qual
- (E) em que ... cuja

07. A colocação pronominal está de acordo com a norma-padrão da língua portuguesa em:

- (A) Depois de 1905, a cidade logo expandiu-se para o litoral, com mais pessoas tendo mudado-se para perto da praia.
- (B) ... os importadores impulsionaram o desenvolvimento da cidade de Santos para o litoral, a qual localizava-se mais no centro antigo.
- (C) Se expandindo a cidade para o litoral, depois de 1905, mais pessoas foram morar perto da praia.
- (D) ... os importadores impulsionaram o desenvolvimento da cidade de Santos para o litoral, a qual não mais localizava-se apenas no centro antigo.
- (E) Depois de 1905, com a cidade expandindo-se para o litoral, mais pessoas queriam mudar-se para perto da praia.

08. Se os importadores não \_\_\_\_\_ mudanças na cidade de Santos, seu desenvolvimento \_\_\_\_\_ mais lento.

Os espaços da frase devem ser completados, correta e respectivamente, por

- (A) propusessem ... terá sido
- (B) propoassem ... será
- (C) proporem ... seria
- (D) tivessem proposto ... tivesse sido
- (E) tivessem proposto ... teria sido

09. Considere os períodos do texto:

- ... o estado de São Paulo se sustentava com a produção de café. **Porém** a sua indústria era incipiente... (2.º parágrafo)
- Segundo a pesquisadora, o contexto do período foi propício **para que** essa atividade crescesse... (2.º parágrafo)

É correto afirmar que as conjunções destacadas estabelecem entre as orações relações de sentido, respectivamente, de

- (A) oposição e causa.
- (B) concessão e consequência.
- (C) causa e consequência.
- (D) oposição e finalidade.
- (E) conformidade e finalidade.

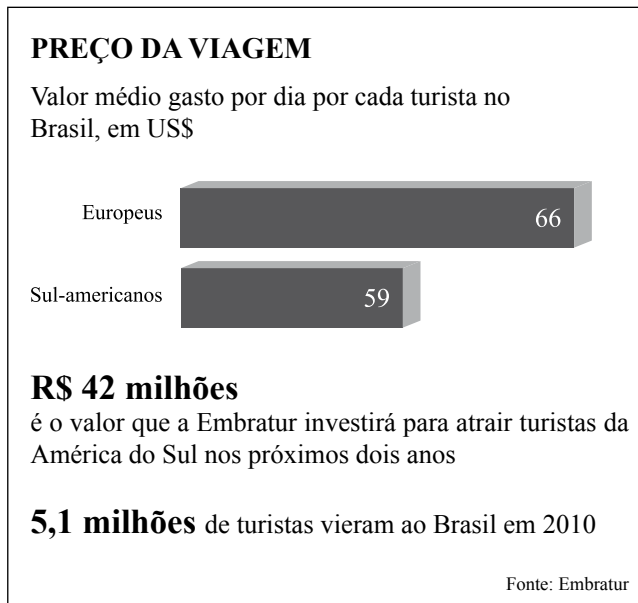
10. Assinale a alternativa correta quanto à regência verbal e nominal.

- (A) As vendas de importados obedeciam os resultados da economia cafeeira.
- (B) O contexto do século XIX foi favorável de que a atividade dos importadores crescesse.
- (C) Os produtos importados procediam de países europeus, como Inglaterra, por exemplo.
- (D) Os importadores preferiam investir em melhorias urbanas do que diminuir suas vendas.
- (E) O porto de Santos é hoje compatível em comércio internacional.

11. Determinada orquestra apresentou-se numa sala de espetáculos em 3 noites consecutivas. Na primeira noite,  $\frac{4}{5}$  das poltronas estavam ocupadas por espectadores; na segunda noite, eram  $\frac{5}{6}$  das poltronas ocupadas, e  $\frac{9}{10}$  estavam ocupadas na terceira noite, num total de 2280 espectadores nas três noites. O número de poltronas que compõem essa sala é
- (A) 800.  
(B) 850.  
(C) 900.  
(D) 950.  
(E) 1050.
12. Com a aproximação dos jogos da Copa do mundo de futebol (2014) e das Olimpíadas (2016), as autoridades brasileiras estão cuidando de ampliar e melhorar o atendimento na porta de entrada do país, ou seja, os aeroportos. Certo aeroporto, com capacidade atual para receber 2,4 milhões de passageiros/ano, será ampliado em 2 etapas, aumentando sua capacidade em  $\frac{1}{4}$  cada vez que uma etapa estiver concluída. Assim, o número de passageiros/ano que ele poderá receber ao final da segunda etapa será
- (A) 2,80 milhões.  
(B) 3,00 milhões.  
(C) 3,45 milhões.  
(D) 3,75 milhões.  
(E) 4,15 milhões.
13. Arlindo é um azulejista que deveria preencher integralmente as paredes de uma cozinha utilizando 540 azulejos de 20 cm por 15 cm. Antes de iniciar seu trabalho, ele recebeu ordem de preencher as paredes da cozinha somente até  $\frac{2}{3}$  de sua altura, utilizando azulejos de 30 cm por 20 cm. Presumindo manter a proporção entre os dados apresentados, a quantidade de azulejos que Arlindo utilizará, agora, será
- (A) 180.  
(B) 240.  
(C) 360.  
(D) 390.  
(E) 420.

14. Os índices de inflação são calculados por meio de uma média ponderada em que os itens que os compõem entram com seus respectivos pesos. Assim, o índice de inflação anual geral de certo país foi de 7,0%. O item alimentação, de peso 5, mostrou uma inflação de 6,5%; o item habitação, de peso 2, apresentou uma inflação de 6,0%; o item transporte, de peso 1, mostrou uma inflação de 9,5%. O item complementar vestuário, de peso 2, apresentou uma inflação de
- (A) 7,0%.  
(B) 7,5%.  
(C) 8,0%.  
(D) 8,5%.  
(E) 9,0%.
15. Pedro e Antônio compraram, cada um, um automóvel financiado.
- Pedro financiou R\$ 15.000,00 a juros simples de 1,5% ao mês, em 24 meses. O montante a ser devolvido ao banco será pago em 24 parcelas iguais, mensais e consecutivas.
  - Antônio financiou R\$ 16.000,00 a juros simples de 1,4% ao mês, em 20 meses. O montante a ser devolvido ao banco será pago em 20 parcelas iguais, mensais e consecutivas.
- Cada parcela que Pedro terá de pagar será
- (A) R\$ 174,00 mais cara que cada parcela de Antônio.  
(B) R\$ 274,00 mais cara que cada parcela de Antônio.  
(C) R\$ 174,00 mais barata que cada parcela de Antônio.  
(D) R\$ 274,00 mais barata que cada parcela de Antônio.  
(E) de mesmo valor que cada parcela de Antônio.
16. Para se assistir à apresentação de uma peça teatral no sábado pagam-se R\$ 30,00 a mais do que se paga para assisti-la na sexta-feira. Em determinada sexta-feira, o teatro recebeu 220 espectadores, e no sábado seguinte, foram 280 os espectadores presentes à exibição. A arrecadação obtida nos 2 espetáculos foi de R\$ 33.400,00. Os preços de cada ingresso na sexta-feira e no sábado foram, correta e respectivamente,
- (A) R\$ 45,00 e R\$ 75,00.  
(B) R\$ 50,00 e R\$ 80,00.  
(C) R\$ 55,00 e R\$ 85,00.  
(D) R\$ 60,00 e R\$ 90,00.  
(E) R\$ 65,00 e R\$ 95,00.

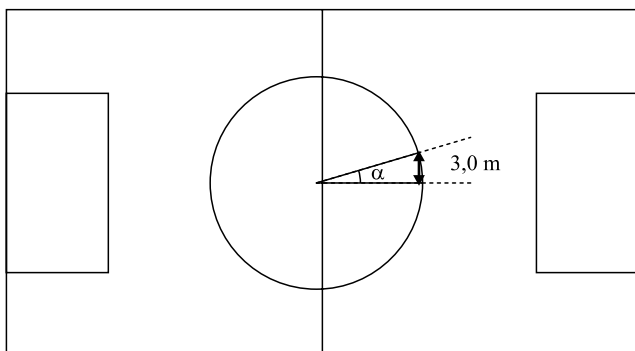
17. Considere o valor médio do dólar americano em 2010 como sendo R\$ 2,00; considere, também, que, naquele ano, 2,1 milhões de turistas europeus e 3,0 milhões de turistas sul-americanos tenham visitado nosso país, permanecendo, em média, 10 dias por aqui.



(Folha de S.Paulo. Adaptado)

Com base nessas informações e nas do gráfico, pode-se afirmar, corretamente, que a quantia, em bilhões de reais, que os turistas estrangeiros citados gastaram por aqui naquele ano foi próxima de

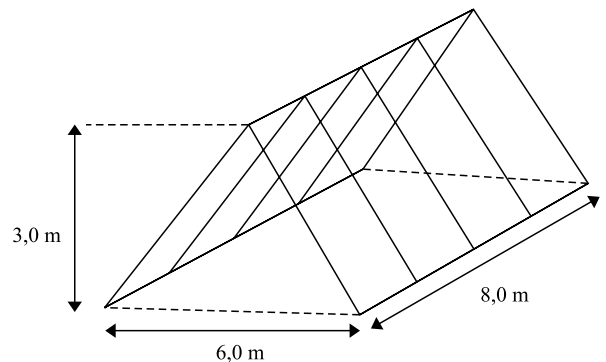
- (A) 1,39.  
(B) 1,58.  
(C) 1,77.  
(D) 3,16.  
(E) 6,31.
18. Na circunferência do centro de um campo de futebol não oficial, o ângulo central  $\alpha = \frac{\pi}{8}$  rad determina um arco de 3,0 m de comprimento.



Conclui-se que o comprimento dessa circunferência mede

- (A) menos de 30 m.  
(B) entre 30 m e 35 m.  
(C) entre 35 m e 40 m.  
(D) entre 40 m e 45 m.  
(E) mais de 45 m.

19. A figura mostra, fora de escala, o vigamento do telhado de uma casa. Visto de frente, é um triângulo isósceles, e, de perfil, é um retângulo; as dimensões dos caibros de madeira (representados com linhas cheias) a serem usados estão na própria figura, bem como o esquema da montagem.



O comprimento total, em metros, dos caibros a serem comprados é

- (A)  $4 \cdot (5 \cdot \sqrt{2} + 2)$ .  
(B)  $4 \cdot (5 \cdot \sqrt{2} + 4)$ .  
(C)  $6 \cdot (5 \cdot \sqrt{2} + 2)$ .  
(D)  $6 \cdot (5 \cdot \sqrt{2} + 4)$ .  
(E)  $6 \cdot (5 \cdot \sqrt{2} + 6)$ .
20. O ano de 2012 é bissexto, e o dia 1.º de janeiro foi um domingo. O dia 1.º de janeiro de 2013 será uma terça-feira. O dia 1.º de janeiro de 2017 será
- (A) um domingo.  
(B) uma terça-feira.  
(C) uma quarta-feira.  
(D) uma quinta-feira.  
(E) uma sexta-feira.

## ATUALIDADES

21. O ex-jogador Sócrates morreu em 4 de dezembro de 2011. Sua trajetória ficou marcada por
- (A) sua falta de envolvimento com as questões políticas.  
(B) seu apoio aos militares na época da ditadura.  
(C) sua militância, dentro e fora de campo, pela democracia.  
(D) sua alienação diante dos principais acontecimentos políticos.  
(E) sua postura, que separava o futebol do seu posicionamento político.

22. O ministro do Trabalho pediu demissão do cargo após reunião com a presidenta Dilma Rousseff, na tarde deste domingo.

(UOL Notícias, 04.12.2011. Adaptado)

O ministro do Trabalho que pediu demissão em dezembro de 2011 foi

- (A) Eduardo Campos (PSB).  
(B) Celso Amorim (PT).  
(C) Sérgio Cabral (PMDB).  
(D) Carlos Lupi (PDT).  
(E) Aécio Neves (PSDB).
23. Em 19 de dezembro de 2011, a Coreia do Norte anunciou a morte do ditador Kim Jong-il. O anúncio da morte teve repercussão internacional, e a sucessão no país causou preocupação em alguns países vizinhos. Entre eles, destacou-se
- (A) a Coreia do Sul, receosa de uma guerra com o seu vizinho do norte.  
(B) o Japão, aliado estratégico da Coreia do Norte, temeroso de uma invasão pela Coreia do Sul.  
(C) a China, ferrenha opositora do regime comunista da Coreia do Norte.  
(D) a Rússia, próxima dos EUA e do Japão na geopolítica da região.  
(E) a Índia, aliada de Kim Jong-il, temendo a ascensão de um opositor ao poder na Coreia do Norte.
24. A renúncia do premiê italiano Silvio Berlusconi, em novembro de 2011, ocorreu devido
- (A) às manifestações populares que ocuparam as ruas e praças da Itália.  
(B) ao agravamento da crise econômica na Itália.  
(C) à perda da maioria no Parlamento.  
(D) às discordâncias em questões geopolíticas com a França e a Suíça.  
(E) às pressões da máfia italiana, desejosa de mais poder.
25. Em novembro de 2011, a presidenta Dilma Rousseff sancionou a lei de acesso a informações públicas. Entre os setores do governo que mais fizeram oposição à lei, está
- (A) o Banco Central, que queria guardar sob sigilo decisões relacionadas à política monetária.  
(B) o Ministério da Fazenda, que não pretendia expor publicamente aspectos da política fiscal do país.  
(C) o Ministério dos Esportes, que queria manter sob sigilo os custos da Copa e das Olimpíadas no Brasil.  
(D) o Ministério do Desenvolvimento, que pretendia manter em segredo a política industrial do país.  
(E) o Itamaraty, que não desejava ver algumas questões sigilosas da diplomacia reveladas.

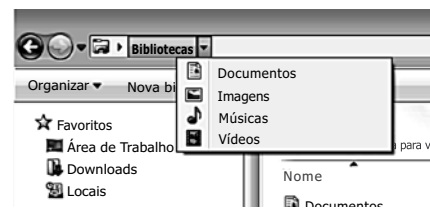
## NOÇÕES DE INFORMÁTICA

26. Observe a imagem.



Têm-se as seguintes afirmações sobre a barra de endereços do Windows Explorer, no Microsoft Windows 7, em sua configuração original, usando a imagem apresentada.

- I. Se o usuário clicar na seta à frente da palavra “Bibliotecas”, o resultado será:



- II. A barra de endereços aceita que o usuário digite manualmente um diretório, como por exemplo c:\  
III. A barra de endereços aceita que o usuário digite um endereço web, como por exemplo <http://www.vunesp.com.br>. Porém, nesse caso, o Windows Explorer abre automaticamente o navegador padrão para tentar carregar o endereço informado.

Está correto o contido em

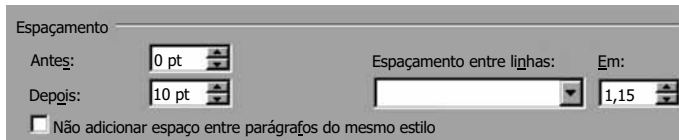
- (A) I, apenas.  
(B) II, apenas.  
(C) I e II, apenas.  
(D) II e III, apenas.  
(E) I, II e III.



27. No Microsoft Word 2010, em sua configuração padrão, é possível alterar o espaçamento entre linhas de um documento, usando o ícone destacado a seguir.



Assinale a alternativa que apresenta apenas opções válidas de espaçamento entre linhas, contidas na caixa de seleção *Espaçamento entre linhas*.

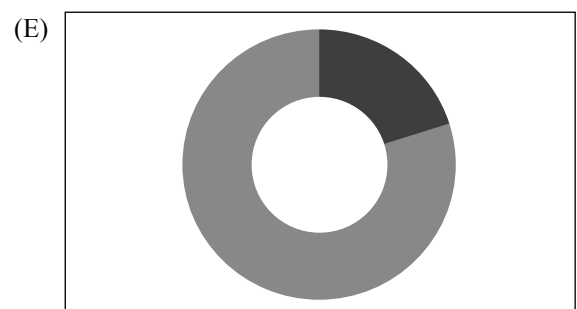
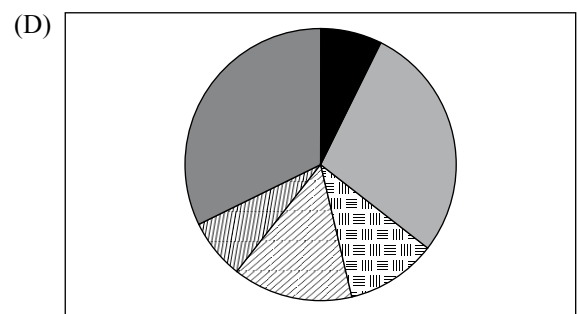
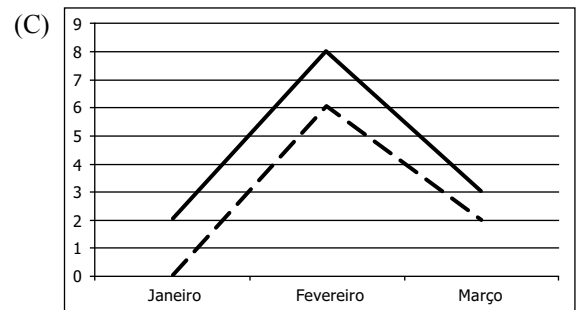
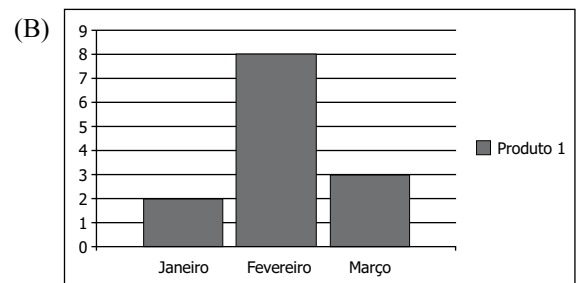
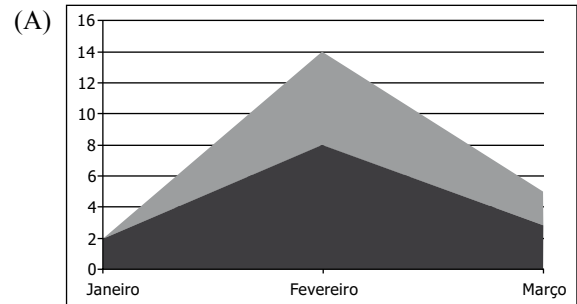


- (A) Simples; 1,5 linha; Pelo menos.
- (B) 1,5 linha; Múltiplo; Centralizado.
- (C) Simples; Justificado; Exatamente.
- (D) Centralizado; Duplo; Pelo menos.
- (E) Múltiplo; Justificado; 1,5 linha.

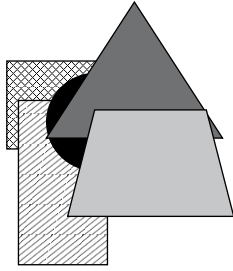
28. Tem-se a seguinte planilha do Microsoft Excel 2010, em sua configuração padrão:

	A	B	C	D
1		Janeiro	Fevereiro	Março
2	Produto 1	2	8	3

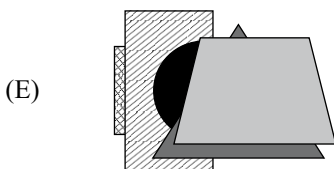
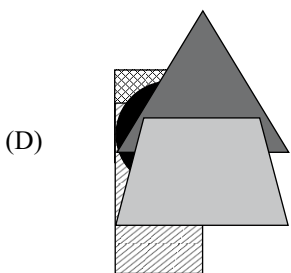
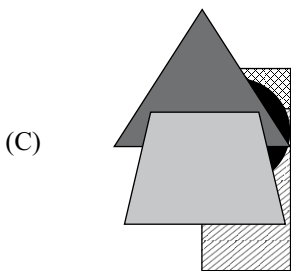
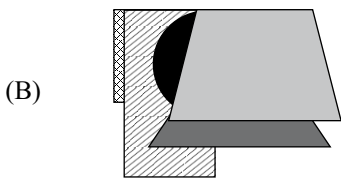
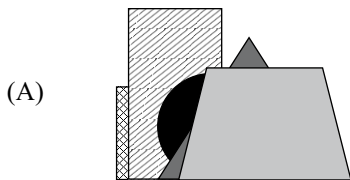
Assinale a alternativa que apresenta um gráfico válido para esses dados, criado simplesmente selecionando as células A1 até D2 e clicando nos ícones de gráficos, na guia *Inserir*, do grupo *Gráficos*.



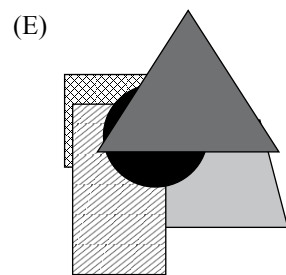
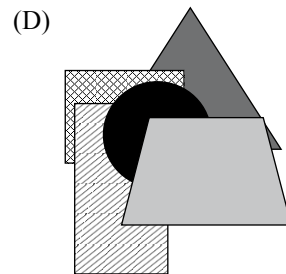
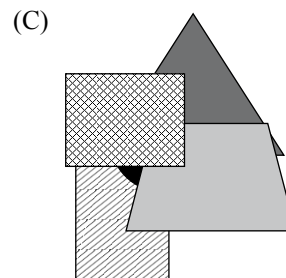
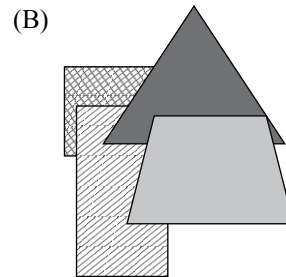
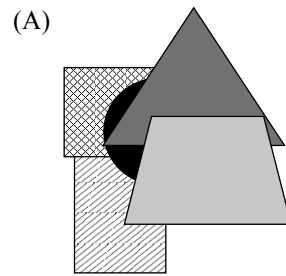
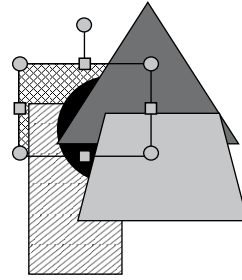
A imagem a seguir, de um slide do Microsoft PowerPoint 2010, em sua configuração original, apresenta 5 objetos e será utilizada para as questões de números 29 e 30.



29. Caso o usuário selecione todos os 5 objetos e clique no ícone de alinhamento, a seguir apresentado, o resultado será:



30. Caso o usuário marque apenas o objeto mais recuado, conforme demonstrado na imagem a seguir, clique com o botão invertido do mouse e selecione a opção *Traz para a frente*, o resultado será:



## CONHECIMENTOS ESPECÍFICOS

31. Compete ao Conselho Federal de Enfermagem (COFEN), entre outras ações,
- (A) deliberar sobre inscrição no Conselho e seu cancelamento.
  - (B) conhecer e decidir sobre os assuntos atinentes à ética profissional, impondo as penalidades cabíveis.
  - (C) instituir o modelo das carteiras profissionais de identidade e as insígnias da profissão.
  - (D) fixar o valor da anuidade com que todos os profissionais de enfermagem devem contribuir, anualmente, para os Conselhos Regionais de Enfermagem.
  - (E) manter o registro dos profissionais de enfermagem com exercício na respectiva jurisdição.
32. No Sistema Único de Saúde (SUS), o princípio da integralidade da assistência deve ser compreendido como
- (A) o direito à assistência à saúde, sem preconceitos ou privilégios de qualquer espécie.
  - (B) um conjunto articulado e contínuo das ações e serviços preventivos e curativos, individuais e coletivos, exigidos para cada caso em todos os níveis de complexidade do sistema.
  - (C) o acesso universal aos serviços de saúde, em todos os níveis de assistência, por qualquer cidadão brasileiro.
  - (D) a necessidade de a equipe de profissionais do SUS desenvolver ações visando à preservação da autonomia das pessoas na defesa de sua integridade física e moral.
  - (E) o direito à informação, às pessoas assistidas, sobre sua saúde.

Leia atentamente o relato de caso a seguir para responder às questões de números 33 e 34.

M.A. sexo feminino, 19 anos, auxiliar administrativo, grávida com 28 semanas de gestação, compareceu ao ambulatório de saúde da empresa para o exame médico periódico. Durante a consulta, o médico verificou que não havia alterações nem no exame clínico, nem nos exames laboratoriais. Encaminhou-a, então, à enfermagem para demais procedimentos e orientações. Na pós-consulta, a técnica de enfermagem solicitou a carteira de vacinas da trabalhadora e verificou os seguintes registros:

NOME: M.A	DATA DE NASCIMENTO: 05.01.1993		
05.03.1993 Tríplice bacteriana	05.03.1993 Sabin	06.03.1994 Hepatite B	10.01.1993 BCG – id
11.05.1993 Tríplice bacteriana	11.05.1993 Sabin	11.05.1993 Hepatite B	06.03.1994 Tríplice viral
15.07.1993 Tríplice bacteriana	15.07.1993 Sabin	15.07.1993 Hepatite B	05.03.1999 Tríplice bacteriana

33. Em relação às vacinas, a técnica de enfermagem deve
- (A) aplicar uma dose de reforço da vacina dupla adulto.
  - (B) aplicar uma dose da vacina contra sarampo e rubéola, agendando a segunda dose após 30 dias.
  - (C) aplicar a segunda dose da vacina tríplice viral.
  - (D) aplicar uma dose de reforço das vacinas tríplice bacteriana e contra a hepatite B.
  - (E) orientar a funcionária que compareça à unidade básica de saúde (UBS) após o parto para receber uma dose de reforço da vacina tríplice bacteriana, pois a vacinação de gestantes é contraindicada.
34. Considerando que durante o atendimento a funcionária mostrou interesse em saber quando deveria retornar ao ambulatório de saúde ocupacional da empresa, a técnica de enfermagem deve informá-la que, de acordo com a Norma Regulamentadora n.º 7 (NR7), o próximo exame médico ocupacional de rotina será o
- (A) admissional, quando retornar do afastamento por licença maternidade.
  - (B) periódico, após 6 meses do exame atual.
  - (C) de mudança de função, quando a funcionária se afastar em licença maternidade.
  - (D) de retorno ao trabalho, por ocasião do término da licença maternidade.
  - (E) de desligamento, no dia em que estiver se afastando por motivo de licença maternidade.
35. Em situação de campanha, para a perfeita conservação dos imunobiológicos em geladeiras de isopor, as vacinas de vírus vivos atenuados devem ser mantidas em temperaturas entre
- (A)  $-2^{\circ}\text{C}$  e  $-8^{\circ}\text{C}$
  - (B)  $-2^{\circ}\text{C}$  e  $+4^{\circ}\text{C}$ .
  - (C)  $0^{\circ}\text{C}$  e  $+8^{\circ}\text{C}$ .
  - (D)  $+2^{\circ}\text{C}$  e  $+8^{\circ}\text{C}$ .
  - (E)  $+4^{\circ}\text{C}$  e  $+10^{\circ}\text{C}$ .
36. Os cuidados de enfermagem para portadores de diabetes tipo 2 devem compreender orientações tais como:
- I. a importância da prática regular de atividade física;
  - II. o estímulo ao consumo dos alimentos que contêm sacarose em sua composição;
  - III. o uso de calçados confortáveis, evitando bolhas e calosidades;
  - IV. a necessidade de fracionar a alimentação em três a quatro refeições diárias.
- Está correto o contido em
- (A) I, apenas.
  - (B) II, apenas.
  - (C) I e III, apenas.
  - (D) I, II e III, apenas.
  - (E) I, II, III e IV.

37. As diretrizes da American Heart Association (2010) recomendam que em caso de parada cardíaca, durante as manobras de reanimação, a relação compressão-ventilação até a colocação de via aérea avançada deve ser de

- (A) 5:1, com dois socorristas.
- (B) 15:1, com um socorrista.
- (C) 15:1, com dois socorristas.
- (D) 30:1, com um socorrista apenas.
- (E) 30:2, com um ou dois socorristas.

38. Na festa de confraternização, durante o jogo de futebol, um dos funcionários sofreu uma luxação no ombro direito. O atendimento de primeiros socorros, ainda no campo, deve compreender, entre outras ações, a

- (A) imobilização da articulação afetada.
- (B) aplicação de bolsa de água quente.
- (C) recolocação do membro na posição fisiológica.
- (D) irrigação do local com soro fisiológico 0,9%, morno.
- (E) elevação do membro afetado.

39. As orientações de enfermagem para alta de paciente que foi submetido a uma apendicectomia compreendem, entre outras ações,

- I. a retomada imediata de atividade física moderada;
- II. os cuidados com a incisão e troca de curativos;
- III. a mobilização do dreno, diariamente, quando presente na incisão.

Está correto o contido em

- (A) I, apenas.
- (B) II, apenas.
- (C) I e II, apenas.
- (D) II e III, apenas.
- (E) I, II e III.

40. Considere o quadro a seguir. Relacione as três colunas de modo a tornar verdadeira a associação entre o produto utilizado em curativos, sua indicação de uso e o tipo de ferida.

	PRODUTO		INDICAÇÃO DE USO		TIPO DE FERIDA
I	Soro fisiológico 0,9%	a	Tratamento de feridas abertas não infectadas; prevenção de úlceras de pressão.	$\alpha$	Todos os tipos de ferida
II	Placa de hidrocoloide	b	Ação de absorção, bactericida e desodorizante.	$\beta$	Feridas infectadas exsudativas
III	Carvão Ativado	c	Limpeza da ferida; mantém a umidade.	$\gamma$	Feridas com leve a moderada exsudação

Assinale a alternativa que apresenta a associação correta.

- (A) I-a- $\alpha$ ; II-b- $\beta$ ; III-c- $\gamma$ .
- (B) I-c- $\gamma$ ; II-a- $\beta$ ; III-b- $\alpha$ .
- (C) I-c- $\alpha$ ; II-a- $\gamma$ ; III-b- $\beta$ .
- (D) I-c- $\gamma$ ; II-b- $\beta$ ; III-a- $\alpha$ .
- (E) I-c- $\alpha$ ; II-c- $\beta$ ; III-b- $\gamma$ .

41. Considere as afirmações a seguir, a respeito da mensuração da pressão arterial, e classifique-as como verdadeiras (V) ou falsas (F).

- ( ) Antes da realização da medida é importante certificar-se de que o paciente não está com a bexiga cheia; não ingeriu bebidas alcoólicas, café, alimentos, ou fumou até 30 minutos antes; e não está com as pernas cruzadas.
- ( ) A utilização de manguito de tamanho adequado ao braço do paciente é importante para a obtenção de medida fidedigna. A largura da bolsa de borracha deve corresponder a 25% da circunferência do braço e o seu comprimento deve envolver pelo menos 40% do membro.
- ( ) O manguito deve ser colocado cerca de 2 a 3 cm acima da fossa antecubital, centralizando a bolsa de borracha sobre a artéria radial.
- ( ) Para a estimativa do nível de pressão sistólica, deve-se palpar o pulso radial e inflar o manguito até o desaparecimento do pulso, desinflar o manguito rapidamente e aguardar um minuto antes de inflá-lo novamente.

Assinale a alternativa que apresenta a classificação correta, de cima para baixo.

- (A) V, V, V, V.
- (B) V, V, F, F.
- (C) V, F, F, V.
- (D) F, V, V, F.
- (E) F, F, F, F.

42. O processo de desinfecção pode ser afetado por diferentes fatores, entre eles,
- I. a limpeza prévia do material;
  - II. o período de exposição ao germicida;
  - III. a concentração da solução germicida;
  - IV. a temperatura e o PH do processo de desinfecção.

Está correto o contido em

- (A) I, apenas.
- (B) II, apenas.
- (C) II e III, apenas.
- (D) I, II e III, apenas.
- (E) I, II, III e IV.

43. A prescrição médica é:

Soro glicosado 10% – 150 mL Correr em 60 minutos
---

Considere que, na unidade, estão disponíveis:

- frascos de soro glicosado 5% (SG 5%), com 250 mL;
- ampolas de glicose a 50%, com 20 mL;
- equipos de microgotas.

Para executar a prescrição, o técnico de enfermagem deverá

- (A) acrescentar 15 mL de glicose a 50% ao frasco de SG 5%, desprezar 100 mL da solução final, devendo a solução correr a 50 microgotas por minuto.
- (B) acrescentar 3,75 mL de glicose a 50% ao frasco de SG 5%, desprezar 100 mL da solução final, devendo a solução correr a 150 microgotas por minuto.
- (C) desprezar 100 mL do frasco de SG 5%, acrescentar 15 mL de glicose a 50%, devendo a solução correr a 150 microgotas por minuto.
- (D) desprezar 100 mL do frasco de SG 5%, acrescentar 3,75 mL de glicose a 50%, devendo a solução correr a 150 microgotas por minuto.
- (E) desprezar 150 mL do frasco de SG 5%, acrescentar 15 mL de glicose a 50%, devendo a solução correr a 150 microgotas por minuto.

44. Com relação à anatomia e à fisiologia do aparelho respiratório, assinale a alternativa correta.

- (A) Traqueia, brônquios, bronquíolos e pulmões são revestidos por uma membrana serosa denominada pleura.
- (B) Embora a troca de oxigênio por dióxido de carbono ocorra de modo mais importante nos pulmões, ela também se dá ao longo do trato respiratório.
- (C) Os brônquios são revestidos por células com cílios que, em constante movimento de varredura, impulsionam o muco e substâncias estranhas para longe dos pulmões, no sentido da laringe.
- (D) Durante a expiração, o ar flui do ambiente para dentro da traqueia e, na inspiração, o gás alveolar faz o trajeto contrário.
- (E) A faringe, ou órgão da voz, é uma estrutura cartilaginosa que conecta a laringe à traqueia.

45. As orientações de enfermagem para uma mulher que se submeterá ao exame de Papanicolaou devem compreender, entre outros cuidados,

- (A) aplicar ducha vaginal duas horas antes do horário agendado para o exame.
- (B) suspender o uso de antibióticos no dia do exame.
- (C) evitar o uso de anticoncepcionais locais e espermicidas, nas oito horas anteriores ao exame.
- (D) realizar o exame, preferencialmente, a partir do segundo dia do período menstrual, quando o fluxo diminui.
- (E) evitar relações sexuais no período de 48 horas antes da coleta.

46. Um indivíduo que ingere sulfato ferroso, utilizado para a correção de anemia ferropriva, deve ser orientado sobre possíveis efeitos colaterais tais como

- (A) dor abdominal e fezes escurecidas.
- (B) enrubescimento do rosto e pescoço.
- (C) fraqueza e dificuldade para urinar.
- (D) taquicardia.
- (E) aparecimento de manchas rubras no tórax e cansaço.

47. Em função do grau de risco e número de funcionários da empresa, os Serviços Especializados em Engenharia de Segurança e em Medicina do Trabalho (SESMT) poderão ser integrados por

- I. médico do trabalho;
- II. engenheiro de segurança do trabalho;
- III. técnico de segurança do trabalho;
- IV. enfermeiro do trabalho;
- V. auxiliar de enfermagem ou técnico de enfermagem, portador de certificado de conclusão de curso de qualificação de auxiliar de enfermagem do trabalho.

Está correto o contido em

- (A) II e III, apenas.
- (B) I, II e III, apenas.
- (C) I, III e V, apenas.
- (D) II, III e V, apenas.
- (E) I, II, III, IV e V.

48. Em relação à Norma Regulamentadora n.º 5 (NR5) – Comissão Interna de Prevenção de Acidentes (CIPA), é correto afirmar que

- (A) os representantes do empregador, titulares e suplentes são eleitos, em escrutínio secreto, pelos empregados.
- (B) o mandato dos membros da CIPA tem a duração de um ano, sendo permitida uma reeleição.
- (C) o presidente da CIPA será escolhido entre os representantes dos trabalhadores.
- (D) a CIPA terá reuniões ordinárias trimestrais, de acordo com o calendário preestabelecido.
- (E) o membro titular perderá o mandato, sendo substituído por suplente, quando faltar a mais de duas reuniões ordinárias sem justificativa.

49. Com base no prescrito na Norma Regulamentadora 17 (NR17) – Ergonomia, considere as afirmações a seguir e classifique-as como verdadeiras (V) ou falsas (F).

- ( ) Todos os equipamentos que compõem um posto de trabalho devem estar adequados às características psicofisiológicas dos trabalhadores e à natureza do trabalho a ser executado.
- ( ) Para as atividades em que os trabalhos devam ser realizados de pé, devem ser colocados assentos para descanso em locais em que possam ser utilizados por todos os trabalhadores durante as pausas.
- ( ) Quando utilizado o teclado automatizado, para efeito de remuneração e vantagens de qualquer espécie, o empregador pode utilizar um sistema de avaliação dos trabalhadores envolvidos nas atividades de digitação, baseado no número individual de toques sobre o teclado.

Assinale a alternativa que apresenta a classificação correta, de cima para baixo.

- (A) V, V, V.
- (B) V, V, F.
- (C) V, F, V.
- (D) F, F, V.
- (E) F, F, F.

50. De acordo com a Norma Regulamentadora n.º 24 (NR24) – Condições Sanitárias e de Conforto nos Locais de Trabalho, é obrigatória a existência de refeitório em estabelecimentos em que trabalhem mais de

- (A) 100 funcionários.
- (B) 150 funcionários.
- (C) 200 funcionários.
- (D) 250 funcionários.
- (E) 300 funcionários.



