

PREFEITURA MUNICIPAL DE PETRÓPOLIS

**Técnico em
Saúde bucal
Nível Médio**

FMS



REALIZAÇÃO:

**FUNDAÇÃO
DOM CINTRA**

Caderno de Questões

11.03.2012 - Manhã

LÍNGUA PORTUGUESA

Leia o texto abaixo e responda às questões propostas.

MÚSICA, TECNOLOGIA E BANANAS

- 1 Já vai longe o tempo em que a música popular ambicionava, e tinha, uma certa transcendência. Quando marcava e comentava momentos históricos e sociais importantes, era a trilha sonora de um mundo em transformação. Na era digital tudo mudou, a música se banalizou, está em toda parte, a todo momento, acessível a todos.
- 2 Hoje, todo mundo pode até fazer música, mesmo sem saber música. Com programas como o Garage Band qualquer um faz uma orquestração com cordas, metais, palhetas e percussões, com incontáveis ritmos e timbres e múltiplas escolhas de fraseados, tudo pré-gravado e programado para se harmonizar entre si. Nada garante que saiam bons arranjos, mas não ficam longe do que se ouve na música comercial de hoje.
- 3 No fim do século 20, David Bowie previa que, no futuro, o comércio de música digital seria como a energia elétrica, o gás, e a TV a cabo. O cliente teria uma assinatura e pagaria pelo seu consumo mensal. A música seria uma commodity, vendida a preço de banana. Tantos watts de eletricidade, tantos canais de TV, tantos quilos?, litros?, metros?, bites? de música.
- 4 Hoje, além de novos modelos de negócio que florescem em países com a cultura de pagar pelo que se consome, a comercialização globalizada de música, legal e pirata, acabou com o que restava das antigas ilusões de relevância, transcendência e glamour da música popular, que a velha indústria do disco desenvolveu, e sugou, à exaustão. A vulgaridade se tornou um valor indispensável ao sucesso de massa. Em compensação, fazer e consumir arte musical se tornou mais fácil e acessível, bastam talento e um laptop. Há gosto para tudo.
- 5 Hoje, a música popular, a melhor e a pior, se tornou irreversivelmente banal, como uma banana. O contraponto da bananização da música gravada é a valorização da música ao vivo, quando se cria entre o artista e o público uma relação pessoal e intransferível, muito além do contato virtual.
- 6 Há vinte anos, Caetano Veloso falava sobre fazer, ou não, novas músicas, e dizia que já havia música demais em toda parte. E eu concordava com ele. Imagine agora.
- 7 Mas, afinal, para que serve a música?

(MOTTA, Nelson. O Globo, 04/11/11, p. 7.)

1. Analisado quanto às características discursivas, pode-se afirmar que o texto acima é predominantemente:
 - A) descritivo, pelo fato de o autor montar um cenário em que pinta com cores sombrias o estado de decadência da música popular no Brasil;
 - B) explanativo, dado que são transmitidas inúmeras informações sobre a situação da música pop contemporânea, quer em sua versão legal, quer na versão pirata;
 - C) narrativo, focalizando o autor os inúmeros fatos que levaram ao desgaste da música pop, principalmente por parte de autores consagrados como Caetano Veloso;
 - D) dissertativo, uma vez que, retomando um passado recente e baseando-se em críticos de renome, o autor desenvolve o ponto de vista de que “fazer e consumir arte musical se tornou mais fácil e acessível”;
 - E) argumentativo, buscando o autor demonstrar a tese de que “a comercialização globalizada de música, legal e pirata, acabou com o que restava das antigas ilusões de relevância, transcendência e glamour da música popular”.
2. Em suas considerações sobre a música pop contemporânea, numa linha de raciocínio linear a respeito do ponto de vista que defende, o autor faz uso de rápido contra-argumento a essa linha de raciocínio. O trecho que reproduz esse contra-argumento é:
 - A) “Nada garante que saiam bons arranjos, mas não ficam longe do que se ouve na música comercial de hoje”. (parágrafo 2)
 - B) “A vulgaridade se tornou um valor indispensável ao sucesso de massa”. (parágrafo 4)
 - C) “Em compensação, fazer e consumir arte musical se tornou mais fácil e acessível, bastam talento e um laptop”. (parágrafo 4)
 - D) “Hoje, a música popular, a melhor e a pior, se tornou irreversivelmente banal, como uma banana”. (parágrafo 5)
 - E) “Há vinte anos, Caetano Veloso falava sobre fazer, ou não, novas músicas, e dizia que já havia música demais em toda parte”. (parágrafo 6)
3. No trecho “O contraponto da BANANIZAÇÃO da música gravada é a valorização da música ao vivo” (parágrafo 5), o termo em caixa alta, um neologismo do autor, foi formado pelo processo de:
 - A) derivação sufixal;
 - B) composição por justaposição;
 - C) composição por aglutinação;
 - D) derivação parassintética;
 - E) derivação regressiva.

Técnico em Saúde Bucal - Nível Médio

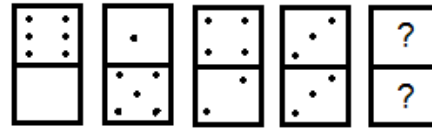
4. No trecho “Há vinte anos, Caetano Veloso falava sobre fazer, ou não, novas músicas” (parágrafo 6), o verbo HAVER foi corretamente empregado. Das frases abaixo, está INCORRETA quanto emprego do verbo HAVER a seguinte:
- A) Música nova, há dois anos não se cria.
 - B) Dizia-se há tempos que a música tinha certa transcendência.
 - C) Comentou o compositor que há exatos 15 anos gravara o último CD.
 - D) O cantor estava há poucos dias de gravar o novo DVD.
 - E) Já se falava há cerca de três meses que nova música estouraria no mercado.
5. O termo em caixa alta no período “Já vai longe o tempo em que a música popular ambicionava, e tinha, uma certa TRANSCENDÊNCIA” (parágrafo 1) pode ser substituído pelos sinônimos abaixo, EXCETO por:
- A) superioridade;
 - B) imanência;
 - C) sublimidade;
 - D) magnificência;
 - E) nobreza.
6. Os três períodos que compõem o parágrafo 1 estão igualmente estruturados com introdução de sentido:
- A) consecutivo;
 - B) causal;
 - C) final;
 - D) temporal;
 - E) concessivo.
7. Das alterações feitas na oração em caixa alta no período “Hoje, todo mundo pode até fazer música, MESMO SEM SABER MÚSICA” (parágrafo 2), aquela em que o sentido está em DESACORDO com o original é:
- A) Hoje, todo mundo pode até fazer música, ainda que não saiba música.
 - B) Hoje, todo mundo pode até fazer música, mesmo não sabendo música.
 - C) Hoje, todo mundo pode até fazer música, porquanto não saiba música.
 - D) Hoje, todo mundo pode até fazer música, mesmo que não saiba música.
 - E) Hoje, todo mundo pode até fazer música, conquanto não saiba música.
8. Das alterações feitas na redação do fragmento “No fim do século 20, David Bowie previa que, no futuro, o comércio de música digital seria como a energia elétrica” (parágrafo 3), aquela que está INCOERENTE, por não haver correlação entre os tempos verbais, é:
- A) No fim do século 20, David Bowie previu que, no futuro, o comércio de música digital seria como a energia elétrica.
 - B) No fim do século 20, David Bowie prevê que, no futuro, o comércio de música digital será como a energia elétrica.
 - C) No fim do século 20, David Bowie prevê que, no futuro, o comércio de música digital terá de ser como a energia elétrica.
 - D) No fim do século 20, David Bowie previa que, no futuro, o comércio de música digital poderia ser como a energia elétrica.
 - E) No fim do século 20, David Bowie previa que, no futuro, o comércio de música digital haverá de ser como a energia elétrica.
9. A oração “E eu concordava com ele” (parágrafo 6) está correta quanto à regência, pois o verbo CONCORDAR rege a preposição COM. Das frases abaixo, aquela que está INCORRETA quanto à regência, porque o verbo NÃO rege a preposição COM, é:
- A) O compositor aborreceu-se com as cópias que fizeram de suas músicas.
 - B) A música parece blasfemar com as novas tendências.
 - C) Todos comungavam com as ideias apresentadas pelo jornalista.
 - D) Ninguém se conformava com a pirataria praticada impunemente.
 - E) Esperava-se que os autores cooperassem com as gravadoras.
10. Das alterações feitas abaixo na oração adjetiva do trecho “Hoje, além de novos modelos de negócio que florescem em países com a cultura de pagar pelo que se consome” (parágrafo 4), aquela em que está INCORRETO o emprego do pronome relativo é:
- A) Hoje, além de novos modelos de negócio nos quais se volta a atenção dos consumidores.
 - B) Hoje, além de novos modelos de negócio cujos lucros trazem benefícios a alguns poucos.
 - C) Hoje, além de novos modelos de negócio para onde se dirigem os interesses dos comerciantes.
 - D) Hoje, além de novos modelos de negócio de cujos ganhos dependem os que vivem da música.
 - E) Hoje, além de novos modelos de negócio aos quais foram feitas várias referências.

HISTÓRIA E GEOGRAFIA DE PETRÓPOLIS

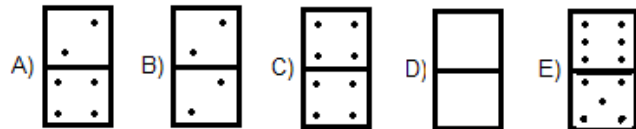
11. Oswaldo Cruz tem o seu nome ligado à história de Petrópolis pois ocupou o cargo de:
- prefeito.
 - vereador.
 - secretário de saúde.
 - intendente.
 - diretor do Museu Imperial.
12. O imperador D. Pedro II assinou o decreto Imperial nº 155 que assentava as terras da fazenda Córrego Seco para a fundação da Povoação- Palácio de Petrópolis em:
- 16 de março de 1843.
 - 7 de abril de 1831.
 - 13 de junho de 1845.
 - 19 de outubro de 1845.
 - 30 de abril de 1854.
13. Os primeiros imigrantes que em 1837 desembarcaram no Rio de Janeiro e foram aproveitados na abertura da Estrada Normal da Estrela marcam o início, em Petrópolis, da colonização:
- alemã.
 - francesa.
 - italiana;
 - portuguesa.
 - austriaca.
14. Leia o texto abaixo:
- “O nosso simpático Piabanha banhando muitas povoações pitorescas onde a vida agrícola, a da pecuária, a do comércio, a de veraneio prosperam de modo promissor, apresenta também inúmeros encantos, panoramas de primeira ordem, que são motivo de admiração frequente dos nossos visitantes”.
- Antonio Machado no livro Centenário de Petrópolis (Volume I)
- Este texto contrasta com a situação atual do rio Piabanha devido principalmente:
- ao elevado índice de poluição de suas águas.
 - aos desvios feitos alterando o seu curso.
 - à retificação de suas margens.
 - ao aprofundamento de seu leito.
 - à ausência de planos de monitoramento de suas águas.
15. O atual terminal rodoviário da cidade de Petrópolis localizado no Bingen recebeu o nome de um antigo governador do Estado do Rio de Janeiro. Seu nome é:
- Leonel Brizola.
 - Chagas Freitas.
 - Moreira Franco.
 - Antony Garotinho.
 - Faria Lima.

RACIOCÍNIO LÓGICO

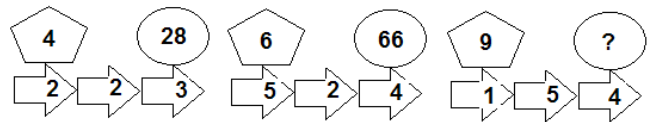
16. As peças de dominó apresentadas a seguir seguem uma determinada regra lógica.



A peça que completa a sequência, seguindo a mesma regra lógica, é:



17. Os números que estão dentro das figuras estão relacionados por uma regra matemática que envolve apenas as operações elementares. Seguindo essa mesma regra, o número que deve substituir a interrogação é:



- 36.
 - 88.
 - 90.
 - 120.
 - 140.
18. Um colégio interno comprou alimentos para seus 34 alunos e suficientes para 30 dias. Após uma semana de uso dos alimentos, esse orfanato recebeu mais 12 alunos. Admitindo-se que a cota diária de alimentos de cada aluno não tenha sofrido qualquer modificação, o número de dias que os alimentos restantes ainda duraram foi:
- 12.
 - 17.
 - 20.
 - 22.
 - 24.
19. Em uma cidade todos os números dos telefones são formados por oito algarismos, sem qualquer tipo de restrição. Nessa cidade, a quantidade de números telefônicos possíveis, iniciados por 25, é:
- 1000.
 - 9 500.
 - 151 200.
 - 531 441.
 - 1 000 000.
20. Num colégio de 600 alunos, 400 gostam do refrigerante A, 300 gostam do refrigerante B e 200 gostam dos dois refrigerantes. Com base nessas informações, pode-se afirmar que a quantidade de alunos desse colégio que não gostam desses dois refrigerantes é:
- 75.
 - 80.
 - 90.
 - 100.
 - 220.

LEGISLAÇÃO

Leia o texto abaixo e responda às questões 21 e 22.

“O Estatuto do Idoso foi instituído, destinado a regular os direitos assegurados às pessoas com idade igual ou superior a 60 (sessenta) anos. O idoso goza de todos os direitos fundamentais inerentes à pessoa humana sem prejuízo da proteção integral de que trata a lei 10.741 de 2003, assegurando-se-lhe, por lei ou por outros meios, todas as oportunidades e facilidades, para preservação de sua saúde física e mental e seu aperfeiçoamento moral, intelectual, espiritual e social, em condições de liberdade e dignidade. É obrigação da família, da comunidade, da sociedade e do Poder Público assegurar ao idoso, com absoluta prioridade, a efetivação do direito à vida, à saúde, à alimentação, à educação, à cultura, ao esporte, ao lazer, ao trabalho, à cidadania, à liberdade, à dignidade, ao respeito e à convivência familiar e comunitária.”

21. Acerca da garantia de prioridade, o Estatuto do Idoso **NÃO** compreende:

- A) atendimento preferencial imediato e individualizado junto aos órgãos públicos e privados prestadores de serviços à população.
- B) preferência na formulação e na execução de políticas sociais públicas específicas.
- C) estabelecimento de mecanismos que favoreçam a divulgação de informações de caráter educativo sobre os aspectos biopsicossociais de envelhecimento.
- D) restrição de acesso à rede de serviços de saúde e de assistência social locais.
- E) prioridade no recebimento da restituição do Imposto de Renda.

22. Analise e identifique as assertivas falsas e verdadeiras abaixo sobre o direito à liberdade:

- () opinião e expressão;
- () crença e culto religioso;
- () vetada a prática de esportes;
- () participação na vida familiar e comunitária;
- () faculdade de buscar refúgio, auxílio e orientação.

A sequência correta, de cima para baixo, é:

- A) F, F, V, F, F.
- B) F, F, F, F, F.
- C) V, V, F, V, F.
- D) V, V, V, V, V.
- E) V, V, F, V, V.

Leia o texto abaixo e responda às questões 23 e 24.

“A criança e o adolescente gozam de todos os direitos fundamentais inerentes à pessoa humana, sem prejuízo da proteção integral de que trata a lei 8069 de 1990, que dispõe sobre a proteção integral à criança e ao adolescente, assegurando-se-lhes, por lei ou por outros meios, todas as oportunidades e facilidades, a fim de lhes facultar o desenvolvimento físico, mental, moral, espiritual e social, em condições de liberdade e de dignidade. É dever da família, da comunidade, da sociedade em geral e do poder público assegurar, com absoluta prioridade, a efetivação dos direitos referentes à vida, à saúde, à alimentação, à educação, ao esporte, ao lazer, à profissionalização, à cultura, à dignidade, ao respeito, à liberdade e à convivência familiar e comunitária.”

23. Considera-se criança, para os efeitos desta Lei, a pessoa até:

- A) dez anos de idade incompletos, e adolescente aquela entre dez e dezesseis anos de idade;
- B) onze anos de idade incompletos, e adolescente aquela entre onze e dezoito anos de idade;
- C) doze anos de idade incompletos, e adolescente aquela entre doze e dezoito anos de idade;
- D) dez anos de idade incompletos, e adolescente aquela entre dez e dezoito anos de idade;
- E) onze anos de idade incompletos, e adolescente aquela entre onze e dezessete anos de idade.

24. Acerca das garantias de prioridade, segundo o Estatuto da Criança e do Adolescente, analise as proposições abaixo:

- I. preferência de receber proteção e socorro em circunstâncias pré-determinadas.
- II. precedência de atendimento nos serviços públicos ou de relevância pública.
- III. preferência na formulação e na execução das políticas sociais públicas.
- IV. contenção de recursos públicos nas áreas relacionadas com a proteção à infância e à juventude.

Das proposições acima, as corretas são, apenas:

- A) I e II.
- B) II e III.
- C) I e IV.
- D) III e IV.
- E) II e IV.

25. Considere: “ é a passagem, do funcionário efetivo, pelo critério de merecimento, de classe isolada ou da classe final de uma série para outro de nível mais elevado, isolada ou inicial de série de classes.” Assim dispõe a lei 3884 de 1977, quando se refere ao conceito de:

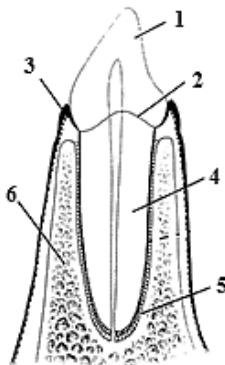
- A) aproveitamento.
- B) acesso.
- C) promoção.
- D) nomeação.
- E) reintegração.

CONHECIMENTOS ESPECÍFICOS

26. Existem muitas doenças com as quais a equipe odontológica pode entrar em contato durante o atendimento. Por isso, para preveni-las, conta-se com o emprego da imunização (vacinação) e o uso dos equipamentos de proteção individual (EPIs). Considerando tais cuidados a serem tomados pela equipe odontológica, pode-se afirmar que:

- A) os óculos de proteção devem ser usados apenas pelos profissionais que possuem deficiência visual, quando houver possibilidade de contaminação direta por sangue, saliva e aerossóis produzidos no atendimento;
- B) a máscara é de uso obrigatório para toda a equipe, devendo permanecer pendurada no pescoço o tempo todo. Este EPI protege contra a inalação de microrganismos e deve ser reutilizada sempre que possível;
- C) a equipe deve usar preferencialmente roupas brancas. A utilização de um traje específico de trabalho dispensa o uso de avental para o atendimento odontológico, pois este já funciona como barreira para os microrganismos;
- D) o avental deve ser preferencialmente de mangas compridas, deve ter abotoadura lateral ou nas costas, não deve ter bolsos e deve ter comprimento que permita cobrir as coxas quando o profissional estiver sentado;
- E) não é recomendado o uso de pró-pés no consultório odontológico, dentro do ambiente clínico, tanto para os pacientes como para a equipe odontológica. Este EPI só é conveniente quando se trata de um centro cirúrgico ou ambiente hospitalar.

27. O órgão dentário compreende o dente propriamente dito e as estruturas que compõem o periodonto adjacente. Assim sendo, reconheça no desenho abaixo as estruturas marcadas pelos algarismos arábicos. A alternativa que contém a frase que se encontra exata é a:

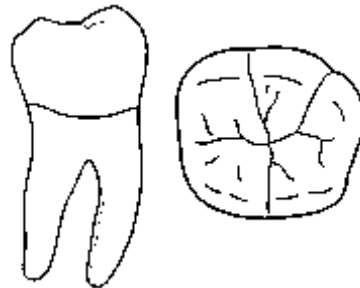


- A) 1 corresponde a parte radicular do elemento dentário;
- B) 4 corresponde a parte coronária do elemento dentário;
- C) 4, 5 e 6 são componentes do periodonto;
- D) 1, 2 e 4 são componentes do periodonto;
- E) 3, 5 e 6 são componentes do periodonto.

28. Os músculos são elementos ativos do movimento, atuando sobre os ossos e as articulações, movimentando o corpo. Os músculos da mastigação são aqueles que se inserem na mandíbula, movendo-a. Constituem músculos da mastigação:

- A) Masseter, pterigoideo medial, pterigoideo lateral, temporal;
- B) Depressor do ângulo da boca, masseter, temporal, zigomático menor;
- C) Frontal, masseter, levantador do lábio superior, temporal;
- D) Pterigoideo medial, pterigoideo lateral, levantador do lábio superior;
- E) Mental, pterigoideo medial, zigomático menor, zigomático maior.

29. A figura abaixo corresponde ao seguinte elemento dentário:



- A) 17
- B) 27
- C) 36
- D) 37
- E) 46

30. As manobras cirúrgicas fundamentais correspondem ao conjunto de procedimentos executados durante o ato cirúrgico com técnica e instrumental adequados, que visam diminuir o traumatismo causado pela própria agressão do ato cirúrgico, resultando em um reparo tecidual mais rápido e eficiente. As manobras de interesse em odontologia são didaticamente divididas em três tipos: diérese, exérese e síntese. Segundo esta divisão, a correta técnica cirúrgica, e os instrumentais utilizados para execução de tais manobras, está correto afirmar que:

- A) a diérese consiste em remover tecidos (patológicos ou não), dentes ou fragmentos destes;
- B) na exérese busca-se romper a integridade dos tecidos e separar planos anatômicos;
- C) as manobras de síntese estão relacionadas com o ato da sutura;
- D) a incisão e a divulsão são atos cirúrgicos executados na etapa de síntese;
- E) para realização da divulsão podemos utilizar fórceps e alavancas.

Técnico em Saúde Bucal - Nível Médio

31. O diagnóstico de vitalidade pulpar é realizado através da anamnese, exames clínicos e exames radiográficos. O exame clínico compreende as seguintes tarefas, EXCETO:

- A) inspeção de assimetrias faciais, edemas ou traumatismo;
- B) avaliação intrabucal dos tecidos moles e duros;
- C) visualização de nódulos pulpares ou lesões periapicais;
- D) testes de percussão realizados com o cabo do espelho;
- E) testes térmicos com frio ou com calor.

32. Considerando que a figura abaixo apresenta o desenho das lâminas de bisturi mais utilizadas em cirurgias odontológicas, os números romanos I, II e III representam, respectivamente, as seguintes lâminas:



- A) 12, 11 e 15
 - B) 12, 13 e 15
 - C) 10, 11, e 12
 - D) 11, 12 e 13
 - E) 11, 12 e 15
33. Para a confecção de radiografias adequadas ao diagnóstico, alguns padrões foram desenvolvidos e devem ser seguidos fielmente. Esses padrões são chamados técnicas radiográficas. A respeito das técnicas radiográficas intrabucais, podemos afirmar que:
- A) a técnica do paralelismo também é conhecida como do cone curto;
 - B) a técnica da bisettriz baseia-se no princípio geométrico da isometria;
 - C) na técnica do paralelismo há um aumento da distorção na imagem radiográfica;
 - D) na técnica da bisettriz o feixe de raios X deve estar perpendicular ao dente;
 - E) o princípio da bisettriz é mais bem sucedido em dentes multirradiculares.

34. Devemos manter os instrumentos periodontais afiados conforme seu desenho original. Além disso, os procedimentos periodontais são mais eficazes quando utilizamos instrumentos afiados, há diminuição da fadiga muscular do profissional, diminuição do tempo de procedimento e do desconforto do paciente. Assim sendo, a respeito da técnica de afiação dos instrumentos periodontais, é correto afirmar que:

- A) os instrumentos devem ser afiados antes da esterilização, logo após serem usados;
- B) o ângulo interno entre o instrumento e a pedra deve variar de 70° a 80° ;
- C) para uma afiação adequada, o ângulo correto entre a pedra e o instrumento é de 45° ;
- D) durante a afiação o instrumento deve se movimentar sobre a e a pedra estabilizada;
- E) a afiação deve ser realizada em movimentos de cima para baixo e de baixo para cima.

35. É atividade privativa do TSB, colaborar nos levantamentos epidemiológicos como coordenador, monitor e anotador. Para tanto, é imprescindível o conhecimento das técnicas para a execução dos exames e coleta de dados, dos índices utilizados e da obtenção dos resultados. Assim sendo, a respeito dos índices epidemiológicos utilizados em odontologia, está exata a alternativa:

- A) o IPC é utilizado para registrar índices de doença periodontal em uma população;
- B) o PSR caracteriza a quantidade de dentes que foram afetados pela doença cárie;
- C) o CPOD é utilizado para mensurar a qualidade de higienização do paciente;
- D) o índice de Dean é um método de identificar o grau de saúde periodontal dos pacientes;
- E) para registrar o grau da fluorose dentária utiliza-se o índice PHP.

Técnico em Saúde Bucal - Nível Médio

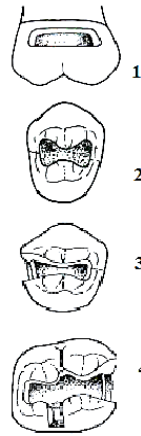
36. O grande interesse no uso odontológico dos cimentos ionoméricos ocorre em função das suas características de biocompatibilidade, liberação de íons flúor, adesividade a estrutura dental, entre outras. No entanto, para obtermos as melhores propriedades deste cimento, é necessária sua correta manipulação e inserção na cavidade oral. Portanto, acerca deste assunto, é considerada correta a seguinte alternativa:

- A) é necessário um preparo prévio da superfície a ser restaurada com ácido fluorídrico 10%, durante 15 a 30 segundo;
- B) o pó deve ser aglutinado de maneira rápida em um só incremento, fazendo movimentos circulares no bloco de espatulação;
- C) o cimento apresenta um brilho superficial durante seu tempo de trabalho, o qual desaparece quando começa a geleificação;
- D) é indicado armazenar o frasco contendo o líquido do cimento em geladeira, com a finalidade de manter suas melhores propriedades;
- E) o frasco do líquido deve estar angulado em 45° em relação ao bloco de espatulação, a uma distância que permita dispensar a gota livremente.

37. O isolamento absoluto do campo operatório é o único dispositivo capaz de eliminar a umidade, criando condições ideais de visibilidade e acesso, retraindo e protegendo os tecidos moles. É competência do profissional auxiliar em odontologia atuar junto ao cirurgião-dentista na confecção dos isolamentos. Assim sendo, a respeito dos materiais e instrumentais necessários e das técnicas para sua correta execução, podemos afirmar que:

- A) o arco porta dique de borracha de Young pode ser de plástico e tem forma ovalar ou de "o";
- B) na pinça de Ainsworth, o 2º maior orifício é indicado para perfurar a marcação dos molares;
- C) técnica de Ingraham coloca-se primeiro o grampo, depois o dique e por último o arco;
- D) na técnica de isolamento em um só tempo, devemos usar grampos sem asa;
- E) para restauração de dentes anteriores a regra geral é isolar a extensão de canino a canino.

38. As lesões de cárie ou cavitações podem localizar-se nos sulcos oclusais, faces proximais ou nas faces lisas, podendo ou não estar interligadas. Segundo a classificação de Black para as cavidades, a alternativa que apresenta a classificação correta para as figuras 1, 2, 3, 4 é a:



- A) 1 é considerada uma classe I;
 - B) 2 é considerada uma classe II;
 - C) 1 e 2 são da mesma classe;
 - D) 3 e 4 são da mesma classe;
 - E) 4 é considerada uma classe III.
39. O dente é formado pelo esmalte, dentina e polpa, e estes dois últimos formam o complexo dentinopulpar. A lesão cariosa destrói os tecidos duros do dente através da desmineralização, provocada pelos ácidos secretados pelos microrganismos presentes na placa bacteriana. Assim sendo, quando a cavidade está muito funda, muitas vezes, é indicado que façamos uma proteção para o complexo dentina-polpa. Acerca das técnicas utilizadas para este fim, podemos considerar correta a seguinte afirmativa:
- A) a proteção pulpar indireta deve ser realizada quando houver exposição acidental da polpa em estado reversível;
 - B) em cavidades profundas onde exista dentina esclerosada e reparadora já formadas, é indicado a proteção pulpar direta;
 - C) o sangramento vermelho-vivo e, posteriormente, a sua interrupção indicam que a polpa se encontra em estado irreversível;
 - D) o material de escolha para proteger a polpa exposta é o óxido de zinco e eugenol, na condição de pó, pasta ou cimento;
 - E) quando a polpa está separada do meio bucal apenas por uma camada delgada de dentina, indica-se o tratamento expectante.

Técnico em Saúde Bucal - Nível Médio

40. O objetivo de selar os sulcos e fossas é prevenir e/ou paralisar lesões de cárie restritas ao esmalte. Indica-se o selamento oclusal para os pacientes que possuem um alto índice de doença cárie, dentes com mancha branca ativa, mas sem sinais de cavitação. A respeito dos selantes oclusais está correto afirmar que:
- A) a durabilidade dos selantes ionoméricos é superior ao dos selantes resinosos;
 - B) os cimentos de fosfato de zinco podem ser usados para remineralizar lesões ativas
 - C) com o controle da umidade reduzido, os cimentos resinosos se desempenham melhor;
 - D) durante a erupção o dente está mais suscetível à cárie, sendo recomendado o selamento;
 - E) os selantes podem ser realizados com hidróxido de cálcio, pois este libera íons flúor.
41. Considerando o uso e aplicação correta do equipamento de proteção individual (EPI) pela equipe odontológica, assinale a alternativa correta:
- A) a vestimenta plumbífera garante a proteção do tronco e tireoide dos pacientes, quando expostos a raios X;
 - B) os gorros deve ser preferencialmente de pano, cobrir parcialmente os cabelos e deve ser trocado sempre que necessário ou a cada turno;
 - C) os óculos devem utilizados durante os procedimentos odontológicos, mas são opcionais na limpeza e desinfecção de artigos, equipamentos ou ambientes;
 - D) os protetores faciais são fabricados em policarbonato e podem substituir os óculos de proteção e a máscara;
 - E) os aventais podem ser usados entreabertos durante procedimentos clínicos, para permitir maior mobilidade do profissional.
42. Sabe-se que somente a escova não garante a remoção completa do biofilme dental, já que sua ação se restringe às superfícies livres dos dentes. Assim sendo, torna-se necessário o uso de fio ou fita-dental para remover o biofilme nas áreas proximais e sulco gengival. A respeito do uso correto do fio ou fita-dental pode-se afirmar que:
- A) não é necessário passar o fio dental na face distal do último dente de cada hemiarco, pois nesta face não há ponto de contato proximal;
 - B) não se recomenda o uso de fio ou fita-dental por crianças, pois elas não têm destreza manual para executar a técnica correta;
 - C) a técnica correta preconiza que se faça a remoção do biofilme interproximal de uma arcada completa sem desenrolar uma nova porção de fio;
 - D) o tipo do fio ou fita-dental não é importante, o que faz diferença é aplicação correta da técnica e da frequência do uso;
 - E) nenhum tipo de fio-dental deve ser usado por pacientes portadores de próteses fixas ou aparelhos ortodônticos, pois o fio pode ficar retido sob estes.
43. As resinas compostas são consideradas hoje o principal material restaurador de uso direto, sendo indicadas tanto para dentes anteriores como para dentes posteriores. Este material ganhou grande aceitação devido às suas propriedades estéticas e à longevidade clínica. A respeito deste material restaurador e sua correta técnica de aplicação, pode-se considerar correta a afirmativa:
- A) o primeiro passo deve ser o condicionamento da cavidade a ser restaurada com uma mistura de pedra pomes e água, e logo em seguida deve-se aplicar o adesivo com um pincel;
 - B) após a aplicação do ácido e do primer, aplica-se com auxílio de um pincel o adesivo (também conhecido como bond), que pode ser químico ou fotoativado;
 - C) as resinas ativadas quimicamente apresentam como principal vantagem em relação às fotoativadas o maior controle sobre o tempo de trabalho;
 - D) para a manipulação das resinas fotopolimerizáveis deve-se utilizar instrumentos plásticos ou de madeira, devido à abrasão que ocorre nos instrumentos metálicos.
 - E) as resinas fotopolimerizáveis têm como principal desvantagem sua estabilidade de armazenamento reduzida, necessitando que sejam guardadas em geladeira.
44. Os cimentos de ionômero de vidro são materiais adesivos e anticariogênicos que liberam flúor na cavidade bucal. A respeito da classificação dos cimentos ionoméricos segundo sua aplicação, é correto afirmar que os do tipo:
- A) I são indicados para cimentação de próteses fixas;
 - B) II são utilizados em selamento de cicatrículas e fissuras;
 - C) III são aqueles utilizados para restaurações estéticas;
 - D) VI são os utilizados para cimentação e selamentos;
 - E) V são utilizados na técnica do “sandwich”.

45. O sistema de notação dentária mais utilizado nos dias de hoje é o sistema de dois dígitos. Neste sistema cada elemento dentário está representado por um número arábico composto de dois dígitos.

Por exemplo: o elemento “23” é representado pelo primeiro dígito “2” que indica a hemiarcada ao qual ele pertence, seguido do segundo dígito “3” que aponta sua posição nesta hemiarcada.

Esta nomenclatura específica é de extrema importância para a comunicação entre profissionais da odontologia e, portanto deve ser reconhecida facilmente por um TSB. Considerando a nomenclatura de dois dígitos dada à dentição decídua e permanente, é correto afirmar que:

- A) um elemento dentário representado pelo primeiro dígito “cinco” está situado na hemiarcada inferior direita da dentição decídua;
- B) na dentição permanente, o segundo dígito “sete” de um elemento representa que este é o último elemento dentário da hemiarcada em questão;
- C) o primeiro molar inferior esquerdo da dentição decídua é representado numericamente pelo algarismo “sete” seguido do “quatro”;
- D) o elemento dentário decíduo mais posterior de cada hemiarcada é representado pelo segundo dígito “sete”;
- E) o elemento representado pelo número arábico “doze” corresponde ao incisivo central, superior, esquerdo da dentição permanente.

Técnico em Saúde Bucal - Nível Médio

ORIENTAÇÕES AO CANDIDATO

1. Você está recebendo do Fiscal de Sala o Caderno de Questões e a Folha de Respostas.
2. Confira o Caderno de Questões. Verifique se estão impressas as 45 (quarenta e cinco) questões de múltipla-escolha, cada uma com 5 (cinco) opções (A, B, C, D, E). Verifique ainda se a numeração das questões está distribuída de acordo com o Edital:

01 a 10 - *Língua Portuguesa*;
11 a 15 - *História e Geografia de Petrópolis*
16 a 20 - *Raciocínio Lógico*
21 a 25 - *Legislação*
26 a 45 - *Conhecimentos Específicos*
3. Verifique em seguida seus dados na Folha de Respostas: nome, número de inscrição, identidade e data de nascimento. Qualquer irregularidade comunique de imediato ao Fiscal de Sala. Não serão aceitas reclamações posteriores.
4. A prova terá duração de 4 horas, incluindo o tempo para preenchimento da Folha de Respostas.
5. Leia atentamente cada questão e assinale na Folha de Respostas a alternativa que responde corretamente a cada uma delas. Esta será o único documento válido para a correção eletrônica. O preenchimento da Folha de Respostas e sua respectiva assinatura serão de inteira responsabilidade do candidato. Não haverá substituição da Folha de Respostas por erro do candidato.
6. Observe as seguintes recomendações relativas à Folha de Respostas:
A maneira correta de marcação das respostas é cobrir, fortemente, com esferográfica de tinta azul ou preta, o espaço correspondente à letra a ser assinalada;
Outras formas de marcação diferentes da que foi determinada acima implicarão a rejeição da Folha de Respostas. Será atribuída nota zero às questões:
 - não assinaladas;
 - com falta de nitidez;
 - com mais de uma alternativa assinalada;
 - emendadas, rasuradas ou com marcação incorreta.
7. O Fiscal de Sala não está autorizado a alterar qualquer destas instruções. Em caso de dúvida solicite a presença do Coordenador de Local.
8. Você só poderá retirar-se definitivamente do recinto de realização das provas após 60 (sessenta) minutos contados do seu efetivo início.
9. Por motivo de segurança, só é permitido fazer anotações durante a prova no Caderno de Questões.
10. Após identificado e instalado na sala, você não poderá consultar qualquer material, enquanto aguarda o horário de início das provas.
11. Os três últimos candidatos deverão permanecer na sala até que o último candidato termine a prova.
12. Ao terminar a prova, entregue ao Fiscal de Sala a Folha de Respostas e o Caderno de Questões. Não é permitido ao candidato, após terminar a prova, levar o Caderno de Questões.

Boa Prova!

ESPAÇO PARA MARCAÇÃO DE SUAS RESPOSTAS

1	6	11	16	21	26	31	36	41
2	7	12	17	22	27	32	37	42
3	8	13	18	23	28	33	38	43
4	9	14	19	24	29	34	39	44
5	10	15	20	25	30	35	40	45