

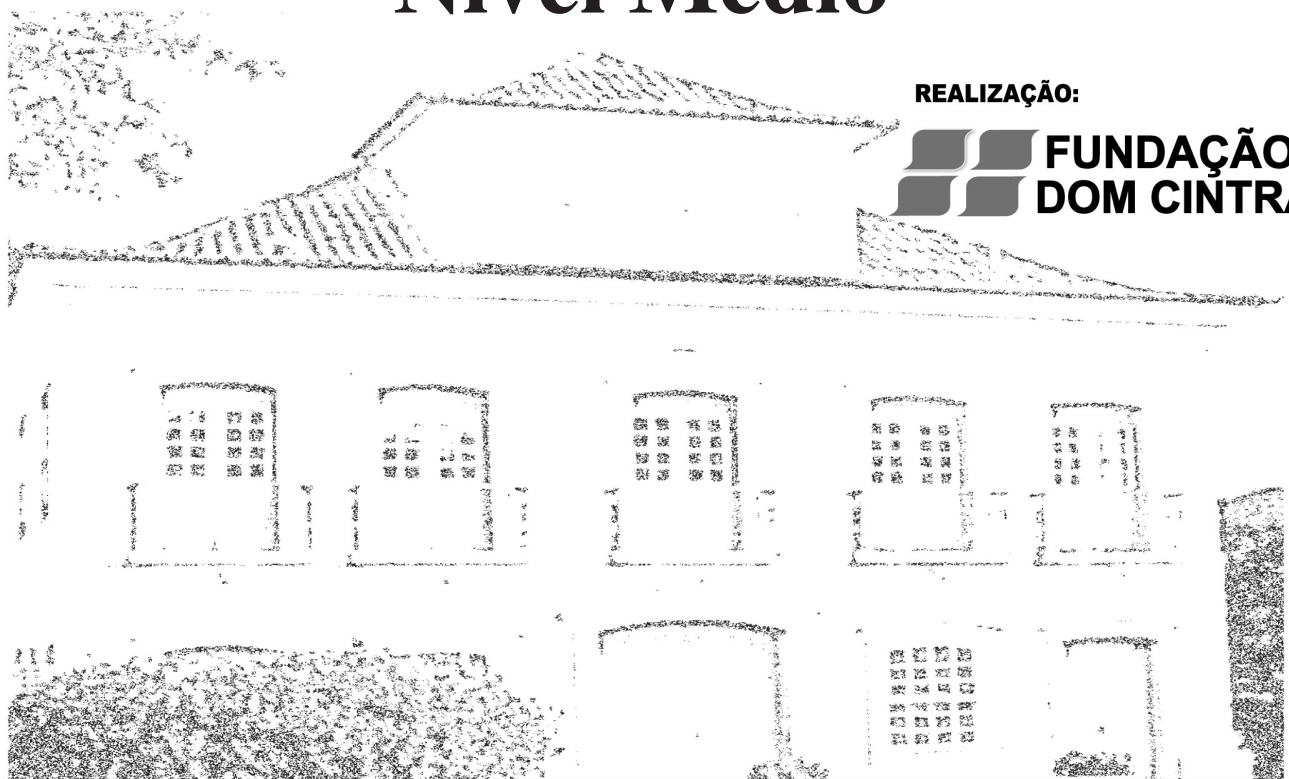
Caderno de Questões



Itaboraí
P R E F E I T U R A

Um novo tempo já começou

Técnico de Controle Interno Nível Médio



REALIZAÇÃO:

**FUNDAÇÃO
DOM CINTRA**

15.01.2012 - TARDE

LÍNGUA PORTUGUESA

TEXTO – PATRIMÔNIO LÍQUIDO

Folha de São Paulo, SP, 05-08-2003

Já se tornou um lugar-comum afirmar que a água é o petróleo do futuro. E o fato de uma fórmula como essa já estar relativamente repisada não a torna menos verdadeira. A exatidão é, aliás, o que transforma expressões felizes em clichês. A tendência de valorização da água é, em princípio, uma boa notícia para o Brasil.

O país é bastante privilegiado em termos de reservas de água doce. Aqui estão 16% das maiores e mais copiosas bacias hidrográficas do mundo, contamos com o aquífero Guarani, que é a maior reserva subterrânea do planeta, capaz de abastecer o país por 2500 anos. Mais ainda, as chuvas por aqui são abundantes. Mesmo no Nordeste, onde ocorrem as piores secas, chove duas vezes mais do que em Israel, por exemplo.

Se tamanha quantidade de água pode despertar a cobiça internacional, ela também nos proporciona uma boa dose de segurança quanto ao futuro hídrico e até nos torna potencialmente mais ricos. A abundância traz paradoxalmente o risco de descuidarmos de nosso fabuloso patrimônio líquido.

A notícia de que 27% dos rios e represas de São Paulo estão impróprios para abastecimento é daquelas que devem preocupar e servir de alerta. Em termos de preservação da vida aquática, a situação é ainda pior. Segundo avaliação da Cetesb, 46% dos rios paulistas foram considerados ruins ou péssimos. É preciso desde já tomar as medidas necessárias para conservar a água com boa qualidade. A tarefa nada tem de simples.

Só o estado de São Paulo coleta diariamente 5 milhões de toneladas de esgotos, 60% dos quais são despejados em rios sem nenhum tratamento. Essa não é a única ameaça: o crescimento dos aglomerados urbanos, a ocupação irregular de áreas de preservação e até a contaminação do aquífero Guarani por agrotóxicos são perigos concretos que precisam ser encarados com seriedade. O que está em jogo é a conservação de um bem cada vez mais escasso e precioso.

01. Ao iniciar o texto com “Já se tornou um lugar-comum afirmar que a água é o petróleo do futuro”, o autor faz a seguinte afirmação:
- contraria o que pensam os cientistas.
 - foi feita em todos os lugares do mundo.
 - tornou-se comum nas discussões populares.
 - se repete de modo frequente em muitos textos.
 - expressa um pensamento de tendência comunista.
02. Com a frase “o petróleo do futuro”, é correto afirmar que:
- a água vai ser retirada do fundo da terra, tal qual o petróleo.
 - a água vai alcançar valor equivalente ao do petróleo, hoje.
 - o petróleo e a água vão ser mais amplamente utilizados.
 - o petróleo vai desaparecer da face da Terra.
 - a água vai servir de combustível no futuro.
03. “Já **se tornou** um lugar-comum afirmar que a água **é** o petróleo do futuro” os dois verbos de ligação em destaque; mostram, respectivamente, os seguintes valores:
- aparência de estado / continuidade de estado.
 - continuidade de estado / mudança de estado.
 - mudança de estado / estado permanente.
 - estado transitório / aparência de estado.
 - estado permanente / estado transitório.

04. A valorização da água, segundo o texto, é uma boa notícia para o Brasil, entre outras razões, porque:
- o tratamento de esgotos vai melhorar.
 - os rios brasileiros sofrem pouca poluição.
 - a maior parte dos países tem regiões desérticas.
 - os rios paulistas podem melhorar suas condições.
 - o solo brasileiro contém grande quantidade de água potável.
05. Entre os perigos que envolvem nossa grande riqueza de água **NÃO** está:
- a falta de cuidado em relação à pureza de nossa água.
 - a cobiça internacional sobre nosso patrimônio líquido.
 - a redução da quantidade de esgotos nos rios de São Paulo.
 - a impropriedade de grande parte de nossa água para o consumo.
 - o crescimento dos aglomerados urbanos e a consequente poluição das águas.
06. Pelo que se pode entender do texto, “aquífero” é:
- um enorme rio subterrâneo.
 - um sistema de esgoto subterrâneo.
 - um local onde se deposita a água das chuvas.
 - um grande depósito de água potável sob a terra.
 - um grande espaço ocupado pela água das enchentes.
07. “E o fato de uma fórmula como essa já estar relativamente repisada não a torna menos verdadeira. A exatidão é, aliás, o que transforma expressões felizes em clichês”. Por esse segmento do texto depreende-se que:
- as coisas verdadeiras são as mais repetidas.
 - as coisas mais verdadeiras são as menos repetidas.
 - para se tornar verdadeira uma coisa não deve ser repetida.
 - quanto mais se repetem as coisas, menos verdadeiras elas se tornam.
 - quanto menos se repetem as coisas, mais elas se tornam verdadeiras.
08. *Privilégio* é uma palavra grafada corretamente com **I** na primeira sílaba. A palavra abaixo cuja grafia está **ERRADA** porque também deve ser escrita obrigatoriamente com **I** e não com **E** é:
- páreo.
 - paletó.
 - quesito.
 - campeão.
 - requesito.
09. “Aqui estão 16% das maiores e mais copiosas bacias hidrográficas do mundo...”; a palavra *copiosas* significa que as nossas bacias hidrográficas têm a seguinte característica:
- mostram maior volume de água.
 - são semelhantes a muitas outras bacias.
 - se localizam em paisagens mais bonitas.
 - possuem águas menos poluídas que as demais.
 - apresentam muito menos acidentes geográficos.

10. “Mesmo no Nordeste, onde ocorrem as piores secas...”; os vocábulos que poderiam substituir o vocábulo *mesmo* nesse segmento do texto, de forma adequada, são:
- A) embora / ainda que.
B) inclusive / ainda.
C) ainda que / até.
D) até / inclusive.
E) ainda / embora.
11. “**Mais** ainda, as chuvas por aqui são abundantes. Mesmo no Nordeste, onde ocorrem as piores secas, chove duas vezes **mais** do que em Israel, por exemplo”. Nesse segmento do texto, as duas ocorrências do vocábulo *mais* têm, respectivamente, os valores de:
- A) intensidade / quantidade.
B) adição / intensidade.
C) quantidade / tempo.
D) tempo / lugar.
E) lugar / adição.
12. “Se tamanha quantidade de água pode despertar a cobiça internacional, ela também nos proporciona uma boa dose de segurança quanto ao futuro hídrico...”; em outras palavras, podemos dizer que:
- A) nem tudo é o que parece.
B) quem tudo quer tudo perde.
C) bom por um lado, ruim por outro.
D) Deus ajuda a quem cedo madruga.
E) após a tempestade, vem a bonança.
13. Os advérbios terminados em *-mente* são formados com o feminino dos adjetivos; os dois advérbios abaixo que mostram claramente a forma feminina dos adjetivos a que se anexou o sufixo *-mente* são:
- A) relativamente / diariamente.
B) potencialmente / diariamente.
C) diariamente / paradoxalmente.
D) relativamente / potencialmente.
E) potencialmente / paradoxalmente.
14. Ao dizer que “A tarefa nada tem de simples”, o autor do texto quer dizer que a tarefa de cuidar da água é:
- A) é tarefa pouco complicada.
B) é trabalho muito complicado.
C) é mais simples do que poluir a água.
D) muito mais simples do que se pensa.
E) é mais simples agora do que no passado.
15. Após a mensagem do autor, é correto afirmar que o texto serve como:
- A) ensinamento sobre como combater a poluição de nossas águas.
B) crítica aos governantes que nada fazem contra a poluição.
C) informação sobre o estado atual de nossos rios.
D) elogio às políticas públicas de saneamento.
E) alerta contra a poluição da água.

MATEMÁTICA E LÓGICA

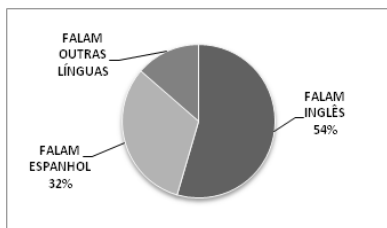
16. Numa reunião, o número de homens é o dobro do número de mulheres. Se saírem 15 homens e entrarem 4 mulheres, o número de pessoas de cada sexo ficará igual. A quantidade total de pessoas presentes à reunião é igual a:
- A) 36
B) 45
C) 57
D) 63
E) 72
17. Uma análise feita em 50 computadores verificou que:
- 31 computadores estavam infectados com o vírus A;
 - 25 computadores estavam infectados com os vírus B;
 - 8 computadores não estavam infectados com nenhum desses dois vírus.
- A quantidade de computadores infectados com os vírus A e B corresponde a:
- A) 13
B) 14
C) 15
D) 16
E) 17
18. Em uma manhã com muito trabalho, um Técnico de Informática recebeu 7 chamados técnicos provenientes do setor A, 3 do setor B e 4 do setor C. Como não haveria tempo para atender a todos os chamados, ele resolveu que atenderia somente a 4 desses chamados nessa manhã, deixando os demais para depois. Ele fez a seguinte agenda para essa manhã:

Hora	Chamado atendido
9h00 min	um chamado do setor A
9h50 min	um chamado do setor B
10h40 min	um chamado do setor C
11h30 min	outro chamado do setor A

De acordo com os dados apresentados, o número máximo de maneiras distintas que ele poderá executar o previsto em sua agenda corresponde a:

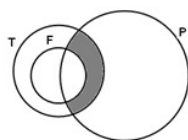
- A) 168
B) 240
C) 336
D) 504
E) 588
19. Em uma parada de ônibus, passa ônibus de uma única linha. Considere que o intervalo entre um ônibus e outro é sempre de 12 minutos e que um desses ônibus parou no ponto às 8h32min. Uma pessoa que chegar ao ponto às 10h24min terá que esperar, pelo próximo ônibus, a seguinte quantidade de minutos:
- A) 8
B) 7
C) 6
D) 5
E) 4

20. O gráfico abaixo mostra o resultado de uma pesquisa feita com um grupo de funcionários da secretaria municipal de Administração de Itaboraí.



O percentual relativo ao número de funcionários que falam outras línguas corresponde a:

- A) 26%
B) 24%
C) 22%
D) 18%
E) 14%
21. Observe os diagramas abaixo:



Se T = conjunto das pessoas que são técnicos em informática, P = conjunto das pessoas que trabalham para a prefeitura de Itaboraí e F = conjunto das pessoas do sexo feminino que são técnicos em informática, pode-se concluir corretamente que a região sombreada representa todas as pessoas:

- A) do sexo masculino que trabalham na prefeitura de Itaboraí como técnicos em informática.
B) do sexo feminino que trabalham na prefeitura de Itaboraí, mas que não são técnicos em informática.
C) que são técnicos em informática que não trabalham na prefeitura de Itaboraí.
D) do sexo masculino que não trabalham na prefeitura de Itaboraí.
E) que não são técnicos em informática e não são do sexo feminino.
22. Se todos os técnicos são gentis e alguns fumantes não são gentis, pode-se concluir corretamente que:
- A) se existe algum técnico fumante, então ele não é gentil.
B) existem fumantes que não são técnicos.
C) nenhum fumante é técnico.
D) todo fumante é técnico.
E) todo técnico é fumante.

23. Um pequeno produtor rural possui uma plantação em um terreno retangular com 120 m de comprimento e 80 m de largura. Para otimizar o processo de irrigação, um Técnico Agrícola sugeriu ao produtor que dividisse esse terreno em seis setores quadrados iguais, não sobrepostos e sem espaços entre eles.

Dessa forma, o perímetro de cada setor quadrado será, em metros, igual a:

- A) 480
B) 400
C) 225
D) 160
E) 80

24. Um Técnico de Contabilidade, para encontrar certo valor V aumentado em 8,72%, deve multiplicar V por:

- A) 0,0872
B) 0,872
C) 1,0872
D) 1,872
E) 108,72

25. Um programador associou a cada dia do ano de 2012, que é bissexto, a seguinte numeração:

1º de janeiro ? dia 1
2 de janeiro ? dia 2
3 de janeiro ? dia 3
...
31 de janeiro ? dia 31
1º de fevereiro ? dia 32
2 de fevereiro ? dia 33
...
31 de dezembro ? dia 366

Se o dia 7 é um sábado, então também será um sábado o dia de número:

- A) 141
B) 142
C) 145
D) 146
E) 147

CONHECIMENTOS ESPECÍFICOS

26. Na Lei Orçamentária de 2010 da prefeitura do município ABC, uma determinada secretaria foi contemplada com uma dotação de R\$ 500.000. No mês de agosto, a unidade constatou a necessidade de realizar uma despesa não prevista anteriormente na LOA, tendo sido autorizado um reforço de R\$ 30.000 na dotação. Esse crédito adicional concedido é classificado como:

- A) extraorçamentário
B) complementar
C) extraordinário
D) suplementar
E) especial

27. Uma determinada prefeitura, no exercício de 2010, utilizando sua dotação orçamentária, realizou uma despesa que foi registrada, quanto à sua natureza, com a seguinte codificação: 3.3.90.30. Na identificação efetuada, o primeiro dígito, representado pelo algarismo 3, e o quinto e sexto dígitos, pelo número 30, indicam, respectivamente:
- o grupo de despesa e o elemento de despesa
 - a modalidade de aplicação e o grupo de despesa
 - a categoria econômica e o elemento de despesa
 - a categoria econômica e a modalidade de aplicação
 - o elemento de despesa e a modalidade de aplicação
28. Na elaboração da Lei Orçamentária é vedado constarem autorizações globais. As receitas e despesas devem aparecer no orçamento de maneira discriminada, de tal forma que se possa saber, pormenorizadamente, a origem dos recursos e sua aplicação. Essa determinação é para atender ao seguinte princípio orçamentário:
- clareza
 - especificação
 - exclusividade
 - não afetação da receita
 - legalidade da tributação
29. A Lei Orçamentária Anual de 2010 de uma determinada prefeitura fixava as despesas no montante de R\$ 250 milhões. Durante o exercício financeiro, as seguintes operações foram realizadas:
- despesas empenhadas R\$ 225 milhões
 - liquidação de despesas R\$ 187,5 milhões
 - pagamento de despesas R\$ 137,5 milhões
- Além disso, foram obtidas as seguintes informações complementares:
- em 31/12 nenhum empenho foi considerado insubsistente;
 - durante o exercício não houve retificação da Lei Orçamentária;
 - havia disponibilidade suficiente para cobertura das obrigações de curto prazo.
- Com esses dados, pode-se afirmar que, no final do exercício, o montante inscrito em Restos a Pagar Processado foi igual a:
- R\$ 25 milhões
 - R\$ 37,5 milhões
 - R\$ 50 milhões
 - R\$ 62 milhões
 - R\$ 87,5 milhões
30. O Município de Planalto Central conta, atualmente, com uma população de 63.450 habitantes, dos quais 70 % vivem na sede do município e os 30% restantes estão distribuídos por dois distritos. A Prefeitura, em cumprimento aos preceitos estabelecidos pela Lei de Responsabilidade Fiscal, deverá elaborar e publicar o Relatório Resumido da Execução Orçamentária e o Relatório de Gestão Fiscal obedecendo, respectivamente, à seguinte periodicidade:
- mensalmente e quadrimestralmente
 - bimestralmente e quadrimestralmente
 - semestralmente e trimestralmente
 - bimestralmente e semestralmente
 - trimestralmente e bimestralmente
31. No caso de uma determinada prefeitura, durante o exercício financeiro ultrapassar o valor limite, estabelecido pela LRF, com a despesa total com pessoal. O percentual excedente àquele valor deverá ser eliminado, obrigatoriamente, no seguinte período:
- no trimestre seguinte
 - no semestre seguinte
 - nos dois trimestres seguintes
 - nos dois quadrimestres seguintes
 - até o final do exercício financeiro vigente
32. A Lei de Responsabilidade Fiscal estabelece limites, em função da receita corrente líquida, para a realização de despesa total com pessoal, aos quais cada ente da Federação deve obedecer. Além desses limites gerais, também impõe percentuais máximos que poderão ser realizados pelos Poderes ou órgãos, que variam de acordo com a esfera de governo. Para as Câmaras Municipais, esse limite corresponde ao seguinte percentual:
- 6 %
 - 3,4%
 - 3 %
 - 2,5 %
 - 2%
33. Conforme especificado nas normas atuais da contabilidade aplicada ao setor público, o registro contábil deve ser feito pelo método das partidas dobradas e os lançamentos devem debitar e creditar contas que apresentam a mesma natureza de informação. Assim, os lançamentos correspondentes aos atos potenciais, que poderão vir, posteriormente, a acarretar variação no patrimônio do ente público, serão realizados nas contas das seguintes classes:
- 1 e 2
 - 1 e 4
 - 2 e 3
 - 5 e 6
 - 7 e 8
34. No final do exercício financeiro de 2009, uma determinada prefeitura elaborou o seguinte quadro demonstrativo, relativo à sua execução orçamentária:

TÍTULO	LOA	EXECUÇÃO
Receitas Correntes	140.000	120.000
Receitas de Capital	160.000	162.000
Despesas Correntes	140.000	118.000
Despesas de Capital	160.000	146.000

Com base nessas informações, o resultado orçamentário apurado correspondeu a um:

- déficit de R\$ 18.000
- déficit de R\$ 20.000
- déficit de R\$ 56.000
- superávit de R\$ 18.000
- superávit de R\$ 36.000

35. Uma determinada prefeitura elaborou, no final do exercício, o balanço patrimonial, segundo a estrutura original, Anexo 14 da Lei nº 4.320/64. Na ocasião, ficou demonstrada a existência de um passivo a descoberto. Essa situação ocorreu em consequência da seguinte situação em relação ao montante:
- passivo real ser maior que o do ativo real
 - ativo compensado ser menor que o do passivo real
 - ativo financeiro ser menor que o do passivo permanente
 - passivo permanente ser maior do que o ativo permanente
 - ativo financeiro com o ativo permanente serem menores que os do passivo compensado
36. O princípio constitucional segundo o qual os atos da Administração devem merecer a mais ampla divulgação possível entre os administrados, propiciando-lhes a possibilidade de controlar a legitimidade da conduta dos agentes administrativos é o da:
- impessoalidade
 - publicidade
 - moralidade
 - legalidade
 - eficiência
37. Os atos administrativos que se preordenam a regular situações jurídicas concretas e têm destinatários definidos são classificados, quanto ao critério dos destinatários, como:
- declaratórios
 - vinculados
 - individuais
 - de império
 - simples
38. Considere a hipótese de um ato anterior que concedia licença e férias a um servidor. Se se verifica depois que o servidor não tinha direito à licença, pratica-se novo ato retirando essa parte do ato anterior, e se ratifica a parte relativa a férias. A essa forma de aproveitamento dá-se o nome de:
- reintegração
 - conversão
 - reversão
 - reforma
 - doação
39. A licitação que se dá entre interessados devidamente cadastrados ou que atenderem a todas as condições exigidas para cadastramento até o terceiro dia anterior à data do recebimento das propostas, observada a necessária qualificação, corresponde à modalidade de:
- leilão
 - convite
 - concurso
 - concorrência
 - tomada de preços
40. A suspensão temporária de participação em licitação e impedimento de contratar com a Administração, típica sanção administrativa prevista na Lei nº 8666/93, **NÃO** pode ser aplicada por prazo superior, em meses, a:
- 24
 - 18
 - 12
 - 9
 - 6

Anote aqui seu gabarito e destaque no pontilhado.

01	<input type="checkbox"/>
02	<input type="checkbox"/>
03	<input type="checkbox"/>
04	<input type="checkbox"/>
05	<input type="checkbox"/>
06	<input type="checkbox"/>
07	<input type="checkbox"/>
08	<input type="checkbox"/>
09	<input type="checkbox"/>
10	<input type="checkbox"/>

11	<input type="checkbox"/>
12	<input type="checkbox"/>
13	<input type="checkbox"/>
14	<input type="checkbox"/>
15	<input type="checkbox"/>
16	<input type="checkbox"/>
17	<input type="checkbox"/>
18	<input type="checkbox"/>
19	<input type="checkbox"/>
20	<input type="checkbox"/>

21	<input type="checkbox"/>
22	<input type="checkbox"/>
23	<input type="checkbox"/>
24	<input type="checkbox"/>
25	<input type="checkbox"/>
26	<input type="checkbox"/>
27	<input type="checkbox"/>
28	<input type="checkbox"/>
29	<input type="checkbox"/>
30	<input type="checkbox"/>

31	<input type="checkbox"/>
32	<input type="checkbox"/>
33	<input type="checkbox"/>
34	<input type="checkbox"/>
35	<input type="checkbox"/>
36	<input type="checkbox"/>
37	<input type="checkbox"/>
38	<input type="checkbox"/>
39	<input type="checkbox"/>
40	<input type="checkbox"/>

ATENÇÃO

O **caderno de questões** contém 40 (quarenta) questões de múltipla escolha, cada uma com 5 (cinco) alternativas (A,B,C,D,E), organizadas da seguinte forma:

de **01 a 15** - *Língua Portuguesa*; de **16 a 25** - *Matemática e Lógica* e de **26 a 40** - *Conhecimentos Específicos*.

INSTRUÇÕES

1. A duração da prova é de 3 (três) horas , considerando, inclusive, a marcação do **Cartão de Respostas**. Faça-a com tranqüilidade, mas controle o seu tempo.
2. Ao ser dado o sinal de início da prova verifique se a prova é para o **cargo** para o qual concorre, confira, também, a numeração das questões e a paginação. Qualquer irregularidade, comunique ao fiscal de sala.
3. Verifique, no **Cartão de Respostas**, se seu nome, número de inscrição, identidade e data de nascimento estão corretos. Caso contrário, comunique ao fiscal de sala.
4. O **Caderno de Questões** poderá ser utilizado para anotações, mas somente as respostas assinaladas no **Cartão de Respostas** serão objeto de correção.
5. Leia atentamente cada questão e assinale no **Cartão de Respostas** a alternativa que responde corretamente a cada uma delas.
6. Observe as seguintes recomendações relativas ao **Cartão de Respostas**:
 - não haverá substituição por erro do candidato;
 - não deixar de assinar no campo próprio;
 - não pode ser dobrado, amassado, rasurado, manchado ou conter qualquer registro fora dos locais destinados às respostas;
 - a maneira correta de marcação das respostas é cobrir, fortemente, com esferográfica de tinta azul ou preta, o espaço correspondente à letra a ser assinalada;
 - outras formas de marcação diferentes da que foi determinada acima implicarão a rejeição do **Cartão de Respostas**;
 - será atribuída pontuação zero à questão que contiver mais de uma ou nenhuma resposta assinalada, ou que contiver emenda ou rasura.
7. O fiscal não está autorizado a alterar quaisquer dessas instruções.
8. Você só poderá retirar-se da sala após 60 minutos do início da prova.
9. Quaisquer anotações só serão permitidas se feitas no caderno de questões.
10. Você poderá anotar suas respostas em área específica do Caderno de Questões, destacá-la e levar consigo.
11. Os três últimos candidatos deverão permanecer na sala até que o último candidato entregue o **Cartão de Respostas**.
12. Ao terminar a prova, entregue ao fiscal de sala, obrigatoriamente, o **Caderno de Questões** e o **Cartão de Respostas**.

Não esqueça seu documento de identidade.

Boa Prova!