


PREFEITURA MUNICIPAL DE PETRÓPOLIS

# CAMAREIRA

Nível Fundamental

# FCTP



REALIZAÇÃO:

 **FUNDAÇÃO  
DOM CINTRA**

# Caderno de Questões

04.03.2012 - Manhã

LÍNGUA PORTUGUESA

Leia o texto abaixo e responda às questões propostas.

**NUNCA É TARDE PARA USAR RODINHAS**

**Marmanjos fazem curso no Aterro para aprender a andar de bicicleta.**

- 1 Pegar a bicicleta e sair por aí pedalando. Isso parece ser algo tão natural para qualquer adulto quanto andar ou comer. Mas, para quem nunca aprendeu, parece um bicho de sete cabeças sobre duas rodas. Foi para ajudar adultos a domar esse monstro bípede que a técnica em turismo Ingrid Couto teve a ideia de dar aulas no Parque do Flamengo.
- 2 As turmas da escola Caminhos da Terra começaram em maio deste ano. Até hoje, cerca de 30 pessoas já fizeram o curso, sendo que, na última quarta-feira, 15 delas participaram de uma formatura simbólica no Aterro. A professora Graça Barros, de 57 anos, conta que, vencido o desafio que a atormentava desde a infância, ela fazia questão de estar ali para comemorar a conquista:
- 3 - Eu dirijo, mas não entendia por que a bicicleta, que é menor do que o carro, dá um banho na gente.
- 4 Graça confessa que sua maior dificuldade foi vencer o medo de cair. Ela superou o receio com a empolgação, que era tamanha que a fez marcar todas as cinco aulas do pacote em sequência.
- 5 Mesmo sem ter prática, foi Graça quem ensinou o filho, hoje com 31 anos, a andar de bicicleta. O analista de sistemas Roberto Mariano da Cruz - outro formando da turma - também conta que foi ele quem ensinou as duas filhas.
- 6 - Apesar de não ter experiência, a gente tem uma noção de como se faz. E a criança acredita em você - explica ele, que decidiu aprender a pedalar como parte das metas a serem cumpridas antes de completar 50 anos, em 2012.
- 7 Roberto conta que, depois que ficou sabendo do curso, só tinha um obstáculo: superar o “mico” de ser visto andando com bicicleta de rodinhas.
- 8 Roberto é chamado de “aluno recorde”, pelos instrutores, por causa da rapidez com que conseguiu se livrar das rodinhas. Segundo Ingrid Couto, em geral, as pessoas só abandonam o acessório da quarta aula em diante.
- 9 A rodinha, inclusive, foi um dos desafios para a implementação do curso. A solução foi desenvolver, junto a um serralheiro, rodinhas resistentes. E, pela demanda, Ingrid diz que terá que fazer novas encomendas:
- 10 - Vamos ampliar nossa capacidade de dois para até quatro alunos por horário e abriremos uma filial na Barra.
- 11 Apesar de o foco inicial ter sido os adultos, Ingrid passou a oferecer aulas também para as crianças, devido à demanda surgida nas férias.

(BALDIOTI, Fernanda. O Globo. 16/10/2011.)

1. Das alterações feitas na frase “Apesar de não ter experiência, a gente tem uma noção de como se faz” (parágrafo 6), aquela em que houve alteração substancial de sentido é:
  - A) Embora não tenha experiência, a gente tem uma noção de como se faz.
  - B) A gente tem uma noção de como se faz, porquanto não tenha experiência.
  - C) Mesmo não tendo experiência, a gente tem uma noção de como se faz.
  - D) A gente tem uma noção de como se faz, ainda que não tenha experiência.
  - E) Conquanto não tenha experiência, a gente tem uma noção de como se faz.
2. O “monstro bípede” a que se refere a autora no parágrafo 1 deve ser lido da seguinte maneira:
  - A) é a bicicleta que, para ser movimentada, tem dois pedais;
  - B) é o homem adulto que, para pedalar, necessita dos dois pés;
  - C) são os homens e as mulheres adultos que não aprenderam a andar de bicicleta na infância;
  - D) é a bicicleta que exige equilíbrio sobre duas rodas;
  - E) são os dois pedais da bicicleta, sempre prontos a confundir os que estão aprendendo.
3. Se for desenvolvida a oração reduzida de participio “vencido o desafio que a atormentava desde a infância” (parágrafo 2), mantendo-se o sentido do texto, uma redação possível será:
  - A) ainda que tenha vencido o desafio que a atormentava desde a infância;
  - B) enquanto vencia o desafio que a atormentava desde a infância;
  - C) pois tinha vencido o desafio que a atormentava desde a infância;
  - D) caso tivesse vencido o desafio que a atormentava desde a infância;
  - E) à proporção que vencia o desafio que a atormentava desde a infância.
4. Com a expressão em caixa alta na frase “Eu dirijo, mas não entendia por que a bicicleta, que é menor do que o carro, DÁ UM BANHO na gente” (parágrafo 3), a professora Graça Barros quis dizer que a bicicleta:
  - A) ridiculariza-nos até ser dominada;
  - B) inferioriza-se em nossa presença;
  - C) torna-se impossível de ser dominada;
  - D) constitui um instrumento de tortura;
  - E) tem uma postura de superioridade sobre nós.

5. O termo em caixa alta no trecho “só tinha um obstáculo: superar O ‘MICO’ de ser visto andando com bicicleta de rodinha” (parágrafo 7) pode ser substituído, sem prejuízo para o sentido, por:
- A) a insegurança;
  - B) o medo;
  - C) o escândalo;
  - D) a infantilidade;
  - E) o vexame.
6. Das alterações feitas na redação da parte em caixa alta da frase “Ingrid passou a oferecer aulas também para as crianças, DEVIDO À DEMANDA SURGIDA NAS FÉRIAS” (parágrafo 11), aquela em que foi mantido o sentido original do texto é:
- A) em razão da procura que aparecia nas férias escolares;
  - B) por causa da ociosidade das crianças durante as férias;
  - C) embora houvesse muita procura durante as férias;
  - D) à medida que iam surgindo alunos nas férias;
  - E) em virtude da baixa procura por parte dos adultos durante as férias escolares.
7. No trecho “Eu dirijo, mas não entendia por que a bicicleta, que é menor do que o carro, dá um banho na gente” (parágrafo 3), a palavra POR QUE foi grafada corretamente com os elementos separados. A frase abaixo cuja lacuna se grafa com a mesma palavra, também com os elementos separados, é:
- A) Graça não andava de bicicleta \_\_\_\_ tinha medo de cair.
  - B) Só pedalando é que se descobre o \_\_\_\_ de tanta insegurança.
  - C) A escola vai ampliar o atendimento \_\_\_\_ está havendo muita procura.
  - D) Os alunos no início sentem-se envergonhados \_\_\_\_ as bicicletas têm rodinhas.
  - E) Ela só queria saber \_\_\_\_ era tão insegura para pedalar.
8. Na voz ativa, a oração “Roberto é chamado de ‘aluno recorde’ pelos instrutores” (parágrafo 8) terá a seguinte redação:
- A) Pelos instrutores Roberto é chamado de “aluno recorde”.
  - B) Os instrutores chamavam Roberto de “aluno recorde”.
  - C) De “aluno recorde” era como os instrutores chamavam Roberto.
  - D) Os instrutores chamam Roberto de “aluno recorde”.
  - E) Era chamado Roberto pelos instrutores de “aluno recorde”.
9. Pela leitura integral do texto, podem ser depreendidas todas as ideias abaixo, EXCETO:
- A) a escola Caminhos da Terra foi criada para ensinar adultos a andar de bicicleta, utilizando bicicletas com rodinhas;
  - B) em média os alunos utilizam as rodinhas até a quarta aula, considerando-se as aulas que compõem o pacote;
  - C) as pessoas procuram a escola Caminhos da Terra porque entendem que é mais fácil dirigir um carro do que andar de bicicleta;
  - D) curiosamente, alguns alunos, sem saber andar de bicicleta, foram os instrutores dos filhos para que estes aprendessem a andar de bicicleta;
  - E) idealizada inicialmente para adultos, a escola Caminhos de Terra passou também a admitir crianças em período de férias.
10. Na oração “Até hoje, cerca de 30 pessoas já fizeram o curso” (parágrafo 2), a concordância foi feita corretamente. Das frases abaixo, está INCORRETA quanto à concordância, de acordo com as normas da língua culta, a seguinte:
- A) Falta ainda para o aluno terminar o curso 3 aulas.
  - B) Procuraram a escola três homens e duas mulheres.
  - C) Somente nas férias é que são oferecidas aulas para as crianças.
  - D) A maioria dos alunos precisa usar rodinhas na bicicleta.
  - E) Grande parte dos alunos participou da formatura simbólica.

**HISTÓRIA E GEOGRAFIA DE PETRÓPOLIS**

11. Em Petrópolis há diferentes tipos de Turismo dentre eles o histórico, de natureza e de compras. Este último é representado pelo grande comércio de roupas que se localiza principalmente na (o):
- A) rua Teresa;
  - B) shopping Itaipava;
  - C) bairro da Posse;
  - D) centro histórico;
  - E) feira da praça Expedicionários.
12. O Caminho do Imperador ou Estrada Imperial é um famoso roteiro turístico, tendo sido no passado, o trajeto predileto do Imperador D. Pedro II. Esse percurso de aproximadamente 36 km, nos altos da Serra do Couto, liga Petrópolis a:
- A) Paty de Alferes;
  - B) Paraíba do Sul;
  - C) Magé;
  - D) Teresópolis;
  - E) Guapimirim.
13. Quem nunca pensou em voltar no tempo? O espetáculo *Som e Luz* -Petrópolis oferece esta oportunidade ao reviver alguns dos mais importantes momentos do segundo reinado no Brasil. Trata-se de uma superprodução que utiliza efeitos especiais de iluminação e sonorização para reviver a história de D. Pedro II. Esse espetáculo acontece no (a):
- A) Museu Imperial;
  - B) SESC-Palácio Quitandinha;
  - C) Parque Cremerie;
  - D) Palácio de Cristal;
  - E) Catedral de São Pedro de Alcântara.
14. Comerciantes ingleses lançaram em 1846 elegante viatura, procedente de Plymouth, adotada no condado de Devon e na própria Londres sob o nome de “Victoria”. O nome foi dado em homenagem à Rainha da Grã Bretanha e Irlanda e Imperatriz das Índias, Rainha Victoria. Esse tipo de viatura passou a ser usado também no Brasil, ainda no século XIX, vindo para Petrópolis durante o Império. A “vitória” passou a ser utilizada em passeios turísticos em Petrópolis na década de 40 do século XX. O texto acima refere-se ao passeio de:
- A) charrete;
  - B) bonde;
  - C) serpentina;
  - D) sege;
  - E) trem.

15. A construção da casa em Petrópolis ocorreu após uma aposta que ele fez com amigos, de que seria capaz de erguer a construção em um pequeno espaço do morro do Encanto. Ganhou a aposta levando para casa a caixa de uísque. O genial inventor chamou-a de “A Encantada” como homenagem à rua do Encanto, onde está edificada, na altura do número 22. Ali passava longas temporadas até sua morte em 1932. A casa referida no texto pertencia a:

- A) Santos Dumont;
- B) Ruy Barbosa;
- C) Stefan Zweig;
- D) Frederico Koeler;
- E) Campos Sales.

**RACIOCÍNIO LÓGICO**

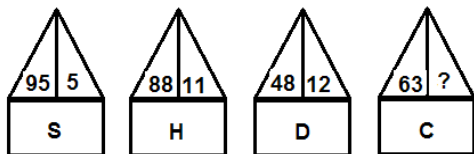
16. Os números apresentados a seguir obedecem a uma determinada regra lógica envolvendo operações matemáticas elementares:

231 (21) 11  
210 (15) 14  
208 (?) 16

De acordo com essa mesma regra, o número que deve ser colocado entre parênteses, no lugar da interrogação, é:


- A) 12;
  - B) 13;
  - C) 14;
  - D) 15;
  - E) 16.
17. Quatro amigas viajaram para destinos diferentes em suas férias. Os países escolhidos foram: Portugal, Espanha, México e Chile. Ana, que é mais nova do que a moça que foi para a Espanha, viajou para um país da Europa. Bete não viajou para a Europa. Carla, que é irmã da Daniela, viajou para um país da América do Sul. Ana, Bete, Carla e Daniela, viajaram respectivamente, para os países:
- A) Portugal, México, Chile, Espanha;
  - B) Portugal, Espanha, Chile e México;
  - C) Portugal, Chile, México e Espanha;
  - D) México, Portugal, Chile e Espanha;
  - E) Espanha, Chile, México e Portugal.

18. Os números e as letras que aparecem nas figuras a seguir obedecem a uma mesma regra lógica que envolve operações matemáticas elementares:



De acordo com essa mesma regra lógica, o número que deve ser colocado no lugar da interrogação deve ser o:

- A) 7;
  - B) 9;
  - C) 11;
  - D) 21;
  - E) 32.
19. A sequência 2, 4, 7, 11, 16, 22, 29, ... obedece a uma determinada regra lógica. O próximo número dessa sequência é:
- A) 32;
  - B) 34;
  - C) 37;
  - D) 40;
  - E) 53.
20. Thiago tem 11 (onze) notas, algumas de R\$ 50,00 e outras de R\$ 10,00. Ao todo, ele possui R\$ 390,00, logo, a quantidade de notas de R\$ 50,00 que ele possui, é:
- A) 3;
  - B) 4;
  - C) 5;
  - D) 6;
  - E) 7.
21. No esquema apresentado a seguir, que envolve apenas operações matemáticas elementares, figuras iguais representam números iguais.



Logo, o triângulo ( $\triangle$ ) representa o número:

- A) 10;
- B) 12;
- C) 15;
- D) 20;
- E) 25.

22. Observe a seguinte sequência de figuras:



A próxima figura, que completaria a lógica dessa sequência, é:



23. Um caminhoneiro precisa fazer uma viagem em 12 horas e com uma velocidade média de 70 km/h, pois caso isso não ocorra, ele pagará uma alta multa. Ocorre que nas 6 primeiras horas de viagem ele só percorreu 300 km e agora, para completar a viagem como o planejado inicialmente, deverá viajar, nas 6 horas restantes, com uma velocidade média, em km/h, de:

- A) 80;
- B) 90;
- C) 95;
- D) 100;
- E) 120.

24. As palavras a seguir apresentam uma determinada relação lógica:

FOGUEIRA (FORA) MINEIRA  
 MANOPLA (MANO) CICLANO

Usando essa mesma relação apresentada anteriormente, a palavra que deve ser colocada entre parênteses na sequência a seguir, é:

RALADO (.....) DINAMO

- A) RANA;
- B) LANA;
- C) DONA;
- D) RAMO;
- E) MOLA.

25. “Arroz” está para “cozinheira”, assim como “cimento” está para “.....”

Uma possível palavra a completar o sentido da frase, é:

- A) casa;
- B) tijolo;
- C) alicerce;
- D) areia;
- E) pedreiro.

## Camareira - Nível Fundamental

### CONHECIMENTOS ESPECÍFICOS

26. São funções específicas da camareira da Fundação de Cultura e Turismo de Petrópolis:
- I. efetuar serviços de limpeza e manutenção dos camarins;
  - II. passar as peças dos vestidos dos artistas que serão utilizados no espetáculo;
  - III. atender ao público interno e externo recebendo correspondências e encaminhando as mesmas aos setores adequados;
  - IV. encaminhar espectadores e visitantes às áreas de realização dos eventos.

Dos itens acima mencionados, estão corretos apenas:

- A) I e II;
  - B) II e III;
  - C) III e IV;
  - D) I, II e III;
  - E) II, III e IV.
27. A higiene é mais do que apenas ser limpo; é definida como prática que ajuda as pessoas a se manterem saudáveis. Praticar uma boa higiene pessoal é importante porque:
- A) multiplica a ameaça de bactérias que constantemente residem no corpo;
  - B) provoca doenças graves nas pessoas pois o meio ambiente é repleto de microrganismos e alguns desses são responsáveis pela contaminação;
  - C) educa as pessoas a praticar hábitos saudáveis com vestir-se bem, caminhar ao ar livre e comer de maneira civilizada;
  - D) contribui para impedir as pessoas de capturar e disseminar doenças;
  - E) obriga o profissional a usar o uniforme da empresa.
28. Considerando os cuidados básicos com a higiene pessoal, use (V) para as afirmativas verdadeiras e (F) para as falsas:
- ( ) Os cabelos devem ser compridos, lavados, usados soltos.
  - ( ) As unhas devem ser bem compridas, lixadas e pintadas;
  - ( ) O banho de corpo inteiro e a troca de roupas íntimas devem ser diários;
  - ( ) Os dentes devem ser, preferencialmente, escovados sempre após as refeições, ao se levantar e à noite ao se deitar .

A sequência correta:

- A) V, V, V, F;
- B) V, F, F, F;
- C) F, F, F, V;
- D) V, V, F, F;
- E) F, F, V, V.

29. Na maioria das vezes a camareira utiliza um carrinho com todos os produtos e materiais que necessita para cumprir suas tarefas. A finalidade principal de carrinho é:
- A) transportar as compras do mercado para que possa confeccionar a refeição do dia;
  - B) facilitar o serviço dos recepcionistas pois permite deixar a entrada do teatro limpa;
  - C) facilitar a atuação dos atores nas peças contratadas pela prefeitura;
  - D) facilitar seu próprio trabalho permitindo-lhe transportar aquilo que é necessário para efetivar seu serviço;
  - E) transportar todos os uniformes dos empregados do teatro em que a camareira trabalha.

30. São produtos de limpeza comuns ao trabalho de uma camareira para realizar a atribuição de limpeza e higienização de ambientes:
- I. sabonete, xampu, condicionador;
  - II. produto multiuso para a limpeza de pó de superfícies variadas e vidros;
  - III. copos, guardanapos ou base para copos;
  - IV. produtos para higienização para banheiros com desinfetante, água sanitária.

Dos itens acima mencionados, estão corretos apenas:

- A) I e II;
  - B) II e III;
  - C) II e IV;
  - D) I, II e III;
  - E) II, III e IV.
31. Com relação à higiene e à limpeza de ambientes, numere a 2ª coluna de acordo com a 1ª .
- |                   |  |
|-------------------|--|
| (1) desinfecção   | ( ) remoção de sujeiras invisíveis a olho nu, eliminação de microrganismos.          |
| (2) desinfestação | ( ) eliminação de microrganismos patogênicos que possam causar inclusive mau cheiro. |
| (3) higienização  | ( ) eliminação de pragas já instaladas ou em processo de crescimento.                |

A sequência correta é:

- A) 1,2,3;
- B) 3,1,2;
- C) 1,3,2;
- D) 3,2,1;
- E) 2,1,3.

## Camareira - Nível Fundamental

32. Os equipamentos de proteção individual( EPI) são regulamentados pela NR6. Conforme esta norma, o EPI é todo dispositivo ou produto de uso individual utilizado pelo trabalhador, destinado à proteção de riscos suscetíveis de ameaçar a segurança e a saúde no trabalho.

No caso da função de camareira que efetua serviços de limpeza e de conservação de mobiliário, equipamentos e materiais, o EPI indispensável é:

- A) bota;
  - B) luva;
  - C) capacete;
  - D) touca;
  - E) óculos.
33. Para efetuar a limpeza diária de um camarim do Theatro D.Pedro, a camareira se organiza da seguinte maneira:15 minutos para a limpeza das cadeiras, 20 minutos para os móveis, 35 minutos para o piso. Considerando que em um dia de faxina ela gasta 4 vezes mais tempo, ela precisa para efetuar a faxina de:
- A) 1 hora e 10 minutos;
  - B) 2 horas;
  - C) 3 horas e 30 minutos;
  - D) 4 horas;
  - E) 4 horas e 40 minutos.

34. Uma camareira precisa encher com água 3 recipientes iguais. Cada um mede 1,5m de altura, por 2,5m de largura e 4m de comprimento. A quantidade de metros cúbicos de água necessária será:

- A) 8m<sup>3</sup>;
- B) 24m<sup>3</sup>;
- C) 15m<sup>3</sup>;
- D) 45m<sup>3</sup>;
- E) 60m<sup>3</sup>.

35. Uma cama de casal mede 1,48m de largura por 1,70m de comprimento. A camareira vai usar um lençol maior que a cama 0,15m na largura e 0,38 no comprimento. A medida do lençol a ser usado é, respectivamente:

- A) 1,63m por 2,08m;
- B) 1,53m por 1,18m;
- C) 1,53m por 2,18m;
- D) 16,3m por 2,08m;
- E) 15,3m por 21,8m.

ORIENTAÇÕES AO CANDIDATO

1. Você está recebendo do Fiscal de Sala o Caderno de Questões e a Folha de Respostas.
2. Confira o Caderno de Questões. Verifique se estão impressas as 35 (trinta e cinco) questões de múltipla-escolha, cada uma com 5 (cinco) opções (A, B, C, D, E). Verifique ainda se a numeração das questões está distribuída de acordo com o Edital:  
**01 a 10** - *Língua Portuguesa*;  
**11 a 15** - *História e Geografia de Petrópolis*  
**16 a 25** - *Raciocínio Lógico*  
**26 a 35** - *Conhecimentos Específicos*
3. Verifique em seguida seus dados na Folha de Respostas: nome, número de inscrição, identidade e data de nascimento. Qualquer irregularidade comunique de imediato ao Fiscal de Sala. Não serão aceitas reclamações posteriores.
4. A prova terá duração de 4 horas, incluindo o tempo para preenchimento da Folha de Respostas.
5. Leia atentamente cada questão e assinale na Folha de Respostas a alternativa que responde corretamente a cada uma delas. Esta será o único documento válido para a correção eletrônica. O preenchimento da Folha de Respostas e sua respectiva assinatura serão de inteira responsabilidade do candidato. Não haverá substituição da Folha de Respostas por erro do candidato.
6. Observe as seguintes recomendações relativas à Folha de Respostas:  
A maneira correta de marcação das respostas é cobrir, fortemente, com esferográfica de tinta azul ou preta, o espaço correspondente à letra a ser assinalada;  
Outras formas de marcação diferentes da que foi determinada acima implicarão a rejeição da Folha de Respostas. Será atribuída nota zero às questões:
  - não assinaladas;
  - com falta de nitidez;
  - com mais de uma alternativa assinalada;
  - emendadas, rasuradas ou com marcação incorreta.
7. O Fiscal de Sala não está autorizado a alterar qualquer destas instruções. Em caso de dúvida solicite a presença do Coordenador de Local.
8. Você só poderá retirar-se definitivamente do recinto de realização das provas após 60 (sessenta) minutos contados do seu efetivo início.
9. Por motivo de segurança, só é permitido fazer anotações durante a prova no Caderno de Questões.
10. Após identificado e instalado na sala, você não poderá consultar qualquer material, enquanto aguarda o horário de início das provas.
11. Os três últimos candidatos deverão permanecer na sala até que o último candidato termine a prova.
12. Ao terminar a prova, entregue ao Fiscal de Sala a Folha de Respostas e o Caderno de Questões. Não é permitido ao candidato, após terminar a prova, levar o Caderno de Questões.

**Boa Prova!**

ESPAÇO PARA MARCAÇÃO DE SUAS RESPOSTAS

1		6		11		16		21		26		31	
2		7		12		17		22		27		32	
3		8		13		18		23		28		33	
4		9		14		19		24		29		34	
5		10		15		20		25		30		35	