



CONCURSO PÚBLICO MUNICÍPIO DE CARANGOLA ESTADO DE MINAS GERAIS



EDITAL Nº. 001/2011

INSTRUÇÕES

- 01 - Material a ser utilizado: caneta esferográfica azul ou preta. Os objetos restantes devem ser colocados em local indicado pelo fiscal da sala, inclusive aparelho celular desligado e devidamente identificado com etiqueta.
- 02 - Não é permitido consulta, utilização de livros, códigos, dicionários, apontamentos, apostilas, calculadoras e etc. Não é permitido ao candidato ingressar na sala de provas sem a respectiva identificação e o devido recolhimento de telefone celular, bip e outros aparelhos eletrônicos.
- 03 - Durante a prova, o candidato não deve levantar-se, comunicar-se com outros candidatos e nem fumar.
- 04 - A duração da prova é de 03 (três) horas, já incluindo o tempo destinado à entrega do Caderno de Provas e à identificação – que será feita no decorrer da prova – e ao preenchimento do Cartão de Respostas (Gabarito) e Folha de Respostas (Prova Discursiva).
- 05 - Somente em caso de urgência pedir ao fiscal para ir ao sanitário, devendo no percurso permanecer absolutamente calado, podendo antes e depois da entrada sofrer revista através de detector de metais. Ao sair da sala no término da prova, o candidato não poderá utilizar o sanitário. Caso ocorra uma emergência, o fiscal deverá ser comunicado.
- 06 - O Caderno de Provas consta de 40 (quarenta) questões objetivas de múltipla escolha. Serão aplicadas para os cargos de nível superior, Prova Discursiva de caráter apenas classificatório, constituída de uma redação.
- 07 - As questões das provas objetivas são do tipo múltipla escolha, com 05 (cinco) opções (A a E) e uma única resposta correta.**
- 08 - Ao receber o material de realização das provas, o candidato deverá conferir atentamente se o Caderno de Provas corresponde ao cargo a que está concorrendo, observando o nome do cargo na parte superior da próxima página, bem como se os dados constantes no Cartão de Respostas (Gabarito) e Folha de Respostas (Prova Discursiva) que lhe foram fornecidos, estão corretos. Caso os dados estejam incorretos, ou o material esteja incompleto ou tenha qualquer imperfeição, o candidato deverá informar tal ocorrência ao fiscal.
- 09 - Os fiscais não estão autorizados a emitir opinião e prestar esclarecimentos sobre o conteúdo das provas. Cabe única e exclusivamente ao candidato interpretar e decidir.
- 10 - O candidato poderá retirar-se do local de realização das provas levando o Caderno de Provas, no decurso dos últimos 30 (trinta) minutos anteriores ao horário previsto para o seu término. O candidato poderá retirar-se do local de provas somente a partir dos 90 (noventa) minutos, após o início de sua realização, contudo não poderá levar consigo o Caderno de Provas.
- 11 - Os 3 (três) últimos candidatos de cada sala somente poderão sair juntos. Caso o candidato insista em sair do local de aplicação da prova, deverá assinar um termo desistindo do Concurso Público e, caso se negue, deverá ser lavrado o Termo de Ocorrência, testemunhado pelos 2 (dois) outros candidatos, pelo fiscal da sala e pelo coordenador da unidade escolar.

RESULTADOS E RECURSOS

- Os gabaritos oficiais preliminares das provas objetivas serão divulgados na Internet, no *site* www.idecan.org.br, a partir das 16h00min do dia útil subsequente ao da realização da prova escrita (segunda-feira).
- Os recursos deverão ser apresentados, conforme determinado no **item 8 do Edital nº. 001/2011**, sendo observados os seguintes aspectos:
- a) O candidato que desejar interpor recursos contra os gabaritos oficiais preliminares das provas objetivas disporá de **02 (dois) dias úteis**, a contar do segundo dia subsequente ao de sua divulgação (quarta-feira), em requerimento próprio disponibilizado no link correlato ao Concurso Público no *site* www.idecan.org.br.
- b) A interposição de recursos poderá ser feita **somente via internet**, através do **Sistema Eletrônico de Interposição de Recursos**, com acesso pelo candidato com o fornecimento de dados referentes à sua inscrição, apenas no prazo recursal, ao **IDECAN**, conforme disposições contidas no *site* www.idecan.org.br, no link correspondente ao Concurso Público.

TEXTO:**A garota assassinada e a ruína do gigante**

Primeiro, os personagens. A garota era Milly Dowler. O gigante é a News Corp, multinacional de mídia que era a dona do tabloide inglês *News of the World*. Agora, a trama. Em 21 de março de 2002, aos 13 anos, Milly foi sequestrada a caminho da escola. Seu corpo foi encontrado cerca de seis meses depois. Em 2011, ela parece que voltou a viver. Para vingar-se – não de seus assassinos, mas daqueles que exploram sua tragédia para lucrar com ela.

Hoje, as evidências indicam que o *News of the World* invadiu a caixa postal do celular de Milly dias depois do sequestro, quando ela já estava morta (mas, àquela altura, ninguém ainda sabia disso). Detetives particulares contratados pelo jornal apagaram mensagens gravadas ali e, assim, fizeram os familiares pensarem que Milly estava viva. Essa ilusão deu fôlego para o suspense e, naturalmente, rendeu lucros ao impresso, que cobria a história.

Essa revelação estarreceu a opinião pública no Reino Unido. A mesma sociedade que fazia do *News of the World* um campeão de vendas (com cerca de 2,7 milhões de exemplares por edição), rompeu com ele. Os anunciantes voltaram-lhe as costas. Em julho, os donos do jornal decidiram fechá-lo. Por total e absoluta desmoralização, uma publicação com 168 anos deixou de existir... Não é apenas o capital que se globaliza. Não são apenas as massas de trabalhadores que furam fronteiras para disputar empregos. Não é apenas a mercadoria que viaja na velocidade da luz. A ética também se torna mais sensível – e os deslizos trazem desdobramentos que seriam impensáveis... Não é provável que toda a News Corp entre pelo ralo, mas boa parte dela já foi para o esgoto. O que foi perdido, perdido está. Em matéria de imprensa, a credibilidade leva décadas para ser construída e poucas semanas para ser destruída. E credibilidade é o maior patrimônio que uma publicação pode ter. Que ninguém se iluda.

Essa verdade é bem mais antiga que as economias globalizadas. O valor da reputação já é o que é desde as primeiras civilizações. Agora, porém, a transparência é maior. Os segredos caem por terra. A notícia escapa. Cedendo ou tarde, a verdade aparece. A exigência do público – por mais que adore fofocas envolvendo celebridades – também aumenta. Fazer jornal não é mais tão simples. E isso por incrível que pareça, é uma boa notícia. Na verdade, isso tudo é uma notícia muito boa.

(Eugênio Bucci e Sílvio Augusto, *Revista Carta na Escola*, set. 2011)

01) De acordo com o texto, analise as afirmativas.

- I. A globalização do capital permite uma maior flexibilização da ética.
- II. A multinacional “News Corp” deixou de existir.
- III. O valor da reputação é efêmero.
- IV. Deslizos em relação à ética tomam proporções maiores hoje.
- V. No passado era menos complexo se fazer jornais.

Estão corretas apenas as afirmativas

- A) I, III B) I, IV C) I, III, V D) IV, V E) III, IV

02) No segmento “Detetives particulares contratados pelo jornal apagaram mensagens gravadas ali...” o trecho em destaque é

- A) objeto indireto.
- B) agente da passiva.
- C) adjunto adnominal.
- D) complemento nominal.
- E) objeto direto preposicionado.

03) Assinale a figura de linguagem presente em “... mas boa parte dela já foi para o esgoto.”

- A) Sinestesia. B) Metonímia. C) Sinédoque. D) Catacrese. E) Autonomásia.

04) Relacione os vocábulos com suas respectivas classes gramaticais.

- 1. Fôlego. () Adjetivo.
- 2. Também. () Advérbio.
- 3. Simples. () Substantivo.
- 4. Porém. () Preposição.
- 5. De. () Conjunção.

A sequência está correta em

- A) 3, 2, 1, 5, 4 B) 3, 1, 5, 4, 2 C) 5, 3, 1, 4, 2 D) 2, 4, 3, 5, 1 E) 1, 3, 2, 4, 5

05) Na frase “E isso, por incrível que pareça, é uma boa notícia.”, o termo sublinhado se refere

- A) à exigência do público.
- B) ao ato de se fazer jornal.
- C) às fofocas envolvendo celebridades.
- D) à transparência das notícias.
- E) ao valor da reputação.

06) Assinale a opção em que NÃO ocorre o acento da crase, como acontece em “ela parece que voltou a viver”.

- A) Obedeçam a professora.
- B) Estavam junto a porta.
- C) Vou aquele cinema.
- D) Estava a beira de um ataque de nervos.
- E) Não assisto a filmes de suspense.

CONCURSO PÚBLICO – MUNICÍPIO DE CARANGOLA/MG

- 07) Na frase “a ética se torna mais sensível”, o se surge na frase como
- A) pronome apassivador. D) índice de indeterminação do sujeito.
B) pronome reflexivo. E) conjunção integrante.
C) conjunção condicional.
- 08) A conjunção sublinhada no fragmento “... mas boa parte dela já foi para o esgoto.”, impõe sentido de adversidade. Poderíamos trocar esse termo, sem alterar o sentido, pela conjunção
- A) por isso. B) portanto. C) porque. D) e. E) todavia.
- 09) “Não é provável que toda News Corp entre pelo ralo.” Assinale a oração com valor sintático equivalente ao da oração sublinhada.
- A) Sou grato a quem me ensina. D) É bom que você venha.
B) Acreditava-se que toda a Terra era imóvel. E) Daremos o prêmio a quem merecer.
C) Perguntaram o que fazíamos ali.
- 10) Assinale a opção que contém a correta interpretação para a parte grifada em “Exploraram sua tragédia para lucrar com ela.”
- A) Finalidade. D) Condição.
B) Proporcionalidade. E) Consequência.
C) Tempo.

RACIOCÍNIO LÓGICO

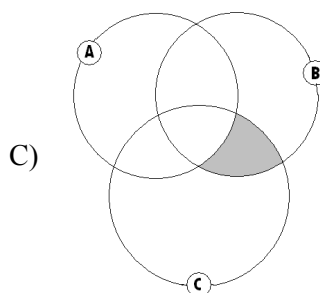
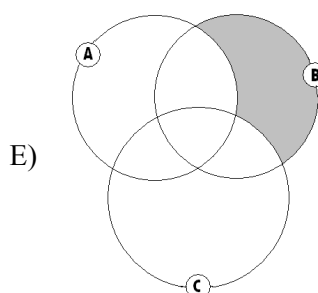
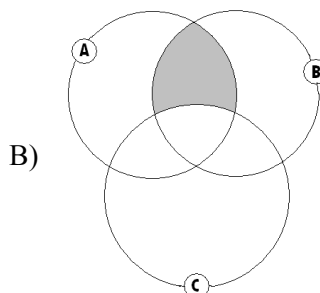
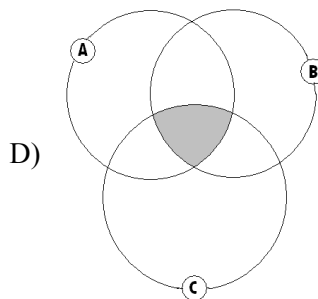
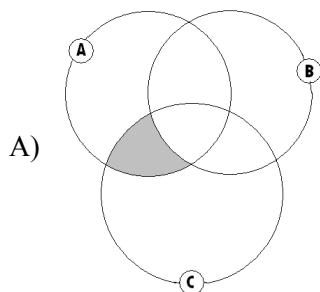
- 11) Marcelo, Túlio e Diego possuem quantias diferentes em suas respectivas contas bancárias. Sabe-se que Túlio tem R\$28,00 a menos que o total de Marcelo e Diego; Marcelo tem R\$20,00 a menos que o total de Diego e Túlio. Se juntos eles possuem R\$450,00, pode-se concluir que
- A) Marcelo tem R\$4,00 a menos que Túlio. D) Diego tem mais de R\$150,00.
B) Túlio tem menos de R\$200,00. E) Túlio e Marcelo têm juntos R\$325,00.
C) Marcelo e Diego têm juntos R\$239,00.
- 12) Sejam os conjuntos $A = \{x \in \mathbb{N} / x > 3\}$, $B = \{x \in \mathbb{Z} / -5 < x < 6\}$ e $C = \{x \in \mathbb{Z} / x < 9\}$. O conjunto $(A \cap C) - (B \cap A)$ é
- A) $\{6, 7, 8, 9\}$ B) $\{4, 5, 6\}$ C) $\{3, 4, 5, 6\}$ D) $\{6, 7, 8\}$ E) $\{7, 8, 9\}$
- 13) Num mercado encontram-se 5 balanças distintas. Após efetuar a pesagem de 5 produtos, cujos pesos são iguais a 1 kg, 2 kg, 3 kg, 4 kg e 5 kg, cada um em uma balança, verificou-se que os valores obtidos foram iguais a 0,98 kg, 1,96 kg, 2,91 kg, 3,93 kg e 4,91 kg. O produto pesado na balança mais precisa foi o de
- A) 1 kg B) 2 kg C) 3 kg D) 4 kg E) 5 kg
- 14) Numa gaveta encontram-se 58 pastas, sendo que algumas contêm um envelope amarelo, outras um envelope verde e as demais um envelope verde e um amarelo. Se o número de pastas que contém pelo menos um envelope amarelo é igual a 42 e pelo menos um verde é igual a 36, o total de pastas que contém apenas um envelope é
- A) 38 B) 32 C) 34 D) 44 E) 36
- 15) Sobre uma mesa encontram-se 4 lápis de cores diferentes: amarelo, vermelho, azul e verde. O lápis amarelo tem 1,5 cm a mais que o vermelho e 1,0 cm a menos que o verde. O azul tem 2,5 cm a mais que o amarelo. Os lápis dispostos em ordem DECRESCENTE são das cores
- A) azul, verde, vermelho, amarelo. D) verde, azul, vermelho, amarelo.
B) verde, azul, amarelo, vermelho. E) azul, verde, amarelo, vermelho.
C) azul, amarelo, verde, vermelho.
- 16) Sejam três conjuntos A, B e C. Sendo $A - B = \{c, e, i, j, k\}$; $B - A = \{r, s, t, u\}$; $C \cup B = \{m, n, r, s, t, o, u, a\}$; $(C \cap B \cap A) = \{o\}$; $A \cap B = \{m, n, o\}$; $A \cap C = \{i, j, o\}$ e $B \cap C = \{o, u\}$. Então, o conjunto C possui
- A) 3 vogais e 2 consoantes. D) 4 vogais e 1 consoante.
B) 2 vogais e 3 consoantes. E) 3 vogais e 1 consoante.
C) 3 vogais e 3 consoantes.
- 17) Numa rua todas as casas amarelas têm campainha e algumas casas amarelas são bonitas. Assim, conclui-se que
- A) todas as casas bonitas são amarelas. D) todas as casas com campainha são amarelas.
B) todas as casas bonitas têm campainha. E) nenhuma casa com campainha é amarela.
C) alguma casa bonita tem campainha.



CONCURSO PÚBLICO – MUNICÍPIO DE CARANGOLA/MG

- 18) Maria comprou um pacote de farinha de trigo de 2 kg, que já apresentava 60% de seu prazo de validade vencido. Ela prevê gastar 50 gramas do produto diariamente a partir da data da compra e, contudo, perderá 200 gramas devido ao prazo a ser expirado. O período total de validade deste produto contado a partir da data de sua fabricação corresponde a
- A) 90 dias. B) 100 dias. C) 120 dias. D) 72 dias. E) 60 dias.

- 19) Sejam os conjuntos $A = \{\text{meses do ano com 31 dias}\}$, $B = \{\text{meses do ano que começam com vogal}\}$, $C = \{\text{meses do ano que não possuem a letra r}\}$. Qual das regiões hachuradas NÃO possui elementos?



- 20) A soma das temperaturas registradas no interior de 3 refrigeradores A, B e C é igual a -11 graus Celsius. Se o refrigerador B tem a temperatura mais alta e esta supera a temperatura de C em 4 graus, e a temperatura de A é igual a metade da temperatura de C, então
- A) a maior temperatura é positiva. D) as três temperaturas são negativas.
B) a menor temperatura é menor que -7°C . E) a soma das duas maiores temperaturas é igual a -8°C .
C) a maior temperatura é igual a zero.

CONHECIMENTOS ESPECÍFICOS

- 21) O handebol é uma modalidade coletiva com bola praticada por duas equipes. Seu objetivo é marcar a maior quantidade de gols possíveis. Ao estar de posse da bola, o atleta deverá driblá-la. Sobre o drible no handebol, é correto afirmar que
- A) caso o indivíduo segure a bola ao driblar, suas ações ficarão limitadas ao passe ou ao deslocamento em até três passos, e o drible não poderá ser repetido.
B) é um movimento que ajuda os companheiros saírem da marcação que acontece quando um jogador do ataque bloqueia um defensor, objetivando deixar o companheiro livre.
C) é o lance que põe a bola em jogo. Há várias maneiras de realizar o drible, utilizando, inclusive, as duas mãos simultaneamente.
D) é a preparação para o ataque. Um defensor passa a bola para o pivô que está em uma boa posição e realiza o drible para o gol.
E) caracteriza-se pelo ato de ludibriar o adversário em velocidade.

CONCURSO PÚBLICO – MUNICÍPIO DE CARANGOLA/MG

22) “Na literatura oral são encontradas com abundância as máximas expressas em poucas palavras, uma forma de sabedoria popular que as pessoas mais idosas da comunidade costumam usar nas mais diversas situações, quando estão conversando. Em geral, _____ é uma espécie de manual da boa conduta, decorado pelos que desejam bem comportar-se.” Assinale a alternativa que completa corretamente a afirmação anterior.

- A) paramiologia
B) trava-língua
C) parlenda
D) provérbio
E) anedota

23) Considere as afirmativas sobre o jogo de basquetebol.

1. Durante uma reposição de bola, outro(s) jogador(es) não pode(m) ter qualquer parte de seu corpo sobre a linha limítrofe antes que a bola tenha sido lançada através da linha limítrofe.
2. O controle da bola pela equipe termina quando um adversário obtém o controle da bola, a bola se torna morta ou ainda, a bola deixa a(s) mão(s) do arremessador em um arremesso para uma cesta de campo ou para um lance livre.
3. O jogador que está repondo não poderá gastar mais de seis segundos para soltar a bola.

A(s) situação(ões) que realmente é(são) permitida(s) no jogo de basquetebol é(são)

- A) 1, 3 B) 3 C) 2, 3 D) 1, 2 E) 1, 2, 3

24) Cada modalidade esportiva exige o domínio de um conjunto de fundamentos técnicos de seu praticante que determinarão as ações do jogo. Qual das opções apresenta somente as ações de um jogo de voleibol?

- A) Saque / Levantamento / Recepção.
B) Defesa / Arremesso / Lançamento.
C) Recepção / Lançamento / Saque.
D) Ataque / Bloqueio / Arremesso.
E) Giro / Passe / Domínio.

25) Sobre a pressão arterial e suas doenças associadas, marque **V** para as afirmativas verdadeiras e **F** para as falsas.

- () O atrito vascular e, conseqüentemente, a resistência ao fluxo, depende exclusivamente do comprimento e do diâmetro do vaso sanguíneo.
() Durante qualquer ciclo cardíaco, a pressão arterial mais alta obtida durante a fase de contração é denominada pressão sistólica.
() A hipertensão resulta de um maior débito cardíaco e/ou de uma maior resistência periférica sistêmica.
() Os valores crônicos de pressão arterial em repouso que ultrapassam os 140 mmHg e 90 mmHg, em geral são classificados como hipertensão diastólica e sistólica, respectivamente.

A seqüência está correta em

- A) F, V, F, V B) F, V, V, F C) V, F, V, F D) V, F, F, V E) F, F, V, V

26) No jogo de basquetebol, o jogador não deverá driblar uma segunda vez após seu primeiro drible haver terminado, a menos que entre os dois dribles, ele tenha perdido o controle de uma bola viva na quadra de jogo por causa de

1. passe ou “fumble” que tenha tocado ou sido tocado por outro jogador.
2. toque na bola por um oponente.
3. arremesso para uma cesta de campo.
4. giro verticalizado com a bola nas duas mãos.

Nesse caso, as causas que realmente podem ser consideradas são

- A) 1, 2 B) 3, 4 C) 1, 3, 4 D) 1, 2, 3 E) 2, 3, 4

27) Qual é a seqüência correta de acontecimento das fases em uma prova de salto com vara após o início da corrida do atleta?

- A) Impulsão – giro – transposição do sarrafo – elevação – queda – preparação para o encaixe.
B) Preparação para o encaixe – elevação – transposição do sarrafo – impulsão – giro – queda.
C) Impulsão – queda – preparação para o encaixe – giro – elevação – transposição do sarrafo.
D) Elevação – impulsão – transposição do sarrafo – queda – giro – preparação para o encaixe.
E) Preparação para o encaixe – impulsão – elevação – giro – transposição do sarrafo – queda.

28) Considera-se como “falta do golpe de ataque” quando um jogador, EXCETO:

- A) golpeia a bola para “fora”.
B) golpeia a bola dentro do espaço de jogo da equipe adversária.
C) golpeia a bola e a faz cruzar completamente o plano vertical da rede.
D) completa um golpe de ataque, se no momento do golpe a bola está inteiramente mais alta do que o bordo superior da rede.
E) completa um golpe de ataque ao saque adversário, quando a bola está na zona de frente e inteiramente mais alta do que o bordo superior da rede.



CONCURSO PÚBLICO – MUNICÍPIO DE CARANGOLA/MG

36) São afirmações verdadeiras sobre a situação social do Brasil, segundo dados levantados pelo Censo 2010, EXCETO:

- A) A alfabetização em pessoas de 15 anos ou mais alcança seus piores resultados em alguns estados da região Nordeste.
- B) A grande maioria de domicílios brasileiros é habitada por inquilinos que alugam o imóvel, pagando taxa mensal pela moradia.
- C) A maioria dos domicílios brasileiros possui três moradores e quase 100% dispõe de banheiro ou sanitário.
- D) Distrito Federal e Rio de Janeiro são as unidades federativas que concentram o maior número de habitantes por km².
- E) Os estados da região Sul concentram a maior porcentagem de população branca e a menor, de negros do Brasil.

37) “Liderado pelo prefeito de São Paulo, Gilberto Kassab, o _____ surge com grande força política brasileira, conquistando uma das cinco maiores bancadas da Câmara dos Deputados, além da filiação de aproximadamente 700 prefeitos de todo o país.” Assinale a alternativa que completa corretamente a afirmativa anterior.

- A) PCB
- B) PCC
- C) PDB
- D) PDS
- E) PSD

***Leia o texto e responda às questões 38, 39 e 40 sobre a última guerra dos EUA contra o Iraque.**

“O presidente dos EUA, Barack Obama, anunciou nesta sexta-feira (21) a retirada total de tropas norte-americanas do Iraque até o fim do ano. Segundo Obama, a volta das tropas vai ocorrer ‘como prometido’ por ele. ‘Depois de quase nove anos, a guerra dos EUA no Iraque vai terminar’, disse em declaração na Casa Branca.”

(G1-Globo.com – dia 21/10/2011)

38) Qual foi o motivo anunciado pelos EUA para dar início a esta guerra contra o Iraque?

- A) Disputa territorial pela Caxemira, região de grande produção petrolífera.
- B) Invasão do Iraque ao Irã, na época aliado dos EUA.
- C) Produção de armas de destruição em massa no Iraque.
- D) Proteção de Bin Laden, líder da Al Qaeda, em território iraquiano.
- E) Cancelamento da venda de petróleo iraquiano aos EUA.

39) Quando Barack Obama “prometeu”, como afirma na reportagem, o fim da guerra contra o Iraque?

- A) Em seu primeiro discurso como presidente na Organização das Nações Unidas.
- B) Em sua campanha política pela presidência dos Estados Unidos.
- C) Em visita ao Iraque quando ainda era candidato à presidência dos EUA.
- D) Nas comemorações dos 10 anos dos atentados de 11 de setembro, nos EUA.
- E) Na primeira reunião do G-20 que participou como presidente dos EUA.

40) “Quando a guerra teve início, o Iraque era governado por _____ e os Estados Unidos da América tinham como presidente _____.” Assinale a alternativa que completa correta e sequencialmente a afirmativa anterior.

- A) Mahmoud Ahmadinejad / Barack Obama
- B) Mahmoud Ahmadinejad / George W. Bush
- C) Mustafa Abdel Jalil / Barack Obama
- D) Saddam Hussein / Bill Clinton
- E) Saddam Hussein / George W. Bush



PROVA DISCURSIVA**ORIENTAÇÕES GERAIS**

- A Prova Discursiva é de caráter apenas classificatório, constituída de uma redação.
- A Prova Discursiva deverá ser manuscrita, em letra legível, com caneta esferográfica de tinta azul ou preta, não sendo permitida a interferência e/ou a participação de outras pessoas, salvo em caso de candidato portador de deficiência que o impossibilite de redigir textos, como também no caso de candidato que solicitou atendimento especial para este fim, nos termos do Edital nº. 001/2011. Nesse caso, o candidato será acompanhado por um fiscal do IDECAN devidamente treinado, para o qual deverá ditar o texto, especificando oralmente a grafia das palavras e os sinais gráficos de pontuação.
- O candidato receberá nota zero nas questões discursivas em casos de fuga ao tema, de não haver texto, de manuscrito em letra ilegível ou grafadas por outro meio que não o determinado no item anterior, bem como no caso de identificação em local indevido.
- Para a redação da prova discursiva, o candidato deverá formular texto com extensão máxima de 25 (vinte e cinco) linhas, em que conste resposta concisa à questão formulada.
- Será desconsiderado, para efeito de avaliação, qualquer fragmento de texto que for escrito fora do local apropriado ou que ultrapassar a extensão máxima permitida.
- A Prova Discursiva terá o valor de 10 (dez) pontos. Para efeito de avaliação da Prova Discursiva serão considerados os seguintes elementos de avaliação:

ELEMENTOS DE AVALIAÇÃO DAS QUESTÕES DISCURSIVAS		
Crítérios	Elementos da Avaliação	Total de pontos por critério
Aspectos Formais e Aspectos Textuais	Observância das normas de ortografia, pontuação, concordância, regência e flexão, paragrafação, estruturação de períodos, coerência e lógica na exposição das ideias.	03 pontos
Aspectos Técnicos	Pertinência da exposição relativa ao tema, à ordem de desenvolvimentos propostos e ao conteúdo programático proposto.	07 pontos
TOTAL DE PONTOS		10 pontos

TEXTO I:**Dr. Google e o doente imaginário**

O desenvolvimento das ferramentas de busca na Internet tem crescido numa velocidade enorme e o número de informações médicas é cada vez mais sofisticado. A preocupação é o que fazer com a informação, pois os sintomas e os sinais podem ser mal interpretados e criar um estado de ansiedade e até de pânico.

Os dados mostram que mais de 60% dos americanos buscam na Internet informações sobre os problemas de saúde. No Brasil, este tipo de conduta é muito comum e os pacientes vão aos médicos com informações prévias sobre as doenças. Os sites relacionados com a saúde crescem diariamente, mas nem sempre são confiáveis, e podem induzir as pessoas a fazerem diagnósticos inoportunos e inadequados. *(<http://www.drpastore.com.br>)*

TEXTO II:

Cabe ao médico, por meio de exames, fazer o diagnóstico. Mas a internet pode ajudar o paciente a entender melhor a doença.

“Procurar na Internet, saber o que tem, em uma fonte boa de evidências serve até para melhorar o diálogo com o médico, fazer perguntas mais específicas ou mais contundentes. Isso até provoca no médico, às vezes, a necessidade de estudar. E ele acaba melhorando o desempenho dessa relação médico-paciente. O que se quer é preservar a saúde das pessoas”, reforça Álvaro Nagib Atallah, médico e professor da Unifesp. *(<http://pe360graus.globo.com/>)*

TEMA PROPOSTO

Com base na leitura dos textos motivadores acima, redija um texto dissertativo-argumentativo, expondo de modo claro e coerente seu ponto de vista a respeito do seguinte tema:

“Os limites da Internet sob a ótica da saúde”

CONCURSO PÚBLICO – MUNICÍPIO DE CARANGOLA/MG
REDAÇÃO

01	
02	
03	
04	
05	
06	
07	
08	
09	
10	
11	
12	
13	
14	
15	
16	
17	
18	
19	
20	
21	
22	
23	
24	
25	







