


CONSÓRCIO INTERMUNICIPAL DE SAÚDE/AMUNPAR/ PARANAÍ - PR

Edital 01/2011 – DATA DA PROVA: 20/03/2011

PERÍODO DE PROVA: MANHÃ



Fundação de Apoio ao Desenvolvimento da Universidade Estadual de Londrina

CARGO: AUXILIAR DE LABORATÓRIO

CARGO: AUXILIAR DE LABORATÓRIO

LEIA ESTAS INSTRUÇÕES:

- 1 Identifique-se na parte inferior desta capa;
- 2 Você dispõe de 3 (três) horas para responder todas as questões e preencher o Cartão Resposta;
- 3 Utilize caneta esferográfica azul ou preta;
- 4 O candidato só poderá se retirar da sala, após 1 (uma) hora do início das provas;
- 5 Cada questão de múltipla escolha apresenta apenas uma opção de resposta correta;
- 6 Verifique se o caderno está completo e sem imperfeições gráficas que possam dificultar a leitura. Detectado algum problema, comunique imediatamente ao fiscal;
- 7 Utilize o caderno de prova como rascunho se necessário, mas deverá assinalar o Cartão Resposta que acompanha a prova;
- 8 Não serão computadas questões não assinaladas ou que contenham mais de uma resposta, emenda ou rasura;
- 9 Durante a aplicação da prova é proibido qualquer tipo de consulta;
- 10 Este caderno contém, 30 (trinta) questões de múltipla escolha (a,b,c,d);
- 11 Antes de retirar-se definitivamente da sala, devolva ao fiscal o Caderno e o Cartão Resposta;
- 12 Assine o cartão resposta no verso.

Identificação do candidato	
Nome (em letra de forma)	Nº da inscrição

Boa Prova!

Por que desaparecem tanta gente, todos os dias, em redor de nós?

Ouçõ pelo rádio as famílias, os amigos, os conhecidos que indagam, inquietos, que reclamam, descrevem, dão sinais, indicam pistas. Há desaparecidos de todas as idades e cores, e ambos os sexos, das mais variadas condições sociais; quem tiver notícias de seu paradeiro, é favor informar às pessoas aflitas que os procuram.

Mas quem vai saber o paradeiro da mocinha de blusa cor-de-rosa e saia amarela que, assim colorida, bateu asas sem se despedir dos parentes? Quem viu o menino de blusão verde e sapatos novos que saiu de casa pela tardinha e lá se foi andando – e irá andando enquanto tiver boas solas de sapatos – por muito que os pais inconsoláveis o estejam chorando e os vizinhos não possam entender tamanha ingratidão? Que foi feito da velhinha, um pouco desmemoriada, que saiu para a missa e depois entrou por um caminho desconhecido, com seu vestido cinzento, sua bolsinha de verniz e duas travessas no cabelo?

Há os desaparecidos recentes: de ontem, da semana passada, de há um mês ou dois. Assim mesmo recentes, não se encontram vestígios seus em parte alguma. Foram raptados? Ficaram debaixo do trem? Subiram para algum disco voador? Afogaram-se? Partiram para um secreto paraíso onde não querem ser importunados? Embarcaram para Citera? Quem sabe o que lhes aconteceu?

Mais comovente, porém, é a busca de desaparecidos antigos: “Procura-se uma conhecida que _____ três anos não se encontra...” Para onde foi a jovem Marília que _____ cinco anos disse que ia trabalhar no Rio de Janeiro?... Que é feito do rapaz moreno, com um sinal no queixo, que usava um cordãozinho de ouro com a imagem de São Jorge?

Todas essas pessoas e muitas outras estão sendo procuradas pacientemente, com anúncios pelos jornais e nas emissoras. Uma incansável busca. Gente de todos os Estados do Brasil, gente com vários compromissos: eram noivos, eram chefes de família, eram donas de casa... Gente miúda, que não se esperava fosse capaz de meter-se em aventuras: meninotas e rapazinhos em idade escolar; mocinhas que pareciam tímidas, moços ainda sem emprego...

Pois desapareceram. Para onde foram? Isso é o que se deseja saber. Não quiseram mais nada com pai nem mãe, avós nem irmãos, casa, comida, sono, afeto – nada. Desejaram sumir, sumiram. Ou foram arrastados violentamente e não tiveram forças para resistir. Talvez se sintam mais felizes. Talvez estejam arrependidos e envergonhados. Talvez não existam mais. Pode ser que um dia voltem... Pode ser que, por enquanto, estejam dando a volta ao mundo num veleiro imaginário... Pode ser que estejam cansados. Pode ser que não se cansem jamais... Enquanto não regressam, boa viagem, senhores desaparecidos! Se não regressarem, boa viagem, também!

Mas os afetos vigilantes continuam, inconformados, a recordar os ausentes – todos os dias novos, todos os dias mais numerosos – e, por humildes lugares, famílias tristes cultivam longos canteiros de saudades.

(MEIRELES, Cecília. *Escolha seu sonho*. 3. ed. Rio de Janeiro, Record, 1968. p. 47-9.)

01 - Assinale a alternativa que preenche corretamente as lacunas do 5º parágrafo:

- | | |
|-------------|---------------------|
| a) faz e à. | c) haviam e haviam. |
| b) há e há. | d) fazem e há. |

02 - Quanto à acentuação gráfica das palavras do texto analise as afirmativas:

I - As palavras *rádio*, *famílias* e *anúncios* são paroxítonas e são acentuadas porque terminam em ditongo.

II - As palavras *paraíso* e *miúdas* são acentuadas porque o *i* e o *u* são tônicos do hiato.

III - As palavras *vestígios* e *tímidas* obedecem à mesma regra de acentuação gráfica.

Quais afirmativas estão corretas?

- | | |
|---------------------|---|
| a) apenas I e II. | c) apenas I e III. |
| b) apenas II e III. | d) todas as afirmativas estão corretas. |

03 - Em “Enquanto não regressam, boa viagem, senhores desaparecidos! Se não regressarem, boa viagem também!” (7º parágrafo).

Assinale a alternativa em que estão corretamente identificadas as relações de sentido estabelecidas na frase pelos elementos coesivos em destaque:

- | | |
|--------------------------|---------------------------|
| a) conseqüência e tempo. | c) tempo e condição. |
| b) causa e efeito. | d) conclusão e concessão. |

04 - Analise a possibilidade de substituir algumas palavras do texto:

I - colorido (3º parágrafo) - corado.

II - capaz (6º parágrafo) - destemido.

III - imaginário (7º parágrafo) - quimérico.

Quais das palavras não causariam problemas de significado no período original?

- | | |
|---------------------|--------------------|
| a) apenas I e II. | c) apenas I e III. |
| b) apenas II e III. | d) I, II e III. |

05 - Assinale a alternativa que classifica corretamente o termo grifado em: “Mas quem vai saber o paradeiro da mocinha de blusa cor-de-rosa e saia amarela”:

- a) objeto indireto.
- b) objeto direto.
- c) sujeito simples.
- d) núcleo do predicado.

06 - Assinale a alternativa em que a oração é sem sujeito:

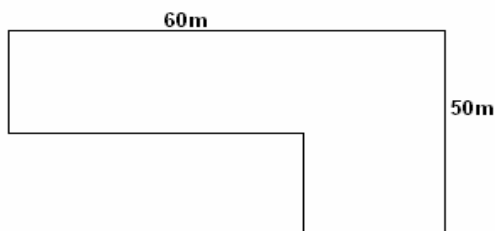
- a) Há desaparecidos de todas idades e cores.
- b) Bateu asas sem se despedir dos parentes?
- c) Quem sabe o que lhes aconteceu?
- d) Isso é o que se deseja saber.

07 - Em uma creche, 320 crianças consumiram 1.440 litros de suco em 16 dias. Quantos litros de suco serão consumidos por 400 crianças em 32 dias?

- a) 1.600 litros.
- b) 3.600 litros.
- c) 9.000 litros.
- d) Nenhuma das alternativas anteriores.

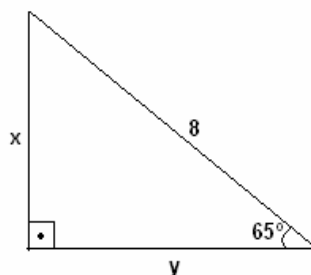
08 - Quanto Pedro pagará no terreno abaixo que está a venda por R\$ 54,00 o metro quadrado?

- a) R\$ 114.750,00.
- b) R\$ 152.600,00.
- c) R\$ 162.000,00.
- d) Nenhuma das alternativas anteriores.



09 - Determine as medidas de x e y do triângulo retângulo abaixo:

- a) $x = 7,2$ e $y = 3,36$.
- b) $x = 7,5$ e $y = 4,42$.
- c) $x = 7,6$ e $y = 3,52$.
- d) Nenhuma das alternativas anteriores.



10 - Determine o valor da seguinte operação:

$$2 + \frac{3}{6} - \frac{1}{3}$$
$$\frac{1}{2} - 3 + \frac{2}{5}$$

- a) $-\frac{58}{65}$
- b) $\frac{63}{65}$
- c) $-\frac{65}{63}$
- d) nenhuma das alternativas anteriores

11 - A lei 8.080 de 19 de setembro de 1990, dispõe sobre as condições para a promoção, proteção e recuperação da saúde, a organização e o funcionamento dos serviços correspondentes. Segundo esta lei podemos afirmar que:

- a) A saúde é um direito fundamental do ser humano, devendo o próprio cidadão prover as condições indispensáveis ao seu pleno exercício.
- b) O dever do cidadão brasileiro é de garantir a saúde formulando e executando políticas econômicas e sociais que visem à redução de riscos de doenças e de outros agravos e não estabelecendo condições que assegurem acesso universal e igualitário às ações e aos serviços para a sua promoção, proteção e recuperação.
- c) São objetivos do Sistema Único de Saúde SUS: a identificação e divulgação dos fatores condicionantes e determinantes da saúde; a formulação de política de saúde destinada a promover, nos campos econômico e social, a observância do disposto no § 1º do art. 2º desta lei; a assistência às pessoas por intermédio de ações de promoção, proteção e recuperação da saúde, com a realização integrada das ações assistenciais e das atividades preventivas.
- d) Nenhuma das alternativas anteriores.

12 - As ações e serviços públicos de saúde e os serviços privados contratados ou conveniados que integram o Sistema Único de Saúde (SUS), são desenvolvidos de acordo com as diretrizes previstas no art. 198 da Constituição Federal, obedecendo ainda alguns princípios. Assinale a alternativa que afirme corretamente pelo menos quatro dos princípios dos SUS:

- a) Universalidade, integralidade de assistência, preservação da autonomia e igualdade da assistência à saúde.
- b) Direito à informação, desintegração em nível executivo das ações de saúde, utilização da epidemiologia e participação da comunidade.
- c) Centralização, desintegração em nível executivo das ações de saúde, conjugação dos recursos financeiros, tecnológicos, materiais e humanos e capacidade de resolução dos serviços.
- d) Organização dos serviços públicos, restringir informações inerentes, universalidade e preservação da autonomia.

13 - Assinale a alternativa incorreta:

- a) O Consórcio Intermunicipal de Saúde - CIS/AMUNPAR é uma Associação entre os 28 Municípios da Região Noroeste que compõem a Associação dos Municípios do Noroeste do Paraná, visando assegurar ações e serviços de saúde à população, com eficiência e eficácia, atendendo os municípios da universalidade, integralidade, racionalizando recursos, evitando desperdícios e a duplicidade de serviços, e abrange uma população de 252.820 habitantes.
- b) Segundo o Regimento Interno que regulamenta as atividades e atribuições do Consórcio Intermunicipal de Saúde/AMUNPAR – CIS/AMUNPAR, os membros da Unidade Gestora de Transferências e Comissão de Ética e Controle de Qualidade e o Controle Interno não poderão ser substituídos, a critério do Coordenador Geral e do Presidente do Consórcio, respectivamente.
- c) De acordo com a emenda constitucional 29, “dos recursos da União apurados nos termos deste artigo, quinze por cento, no mínimo, serão aplicados nos Municípios, segundo o critério populacional, em ações e serviços básicos de saúde, na forma da lei.”
- d) O Consórcio Intermunicipal de Saúde – CIS/AMUNPAR tem a seguinte estrutura básica: I - Conselho Diretor de Prefeitos; II - Conselho Técnico (Fiscal); III - Secretaria Executiva.

14 - Assinale a alternativa que dispõe sobre a participação da comunidade na gestão do Sistema Único de Saúde (SUS) e sobre as transferências intergovernamentais de recursos financeiros na área da saúde e dá outras providência é:

- a) NOB SUS -96.
- b) Emenda 29.
- c) Lei 8142 de 28 de dezembro de 1990.
- d) Nenhuma das alternativas anteriores.

15 - Em relação às vidrarias e equipamentos usados em análise clínica pode-se afirmar que:

I - A pipeta graduada serve para medir pequenos volumes com precisão.

II - A proveta serve para medir e transferir volumes variáveis de líquidos em grandes quantidades.

III - Bico de Bunsen é uma fonte de aquecimento.

Assinale a alternativa correta:

- a) Somente I é correta.
- b) Somente I e II são corretas.
- c) Somente II e III são corretas.
- d) Somente II é correta.

16 - O anticoagulante para a coleta de sangue para hemograma é:

- a) Iodo acetato.
- b) EDTA.
- c) Fluoreto.
- d) Nenhuma das alternativas anteriores.

17 - A placa de Petri é utilizada para:

- a) Titulação.
- b) Diluição.
- c) Transporte de amostras.
- d) Cultura de bactérias.

18 - A cultura de urina é um exame de grande importância num quadro de infecção urinária e define a estratégia de tratamento e sensibilidade do microorganismo, para tanto, utiliza-se como meio de cultura:

- a) Toluol.
- b) Ágar.
- c) EDTA.
- d) Oxalato.

19 - Analise as afirmativas abaixo:

I - O microscópio óptico amplia a imagem transpassada por um feixe de luz.

II - O microscópio eletrônico amplia a imagem por meio de feixes de elétrons.

III - Os microscópios eletrônicos são de dois tipos: de varredura e de transmissão.

Quais afirmativas estão corretas?

- a) Apenas I e II.
- b) Apenas II e III.
- c) Apenas I e III.
- d) As afirmativas I, II e III são corretas.

20 - Recomenda-se um jejum de quantas horas para o exame de glicemia de jejum?

- a) 6 horas.
- b) 8 horas.
- c) 10 horas.
- d) 12 horas.

21 - Na coleta de urina deve-se orientar o paciente a:

- a) Desprezar a primeira urina do dia.
- b) Desprezar o primeiro jato da primeira urina do dia e colher o jato intermediário, após fazer higiene rigorosa da região íntima do paciente.
- c) Colher o primeiro jato de urina.
- d) Colher o primeiro jato de urina de qualquer hora do dia.

22 - O exame de hemoglobina glicada é útil para:

- a) Identificar a concentração média de glicose no sangue durante períodos de tempo longos.
- b) Identificar de forma rápida alterações lipídicas.
- c) Identificar possíveis falhas no metabolismo de lipídios.
- d) Identificar alterações nas concentrações de ferro no sangue.

23 - No esfregaço de sangue pode-se utilizar como corante:

- a) Giemsa.
- b) Violeta.
- c) HE.
- d) Eosina.

24 - No exame parasitológico de fezes não é possível identificar:

- a) Streptococos.
- b) Enterobios vermicularis.
- c) Ancylostoma duodenale.
- d) Strongyloides.

25 - VDRL é um teste laboratorial para identificação de:

- a) H1N1.
- b) Anemia.
- c) Sífilis.
- d) Gravidez.

26 - O teste de tolerância a glicose é um exame laboratorial que tem como objetivo a identificação da resistência à insulina. São realizadas varias coletas. Assinale a seqüência correta:

- a) Coleta em jejum, ingestão de glicose, coleta após 30 minutos, coleta após 60 minutos, coleta após 80 minutos.
- b) Coleta em jejum, ingestão de glicose, coleta após 40 minutos, coleta após 80 minutos, coleta após 120 minutos.
- c) Coleta em jejum, ingestão de glicose, coleta após 30 minutos, coleta após 60 minutos, coleta após 90 minutos.
- d) Coleta em jejum, ingestão de glicose, coleta após 30 minutos, coleta após 60 minutos, coleta após 90 minutos, coleta após 120 minutos.

27 - PSA e um exame que permite identificar:

- a) Alterações hepáticas.
- b) Alterações glicêmicas.
- c) Alterações prostáticas.
- d) Alterações sanguíneas.

28 - A escolha da região para realizar a punção venosa e importante, deve-se evitar:

- a) Veias visíveis, subcutâneas e com transparência da pele.
- b) Veia mediana basílica.
- c) Veias de um braço onde o paciente foi submetido a uma infusão intravenosa.
- d) Veia mediana cubital.

29 - O exame que pode ser usado para identificar o toxoplasma gondii e:

- a) AST.
- b) TGP.
- c) T4 livre.
- d) PCR.

30 - Ao receber um paciente para coleta de sangue para exame de TAP e o mesmo relatar que faz uso diário de varfarina, você:

- a) Ignora a informação, pois o medicamento não interfere neste tipo de exame.
- b) Faz uma observação na ficha de coleta após verificar a dose usada do medicamento.
- c) Não colhe o sangue do paciente.
- d) Nenhuma das alternativas anteriores.