



PREFEITURA DO MUNICÍPIO DE PARANAÍ
ESTADO DO PARANÁ

REF. EDITAL Nº 01/2011- CONCURSO PÚBLICO

AGENTE DE APOIO EDUCACIONAL

INSTRUÇÕES


- Você está recebendo do fiscal um Caderno de Questões com 50 (cinquenta) questões numeradas sequencialmente que compõem a prova objetiva.

- Composição da Prova:

QUANTIDADE DE QUESTÕES	MATÉRIA
01 a 10	Língua Portuguesa
11 a 20	Matemática
21 a 30	Conhecimentos Gerais
31 a 50	Conhecimentos Específicos

- Você receberá, também, a Folha de Respostas personalizada para transcrever as respostas das questões da prova objetiva.

ATENÇÃO

1. É proibido folhear o Caderno de Questões antes da autorização do fiscal.
2. Após autorização, verifique se o Caderno de Questões está completo, sem falhas de impressão e se a numeração está correta. Confira também se sua prova corresponde ao cargo para o qual você se inscreveu. Caso haja qualquer divergência, comunique o fato ao fiscal imediatamente.
3. Confira seu nome completo, o número de seu documento e o número de sua inscrição na Folha de Respostas. Caso encontre alguma divergência, comunique o fato ao fiscal para as devidas providências.
4. Você deverá transcrever as respostas das questões objetivas para a Folha de Respostas definitiva, que será o único documento válido para a correção das provas. O preenchimento da Folha de Respostas é de inteira responsabilidade do candidato.
5. Para realização da prova o candidato deverá utilizar caneta com tinta de cor azul ou preta.
6. Leia atentamente cada questão da prova e assinale, na Folha de Respostas, a opção que a responda corretamente. Exemplo correto da marcação da Folha de Respostas: 
7. A Folha de Respostas não poderá ser dobrada, amassada, rasurada ou conter qualquer marcação fora dos campos destinados às respostas.
8. Na correção da Folha de Respostas, será atribuída nota 0 (zero) às questões não assinaladas, que contiverem mais de uma alternativa assinalada, emenda ou rasura, ainda que legível. Assim que o candidato finalizar sua prova, deverá, obrigatoriamente, devolver a Folha de Respostas devidamente preenchida e assinada ao fiscal da sala.
9. Você dispõe de 4h (quatro horas) para fazer a prova, incluindo a marcação da Folha de Respostas. Faça-a com tranquilidade, mas controle seu tempo.
10. Você somente poderá deixar definitivamente a sala de prova após 60 (sessenta) minutos de seu início. Caso queira levar o caderno de questões, só poderá levá-lo após 4h (quatro horas) decorridas do início da prova. As provas estarão disponibilizadas no site da AOCPC (www.aocpc.com.br), a partir da divulgação do Gabarito Preliminar. O candidato poderá anotar o gabarito no verso da capa da prova e levar consigo.
11. Os 03 (três) últimos candidatos da sala só poderão sair juntos e após a conferência de todos os documentos da sala e assinatura do termo de fechamento.
12. Durante a prova, não será permitida qualquer espécie de consulta ou comunicação entre os candidatos, nem a utilização de livros, códigos, manuais, impressos ou anotações, calculadoras, relógios, agendas eletrônicas, *paggers*, telefones celulares, BIP, *Walkman*, gravador ou qualquer outro equipamento eletrônico. A utilização desses objetos causará eliminação imediata do candidato.
13. Os objetos de uso pessoal, incluindo telefones celulares, deverão ser desligados e mantidos dessa forma até o término da prova e entrega da Folha de Respostas ao fiscal.
14. Qualquer tentativa de fraude, se descoberta, implicará em imediata denúncia à autoridade competente, que tomará as medidas cabíveis, inclusive com prisão em flagrante dos envolvidos.

LÍNGUA PORTUGUESA

Corte de vaga em cursos de direito é 'positivo', diz presidente da OAB.

MEC anunciou a suspensão de 11 mil vagas em instituições privadas.

Cursos tiveram avaliação ruim.

A decisão do Ministério da Educação de suspender quase 11 mil vagas em 136 cursos de direitos de instituições privadas em todo o país foi considerada "muito positiva" pelo presidente nacional da Ordem dos Advogados do Brasil, Ophir Cavalcante. Os cursos tiveram avaliação ruim e terão redução no número de vagas. "É muita vaga nos cursos de direito, e o fato é que os vestibulares não têm mais a mesma exigência de anos atrás", disse.

Para o presidente da OAB, é fundamental uma política nacional voltada para essa área e tendo como objetivo principal a qualidade. "Os cursos de Direito, no Brasil, tiveram uma expansão desenfreada nos últimos anos e isso é algo que assusta, porque a qualidade do ensino está cada vez mais deficiente", disse. "A partir do momento em que o MEC começa a corrigir essas distorções históricas, começa a exigir das faculdades de Direito qualidade, sobretudo nas faculdades particulares, certamente nós vamos evoluir melhor e construir efetivamente um bom ensino jurídico no País", afirmou Cavalcante.

Ele destacou que o Exame de Ordem constata a má qualidade de muitas instituições de ensino. "As 20 piores faculdades, em termos de resultados no Exame de Ordem, têm um índice de aprovação entre 5% e 10%."

O Ministério da Educação, por meio da Secretaria de Regulação e Supervisão da Educação Superior (Seres), determinou a redução de 10.912 vagas de ingresso de estudantes em 136 cursos de direito que apresentaram resultado insatisfatório no conceito preliminar de curso - o índice considera, além do desempenho dos estudantes, o corpo docente, a infraestrutura e os recursos didático-pedagógicos, entre outros itens.

A decisão da secretaria foi publicada nesta quinta-feira (2) no "Diário Oficial da União" e abrange cursos submetidos ao Exame Nacional de Desempenho dos Estudantes (Enade) em 2009.

A redução das vagas atingiu cursos que tiveram notas 1 ou 2 na avaliação que vai até 5. Os cursos tiveram de 15% e 65% das vagas oferecidas reduzidas. As instituições terão 30 dias para apresentar defesa à secretaria. A redução do número de vagas é obrigatória até a renovação de reconhecimento dos cursos. Caso a instituição consiga melhorar a qualidade do ensino, as vagas podem ser "devolvidas". Caso os cursos mantenham o resultado insatisfatório, a determinação da Seres pode ser definitiva.

De acordo com o secretário de regulação e supervisão da educação superior, Luís Fernando Massoneto, o MEC, com as medidas, busca garantir a qualidade do ensino. "Ao reduzir a oferta de cursos considerados insuficientes e permitir a abertura de vagas em cursos com avaliação satisfatória, promovemos a expansão da oferta no ensino superior sem abrir mão da qualidade, conforme prevê o Plano Nacional de Educação", destacou.

Ao mesmo tempo, o MEC autorizou a criação de outros 32 novos cursos de direito, totalizando 4,2 mil novas vagas. O limite de vagas por curso é de 100 vagas anuais.

De acordo com o último Censo da Educação Superior, mais de 650 mil estudantes estão matriculados em mais de 1 mil cursos de direito registrados no MEC.

Disponível em <<http://g1.globo.com/vestibular-e-educacao/noticia/2011/06/corte-de-vagas-em-cursos-de-direito-e-positiva-diz-presidente-da-oab.html>>. Acesso em 05 jun 2011.

QUESTÃO 01

De acordo com o conteúdo expresso no texto, o MEC avalia vários aspectos, EXCETO

- (A) a infraestrutura.
- (B) os recursos didático-pedagógicos.
- (C) o desempenho dos estudantes.
- (D) o corpo docente.
- (E) o nível socioeconômico.

QUESTÃO 02

"As instituições terão 30 dias para apresentar defesa à secretaria."

Assinale a alternativa em que o acento indicativo de crase ocorreu pela mesma regra encontrada no fragmento acima.

- (A) João sairá às 17h.
- (B) Mário é fiel à esposa.
- (C) O barco ficou à deriva.
- (D) Pedro deu o livro à professora.
- (E) Maria gosta de ficar à toa.

QUESTÃO 03

Assinale a alternativa em que o elemento destacado é conjunção integrante.

- (A) "A partir do momento em que o MEC começa a corrigir essas distorções históricas..."
- (B) "Ele destacou que o Exame de Ordem constata a má qualidade de muitas instituições de ensino."
- (C) "A redução das vagas atingiu cursos que tiveram notas 1 ou 2 na avaliação que vai até 5."
- (D) "A redução das vagas atingiu cursos que tiveram notas 1 ou 2 na avaliação que vai até 5."
- (E) "Os cursos de Direito, no Brasil, tiveram uma expansão desenfreada nos últimos anos e isso é algo que assusta..."

QUESTÃO 04

Assinale a alternativa **INCORRETA** quanto ao emprego das vírgulas e suas funções no texto.

- (A) "...foi considerada 'muito positiva' pelo presidente nacional da Ordem dos Advogados do Brasil, Ophir Cavalcante." (separa a expressão que funciona como sujeito)
- (B) "Para o presidente da OAB, é fundamental uma política nacional voltada para essa área..." (antepõe o adjunto adverbial)
- (C) "...o índice considera [...] o corpo docente, a infraestrutura e os recursos didático-pedagógicos..." (separa termos de mesma função sintática)
- (D) "Os cursos de Direito, no Brasil, tiveram uma expansão desenfreada nos últimos anos..." (isola adjunto adverbial)
- (E) "De acordo com o secretário de regulação e supervisão da educação superior, Luís Fernando Massoneto, o MEC, com as medidas..." (as vírgulas separam a expressão MEC, que é um aposto)

QUESTÃO 05

“É muita vaga nos cursos de direito, e o fato é que os vestibulares não têm mais a mesma exigência de anos atrás...”

A oração destacada é

- (A) subordinada substantiva subjetiva.
- (B) subordinada adverbial causal.
- (C) subordinada substantiva predicativa.
- (D) coordenada sindética conclusiva.
- (E) coordenada sindética explicativa.

QUESTÃO 06

“A partir do momento em que o MEC começa a corrigir essas distorções históricas, começa a exigir das faculdades de Direito qualidade, sobretudo nas faculdades particulares, certamente nós vamos evoluir melhor e construir efetivamente um bom ensino jurídico no País”, afirmou Cavalcante.”

Assinale a alternativa em que o emprego da expressão destacada apresenta o mesmo sentido da expressão certamente do fragmento acima.

- (A) O carro freou na esquina e depois acelerou novamente.
- (B) Atualmente o Brasil está com a taxa de risco baixa.
- (C) É preciso beber moderadamente para não passar mal.
- (D) Futuramente o Brasil terá várias fontes de energia.
- (E) Realmente o João não sabe o que aconteceu ontem.

QUESTÃO 07

Assinale a alternativa **INCORRETA** quanto ao sentido apresentado pelas expressões destacadas no contexto.

- (A) “...o índice considera, além do desempenho dos estudantes, o corpo docente, a infraestrutura...” (acréscimo)
- (B) “As 20 piores faculdades [...] têm um índice de aprovação entre 5% e 10%.” (aproximação)
- (C) “A redução do número de vagas é obrigatória até a renovação de reconhecimento dos cursos.” (limite)
- (D) “...começa a exigir das faculdades de Direito qualidade, sobretudo nas faculdades particulares...” (realce)
- (E) “...certamente nós vamos evoluir melhor e construir efetivamente um bom ensino jurídico no País...” (modo)

QUESTÃO 08

Assinale a alternativa correta quanto à grafia e a outros aspectos gramaticais.

- (A) A evolução e a construção efetiva de um bom ensino jurídico no País dependem dessas ações do MEC.
- (B) Vários cursos de Direito no Brasil foram orientados a reduzir a oferta de vagas devido à insuficiência nos conteúdos.
- (C) O Ministério da Educação determinou que se reduzisse 10.912 vagas de ingresso de estudantes de Direito.
- (D) Das 82 instituições de ensino, as 20 piores faculdades tem um índice de aprovação entre 5% e 10% na OAB.
- (E) A devolução das vagas está condicionada a melhora da qualidade de ensino dessas instituições de ensino.

QUESTÃO 09

“Para o presidente da OAB, é fundamental uma política nacional voltada para essa área e tendo como objetivo principal a qualidade.”

A expressão destacada funciona, no fragmento, como

- (A) sujeito.
- (B) predicativo do sujeito.
- (C) adjunto adverbial.
- (D) objeto direto.
- (E) complemento nominal.

QUESTÃO 10

“Caso a instituição consiga melhorar a qualidade do ensino, as vagas podem ser ‘devolvidas’”.

A relação lógico-semântica estabelecida entre as orações do fragmento acima é a de

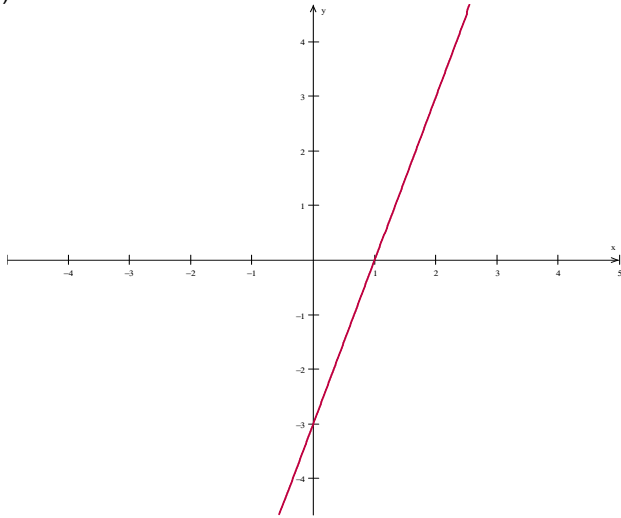
- (A) finalidade.
- (B) comparação.
- (C) causa.
- (D) condição.
- (E) tempo.

MATEMÁTICA

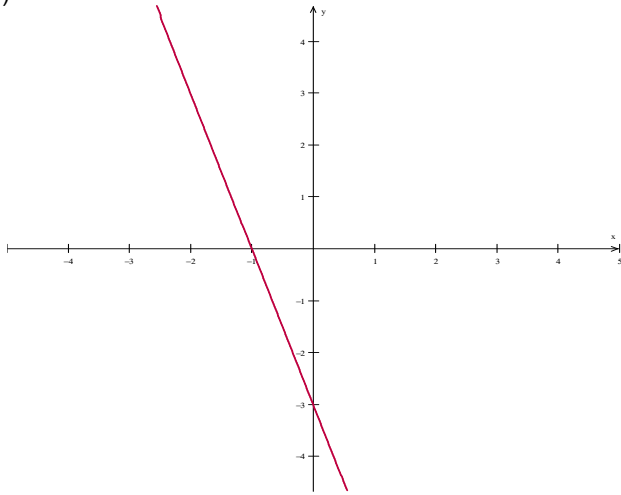
QUESTÃO 11

Assinale o gráfico abaixo que melhor representa a função $y = 3x - 3$.

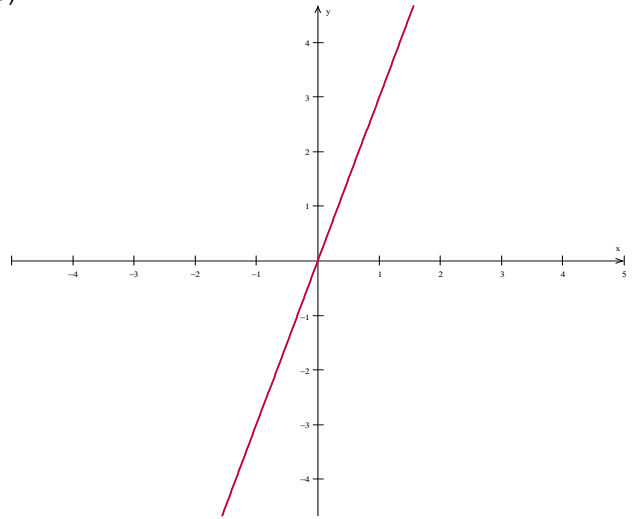
(A)



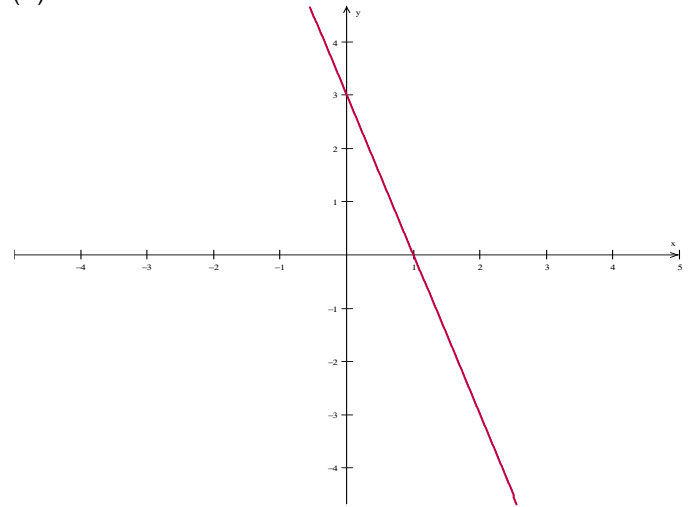
(B)



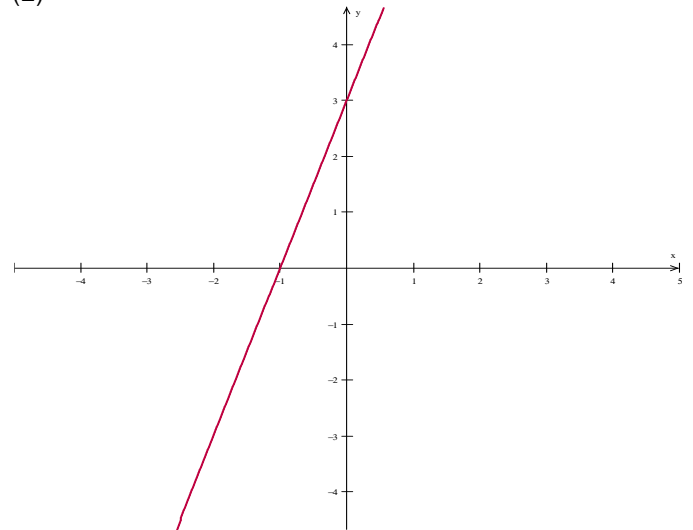
(C)



(D)

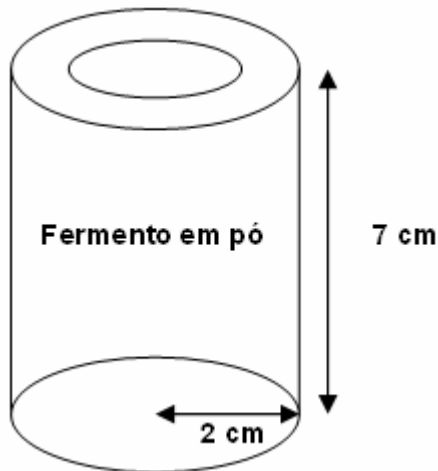


(E)



QUESTÃO 12

Uma lata de fermento em pó é vendida em uma embalagem cilíndrica com 2 cm de raio e 7 cm de altura, conforme indicado na figura abaixo. Calcule o volume da lata do fermento em pó, em seguida assinale a alternativa correta. (Use $\pi = 3,14$).



- (A) $V = 14,16\text{cm}^3$
- (B) $V = 28,80\text{cm}^3$
- (C) $V = 43,96\text{cm}^3$
- (D) $V = 87,92\text{cm}^3$
- (E) $V = 175,84\text{cm}^3$

QUESTÃO 13

Transforme numa só potência a expressão

$$7^{\frac{1}{3}} \cdot 7^{\frac{1}{4}}, \text{ em seguida assinale a alternativa correta.}$$

- (A) $7^{\frac{2}{7}}$
- (B) $7^{\frac{7}{12}}$
- (C) $49^{\frac{2}{7}}$
- (D) $49^{\frac{7}{8}}$
- (E) $7^{\frac{4}{3}}$

QUESTÃO 14

Calcule o determinante da matriz: $M = \begin{vmatrix} 3 & 7 \\ -2 & 5 \end{vmatrix}$, em seguida assinale a alternativa correta.

- (A) $\det M = -14$
- (B) $\det M = 1$
- (C) $\det M = 14$
- (D) $\det M = 15$
- (E) $\det M = 29$

QUESTÃO 15

Ana Paula recebe um salário no valor de R\$ 545,00 por mês. Dessa quantia, Ana Paula utiliza 30% para pagar a mensalidade da faculdade. Quantos reais sobram para Ana Paula após pagar a mensalidade da Faculdade?

- (A) R\$295,70.
- (B) R\$354,20.
- (C) R\$381,50.
- (D) R\$398,40.
- (E) R\$412,50.

RASCUNHO

QUESTÃO 16

Tendo uma Progressão Geométrica P.G. de cinco termos em que $a_1 = 6$ e $q = 4$, a seqüência correta dessa P.G. é

- (A) (4, 10, 16, 22, 28)
- (B) (6, 10, 14, 18, 22)
- (C) (4, 24, 144, 864, 5.184)
- (D) (6, 24, 96, 384, 1.536)
- (E) (24, 144, 864, 5.184, 31.104)

QUESTÃO 17

Sendo os conjuntos $A = \{0, 1, 2, 3, 4, 5\}$, $B = \{2, 3, 4\}$ e $C = \{0, 1, 2\}$, determine $(A \cup B) \cap C$ e, em seguida assinale a alternativa correta.

- (A) $\{1, 2\}$
- (B) $\{0, 1, 2\}$
- (C) $\{0, 1, 2, 3\}$
- (D) $\{0, 1, 2, 3, 4\}$
- (E) $\{0, 1, 2, 3, 4, 5\}$

QUESTÃO 18

A livraria "Tem Papel" vendeu uma certa quantidade de livros durante uma semana. Essa quantidade de vendas está representada na tabela abaixo. Após analisar a tabela, qual foi à média de livros vendidos durante essa semana?

2ªfeira	3ªfeira	4ªfeira	5ªfeira	6ªfeira	sábado
28	32	46	26	37	53

- (A) 22 livros
- (B) 29 livros
- (C) 32 livros
- (D) 35 livros
- (E) 37 livros


QUESTÃO 19

Dada à função, $f(x) = x^2 - 7x + 10$ calcule os zeros (ou raízes) dessa função, em seguida assinale a alternativa correta.

- (A) $S = \{2, 5\}$
- (B) $S = \{-3, 0\}$
- (C) $S = \{-1, -4\}$
- (D) $S = \{3, 4\}$
- (E) $S = \{4, 7\}$

QUESTÃO 20

Sobre a notação de conjuntos qual o intervalo que representa a reta real indicada abaixo?



- (A) $\{x \in \mathbb{R} / -2 < x < 5\}$
- (B) $\{x \in \mathbb{R} / -2 < x \leq 5\}$
- (C) $\{x \in \mathbb{R} / -3 < x \leq 5\}$
- (D) $\{x \in \mathbb{R} / -3 \leq x \leq 5\}$
- (E) $\{x \in \mathbb{R} / -3 < x < 5\}$

CONHECIMENTOS GERAIS**QUESTÃO 21**

Preencha as lacunas e, em seguida, assinale a alternativa correta.

A história da região de Paranavaí tem seu começo por volta de _____, quando estiveram por essa região trilhando caminhos fluviais e abrindo picadas na floresta, os _____, portugueses e _____.

- (A) 1501 / chilenos / espanhóis
- (B) 1502 / espanhóis / italianos
- (C) 1502 / chilenos / italianos
- (D) 1501 / espanhóis / bandeirantes paulistas
- (E) 1503 / espanhóis / italianos

QUESTÃO 22

Em 1929 foi instalado o primeiro Distrito na região de Paranavaí. Qual foi o nome desse Distrito?

- (A) Distrito de Montoya.
- (B) Distrito de Medeiros.
- (C) Distrito Velha Brasileira.
- (D) Distrito Braviaco.
- (E) Distrito do Guairá.

QUESTÃO 23

Joaquim Maria Machado de Assis é considerado um dos mais importantes escritores da literatura brasileira. Nasceu no Rio de Janeiro em 21 de junho de 1839, filho de uma família muito pobre. Mulato e vítima de preconceito, perdeu na infância sua mãe e foi criado pela madrasta. Superou todas as dificuldades da época e tornou-se um grande escritor. São obras de Machado de Assis, EXCETO

- (A) Quincas Borba.
- (B) Helena.
- (C) Dom Casmurro.
- (D) Lucíola.
- (E) Memorial de Aires.

QUESTÃO 24

Com a sua posse, a presidente Dilma Rousseff nomeou novos ministros. Qual o nome do atual ministro da Cultura?

- (A) Guido Mantega.
- (B) Ana Maria Buarque de Holanda.
- (C) Edison Lobão.
- (D) Guilherme Leal.
- (E) Michel Temer.

QUESTÃO 25

Preencha as lacunas e, em seguida, assinale a alternativa correta.

A maior parte do clima brasileiro é _____, embora algumas zonas possam ser classificadas como _____. O maior rio do Brasil, e também um dos mais extensos do mundo, sendo este conhecido como rio _____.

- (A) temperado / tropicais de altitude / Negro
- (B) tropical / temperadas / Amazonas
- (C) tropical / tropicais de altitude / Amazonas
- (D) temperado / tropicais / Solimões
- (E) semi-árido / temperadas / Negro

QUESTÃO 26

Sobre a cultura brasileira, analise as assertivas e, em seguida, assinale a alternativa que aponta as corretas.

- I. A cultura portuguesa foi responsável pela introdução no Brasil colônia dos grandes movimentos artísticos europeus como o renascimento, maneirismo, barroco, rococó e neoclassicismo.
- II. Na culinária, muitos dos pratos típicos brasileiros são o resultado da adaptação de pratos portugueses às condições da colônia. Um exemplo é a feijoada brasileira, resultado da adaptação dos cozidos portugueses. Também a cachaça foi criada nos engenhos como substituto para a bagaceira portuguesa, aguardente derivada do bagaço da uva. Alguns pratos portugueses também se incorporaram aos hábitos brasileiros, como as bacalhoadas e outros pratos baseados no bacalhau.
- III. Na música a cultura africana contribuiu com os ritmos que são a base de boa parte da música popular brasileira. Gêneros musicais coloniais de influência africana, como o lundu, terminaram dando origem à base rítmica do maxixe, samba, choro, bossa-nova e outros gêneros musicais atuais.
- IV. Alguns instrumentos musicais brasileiros, como o berimbau, o afoxé e o agogô são de origem africana. O berimbau é o instrumento utilizado para criar o ritmo que acompanha os passos da capoeira, mistura de dança e arte marcial criada pelos escravos no Brasil colônial.
- V. A influência indígena é também forte no folclore do interior brasileiro, povoado de seres fantásticos como o curupira, o saci-pererê, o boitatá e a iara, entre outros.

- (A) Apenas I, II e III.
(B) Apenas I, II, IV e V.
(C) Apenas I, IV e V.
(D) Apenas I, III, IV e V.
(E) I, II, III, IV e V.

QUESTÃO 27

Sobre a literatura brasileira, analise as assertivas e, em seguida, assinale a alternativa que aponta as corretas.

- I. O primeiro documento que pode ser chamado de Literatura Brasileira é a carta de Pero Vaz de Caminha ao Rei Manuel I de Portugal, em que o Brasil é descrito, em 1500.
- II. Aproximadamente em 1836, o Romantismo afetou a Literatura Brasileira e nesse período, pela primeira vez, a literatura nacional tomou formas próprias, adquirindo características diferentes da literatura europeia.
- III. O Romantismo brasileiro, teve como seu maior nome José de Alencar e exaltava as belezas naturais do Brasil e os indígenas brasileiros.

IV. A Semana de Arte Moderna de 1922 abriu novos caminhos para a literatura do país. Surgiram nomes como Oswald de Andrade, Mário de Andrade, Guilherme de Almeida e outros.

V. O século XVII também assistiu ao surgimento de nomes como Guimarães Rosa e Clarice Lispector, os chamados "romancistas instrumentalistas", elencados entre os maiores escritores brasileiros de todos os tempos.

- (A) Apenas I, II e III.
(B) Apenas I, II, IV e V.
(C) Apenas I, IV e V.
(D) Apenas I, II, III e IV.
(E) I, II, III, IV e V.

QUESTÃO 28

Sobre política energética do Brasil, é **INCORRETO** afirmar que

- (A) o Brasil tem a 6º maior reserva de ferro do mundo. Depósitos de ferro são encontrados em oito estados diferentes do Brasil.
- (B) o Brasil é o décimo maior consumidor da energia do planeta e o terceiro maior do hemisfério ocidental, atrás dos Estados Unidos e Canadá.
- (C) o Brasil possui a segunda maior reserva de petróleo bruto na América do Sul e é um dos produtores de petróleo que mais aumentaram sua produção nos últimos anos.
- (D) as agências governamentais responsáveis pela política de energia são o Ministério de Minas e Energia, o Conselho Nacional de Política Energética (CNPE), a Agência Nacional do Petróleo, Gás Natural e Biocombustíveis (ANP), a Agência Nacional de Energia Elétrica (ANEEL) e a Comissão Nacional de Energia Nuclear (CNEN).
- (E) o país é um dos mais importantes do mundo na produção de energia hidrelétrica. A Usina Hidrelétrica de Itaipu é a maior usina hidrelétrica do planeta por produção de energia.

QUESTÃO 29

Sobre a economia brasileira, é **INCORRETO** afirmar que

- (A) a atividade industrial está concentrada geograficamente nas regiões metropolitanas de São Paulo, Rio de Janeiro, Curitiba, Campinas, Porto Alegre, Belo Horizonte, Manaus, Salvador, Recife e Fortaleza.
- (B) o país responde por três quintos da produção industrial da economia sul-americana e participa de diversos blocos econômicos como: o Mercosul, o G-22 e o Grupo de Cairns.
- (C) em relatório divulgado em 2010 pela OMS, o Brasil é o terceiro maior exportador de produtos agrícolas do mundo, atrás apenas de Estados Unidos e Japão.
- (D) dono de sofisticação tecnológica, o país desenvolve de submarinos a aeronaves, além de estar presente na pesquisa aeroespacial, possuindo um Centro de Lançamento de Veículos Leves e sendo o único país do Hemisfério Sul a integrar a equipe de construção da Estação Espacial Internacional (ISS).
- (E) o Brasil é pioneiro na pesquisa de petróleo em águas profundas, de onde extrai 73% de suas reservas, sendo a primeira economia capitalista a reunir, no seu território, as dez maiores empresas montadoras de automóveis.

QUESTÃO 30

Carlos Drummond de Andrade foi um poeta, contista e cronista brasileiro. Sobre esse escritor brasileiro, é INCORRETO afirmar que

- (A) era formado em farmácia e com Emílio Moura e outros companheiros fundou "A Revista" para divulgar o modernismo no Brasil.
- (B) Drummond, como os modernistas, segue a libertação proposta por Mário e Oswald de Andrade; com a instituição do verso livre, mostrando que este não depende de um metro fixo.
- (C) os principais temas retratados nas poesias de Drummond são: conflito social, a família e os amigos, a existência humana, a visão sarcástica do mundo e das pessoas e as lembranças da terra natal.
- (D) dentre suas obras poéticas mais importantes destacam-se: Brejo das Almas, Sentimento do Mundo, José, Lição de Coisas, Viola de Bolso, Claro Enigma, Fazendeiro do Ar, Trilogia do Exílio, A Vida Passada a Limpo e Novos Poemas.
- (E) seus poemas abordam assuntos do dia a dia, e contam com uma boa dose de pessimismo e ironia diante da vida. Em suas obras, há ainda uma permanente ligação com o meio e obras politizadas. Além das poesias, escreveu diversas crônicas e contos.

CONHECIMENTOS ESPECÍFICOS

QUESTÃO 31

Sobre o livro de Mia Couto, O Outro Pé da Sereia, NÃO podemos afirmar que

- (A) entrelaça história e ficção.
- (B) apresenta o choque entre culturas.
- (C) fala de viagens entrecruzadas, na qual a questão da identidade não é ponto de partida ou de chegada; é o caminho.
- (D) fala dos seres que vivem na água sem poder realizar seus sonhos de andar na terra.
- (E) o autor questiona que compete ao homem decidir o que deve ou não ser lembrado.

QUESTÃO 32

Sobre o livro Feliz Ano Novo de Rubem Fonseca, NÃO podemos afirmar que

- (A) expõe cruamente o contraste entre a classe marginalizada pobre, e a burguesia, abastada e indiferente ao que acontece na periferia citadina.
- (B) apresenta um modo de ver o contato entre o marginalizado e as elites - absolutamente vinculado ao olhar da classe média.
- (C) aponta para possibilidade de revolta das classes oprimidas, social e economicamente, contra o *status quo*.
- (D) a temática apresentada focaliza, entre outros aspectos, um grande centro, no caso o Rio de Janeiro e expõe a crise de um sistema que é responsável pelo surgimento dos marginais.
- (E) aborda o desenvolvimento de uma narrativa sobre o Ano Novo de uma família de classe média.

QUESTÃO 33

Informe se é falso (F) ou verdadeiro (V) o que se afirma abaixo e, a seguir, assinale a alternativa com a sequência correta.

A Resolução Nº 5/2009 Conselho Nacional de Educação, Câmara de Educação Básica, institui que

- () as Diretrizes Curriculares Nacionais para a Educação Infantil articulam-se com as Diretrizes Curriculares Nacionais da Educação Básica.
- () a frequência na Educação Infantil é pré-requisito para a matrícula no Ensino Fundamental.
- () o currículo da Educação Infantil é concebido como um conjunto de práticas que buscam articular as experiências e os saberes das crianças com os conhecimentos que fazem parte do patrimônio cultural, artístico, ambiental, científico e tecnológico.
- () a Educação Infantil, primeira etapa da Educação Básica, é oferecida em creches e pré-escolas, as quais se caracterizam como espaços institucionais domésticos que constituem estabelecimentos educacionais públicos ou privados.

- (A) V - V - F - F.
- (B) F - V - V - F.
- (C) V - F - V - F.
- (D) F - F - F - V.
- (E) F - F - V - V.

QUESTÃO 34

Analise as assertivas e, em seguida, assinale a alternativa que aponta a(s) correta(s).

As práticas pedagógicas que compõem a proposta curricular da Educação Infantil devem ter como eixos norteadores as interações e a brincadeira, garantindo experiências que

- I. favoreçam a imersão das crianças nas diferentes linguagens e o progressivo domínio por elas de vários gêneros e formas de expressão: gestual, verbal, plástica, dramática e musical.
- II. ampliem a confiança e a participação das crianças nas atividades individuais e coletivas.
- III. possibilitem situações de aprendizagem mediadas para a elaboração da autonomia das crianças nas ações de cuidado pessoal, auto-organização, saúde e bem-estar.
- IV. incentivem a curiosidade, a exploração, o encantamento, o questionamento, a indagação e o conhecimento das crianças em relação ao mundo físico e social, ao tempo e à natureza.

- (A) Apenas I e III.
- (B) I, II, III e IV.
- (C) Apenas II e IV.
- (D) Apenas III.
- (E) Apenas II e III.

QUESTÃO 35

Analise as assertivas e, em seguida, assinale a alternativa que aponta a(s) correta(s).
O Plano Nacional de Educação para o decênio 2011-2020, tem como diretrizes:

- I. erradicação do analfabetismo.
- II. valorização dos profissionais da educação formados em nível superior.
- III. universalização do atendimento escolar.
- IV. melhoria da qualidade do ensino.

- (A) I, II, III e IV.
(B) Apenas II e IV.
(C) Apenas I e II.
(D) Apenas III.
(E) Apenas I, III e IV.

QUESTÃO 36

Analise as assertivas e, em seguida, assinale a alternativa que aponta a(s) correta(s).
De acordo com a Lei de Diretrizes e Bases da Educação Nacional, Lei Nº 9.343/96, compete aos Estados e aos Municípios, em regime de colaboração, e com a assistência da União:

- I. recensear a população em idade escolar para o ensino fundamental, e os jovens e adultos que a ele não tiveram acesso.
- II. fazer-lhes a chamada pública.
- III. zelar, junto aos pais ou responsáveis, pela frequência à escola.
- IV. punir e controlar a disciplina dos alunos.

- (A) Apenas I e II.
(B) Apenas I, II e III.
(C) Apenas II e III.
(D) I, II, III e IV.
(E) Apenas I, III e IV.

QUESTÃO 37

Analise as assertivas e, em seguida, assinale a alternativa que aponta a(s) correta(s).
De acordo com a Lei de Diretrizes e Bases da Educação Nacional, Lei Nº 9.343/96, os Municípios incumbir-se-ão de:

- I. organizar, manter e desenvolver os órgãos e instituições oficiais dos seus sistemas de ensino, integrando-os às políticas e planos educacionais da União e dos Estados.
- II. exercer ação redistributiva em relação às suas escolas.
- III. baixar normas complementares para o seu sistema de ensino.
- IV. autorizar, credenciar e supervisionar os estabelecimentos do seu sistema de ensino.
- V. oferecer a educação infantil em creches e pré-escolas e, com prioridade, o ensino fundamental, permitida a atuação em outros níveis de ensino somente quando estiverem

atendidas plenamente as necessidades de sua área de competência e com recursos acima dos percentuais mínimos vinculados pela Constituição Federal à manutenção e desenvolvimento do ensino.

- VI. assumir o transporte escolar dos alunos da rede municipal.

- (A) Apenas I, III e V.
(B) Apenas II, IV e VI.
(C) I, II, III, IV, V e VI.
(D) Apenas I, IV, V e VI.
(E) Apenas IV e V.

QUESTÃO 38

Sobre a educação de crianças de 4 a 6 anos, NÃO podemos afirmar que

- (A) o maior desafio é obter entendimento e uma educação baseada no reconhecimento do outro e de suas diferenças de cultura, etnia, religião, gênero, classe social, idade e combate à desigualdade.
- (B) viver uma ética e implementar uma formação cultural que assegure sua dimensão de experiência crítica.
- (C) é preciso compreender os processos relativos aos modos de interação entre crianças e adultos em diferentes contextos sociais, culturais e institucionais.
- (D) o diálogo com vários campos do conhecimento impede a forma de agir com as crianças.
- (E) conhecer as ações e produções infantis e as relações entre adultos e crianças é essencial para a intervenção e a mudança.

QUESTÃO 39

Preencha as lacunas abaixo, e em seguida, assinale a alternativa correta.

Para Vygotsky, a zona de desenvolvimento _____ define aquelas funções que ainda não amadureceram, mas que estão em processo de maturação, funções que amadurecerão, mas que estão presentemente em estado embrionário. Essas funções poderiam ser chamadas de “brotos” ou “flores” do desenvolvimento, ao invés de “frutos” do desenvolvimento. O nível de desenvolvimento _____ caracteriza o desenvolvimento mental _____, enquanto a zona de desenvolvimento proximal caracteriza o desenvolvimento mental _____.

- (A) proximal / real / retrospectivamente / prospectivamente
(B) real / proximal / retrospectivamente / prospectivamente
(C) proximal / real / prospectivamente / retrospectivamente
(D) real / proximal / prospectivamente / retrospectivamente
(E) proximal / proximal / retrospectivamente / prospectivamente

QUESTÃO 40

Analisar as assertivas e, em seguida, assinalar a alternativa que aponta a(s) correta(s). De acordo com o ECA – Estatuto da Criança e do Adolescente, Lei Nº 8069/90

- I. a adoção é medida excepcional e irrevogável, à qual se deve recorrer apenas quando esgotados os recursos de manutenção da criança ou adolescente na família natural ou extensa.
- II. a adoção pode ser realizada por procuração.
- III. o adotando deve contar com, no máximo, quinze anos à data do pedido, salvo se já estiver sob a guarda ou tutela dos adotantes.
- IV. a adoção atribui a condição de filho ao adotado, com os mesmos direitos e deveres, inclusive sucessórios, desligando-o de qualquer vínculo com pais e parentes, salvo os impedimentos matrimoniais.

- (A) Apenas I e IV.
 (B) Apenas II e III.
 (C) Apenas I e III.
 (D) I, II, III e IV.
 (E) Apenas III.

QUESTÃO 41

Relacione as colunas e depois assinalar a alternativa com a sequência correta. Alguns números poderão ser utilizados mais de uma vez.

- I. Pensamento Pedagógico Brasileiro Liberal.
 - II. Pensamento Pedagógico Brasileiro Progressista.
- () Paulo Freire.
 () Fernando Azevedo.
 () Lourenço Filho.
 () Álvaro Vieira Pinto.
 () Anísio Teixeira.

- (A) II – I – I – II – I.
 (B) I – I – II – II – I.
 (C) II – II – I – II – II.
 (D) I – II – I – II – II.
 (E) I – I – II – II – II.

QUESTÃO 42

Analisar as assertivas e, em seguida, assinalar a alternativa que aponta a(s) correta(s). A criança, de acordo com o Referencial Curricular Nacional para a Educação Infantil,

- I. é uma noção historicamente construída e conseqüentemente vem mudando ao longo dos tempos.
- II. não se apresenta de forma homogênea nem mesmo no interior de uma mesma sociedade e época.
- III. como todo ser humano, é um sujeito social e histórico e faz parte de uma organização familiar que está inserida em uma sociedade, com uma determinada cultura, em um determinado momento histórico.

- IV. tem na família, biológica ou não, um ponto de referência fundamental, apesar da multiplicidade de interações sociais que estabelece com outras instituições sociais.
- V. sobre o meio social em que se desenvolve dificilmente deixa nela sua marca.

- (A) Apenas V.
 (B) Apenas I, III e V.
 (C) Apenas II e IV.
 (D) Apenas I, II, III e IV.
 (E) Apenas II e V.

QUESTÃO 43

De acordo com o Referencial Curricular Nacional para a Educação Infantil, informe se é falso (F) ou verdadeiro (V) o que se afirma abaixo e, a seguir, assinalar a alternativa com a sequência correta.

- () Educar significa propiciar situações de cuidados, brincadeiras e aprendizagens orientadas de forma integrada
 () Educar significa cumprir seu papel de adestramento social.
 () Educar significa desenvolver as capacidades infantis de relação interpessoal, de ser e estar com os outros em uma atitude básica de aceitação, respeito e confiança,
 () Educar significa possibilitar o acesso, pelas crianças, aos conhecimentos mais amplos da realidade social e cultural.

- (A) V – V – V – F.
 (B) V – F – V – V.
 (C) F – F – V – F.
 (D) V – V – F – F.
 (E) V – F – V – F.

QUESTÃO 44

Analisar as assertivas e, em seguida, assinalar a alternativa que aponta a(s) correta(s). Sobre o cuidar, o Referencial Curricular Nacional para a Educação Infantil, aponta que

- I. as atitudes e procedimentos de cuidado independem das crenças e valores em torno da saúde, da educação e do desenvolvimento infantil.
- II. a base do cuidado humano é compreender como ajudar o outro a se desenvolver como ser humano.
- III. cuidar significa valorizar e ajudar a desenvolver capacidades.
- IV. o cuidado é um ato em relação ao outro e a si próprio que possui uma dimensão expressiva e implica em procedimentos específicos.

- (A) Apenas II e IV.
 (B) Apenas III e IV.
 (C) I, II, III e IV.
 (D) Apenas I e II.
 (E) Apenas II, III e IV.

QUESTÃO 45

Analise as assertivas e, em seguida, assinale a alternativa que aponta a(s) correta(s).

Para que as aprendizagens infantis ocorram com sucesso, é preciso que o professor considere, na organização do trabalho educativo,

- I. a interação com crianças da mesma idade, evitando-se as de idades diferentes, em situações diversas como fator de promoção da aprendizagem e do desenvolvimento e da capacidade de relacionar-se.
- II. os conhecimentos prévios de qualquer natureza, que as crianças já possuem sobre o assunto, já que elas aprendem por meio de uma construção interna ao relacionar suas ideias com as novas informações de que dispõem e com as interações que estabelecem.
- III. a individualidade e a diversidade.
- IV. o grau de desafio que as atividades apresentam e o fato de que devam ser significativas e apresentadas de maneira integrada para as crianças e o mais próximas possíveis das práticas sociais reais.
- V. a resolução de problemas como forma de aprendizagem.

- (A) Apenas II, III e IV.
 (B) Apenas I, II e IV.
 (C) Apenas II, III, IV e V.
 (D) I, II, III, IV e V.
 (E) Apenas II e V.

QUESTÃO 46

Sobre a aprendizagem de acordo com o Referencial Curricular Nacional para a Educação Infantil, informe se é falso (F) ou verdadeiro (V) o que se afirma abaixo e, a seguir, assinale a alternativa com a sequência correta.

- () As crianças precisam aprender com os outros, por meio dos vínculos que estabelece.
- () Ampliando suas relações sociais, interações e formas de comunicação, as crianças sentem-se cada vez mais inseguras.
- () Se as aprendizagens acontecem na interação com as outras pessoas, sejam elas adultos ou crianças, elas também dependem dos recursos de cada criança
- () Dentre os recursos que as crianças utilizam, destacam-se a imitação, o faz-de-conta, a oposição, a linguagem e a apropriação da imagem corporal.

- (A) V – V – F – V.
 (B) F – F – V – V.
 (C) V – F – V – V.
 (D) V – V – V – F.
 (E) V – V – F – F.

QUESTÃO 47

Analise as assertivas e, em seguida, assinale a alternativa que aponta a(s) correta(s).

A Didática tem como objetivo(s):

- I. provocar uma reflexão sobre os pressupostos da prática pedagógica.
- II. a multidimensionalidade do processo de ensino-aprendizagem.
- III. as diferentes abordagens da prática pedagógica e suas incidências concretas na dinâmica pedagógica.
- IV. ensinar todos os procedimentos que o professor deve utilizar para dar aula.
- V. articular a reflexão entre teoria e prática.

- (A) I, II, III, IV e V.
 (B) Apenas I, III e V.
 (C) Apenas II e IV.
 (D) Apenas I e V.
 (E) Apenas I, II, III e V.

QUESTÃO 48

Sobre o projeto político pedagógico, informe se é falso (F) ou verdadeiro (V) o que se afirma abaixo e, a seguir, assinale a alternativa com a sequência correta.

- () É visto como um documento programático que reúne as principais ideias, fundamentos, orientações curriculares e organizacionais de uma instituição educativa ou de um curso.
- () Na esteira da inovação emancipatória, enfatiza mais o produto de sua construção.
- () Que para se avançar na construção de um projeto político-pedagógico que supere a reprodução acrítica, a rotina, a racionalidade técnica, que considera a prática um campo de aplicação empirista, centrada nos meios.
- () O projeto político-pedagógico dá o norte, o rumo, a direção; ele possibilita que as potencialidades sejam equacionadas, legitimando as formas instituídas.

- (A) V – V – F – F.
 (B) V – F – V – F.
 (C) F – F – V – V.
 (D) V – V – V – F.
 (E) F – V – F – V.

QUESTÃO 49

Assinale a alternativa correta.

A didática para a pedagogia histórico-crítica pressupõe a sequência de alguns passos para a elaboração do plano de ensino, são eles, respectivamente:

- (A) Prática Social Inicial; Catarse; Prática Social Final; Problematização e a Instrumentalização.
- (B) Prática Social Inicial; Problematização; Prática Social Final; Instrumentalização e a Catarse.
- (C) Catarse; Prática Social Inicial; Instrumentalização; Problematização e a Prática Social Final.
- (D) Prática Social Inicial; Problematização; Instrumentalização; Catarse e a Prática Social Final.
- (E) Problematização; Catarse, Prática Social Inicial; Prática Social Final e a Instrumentalização.

QUESTÃO 50

Sobre o desenvolvimento, segundo Piaget, analise as assertivas e, em seguida, assinale a alternativa que aponta a(s) correta(s).

- I. O homem é possuidor de uma estrutura biológica que impossibilita desenvolver o mental sem ajuda do adulto.
- II. É explicado segundo o pressuposto de que existe uma conjuntura de relações interdependentes entre o sujeito conhecedor e o objeto a conhecer.
- III. A assimilação consiste na tentativa do indivíduo em solucionar uma determinada situação a partir da estrutura cognitiva que ele possui naquele momento específico da sua existência.
- IV. A acomodação, por sua vez, consiste na capacidade de modificação da estrutura mental antiga para dar conta de dominar um novo objeto do conhecimento.

- (A) Apenas II, III e IV.
- (B) I, II, III e IV.
- (C) Apenas I e IV.
- (D) Apenas II e III.
- (E) Apenas I.