

Patroleiro
PORTUGUÊS

Leia o texto abaixo para responder as questões a seguir:

Há o momento de chegada

E o instante de partida

Quanta vida já vivi

Quanto resta a ser vivida?

São dois espelhos quebrados

Duas vezes sete de má sorte

Já vivi quatorze anos

Quanto resta para a morte?

É fácil vê-la chegar

Em cada momento que passe

Pois se começa a morrer

No momento em que se nasce

Estou caminhando pra morte

Não decidi meu nascer

Da morte não sei o dia

Mas posso saber!

Pedro Bandeira

Questão 01

Assinale a opção que apresenta palavras antônimas:

- (A) chegar / passe
- (B) sorte / morte
- (C) chegada / partida
- (D) momento / instante

Questão 02

Assinale a palavra que é sinônimo de *começar*:

- (A) decidir
- (B) chegar
- (C) iniciar
- (D) nascer

Questão 03

No verso “ Há o momento de chegada”, o verbo *haver* no tempo futuro será:

- (A) Houve
- (B) Houvera
- (C) Houveram
- (D) Haverá

Questão 04

Assinale a opção em que o verbo está no gerúndio:

- (A) achado
- (B) caminhando
- (C) morrer
- (D) chegar

Questão 05

Nas palavras infeliz, cozinheiro, milharal e amanhecer, temos respectivamente:

- (A) prefixo, sufixo, prefixo, prefixo + sufixo
- (B) prefixo, sufixo, sufixo, prefixo + sufixo
- (C) sufixo, prefixo, prefixo, sufixo
- (D) prefixo + sufixo, prefixo, sufixo, sufixo

Questão 06

Observe o início desta letra de música:

Começar de novo

E contar comigo

Vai valer a pena

Ter amanhecido

Ivan Lins

O prefixo correto para a palavra *começar* é:

- (A) des
- (B) re
- (C) in
- (D) dis

Questão 07

Assinale a opção em que a palavra está incorretamente grafada:

- (A) conciencia
- (B) xadrez
- (C) mexer
- (D) ensanguentado

Questão 08

Indique o item em que todas as palavras devem ser preenchidas com x:

- (A) pran__a / en__er / __adrez.
- (B) bai...o / pi__ar / ...u...u
- (C)utar / pei...e / mo__ila.
- (D) me__erica / en__ame / bru__a

Questão 09

Identifique a alternativa cujas palavras preencham corretamente os espaços em branco:

A do concurso gera uma grande no candidato e o deixa

- (A) expectativa, tensão, paralizado
- (B) expectativa, tensão, paralisado
- (C) expectativa, tensão, paralizado
- (D) expectativa, tenção, paralisado

Questão 10

Devem ser acentuadas todas as palavras da opção:

- (A) taxi - juri - gas
- (B) ritmo - amor - lapis
- (C) chines - ruim - jovem
- (D) juriti - gratis - traz

Questão 11

Aponte a palavra **incorreta** quanto à acentuação:

- (A) môça
- (B) vezes
- (C) mês
- (D) cipó

CIMENTO ARMADO

Paulo Bonfim

Batem estacas no terreno morto.
 No terreno morto surge vida nova.
 As goiabeiras do velho parque
 E os roseirais, abandonados,
 Serão cortados
 E derrubados.
 Um prédio novo de dez andares,
 Frio e cinzento,
 Terá seu corpo de cimento armado
 Enraizado no velho parque
 De goiabeiras
 De roseirais.

Batem estacas no terreno morto.
 Século vinte...
 Vida de aço...
 Cimento armado!
 Batem estacas
 No prédio novo de dez andares,
 Terraços tristes
 Pássaros presos,
 Rosas suspensas
 Flores da vida,
 Rosas de dor

Questão 12

Assinale a opção correta.

O assunto abordado no texto é:

- (A) A devastação e destruição da natureza causada pelo homem.
- (B) A preservação dos recursos naturais.
- (C) A construção de um prédio.
- (D) Nenhuma das alternativas anteriores.

Tiririca volta atrás e afirma que "votou pelo povo"

17/02/2011 12h45-JORNAL OTEMPO

O deputado Francisco Everardo Oliveira (PR-SP), o Tiririca, voltou atrás após sua assessoria declarar que ele teria se equivocado durante a votação do salário mínimo, nessa quarta-feira (16) e afirmou concordar com o salário de R\$ 600, defendido pela oposição.

Anteriormente ele teria informado que seguiria o partido, que faz parte da base do governo.

De acordo com o site G1, Tiririca declarou que teria votado com o povo, que foi quem o elegeu. Ao ser questionado sobre as declarações de seu partido, de que ele teria votado errado, o deputado disse que a preocupação do partido é natural devido ao fato de que ele foi o mais votado em São Paulo.

As propostas dos valores de R\$ 600 e R\$ 560 foram rejeitadas pelos deputados. Essa havia sido a orientação do PR à sua bancada. Os deputados Francisco Floriano (RJ) e Zoinho (RJ), também votaram a favor do mínimo de R\$ 600.

Questão 13

Segundo o texto, o deputado "votou pelo povo". Isso significa que ele:

- (A) não reconhece o povo
- (B) votou errado
- (C) reconhece os votos recebidos
- (D) defende a oposição

Questão 14

A divisão silábica só está correta em:

- (A) con-te-ú-do
- (B) bis-a-vô
- (C) na-sça
- (D) va-i-da-de

Questão 15

Dadas as palavras:

- 1- des-a-ten-to
- 2- trans-tor-no
- 3- bis-a -vô

Constatamos que a separação silábica está correta:

- (A) apenas na nº 1
- (B) apenas na nº 2
- (C) apenas na nº 3
- (D) em todas as palavras

Questão 16

O plural dos substantivos couve-flor, pão-de-ló e amor-perfeito é:

- (A) couve-flores, pães-de-ló, amores-perfeitos
- (B) couves-flor, pão-de-lós, amores-perfeitos
- (C) couves-flores, pão-de-lós, amor-perfeitos
- (D) couves-flores, pães-de-ló, amores-perfeitos

Questão 17

Observe o plural das palavras abaixo e marque a opção correta:

Anão - anãos
órfão - órfãos
gás - gases
anzol - anzóis

- (A) todos estão corretos
- (B) todos estão incorretos
- (C) os dois últimos estão corretos
- (D) o 1º e o último estão corretos

Questão 18

O plural de terno azul-claro e terno verde-mar é:

- (A) ternos azuis-claros; ternos verdes-mares
- (B) ternos azuis-claros; ternos verde-mares
- (C) ternos azul-claro; ternos verde-mar
- (D) ternos azul-claros; ternos verde-mar

Questão 19

Assinale a alternativa em que a palavra destacada **não** tem valor de adjetivo.

- (A) A malha **azul** estava molhada.
- (B) O sol desbotou o **verde** da bandeira.
- (C) Tinha os cabelos **avermelhados**.
- (D) As nuvens tornavam-se **cinzentas**.

Questão 20

No trecho:

MULHERES: vocês já se apaixonaram por homens mais velhos?

- Sim, meu atual namorado é 10 anos mais **velho** do que eu, e meu ex era 20 anos mais **velho** do que eu.

<http://answers.yahoo.com/question> – acesso em 17/02/2011

O grau dos adjetivos em destaque é:

- (A) comparativo de igualdade
- (B) comparativo de inferioridade
- (C) comparativo de superioridade
- (D) superlativo

CONHECIMENTOS GERAIS**Questão 21**

“Após quatro meses de uma campanha em que temas morais e religiosos ofuscaram propostas concretas sobre temas importantes à nação, Dilma Rousseff foi eleita a primeira presidente da história brasileira. A candidata petista derrotou o tucano José Serra em um segundo turno em que a abstenção superou os 20 milhões de eleitores.”

www.eleicoesuol.com.br

As eleições para presidente no final do ano passado elegeram para vice presidente:

- (A) Marco Maciel
- (B) Fernando Collor
- (C) Michel Temer
- (D) José Sarney

Questão 22

O nome do governador de Minas Gerais é:

- (A) Antonio Augusto Anastasia
- (B) José Antonio Anastasia
- (C) Pedro Antonio Teixeira
- (D) Anastásia Augusto Andrade

Questão 23

Com o aumento da violência urbana há atualmente muitas discussões a respeito da impunidade e pela defesa de um sistema mais punitivo: “se houver punição garantida os níveis de violência certamente baixarão.” Em muitos países as pessoas ficam legalmente responsáveis por seus atos a partir de 14 e até 12 anos. No Brasil é diferente. A idade estipulada pelas leis brasileiras para responsabilizar o indivíduo pelos seus atos é:

- (A) 16 anos
- (B) 18 anos
- (C) 21 anos
- (D) 20 anos

Questão 24

O cantor e ator aproveitou a fama e lançou sua biografia em 2010. No entanto a venda encalhou. Só 10.000 dos 30.000 exemplares lançados foram vendidos. O texto da revista Veja faz referencia a:

- (A) Daniel Boaventura
- (B) Fabio Junior
- (C) Mauricio Mattar
- (D) Filipe Kartalian (Fiuk)

Questão 25

Roberto Carlos protagonizou, no final do ano de 2010, um dos shows mais concorridos na Praia de Copacabana, no Rio de Janeiro. Roberto Carlos é um histórico integrante de um movimento que aconteceu nos anos 60, no Brasil. Seus integrantes, como Erasmo Carlos e Vanderléia continuam dando ibope na mídia.

O movimento histórico é:

- (A) Tropicalismo
- (B) Musica romântica
- (C) Jovem Guarda
- (D) Bossa Nova

Questão 26

Várias regiões do Brasil estão ameaçadas pela dengue devido ao calor e as chuvas de verão. As medidas para evitar a dengue são as enumeradas abaixo, exceto:

- (A) destruir pneus usados para que não virem depósito de larvas.
- (B) evitar pratos debaixo dos vasos de plantas.
- (C) deixar garrafas sempre secas e vazias
- (D) ingerir remédio contra febre.

Questão 27

No filme de José Padilha, uma fala é marcante. O capitão Nascimento (na pele do muito bom ator Wagner Moura) no alto do conhecimento do problema diz: "Você que compra a droga é que financia o tráfico no morro" para um garoto "zona sul", viciado e destemido, subindo o morro para comprar seu alucinógeno ou seu estimulante. Este filme fez muito sucesso e ainda faz no cinema brasileiro seu nome é:

- (A) Alto da Compadecida
- (B) Tropa de Elite
- (C) Deus é brasileiro
- (D) Bye bye Brasil

Questão 28

Anderson Silva em menos de quatro minutos nocauteou o seu adversário, também brasileiro, na "luta do século" do Ultimate Fighting Championship. Qual foi o adversário de Anderson Silva?

- (A) Acelino Popó Freitas
- (B) Adilson José Rodrigues (Maguila)
- (C) Vitor Vieira Belfort
- (D) Wanderlei Silva

Questão 29

Foi o artista queridinho do mercado publicitário em 2010 segundo um levantamento inédito do Controle da Concorrência apareceu em 4072 inserções comerciais da TV. Para se ter uma idéia da ascensão o apresentador da Record apareceu em 2340 comerciais em 2009 e nenhum em 2008.

(Revista Veja fevereiro de 2010)

O nome deste fenômeno da televisão é:

- (A) Sergio Chapelin
- (B) Rodrigo Faro
- (C) Luciano Hulk
- (D) Faustão

Questão 30

“É composto por 6 pontos, que são agrupados em duas filas verticais com três pontos em cada fila. A combinação desses pontos forma 63 caracteres que simbolizam as letras do alfabeto convencional e suas variações como os acentos, a pontuação, os números, os símbolos matemáticos e químicos e até as notas musicais. Para os cegos poderem ler números ou partituras musicais, por exemplo, basta que se acrescente antes do sinal de 6 pontos um sinal de número ou de música.”

(<http://deficienciavisualsp.blogspot.com/2009/02/alfabeto-braille.html>)

O texto especifica o:

- (A) Alfabeto Grego
- (B) Alfabeto Animado
- (C) Alfabeto Chinês
- (D) Alfabeto Braille

CONHECIMENTOS ESPECÍFICOS

Questão 31

Uma pessoa foi atropelada e está caída no meio da rua, **primeiramente** deve-se:

- (A) Sinalizar o local para evitar outros acidentes.
- (B) Remover a pessoa para a calçada, não se importando com os ferimentos.
- (C) Tentar chamar algum parente da vítima antes do serviço de resgate.
- (D) Iniciar imediatamente o atendimento a vítima no local e talvez não seja necessário chamar o resgate.

Questão 32

Para **reduzir o consumo de combustível e a poluição do meio ambiente** é necessário.

- (A) Verificar a carga da bateria.
- (B) Manter o carburador ou injeção eletrônica bem regulada.
- (C) Efetuar a troca do óleo lubrificante.
- (D) Efetuar a troca das pastilhas de freio.

Questão 33

O condutor do veículo ao se aproximar de um trecho da via com fumaça, proveniente de queimadas, deverá:

- (A) Redobrar a atenção e aumentar a velocidade.
- (B) Redobrar atenção, reduzir a velocidade, ligar a luz baixa do farol.
- (C) Reduzir a velocidade, parar o veículo e aguardar na pista.
- (D) Reduzir a velocidade e a atenção e ligar a luz alta do farol.

Questão 34

Para evitar uma colisão na traseira do veículo da frente o condutor deverá:

- (A) Transitar com velocidade compatível com a segurança.
- (B) Não se distrair.
- (C) Manter distância de segurança.
- (D) Todas as afirmativas A, B e C estão corretas.

Questão 35

Manter distância do veículo da frente é uma:

- (A) Conduta que contraria as normas de direção defensiva.
- (B) Condição segura para que o condutor tenha tempo de reagir e acionar os freios diante de situação de emergência.
- (C) Condição insegura para que o condutor tenha tempo de reagir e acionar os freios, diante de situação de emergência.
- (D) Conduta errada do condutor defensivo.

Questão 36

Sobre o Tacógrafo (registrador instantâneo e inalterável de velocidade e tempo) responda a afirmativa correta.

- (A) O tacógrafo é obrigatório nos veículos de transporte, condução de escolares, nos de transporte de passageiros com mais de dez lugares e nos de carga.
- (B) O tacógrafo não é obrigatório nos veículos de condução de escolares.
- (C) O tacógrafo deve ser trocado a cada duas horas.
- (D) Os veículos que transportam carga perigosa têm tacógrafo específico.

Questão 37

A cada infração cometida, de natureza "GRAVE", são computados os seguintes números de pontos.

- (A) (05) cinco
- (B) (07) sete
- (C) (03) três
- (D) (04) quatro

Questão 38

Dirigir, com apenas uma das mãos, é:

- (A) Proibido em qualquer situação.
- (B) Permitido quando o condutor fizer sinais regulamentares de braço ou mudanças das marchas.
- (C) Permitido quando o condutor já tem experiência.
- (D) Permitido em qualquer situação.

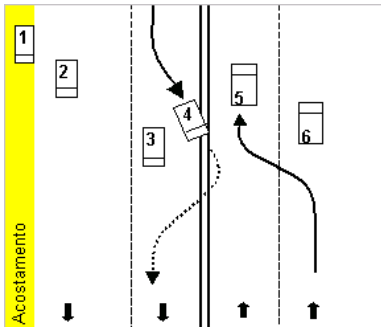
Questão 39

Quando uma pista de rolamento comportar várias faixas de trânsito no mesmo sentido, ficarão:

- (A) A da Direita para as ultrapassagens e para os veículos de maior velocidade.
- (B) A da Esquerda para as ultrapassagens e para os veículos lentos.
- (C) A da Direita para ultrapassagem.
- (D) A da Esquerda para as ultrapassagens e ao deslocamento de veículos de maior velocidade.

Questão 40

Observe o desenho abaixo e identifique, pelos números, quais veículos estão circulando corretamente na via:



- (A) 2,3,5 e 6
- (B) 1,2,3 e 6
- (C) 2,3,4 e 5
- (D) 1,4,5 e 6

Questão 41

A placa de nº A-32b  adverte o condutor

do veículo da existência, adiante, de:

- (A) Uma travessia de animais
- (B) Uma passagem sinalizada de pedestres
- (C) Proibição de trânsito de pedestres
- (D) Área escolar

Questão 42

A placa de nº A-17  adverte o condutor do veículo da existência, adiante, de:

- (A) Um trecho pista irregular
- (B) Um aclive acentuado
- (C) Uma depressão
- (D) Uma pista escorregadia

Questão 43

Onde houver a marca longitudinal representada



pela inscrição a ultrapassagem é:

- (A) Permitida para os dois sentidos
- (B) Proibida para um dos sentidos
- (C) Permitida para um dos sentidos
- (D) Proibida para os dois sentidos

Questão 44

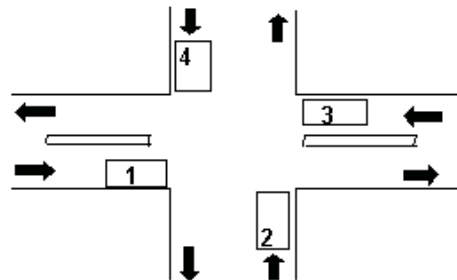
Identifique o significado do gesto do condutor expresso no desenho:



- (A) Dobrar à direita
- (B) Dobrar à esquerda
- (C) Diminuir a marcha
- (D) Atenção: siga

Questão 45

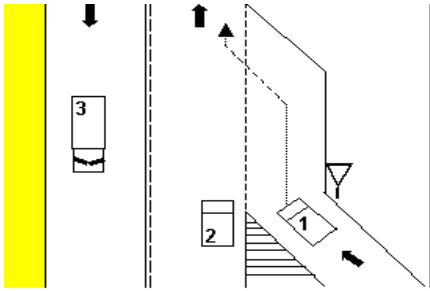
Observe o desenho abaixo e responda. Em relação aos movimentos dos veículos 2 e 3, indique aquele que tem a preferência de passagem:



- (A) Veículo 2
- (B) Veículo 3
- (C) Veículo 4
- (D) Veículo 1

Questão 46

Observe o desenho abaixo e responda. O condutor do veículo 1 para ingressar em outra via deverá:



- (A) Não é necessário aguardar a passagem do veículo 2.
- (B) Entrar diretamente na via, sem utilizar a faixa de aceleração.
- (C) Utilizar a faixa de aceleração, dando preferência ao veículo 2.
- (D) Apenas aguardar a passagem do veículo 3.

Questão 47

O símbolo, inscrito no pavimento, representado



por uma cadeira de rodas indica:

- (A) O local é regulamentado para estacionamento de veículos conduzidos por deficientes físicos.
- (B) O local poderá ser utilizado por pessoas que não são deficientes físicos por no máximo cinco minutos.
- (C) No local é proibido o trânsito de deficientes físicos.
- (D) No local é proibida a parada de veículos conduzidos por deficientes físicos.

Questão 48

Quando não há sinalização, a quem pertence o direito de trânsito?

- (A) Ao veículo que estiver transitando em linha reta.
- (B) Ao veículo que está transitando por uma via não pavimentada.
- (C) Ao veículo que está à direita do condutor.
- (D) Aos veículos de maior porte.

Questão 49

Todo condutor de Transporte Coletivo e de Escolares é:

- (A) Isento de pagar multas.
- (B) Responsável pela segurança de seus passageiros.
- (C) Experiente, com no mínimo dez anos de carteira de habilitação.
- (D) Negligente no trânsito.

Questão 50

Qual o perfil do condutor de transporte escolar:

- (A) Agitado, rápido e previsível
- (B) Impulsivo, rápido e imprevisível
- (C) Calmo, educado, cuidadoso e atencioso
- (D) Ansioso, porém habilitado na categoria E