

TEXTO 1

"Qualquer pergunta sobre a violência contra a mulher deve ser enfocada sob dois aspectos: a violência externa e a violência doméstica – praticada pelo pai, padrasto, marido, companheiro, irmão, filho ou qualquer outro familiar. Isto porque são diferentes, por exemplo, as causas de um estupro praticado por um desconhecido e o praticado pelo pai ou padrasto. Assim, a violência contra a mulher não pode ser inserida na análise global da falta de segurança pública. Não há nada mais aterrorizante e chocante, que se verificar no lugar onde deveria existir AMOR e compreensão, haja mágoas, ódios, pancadarias, agressões, estupros, etc. E os motivos são os mais diversos: desde o fator social do desemprego do homem, do alcoolismo, da fome, até a simples imposição do machismo e de sua supremacia física. Exemplificando: em 10 ocorrências policiais, principalmente da periferia, em 8 o homem encontra-se desempregado e, para satisfazer a sua frustração, espanca sua companheira por motivos banais e, na maioria, risíveis. As polícias, Militar ou Civil, por mais equipadas e bem dirigidas, não podem garantir a segurança de uma cidadã dentro do seu próprio lar. Isto porque 90% das ocorrências registradas aconteceram dentro das quatro paredes de uma casa, sem nenhuma testemunha, ou, o que é pior, na frente dos filhos. Entretanto, as estatísticas demonstram que apenas 10% das mulheres estupradas, ameaçadas, agredidas, violentadas, procuram ajuda de uma delegacia. As outras preferem o silêncio, a sobrevivência, e, apenas 2% destas mulheres denunciadas, persistem na busca de seus direitos, retornando para os depoimentos e investigações necessárias. As demais, desaparecem. Acrescente-se, ainda, a estas causas sociais, o espetacular avanço profissional feminino neste século, gerando insegurança aos homens da classe média e, até mesmo, na classe alta, bem como a infidelidade, atualmente intolerável pela mulher independente economicamente".

ANTUNES, Laudelina Inácio. Texto disponível em <http://campus.fortunecity.com/clemson/493/jus/m04-003.htm>. Acesso em 28/04/2010. Adaptado

01. Pela compreensão do Texto 1, podemos dizer que a idéia principal do texto é

- A) Criticar a falta de iniciativa da mulher para denunciar o seu companheiro e que apenas 2% destas mulheres denunciadas, persistem na busca de seus direitos, retornando para os depoimentos e investigações necessárias.
- B) Informar que a violência doméstica acontece principalmente dentro do próprio lar, praticada pelo pai, padrasto, marido, companheiro, irmão, filho ou qualquer outro familiar.
- C) Não existe mais amor nos lares e a violência acontece até na frente dos próprios filhos.
- D) Os motivos da violência contra a mulher são os mais diversos: desde o fator social do desemprego até a simples imposição do machismo e de sua supremacia física.
- E) Os motivos da violência contra a mulher vão desde o fator social do desemprego até a simples imposição do machismo e de sua supremacia física, como também o espetacular avanço profissional feminino, bem como a infidelidade, atualmente intolerável pela mulher independente economicamente.

**PROCESSO DE SELEÇÃO PÚBLICA PARA CREDENCIAMENTO NO
PROGRAMA DE ESTÁGIO DE NÍVEL UNIVERSITÁRIO E MÉDIO
DO MINISTÉRIO PÚBLICO DO ESTADO DE PERNAMBUCO
(PENUM/MPPE)**

02. Segundo o Texto 1, os seguintes argumentos explicam a violência contra a mulher:

1. A falta de segurança pública.
2. O fator psicológico e a frustração, levando a espancar a sua companheira por motivos banais.
3. O espetacular avanço profissional feminino e a infidelidade, atualmente tolerável pela mulher independente economicamente.
4. O fator social do desemprego do homem, do alcoolismo, da fome, até a simples imposição do machismo e de sua supremacia física.

Estão corretas:

- A) Uma.
- B) Duas.
- C) Três.
- D) Quatro.
- E) Nenhuma.

03. Assinale a alternativa em que a idéia NÃO se encontra no texto 1

- A) A violência doméstica é praticada pelo pai, padrasto, marido, companheiro, irmão, filho ou qualquer outro familiar.
- B) As polícias, Militar ou Civil, por mais equipadas e bem dirigidas, não podem garantir a segurança de uma cidadã dentro do seu próprio lar.
- C) As estatísticas demonstram que apenas 10% das mulheres estupradas, ameaçadas, agredidas, violentadas, procuram ajuda de uma delegacia. As outras preferem o silêncio com medo de enfrentar novas agressões, estupros e até mesmo, perder o próprio lar.
- D) Em 10 ocorrências policiais, principalmente da periferia, em 8 o homem encontra-se desempregado e, para satisfazer a sua frustração, espanca sua companheira por motivos banais, triviais, comuns.
- E) São causas sociais da violência contra a mulher: o espetacular avanço profissional feminino neste século, e a não aceitação da infidelidade masculina.

04. É sinônimo da palavra RISÍVEIS (linha 12) do texto 1 :

- A) Cômicos
- B) Banais
- C) Triviais
- D) Maléficos
- E) Desconhecidos.

05. Observe a concordância verbal no seguinte trecho: "... as estatísticas demonstram que apenas 10% das mulheres estupradas, ameaçadas, agredidas, violentadas, procuram ajuda de uma delegacia." Analise a concordância verbal nos enunciados abaixo.

1. Quando se usa a porcentagem sem o especificador, o verbo vai concordar com o número.
2. Quase um terço do alimento se estragou.
3. Apenas 1,78% votou nesse candidato.
4. 3/4 dos candidatos foram aprovados.

Estão corretas:

- A) 1 e 2, apenas.
- B) 1 e 3, apenas.
- C) 3 e 4, apenas.
- D) 2,3 e 4, apenas.
- E) 1,2,3, e 4.

**PROCESSO DE SELEÇÃO PÚBLICA PARA CREDENCIAMENTO NO
PROGRAMA DE ESTÁGIO DE NÍVEL UNIVERSITÁRIO E MÉDIO
DO MINISTÉRIO PÚBLICO DO ESTADO DE PERNAMBUCO
(PENUM/MPPE)**

06. O plural de cidadão, pastelzinho e Paul é:

- A) Cidadões, pasteisinhos, pauls.
- B) Cidadãos, pasteisinhos, paus.
- C) Cidadãos, pasteizinhos, paus.
- D) Cidadãos, pasteizinhos, pauls.
- E) Cidadãos, pasteisinhos, paus.

TEXTO 2

Onde há fumaça, há fadiga

De acordo com um recente estudo feito nos Estados Unidos, até mesmo os chamados fumantes involuntários correm risco de saúde, ao respirar oxigênio misturado com a fumaça dos cigarros alheios.

Já há algum tempo se sabe que os chamados fumantes passivos ou involuntários - aqueles que são obrigados a respirar o ar contaminado pelo cigarro alheio - correm riscos de saúde comparáveis aos dos fumantes. A novidade agora é que também o desempenho físico dos fumantes por tabela é prejudicado. Um recente estudo americano testou um grupo de mulheres em duas séries de exercícios aeróbicos. Elas tiveram de respirar por uma máscara de oxigênio, na qual se misturou ao ar fumaça de cigarro. Resultado: as mulheres passaram a gastar 11 por cento a mais de oxigênio e glicose (ou seja, energia) para alcançar o mesmo desempenho obtido quando respiravam ar limpo. Além disso, as células do sangue encarregadas de levar oxigênio aos músculos ficaram parcialmente bloqueadas pelo monóxido de carbono, presente na fumaça do cigarro. Dessa maneira, recebendo menos combustível, os músculos cansaram mais cedo e produziram uma quantidade maior de ácido láctico, a substância que provoca a sensação de ardor durante o exercício físico e indica estado de fadiga.

http://super.abril.com.br/superarquivo/1989/conteudo_111495.shtml

07. Após a leitura do texto 2, conclui-se que

- A) Os fumantes passivos correm grandes riscos de contrair doenças respiratórias.
- B) As mulheres tiveram de respirar por uma máscara de oxigênio, na qual se misturou ao ar fumaça de cigarro.
- C) Fumantes passivos ou involuntários - aqueles que são obrigados a respirar o ar contaminado pelo cigarro alheio - correm riscos de saúde comparáveis aos dos fumantes.
- D) Os músculos de fumantes passivos cansaram mais cedo e produziram uma quantidade menor de ácido láctico.
- E) Todos os fumantes sentem ardor durante o exercício físico e estado de fadiga.

08. “Onde há fumaça, há fadiga.” O verbo HAVER no sentido de existir é impessoal, permanecendo na 3ª pessoa do singular. Marque a alternativa **incorreta** de acordo com a concordância verbal.

- A) Deve haver bons programas hoje.
- B) Faz dois anos que não o vejo. .
- C) Há duas semanas não chove.
- D) Devem haver bons filmes românticos.
- E) Eles já haviam chegado lá.

**PROCESSO DE SELEÇÃO PÚBLICA PARA CREDENCIAMENTO NO
PROGRAMA DE ESTÁGIO DE NÍVEL UNIVERSITÁRIO E MÉDIO
DO MINISTÉRIO PÚBLICO DO ESTADO DE PERNAMBUCO
(PENUM/MPPE)**

09. Indique a alternativa em que há erro de coletivo.

- A) O coletivo de hinos é hinário.
- B) O coletivo de malandros é súcia.
- C) O coletivo de plantas para estudo ou exposição é hervário.
- D) O coletivo de cônegos de uma catedral é cabido.
- E) O coletivo de lobos é alcatéia.

10. Marque a alternativa em que a flexão de grau do substantivo está de forma incorreta.

- A) Cabeça - Cabeçorra
- B) Copo - Copázio.
- C) Papel - Papelucho
- D) Vaga - vagalhão
- E) Farol - Farolite.

ATUALIDADES

11. Osama bin Mohammed bin Awad bin Laden (mais conhecido como Osama bin Laden ou simplesmente bin Laden) foi um dos membros [sauditas](#) da próspera [família bin Laden](#), além de líder e fundador da [al-Qaeda](#), organização [terrorista](#) famosa pelos [ataques de 11 de setembro nos Estados Unidos](#) e numerosos outros contra alvos civis e militares.

Em que país o terrorista Osama Bin Laden foi capturado?

- A) Afeganistão
- B) Iran
- C) Paquistão
- D) Cazaquistão
- E) Quirguistão

12. Tradicionalismo com boa dose de contemporaneidade. Esse foi o estilo que marcou a união do príncipe William e Kate Middleton, celebrada na manhã de 29 de Abril de 2011 na Abadia de Westminster de Londres. A cerimônia foi assistida ao vivo por 1.900 convidados.

Devido ao casamento com o Príncipe Willian, Kate Middleton recebeu o título de:

- A) Duquesa de Cambrigde.
- B) Princesa de Gales.
- C) Duquesa de Rothesay.
- D) Princesa da Inglaterra.
- E) Princesa Catherine.

13. O país que foi atingido por um intenso terremoto de magnitude de 8,9 e por fortes ondas de um tsunami em Março de 2011 foi:

- A) China
- B) Japão
- C) Indonésia
- D) Tailândia
- E) Coréia.

**PROCESSO DE SELEÇÃO PÚBLICA PARA CREDENCIAMENTO NO
PROGRAMA DE ESTÁGIO DE NÍVEL UNIVERSITÁRIO E MÉDIO
DO MINISTÉRIO PÚBLICO DO ESTADO DE PERNAMBUCO
(PENUM/MPPE)**

14. Marque a alternativa **incorreta** a respeito dos países e suas respectivas capitais.

- A) Chile – Santiago.
- B) Argentina – Buenos Aires.
- C) Peru – Lima.
- D) Colômbia – Bogotá.
- E) Venezuela – Assunção.

15. O militar que assumiu a presidência do Brasil após a saída de Castelo Branco foi:

- A) João Goulart.
- B) Ernesto Geisel.
- C) Costa e Silva.
- D) José Sarney.
- E) Tancredo Neves.

MATEMÁTICA

16. O preço do quilo de sorvete de chocolate em uma sorveteria é de R\$ 6,50 se o cliente consome até 1kg, e de R\$ 6,00 se o cliente consome acima de 1kg. Se um cliente consome 960g, qual quantidade poderia ter consumido, pagando o mesmo preço?

- A) 1,06 kg.
- B) 1,05 kg.
- C) 1,04 kg.
- D) 1,03 kg.
- E) 1,02 kg.

17. Em uma escola, a razão entre o número de alunos e o de professores é de 50 para 1.

Se houvesse mais 400 alunos e mais 16 professores, a razão entre o número de alunos e o de professores seria de 40 para 1.

Podemos concluir que o número de alunos da escola é:

- A) 1 000.
- B) 1 050.
- C) 1 100.
- D) 1 150.
- E) 1 200.

18. O dono de uma lanchonete comprou uma certa quantidade de sanduíches por R\$ 180,00 e vendeu todos, exceto seis, com um lucro de R\$ 2,00 por sanduíche. Com o total recebido, ele comprou 30 sanduíches a mais que na compra anterior, pagando o mesmo preço por sanduíche. Nessas condições, o preço de custo de cada sanduíche foi de:

- A) R\$ 6,00.
- B) R\$ 5,00.
- C) R\$ 3,00.
- D) R\$ 2,00.
- E) R\$ 1,00.

**PROCESSO DE SELEÇÃO PÚBLICA PARA CREDENCIAMENTO NO
PROGRAMA DE ESTÁGIO DE NÍVEL UNIVERSITÁRIO E MÉDIO
DO MINISTÉRIO PÚBLICO DO ESTADO DE PERNAMBUCO
(PENUM/MPPE)**

19. Qual dos primos a seguir **não** divide $3^{16} - 2^{16}$?

- A) 5.
- B) 7.
- C) 13.
- D) 17.
- E) 97.

20. Foi realizada uma pesquisa em um colégio no bairro de Boa viagem sobre a preferência musical dos alunos. Foram feitas 2 perguntas:

- Você gosta de Música Popular Brasileira – MPB?
- Você gosta de Música Erudita – ME?

Os resultados obtidos foram os seguintes: MPB recebeu 481 votos e ME recebeu 413 votos. Nesses montantes, incluem-se 68 votos de alunos que votaram em ambas modalidades musicais. Outros 78 votos foram de alunos que optaram por nenhuma delas. Considerando que cada aluno votou apenas uma vez, então o número de alunos consultados foi:

- A) 1 108.
- B) 1 040.
- C) 972.
- D) 938.
- E) 904.

21. Em março, um modelo de fogão custava R\$1000,00. Em abril, o preço subiu 5% em relação a março. Em maio, caiu 10% em relação a abril e, em junho, voltou a subir 5% em relação a maio. Qual é o preço do fogão em junho?

- A) R\$ 992,25
- B) R\$ 1000,00
- C) R\$ 990,05
- D) R\$ 993,50
- E) R\$ 1001,00

**PROCESSO DE SELEÇÃO PÚBLICA PARA CREDENCIAMENTO NO
PROGRAMA DE ESTÁGIO DE NÍVEL UNIVERSITÁRIO E MÉDIO
DO MINISTÉRIO PÚBLICO DO ESTADO DE PERNAMBUCO
(PENUM/MPPE)**

22. Quaisquer que sejam os números reais positivos x e y , a expressão $\frac{x\sqrt{x} \quad y\sqrt{y}}{xy\sqrt{xy}}$ é equivalente a:

A) $\frac{\sqrt{y}}{y} \quad \frac{\sqrt{x}}{x}$

B) $y\sqrt{y} \quad x\sqrt{x}$

C) $\frac{\sqrt{y}}{y^2} \quad \frac{\sqrt{x}}{x^2}$

D) $y^2\sqrt{y} \quad x^2\sqrt{x}$

E) $xy \sqrt{x} \quad \sqrt{y}$

23. Se n é um número inteiro, então, é correto afirmar que o número $n^4 + 4$ é:

- A) composto, para $n = 1$.
- B) primo, para $n = 2011$.
- C) divisível por $(n + 1)^2 + 1$.
- D) um quadrado perfeito, para $n \neq 0$.
- E) múltiplo de $n^2 - 2n + 4$, se n é ímpar.

24. A água de esgoto de um reservatório é drenada por meio de 2 encanamentos, ligados a diferentes bombas. O volume de água drenada pelo primeiro encanamento é de 30 litros por minuto e pelo segundo encanamento é de 70 litros por minuto. A quantidade de água de esgoto, em litros, drenada do reservatório por um período de 12 horas é:

- A) 56.600
- B) 70.000
- C) 42.000
- D) 72.000
- E) 82.400

25. Um Alfaiate pagou R\$ 135,00 por uma certa quantidade de metros de um tecido. Ao passar pela loja vizinha, notou que o metro desse mesmo tecido estava R\$ 2,00 mais barato que na anterior. Comprou, então, um metro a mais do que na primeira compra, gastando R\$ 130,00. Considerando as duas compras, o total de metros de tecido que ele comprou foi:

- A) 15
- B) 17
- C) 19
- D) 21
- E) 23

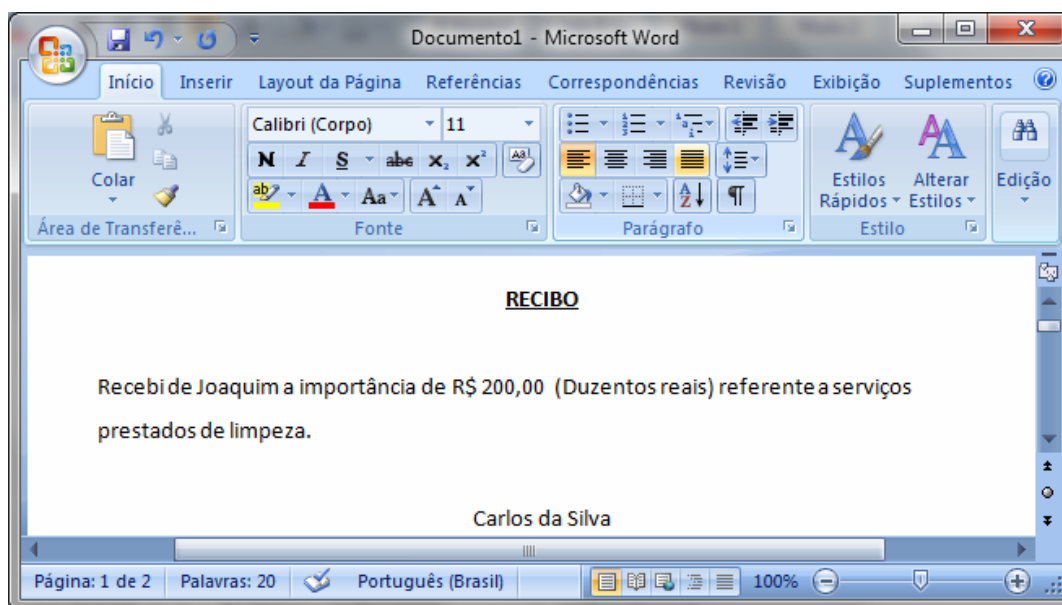
**PROCESSO DE SELEÇÃO PÚBLICA PARA CREDENCIAMENTO NO
PROGRAMA DE ESTÁGIO DE NÍVEL UNIVERSITÁRIO E MÉDIO
DO MINISTÉRIO PÚBLICO DO ESTADO DE PERNAMBUCO
(PENUM/MPPE)**

INFORMÁTICA

26. Qual das versões abaixo **não** é uma versão válida do Microsoft Windows?

- A) Windows 2000.
- B) Windows 98.
- C) Windows NT.
- D) Windows ML.
- E) Windows ME.

27. Utilizando o Microsoft Office Word 2007 (Português) e a figura abaixo é **incorreto** afirmar que:



- A) Pressionando as teclas “Ctrl” + P (simultaneamente) abrirá o menu de impressão que permite escolher a impressora que deseja imprimir.
- B) Pressionando as teclas “Ctrl” + P (simultaneamente) abrirá o menu de impressão que permite selecionar a quantidade de páginas a imprimir.
- C) Pressionando as teclas “Ctrl” + P (simultaneamente) abrirá o menu de impressão que permite selecionar se deseja imprimir todas as páginas ou apenas as selecionadas.
- D) Pressionando as teclas “Ctrl” + P (simultaneamente) abrirá o menu de impressão que possui um botão “Propriedades” que possibilita escolher o tipo de Papel e a orientação que deseja (Retrato ou Paisagem).
- E) Pressionando as teclas “Ctrl” + P (simultaneamente) realiza a impressão apenas da página selecionada.

**PROCESSO DE SELEÇÃO PÚBLICA PARA CREDENCIAMENTO NO
PROGRAMA DE ESTÁGIO DE NÍVEL UNIVERSITÁRIO E MÉDIO
DO MINISTÉRIO PÚBLICO DO ESTADO DE PERNAMBUCO
(PENUM/MPPE)**




28. Analise as afirmações abaixo:

- I. No Microsoft Office Word 2007, pressionando as teclas “**Ctrl**” + **S** (simultaneamente) o texto selecionado ficará sublinhado caso o texto não esteja sublinhado; ou será retirado o sublinhado caso o texto já esteja sublinhado.
- II. No Microsoft Office Word 2007, pressionando as teclas “**Ctrl**” + **Q** (simultaneamente) o parágrafo da frase onde o cursor está posicionado no texto ficará alinhado à esquerda, caso o parágrafo não esteja alinhado à esquerda; ou será alinhado de forma justificada, caso o parágrafo esteja alinhado à esquerda.
- III. No Microsoft Office Word 2007, pressionando as teclas “**Ctrl**” + **D** (simultaneamente) o parágrafo da frase onde o cursor está posicionado no texto ficará alinhado à direita, caso o parágrafo não esteja alinhado à direita; ou será alinhado de forma justificada, caso o parágrafo esteja alinhado à direita.

Indique a opção que contenha todas as afirmações verdadeiras.

- A) I
- B) I e II
- C) II e III
- D) I e III
- E) I, II e III






29. Analise as afirmações abaixo sobre o Windows XP:

- I. Pressionando as teclas “**Ctrl**” + “**ESC**” (simultaneamente) abrirá o menu “Iniciar” ou, caso o menu esteja aberto, fechará o menu “Iniciar”.
- II. A barra de tarefas pode ser configurada para ficar visível ou não, além do que pode ser posicionada em qualquer um dos quatro lados da área de trabalho (superior, inferior, esquerda ou direita).
- III. Na área de trabalho é permitido criar atalhos para programas que estejam instalados no computador, porém não é permitido criar atalhos para pastas que existam no computador.
- IV. O botão  existente nas janelas permite minimizá-las, enquanto o botão  permite maximizar as janelas e o botão  permite fechar as janelas.

Indique a opção que contenha todas as afirmações verdadeiras.

- A) I e II
- B) I, II e IV
- C) II, III
- D) I, II, III e IV
- E) I e IV

30. Assinale a alternativa **incorreta**.

- A) O botão  serve para copiar a formatação de um local e aplicá-lo em outro.
- B) O botão  serve para formatar o texto selecionado de forma que o texto pode ficar todo em minúsculo, maiúsculo ou a primeira letra maiúscula e as demais minúsculas.
- C) O botão  serve para aumentar/reduzir o tamanho da fonte do texto selecionado.
- D) O botão  serve para criar uma lista numerada.
- E) O botão  serve para substituir uma palavra por outra