



CONCURSO PÚBLICO MUNICÍPIO DE CARANGOLA ESTADO DE MINAS GERAIS



EDITAL Nº. 001/2011

INSTRUÇÕES

- 01 - Material a ser utilizado: caneta esferográfica azul ou preta. Os objetos restantes devem ser colocados em local indicado pelo fiscal da sala, inclusive aparelho celular desligado e devidamente identificado com etiqueta.
- 02 - Não é permitido consulta, utilização de livros, códigos, dicionários, apontamentos, apostilas, calculadoras e etc. Não é permitido ao candidato ingressar na sala de provas sem a respectiva identificação e o devido recolhimento de telefone celular, bip e outros aparelhos eletrônicos.
- 03 - Durante a prova, o candidato não deve levantar-se, comunicar-se com outros candidatos e nem fumar.
- 04 - A duração da prova é de 03 (três) horas, já incluindo o tempo destinado à entrega do Caderno de Provas e à identificação – que será feita no decorrer da prova – e ao preenchimento do Cartão de Respostas (Gabarito).
- 05 - Somente em caso de urgência pedir ao fiscal para ir ao sanitário, devendo no percurso permanecer absolutamente calado, podendo antes e depois da entrada sofrer revista através de detector de metais. Ao sair da sala no término da prova, o candidato não poderá utilizar o sanitário. Caso ocorra uma emergência, o fiscal deverá ser comunicado.
- 06 - O Caderno de Provas consta de 30 (trinta) questões objetivas de múltipla escolha. Leia-o atentamente.
- 07 - As questões das provas objetivas são do tipo múltipla escolha, com 05 (cinco) opções (A a E) e uma única resposta correta.**
- 08 - Ao receber o material de realização das provas, o candidato deverá conferir atentamente se o Caderno de Provas corresponde ao cargo a que está concorrendo, observando o nome do cargo na parte superior da próxima página, bem como se os dados constantes no Cartão de Respostas (Gabarito) que lhe foi fornecido, estão corretos. Caso os dados estejam incorretos, ou o material esteja incompleto ou tenha qualquer imperfeição, o candidato deverá informar tal ocorrência ao fiscal.
- 09 - Os fiscais não estão autorizados a emitir opinião e prestar esclarecimentos sobre o conteúdo das provas. Cabe única e exclusivamente ao candidato interpretar e decidir.
- 10 - O candidato poderá retirar-se do local de realização das provas levando o Caderno de Provas, no decurso dos últimos 30 (trinta) minutos anteriores ao horário previsto para o seu término. O candidato poderá retirar-se do local de provas somente a partir dos 90 (noventa) minutos, após o início de sua realização, contudo não poderá levar consigo o Caderno de Provas.
- 11 - Os 3 (três) últimos candidatos de cada sala somente poderão sair juntos. Caso o candidato insista em sair do local de aplicação da prova, deverá assinar um termo desistindo do Concurso Público e, caso se negue, deverá ser lavrado o Termo de Ocorrência, testemunhado pelos 2 (dois) outros candidatos, pelo fiscal da sala e pelo coordenador da unidade escolar.

RESULTADOS E RECURSOS

- Os gabaritos oficiais preliminares das provas objetivas serão divulgados na Internet, no site www.idecan.org.br, a partir das 16h00min do dia útil subsequente ao da realização da prova escrita (segunda-feira).
- Os recursos deverão ser apresentados, conforme determinado no item 8 do Edital nº. 001/2011, sendo observados os seguintes aspectos:
- a) O candidato que desejar interpor recursos contra os gabaritos oficiais preliminares das provas objetivas disporá de **02 (dois) dias úteis**, a contar do segundo dia subsequente ao de sua divulgação (quarta-feira), em requerimento próprio disponibilizado no link correlato ao Concurso Público no site www.idecan.org.br.
- b) A interposição de recursos poderá ser feita **somente via internet**, através do **Sistema Eletrônico de Interposição de Recursos**, com acesso pelo candidato com o fornecimento de dados referentes à sua inscrição, apenas no prazo recursal, ao IDECAN, conforme disposições contidas no site www.idecan.org.br, no link correspondente ao Concurso Público.

TEXTO:

A mosca e a formiguinha

– Sou fidalga! – dizia a mosca à formiguinha que passava carregando uma folha de roseira. – Não trabalho, pouso em todas as mesas, lambisco todos os manjares, passeio sobre o colo das donzelas – e até me sento no nariz. Que vidão regalado o meu...

A formiguinha arriou a carga, enxugou a testa e disse:

– Apesar de tudo, não invejo a sorte das moscas. São mal vistas. Ninguém as estima. Toda gente as enxota com asco. E pior é que tem um berço degradante: nascem nas esterqueiras.

– Ora, ora! – exclamou a mosca. – Viva eu quente e ria-se a gente.

– E além de imundas são cínicas. – continuou a formiga. – Não passam de umas parasitas – e parasitas é sinônimo de ladrão. Já a mim todos me respeitam. Sou rica pelo meu trabalho, tenho casa própria e nada me falta durante o rigor do mau tempo. E você? Você, basta que fechem a porta da cozinha e já está sem o que comer, às lágrimas. Não troco a minha honesta vida de operária pela vida dourada dos filantes.

– Quem desdenha quer comprar – murmurou ironicamente a mosca.

Dias depois a formiga encontrou a mosca a debater-se numa vidraça.

– Então, fidalga, o que é isso? – perguntou-lhe.

A prisioneira respondeu aflita:

– Os donos da casa partiram de viagem e me deixaram trancada aqui. Estou morrendo de fome e já exausta de tanto me debater.

A formiga repetiu as empáfias da mosca, imitando-lhe a voz: “Sou fidalga! Pouso em todas as mesas... Passeio pelo colo das donzelas...” e lá seguiu seu caminho, apressadinha como sempre.

(Monteiro Lobato. *Fábulas e histórias diversas*. São Paulo: Brasiliense, 1960. p. 91-92)

01) De acordo com o texto, marque **V** para as afirmativas verdadeiras e **F** para as falsas.

() A formiga lambisca manjares e passeia sobre o colo das donzelas.

() Segundo a formiga, as moscas são mal vistas.

() As formigas são imundas e cínicas.

A sequência está correta em

A) V, V, V

B) F, V, F

C) F, F, V

D) V, V, F

E) V, F, V

02) De acordo com as ideias do texto, as formigas

I. são respeitadas por todos.

II. têm casa própria.

III. são fidalgas.

IV. têm vida honesta.

Estão corretas apenas as alternativas

A) III, IV

B) I, II

C) II, III

D) I, II, III, IV

E) I, II, IV

03) “Ninguém as estima.” A palavra destacada apresenta como significado correto

A) ignora.

B) aprecia; ama.

C) inventa.

D) isenta.

E) sufoca.

04) Em “– Os donos da casa partiram de viagem e me deixaram trancada aqui.”, o travessão (–) foi utilizado para

A) marcar pausa de curta duração.

D) destacar gírias.

B) indicar que alguém está falando.

E) marcar termos deslocados.

C) denotar espanto.

05) Assinale a seguir a única palavra que se apresenta no diminutivo.

A) mosca

B) apressadinha

C) caminho

D) roseira

E) esterqueira

06) A palavra “já” é acentuada pela mesma razão que a seguinte palavra

A) até

B) lágrima

C) você

D) ninguém

E) é

07) São palavras que se apresentam no feminino, EXCETO:

A) vidraça

B) passeio

C) formiguinha

D) cínica

E) casa

08) Assinale a afirmativa que apresenta ERRO de ortografia.

A) A formiga estava exausta.

D) As moscas são donzelas.

B) Os donos da casa viajaram.

E) A formiga seguiu apressadinha pelo caminho.

C) As esterqueiras têm mal cheiro.



CONCURSO PÚBLICO – MUNICÍPIO DE CARANGOLA/MG

- 09) “Toda gente as enxota com asco.” A palavra destacada se refere às
A) moscas. B) formigas. C) roseiras. D) prisioneiras. E) fidalgas.
- 10) Assinale a única palavra que se apresenta no masculino
A) donzela B) honesta C) roseira D) berço E) dourada

MATEMÁTICA

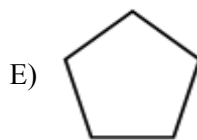
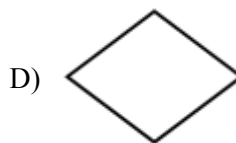
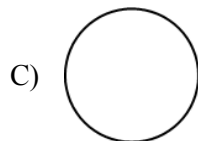
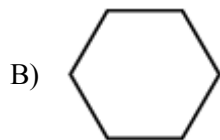
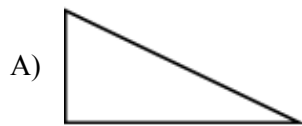
- 11) Lucas alugou um filme cuja duração é de 102 minutos, ou seja, ele verá o filme em
A) 1h e 2min. B) 1h e 42min. C) 2h e 32min D) 1h e 32min. E) 2h e 2min.
- 12) Carlos queria conquistar Mariana e para isso, lhe dava uma rosa por dia. Ao final de 6 semanas ela aceitou o namoro. Quantas rosas Mariana recebeu?
A) 48 B) 32 C) 45 D) 36 E) 42
- 13) Cláudio ganhou uma barra de chocolate. Comeu $\frac{2}{10}$ da barra e o restante dividiu igualmente entre seus dois irmãos. Quanto cada um comeu?
A) $\frac{4}{10}$ B) $\frac{8}{10}$ C) $\frac{1}{8}$ D) $\frac{2}{8}$ E) $\frac{6}{10}$
- 14) Joana foi almoçar com sua mãe que comeu 465 g e Joana 395 g. Se juntarmos os dois pratos, quantos gramas faltam para chegar a 1 kg?
A) 860 g B) 395 g C) 240 g D) 140 g E) 160 g
- 15) Pedro gasta 25 minutos por dia limpando e arrumando suas ferramentas de trabalho. Em uma semana, contando apenas os dias úteis, quanto tempo Pedro gasta neste serviço?
A) 120 min B) 2h 05 min C) 105 min D) 85 min E) 1h 25 min
- 16) Léo comprou uma bola por R\$6,80 e uma pipa por R\$1,30. Ele pagou com uma nota de R\$10,00. Quanto receberá de troco?
A) R\$3,20 B) R\$2,90 C) R\$1,90 D) R\$2,10 E) R\$2,70

- 17) A imagem representa a figura geométrica espacial denominada
A) cone.
B) cilindro.
C) prisma.
D) cubo.
E) pirâmide de base hexagonal.



- 18) A distância entre a cidade A e a cidade B é de 10,9 km. Ao transformá-la em metros, a distância entre as duas cidades será de
A) 19000 m B) 1090 m C) 10900 m D) 1900 m E) 10090 m

- 19) Assinale a seguir uma figura espacial.



- 20) Paula engordou 28 kg durante a gravidez. O médico recomendou que, para ela emagrecer saudavelmente, deverá voltar ao peso em 7 meses. Quantos quilos Paula precisa perder a cada mês?
A) 6 kg B) 4 kg C) 5 kg D) 3 kg E) 7 kg

CONHECIMENTOS GERAIS

- 21) Em 2011, uma das mentes mais criativas da indústria da informática, Steve Jobs, faleceu. Ele deixou um legado importantíssimo. Qual das marcas apresentadas está associada ao seu nome?
A) Linux. B) Twitter. C) Microsoft. D) IBM. E) Apple.
- 22) O início do governo de Dilma Rousseff foi marcado pela queda de alguns ministros. São eles, EXCETO.
A) Fernando Haddad – Educação D) Orlando Silva – Esportes
B) Alfredo Nascimento – Transportes E) Antônio Palocci – Casa Civil
C) Pedro Novais – Turismo
- 23) Os autores mineiros enriquecem muito a literatura nacional. Dentre os autores apresentados, indique o que NÃO nasceu em Minas Gerais.
A) Murilo Mendes. D) Ziraldo.
B) Zuenir Ventura. E) Carlos Drummond de Andrade.
C) Graciliano Ramos.
- 24) São cidades-sede da copa de 2014, EXCETO:
A) Brasília e Cuiabá. D) Belo Horizonte e Fortaleza.
B) Manaus e Belo Horizonte. E) Florianópolis e São Paulo.
C) Rio de Janeiro e São Paulo.
- 25) Em 31 de dezembro de 2012, finda o período de transição para as novas regras ortográficas entrarem em vigor em todos países de língua portuguesa. Assinale a alternativa que apresenta o país que NÃO tem como língua oficial a língua portuguesa.
A) Angola. B) Gana. C) Moçambique. D) Portugal. E) Ilha da Madeira.
- 26) O nome do autor de quadrinhos que criou personagens populares como: Magali, Cebolinha, Chico Bento, entre outros, é
A) Angeli. B) Jô Soares. C) Ziraldo. D) Renato Aragão. E) Maurício de Souza.
- 27) São representantes da Bossa Nova, um dos movimentos mais influentes da história da música popular brasileira, EXCETO:
A) Nara Leão. D) Luiz Bonfá.
B) Gilberto Gil. E) João Gilberto.
C) Vinícius de Moraes.
- 28) A Fórmula 1, como todos os esportes, apresenta recordes. Qual piloto conseguiu a proeza de ser o mais jovem piloto bicampeão mundial?
A) Sebastian Vettel. D) Jenson Button.
B) Fernando Alonso. E) Mark Webber.
C) Michael Schumacher.
- 29) São instrumentos comuns a uma banda de fanfarra, EXCETO:
A) Tarol. B) Cuíca. C) Caixa. D) Bumbo. E) Surdo.
- 30) O ano de 2012 será palco de um dos maiores eventos esportivos do mundo: as Olimpíadas, que possui uma bandeira, representando os cinco continentes a partir de cinco anéis entrelaçados, sendo que cada um é de uma cor. Assinale a cor que NÃO faz parte da bandeira olímpica.
A) Rosa. B) Amarelo. C) Azul. D) Vermelho. E) Preto.