

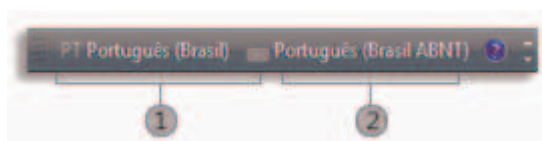
1. Sobre a instalação de discos rígidos externos, analise as seguintes afirmativas:

1. Uma das maneiras mais simples de se adicionar mais espaço em disco rígido em um computador é conectar um disco rígido externo.
2. Discos rígidos externos se conectam através de portas como USB, Firewire.
3. Alguns discos rígidos se conectam via um padrão denominado *External Serial ATA* (eSATA).

Está(ão) correta(s):

- A) 1, apenas.
- B) 1 e 2, apenas.
- C) 1 e 3, apenas.
- D) 2 e 3, apenas.
- E) 1, 2 e 3.

2. A figura abaixo apresenta uma possível configuração da barra de idiomas do Windows 7.



Analise as seguintes afirmativas acerca da figura e da barra de idiomas do Windows 7:

1. O botão 1 refere-se ao botão de idioma de entrada que, no caso, é o português do Brasil.
2. O botão 2 refere-se ao layout do teclado.
3. Cada idioma está associado a apenas um layout de teclado.

Está(ão) correta(s)

- A) 1, apenas.
- B) 1 e 2, apenas.
- C) 1 e 3, apenas.
- D) 2 e 3, apenas.
- E) 1, 2 e 3.

3. Analise as seguintes afirmativas acerca da compatibilidade entre os sistemas operacionais Microsoft Windows XP e Windows 7:

1. Uma limitação do Modo Windows XP é a de não ser possível acessar as unidades de CD e DVD do computador físico.
2. Uma das formas do Modo Windows XP funcionar é como um sistema operacional virtual.
3. É possível usar o Modo Windows XP para executar programas que foram feitos para o Windows XP em computadores com Windows 7 (mas em apenas algumas versões).

Está(ão) correta(s)

- A) 2, apenas.
- B) 1 e 2, apenas.
- C) 1 e 3, apenas.
- D) 2 e 3, apenas.
- E) 1, 2 e 3.

4. Acerca dos passos necessários para configurar uma rede sem fio (via roteador) no sistema operacional Windows, analise as seguintes afirmativas:

1. É interessante configurar primeiro o roteador sem fio, antes de começar a configuração do computador.
2. Os ícones de rede (como ou ) podem ser usados, entre outras coisas, para se visualizar as redes disponíveis.
3. Pelo Windows ser um software largamente utilizado, todos os equipamentos de rede disponíveis no mercado já vem de fábrica com o selo de compatibilidade Microsoft.

Está(ão) correta(s):

- A) 1, apenas.
- B) 1 e 2, apenas.
- C) 1 e 3, apenas.
- D) 2 e 3, apenas.
- E) 1, 2 e 3.

5. Para garantir uma maior segurança na execução do sistema operacional Windows, é fundamental mantê-lo atualizado em relação a todos os itens abaixo, exceto:

- A) *Patch* de segurança do Windows
- B) Antivírus
- C) Firewall
- D) *Patch* de segurança do Microsoft Office
- E) Versão 2010 do Microsoft Office

6. Acerca da instalação de impressoras em rede no Windows 7, analise as seguintes afirmativas:

1. A opção **Dispositivos e Impressoras** pode ser encontrada diretamente no menu Iniciar.
2. O driver da impressora em rede não precisa ser instalado localmente.
3. Se a impressora for desinstalada da rede, a mesma será automaticamente desinstalada do computador.

Está(ão) **incorreta(s)**:

- A) 1, apenas.
- B) 1 e 2, apenas.
- C) 1 e 3, apenas.
- D) 2 e 3, apenas.
- E) 1, 2 e 3.



7. Acerca dos procedimentos de boot dos computadores, analise as seguintes afirmativas:

1. É possível realizar o boot de um computador, tanto por disquete, CD ou USB.
2. Ao gravar um CD de boot, normalmente não é necessário indicar ao programa de gravação que ele é um CD de boot.
3. A BIOS contém a sequência de inicialização do computador, determinando em qual lugar (disco rígido, disquete, etc.) será procurado primeiro o programa de boot.

Está(ão) **correta(s)**:

- A) 1, apenas.
- B) 1 e 2, apenas.
- C) 1 e 3, apenas.
- D) 2 e 3, apenas.
- E) 1, 2 e 3.




8. Acerca do controle de layout de página do programa Microsoft Word 2010, analise as seguintes afirmativas:

1. Opções de layout de página são disponibilizadas através da guia Layout da Página.
2. A opção representada pela imagem  é utilizada para determinar as margens da página.
3. A opção representada pela imagem  é utilizada para determinar a orientação da página.

Está(ão) **correta(s)**:

- A) 1, apenas.
- B) 1 e 2, apenas.
- C) 1 e 3, apenas.
- D) 2 e 3, apenas.
- E) 1, 2 e 3.

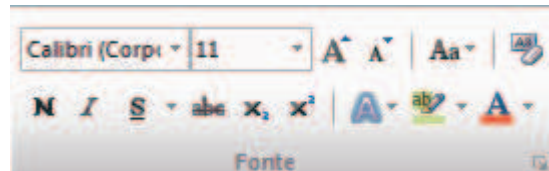
9. Acerca das opções para configuração de plano de fundo de página disponibilizado pelo programa Microsoft Word 2010, analise as seguintes afirmativas:

1. O comando representado pela imagem  é utilizado para configurar a marca d'água a ser utilizada.
2. Podemos alterar a cor do plano de fundo da página utilizando a opção representada pela imagem .
3. Através da opção representada pela imagem , podemos adicionar ou alterar a borda em torno da página de um documento.

Está(ão) **correta(s)**:

- A) 1, apenas.
- B) 1 e 2, apenas.
- C) 1 e 3, apenas.
- D) 2 e 3, apenas.
- E) 1, 2 e 3.

10. A figura a seguir apresenta opções do grupo **Fonte**, guia **Página Inicial**, disponibilizada no programa Microsoft Word 2010:



Analise as afirmativas a seguir acerca das opções apresentadas na figura:

1. O comando representado pela letra **N** pode ser ativado pela combinação de teclas **CTRL+N**.
2. A opção **abe** está com uma linha no meio por não estar habilitada.
3. A opção **X<sup>2</sup>** tem como objetivo dobrar o tamanho da fonte de um texto previamente selecionado.




Está(ão) **incorreta(s)**:

- A) 1, apenas.
- B) 1 e 2, apenas.
- C) 1 e 3, apenas.
- D) 2 e 3, apenas.
- E) 1, 2 e 3.

**11.** A figura a seguir apresenta opções do grupo **Parágrafo** da guia **Página Inicial**, disponibilizada no programa Microsoft Word 2010:



Analise as afirmativas a seguir acerca das opções apresentadas na figura:

1. A opção  é utilizada para escrever o valor da constante matemática PI no documento texto.
2. O destaque dado na imagem  em relação às outras indica que o Word está sugerindo o uso deste comando visando um melhor ajuste do texto no documento.
3. Podemos alterar a cor do texto através da opção representada por .

Está(ão) **incorreta(s)**:

- A) 1, apenas.
- B) 1 e 2, apenas.
- C) 1 e 3, apenas.
- D) 2 e 3, apenas.
- E) 1, 2 e 3.

**12.** Acerca das funções disponíveis no programa Microsoft Excel 2010, analise as seguintes afirmativas:

1. A opção de Contar Números é representada pela função **CONT.NÚM**.
2. O resultado de **MÁX(A1:A10)** retorna o maior valor contido nas primeiras 10 células da coluna A.
3. O resultado de **MIN(A1:A10)** retorna o menor valor contido nas primeiras 10 células da coluna A.



Está(ão) **correta(s)**:

- A) 1, apenas.
- B) 1 e 2, apenas.
- C) 1 e 3, apenas.
- D) 2 e 3, apenas.
- E) 1, 2 e 3.

**13.** A figura abaixo apresenta opções disponíveis no grupo Classificar e Filtrar do programa Microsoft Excel 2010.



Acerca dessa figura, analise as seguintes afirmativas:

1. As opções  e  alteram a ordem de apresentação de dados de apenas uma coluna.
2. A opção **Classificar** é utilizada para alterar a ordem dos dados de uma tabela, porém sendo possível definir apenas um único critério de ordenação.
3. A opção **Filtro** nos permite filtrar os dados a serem importados de arquivos textos criados por outros programas.

Está(ão) **incorreta(s)**:

- A) 2, apenas.
- B) 1 e 2, apenas.
- C) 1 e 3, apenas.
- D) 2 e 3, apenas.
- E) 1, 2 e 3.

**14.** Acerca das funções do programa Microsoft Excel 2010 relacionadas à manipulação de datas, analise as seguintes afirmativas:

1. A função **DIA** pode ser aplicada para retornar o dia da semana de uma determinada data.
2. **DIATRABALHO** é uma função utilizada para identificar se uma determinada data é ou não um dia útil de trabalho.
3. A função **HOJE** retorna a data que representa o dia atual.

Está(ão) **incorreta(s)**:

- A) 2, apenas.
- B) 1 e 2, apenas.
- C) 1 e 3, apenas.
- D) 2 e 3, apenas.
- E) 1, 2 e 3.

**15.** Acerca das funções lógicas do programa Microsoft Excel 2010, analise as seguintes afirmativas:

1. A função **E** é uma função binária (possui dois parâmetros) utilizada para indicar se duas condições são verdadeiras.
2. **VERDADEIRO** é uma função disponível que não possui parâmetros.
3. **SE** é uma função que poderá retornar resultados diferentes, de acordo com o valor de outras células da planilha.

Está(ão) incorreta(s):

- A) 1, apenas.
- B) 1 e 2, apenas.
- C) 1 e 3, apenas.
- D) 2 e 3, apenas.
- E) 1, 2 e 3.

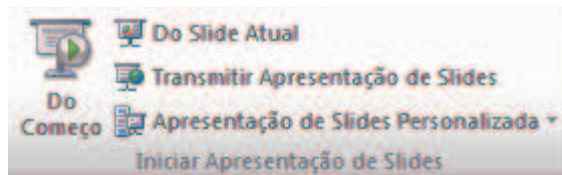
**16.** Sobre o programa Microsoft PowerPoint 2010, a opção de configuração da orientação dos slides está disponível na guia:

- A) Página inicial
- B) Design
- C) Layout da página
- D) Exibição
- E) Apresentação de slides

**17.** Não é uma opção de transição de slide do programa Microsoft PowerPoint 2010 em sua configuração padrão:

- A) Esmacecer
- B) Empurrão
- C) Revelar
- D) Dividir
- E) Transcender

**18.** A figura abaixo mostra opções disponíveis na guia Iniciar Apresentação de Slides do programa Microsoft PowerPoint 2010.



Acerca dessa figura e do programa PowerPoint 2010, analise as seguintes afirmativas:

1. A opção **Do Slide Atual** é utilizada para se iniciar a apresentação de slides a partir do atual.
2. **Transmitir Apresentação de Slides** é utilizada para transmitir a apresentação de slides usando padrões modernos como o de TV Digital.
3. A opção **Do Começo** é utilizada para se determinar qual slide será utilizado como começo da apresentação.


Está(ão) incorreta(s):

- A) 1, apenas.
- B) 1 e 2, apenas.
- C) 1 e 3, apenas.
- D) 2 e 3, apenas.
- E) 1, 2 e 3.

**19.** Não é uma guia do programa Microsoft PowerPoint 2010:

- A) Inserir
- B) Transições
- C) Animações
- D) Revisão
- E) Layout de página

**20.** A ferramenta Preenchimento de malha do programa CorelDRAW X5 permite criar um preenchimento com alterações sutis na cor. Acerca desse assunto, analise as seguintes afirmativas:

1. O ícone  representa a ferramenta **Preenchimento de malha**.
2. A ferramenta **Preenchimento de malha** também pode ser acessada pela combinação de teclas CTRL+P+M.
3. Uma desvantagem dessa ferramenta é a de não poder aplicar transparências a um preenchimento de malha.

Está(ão) incorreta(s):

- A) 1, apenas.
- B) 1 e 2, apenas.
- C) 1 e 3, apenas.
- D) 2 e 3, apenas.
- E) 1, 2 e 3.

**21.** Acerca dos recursos do programa CorelDRAW X5, analise as seguintes afirmativas:

1. A paleta de cores personalizada deve ser criada pelo usuário, já que isto não pode ser feito de forma automática.
2. A ferramenta Conta-gotas pode ser utilizada para criar o efeito de borro causado por gotas de tinta.
3. O usuário pode adicionar ou remover cores da paleta de documentos.

Está(ão) incorreta(s) :

- A) 1, apenas.
- B) 1 e 2, apenas.
- C) 1 e 3, apenas.
- D) 2 e 3, apenas.
- E) 1, 2 e 3.

**22.** Analise as seguintes afirmativas acerca do programa CorelDRAW X5:

1. O comando de duplicar é utilizado para criar novos objetos baseados em outros já existentes.
2. Assim como o comando de copiar, o comando de duplicar objeto coloca uma cópia do objeto na área de transferência do Windows.
3. Além de poder duplicar um único objeto, também é possível realizar múltiplas cópias de uma vez.

Está(ão) incorreta(s):

- A) 2, apenas.
- B) 1 e 2, apenas.
- C) 1 e 3, apenas.
- D) 2 e 3, apenas.
- E) 1, 2 e 3.

**23.** Acerca das características do programa Adobe Photoshop CS5, analise as seguintes afirmativas:

1. O tamanho de arquivo de uma imagem corresponde ao tamanho digital do arquivo de imagem. Sendo assim, o tamanho do arquivo é medido em pixels.
2. Gráficos vetoriais são compostos por objetos que descrevem uma imagem de acordo com suas características geométricas.
3. É possível combinar imagens bitmap e gráficos vetoriais em um mesmo documento.

Está(ão) correta(s):

- A) 2, apenas.
- B) 1 e 2, apenas.
- C) 1 e 3, apenas.
- D) 2 e 3, apenas.
- E) 1, 2 e 3.

**24.** Acerca dos recursos de filtro do programa Adobe Photoshop CS5, analise as seguintes afirmativas:

1. Filtros podem ser utilizados para limpar ou retocar fotos, aplicar efeitos artísticos especiais, etc.
2. Filtros não podem ser aplicados a imagens no modo Bitmap.
3. Filtros funcionam somente em imagens RGB.

Está(ão) correta(s):

- A) 1, apenas.
- B) 1 e 2, apenas.
- C) 1 e 3, apenas.
- D) 2 e 3, apenas.
- E) 1, 2 e 3.

**25.** Acerca dos recursos de camadas do programa Adobe Photoshop CS5, analise as seguintes afirmativas:

1. As áreas transparentes de uma camada permitem a visualização das camadas de baixo.
2. Não há como duplicar uma camada definida em uma imagem.
3. Por padrão, ferramentas como a Borrar tem seu efeito em todas as camadas de um documento, independente de qual estiver ativa.

Está(ão) incorreta(s):

- A) 1, apenas.
- B) 1 e 2, apenas.
- C) 1 e 3, apenas.
- D) 2 e 3, apenas.
- E) 1, 2 e 3.

RASCUNHO



**TEXTO 1**



**26.** Em relação às ideias veiculadas no texto, é adequado afirmar que:

- A) o consumismo deve ser mantido, pois é de grande valia para a relação entre pais e filhos.
- B) o consumismo é enaltecido no texto por meio da comparação com o Natal.
- C) alguns valores materiais devem ser substituídos por valores espirituais.
- D) o lado espiritual do Natal é bastante enaltecido pelo consumismo.
- E) é importante ser consumista no período natalino.

**27.** O termo “ênfatizar” poderia ser substituído sem causar prejuízo textual em:

- A) desconsiderar
- B) amenizar
- C) respeitar
- D) atenuar
- E) salientar

**28.** Quanto à tipologia e ao propósito textual, pode-se afirmar que é:

- A) descritivo, porque descreve um fato.
- B) narrativo, porque descreve um fato.
- C) injuntivo, pois conduz à ação
- D) argumentativo, porque apresenta um ponto de vista.
- E) expositivo, pois explica o que é consumismo.

**29.** O termo que se enquadra na mesma justificativa de tênis, quanto à tonicidade, é:

- A) ênfatizar
- B) acabar
- C) Natal
- D) consumismo
- E) espiritual

**30.** A justificativa utilizada para grafar a palavra ênfatizar com |Z| é:

- A) um substantivo com sufixo grego izar.
- B) um termo derivado de outro grafado com |Z|
- C) um verbo formado pelo sufixo izar.
- D) um substantivo abstrato formado a partir do sufixo ez.
- E) um verbo derivado de um adjetivo terminado em osa.

**31.** Em “ênfatizar o lado espiritual do Natal”, o termo destacado apresenta valor semântico de:

- A) adição
- B) explicação
- C) alternância
- D) conclusão
- E) oposição.

**32.** A flexão do verbo dançar é justificada adequadamente em:

- A) acompanha a flexão adotada pelo verbo acabar
- B) tem como referência a flexão do verbo ter
- C) é flexionado por conta do sujeito os meus tênis na 3ª pessoa do plural.
- D) acompanha a flexão adotada pelo verbo ênfatizar.
- E) é um sujeito indeterminado, logo é flexionado na 3ª pessoa do plural.

**TEXTO 2**



**33.** O texto 2 tem como propósito:

- A) fazer apologia à amizade.
- B) informar que o sal faz mal à saúde.
- C) despertar o interesse pelo tema hipertensão.
- D) instruir a respeito dos malefícios do sal.
- E) promover ações que garantam a prática da saúde.

**34.** O significado contextual presente em seu amigo do peito é uma referência:

- A) ao sal
- B) à saúde
- C) ao coração
- D) aos hipertensos
- E) à pressão.

**35.** De acordo com a ortografia oficial, o termo hipertenso é grafado com l porque:

- A) é uma palavra derivada de primitiva com l.
- B) é uma paroxítona terminada em l.
- C) apresenta o prefixo hiper
- D) depois da consoante n, grafa-se com l.
- E) é um substantivo, por isso tem que ser grafado com l.

**36.** No texto, a vírgula é utilizada para:

- A) separar constituintes sintáticos idênticos.
- B) indicar o elipse de um termo.
- C) isolar o vocativo.
- D) indicar um adjunto adverbial deslocado.
- E) isolar o oposto.

**37.** Os verbos tratar, evitar e praticar estão flexionados.

- A) no modo indicativo, na 2ª pessoa do singular
- B) no modo imperativo, na 2ª pessoa no plural.
- C) no modo subjuntivo, na 2ª pessoa do singular
- D) no modo imperativo, na 3ª pessoa do singular.
- E) no modo indicativo, na 2ª pessoa do plural.

**38.** “Trate bem seu amigo do peito”, o termo em destaque tem função:

- A) adjetiva
- B) adverbial
- C) substantiva
- D) conjuntiva
- E) prepositiva

**TEXTO 3**

**VILA BRASILÂNDIA SE VÊ NO CINEMA**

**Projeção de “Antônia”, longa sobre cantoras da periferia, reúne moradores do bairro e circo de “celebridades”.**

Cariello, Rafael. Folha de S. Paulo, 13 jan. 2007.p.E3.

**39.** No título, os termos Brasilândia e vê são acentuados porque se classificam, respectivamente, como:

- A) paroxítona terminada em a e oxítona terminada em e.
- B) paroxítona terminada em hiato e oxítona terminada em e.
- C) paroxítona terminada em ditongo e monossílabo átono terminado em e.
- D) oxítona terminada em ditongo e monossílabo tônico terminado em e.
- E) paroxítona terminada em ditongo e monossílabo tônico terminado em e.

**40.** Nas construções, “cantoras da periferia, moradores do bairro e circo de celebridades”, as estruturas destacadas têm função de:

- A) objeto indireto.
- B) adjunto adnominal
- C) complemento nominal
- D) agente da passiva
- E) adjunto adverbial.

RASCUNHO