

1. Sobre a depreciação, é **incorreto** afirmar que:

- A) é considerada como um reconhecimento da deterioração física, de um ativo imobilizado tangível.
- B) para efeitos fiscais, a taxa de depreciação é determinada tomando-se como base o prazo de vida útil determinado para cada espécie de bem.
- C) para se proceder à depreciação de um bem, deve-se considerar somente o tempo de vida útil do mesmo.
- D) as depreciações são permitidas a partir do momento em que o bem for colocado em uso.
- E) no caso de bens móveis, as taxas normais de depreciação poderão ser majoradas em função do número de horas diárias de operação.

2. Todas as alternativas abaixo são exemplos de bens depreciáveis, **exceto**:

- A) os sistemas aplicativos (software).
- B) as instalações.
- C) as máquinas e os equipamentos.
- D) os móveis e os utensílios.
- E) os veículos.

3. É **correto** afirmar que:

- A) a vida útil é o período de tempo após compra e o registro de um ativo.
- B) o ativo imobilizado é o item tangível que é mantido para uso na produção ou fornecimento de mercadorias ou serviços, mas não para aluguel.
- C) o ativo imobilizado é o item tangível que é mantido para uso na produção ou fornecimento de mercadorias ou serviços, mas não para fins administrativos.
- D) a vida útil econômica de um bem do ativo imobilizado é definida em termos do benefício econômico que a empresa espera obter da utilização desse ativo.
- E) o terreno, normalmente, tem uma vida limitada, portanto, é depreciado.

4. Sempre que for preciso consertar uma máquina é necessário comparar o desembolso exigido para seu reparo em relação ao que seria necessário para substituí-la e os benefícios dessa substituição.

A partir da assertiva, é **correto** afirmar:

- A) os benefícios financeiros do reparo e da substituição devem ser comparados e então adotado o que trouxer melhor retorno para a empresa.
- B) a decisão de substituição é unicamente do operador.
- C) máquinas que precisam de reparos devem ser substituídas sempre.
- D) uma máquina deve ser substituída somente quando todo o seu valor tiver sido depreciado.
- E) o valor do reparo de uma máquina não deve exceder a um terço do valor de uma nova aquisição.

5. É **incorreto** afirmar que:

- A) bens tangíveis, corpóreos, concretos ou materiais – têm existência física, existem como coisa ou objeto.
- B) bens intangíveis, incorpóreos, abstratos ou imateriais – não possuem existência física, porém representam uma aplicação de capital indispensável aos objetivos da empresa.
- C) direitos sobre marcas, patentes, direitos autorais e ponto comercial são exemplos de bens intangíveis.
- D) a política de manutenção e reparos da empresa pode afetar a vida útil do ativo, resultando num prolongamento da mesma ou num aumento no valor de resgate.
- E) os bens patrimoniais são adquiridos todos de uma vez.

6. Com relação aos bens patrimoniais, é **correto** afirmar que:

- A) são todos aqueles destinados à venda de produtos e serviços da Instituição.
- B) são considerados apenas os móveis e intangíveis da instituição.
- C) os bens patrimoniais móveis são todos os bens que por sua própria natureza, características de duração e valor, devam ser controlados fisicamente e incorporados ao patrimônio da Instituição.
- D) são exemplos de bens permanentes os equipamentos, livros e canetas.
- E) os bens patrimoniais móveis estão divididos em permanente e imóvel.

7. Em um processo de aquisição de um bem patrimonial, deve-se observar, **exceto**:

- A) proposta de preço e demais condições de fornecimento.
- B) recondução.
- C) condições de pagamento.
- D) garantia.
- E) manutenção e serviços pós-venda

8. Na alienação de um bem do ativo imobilizado **deve ser baixado**, na escrituração contábil:

- A) a depreciação.
- B) a unidade monetária.
- C) o custo de aquisição.
- D) as reavaliações.
- E) a amortização.

9. Sobre a codificação dos materiais, é incorreto afirmar que:

- A) é uma fase da classificação dos materiais.
- B) consiste em atribuir uma série de números ou letras para cada material.
- C) as características de cada material são representadas exclusivamente por um símbolo alfanumérico.
- D) o sistema numérico atribui uma composição lógica de números para identificar cada material.
- E) o sistema alfanumérico mescla números e letras para representar cada material.

10. Com relação à manutenção de ativos imobilizados é incorreto afirmar:

- A) Uma boa manutenção prolonga a vida útil de um bem.
- B) A manutenção preventiva pode ser implementada por meio de softwares ou dos manuais dos fabricantes.
- C) É importante manter histórico do ativo, como horas de uso, causas de quebras e custos.
- D) um programa de manutenção bem elaborado otimiza a utilização dos ativos e reduz paralisações e receitas.
- E) quanto mais se gastar com a manutenção preventiva, menos se gastará com a corretiva.

11. São exemplos de itens que devem ser verificados na manutenção dos prédios administrativos, exceto:

- A) elevadores e iluminação de emergência.
- B) ar condicionado e empilhadeiras.
- C) mangueiras e hidrantes.
- D) exaustores e instalações sanitárias.
- E) escadas rolantes e encanamentos.

12. São razões para informatizar o gerenciamento da manutenção, exceto:

- A) aumentar os estoques de peças de reposição e materiais.
- B) melhorar a qualidade da manutenção, aumentando a vida útil dos equipamentos.
- C) racionalizar e padronizar os procedimentos no planejamento da manutenção.
- D) obter histórico atualizado de máquinas e equipamentos, com registros técnico e econômico.
- E) detectar falhas repetitivas nos equipamentos.

13. Uma ocorrência de falha dos equipamentos fabris pode promover:

- A) perdas significativas no tempo de fabricação dos produtos.
- B) diminuição dos estoques de matéria-prima.
- C) perdas na qualidade dos produtos.
- D) diminuição do desempenho do equipamento, ocasionando a redução da qualidade e da produtividade.
- E) aumento do custo do controle de qualidade.

14. Um bem não pode ser incorporado ao patrimônio da instituição, caso tenha sido:

- A) comprado.
- B) doado.
- C) permutado.
- D) alugado.
- E) decorrente de cessão de uso.

15. Os ativos não podem ser baixados do ativo imobilizado em decorrência de:

- A) perecimento.
- B) extinção.
- C) desgaste.
- D) obsolescência.
- E) ampliação.

16. O desempenho da gestão do imobilizado pode ser avaliado pelo:

- A) retorno sobre o patrimônio líquido.
- B) giro do ativo.
- C) giro do imobilizado.
- D) retorno dos ativos.
- E) giro do estoque.

17. São exemplos de recursos patrimoniais, exceto:

- A) prédios e edifícios.
- B) fábricas e instalações.
- C) máquinas e equipamentos.
- D) edifícios e ferramentas.
- E) perfurações e jazigo.

18. Os bens como equipamentos e instalações, se desgastam com o uso, necessitando cada vez mais de manutenção. Assim, não é mais interessante manter o bem, quando ele atingiu:

- A) a vida econômica.
- B) a vida financeira.
- C) dois terços de sua vida útil.
- D) a vida útil.
- E) a maturidade.

**19.** Sobre a manutenção de immobilizados é incorreto afirmar que:

- A) a falta de manutenção em instalações elétrica em edifícios ocasiona curto-circuito, sobrecargas e incêndios.
- B) a manutenção reativa evita danos futuros às instalações.
- C) custa mais caro consertar do que manter.
- D) os serviços de inspeção e vistorias programados pela manutenção preventiva devem ser realizados independentemente de um defeito já estar aparente.
- E) um modo de otimizar a manutenção é levantar as instalações que existe nos prédios em geral e com seus detalhes.

**20.** Os recursos patrimoniais que “podem ser movimentados, deslocados de posição sem que percam sua constituição física”, são os:

- A) imutáveis.
- B) semoventes.
- C) imóveis.
- D) móveis.
- E) inoperantes.


**21.** Acerca do sistema de busca do sistema operacional Microsoft Windows 7, analise as seguintes afirmativas:

- 1. Ao começar a digitar na caixa de pesquisa do menu Iniciar, automaticamente já será iniciada a busca.
- 2. Resultados das buscas podem conter palavras realçadas de acordo com a busca realizada.
- 3. É possível filtrar o resultado das buscas por critérios como data e tipo de arquivo.


Está(ão) correta(s):

- A) 1, apenas.
- B) 1 e 2, apenas.
- C) 1 e 3, apenas.
- D) 2 e 3, apenas.
- E) 1, 2 e 3.

**22.** A figura a seguir apresenta opções do grupo **Zoom** da guia **Exibição**, disponibilizada no programa Microsoft Word 2010:




Analise as afirmativas a seguir acerca das opções apresentadas pela figura:

- 1. A opção **Uma Página** é utilizada para que possamos visualizar uma página por completo na janela do Word.
- 2. Podemos ajustar a visualização de um documento através da opção , propiciando um zoom automático, de forma que o texto de uma linha do documento fique completamente visível, porém as margens do documento não, maximizando assim a visualização do texto.
- 3. A opção **100%** é utilizada para alterar o zoom do documento para 100% do tamanho original.


Está(ão) correta(s):

- A) 1, apenas.
- B) 1 e 2, apenas.
- C) 1 e 3, apenas.
- D) 2 e 3, apenas.
- E) 1, 2 e 3.

**23.** A figura a seguir apresenta opções do grupo **Ilustrações** da guia **Inserir**, disponibilizada no programa Microsoft Word 2010:



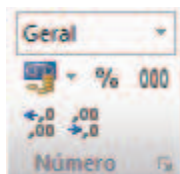
Analise as afirmativas a seguir acerca das opções apresentadas pela figura:

- 1. A opção **Instantâneo** é utilizada para inserir imagens capturadas por uma câmera fotográfica ou scanner.
- 2. Para inserir símbolos de fluxogramas, fazemos uso da opção .
- 3. O **Clip-Art** dá acesso a um catálogo de fotos, desenhos, filmes e sons que podem ser inseridos no documento.



Está(ão) incorreta(s):

- A) 1, apenas.
- B) 1 e 2, apenas.
- C) 1 e 3, apenas.
- D) 2 e 3, apenas.
- E) 1, 2 e 3.

24. A figura abaixo apresenta opções disponíveis no grupo Número do programa Microsoft Excel 2010.



Acerca dessa figura, analise as seguintes afirmativas:

1. **Geral** é uma das opções de formatos de número disponível.
2. Aplicar a opção % a uma célula faz com que seu valor seja exibido como percentual.
3. Os comandos para alinhamento do número são representados por  e por .

Está(ão) **correta(s)**:

- A) 1, apenas.
- B) 1 e 2, apenas.
- C) 1 e 3, apenas.
- D) 2 e 3, apenas.
- E) 1, 2 e 3.

25. Acerca das funções disponíveis no programa Microsoft Excel 2010, analise as seguintes afirmativas:

1. Ao colocar o valor de uma célula como igual a =MAIÚSCULA("prova"), o resultado apresentado para seu valor é o texto PROVA, em maiúsculo.
2. A função DESC retorna os dados de uma coluna organizados de forma decrescente.
3. A função EXATO é utilizada para arredondar números com casas decimais.

Está(ão) **incorreta(s)**:

- A) 2, apenas.
- B) 1 e 2, apenas.
- C) 1 e 3, apenas.
- D) 2 e 3, apenas.
- E) 1, 2 e 3.

RAASCUNHO

**TEXTO 1**



**26.** Em relação às ideias veiculadas no texto, é adequado afirmar que:

- A) o consumismo deve ser mantido, pois é de grande valia para a relação entre pais e filhos.
- B) o consumismo é enaltecido no texto por meio da comparação com o Natal.
- C) alguns valores materiais devem ser substituídos por valores espirituais.
- D) o lado espiritual do Natal é bastante enaltecido pelo consumismo.
- E) é importante ser consumista no período natalino.

**27.** O termo “ênfatizar” poderia ser substituído sem causar prejuízo textual em:

- A) desconsiderar
- B) amenizar
- C) respeitar
- D) atenuar
- E) salientar

**28.** Quanto à tipologia e ao propósito textual, pode-se afirmar que é:

- A) descritivo, porque descreve um fato.
- B) narrativo, porque descreve um fato.
- C) injuntivo, pois conduz à ação
- D) argumentativo, porque apresenta um ponto de vista.
- E) expositivo, pois explica o que é consumismo.

**29.** O termo que se enquadra na mesma justificativa de tênis, quanto à tonicidade, é:

- A) ênfatizar
- B) acabar
- C) Natal
- D) consumismo
- E) espiritual

**30.** A justificativa utilizada para grafar a palavra ênfatizar com |Z| é:

- A) um substantivo com sufixo grego izar.
- B) um termo derivado de outro grafado com |Z|
- C) um verbo formado pelo sufixo izar.
- D) um substantivo abstrato formado a partir do sufixo ez.
- E) um verbo derivado de um adjetivo terminado em osa.

**31.** Em “ênfatizar o lado espiritual do Natal”, o termo destacado apresenta valor semântico de:

- A) adição
- B) explicação
- C) alternância
- D) conclusão
- E) oposição.

**32.** A flexão do verbo dançar é justificada adequadamente em:

- A) acompanha a flexão adotada pelo verbo acabar
- B) tem como referência a flexão do verbo ter
- C) é flexionado por conta do sujeito os meus tênis na 3ª pessoa do plural.
- D) acompanha a flexão adotada pelo verbo ênfatizar.
- E) é um sujeito indeterminado, logo é flexionado na 3ª pessoa do plural.

**TEXTO 2**



**33.** O texto 2 tem como propósito:

- A) fazer apologia à amizade.
- B) informar que o sal faz mal à saúde.
- C) despertar o interesse pelo tema hipertensão.
- D) instruir a respeito dos malefícios do sal.
- E) promover ações que garantam a prática da saúde.

**34.** O significado contextual presente em seu amigo do peito é uma referência:

- A) ao sal
- B) à saúde
- C) ao coração
- D) aos hipertensos
- E) à pressão.

**35.** De acordo com a ortografia oficial, o termo hipertenso é grafado com l porque:

- A) é uma palavra derivada de primitiva com l.
- B) é uma paroxítona terminada em o.
- C) apresenta o prefixo hiper
- D) depois da consoante n, grafa-se com s.
- E) é um substantivo, por isso tem que ser grafado com s.

**36.** No texto, a vírgula é utilizada para:

- A) separar constituintes sintáticos idênticos.
- B) indicar o elipse de um termo.
- C) isolar o vocativo.
- D) indicar um adjunto adverbial deslocado.
- E) isolar o oposto.

**37.** Os verbos tratar, evitar e praticar estão flexionados.

- A) no modo indicativo, na 2ª pessoa do singular
- B) no modo imperativo, na 2ª pessoa no plural.
- C) no modo subjuntivo, na 2ª pessoa do singular
- D) no modo imperativo, na 3ª pessoa do singular.
- E) no modo indicativo, na 2ª pessoa do plural.

**38.** “Trate bem seu amigo do peito”, o termo em destaque tem função:

- A) adjetiva
- B) adverbial
- C) substantiva
- D) conjuntiva
- E) prepositiva

**TEXTO 3**

**VILA BRASILÂNDIA SE VÊ NO CINEMA**

**Projeção de “Antônia”, longa sobre cantoras da periferia, reúne moradores do bairro e circo de “celebridades”.**

Cariello, Rafael. Folha de S. Paulo, 13 jan. 2007.p.E3.

**39.** No título, os termos Brasilândia e vê são acentuados porque se classificam, respectivamente, como:

- A) paroxítona terminada em a e oxítona terminada em e.
- B) paroxítona terminada em hiato e oxítona terminada em e
- C) paroxítona terminada em ditongo e monossílabo átono terminado em e.
- D) oxítona terminada em ditongo e monossílabo tônico terminado em e.
- E) paroxítona terminada em ditongo e monossílabo tônico terminado em e.

**40.** Nas construções, “cantoras da periferia, moradores do bairro e circo de celebridades”, as estruturas destacadas têm função de:

- A) objeto indireto.
- B) adjunto adnominal
- C) complemento nominal
- D) agente da passiva
- E) adjunto adverbial.

RASCUNHO