

### **INSTRUÇÕES**

- 01 - Material a ser utilizado: caneta esferográfica azul ou preta. Os objetos restantes devem ser colocados em local indicado pelo fiscal da sala, inclusive aparelho celular desligado e devidamente identificado com etiqueta.
- 02 - Não é permitido consulta, utilização de livros, códigos, dicionários, apontamentos, apostilas, calculadoras e etc. Não é permitido ao candidato ingressar na sala de provas sem a respectiva identificação e o devido recolhimento de telefone celular, bip e outros aparelhos eletrônicos.
- 03 - Durante a prova, o candidato não deve levantar-se, comunicar-se com outros candidatos e nem fumar.
- 04 - A duração da prova é de 03 (três) horas, já incluindo o tempo destinado à entrega do Caderno de Provas e à identificação – que será feita no decorrer da prova.
- 05 - Somente em caso de urgência pedir ao fiscal para ir ao sanitário, devendo no percurso permanecer absolutamente calado, podendo antes e depois da entrada sofrer revista através de detector de metais. Ao sair da sala no término da prova, o candidato não poderá utilizar o sanitário. Caso ocorra uma emergência, o fiscal deverá ser comunicado.
- 06 - O Caderno de Provas consta de 40 (quarenta) questões de múltipla escolha.
- 07 - As questões das provas objetivas são do tipo múltipla escolha, com 05 (cinco) opções (A a E) e uma única resposta correta.**
- 08 - Ao terminar a conferência do Caderno de Provas, caso o mesmo esteja incompleto ou tenha qualquer defeito, o candidato deverá solicitar ao fiscal de sala que o substitua, não cabendo reclamações posteriores neste sentido.
- 09 - O fiscal de sala procederá à leitura dos enunciados das questões e das alternativas de respostas, devendo o candidato marcar no Caderno de Provas a alternativa que considerar correta.**
- 10 - O candidato poderá retirar-se do local de provas somente a partir dos 90 (noventa) minutos após o início de sua realização, contudo não poderá levar consigo o Caderno de Provas, posto que este será o único meio para correção e aferição do aproveitamento dos candidatos.
- 11 - Os 3 (três) últimos candidatos de cada sala somente poderão sair juntos. Caso o candidato insista em sair do local de aplicação da prova, deverá assinar um termo desistindo do Concurso Público e, caso se negue, deverá ser lavrado o Termo de Ocorrência, testemunhado pelos 2 (dois) outros candidatos, pelo fiscal da sala e pelo coordenador da unidade escolar.

### **RESULTADOS E RECURSOS**

- Os gabaritos oficiais preliminares das provas objetivas serão divulgados na Internet, no *site* [www.consulplan.net](http://www.consulplan.net), a partir da 00h00min do dia subsequente ao da realização das provas.
- Os recursos deverão ser apresentados, conforme determinado no **item 8 do Edital de Concurso Público nº. 001/2011**, sendo observados os seguintes aspectos:
  - a) O candidato que desejar interpor recursos contra os gabaritos oficiais preliminares das provas objetivas disporá de **02 (dois) dias úteis**, a partir da divulgação, devendo utilizar requerimento próprio disponibilizado no *link* correlato ao Concurso Público no *site* [www.consulplan.net](http://www.consulplan.net).
  - b) A interposição de recursos poderá ser feita **somente via Internet**, através do **Sistema Eletrônico de Interposição de Recursos**, com acesso pelo candidato ao fornecer os dados referentes à sua inscrição, apenas no prazo recursal, à **Consulplan**, conforme disposições contidas no *site* [www.consulplan.net](http://www.consulplan.net), no *link* correspondente ao Concurso Público.

**CARGO: GARI****Meio ambiente e lixo**

Um dos grandes problemas ambientais da atualidade é o lixo. O homem colocando o lixo para o lixeiro, ou jogando-o em terrenos baldios, resolve o seu problema individual não se dando conta que as áreas de depósito de lixo das cidades estão cada vez mais escassas e que o lixo jogado nos terrenos baldios favorece o desenvolvimento de insetos e ratos transmissores de doenças. *(Habilidades Básicas, Fragmento)*

**01) O problema ambiental citado no texto é:**

- A) Inseto.
- B) Terreno baldio.
- C) Homem.
- D) Lixo.
- E) Cidade.

**02) De acordo com o texto, o lixo jogado nos terrenos baldios favorece:**

- A) O lixeiro.
- B) Um problema ambiental.
- C) O desenvolvimento de ratos e insetos transmissores de doenças.
- D) Os terrenos baldios.
- E) Os depósitos de lixo.

**03) Para resolver o seu problema individual, o homem:**

- A) Coloca o lixo para o lixeiro.
- B) Limpa os terrenos baldios.
- C) Aumenta o lixo nas cidades.
- D) Acaba com os ratos e insetos.
- E) Nenhuma das alternativas anteriores.

**04) A palavra “baldios” significa:**

- A) Estreitos.
- B) Diferentes.
- C) Diversos.
- D) Inúteis.
- E) Sujos.

**05) Assinale a única palavra que se apresenta no diminutivo:**

- A) Depósito.
- B) Probleminha.
- C) Doenças.
- D) Atualidade.
- E) Lixeiro.

**06) Em “Um dos grandes problemas ambientais da atualidade é o lixo.” o sinal de pontuação utilizado foi:**

- A) Ponto de exclamação.
- B) Ponto e vírgula.
- C) Ponto final.
- D) Ponto de interrogação.
- E) Reticências.

**07) O antônimo da palavra “mais” é:**

- A) Menos.
- B) Bastante.
- C) Demais
- D) Pouco.
- E) Muito.

08) Assinale a única palavra no masculino:

- A) Doença.
- B) Atualidade.
- C) Lixo.
- D) Área.
- E) Cidade.

09) Assinale a palavra escrita de forma INCORRETA:

- A) Terreno.
- B) Vez.
- C) Grande.
- D) Baldio.
- E) Escasa.

10) Assinale a única palavra no feminino:

- A) Terreno.
- B) Cidade.
- C) Inseto.
- D) Rato.
- E) Problema.

### MATEMÁTICA

11) Uma padaria produz diariamente 200 pães. Quantos pães essa padaria produz em 3 dias?

- A) 600
- B) 400
- C) 300
- D) 500
- E) 700

12) Quantos centímetros tem a metade de um metro?

- A) 50cm
- B) 100cm
- C) 20cm
- D) 80cm
- E) 25cm

13) Paulo comprou uma bicicleta por R\$150,00 e vai pagá-la em duas prestações iguais. Qual é o valor de cada prestação?

- A) R\$35,00
- B) R\$65,00
- C) R\$92,00
- D) R\$70,00
- E) R\$75,00

14) Observe a figura apresentada e assinale a alternativa correta:

- A) Pirâmide.
- B) Paralelepípedo.
- C) Cubo.
- D) Esfera.
- E) Cilindro.



15) Quantas moedas de 25 centavos são necessárias para se obter um real?

- A) 100
- B) 10
- C) 5
- D) 4
- E) 2

16) Maria comprou 5 cadernos e gastou R\$35,00. Quanto custou cada caderno?

- A) R\$5,00
- B) R\$7,00
- C) R\$10,00
- D) R\$6,00
- E) R\$9,00

17) Na sala de Mariana há 40 alunos. Quanto representa a metade do total de alunos dessa sala?

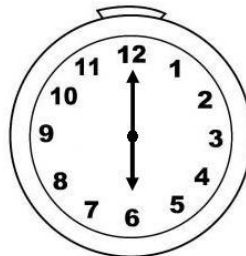
- A) 20
- B) 15
- C) 25
- D) 30
- E) 10

18) Quantos copos com capacidade de 250ml são necessários para encher 1 litro?

- A) 3
- B) 2
- C) 8
- D) 4
- E) 5

19) O relógio ao lado está marcando:

- A) 5 horas.
- B) 6 horas.
- C) 7 horas.
- D) 8 horas.
- E) 9 horas.



20) Pedro leu 40 páginas de um livro ontem e 35 páginas hoje. Quantas páginas do livro Pedro já leu?

- A) 80
- B) 75
- C) 60
- D) 65
- E) 85

### **CONHECIMENTOS GERAIS**

21) “Dilma Rousseff é uma economista e política brasileira, filiada ao Partido dos Trabalhadores, e a atual \_\_\_\_\_.” Assinale a alternativa que completa corretamente a afirmativa anterior:

- A) Chefe da Casa Civil
- B) Presidente do Brasil
- C) Chefe do Ministério de Minas e Energia
- D) Governadora do Espírito Santo
- E) Senadora do Congresso Nacional

22) *“Essa energia é uma fonte limpa gerada pela radiação solar.”* Trata-se de:

- A) Energia fóssil.
- B) Energia solar.
- C) Energia nuclear.
- D) Energia hidráulica.
- E) Energia eólica.

23) **É a capital do estado do Espírito Santo:**

- A) Rio de Janeiro.
- B) Vitória.
- C) São Paulo.
- D) Belo Horizonte.
- E) Goiânia.

24) **O estado do Espírito Santo está localizado na seguinte região brasileira:**

- A) Sudeste.
- B) Norte.
- C) Centro-Oeste.
- D) Nordeste.
- E) Sul.

25) **NÃO é uma praia do município de Guarapari:**

- A) Praia das Virtudes.
- B) Praia de Muquiçaba.
- C) Praia do Morro.
- D) Praia da Baleia.
- E) Praia dos Namorados.

26) **A Copa do Mundo de Futebol, em 2014, acontecerá no seguinte país:**

- A) Argentina.
- B) Estados Unidos.
- C) Brasil.
- D) África do Sul.
- E) Alemanha.

27) *“Foi um dos mais influentes escritores brasileiros do século XX. A maioria das histórias de seus livros infantis se passavam no Sítio do Picapau Amarelo.”* Trata-se de:

- A) Mário de Andrade.
- B) Monteiro Lobato.
- C) Cecília Meireles.
- D) Maria Clara Machado.
- E) Ziraldo.

28) **Sobre o desenvolvimento sustentável, marque o INCORRETO:**

- A) Não esgota os recursos para o futuro.
- B) Sugere o aumento da reciclagem.
- C) Depende de planejamento e reconhecimento de que os recursos naturais são finitos.
- D) Incorpora os aspectos de desenvolvimento ambiental.
- E) Agride o meio ambiente, prejudicando o futuro.

29) **Assinale a seguir, o nome do governador do estado do Espírito Santo:**

- A) Sérgio Cabral Filho.
- B) Renato Casagrande.
- C) Geraldo Alckmin.
- D) Antônio Anastasia.
- E) André Puccinelli.

30) O PMDB é o maior partido político brasileiro, possuindo o maior número de filiados. Tal sigla significa:

- A) Partido dos Trabalhadores.
- B) Partido Socialista Brasileiro.
- C) Partido Trabalhista Brasileiro.
- D) Partido do Movimento Democrático Brasileiro.
- E) Movimento Democrático Brasileiro.

### **CONHECIMENTOS ESPECÍFICOS**

31) “Profissional da limpeza que recolhe o lixo das residências, varre as ruas, praças e parques.” Trata-se de:

A)



Auxiliar de Secretaria.

B)



Motorista.

C)



Fotógrafo.

D)



Gari.

E)



Tratorista.






32) Sobre os recipientes de coleta de lixo, marque o INCORRETO:

- A) Deve ser de plástico.
- B) Pode ser de latão sem beiradas cortantes.
- C) Deve ser bastante pesado e de ferro para evitar roubo.
- D) Deve ter tamanho ideal de acordo com o número de moradores da região.
- E) Deve ser tampado.






33) Sobre o serviço do Gari, assinale a alternativa INCORRETA:

- A) Trabalha na lavagem de ruas e feiras livres.
- B) Limpa os ralos e canaletas das ruas.
- C) Realiza trabalho de conservação e limpeza de estradas e caminhos.
- D) Realiza a varrição de ruas.
- E) Auxilia em serviços de mecânica em geral.

34) Para realizar a limpeza de parques, jardins, ruas e praças, o Gari deverá utilizar:

- A)  Vassoura.
- B)  Esquadro.
- C)  Serrote.
- D)  Pincel.
- E)  Arco de Serra.

35) Assinale a seguir um equipamento correto utilizado pelo Gari:

- A)  Goiva.
- B)  Rolo.
- C)  Pá de lixo.
- D)  Grosa.
- E)  Desempenadeira.

36) NÃO é uma característica correta para um Gari:

- A) Agilidade.
- B) Organização.
- C) Preguiça.
- D) Disposição.
- E) Responsabilidade.

37) A seguir estão relacionadas algumas atividades do Gari. Assinale a alternativa correta:

- A) Percorrer um caminho, recolhendo o lixo jogado.
- B) Varrer ruas.
- C) Recolher objetos jogados.
- D) Varrer praças.
- E) Todas as alternativas anteriores estão corretas.

38) Assinale a seguir um equipamento correto de segurança utilizado pelo Gari:



39) Para ter um bom relacionamento no trabalho, o Gari deverá:

- A) Evitar fazer brincadeiras maldosas.
- B) Ajudar os outros.
- C) Tratar os colegas de trabalho bem.
- D) Respeitar a todos.
- E) Todas as alternativas anteriores estão corretas.

40) NÃO é função do Gari:

- A) Varredura manual das ruas.
- B) Coleta de lixo domiciliar.
- C) Realização de capina.
- D) Preparo de argamassa e concreto.
- E) Limpeza das praias.