

NÍVEL ALFABETIZADO

Nome do Candidato: _____

Nº de Inscrição: _____

Assinatura

INSTRUÇÕES AO CANDIDATO


- 1. Confira se a prova que você recebeu corresponde ao cargo de escolaridade ao qual você está inscrito, conforme consta no seu cartão de inscrição e cartão-resposta. Caso contrário comunique imediatamente ao fiscal de sala.**
2. Confira se, além deste BOLETIM DE QUESTÕES, você recebeu o CARTÃO-RESPOSTA, destinado à marcação das respostas das questões objetivas.
3. Este BOLETIM DE QUESTÕES contém 20 (vinte) questões objetivas, sendo 10 de Língua Portuguesa, 10 de Matemática. Caso exista alguma falha de impressão, comunique imediatamente ao fiscal de sala. Na prova há espaço reservado para rascunho. Esta prova terá duração de 04 (quatro) horas, tendo seu início às 8:00h e término às 12:00h (horário local).
4. Cada questão objetiva apresenta 04 (quatro) opções de resposta, identificadas com as letras (A), (B), (C) e (D). Apenas uma responde adequadamente à questão, considerando a numeração de 01 a 20.
5. Confira se seu nome, número de inscrição, cargo de opção e data de nascimento, consta na parte superior do CARTÃO-RESPOSTA que você recebeu. Caso exista algum erro de impressão, comunique imediatamente ao fiscal de sala, a fim de que o fiscal registre na Ata de Sala a devida correção.
6. É obrigatório que você assine a LISTA DE PRESENÇA e o CARTÃO-RESPOSTA do mesmo modo como está assinado no seu documento de identificação.
7. A marcação do CARTÃO-RESPOSTA deve ser feita somente com caneta esferográfica de tinta preta ou azul, pois lápis não será considerado.
8. A maneira correta de marcar as respostas no CARTÃO-RESPOSTA é cobrir totalmente o espaço correspondente à letra a ser assinalada, conforme o exemplo constante no CARTÃO-RESPOSTA.
9. Em hipótese alguma haverá substituição do CARTÃO-RESPOSTA por erro do candidato. A substituição só será autorizada se for constatada falha de impressão.
10. O CARTÃO-RESPOSTA é o único documento válido para o processamento de suas respostas.
11. O candidato deverá permanecer, obrigatoriamente, na sala de realização da prova por, no mínimo, uma hora após o início da prova. A inobservância acarretará a eliminação do concurso.
12. O candidato deverá devolver no final da prova, o BOLETIM DE QUESTÕES e o CARTÃO-RESPOSTA, recebidos.
13. Será automaticamente eliminado do Concurso Público da Prefeitura Municipal de Juruti, o candidato que durante a realização da prova descumprir os procedimentos definidos no Edital nº 001/2010-PMJ.

Texto 1

A inspetora da escola estava visitando todas as turmas quando o Juquinha levou um tombo no corredor e berrou todos os palavrões que conhecia. Escandalizada, a inspetora perguntou:

- Onde essa criança aprendeu tanto palavrão?
E a professora, muito sem graça:
— Aprendeu nada! Isso é dom natural.

(*Mais anedotinhas do Bichinho da Maçã*. 10ª ed. São Paulo: Melhoramentos, 1993. p. 10-11.)



CEREJA, William Roberto; MAGALHÃES, Thereza Cochar. *Gramática: texto, reflexão e uso*. São Paulo: Atual, 1998, p. 222.

COM BASE NO TEXTO 1, ASSINALE A ÚNICA ALTERNATIVA QUE COMPLETA CORRETAMENTE AS QUESTÕES DE 01 A 08.

01. O texto que você leu é uma

- (A) piada.
- (B) receita.
- (C) publicidade.
- (D) história em quadrinhos.

02. O personagem Juquinha

- (A) caiu no corredor.
- (B) brigou com a professora.
- (C) foi repreendido pela inspetora.
- (D) visitou as outras turmas da escola.

03. A inspetora ficou escandalizada porque Juquinha

- (A) brigou com a professora.
- (B) disse muitas palavras feias.
- (C) estava correndo na sala de aula.
- (D) aprendeu com a professora a dizer palavrões.

04. A professora ficou muito “sem graça”.

Isso quer dizer que ela ficou muito

- (A) satisfeita.
- (B) engraçada.
- (C) entusiasmada.
- (D) envergonhada.

05. A palavra que tem o mesmo número de sílabas de “natural” é

- (A) “nada”.
- (B) “onde”.
- (C) “corredor”.
- (D) “professora”.

06. A palavra “inspetora” deve ser separada em sílabas da seguinte maneira:

- (A) inspe-to-ra.
- (B) ins-pe-to-ra.
- (C) in-spe-to-ra.
- (D) in-s-pe-to-ra.

07. A palavra “tombo” significa

- (A) perda.
- (B) queda.
- (C) subida.
- (D) escalada.

08. A palavra que está no masculino é

- (A) dom.
- (B) turma.
- (C) escola.
- (D) inspetora.

Texto 2

MINISTÉRIO DA SAÚDE
MAIS ATENÇÃO A VOCE

O SEU FILHO QUER DUAS
GOTINHAS DA SUA ATENÇÃO.

10 DE JUNHO

VACINE SEU FILHO MENOR DE 5 ANOS
CONTRA A PARALISIA INFANTIL.

PROCURE UM POSTO DE VACINAÇÃO NA SUA CIDADE E NÃO ESQUEÇA DE LEVAR O CARTÃO DA CRIANÇA.

www.saude.gov.br
DISQUE SAÚDE 0800 61 1987

SECRETARIAS ESTADUAL
E MUNICIPAL DE SAÚDE

Ministério
da Saúde
BRASIL
GOVERNO FEDERAL

COM BASE NO TEXTO 2, ASSINALE A ÚNICA ALTERNATIVA QUE COMPLETA CORRETAMENTE AS QUESTÕES 09 E 10.

09. O texto 2 informa que devem ser vacinadas contra a paralisia infantil

- (A) todas as crianças do país.
- (B) apenas as crianças mais velhas.
- (C) as crianças maiores de cinco anos.
- (D) as crianças com menos de cinco anos de idade.

10. A mensagem do cartaz é dirigida **principalmente** aos (às)

- (A) crianças menores.
- (B) pais de filhos pequenos.
- (C) governos municipais e estaduais.
- (D) funcionários dos postos de vacinação.

MATEMÁTICA

11. Este ano de 2010 tem

- (A) 363 dias.
- (B) 364 dias.
- (C) 365 dias.
- (D) 366 dias.

12. O período de 30 meses equivale a

- (A) 1 ano.
- (B) 1 ano e meio.
- (C) 2 anos.
- (D) 2 anos e meio.

13. Uma placa avisa:

É PROIBIDO FAZER BARULHO ENTRE 22 HORAS E 6 HORAS.

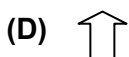
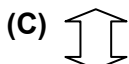

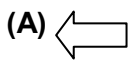
Durante quantas horas é proibido fazer barulho?

- (A) 6 horas.
- (B) 8 horas.
- (C) 10 horas.
- (D) 12 horas.

14. Na copa do mundo, a transmissão de um jogo durou 2 horas. Começando às 11 horas da manhã, a transmissão terminou

- (A) 1 hora da tarde.
- (B) 1 hora e 30 minutos da tarde.
- (C) 2 horas da tarde.
- (D) 2 horas e 30 minutos da tarde.

15. A seta que aponta para a direita é



16. A maior parte da bandeira brasileira é da cor


- (A) azul.
- (B) amarela.
- (C) branca.
- (D) verde.


17. Quatro moedas de R\$ 0,50 e duas de R\$ 0,25 totalizam


- (A) R\$ 3,00
- (B) R\$ 2,75
- (C) R\$ 2,50
- (D) R\$ 2,25

18. Veja as figuras abaixo



À direita de  está

(A) 

(B) 

(C) 

(D) 

19. Um trabalhador recebeu em 3 meses os seguintes valores:

Mês	Valores
Maio	R\$ 680,00
Junho	R\$ 560,00
Julho	R\$ 720,00

O total recebido por esse trabalhador, nesses 3 meses, foi

(A) R\$ 1.960,00

(B) R\$ 1.920,00

(C) R\$ 1.880,00

(D) R\$ 1.840,00

20. Se Juruti tem 127 anos, então foi fundada em

(A) 1.882

(B) 1.883

(C) 1.884

(D) 1.885

RASCUNHO