

# **APROJEPLAM LTDA**

**ASSESSORIA EM PROJETOS, PLANEJAMENTO  
E ADMINISTRAÇÃO MUNICIPAL LTDA**

## **CONCURSO PÚBLICO**

# **Prefeitura Municipal de Araripina - PE**

## **CADERNO DE PROVAS (PORTUGUÊS E MATEMÁTICA)**



## **NÍVEL SUPERIOR**

### **PORTUGUÊS**

**AS QUESTÕES DE 01 A 02 DEVEM SER RESPONDIDAS COM BASE NO TEXTO ABAIXO**

#### **A REVOLUÇÃO DIGITAL**

Texto e papel. Parceiros de uma história de êxitos. Pareciam feitos um para o outro. Disse “pareciam”, assim, com o verbo no passado, e já me explico: estão em processo de separação. Secular, a união não ruirá do dia para a noite. Mas o divórcio virá, certo como o pôr-do-sol a cada fim de tarde. O texto mantinha com o papel uma relação de dependência. A perpetuação da escrita parecia condicionada à produção de celulose. Súbito, a palavra descobriu um novo meio de propagação: o cristal líquido. Saem as árvores. Entram as nuvens de elétrons. A mudança conduz a veredas ainda inexploradas. De concreto há apenas a impressão de que, longe de enfraquecer, a ebulição digital tonifica a escrita. E isso é bom. Quando nos chega por um ouvido, a palavra costuma sair por outro. Vazando-nos pelos olhos, o texto inunda de imagens a alma. Em outras palavras: falada, a palavra perde-se nos desvãos da memória; impressa, desperta o cérebro, produzindo uma circulação de idéias que gera novos textos. A Internet é, por assim dizer, um livro interativo. Plugados à rede, somos, autores e leitores. Podemos visitar as páginas de um clássico da literatura. Ou simplesmente arriscar textos próprios. Otto Lara Resende costumava dizer que as pessoas haviam perdido o gosto pela troca de correspondências. Antes de morrer, brindou-me com dois telefonemas. Em um deles prometeu: “Mando-te uma carta qualquer dia desses”. Não sei se teve tempo de render-se ao computador. Creio que não. Mas, vivo, Otto estaria surpreso com a popularização crescente do correio eletrônico. O papel começa a experimentar o mesmo martírio imposto à pedra quando da descoberta do papiro. A era digital está revolucionando o uso do texto. Estamos virando uma página. Ou, por outra, estamos pressionando a tecla “enter”.

*SOUZA, Josias de. A revolução digital. Folha de São Paulo, São Paulo, 6 de maio de 1996. Caderno Brasil, p. 2.*

**01. Com base na leitura feita, é CORRETO afirmar que o objetivo do texto é**

- A. Defender a parceria entre o papel e o texto como uma história de êxitos.
- B. Discutir as implicações da era digital no uso da escrita.
- C. Descrever as vantagens e desvantagens da Internet na atualidade.
- D. Narrar a história do papel e do texto desde a antigüidade.

**02. Considerando a argumentação do autor quanto à relação entre palavra falada e palavra escrita, é CORRETO afirmar que,**

- A. Na comunicação interpessoal, a palavra falada pode emocionar, sensibilizar, convencer, fazer pensar e, com isso, suscitar um grande movimento de idéias e valores.
- B. No processo social de divulgação de conhecimentos, a palavra falada, associada à escrita, exerce um papel fundamental na educação e na formação de opiniões.
- C. Na produção cultural de ciência e arte, a palavra escrita tem função marcante, porque sua permanência material independe da memória humana e sua circulação instiga a reflexão.
- D. No processo social de produção e circulação de crenças, a palavra escrita, ao lado da falada, tem papel significativo no desenvolvimento da espiritualidade.

#### **CHARGE 01**



#### **CHARGE 02**





**03. Vemos acima duas charges de cunho político. Podemos entender, ao interpretá-las, que:**

- A. Ambas se referem muito bem aos políticos em questão.
- B. Enquanto que na CHARGE 01 o texto faz menção à boa conduta do político, na CHARGE 02 o presidente Lula tenta, com um acontecimento da gestão passada, amenizar a sua culpa no apagão acontecido durante a própria gestão.
- C. Na CHARGE 01 a propaganda feita é depreciativa, enquanto que na CHARGE 02 o texto não cita o presidente que aparece na imagem.
- D. Os textos das duas charges deixam muito claro que os presidentes retratados têm boa conduta política.

**04. Eu acho aquele ator o maior gato. Refere-se à:**

- A. Solecismo
- B. Conotação
- C. Cacofonia
- D. Denotação

**05. São exemplos de linguagem não-verbal:**

- A. Sinais de trânsito e uma conversa informal entre alunos e professores
- B. Libras e cores da bandeira
- C. Gestos e Cantigas infantis
- D. Apitos e discursos políticos

**06. As seguintes palavras: estudar - estuda. Por que processo de derivação passou a palavra estudar?**

- A. Parassintética
- B. Sufixal
- C. Prefixal
- D. Regressiva

**07. Em relação ao processo de composição, as palavras: guarda-chuva, arco-íris, malmequer, passatempo sofreram que tipo de fenômeno?**

- A. Hibridismo
- B. Composição por justaposição
- C. Onomatopéia
- D. Derivação

**08. Qual das letras abaixo apresenta prefixo de origem grega?**

- A. Decair
- B. Anfiteatro
- C. Refazer
- D. llegal

**09. Qual frase apresenta a concordância verbal correta:**

- A. Hoje são dias de glória.
- B. Mais de um atirador desistiram da prova.
- C. Não existe violências no Brasil.
- D. O zoólogo e tu alimentareis os animais.

**10. Sobre concordância nominal, marque a alternativa errada:**

- A. Os documentos em anexo devem ser arquivados.
- B. É necessário prudência.
- C. As laranjas custam barato.
- D. Minha tia anda meia esquisita.



## **PROVAS APLICADAS NO TURNO DA MANHÃ**

### **ATUALIDADES I**

É a doença crônica mais apontada por médicos ou profissionais de saúde, em 2008. O dado faz parte do suplemento de Saúde da Pesquisa Nacional por Amostra de Domicílios (Pnad) 2008, divulgado na quarta-feira (31/03) pelo Instituto Brasileiro de Geografia e Estatística (IBGE). Em 1998, ainda segundo o IBGE, já era a doença crônica mais citada pela população e, em 2008, Ainda segundo o levantamento, 31,3% da população brasileira, ou 59,5 milhões de pessoas, tinham pelo menos uma doença crônica, e 5,9% das pessoas tinham três ou mais. As regiões Sul (35,8%) e Sudeste (34,2%) registraram os maiores percentuais de pessoas com pelo menos uma doença crônica, seguidas por Centro-Oeste (30,8%), Nordeste (26,8%) e Norte (24,6%). São consideradas doenças crônicas as doenças que acompanham a pessoa por um longo período de tempo, podendo ter fases agudas, momentos de piora ou melhora sensível.

*(<http://g1.globo.com/Noticias/Brasil> - Adaptado)*

**11. O texto fala de uma atual pesquisa realizada em todo o Brasil sobre doenças crônicas, colocando uma em primeiro lugar do ranking nacional, que doença é esta?**

- A. Obesidade
- B. Tuberculose
- C. Hipertensão
- D. Hanseníase

**12. Há dois anos o país se comoveu com um caso de um pai que, junto com sua companheira, assassinou a própria filha – fruto de um relacionamento passado – atirando-a da janela de seu apartamento, após a criança ser esganada. O caso ficou conhecido como “Caso Nardoni”. Na madrugada do último dia 27 de março, o casal Alexandre Nardoni e Anna Carolina Jatobá foi a júri popular, também acompanhado a nível nacional com protestos e vigílias em frente ao tribunal, e condenados à reclusão. Qual a pena aplicada aos dois?**

- A. 31 anos, 01 mês e 10 dias e 25 anos e 08 meses, respectivamente.
- B. 31 anos, 01 mês e 10 dias e 26 anos e 08 meses, respectivamente.
- C. 41 anos, 01 mês e 10 dias e 26 anos e 08 meses, respectivamente.
- D. 32 anos, 01 mês e 10 dias e 26 anos e 09 meses, respectivamente.

Um terremoto de magnitude 6,9 graus, considerado forte, foi detectado neste domingo (4), segundo informações do Serviço Geológico dos Estados Unidos (USGS, na sigla em inglês). O tremor aconteceu às 15h40 locais (19h40 em Brasília) a uma profundidade de 32,3 km. O jornal americano "Los Angeles Times" noticiou, pouco depois, que o tremor sacudiu edifícios nas cidades de Los Angeles e San Diego, no sul da Califórnia, assim como outras localidades do estado vizinho do Arizona. Segundo o canal de TV KABC, de Los Angeles, vários arranha-céus da cidade foram sacudidos com força e o corpo de bombeiros local respondia neste momento a vários chamados para tirar pessoas presas em elevadores. No entanto, não houve informações sobre feridos, danos importantes ou cortes de energia.

*(<http://g1.globo.com/Noticias/Mundo> - Adaptado)*

**13. Em que país aconteceu este terremoto que pôde ser sentido até em cidades dos Estados Unidos?**

- A. Canadá
- B. Cuba
- C. Suriname
- D. México

**14. Qual o nome do atual Prefeito do Município de Araripina?**

- A. Luiz Wilson Ulisses Sampaio
- B. Wilson Xavier Sampaio
- C. Alexandre Arraes
- D. João da Costa

O Brasil torceu, se emocionou e vibrou com o anúncio das cidades escolhidas para sediar os jogos da copa de 2014. São 12 cidades que terão o privilégio - e a responsabilidade - de realizar o maior espetáculo de futebol do mundo. A Fifa comandou o anúncio e a expectativa de todos direto de Nassau, nas Bahamas. A partir de agora,



## **APROJEPLAM - LTDA.**

**Assessoria em Projetos, Planejamento e Administração Municipal Ltda.**

será preciso muito trabalho, pois as 12 cidades escolhidas se reúnem com o comitê organizador da Copa. O objetivo é começar a fazer as primeiras modificações nos projetos. Todos os projetos vão passar por mudanças.

*(<http://g1.globo.com/bomdiabrasil> - Adaptado)*

**15. Quais as doze cidades que, na Copa Brasileira de 2014 sediarão os jogos?**

- A. Rio de Janeiro, São Paulo, Belo Horizonte, Porto Alegre, Brasília, Curitiba, Salvador, Recife, Natal, Fortaleza, Manaus e Cuiabá.
- B. Rio de Janeiro, São Paulo, Belo Horizonte, Macapá, Brasília, Curitiba, Salvador, Recife, Rio Branco, Fortaleza, Manaus e Cuiabá.
- C. Brasília, Curitiba, Salvador, Recife, São Paulo, Belo Horizonte, Aracaju, Salvador, Fortaleza, Manaus e Cuiabá, Rio de Janeiro.
- D. Rio de Janeiro, Aracaju, Belo Horizonte, Porto Alegre, Brasília, Curitiba, Salvador, Florianópolis, Natal, Fortaleza, Manaus e Cuiabá.

O que era para ser um passeio durante o feriadão se transformou em um pesadelo. Ao todo, 25 pessoas se perderam na Serra do Mar, quando faziam uma trilha. Debaixo de muita chuva, e em um lugar de difícil acesso, tiveram que esperar mais de 60 horas pelo resgate. Foram momentos de muita apreensão para as famílias, para quem estava na selva e até para os policiais que procuravam o grupo. Foram duas madrugadas na mata fechada, dormindo sobre pedras, com uma pessoa ferida. O grupo fazia essa trilha pela quinta vez. Mas, na Serra do Mar as condições do tempo mudam rapidamente. Às vezes está sol e pouco depois começa a cair uma tempestade. Os rios sobem muito e fecham os caminhos. Felizmente tudo terminou bem e já está todo mundo em casa.

*(<http://g1.globo.com/bomdiabrasil> - Adaptado)*

**16. No litoral de qual estado brasileiro aconteceu o fato supracitado no texto?**

- A. Litoral Paulista.
- B. Litoral Fluminense.
- C. Litoral Pernambucano.
- D. Litoral Amazonense.

**17. No último 10 de abril faleceu em um acidente aéreo o presidente da Polônia. Com a queda do Tupolev 154, que incendiou quando tocou a pista do aeroporto, morreram o presidente polonês, sua esposa, Maria e uma delegação polonesa de 88 pessoas. Qual o nome do ex-presidente morto deste acidente?**

- A. Jaroslaw Kaczynski
- B. Donald Tusk
- C. Lech Kaczynski
- D. Karol Józef Wojtyła

O meia do Araripina estava em campo na noite de 27 de janeiro - quarta-feira - jogando pela 5ª rodada do Campeonato Pernambucano, contra o Porto, em Caruaru, quando sofreu a parada cardíaco-respiratória. Ele sofreu um desmaio no jogo em que seu time foi derrotado pelo Porto, pela 5ª rodada do Campeonato Pernambucano, e foi levado para o Hospital Regional do Agreste, em Caruaru.

*(<http://video.globo.com/Videos/Player/Esportes> - Adaptado)*

**18. Qual o nome do jogador do Araripina citado no fato acima?**

- A. Esquerdinha
- B. Edu Matos
- C. Diogo Neves
- D. Jessuí

"Eles podem não ser o melhor exemplo da juventude da época, mas não eram, de maneira nenhuma, o pior. Suas belas melodias mudaram a música e continuam a dar prazer", diz o artigo.

*(<http://g1.globo.com/Noticias/PopArte>)*

**19. A citação acima é parte do Artigo "Sete Anos que Abalaram a Música", publicado no L'Osservatore Romano, onde o vaticano elogia uma banda que influenciou toda uma geração. Que banda é esta?**

- A. The Rolling Stones
- B. Oasis
- C. AC/DC



## **APROJEPLAM - LTDA.**

**Assessoria em Projetos, Planejamento e Administração Municipal Ltda.**

D. The Beatles

Encontramos muita informação de saúde na grande rede. Mas o problema está em separar o joio do trigo, a informação que presta daquela que não serve. Uma ferramenta de comentários pessoais se transformou em canal de comunicação de difusão de informação instantânea – e não escapa da triste sina da desinformação. (...) Durante 4 meses, as mensagens colocadas no microblog foram coletadas através da busca de palavras-chaves. Procurando por termos como antibióticos, gripe, resfriados, efeitos colaterais e eficiência, entre outras, foi possível encontrar mil mensagens que se aproximavam do tema. Após a seleção, as mensagens foram analisadas em busca de erros de informação e de qualidade. Dentro das mil mensagens, cerca de 700 continham informações erradas ou conceitos mal interpretados que podiam levar à conclusões erradas.

*(<http://g1.globo.com/Noticias/Ciencia>)*

**20. O texto fala de uma pesquisa feita sobre dados que são informados na internet de forma errônea e cita uma destas formas – que se tornou febre entre os mais jovens, porém aderido por todas as faixas etárias - sem especificar seu nome. De acordo com as informações textuais, e levando em consideração o *boom* deste meio rápido e prático de comunicação na rede, analisamos estar estamos falando do:**

- A. MySpace
- B. Orkut
- C. Google
- D. Twitter



## **PROFESSOR DE GEOGRAFIA**

**21. Assinale a alternativa que indica, de forma correta, exemplos de processo que englobam a ação de agentes externos na formação do relevo terrestre.**

- A. Dobramentos, aluvionamentos, erupção.
- B. Terremoto, vulcanismo, assoreamento.
- C. Tectonismo, deposição, falhamento.
- D. Erosão, transporte, sedimentação.

**Apertado entre o Tibete e a Índia, o Nepal se estende sobre uma área de 141 mil Km<sup>2</sup>, um pouco menor que o estado do Paraná. Mesmo assim, por conter a parte central da Cordilheira do Himalaia, a Morada dos Deuses da mitologia indiana, possui oito das 14 maiores montanhas da Terra. Sua altitude decresce rapidamente de norte para o sul, até encontrar a planície do Terai, a apenas 70 metros sobre o nível do mar, um gigantesco contraste com os 8848m do Everest na outra extremidade do país, a pouco mais de 180Km.**

*NICLEVICZ, Waldemar. Tudo pelo Everest, 1993.*

**22. O texto se refere a mais elevada cordilheira do mundo, o Himalaia, onde se situa o Nepal. Com suas contrastantes altitudes, o Himalaia teve sua origem aproximadamente na mesma época e da mesma forma que as outras grandes cordilheiras do planeta. A origem das grandes cadeias de montanhas da Terra, como o Himalaia, os Andes e as Rochosas, deve-se a:**

- A. Formação de fossas tectônicas.
- B. Longos processos de erosão.
- C. Falhamento
- D. Dobramentos.

**23. Existe uma unidade de relevo submarino que se caracteriza por possuir uma inclinação escarpada que desce abruptamente da plataforma continental. Essa unidade de relevo é denominada:**

- A. Tabuleiro continental.
- B. Cordilheira mesoceânica.
- C. Planície abissal.
- D. Elevação continental.

**24. Sabe-se que uma área de quatro hectares de floresta, na região tropical, pode conter cerca de 375 espécies de plantas enquanto uma área florestal do mesmo tamanho, em região temperada, pode apresentar entre 10 a 15 espécies. O notável padrão de diversidade das florestas tropicais se deve a vários fatores, entre os quais é possível citar:**

- A. Sua transformação em áreas de preservação.
- B. Maior insolação e umidade e menor variação climática.
- C. Pequena intervenção do ser humano.
- D. Altitudes elevadas a solos profundos.

**25. A ação humana tem provocado algumas alterações quantitativas e qualitativas da água, como:**

- I. Contaminação de lençóis freáticos.
- II. Diminuição da umidade do solo.
- III. Enchentes e inundações.

**Pode-se afirmar que as principais ações humanas associadas às alterações I, II e III são, respectivamente:**

- A. Lançamento de gases poluentes, lançamento de lixo nas ruas e construção de aterros sanitários.
- B. Uso de fertilizantes e aterros sanitários, lançamento de gases poluentes e canalização de córregos e rios.
- C. Construção de barragens, uso de fertilizantes e construção de aterros sanitários.
- D. Uso de fertilizantes e aterros sanitários, desmatamento e impermeabilização do solo urbano.

**26. Assinale a alternativa CORRETA:**

**Sendo o carvão mineral fonte de energia de vital importância no desenvolvimento industrial de um país, podemos afirmar que, no Brasil, esse recurso:**

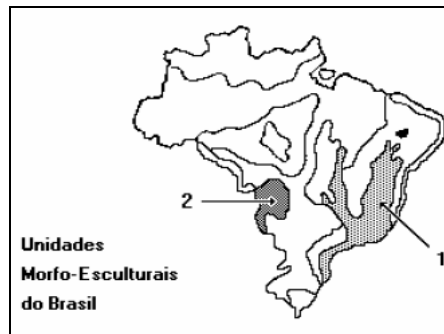


- A. É encontrado nas grandes bacias sedimentares na plataforma continental.
- B. É encontrado no interior do estado do Espírito Santo.
- C. É insuficiente para a produção de coque aplicado na indústria nacional.
- D. Tem seus centros consumidores bem próximos às jazidas.

**27. Na bacia hidrográfica Amazônica, ocorreram dificuldades para a implantação de usinas hidrelétricas porque esta apresenta:**

- A. Oscilação na vazão fluvial maior que em outras bacias, o que exige grandes reservatórios e altas barragens.
- B. Relevo de altiplanos com solos friáveis que dificultam a execução de barragens.
- C. Relevo plano, regularidade na vazão fluvial e extensa cobertura florestal.
- D. Relevo com pequena variação altimétrica, exigindo extensos reservatórios que podem acarretar forte impacto ao ambiente natural.

**28. A questão a seguir deve ser respondida com base no mapa abaixo:**



**As unidades do relevo assinaladas com os números 1 e 2 referem-se, respectivamente, a:**

- A. Planaltos da Bacia do Paraná e Depressão do Araguaia.
- B. Planalto da Borborema e Planície do Araguaia.
- C. Serras do Atlântico Leste-Sudeste e Planície do Pantanal Matogrossense.
- D. Serras de Goiás-Minas e Serras Residuais do Alto Paraguai.


**29. De acordo com a divisão regional geoeconômica, qual dos estudos abaixo NÃO integra o complexo amazônico?**

- A. Piauí.
- B. Maranhão.
- C. Tocantins.
- D. Mato Grosso.

**30. O cultivo da cana-de-açúcar e do cacau são as principais atividades econômicas desta área, que é a mais populosa do Nordeste. Essas características identificam a seguinte subregião nordestina.**

- A. Sertão.
- B. Meio Norte.
- C. Zona da Mata.
- D. Agreste.

**31. O climograma a seguir corresponde ao clima:**







## **APROJEPLAM - LTDA.**

**Assessoria em Projetos, Planejamento e Administração Municipal Ltda.**

- A. Tropical úmido.
- B. Equatorial.
- C. Semi-árido.
- D. Temperado continental.

**32. Um dos fenômenos mais discutidos e polêmicos da atualidade é a globalização, a qual impacta de forma negativa:**

- A. Nos países subdesenvolvidos provocando o fenômeno da “exclusão social”.
- B. Na mão-de-obra desqualificada, desacelerando o fluxo migratório.
- C. No desenvolvimento econômico dos países industrializados desenvolvidos.
- D. Nos países subdesenvolvidos, aumentando o crescimento populacional.

**33. Pouco espaço para o plantio, numerosa mão-de-obra, pequena propriedade agrícola, produtividade alta, uso de adubos e irrigação são características do seguinte sistema agrário:**

- A. Jardinagem.
- B. Terraceamento.
- C. Agricultura moderna.
- D. Plantation.

**No continente europeu, a força armada já deixou de ser instrumento das relações internacionais. Os EUA exercem o poder num mundo em que as leis internacionais não são confiáveis e onde a promoção de uma ordem liberal ainda depende da posse e do uso de meios militares.**

*KAGAN, Robert. In: folha de São Paulo, 23 de março de 2003.*

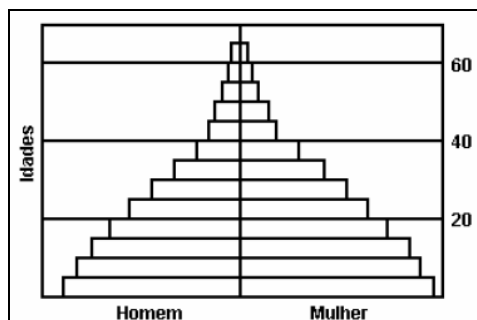
**34. Tendo por base o texto, no qual o autor, ideológico do governo Bush, explica a necessidade da guerra contra o Iraque, é correto afirmar que:**

- A. O Conselho de Segurança da ONU apoiou a política de intervenção armada do presidente norte-americano no Iraque.
- B. Os EUA decidiram atacar o Iraque conforme as regras internacionais vigentes desde a Segunda Guerra.
- C. Os embates entre a União Européia e os EUA, antes da guerra do Iraque, foram depois superados pela plena aceitação da política de Bush na Europa.
- D. As intervenções no Afeganistão e no Iraque demonstram que o presidente norte-americano pretende fazer dos EUA a única potência mundial.

**35. Que horas devem marcar os relógios em Nova York, que fica no quinto fuso a oeste de Greenwich, quando em São Paulo, que fica no terceiro fuso, também a oeste, são quinze horas, no horário de verão?**

- A. Dezessete horas.
- B. Doze horas.
- C. Dezoito horas.
- D. Treze horas.

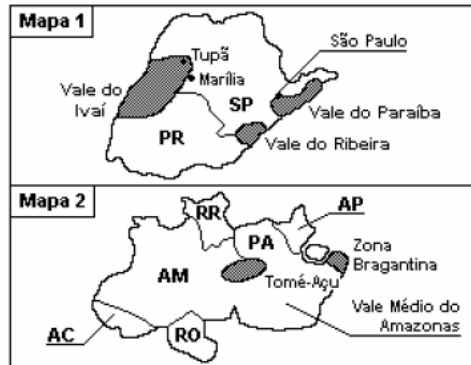
**36. Analisando a pirâmide etária a seguir, é possível concluir que ela caracteriza uma população com índices de:**



- A. Alta taxa de natalidade e alta expectativa de vida.
- B. Alta taxa de natalidade e média expectativa de vida.
- C. Alta taxa de natalidade e baixa expectativa de vida.
- D. Baixa taxa de natalidade e baixa expectativa de vida.



37. Observe os mapas 1 e 2, apresentados sem escala.



Assinale a alternativa que indica o que as áreas hachuradas nos dois mapas apresentavam em comum na década de cinquenta. Abaixo da figura:

- A. Cultivo do café em grandes propriedades.
- B. Garimpo de pedras preciosas nos leitos de rios caudalosos.
- C. Atividade agrícola praticada por colonos japoneses.
- D. desmatamento recente de áreas florestadas.

38. Nos últimos anos, ocorreram mudanças no padrão migratório brasileiro. As metrópoles do Sudeste já não apresentam o elevado grau de atração demográfica que tinham antigamente. Entre as causas desse fato, pode-se citar:

- A. A descentralização econômica, pois inúmeras empresas estão saindo do Sudeste e se instalando em outras regiões.
- B. O empenho de órgãos, como o IBGE, que tentam promover o aumento das densidades demográficas no interior do país.
- C. A criação das frentes pioneiras no Sul do país, que representam grande potencial de empregos na zona rural.
- D. O maior controle por parte do Estado brasileiro para inibir o crescimento descontrolado das cidades.

39. Em um debate sobre o futuro do setor de transporte de uma grande cidade brasileira com trânsito intenso, foi apresentado um conjunto de propostas. Entre as propostas reproduzidas abaixo, aquela que atende, ao mesmo tempo, a implicações sociais e ambientais presentes nesse setor é:

- A. Diminuir o uso de combustíveis voláteis devido ao perigo que representam.
- B. Incentivar a substituição do transporte individual por transportes coletivos.
- C. Proibir o uso de combustíveis produzidos a partir de recursos naturais.
- D. Promover a substituição de veículos a diesel por veículos a gasolina.

40. No mapa, 1, 2 e 3 indicam bacias hidrográficas onde se encontram instaladas, respectivamente, as hidrelétricas de:





## **APROJEPLAM - LTDA.**

**Assessoria em Projetos, Planejamento e Administração Municipal Ltda.**

- A. Xavantes, Furnas e Sobradinho.
- B. Tucuruí, Marimondo e Jupia.
- C. Tucuruí, Paulo Afonso e Ilha Solteira.
- D. Três Marias, Balbina e promessa.