

CONCURSO PÚBLICO

Edital 01/2009

AGENTE DE FISCALIZAÇÃO

Código 101

LEIA COM ATENÇÃO AS INSTRUÇÕES DESTE CADERNO.
Elas fazem parte da sua prova.

Este caderno contém a **Prova Objetiva** abrangendo conteúdos de **Língua Portuguesa, Legislação Básica, Conhecimentos Gerais/Atualidades e Conhecimentos Específicos.**

Use como rascunho a **Folha de Respostas** reproduzida no final deste caderno.

Ao receber a **Folha de Respostas**:

- confira seu nome, número de inscrição e cargo de opção;
 - assine, **A TINTA**, no espaço próprio indicado.
-

	A	B	C	D
01	<input checked="" type="checkbox"/>	<input type="checkbox"/>	<input type="checkbox"/>	<input type="checkbox"/>
02	<input type="checkbox"/>	<input checked="" type="checkbox"/>	<input type="checkbox"/>	<input type="checkbox"/>
03	<input type="checkbox"/>	<input type="checkbox"/>	<input checked="" type="checkbox"/>	<input type="checkbox"/>
04	<input type="checkbox"/>	<input type="checkbox"/>	<input type="checkbox"/>	<input checked="" type="checkbox"/>

Ao transferir as respostas para a **Folha de Respostas**:

- use apenas caneta esferográfica azul ou preta;
 - preencha, sem forçar o papel, toda a área reservada à letra correspondente à resposta solicitada em cada questão;
 - assinale somente uma alternativa em cada questão. Sua resposta não será computada se houver marcação de mais de **uma alternativa, questões não assinaladas ou questões rasuradas.**
-

NÃO DEIXE NENHUMA QUESTÃO SEM RESPOSTA.

A **Folha de Respostas** não deve ser dobrada, amassada ou rasurada.

CUIDE BEM DELA, ELA É A SUA PROVA.

No período estabelecido para a realização da prova, está incluído o tempo necessário à transcrição das respostas do rascunho para a **Folha de Respostas**.

ATENÇÃO: Nos termos do Edital 01/2009, “Será eliminado deste Concurso Público o candidato que [...] **portar arma(s)** no local de realização das provas [...] **portar** [...] ou fizer uso [...] de **qualquer equipamento eletrônico** [...] ou de **instrumentos de comunicação** [...] **celular** [...] ou **outros similares** [...].” (subitem 8.3.28 alíneas “e” e “f”).

DURAÇÃO TOTAL DA PROVA: TRÊS HORAS

ATENÇÃO

Senhor(a) Candidato(a),

Antes de começar a fazer a prova, confira se este caderno contém, ao todo, **40 (quarenta) questões de múltipla escolha** — **10 (dez) questões de Língua Portuguesa, 10 (dez) questões de Legislação Básica, 10 (dez) questões de Conhecimentos Gerais/Atualidades e 10 (dez) questões de Conhecimentos Específicos** —, cada uma constituída de **4 (quatro) alternativas**, das quais apenas **uma** responde corretamente ao que é solicitado em cada questão.

Havendo algum problema, informe-o *imediatamente* ao Aplicador de Provas para que ele tome as providências necessárias.

Caso V.S^a não observe essa recomendação, não lhe caberá qualquer reclamação ou recurso posteriores.

Língua Portuguesa

INSTRUÇÃO – As questões de 1 a 10 relacionam-se com o texto abaixo.
Leia atentamente todo o texto antes de responder a elas.

TURBULÊNCIA DEIXARÁ MUNDO MELHOR

Ex-chefe de operações do Banco Mundial no Brasil, Homi Kharas tem uma visão otimista dos impactos futuros da crise mundial, que ainda reserva, porém, longos períodos de turbulência. O economista acredita que as pessoas mais inteligentes da geração jovem se concentrarão em como resolver os problemas mais urgentes do mundo, em vez de tentarem ganhar o máximo de dinheiro por meio de engenharia financeira.

.....
A turbulência pode ajudar, de alguma forma, na direção de uma distribuição melhor e mais igualitária da riqueza global?

10 — A crise revelou as interdependências inatas da economia global. O impacto da queda nos preços de casas em Phoenix foi sentido por pastores de bodes na Mongólia. Pelo mundo, os países estão se concentrando em restaurar a saúde da economia global e em fazer isso de uma forma sustentável. A ênfase nas tecnologias ecológicas como parte dos programas de estímulo, e sustentabilidade, 15 é notícia bem vinda. O mesmo acontece com a determinação para respeitar abertura no comércio e finanças (apesar de algumas medidas protecionistas terem sido implantadas, elas têm estado em sub-setores relativamente menores). Se a economia global prosperar, a tendência na direção de oportunidades iguais também vai continuar. Livre comércio permitiu que centenas de milhões de 20 indianos e chineses se juntassem aos *rankings* da classe média global. Isso deve fornecer a oportunidade para muitos outros cidadãos de países em desenvolvimento para fazer o mesmo. A crise também mudou o foco da atenção sobre as necessidades da economia real. A riqueza é criada por avanços na ciência e tecnologia. Se as pessoas mais inteligentes da geração jovem se 25 concentrarem em como resolver os problemas mais urgentes, em vez de tentarem ganhar o máximo de dinheiro por meio de engenharia financeira, a prosperidade global e as oportunidades vão aumentar. [...] Vamos ver um mundo melhor como resultado da crise.

COSTA, Gabriel. *Jornal do Brasil*, Rio de Janeiro, jun. 2009 (Texto adaptado).

Questão 1

As ideias expostas no texto foram explicitadas por meio de

- A) um diálogo.
- B) um livro.
- C) uma conferência.
- D) uma proclamação.

Questão 2

Segundo ideias expressas no texto, é possível considerar o mundo, após a crise atual, sob perspectivas **mais**

- A) complicadas.
- B) hostis.
- C) nebulosas.
- D) promissoras.

Questão 3

“A crise revelou as interdependências inatas da economia global.” (linha 10)

Das afirmações seguintes, indique a que pode ser adequadamente confirmada pela frase transcrita acima.

- A) A crise constitui-se como uma intervenção na economia do planeta.
- B) A economia global apresenta-se suficientemente sólida e expandida.
- C) A economia dos países ainda apresenta características particulares.
- D) A interdependência da economia global tem aspectos considerados naturais.

Questão 4

“A ênfase nas tecnologias ecológicas como parte dos programas de estímulo (à economia), e sustentabilidade, é notícia bem vinda.” (linhas 13 a 15)

Nessa frase, explicita-se a ideia de que, para a economia, a natureza deve ser considerada como

- A) imparcial.
- B) inibidora.
- C) ornamental.
- D) respeitável.

Questão 5

No texto, **NÃO** se menciona que pessoas apropriadas para conduzir a economia global tenham, como característica,

- A) a altivez.
- B) a inteligência.
- C) a juventude.
- D) o despreendimento.

Questão 6

“Pelo mundo, os países estão se concentrando em restaurar a saúde da economia global[...]” (linhas 12 e 13)

Os acentos colocados nas palavras sublinhadas nessa frase caracterizam a existência de

- A) crases.
- B) ditongos.
- C) tritongos.
- D) hiatos.

Questão 7

“Se a economia global prosperar, a tendência na direção de oportunidades iguais também vai continuar.” (linhas 17 a 19)

A palavra sublinhada nessa frase introduz uma oração com sentido de

- A) causa.
- B) conclusão.
- C) condição.
- D) consequência.

Questão 8

“A crise também mudou o foco da atenção sobre as necessidades da economia real.” (linhas 22 e 23)

Nessa frase, a função qualificativa exercida por um adjetivo ocorre

- A) apenas uma vez.
- B) duas vezes.
- C) três vezes.
- D) mais de três vezes.

Questão 9

“A riqueza é criada por avanços na ciência e tecnologia.” (linhas 23 e 24)

A forma verbal sublinhada nessa frase pode ser adequadamente substituída por

- A) cria-se.
- B) criou-se.
- C) será criada.
- D) seria criada.

Questão 10

“Se as pessoas mais inteligentes da geração jovem se concentrarem em como resolver os problemas [...] as oportunidades vão aumentar.” (linhas 24 a 27)

A palavra sublinhada nessa frase pode ser adequadamente classificada como

- A) um advérbio.
- B) um pronome.
- C) uma conjunção.
- D) uma preposição.

Legislação Básica

Questão 11

De acordo com a Constituição Federal, se, após o primeiro turno e antes de realizado o segundo de uma eleição para Presidente da República, um dos candidatos vier a falecer, será

- A) convocado o candidato a Vice-Presidente registrado junto com o candidato falecido para participar do segundo turno.
- B) convocado, dentre os candidatos remanescentes do primeiro turno, o que tiver obtido maior votação.
- C) convocada nova eleição em primeiro turno.
- D) declarado vencedor o candidato remanescente.

Questão 12

São cargos privativos de brasileiros natos, **EXCETO**

- A) Ministro da Defesa.
- B) Ministro das Relações Exteriores.
- C) Ministro do Supremo Tribunal Federal.
- D) Presidente do Senado Federal.

Questão 13

A norma legal que veda à Administração Pública impor obrigações, restrições e sanções em medida superior àquelas estritamente necessárias ao atendimento do interesse público prevê a observância, direta e especial, do seguinte princípio da Administração Pública

- A) finalidade.
- B) impessoalidade.
- C) eficiência.
- D) proporcionalidade.

Questão 14

O regime estatutário do servidor público tem natureza

- A) bilateral e de direito público.
- B) unilateral e de direito privado.
- C) bilateral e de direito privado.
- D) unilateral e de direito público.

Questão 15

NÃO se trata de característica do contrato administrativo:

- A) finalidade pública.
- B) forma livre.
- C) presença de Administração Pública como poder público.
- D) presença de cláusulas exorbitantes.

Questão 16

Segundo o que dispõe a Constituição da República e considerando, no caso, a existência de compatibilidade horária, estão corretas as seguintes acumulações, **EXCETO**

- A) a de dois cargos públicos de nível superior de enfermeiro.
- B) a de dois cargos públicos de natureza técnico-científica.
- C) a de um cargo público de médico e um cargo público de professor.
- D) a de um cargo público de professor e o mandato de vereador.

Questão 17

De acordo com o Plano Diretor do Município de Uberaba, o Conselho Municipal de Planejamento e Gestão Urbana

- A) é extraordinariamente convocado por seu presidente.
- B) é nomeado pelo Prefeito e integrado por 24 membros.
- C) deve apreciar todas as propostas de alteração do Plano Diretor.
- D) se reúne ordinariamente uma vez por mês.

Questão 18

Segundo o Plano Diretor do Município de Uberaba, são instrumentos de regularização fundiária, **EXCETO**

- A) concessão de direito real de uso.
- B) concessão de uso especial para fins de moradia.
- C) confisco.
- D) desapropriação.

Questão 19

Entre as gratificações deferidas pela Lei Orgânica do Município de Uberaba aos servidores municipais, **NÃO** se inclui a gratificação:

- A) natalina.
- B) pelo afastamento da sede, em caráter eventual ou transitório, para outro ponto do território nacional.
- C) pelo exercício de cargo de provimento em comissão ou de função gratificada.
- D) pelo exercício do cargo em local distante.

Questão 20

Segundo o que expressamente dispõe a Lei Orgânica do Município de Uberaba, indique a instalação ou equipamento com que devem obrigatoriamente contar as escolas municipais.

- A) Auditório
- B) Enfermaria
- C) Espaço não cimentado para recreação
- D) Quadra de esportes

Conhecimentos Gerais/Atualidades

Questão 21

“Para descobrir a riqueza econômica que uma nação produz, procure conhecer o tamanho de seu Produto Interno Bruto (PIB). É como se você colocasse alguém em cima de uma balança para saber se está engordando ou emagrecendo” (DIMENSTEIN, 1997, p. 62).

Considerando o papel e a importância do Produto Interno Bruto (PIB) para uma nação, assinale a alternativa **INCORRETA**.

- A) A análise isolada do PIB dá a dimensão dos problemas de um país.
- B) A riqueza econômica que uma nação produz depende do tamanho de seu PIB.
- C) O governo informa quanto do PIB nacional se gasta em pesquisa científica quando demonstra o quanto o país investe nessa área.
- D) O PIB *per capita* (por cabeça) mostra melhor o grau de desenvolvimento de um povo.

Questão 22

“Imagine uma pequena cidade onde moram quinhentas pessoas. Por cima dela passa um avião carregado de dinheiro. Esse avião despenca e o dinheiro cai como chuva sobre a cidade. O que acontece? As pessoas, agora com mais dinheiro no bolso, vão sair comprando. Só que o comerciante, que não é bobo, percebe que pode vender mais caro, pois seus fregueses podem pagar mais. Os preços sobem” (DIMENSTEIN, 1997, p.104).

A atitude do comerciante gerou na pequena cidade

- A) deflação.
- B) inflação.
- C) recessão.
- D) sonegação.

Questão 23

A democracia é o regime que garante a liberdade de todos escolherem seus governantes. Mas só existe liberdade quando se pode optar. E só existe opção quando se tem informação. Um dos aspectos que compromete essa opção é o _____ que é um dos sintomas mais antigos da falta de cidadania.

A palavra que **melhor** completa a lacuna do texto acima é

- A) analfabetismo.
- B) desemprego.
- C) trabalho infantil.
- D) desrespeito aos direitos humanos.

Questão 24

A Declaração Universal dos Direitos do Homem foi aprovada em 1948 pela Organização das Nações Unidas (ONU).

Analise as seguintes afirmativas concernentes à Declaração Universal dos Direitos do Homem.

- I. Todo homem que trabalha tem direito a uma remuneração justa.
- II. Todas as pessoas nascem livres e iguais em dignidade e direitos.
- III. Toda pessoa tem capacidade de dispor de todos os direitos e liberdades estabelecidas na Declaração.

A partir dessa análise, pode-se concluir que estão **CORRETAS**.

- A) apenas as afirmativas I e II.
- B) apenas as afirmativas I e III.
- C) apenas as afirmativas II e III.
- D) todas as afirmativas.

Questão 25

Em 1921, o cientista e filósofo francês Jean Friedel escreveu: “[...] a maioria das pessoas, sobretudo aquelas que não estudaram ciências biológicas, manifesta muito freqüentemente uma tendência a situar o homem em confronto com a natureza, ou mesmo em oposição a ela. Segundo sejam essas pessoas otimistas ou pessimistas vêem elas o homem como o rei da natureza ou a sua vítima” (BRANCO, 1998, p.06).

As seguintes alternativas são provas da degradação ambiental, **EXCETO**

- A) as chuvas ácidas.
- B) o buraco da camada de ozônio.
- C) o efeito estufa.
- D) a sustentabilidade.

Questão 26

Estudos sobre a temperatura atmosférica de nosso planeta revelam uma elevação progressiva na temperatura da Terra: o chamado efeito estufa, isto é, os gases acumulados na atmosfera permitem a passagem da luz solar, mas bloqueiam a radiação do calor terrestre, impedindo-o de voltar ao espaço.

Considerando as consequências que podem ser esperadas desse aumento gradual da temperatura da Terra, assinale a alternativa **INCORRETA**.

- A) Elevação do nível do mar, devido ao derretimento de grandes massas de gelo (geleiras).
- B) Mudança da flora característica de várias regiões do globo.
- C) Aumento da pluviosidade devido a maior evaporação.
- D) Desmatamento que provoca a extinção de espécies vegetais e animais.

Questão 27

“Após a Segunda Guerra Mundial, a reconstrução europeia se deu em bases bem particulares. Para evitar que os trabalhadores fossem seduzidos pela proposta comunista, foram concedidos a eles vários benefícios, instaurando-se um tipo de capitalismo humano conhecido como ESTADO DO BEM-ESTAR SOCIAL, financiado por uma tributação progressiva, que fazia uma redistribuição de renda de cima para baixo” (CARVALHO, 2000, p.100).

Foram benefícios concedidos aos trabalhadores pelo ESTADO DO BEM-ESTAR SOCIAL, **EXCETO**

- A) auxílio-desemprego.
- B) auxílio-doença.
- C) décimo terceiro salário.
- D) salários decentes.

Questão 28

Um subproduto da ideia de que devem ser removidas as barreiras à livre circulação do capital foi a criação dos paraísos fiscais ou praças financeiras, que se transformaram em verdadeiros *buracos negros* da economia mundial.

A respeito desses paraísos fiscais, assinale a afirmativa **INCORRETA**.

- A) A garantia do sigilo bancário de seus clientes estrangeiros é um dos atrativos dos paraísos fiscais.
- B) As principais vítimas desses paraísos são os sonegadores e as empresas responsáveis pelas jogadas contábeis que dependem desses serviços para sobreviverem.
- C) Favorecem o depósito de dinheiro proveniente de tráfico de drogas, jogo e vendas ilícitas de armas.
- D) Os paraísos fiscais servem como *esconderijo* dos impostos nacionais e da vigilância de reguladores governamentais.

Questão 29

Numere a **COLUNA II** de acordo com a **COLUNA I** associando as diferentes formas de energia às informações correspondentes.

1. Energia hidrelétrica () é obtida a partir de desníveis de água por meio de rodas d'água, monjolos etc.
2. Energia mecânica () utiliza cata-ventos para girar as mós.
3. Energia de biomassa () provém da massa de seres vivos: o álcool.
4. Energia eólica () provém do aproveitamento da queda d'água por intermédio das turbinas.

Assinale a alternativa que apresenta a sequência de números **CORRETA**.

- A) (2) (4) (3) (1)
- B) (4) (2) (1) (3)
- C) (3) (1) (2) (4)
- D) (1) (3) (4) (2)

Questão 30

No âmbito das empresas, o objetivo explícito da reengenharia é aumentar a produtividade que abrange vários processos sendo um deles a terceirização.

É **INCORRETO** afirmar que a terceirização de serviços gera para o trabalhador poucas condições de negociar

- A) porque as diversas atividades são repassadas a outras empresas, às vezes, estrangeiras.
- B) porque as tarefas são delegadas a fornecedores independentes, às vezes, grandes e possuidores de tecnologia avançada que não sofrem constrangimento dos sindicatos.
- C) porque o objetivo das empresas é pagar salários mais altos do que seriam pagos a trabalhadores sindicalizados.
- D) devido ao uso cada vez maior dos *trabalhadores eventuais* não sindicalizados, contratados por um tempo limitado ou para cumprir uma tarefa específica sendo que, nessas condições, o trabalhador tem pouquíssimas chances de negociar.

Conhecimentos Específicos

Questão 31

Conforme legislação do município de Uberaba, “[...] o *trailer* fixo ou móvel de ponto definido, destinado à comercialização de comestíveis e bebidas, está sujeito às normas que regem bares, lanchonetes e similares, atendidas as demais disposições do Código de Posturas”.

A esse respeito, analise as seguintes afirmativas e assinale a alternativa **INCORRETA**.

- A) A área do *trailer* não poderá exceder a 15 m² (quinze metros quadrados), excetuando-se a área utilizada por mesas e cadeiras.
- B) A instalação de *trailer* está sujeita ao prévio processo de licenciamento, em que deverá ser observado o atendimento das exigências da legislação sobre uso e ocupação do solo no que diz respeito à localização de atividades e aos índices urbanísticos.
- C) A utilização de mesas e cadeiras nas proximidades do *trailer* sujeitam-se a prévio processo de autorização, obedecidos os requisitos estabelecidos no Código de Posturas referente à ocupação de logradouros por mesas e cadeiras.
- D) Equipamento de som poderá ser instalado no *trailer* desde que o ruído provocado não ultrapasse o nível de 70 (setenta) decibéis - dB (A).

Questão 32

A legislação que trata do Sistema de Limpeza Urbana e de Posturas define obrigações para as pessoas físicas ou jurídicas que comercializam ou prestam serviços em vias e logradouros públicos, sejam elas permissionárias ou licenciadas.

Em relação aos deveres daqueles que comercializam alimentos em vias públicas, analise as seguintes afirmativas e assinale a alternativa **INCORRETA**.

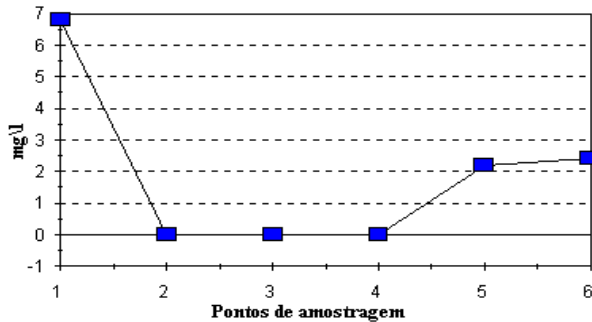
- A) As pessoas físicas ou jurídicas têm o dever de comercializar mercadorias em condições de higiene e asseio acompanhadas somente do alvará de procedência que autoriza o consumo das mesmas.
- B) As pessoas físicas ou jurídicas têm o dever de manter sempre limpa a área de trabalho, recolhendo o lixo e dando destino a ele, após o encerramento das atividades.
- C) As pessoas físicas ou jurídicas têm o dever de remover do local todos os seus pertences ao final da jornada de trabalho para o caso das instalações móveis de pontos definidos.
- D) As pessoas físicas ou jurídicas têm o dever de zelar para que os gêneros alimentícios não estejam deteriorados nem contaminados e apresentem perfeitas condições de higiene, desde a sua fabricação e armazenamento até o momento da revenda.

Questão 33

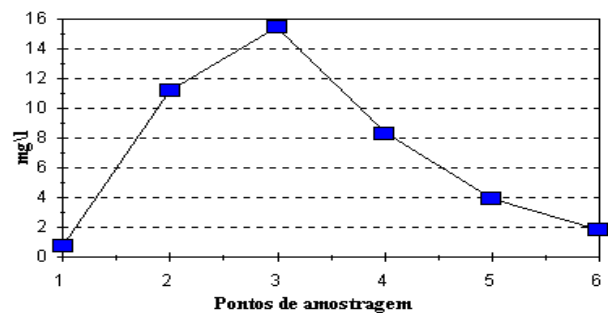
Considere uma cidade em que os resultados da vazão de um rio sejam coerentes com atividades domésticas e variáveis durante o dia.

Analise os seguintes gráficos e assinale o que indica o Oxigênio Dissolvido (OD) da sua nascente e passagem por essa cidade.

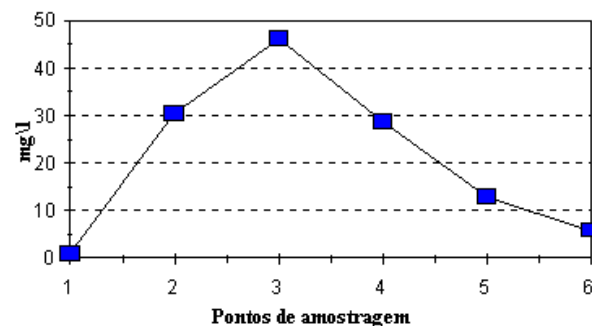
A)



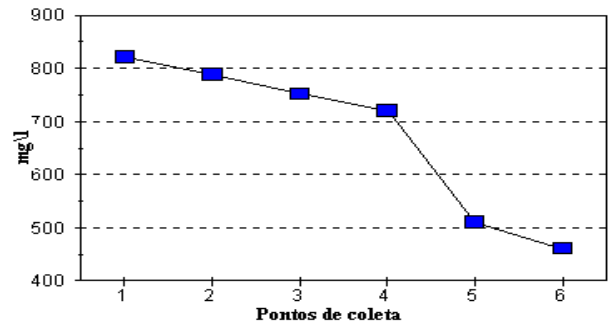
B)



C)



D)



Questão 34

Leia o texto retirado de Linhares e Gewandsnajder (2008).

"Em 1934 o cientista russo Gause estudou o efeito da competição interespecífica em duas espécies de *Paramecium*: *Paramecium aurelia* e *Paramecium caudata*. Em geral, criados em separado esses protozoários crescem até um nível que aparentemente equivale ao limite da capacidade de sustentação do ambiente. No experimento de Gause, as duas espécies foram cultivadas juntas. Maior e de reprodução mais lenta, a *Paramecium caudata* diminuía até se extinguir: a *Paramecium aurelia* continuava a crescer até se estabilizar."

Com base nesse texto sobre esse experimento de Gause, é **CORRETO** afirmar que

- A) as duas espécies não ocupam o mesmo nicho ecológico.
- B) o experimento demonstra o princípio da exclusão competitiva.
- C) as espécies são parasitas.
- D) o ambiente não afetou em nada o resultado.

Questão 35

Analise as seguintes afirmativas concernentes aos levantamentos topográficos e assinale a alternativa **INCORRETA**.

- A) O posicionamento com o GPS (sistema de posicionamento global) é baseado na determinação da distância instantânea entre uma ou mais estações terrestres e vários satélites.
- B) A representação do relevo na topografia cartográfica pode ser realizada por diversos processos: pontos cotados e curvas de nível, hipsométricas, sombras atenuadas e relevos.
- C) Designam-se por curvas de nível as isolinhas que unem pontos da superfície do terreno situados à mesma distância de um determinado ponto de referência.
- D) Os métodos convencionais de posicionamento, utilizados em topografia, baseiam-se na medição de grandezas geométricas tais como ângulos, distâncias e desníveis, diretamente observáveis com equipamento adequado.

Questão 36

Analise as seguintes afirmativas concernentes ao custo indireto de uma obra e assinale a alternativa **INCORRETA**.

- A) Ele pode ter ocorrência anterior ao início da obra: visitas de campo, estudos técnicos, ensaios, elaboração de planejamento, taxas e emolumentos (alvará) etc.
- B) Ele pode ter ocorrência simultânea à execução da obra: salários e despesas correntes do canteiro.
- C) Ele pode ter ocorrência posterior à obra: desmobilização do canteiro, taxas e emolumentos (habite-se), confecção de memoriais e *as built* etc.
- D) Uma betoneira, mesmo que não tenha sido incluída como insumo no serviço de reboco, ainda assim é tratada como custo direto.

Questão 37

Integram o Sistema Nacional de Defesa do Consumidor (SNDC), **EXCETO**

- A) Conselho Administrativo de Defesa Econômica.
- B) entidades privadas de defesa do consumidor.
- C) Procons das Prefeituras.
- D) Procons do Ministério Público.

Questão 38

De acordo com o Código de Defesa do Consumidor, os Procons podem aplicar as seguintes sanções administrativas, **EXCETO**

- A) apreensão do produto.
- B) execução das multas aplicadas.
- C) interdição, total ou parcial, de estabelecimentos, de obra ou de atividade.
- D) inutilização do produto.

Questão 39

Analise as seguintes afirmativas relacionadas ao Código de Trânsito Brasileiro e assinale a alternativa **INCORRETA**.

- A) Considera-se trânsito a utilização das vias por pessoas, veículos e animais, isolados ou em grupos, conduzidos ou não, para fins de circulação, parada, estacionamento e operação de carga ou descarga.
- B) Os sinais de trânsito classificam-se em: verticais, horizontais, dispositivos de sinalização auxiliar, luminosos, sonoros, gestos do agente de trânsito e do condutor.
- C) A sinalização terá a seguinte ordem de prevalência: as ordens do agente de trânsito sobre as normas de circulação e outros sinais; as indicações do semáforo sobre os demais sinais; as indicações dos sinais sobre as demais normas de trânsito.
- D) Onde não existir sinalização regulamentadora específica, a velocidade máxima para automóveis e camionetas nas estradas será de 110 (cento de dez) quilômetros por hora.

Questão 40

Analise as seguintes afirmativas referentes a características do tráfego e ao Código de Trânsito Brasileiro e assinale a alternativa **INCORRETA**.

- A) As vias urbanas classificam-se em: vias expressas, vias arteriais, vias coletoras, vias locais, ciclovias e vias para pedestres.
- B) Volume de tráfego é o número de veículos que passa por uma determinada seção de via na unidade de tempo.
- C) Composição do tráfego é a medida, em volume, de dois ou mais tipos de veículos encontrados na corrente de tráfego.
- D) O cálculo do fator de hora de pico objetiva expressar a variação da intensidade do tráfego durante a hora de pico.