



CONCURSO PÚBLICO

Edital 02/2010

OFICIAL DE SERVIÇOS EDUCACIONAIS INSPETOR DE ALUNOS

Código 102

**LEIA COM ATENÇÃO AS INSTRUÇÕES DESTE CADERNO.
Elas fazem parte da sua prova.**

Este caderno contém a **Prova Objetiva** abrangendo conteúdos de **Língua Portuguesa, Matemática, Atualidades/Legislação e Conhecimentos Específicos.**

Use como rascunho a **Folha de Respostas** reproduzida no final deste caderno.

Ao receber a **Folha de Respostas**:

- confira seu nome, número de inscrição e cargo de opção;
 - assine, **A TINTA**, no espaço próprio indicado.
-

	A	B	C	D
01	<input checked="" type="checkbox"/>	<input type="checkbox"/>	<input type="checkbox"/>	<input type="checkbox"/>
02	<input type="checkbox"/>	<input checked="" type="checkbox"/>	<input type="checkbox"/>	<input type="checkbox"/>
03	<input type="checkbox"/>	<input type="checkbox"/>	<input checked="" type="checkbox"/>	<input type="checkbox"/>
04	<input type="checkbox"/>	<input type="checkbox"/>	<input type="checkbox"/>	<input checked="" type="checkbox"/>

Ao transferir as respostas para a **Folha de Respostas**:

- use apenas caneta esferográfica azul ou preta;
 - preencha, sem forçar o papel, toda a área reservada à letra correspondente à resposta solicitada em cada questão;
 - assinale somente uma alternativa em cada questão. Sua resposta não será computada se houver marcação de mais de **uma alternativa, questões não assinaladas ou questões rasuradas.**
-

NÃO DEIXE NENHUMA QUESTÃO SEM RESPOSTA.

A **Folha de Respostas** não deve ser dobrada, amassada ou rasurada.

CUIDE BEM DELA, ELA É A SUA PROVA.

No período estabelecido para a realização da prova, está incluído o tempo necessário à transcrição das respostas do rascunho para a **Folha de Respostas.**

ATENÇÃO: Nos termos do Edital 02/2010, “Será eliminado deste Concurso Público o candidato que incorrer nas seguintes situações: [...], **portar arma(s)** no local de realização das provas [...] **portar** [...] ou fazer uso [...] de **qualquer equipamento eletrônico** [...] **ou de instrumentos de comunicação** [...] **celular** [...] entre outros [...]” (subitem 8.3.30 alíneas “e” e “f”).

DURAÇÃO TOTAL DA PROVA: QUATRO HORAS

ATENÇÃO

Senhor(a) Candidato(a),

Antes de começar a fazer a prova, confira se este caderno contém, ao todo, **30 (trinta) questões de múltipla escolha** — **10 (dez) questões de Língua Portuguesa, 5 (cinco) questões de Matemática, 5 (cinco) questões de Atualidades/Legislação e 10 (dez) questões de Conhecimentos Específicos**, todas perfeitamente legíveis.

Havendo algum problema, informe-o ***imediatamente*** ao Aplicador de Provas para que ele tome as providências necessárias.

Caso V.S^a não observe essa recomendação, ***não lhe caberá qualquer reclamação ou recurso posteriores.***

➤ Língua Portuguesa

INSTRUÇÃO – As questões de 1 a 5 relacionam-se com o texto abaixo. Leia-o com atenção antes de responder a elas.

APOSTA NA COPA

A realização, no Brasil, da Copa do Mundo de 2014 deverá provocar um impacto de R\$183,2 bilhões na economia brasileira. Esta é a previsão do Banco Nacional de Desenvolvimento Econômico e Social (BNDES), instituição oficial que será responsável por financiar boa parte das obras para receber o maior
5 evento do futebol mundial. O valor estimado equivale a quase 6% de toda a riqueza produzida no país em 2009, quando o Produto Interno Bruto (PIB) somou R\$3,1 trilhões. Somente na área de turismo, a expectativa é receber ao longo do evento 600 mil estrangeiros e movimentar 3,1 milhões de brasileiros pelas cidades-sede do torneio. Trata-se de uma notícia muito estimulante para o trabalhador e
10 empreendedor brasileiro, já que a movimentação de recursos tão vultosos beneficiará diversos segmentos de nossa economia, em especial os setores de serviços e produtivo, gerando também milhares de empregos.

As perspectivas são especialmente boas para os jovens que estão entrando ou que iniciaram há pouco sua jornada no mercado de trabalho. As
15 oportunidades a serem geradas até 2014 envolvem postos na construção civil; área de logística e transportes; indústrias de material de construção, produtos esportivos, eletroeletrônicos e brindes; prestação de serviços; segurança; educação; comunicação; alimentação; lazer; turismo, entre outros. Além das possibilidades com a geração de empregos, o momento da Copa do Mundo é ideal
20 para o empreendedorismo. Um evento tão grande como esse é especialmente receptivo às novidades, ao diferencial, a ideias e produtos criativos e a novas opções de serviços.

*(Marcelo Gonçalves (Sócio-diretor, responsável pela área de training no Brasil)
Texto adaptado. Jornal Estado de Minas, 1º/02/2010)*

Questão 1

É **CORRETO** afirmar que o texto lido é

- A) irônico.
- B) otimista.
- C) fictício.
- D) alarmante.

Questão 2

De acordo com o texto, a Copa do Mundo no Brasil vai ser financiada principalmente

- A) por estrangeiros.
- B) por profissionais liberais.
- C) pelo BNDES.
- D) por empresários.

Questão 3

De acordo com o texto, é **CORRETO** afirmar que

- A) a realização da Copa do Mundo no Brasil irá provocar um impacto negativo na construção civil.
- B) o desemprego será enorme no período da Copa do Mundo.
- C) as expectativas não são boas, especialmente para os jovens.
- D) o momento da Copa Do Mundo é ideal para o empreendedorismo.

Questão 4

Para que a Copa do Mundo seja realizada com sucesso no Brasil, serão destinados recursos para os seguintes setores, **menos** para

- A) hotelaria.
- B) transporte.
- C) construção civil.
- D) agropecuária.

Questão 5

O texto lido é

- A) uma descrição.
- B) uma narração.
- C) um poema.
- D) uma notícia.

Questão 6

As perspectivas são especialmente boas para os jovens que estão entrando no mercado de trabalho.

Na frase acima, as palavras sublinhadas são classificadas em

- A) artigo, verbo, adjetivo, substantivo.
- B) artigo, adjetivo, substantivo, verbo.
- C) substantivo, adjetivo, verbo, artigo.
- D) artigo, substantivo, verbo, adjetivo.

Questão 7

As seguintes alternativas apresentam palavras acentuadas corretamente, **EXCETO**

- A) júri, lápis, núvem.
- B) lâmpada, árvore, África.
- C) maracujá, café, você.
- D) dominó, armazém, parabéns.

Questão 08

Assinale a oração que apresenta um período composto.

- A) As oportunidades a serem geradas em 2014 envolvem muitos trabalhadores.
- B) As oportunidades envolvem postos na construção civil na área logística e transportes.
- C) A Copa do Mundo será ideal para o empreendedorismo.
- D) Trata-se de uma notícia muito estimulante para o trabalhador.

Questão 9

“O valor estimado equivale a quase 6% de toda a riqueza produzida no país em 2009 [...]”
(linhas 5-6)

Na frase acima, a palavra sublinhada

- A) indica uma qualidade.
- B) indica uma ação.
- C) nomeia um ser.
- D) substitui um nome.

Questão 10

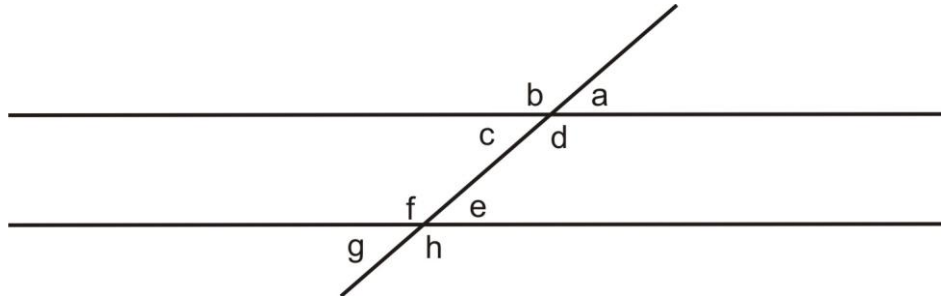
Assinale a alternativa em que a palavra está escrita *incorretamente*.

- A) Eletrodomésticos
- B) Eletroeletrônicos
- C) Possibilidades
- D) Exeção

➤ Matemática

Questão 11

Analise as seguintes afirmativas, com base no desenho abaixo e assinale com **V** as verdadeiras e com **F** as falsas.



- () A soma dos ângulos **a** e **c** é igual a 180° .
- () Os ângulos **f** e **g** são complementares.
- () Os ângulos **b** e **d** são opostos pelo vértice.
- () Os ângulos **e** e **g** são congruentes.

Assinale a alternativa que apresenta a sequência de letras **CORRETA**.

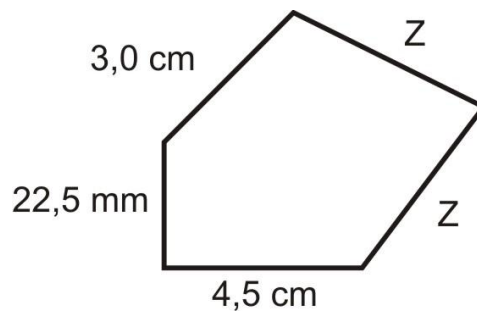
- A) (F) (V) (V) (F)
- B) (F) (F) (V) (V)
- C) (V) (F) (F) (V)
- D) (V) (V) (F) (F)

Questão 12

Um comerciante adiciona 8% no preço a vista de suas mercadorias, para vender a prazo e dividir em 4 parcelas iguais. Sendo o valor da mercadoria a vista R\$ 120,00, o valor de cada parcela será de

- A) R\$ 31,20
- B) R\$ 39,80
- C) R\$ 32,40
- D) R\$ 34,80

Questão 13

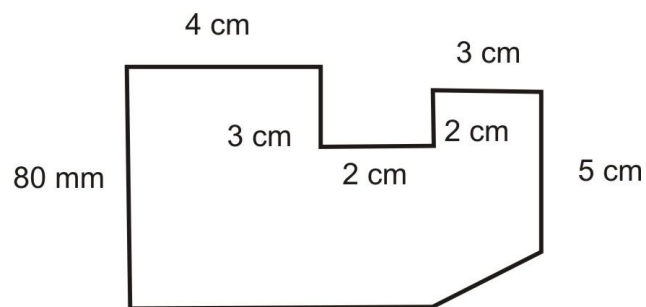


Sabendo-se que o perímetro da figura acima é 21,75 cm, a medida dos lados **z** será

- A) 5,0 cm
- B) 6,0 cm
- C) 8,0 cm
- D) 7,0 cm

Questão 14

Observe a seguinte figura.



A área desta figura é

- A) 48 cm²
- B) 56 cm²
- C) 52 cm²
- D) 60 cm²

Questão 15

Em uma corrida de táxi, a bandeirada inicial é de R\$ 5,30.

O valor pago em uma corrida de 12 km foi R\$ 23,30. Nesse caso, o valor do km rodado foi

- A) R\$ 1,50
- B) R\$ 1,44
- C) R\$ 2,62
- D) R\$ 1,65

Atualidades/Legislação

Questão 16

“Vivemos hoje uma grave crise mundial de valores. É difícil para a grande maioria da humanidade saber o que é correto e o que não é”. (BOFF, 2009, p. 27)

As seguintes afirmativas são reflexos da crise mundial de valores, **EXCETO**

- A) uma permanente tensão nas relações sociais que tende a se organizar mais em torno do direito e da justiça do que de interesses particulares.
- B) uma lógica dominante da economia e do mercado regida pela competição.
- C) uma insegurança muito grande na vida das pessoas.
- D) uma lógica que cria exclusão e não cooperação.

Questão 17

As fontes de energias podem ser renováveis e não renováveis.

NÃO são consideradas fontes de energias renováveis:

- A) petróleo, gás natural e carvão.
- B) gás natural, rios e madeira.
- C) rios, ventos e luz solar.
- D) ventos, petróleo e carvão.

Questão 18

De alguns anos para cá, cresceu, no Brasil, um movimento para que a maioria penal – idade mínima para que alguém possa ser preso fosse alterada de

- A) dezesseis para dezoito anos.
- B) dezoito para dezesseis anos.
- C) dezesseis para quatorze anos.
- D) dezoito para vinte e um anos.

Questão 19

“A _____ trouxe, entre outras coisas, a planetarização da condição humana e a consciência de que a Terra e a humanidade possuem destino comum. Por isso, devemos enfrentar juntos o futuro como um sujeito único.” (Boff, 2009, p. 81)

Assinale a alternativa que preenche **corretamente** a lacuna do texto acima.

- A) ecologia
- B) ética
- C) globalização
- D) guerra

Questão 20

Analise as seguintes afirmativas referentes ao art. 2º da Lei Complementar n. 392/2008 da Prefeitura Municipal de Uberaba e assinale com **V** as **verdadeiras** e com **F** as **falsas**.

- () O servidor é a pessoa legalmente investida em cargo público.
- () Os cargos públicos são criados por lei, com denominação própria e jornada de trabalho específica.
- () Os cargos públicos de provimento efetivo são os que envolvem atividades de direção, chefia e assessoramento.
- () Os cargos públicos em comissão deverão ser organizados em carreira e poderão ser isolados.

Assinale a alternativa que apresenta a sequência de letras **CORRETA**.

- A) (F) (F) (V) (V)
- B) (V) (V) (F) (F)
- C) (V) (F) (V) (F)
- D) (F) (V) (F) (V)

➤ **Conhecimentos Específicos**

Questão 21

Nos termos da LDB n. 9.394/96, **NÃO** faz parte da educação básica

- A) a educação infantil.
- B) o ensino fundamental.
- C) ensino superior.
- D) ensino médio.

Questão 22

Em relação ao Ensino Fundamental, constitui exigência na LDB n. 9.394/96, **EXCETO**

- A) ter duração mínima de quatro anos.
- B) ter duração mínima de nove anos.
- C) ser obrigatório e gratuito na escola pública.
- D) desenvolver atitudes, valores e capacidade de aprender.

Questão 23

A LDB n. 9.394/96 estabelece regras comuns para organização da educação básica nos níveis fundamental e médio, que incluem diversos recursos pedagógicos.

Entre esses recursos incluem-se, **EXCETO**

- A) a possibilidade de aceleração de estudos para alunos com atraso escolar.
- B) a promoção automática para alunos com atraso escolar.
- C) a possibilidade de avanço nos cursos e nas séries ou etapas mediante verificação da aprendizagem.
- D) a avaliação de desempenho do aluno e estudos de recuperação ao longo do período letivo.

Questão 24

Em relação a quando devem ocorrer os estudos obrigatórios de recuperação da aprendizagem, indicados pela Lei de Diretrizes e Bases da Educação Nacional, assinale a alternativa **INCORRETA**.

- A) Diariamente no decorrer das atividades curriculares.
- B) Apenas nos períodos bimestrais e ao final do ano letivo.
- C) No momento em que surge a dificuldade.
- D) Ao longo do ano letivo.

Questão 25

As normas vigentes não permitem a venda de determinados produtos à criança ou adolescente.

Entre esses produtos, são proibidos os seguintes, **EXCETO**

- A) bebidas alcoólicas ou outro causador de dependência.
- B) sanduíches ou outro similar com recheios balanceados.
- C) fogos de estampido e de artifício provocadores de danos físicos.
- D) revistas e publicações inadequadas ou impróprias, no período de formação básica.

Questão 26

A gestão democrática na educação básica requer os seguintes princípios, **EXCETO**

- A) participação dos alunos nos Conselhos de Classe.
- B) participação dos profissionais da educação na elaboração do projeto pedagógico da escola.
- C) participação das comunidades escolar e local em conselhos escolares ou equivalentes.
- D) participação dos diferentes segmentos da comunidade escolar no Colegiado por indicação do Diretor.

Questão 27

Compete aos Estados e Municípios em regime de colaboração, **EXCETO**

- A) recensear a população em idade escolar para o ensino fundamental.
- B) recensear os jovens e adultos que não tiveram acesso à educação básica.
- C) garantir vagas no ensino superior para atendimento à demanda.
- D) zelar, junto aos pais, ou responsáveis, pela frequência à escola.

Questão 28

Carlos é inspetor escolar numa instituição que trabalha os espaços escolares de acordo com a proposta dos PCNs e participou da elaboração da Proposta Pedagógica da Escola.

Nesse caso, para Carlos, uma situação que **NÃO** é comum na escola seria

- A) alunos zelando pela decoração, ordem e limpeza da sala.
- B) alunos realizando atividades fora de sala de aula.
- C) pouco movimento e muito silêncio nas dependências dela.
- D) paredes e murais utilizados para exposição de trabalhos.

Questão 29

Segundo os PCNs, a escola pode abordar os conteúdos em três categorias: conteúdos conceituais, procedimentais e atitudinais.

Em relação aos conteúdos **atitudinais**, analise as seguintes afirmativas e assinale com **V** as **verdadeiras** e com **F** as **falsas**.

- () A informação é suficiente para transformação de valores e atitude.
- () Uma prática constante e coerente cujos relacionamentos expressam os valores almejados contribui para a aprendizagem de atitudes
- () Na prática escolar é preciso levar em conta que cada aluno pertence a um grupo social com seus próprios valores.

Assinale a alternativa que apresenta a sequência de letras **CORRETA**.

- A) (V) (F) (V)
- B) (F) (V) (V)
- C) (V) (V) (F)
- D) (F) (F) (V)

Questão 30

Considerando as orientações dos PCNs a respeito da maneira que a avaliação dos alunos deve ser vista pelos integrantes da escola, analise as seguintes afirmativas e assinale com **V** as **verdadeiras** e com **F** as **falsas**.

- () A avaliação dos alunos possibilita uma reflexão contínua sobre a prática escolar.
- () A avaliação dos alunos possibilita a retomada de aspectos que precisam ser revistos.
- () A avaliação dos alunos deve centrar-se no julgamento do sucesso ou do fracasso do aluno.

Assinale a alternativa que apresenta a sequência de letras **CORRETA**.

- A) (V) (V) (F)
- B) (V) (F) (V)
- C) (F) (F) (V)
- D) (F) (V) (F)

FOLHA DE RESPOSTAS (RASCUNHO)

01	A	B	C	D	11	A	B	C	D	21	A	B	C	D
<input type="checkbox"/>	<input type="checkbox"/>	<input type="checkbox"/>	<input type="checkbox"/>	<input type="checkbox"/>	<input type="checkbox"/>	<input type="checkbox"/>	<input type="checkbox"/>	<input type="checkbox"/>	<input type="checkbox"/>	<input type="checkbox"/>	<input type="checkbox"/>	<input type="checkbox"/>	<input type="checkbox"/>	<input type="checkbox"/>
02	A	B	C	D	12	A	B	C	D	22	A	B	C	D
<input type="checkbox"/>	<input type="checkbox"/>	<input type="checkbox"/>	<input type="checkbox"/>	<input type="checkbox"/>	<input type="checkbox"/>	<input type="checkbox"/>	<input type="checkbox"/>	<input type="checkbox"/>	<input type="checkbox"/>	<input type="checkbox"/>	<input type="checkbox"/>	<input type="checkbox"/>	<input type="checkbox"/>	<input type="checkbox"/>
03	A	B	C	D	13	A	B	C	D	23	A	B	C	D
<input type="checkbox"/>	<input type="checkbox"/>	<input type="checkbox"/>	<input type="checkbox"/>	<input type="checkbox"/>	<input type="checkbox"/>	<input type="checkbox"/>	<input type="checkbox"/>	<input type="checkbox"/>	<input type="checkbox"/>	<input type="checkbox"/>	<input type="checkbox"/>	<input type="checkbox"/>	<input type="checkbox"/>	<input type="checkbox"/>
04	A	B	C	D	14	A	B	C	D	24	A	B	C	D
<input type="checkbox"/>	<input type="checkbox"/>	<input type="checkbox"/>	<input type="checkbox"/>	<input type="checkbox"/>	<input type="checkbox"/>	<input type="checkbox"/>	<input type="checkbox"/>	<input type="checkbox"/>	<input type="checkbox"/>	<input type="checkbox"/>	<input type="checkbox"/>	<input type="checkbox"/>	<input type="checkbox"/>	<input type="checkbox"/>
05	A	B	C	D	15	A	B	C	D	25	A	B	C	D
<input type="checkbox"/>	<input type="checkbox"/>	<input type="checkbox"/>	<input type="checkbox"/>	<input type="checkbox"/>	<input type="checkbox"/>	<input type="checkbox"/>	<input type="checkbox"/>	<input type="checkbox"/>	<input type="checkbox"/>	<input type="checkbox"/>	<input type="checkbox"/>	<input type="checkbox"/>	<input type="checkbox"/>	<input type="checkbox"/>
06	A	B	C	D	16	A	B	C	D	26	A	B	C	D
<input type="checkbox"/>	<input type="checkbox"/>	<input type="checkbox"/>	<input type="checkbox"/>	<input type="checkbox"/>	<input type="checkbox"/>	<input type="checkbox"/>	<input type="checkbox"/>	<input type="checkbox"/>	<input type="checkbox"/>	<input type="checkbox"/>	<input type="checkbox"/>	<input type="checkbox"/>	<input type="checkbox"/>	<input type="checkbox"/>
07	A	B	C	D	17	A	B	C	D	27	A	B	C	D
<input type="checkbox"/>	<input type="checkbox"/>	<input type="checkbox"/>	<input type="checkbox"/>	<input type="checkbox"/>	<input type="checkbox"/>	<input type="checkbox"/>	<input type="checkbox"/>	<input type="checkbox"/>	<input type="checkbox"/>	<input type="checkbox"/>	<input type="checkbox"/>	<input type="checkbox"/>	<input type="checkbox"/>	<input type="checkbox"/>
08	A	B	C	D	18	A	B	C	D	28	A	B	C	D
<input type="checkbox"/>	<input type="checkbox"/>	<input type="checkbox"/>	<input type="checkbox"/>	<input type="checkbox"/>	<input type="checkbox"/>	<input type="checkbox"/>	<input type="checkbox"/>	<input type="checkbox"/>	<input type="checkbox"/>	<input type="checkbox"/>	<input type="checkbox"/>	<input type="checkbox"/>	<input type="checkbox"/>	<input type="checkbox"/>
09	A	B	C	D	19	A	B	C	D	29	A	B	C	D
<input type="checkbox"/>	<input type="checkbox"/>	<input type="checkbox"/>	<input type="checkbox"/>	<input type="checkbox"/>	<input type="checkbox"/>	<input type="checkbox"/>	<input type="checkbox"/>	<input type="checkbox"/>	<input type="checkbox"/>	<input type="checkbox"/>	<input type="checkbox"/>	<input type="checkbox"/>	<input type="checkbox"/>	<input type="checkbox"/>
10	A	B	C	D	20	A	B	C	D	30	A	B	C	D
<input type="checkbox"/>	<input type="checkbox"/>	<input type="checkbox"/>	<input type="checkbox"/>	<input type="checkbox"/>	<input type="checkbox"/>	<input type="checkbox"/>	<input type="checkbox"/>	<input type="checkbox"/>	<input type="checkbox"/>	<input type="checkbox"/>	<input type="checkbox"/>	<input type="checkbox"/>	<input type="checkbox"/>	<input type="checkbox"/>

AO TRANSFERIR ESSAS MARCAÇÕES PARA A FOLHA DE RESPOSTAS, OBSERVE AS INSTRUÇÕES ESPECÍFICAS DADAS NA CAPA DA PROVA.

USE CANETA ESFEROGRÁFICA AZUL OU PRETA.

ATENÇÃO:
AGUARDE AUTORIZAÇÃO
PARA VIRAR O CADERNO DE PROVA.