



**SÃO PAULO TURISMO S/A**  
**SELEÇÃO PÚBLICA – EDITAL 001/2010**

**Cód. 35 – Operador de Infraestrutura**

Leia atentamente o texto abaixo e responda às questões de 1 a 6:

Tocando em frente

Ando devagar porque já tive pressa  
E levo esse sorriso porque já chorei demais  
Hoje me sinto mais forte, mais feliz, quem sabe  
Eu só levo a certeza de que muito pouco eu sei  
Eu nada sei

Conhecer as manhas e as manhãs,  
o sabor das massas e das maçãs  
É preciso amor pra poder pulsar,  
é preciso paz pra poder sorrir  
É preciso chuva para florir

Penso que cumprir a vida seja simplesmente  
Compreender a marcha e ir tocando em frente  
Como um velho boiadeiro levando a boiada  
Eu vou tocando os dias pela longa estrada eu vou  
Estrada eu sou

Todo mundo ama um dia, todo mundo chora  
Um dia a gente chega, no outro vai embora  
Cada um de nós compõe a sua história  
E cada ser em si carrega o dom de ser capaz  
De ser feliz

Ando devagar porque já tive pressa  
E levo esse sorriso porque já chorei demais  
Cada um de nós compõe a sua história  
E cada ser em si carrega o dom de ser capaz  
De ser feliz

Almir Sater & Renato Teixeira

(In: [http://www.mpbnet.com.br/musicos/almir.sater/letras/tocando\\_em\\_frente.htm](http://www.mpbnet.com.br/musicos/almir.sater/letras/tocando_em_frente.htm))

- De acordo com a última estrofe do texto:
  - para ser feliz é preciso ir devagar e sorrir sempre.
  - quem tem pressa ou chora muito não consegue ser feliz.
  - embora cada pessoa já tenha sofrido, todas têm a capacidade de encontrar a felicidade.
  - o dom de ser feliz depende da história que cada um constrói.
- Transformando a frase “Ando devagar porque já tive pressa.” em uma pergunta, teremos:
  - Por quê ando devagar, se já tive pressa?
  - Por que ando devagar, se já tive pressa?
  - Porque ando devagar, se já tive pressa?
  - Porquê ando devagar, se já tive pressa?

3. Devagar e pressa, chegar e ir (embora), sorrir e chorar são palavras:
- A) antônimas.
  - B) sinônimas.
  - C) homônimas.
  - D) parônimas.
4. Na frase "Todo mundo ama um dia.", o sujeito é:
- A) composto (todo mundo).
  - B) simples (um dia).
  - C) inexistente.
  - D) simples (todo mundo).
5. Está CORRETA a pontuação em:
- A) Hoje, me sinto mais forte.
  - B) Eu só levo, a certeza de que nada sei.
  - C) Ando devagar, porque já tive pressa.
  - D) Todo mundo, ama, um dia.
6. Em "PENSO que cumprir a vida seja simplesmente...", o verbo destacado está no Presente do Indicativo. Assinale a alternativa em que ele se encontra no Pretérito Perfeito do Indicativo:
- A) Pensava.
  - B) Pensei.
  - C) Pensara.
  - D) Pensasse.

As questões de 7 a 9 referem-se ao texto abaixo:

As sementes do ritmo jamaicano encontraram solo fértil em terras brasileiras, onde cresceram e deram frutos com a cara do nosso povo e da nossa cultura.

(Revista *MTV*. Ano 3, outubro de 2003, p. 107, Editora Abril)

7. A exemplo do texto, a frase em que o pronome relativo ONDE foi empregado corretamente é:
- A) O povo gosta de música onde se fala de amor.
  - B) O povo brasileiro adorou o ritmo, onde fez muito sucesso.
  - C) A nossa cultura, onde foi incorporado o ritmo jamaicano, enriqueceu muito.
  - D) A música da Jamaica chegou ao Brasil, onde fez muito sucesso.
8. A palavra fértil recebe acento gráfico pela regra das paroxítonas, assim como seu plural, férteis. Acentuam-se pelo mesmo motivo:
- A) você e vocês.
  - B) hábil e hábeis.
  - C) próximo e próximos.
  - D) saída e saídas.
9. Em "...deram FRUTOS com a cara do nosso povo...", o termo destacado exerce a função sintática de:
- A) Objeto Indireto.
  - B) Predicativo do Sujeito.
  - C) Objeto Direto.
  - D) Sujeito Simples.

As questões de 10 a 12 são sobre o texto a seguir:

Semana que vem

Esse pode ser o último dia de nossas vidas  
Última chance de fazer tudo ter valido a pena  
Diga sempre tudo que precisa dizer  
Arrisque mais pra não se arrepender  
Nós não temos todo o tempo do mundo  
E esse tempo já faz muito tempo  
O futuro é o presente, e o presente já passou  
O futuro é o presente, e o presente já passou

Na deixe nada pra depois  
Não deixe o tempo passar  
Não deixe nada pra semana que vem  
Porque semana que vem pode nem chegar  
Pra depois  
...o tempo passar  
Não deixe nada pra semana que vem  
Porque semana que vem pode nem chegar

(Pitty)

10. Pode-se resumir a ideia central do texto na frase:

- A) O presente já passou.
- B) Aproveite cada momento da vida.
- C) Não se arrisque, não se arrependa.
- D) O futuro e o presente não existem.

11. Passando o verso “Não deixe nada pra depois” para a 1ª pessoa do plural e mantendo o tempo verbal, teremos:

- A) Não deixem nada pra depois.
- B) Não deixaremos nada pra depois.
- C) Não deixaríamos nada pra depois.
- D) Não deixemos nada pra depois.

12. Em “Última chance de fazer tudo ter valido a pena”, não ocorre crase, porque a palavra em destaque é apenas um artigo. Assinale a alternativa em que o acento grave indicativo de crase foi empregado INCORRETAMENTE:

- A) Aproveite à vida.
- B) Chega-se à conclusão de que é preciso aproveitar a vida.
- C) Entregue-se à vida de corpo e alma.
- D) O texto faz alusão à ideia de que vida deve ser aproveitada.

13. Considere as frases:

O turista transpôs o rio.  
A testemunha depôs perante o juiz.  
O bombeiro se expôs a grandes perigos.

Se as flexionarmos para o plural, as formas verbais ficarão

- A) transporam, deporam, exporam.
- B) transpuserão, depuserão, expuserão.
- C) transpuseram, depuseram, expuseram.
- D) transpuzeram, depuzeram, expuzeram.

14. Complete as lacunas com o adjetivo proposto:

Comprei livro, canetas e estojo \_\_\_\_\_. (velho)  
Ele tinha os cabelos, bigode e camisa \_\_\_\_\_. (molhado)  
Ele demonstrava dedicação e interesse \_\_\_\_\_. (renovado)

A alternativa que apresenta a sequência correta é

- A) velhas, molhada, renovado.
- B) velho, molhadas, renovada.
- C) velhos, molhados, renovados.
- D) velhos, molhado, renovado.

15. "Torna-se \_\_\_\_\_ a percepção de que um estudo profundo sobre educação se faz preciso, haja \_\_\_\_\_ os altos índices de reprovação nos exames vestibulares.

A opção que completa corretamente as lacunas é

- A) necessária / visto.  
B) necessária / vista.  
C) necessário / vistos.  
D) necessário / vista.
16. Apliquei a quantia de R\$ 1.350,00 ao juro composto de 1,75% a.m. No final do 4<sup>o</sup> mês, minha aplicação terá rendido aproximadamente:
- A) R\$ 81,20  
B) R\$ 79,10  
C) R\$ 97,00  
D) R\$ 96,10
17. Meus dois irmãos investiram, na compra de um carro R\$ 8.000,00 e R\$ 12.000,00, cada um. Venderam o veículo por R\$ 22.000,00 e receberam proporcionalmente ao valor investido, respectivamente. O lucro correspondente ao investimento de cada um foi de:
- A) 12%.  
B) 8%.  
C) 15%.  
D) 10%.
18. A diferença entre uma câmera digital de boa resolução e uma de média resolução é de R\$ 224,50. Juntas elas custam R\$ 1.123,50. A câmera de alta resolução custa:
- A) R\$ 674,00.  
B) R\$ 449,50  
C) R\$ 647,00  
D) R\$ 476,50
19. Numa viagem passei pelo quilômetro 320 às 7 horas e pelo quilômetro 500 às 9 horas. Dirigi numa velocidade de:
- A) 80 km/h.  
B) 90 km/h.  
C) 98 km/h.  
D) 85 km/h.
20. Os itens abaixo encontram-se em oferta numa loja. O telefone e o MP3 custam R\$ 169,00 cada um. A filmadora custa R\$ 980,00 a mais do que a câmera digital. Se o preço total dos aparelhos é R\$ 2.536,00, a filmadora custa:



- A) R\$ 1.609,00.  
B) R\$ 1.699,00.  
C) R\$ 1.589,00.  
D) R\$ 1.509,00.

21. Observe os preços dos produtos anunciados pelo supermercado e a lista das compras que fiz.

Produto	Preço R\$	Minha compra
Melancia	0,55 – kg	• 6 sabonetes.
Limão	0,49 – kg	• 6 frascos de detergente
Presunto fatiado	7,65 – kg	• 2,450 kg de carne moída.
Carne moída	7,37 - kg	• 1,80 kg de limão.
Leite	1,19 – caixa de 1 litro	• 12 caixas de leite.
Sabonete detergente	0,49 – unidade	• 2,70 kg de melancia
	0,73 – frasco	• 350 g de presunto fatiado

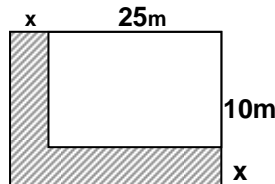
Obs: Use apenas duas casas decimais

Se entreguei ao caixa uma nota de R\$ 50,00 e mais R\$ 4,68 em moedas:

- A) precisei acrescentar mais R\$ 2,00.
- B) não sobrou troco.
- C) recebi R\$ 5,32 de troco.
- D) recebi R\$ 10,00 de troco.

22. Um estacionamento de forma retangular mede 25 metros de comprimento por 10 metros de largura. O proprietário quer aumentar a área para 450 m<sup>2</sup>, acrescentando duas faixas laterais de mesma largura. A medida da largura a ser acrescida deve ser de:

- A) 7,5 metros.
- B) 8 metros.
- C) 5 metros.
- D) 3,5 metros.



23. Analise as afirmações sobre as ocorrências em um concurso público.

- 4.508 candidatos compareceram para fazer as provas.
- 2% dos inscritos não compareceram.
- 30% dos inscritos foram reprovados.

Podemos concluir que foram classificados para as vagas desse concurso \_\_\_\_\_ candidatos.

- A) 3.220.
- B) 1.380.
- C) 3.180.
- D) 1.830.

24. Contratei 2 operários para construir um muro. O serviço foi feito em 9 dias. Se eu tivesse contratado 6 operários, mantendo-se o mesmo ritmo, o muro teria sido construído em \_\_\_\_\_ a menos.

- A) 3 dias.
- B) 5 dias.
- C) 6 dias.
- D) 4 dias.

25. Durante a semana, dos fregueses que frequentaram uma lanchonete 3/5 eram homens, 1/6 eram crianças e 42 eram mulheres. Foram atendidos \_\_\_\_\_ fregueses.

- A) 160.
- B) 180.
- C) 150.
- D) 140.

26. O número que completa a sequência 32 – 28 – 24 – 20 - é:

- A) 18.
- B) 14.
- C) 12.
- D) 16.

27. Para completar o quadro abaixo deve-se colocar o número:

- A) 11.
- B) 10.
- C) 13.
- D) 12.

5	7	2
6	9	3
7	?	4

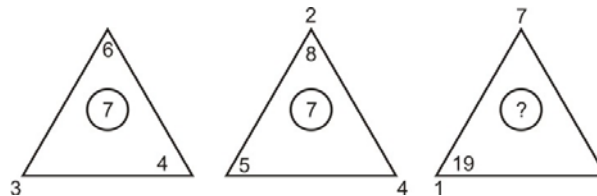
28. Tenho 5 figuras geométricas enfileiradas (quadrado, trapézio, retângulo, triângulo e círculo), uma ao lado da outra, não necessariamente nessa ordem. O triângulo está numa das extremidades. O retângulo está entre o círculo e o triângulo. O círculo está entre o trapézio e o retângulo.

Na outra extremidade está:

- A) o quadrado.
- B) o trapézio.
- C) o círculo.
- D) o triângulo.

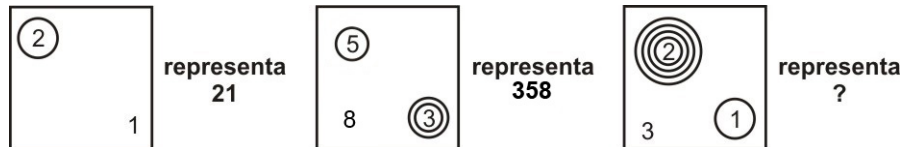
29. Observe a lógica dos triângulos para achar o número que deverá ser colocado no ?.

- A) 10.
- B) 12.
- C) 13.
- D) 11.



30. Observe a representação:

- A) 2.013.
- B) 20.013.
- C) 20.031.
- D) 200.013.



31. A fiscalização da infraestrutura da montagem de um evento requer cuidadosa observação para obtenção do devido alvará de funcionamento. Dentre os vários itens, não se inclui a fiscalização do

- A) sistema de proteção contra descargas atmosféricas.
- B) sistema de credenciamento para participação do evento.
- C) sistema de detecção e alarme de advertência geral.
- D) sistema de aparelhos de transporte vertical.

32. O uso de Equipamento de Proteção Individual – EPI – pelos funcionários que trabalham em montagem de eventos é obrigatório e necessário. Podemos citar, dentre outros, alguns exemplos de EPI e suas respectivas indicações e exigências de uso:

- 1 - cinto de segurança para trabalho em lugares altos.
- 2 - máscara de soldador para o trabalho de instalação elétrica.
- 3 - botas de borracha para lavagem de piso.

Está correto o que se afirma em:

- A) 2 e 3, apenas.
- B) 1 e 2, apenas.
- C) 1, 2 e 3.
- D) 1 e 3, apenas.

33. Um dos focos de atenção durante a verificação da montagem estrutural de eventos se refere aos cuidados básicos de prevenção de incêndio não permitindo que os trabalhadores
- 1 - utilizem a casa de força, a casa de máquinas de elevadores ou a casa de bombas do recinto como depósitos de materiais.
  - 2 - fumem em locais proibidos, mal ventilados ou sujeitos a alta concentração de vapores inflamáveis como os de cola e os de materiais de limpeza.
  - 3 - descartem os palitos de fósforo ainda acessos.
- São orientações corretas:
- A) 1 e 2, apenas.
  - B) 1 e 3, apenas.
  - C) 1, 2 e 3.
  - D) 2 e 3, apenas.
34. São instruções gerais que devem ser transmitidas aos funcionários que trabalham na montagem de um evento:
- 1 - evitem que a água da lavagem atinja os circuitos elétricos ou enferruje as bases das portas corta-fogo.
  - 2 - nunca deixem que a água se infiltre pelas portas dos elevadores, pois isso pode provocar sérios acidentes.
  - 3 - não utilizem a mangueira dos hidrantes para lavar pisos ou regar jardins.
  - 4 - Não liguem mais de um aparelho elétrico por tomada para não sobrecarregar o circuito.
- São orientações que devem ser seguidas:
- A) 2, 3 e 4 apenas.
  - B) 1, 2 e 3 apenas.
  - C) 1, 2, 3 e 4.
  - D) 1, 3 e 4 apenas.
35. No relatório para solicitação de reparos em problemas na instalação elétrica no recinto do evento não deve constar como irregularidade quando for constatado
- A) aterramento adequado para instalações e equipamentos elétricos como torneiras, chuveiros elétricos, ar-condicionado, etc..
  - B) constante abertura dos dispositivos de proteção (disjuntores).
  - C) queima freqüente de fusíveis.
  - D) aquecimento de fiação e/ou de disjuntores.
36. No caso de utilização de botijão de gás, medidas de segurança devem ser adotadas por quem supervisiona um local de evento e, além de inspecionar deve orientar sobre seu uso e manipulação. Constitui orientação correta:
- A) para verificar vazamento recomenda-se usar fósforos ou chama.
  - B) pode-se improvisar maneiras de eliminar vazamentos usando cera.
  - C) os botijões devem ser colocados em lugares fechados para evitar a propagação do gás em todo o ambiente.
  - D) na troca de botijão o registro deve ser rosqueado apenas com as mãos para evitar rompimento da válvula interna o que pode provocar vazamentos perigosos.
37. É de suma importância que os extintores de incêndio estejam em perfeito estado de conservação e otimizados para o uso, o que exige verificação constante e solicitações de providências imediatas em caso de irregularidades. Analise os itens e assinale aquele que indica necessidade de manutenção do aparelho.
- A) O prazo da recarga encontra-se dentro do período de validade.
  - B) Os manômetros indicam faixa vermelha.
  - C) Os bicos e as válvulas da tampa estão desentupidos.
  - D) O aparelho não apresenta vazamento.
38. A caixa de incêndio deve ser verificada constantemente e, se necessário, solicitados os reparos. Não há necessidade de reparo quando
- A) a mangueira apresentar os acoplamentos enrolados para fora, facilitando o engate no registro e no esguicho.
  - B) o registro apresentar vazamento ou volante emperrado.
  - C) for notada a presença de juntas amassadas.
  - D) houver água no interior das mangueiras ou no interior da caixa hidrante.

39. Um item que merece atenção especial para proteção e segurança dos trabalhadores e visitantes em caso de emergência diz respeito à circulação, meios de escape e rotas de fuga. Deve ser verificado e garantido que:

- 1 - os corredores, escadas e saídas de emergência permaneçam constantemente desobstruídos.
- 2 - as coletas de lixo sejam planejadas de forma que não comprometam o abandono do recinto em caso de emergência.
- 3 - as portas corta-fogo não sejam fechadas com trincos ou cadeados.

São itens corretos:

- A) 1 e 2, apenas.
- B) 1 e 3, apenas.
- C) 2 e 3, apenas.
- D) 1, 2 e 3.

40. O Operador de Infraestrutura deve ter conhecimento de que a iluminação de emergência, que entra em funcionamento quando falta energia elétrica, pode ser alimentada por gerador ou bateria e acumuladores (não-automotiva). É incorreto afirmar que

- A) as baterias devem ser instaladas acima do piso e afastadas da parede, em local seco, ventilado e sinalizado.
- B) as baterias devem passar por manutenção periódica.
- C) a instalação da iluminação de emergência é opcional nos elevadores.
- D) as baterias devem ter seus terminais (pólos) e a densidade do eletrólito verificados de acordo com as indicações do fabricante.