

**SÃO PAULO TURISMO S.A.**  
**SELEÇÃO PÚBLICA – EDITAL 001/2010**

**Cód. 02 – Advogado**

**Onde fica o "onde"**

[No número 9 da revista *Discutindo Língua Portuguesa*] comentou-se rapidamente o uso do "onde" (adjunto adverbial de lugar), que é aplicado pelos brasileiros de forma aleatória e de acordo com a necessidade e criatividade do falante. O tema rendeu discussões, e tocá-lo novamente pode ser interessante. Afinal, o uso desse adjunto verificado no cotidiano demonstra o poder de imaginação da população, com seu "jeitinho brasileiro", ao reconstruir a sua gramática.

Na frase "Ela retomou a discussão onde ficou nervosa", o "onde" está mal aplicado (sempre, de acordo com as normas), e é o principal causador de ambiguidade, afinal não é possível saber a real intenção do falante. Algumas possibilidades são: a) a discussão na qual ela teria ficado nervosa e b) retomou a discussão e por isso está nervosa.

Outra frase cuja construção dificulta o entendimento é "Meu pai trabalha onde possa me sustentar". Na primeira leitura, a oração não parece ter problemas, no entanto a relação estabelecida com "onde" é de finalidade – o contexto do qual foi extraída indicava essa idéia. A mesma situação ocorre em "Ele trouxe brinquedos onde seu filho pudesse se divertir". Mais uma vez, o contexto faz sua parte: a menos que se tratasse de brinquedos dentro dos quais a criança pudesse se divertir, esse "onde" não pode significar lugar em que se brinca.

Há também o famoso "onde temporal", talvez o mais comum de todos: "Na Idade Média, onde a Igreja detinha grande poder", ou ainda "Na ditadura militar, onde não se tinha liberdade de imprensa". É uma confusão entre tempo e espaço não tão difícil de entender: "quando" é o advérbio correto para os exemplos citados.

"O caminhão quebrou na estrada onde causou grande congestionamento". Na oração, o "onde" ganhou função consecutiva, isto é, o incidente teve como consequência o trânsito em toda a cidade.

Talvez o que melhor exemplifique a abrangência do "onde" na língua portuguesa seja o expletivo, ou seja, o uso como partícula de realce, sem funcionalidade gramatical, mas com função semântica. Por exemplo: "Eu cheguei cedo ao trabalho, onde resolvi esperar um pouco. Onde percebi: era feriado". O primeiro uso ainda poderia ser associado ao da conjunção aditiva "e", mas o segundo é dispensável. Para fechar, temos o uso adversativo: "O médico foi chamado para atendê-la onde não pôde fazer mais nada", aplicação que absorve o sentido de "mas".

Andréa Neiva, *Discutindo Língua Portuguesa*

1. A palavra grifada no primeiro parágrafo significa o mesmo que:

- A) alegórica.
- B) afirmativa.
- C) casual.
- D) semelhante.

2. A palavra duplamente grifada no primeiro parágrafo do texto refere-se a:

- A) adjunto.
- B) tema.
- C) uso.
- D) uso desse adjunto.

3. Leia com atenção as afirmativas abaixo.

- 1 - O uso coloquial desse adjunto pode expressar, além de relação de lugar, relação temporal, de finalidade, consequência, adversidade, bem como os usos expletivo e aditivo.
- 2 - Apesar de todos esses usos, o "onde" nunca cria equívocos num texto.

Sobre elas é possível dizer que:

- A) 1 é correta e 2 é incorreta.
- B) 1 é incorreta e 2 é correta.
- C) ambas são corretas.
- D) ambas são incorretas.

4. Há erro de regência verbal na oração da alternativa:
- A) Implicou em muito trabalho para as pessoas.
  - B) Ninguém aspirava ao cargo de professor de português.
  - C) Visava ao cargo de professor de português.
  - D) Esqueci-me de lhe telefonar.
5. A crase está incorretamente empregada na alternativa:
- A) Deu o anel à ele de presente.
  - B) Pedimos um espagete à bolonhesa.
  - C) Fomos à farmácia para comprar os remédios necessários.
  - D) Falava da menina sentada à sua direita.
6. O par de antônimos não está correto na alternativa:
- A) ambidestro→ambiesquerdo.
  - B) descrédito→depreciação.
  - C) audacioso→pusilânime.
  - D) louvor→apupo.
7. O sujeito é indeterminado na oração da alternativa:
- A) Falaram a seu respeito durante a festa.
  - B) Choveu a tarde toda.
  - C) Havia muitas coisas a serem ditas.
  - D) Anoiteceu lentamente naquele dia.
8. Complete os claros das orações abaixo.
1. É preciso que eu \_\_\_\_\_ (fazer) o que deve ser feito.
  2. Se eu \_\_\_\_\_ (fazer) o almoço ele será delicioso.
  3. Quando você \_\_\_\_\_ (ver) o carro que eu comprei, gostará.

Assinale a alternativa que completa com correção, e na sequência, os claros acima:

- A) faço – fazer – ver.
  - B) faço – fizer – ver.
  - C) faça – fazer – ver.
  - D) faça – fizer - vir.
9. Assinale a resposta que completa corretamente as orações:
- O agente do crime fugiu para evitar prisão em \_\_\_\_\_.
  - Os acordos de paz entre os países é \_\_\_\_\_.
  - O motorista \_\_\_\_\_ a lei de trânsito.
- A) flagrante – iminente – infligiu.
  - B) flagrante – eminente – infligiu.
  - C) flagrante – eminente – infringiu.
  - D) flagrante – iminente – infringiu.
10. Assinale a alternativa que completa corretamente os claros.
- Este livro é para \_\_\_\_ ler.
  - Deixar de fumar será benefício para \_\_\_\_\_.
  - Esta ordem de serviço é para \_\_\_\_\_ executar.
  - Eu fiz tudo para ela gostar de \_\_\_\_\_.
- A) eu – eu – mim – mim.
  - B) eu – mim – eu – mim.
  - C) mim – eu – mim – eu.
  - D) mim – mim – eu – eu.

11. Complete com “conosco” ou “com nós”.

- Já falaram \_\_\_\_\_ quatro, sobre esse problema.
  - Já falaram \_\_\_\_\_ sobre esse depoimento.
  - Vocês vão ao teatro \_\_\_\_\_?
- A) com nós – conosco – conosco.  
B) conosco – conosco – com nós.  
C) com nós – com nós – conosco.  
D) conosco – com nós – com nós.

12. Assinale a alternativa em que haja erro de concordância.

- A) São seis horas da manhã.  
B) A maioria conseguiu aprovação.  
C) Fazem vinte anos que não o vejo.  
D) Dez quilos é pouco para o churrasco

13. Fiz uma aplicação, a juro simples de 42% ao ano, durante 8 meses, obtendo o montante de R\$ 828,00. Meu capital investido foi de, aproximadamente:

- A) R\$ 696,00.  
B) R\$ 664,16.  
C) R\$ 659,26.  
D) R\$ 646,87.

14. A tabela mostra dados de uma pesquisa feita entre 120 pessoas durante um evento. Preencha os dados que faltam para assinalar a alternativa correta.

	Homens	Mulheres	Total
solteiros		27	51
casados	24		
Total	48	72	120

Escolhendo uma pessoa participante, a probabilidade, em percentagem aproximada, de que ela seja:

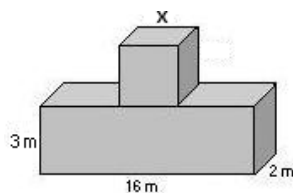
- 1 - homem solteiro é de \_\_\_\_\_.  
2 - mulher casada é de \_\_\_\_\_.

Preenchem corretamente os claros 1 e 2:

- A) 17% – 53,7%.  
B) 20% – 37,5%.  
C) 21% – 35,5%.  
D) 18% – 25,5%.

15. Acrescentando-se 2 m a cada lado do quadrado sua área aumenta em 24 m<sup>2</sup>. O volume total das figuras corresponde a:

- A) 122 m<sup>3</sup>.  
B) 212 m<sup>3</sup>.  
C) 221 m<sup>3</sup>.  
D) 125 m<sup>3</sup>.

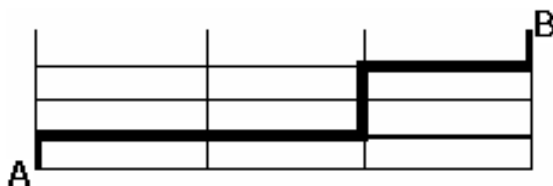


16. Comprei 30 salgadinhos para meus 3 filhos, que receberiam quantidades em proporção direta às suas respectivas idades: 4, 5 e 6 anos. O mais velho recebeu mais \_\_\_\_\_ salgadinhos do que o mais novo.

- A) 4  
B) 6.  
C) 3.  
D) 12.

17. A casa do meu filho fica a 761 metros distante da minha. Para ir à casa dele faço o percurso conforme o destaque da figura abaixo. Os quarteirões são retangulares, tendo de comprimento 25 metros a mais do que a largura. Cada quarteirão tem \_\_\_\_ metros de largura e \_\_\_\_ metros de comprimento.

- A) 98 e 123.  
 B) 89 e 114.  
 C) 78 e 103.  
 D) 87 e 112



18. Uma parede foi revestida com azulejos quadrados de 15 cm de lado. Foram colocadas 15 fileiras, cada uma com 40 azulejos. A área total revestida é de:

- A) 135 m<sup>2</sup>.  
 B) 15,30 m<sup>2</sup>.  
 C) 153 m<sup>2</sup>.  
 D) 13,50 m<sup>2</sup>.

19. Faço caminhada em 3 dias da semana conforme demonstrado na tabela.


Dia da semana	segunda	quarta	sexta
Início	17h15min	17h30min	16h
Término	18h30min	18h45min	17h15min

Se ando numa velocidade de 3 km/h, percorro o total de \_\_\_\_ km por semana.

- A) 11,75.  
 B) 11,25.  
 C) 12,50.  
 D) 15,20.

20. A figura abaixo é composta por cubos num volume total de 112 cm<sup>3</sup>. A altura dessa pilha é:

- A) 4 cm.  
 B) 14 cm.  
 C) 6cm.  
 D) 8 cm.



21. No quadrado abaixo falta um número.

?	18	7
9	17	8
6	10	4

Esse número é:

- A) 10.  
 B) 9.  
 C) 11.  
 D) 12.

22. Cinco bolinhas de cores diferentes (azul, amarela, verde, vermelha e branca) estão colocadas uma ao lado da outra, não necessariamente nessa ordem. A verde está numa extremidade e a azul na outra. A amarela está do lado da azul e a vermelha do lado da verde.

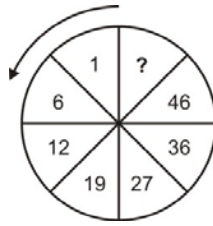
A bolinha que está no meio é a \_\_\_\_ (1) \_\_\_\_ e a \_\_\_\_ (2) \_\_\_\_ está entre a verde e a branca.

Completam os claros (1) e (2) respectivamente:

- A) amarela e vermelha.  
 B) branca e amarela.  
 C) vermelha e branca.  
 D) branca e vermelha.

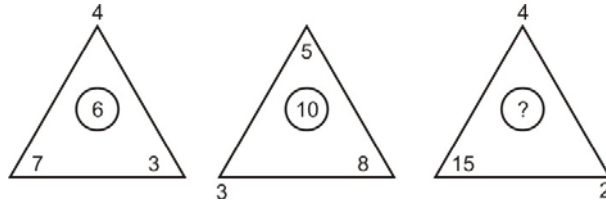
23. O número que falta no sentido anti-horário é:

- A) 58.
- B) 56.
- C) 55.
- D) 57.



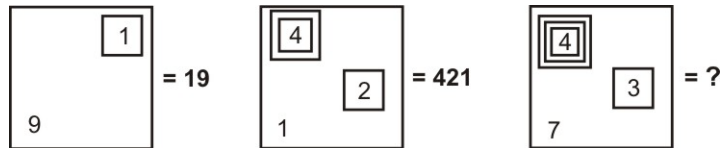
24. O número que falta é:

- A) 9.
- B) 8.
- C) 7.
- D) 10.



25. Observe a representação:

- A) 437.
- B) 4.037.
- C) 40.037.
- D) 400.037.



26. A caixa de diálogo Opções de Auto Correção do Word 2003 apresenta os seguintes recursos, exceto o de:

- A) Verificar ortografia e gramática
- B) Auto Formatação.
- C) Auto Formatação ao Digitar.
- D) Auto Texto

27. Para obter uma lista das funções disponíveis numa planilha do Excel, clique em uma célula e pressione

- A) SHIFT+F2.
- B) SHIFT+F3.
- C) CTRL+F3
- D) CTRL+F2

28. Analise as afirmações sobre os recursos de copiar e colar no PowerPoint.

- 1) Se você copiar e colar um slide em seguida a um slide que tem um modelo de design diferente, o slide colado assume os estilos do slide anterior.
- 2) Quando você copia slides na caixa de diálogo Localizador de Slide, pode marcar ou desmarcar a opção Manter a Formatação original, antes de inserir o slide.

Sobre as afirmações conclui-se que:

- A) 1 e 2 estão incorretas.
- B) apenas 1 está correta.
- C) apenas 2 está correta.
- D) 1 e 2 estão corretas.

29. Este botão da janela do Access executa o comando

- A) Análise.
- B) Relatórios.
- C) Relacionamentos
- D) Módulos.



30. A barra de informações é um recurso localizado na parte superior da página Web onde o Internet Explorer apresenta as informações acerca de segurança, transferências, janelas de pop-up bloqueadas e outras atividades. Por padrão o Internet Explorer exibe a barra Informações, dentre outras circunstâncias, quando:

- um site tentar instalar um controle de ActiveX ou executá-lo de forma insegura no computador.
- um site tentar abrir uma janela de pop-up.
- um site tentar transferir um ficheiro para o computador.
- as definições de segurança estiverem abaixo dos níveis recomendados.
- tiver iniciado o Internet Explorer com os suplementos desativados.
- as definições de segurança não permitem um protocolo específico.
- o Internet Explorer impediu um ataque por scripts.

São itens pertinentes:

- A) apenas seis dos citados.
- B) apenas cinco dos citados.
- C) apenas três dos citados.
- D) todos os citados.

31. Os direitos civis e políticos são direitos de:

- A) 2ª dimensão.
- B) 3ª dimensão.
- C) 1ª dimensão.
- D) 4ª dimensão.

32. O rol dos direitos e garantias arrolados no Artigo 5º da Constituição Federal é meramente:

- A) Taxativo.
- B) Exemplificativo.
- C) Restritivo.
- D) Anulativo.

33. Analise as assertivas em respeito ao artigo 5º da Constituição Federal:

- I . É livre o direito de resposta, proporcional ao agravo, além de indenização por dano material, moral ou à imagem.
- II . É livre a manifestação do pensamento, sendo permitido o anonimato.
- III . A propriedade atenderá a sua função social.

- A) A II e III estão corretas
- B) A I e II estão corretas
- C) Todas estão corretas.
- D) A I e III estão corretas.

34. Os Ministérios são órgãos de estrutura básica da Administração direta federal, e estão hierarquicamente situados logo abaixo:

- A) Da Presidência da República.
- B) Do Congresso Nacional.
- C) Da Câmara dos Deputados.
- D) Do Senado Federal.

35. São princípios da administração pública:

- A) Proteção, impessoalidade, legalidade e especialidade.
- B) Irrenunciabilidade, especialidade, moralidade administrativa e presunção de legalidade.
- C) Legalidade, impessoalidade, moralidade administrativa, publicidade e eficiência.
- D) Irrenunciabilidade, especialidade, legalidade e eficiência.

36. O poder normativo no direito administrativo é atribuição privativa do chefe do poder executivo e se exterioriza por meio de decreto. Estes decretos:
- I . Não podem contrariar a lei;
  - II . podem criar direitos;
  - III . não podem impor obrigações, proibições ou penalidades que não estejam previstas em lei.
- A) I e III estão corretas.
  - B) Apenas a I está correta.
  - C) Apenas a III está correta.
  - D) II e III estão corretas.
37. Os atos administrativos se classificam em perfeito, imperfeito, pendente e consumado quanto:
- A) Aos destinatários.
  - B) À exequibilidade.
  - C) À função da vontade.
  - D) Aos efeitos.
38. Não é vício do ato administrativo no tocante á competência:
- A) Excesso de poder.
  - B) Usurpação de função.
  - C) Função “de fato”.
  - D) Inobservância da forma.
39. São espécies de atos administrativos quanto à forma;
- A) Autorização, licença, permissão circular e aprovação.
  - B) Homologação, parecer, admissão, alvará e visto
  - C) Decreto, resolução ou portaria, circular, despacho e alvará.
  - D) Decreto, circular, admissão, alvará e visto.
40. Assinale a alternativa que não representa uma espécie de ato administrativo
- A) Distribuição.
  - B) Homologação.
  - C) Autorização.
  - D) Licença.
41. Os negócios jurídicos que se perfazem com duas manifestações de vontade, coincidentes sobre o objeto, classificam-se como:
- A) Comutativos.
  - B) Onerosos.
  - C) Bifrontes.
  - D) Bilaterais.
42. As obrigações que podem ser resumidas na palavra “tradição” são as:
- A) Obrigações de fazer.
  - B) Obrigações de não fazer.
  - C) Obrigações de resultado.
  - D) Obrigações de dar.
43. Quanto às vantagens para as partes os negócios jurídicos classificam-se em:
- A) Inter vivos e mortis causal
  - B) Principais e acessórios.
  - C) Gratuitos e onerosos.
  - D) Formais e de forma livre.
44. O Poder judiciário brasileiro tem competência exclusiva quando:
- A) O réu, qualquer que seja sua nacionalidade, estiver domiciliado no Brasil.
  - B) Conhecer de ações relativas a imóveis situados no Brasil.
  - C) A obrigação deva ser cumprida no Brasil.
  - D) A ação é de fato praticada no Brasil.

45. Quanto a quem tem legitimidade ativa para propor embargos de terceiro, assinale a alternativa falsa:
- A) Terceiro.
  - B) Cônjuge do executado.
  - C) Autor no processo em que houve a constrição.
  - D) Credor com garantia real.
46. Segundo o artigo 474 da CLT importará em rescisão injusta do contrato de trabalho a suspensão do empregado por mais de:
- A) 30 dias consecutivos.
  - B) 15 dias consecutivos.
  - C) 60 dias consecutivos.
  - D) 90 dias consecutivos.
47. A Constituição Federal proíbe em seu artigo 7º, XXXIII, o trabalho noturno, perigoso e insalubre ao menor de:
- A) 21 anos.
  - B) 16 anos.
  - C) 14 anos.
  - D) 18 anos.
48. Toda pessoa física que prestar serviços de natureza não eventual a empregador, sob a dependência deste e mediante salário, é considerada:
- A) Trabalhador.
  - B) Autônomo.
  - C) Empregado.
  - D) Empregado rural.
49. Quando alguém presta serviço não eventual a outrem, sob dependência deste e mediante salário, muito embora não tenham as partes contratantes externado de forma explícita e clara esta vontade, ocorre o contrato de trabalho de forma:
- A) Expressa.
  - B) Tácita.
  - C) Expressa e verbal.
  - D) Verbal.
50. O lançamento que é feito quase que em sua totalidade pelo contribuinte ou responsável e tem como principal característica o pagamento do tributo antes do início de qualquer procedimento por parte da autoridade administrativa. é o feito por:
- A) Declaração.
  - B) Arbitramento por parte da autoridade administrativa.
  - C) Homologação.
  - D) Meio direito ou de ofício.