



Cidade de São José dos Campos

Prefeitura Municipal


CONCURSO PÚBLICO

4. PROVA OBJETIVA

FISCAL DE POSTURA E ESTÉTICA URBANA – ADMINISTRAÇÃO

- ♦ VOCÊ RECEBEU SUA FOLHA DE RESPOSTAS E ESTE CADERNO CONTENDO **50** QUESTÕES OBJETIVAS.
- ♦ CONFIRA SEU NOME E NÚMERO DE INSCRIÇÃO IMPRESSOS NA CAPA DESTE CADERNO.
- ♦ LEIA CUIDADOSAMENTE AS QUESTÕES E ESCOLHA A RESPOSTA QUE VOCÊ CONSIDERA CORRETA.
- ♦ RESPONDA A TODAS AS QUESTÕES.
- ♦ MARQUE, NA FOLHA INTERMEDIÁRIA DE RESPOSTAS, LOCALIZADA NO VERSO DESTA PÁGINA, A LETRA CORRESPONDENTE À ALTERNATIVA QUE VOCÊ ESCOLHEU.
- ♦ TRANSCREVA PARA A FOLHA DE RESPOSTAS, COM CANETA DE TINTA AZUL OU PRETA, TODAS AS RESPOSTAS ANOTADAS NA FOLHA INTERMEDIÁRIA DE RESPOSTAS.
- ♦ A DURAÇÃO DA PROVA É DE **3** HORAS.
- ♦ A SAÍDA DO CANDIDATO DA SALA SERÁ PERMITIDA APÓS TRANSCORRIDA A METADE DO TEMPO DE DURAÇÃO DA PROVA.
- ♦ AO SAIR, VOCÊ ENTREGARÁ AO FISCAL A FOLHA DE RESPOSTAS E ESTE CADERNO, PODENDO DESTACAR ESTA CAPA PARA FUTURA CONFERÊNCIA COM O GABARITO A SER DIVULGADO.

AGUARDE A ORDEM DO FISCAL PARA ABRIR ESTE CADERNO DE QUESTÕES.



Cidade de São José dos Campos

Prefeitura Municipal

FOLHA INTERMEDIÁRIA DE RESPOSTAS

QUESTÃO	RESPOSTA			
01	<input type="checkbox"/> A	<input type="checkbox"/> B	<input type="checkbox"/> C	<input type="checkbox"/> D
02	<input type="checkbox"/> A	<input type="checkbox"/> B	<input type="checkbox"/> C	<input type="checkbox"/> D
03	<input type="checkbox"/> A	<input type="checkbox"/> B	<input type="checkbox"/> C	<input type="checkbox"/> D
04	<input type="checkbox"/> A	<input type="checkbox"/> B	<input type="checkbox"/> C	<input type="checkbox"/> D
05	<input type="checkbox"/> A	<input type="checkbox"/> B	<input type="checkbox"/> C	<input type="checkbox"/> D

06	<input type="checkbox"/> A	<input type="checkbox"/> B	<input type="checkbox"/> C	<input type="checkbox"/> D
07	<input type="checkbox"/> A	<input type="checkbox"/> B	<input type="checkbox"/> C	<input type="checkbox"/> D
08	<input type="checkbox"/> A	<input type="checkbox"/> B	<input type="checkbox"/> C	<input type="checkbox"/> D
09	<input type="checkbox"/> A	<input type="checkbox"/> B	<input type="checkbox"/> C	<input type="checkbox"/> D
10	<input type="checkbox"/> A	<input type="checkbox"/> B	<input type="checkbox"/> C	<input type="checkbox"/> D

11	<input type="checkbox"/> A	<input type="checkbox"/> B	<input type="checkbox"/> C	<input type="checkbox"/> D
12	<input type="checkbox"/> A	<input type="checkbox"/> B	<input type="checkbox"/> C	<input type="checkbox"/> D
13	<input type="checkbox"/> A	<input type="checkbox"/> B	<input type="checkbox"/> C	<input type="checkbox"/> D
14	<input type="checkbox"/> A	<input type="checkbox"/> B	<input type="checkbox"/> C	<input type="checkbox"/> D
15	<input type="checkbox"/> A	<input type="checkbox"/> B	<input type="checkbox"/> C	<input type="checkbox"/> D

16	<input type="checkbox"/> A	<input type="checkbox"/> B	<input type="checkbox"/> C	<input type="checkbox"/> D
17	<input type="checkbox"/> A	<input type="checkbox"/> B	<input type="checkbox"/> C	<input type="checkbox"/> D
18	<input type="checkbox"/> A	<input type="checkbox"/> B	<input type="checkbox"/> C	<input type="checkbox"/> D
19	<input type="checkbox"/> A	<input type="checkbox"/> B	<input type="checkbox"/> C	<input type="checkbox"/> D
20	<input type="checkbox"/> A	<input type="checkbox"/> B	<input type="checkbox"/> C	<input type="checkbox"/> D

21	<input type="checkbox"/> A	<input type="checkbox"/> B	<input type="checkbox"/> C	<input type="checkbox"/> D
22	<input type="checkbox"/> A	<input type="checkbox"/> B	<input type="checkbox"/> C	<input type="checkbox"/> D
23	<input type="checkbox"/> A	<input type="checkbox"/> B	<input type="checkbox"/> C	<input type="checkbox"/> D
24	<input type="checkbox"/> A	<input type="checkbox"/> B	<input type="checkbox"/> C	<input type="checkbox"/> D
25	<input type="checkbox"/> A	<input type="checkbox"/> B	<input type="checkbox"/> C	<input type="checkbox"/> D

QUESTÃO	RESPOSTA			
26	<input type="checkbox"/> A	<input type="checkbox"/> B	<input type="checkbox"/> C	<input type="checkbox"/> D
27	<input type="checkbox"/> A	<input type="checkbox"/> B	<input type="checkbox"/> C	<input type="checkbox"/> D
28	<input type="checkbox"/> A	<input type="checkbox"/> B	<input type="checkbox"/> C	<input type="checkbox"/> D
29	<input type="checkbox"/> A	<input type="checkbox"/> B	<input type="checkbox"/> C	<input type="checkbox"/> D
30	<input type="checkbox"/> A	<input type="checkbox"/> B	<input type="checkbox"/> C	<input type="checkbox"/> D

31	<input type="checkbox"/> A	<input type="checkbox"/> B	<input type="checkbox"/> C	<input type="checkbox"/> D
32	<input type="checkbox"/> A	<input type="checkbox"/> B	<input type="checkbox"/> C	<input type="checkbox"/> D
33	<input type="checkbox"/> A	<input type="checkbox"/> B	<input type="checkbox"/> C	<input type="checkbox"/> D
34	<input type="checkbox"/> A	<input type="checkbox"/> B	<input type="checkbox"/> C	<input type="checkbox"/> D
35	<input type="checkbox"/> A	<input type="checkbox"/> B	<input type="checkbox"/> C	<input type="checkbox"/> D

36	<input type="checkbox"/> A	<input type="checkbox"/> B	<input type="checkbox"/> C	<input type="checkbox"/> D
37	<input type="checkbox"/> A	<input type="checkbox"/> B	<input type="checkbox"/> C	<input type="checkbox"/> D
38	<input type="checkbox"/> A	<input type="checkbox"/> B	<input type="checkbox"/> C	<input type="checkbox"/> D
39	<input type="checkbox"/> A	<input type="checkbox"/> B	<input type="checkbox"/> C	<input type="checkbox"/> D
40	<input type="checkbox"/> A	<input type="checkbox"/> B	<input type="checkbox"/> C	<input type="checkbox"/> D

41	<input type="checkbox"/> A	<input type="checkbox"/> B	<input type="checkbox"/> C	<input type="checkbox"/> D
42	<input type="checkbox"/> A	<input type="checkbox"/> B	<input type="checkbox"/> C	<input type="checkbox"/> D
43	<input type="checkbox"/> A	<input type="checkbox"/> B	<input type="checkbox"/> C	<input type="checkbox"/> D
44	<input type="checkbox"/> A	<input type="checkbox"/> B	<input type="checkbox"/> C	<input type="checkbox"/> D
45	<input type="checkbox"/> A	<input type="checkbox"/> B	<input type="checkbox"/> C	<input type="checkbox"/> D

46	<input type="checkbox"/> A	<input type="checkbox"/> B	<input type="checkbox"/> C	<input type="checkbox"/> D
47	<input type="checkbox"/> A	<input type="checkbox"/> B	<input type="checkbox"/> C	<input type="checkbox"/> D
48	<input type="checkbox"/> A	<input type="checkbox"/> B	<input type="checkbox"/> C	<input type="checkbox"/> D
49	<input type="checkbox"/> A	<input type="checkbox"/> B	<input type="checkbox"/> C	<input type="checkbox"/> D
50	<input type="checkbox"/> A	<input type="checkbox"/> B	<input type="checkbox"/> C	<input type="checkbox"/> D

Leia o texto para responder às questões de números **01** a **07**.

Estética urbana: importância e proteção

Como sabemos, nas cidades antigas da época medieval, não havia preocupação dos administradores com higienização e muito menos com embelezamento. Eram elas verdadeiros amontoados de pessoas distribuídos em casas construídas sem a menor preocupação estética. Com o crescimento do humanismo, as cidades começaram a ser observadas como conjunto de habitações importantes também em relação à qualidade de vida de seus habitantes.

Somente no final do século XIX é que a ciência do urbanismo começou realmente a tomar forma como disciplina científica, notadamente nos Estados Unidos e na Europa, surgindo a preocupação dos estudiosos com os problemas urbanísticos. Cresce, dessa forma, a percepção da necessidade de se repensar e reformular as cidades. Surgem os conceitos de espaços urbanos, assim como aparecem as primeiras medidas de gestão urbana, inicialmente estimuladas pelo combate às epidemias com construções de redes de esgoto.

Assim, com o crescimento do urbanismo como ciência, surgiram as primeiras regras de ordenação urbana, as quais passaram a impor novas condutas aos cidadãos, controlando seu modo de vida. As cidades deixaram de ser um aglomerado disforme de pessoas e passaram a ser conjuntos de edificações relativamente planejadas e orientadas pela necessidade funcional. (...) Além disso, a estética urbana passou a ser valorizada.

Modernamente, não se admite que no traçado urbano seja esquecido o fator paisagístico e estético, pois não se concebe mais que uma cidade tenha finalidade apenas econômica ou de simples habitação. É muito mais do que isso; deve ser um local agradável de se viver e trabalhar, onde o cidadão encontra saneamento, transporte e áreas suficientes de lazer, recreação, esporte, cultura, por exemplo.

Neste novo conceito de cidade, a estética urbana é primordial para o bem-estar da população. Os aspectos de seu traçado devem mostrar equilíbrio e harmonia, seus prédios devem formar um conjunto arquitetônico condizente com a cultura de sua população e seus logradouros públicos devem ser limpos e acessíveis a todos, principalmente aos seus habitantes mais pobres. Os parques e áreas verdes devem formar um conjunto natural que resguarde uma beleza cênica à disposição de todos.

Aliás, como bem lembrado por José Afonso da Silva, “o traçado da cidade concorre para o equilíbrio psicológico de seus habitantes, visitantes e transeuntes.” Dessa forma, a estética urbana representa elemento importantíssimo de uma cidade e pela sua característica imaterial e por estar à disposição de todos, podemos classificá-la como um bem difuso, isto é, de todos, que deve ser protegido tanto pelo poder público, principalmente o municipal, quanto pela coletividade e, se preciso, até judicialmente, por meio da ação civil pública.

(Antonio Silveira Ribeiro dos Santos,
www.aultimarca.de.no.e.com/urbanismoestetica.htm./Adaptado)

01. Pode-se afirmar que a ciência do urbanismo

- (A) decorreu das preocupações dos administradores com o crescimento desordenado e com as condições das antigas cidades medievais.
- (B) suscitou o interesse dos governantes que, a partir do humanismo, voltaram-se para os aspectos estéticos das cidades.
- (C) levou os estudiosos das grandes cidades em todos os continentes a propor novas regras de embelezamento urbano.
- (D) deflagrou parâmetros inéditos de percepção do espaço urbano e de estabelecimento de regras para gerenciá-lo.

02. Com o crescimento da ciência urbanística,

- (A) os problemas das cidades ganharam visibilidade e puderam ser resolvidos com muito mais eficiência.
- (B) os gestores urbanos foram estimulados a priorizar a construção de redes de esgoto, em detrimento de outras necessidades.
- (C) as cidades passaram a ser vistas sob a ótica do planejamento e dirigidas pelo princípio da funcionalidade.
- (D) as preocupações com o espaço urbano se intensificaram pelo aumento das demandas do cidadão.

03. De acordo com o quarto parágrafo,

- (A) um conjunto de variáveis se interligam para a composição do traçado urbano.
- (B) a concepção de cidade deve estar atrelada às características estéticas e econômicas.
- (C) os governantes das cidades devem, antes de tudo, priorizar o lazer do cidadão.
- (D) os aspectos paisagísticos, por si sós, garantem o bem-estar ao cidadão.

04. Assinale a alternativa que reescreve corretamente os trechos em destaque nas frases:

- É muito mais do que isso; deve ser um local *agradável de se viver e trabalhar*.
 - Os aspectos de seu traçado devem mostrar equilíbrio e harmonia, seus prédios devem formar um conjunto arquitetônico *condizente com a cultura de sua população ...*
 - Os parques e áreas verdes devem formar um conjunto natural que resguarde uma beleza cênica *à disposição de todos*.
- (A) ... agradável à vida e ao trabalho./ ... concernente à cultura de sua população.../ ... estendida a todos.
 - (B) ... agradável a vida e ao trabalho./ ... concernente a cultura de sua população.../ ... estendida à todos.
 - (C) ... agradável a vida e ao trabalho./ ... concernente a cultura de sua população.../ ... estendida a todos.
 - (D) ... agradável à vida e ao trabalho./ ... concernente a cultura de sua população.../ ... estendida à todos.

05. Assinale a alternativa em que, entre as frases, há correspondência de sentido.

- (A) Com o crescimento do humanismo, as cidades começaram a ser observadas como conjunto de habitações importantes.../ Com o crescimento do humanismo, as cidades começaram a ser vistoriadas como conjunto de habitações importantes...
- (B) Surgem os conceitos de espaços urbanos e as primeiras medidas de gestão urbana, estimuladas pelo combate às epidemias.../ Surgem os conceitos de espaços urbanos e as primeiras medidas de gestão urbana, compelidas pelo combate às epidemias...
- (C) Os parques e áreas verdes devem formar um conjunto natural que resguarde uma beleza cênica à disposição de todos./ Os parques e áreas verdes devem formar um conjunto natural que manipule uma beleza cênica à disposição de todos.
- (D) ... “o traçado da cidade concorre para o equilíbrio psicológico de seus habitantes, visitantes e transeuntes.”/ o traçado da cidade neutraliza o equilíbrio psicológico de seus habitantes, visitantes e transeuntes.

06. Assinale a alternativa em que a conjunção *como* tem o mesmo sentido com que aparece na frase – Como sabemos, nas cidades antigas da época medieval, não havia preocupação dos administradores com higienização e muito menos com embelezamento.

- (A) O traçado da cidade concorre para o equilíbrio psicológico do cidadão, como declarou José Afonso da Silva.
- (B) ... a ciência do urbanismo começou realmente a tomar forma como disciplina científica, notadamente nos Estados Unidos e na Europa...
- (C) Surgem os conceitos de espaços urbanos, assim como aparecem as primeiras medidas de gestão urbana...
- (D) Assim, com o crescimento do urbanismo como ciência, surgiram as primeiras regras de ordenação urbana,...

07. Assinale a alternativa que reescreve corretamente quanto à concordância as frases do texto.

- (A) Não se preocupava com as medidas higienizadoras os administradores das cidades medievais.
- (B) As características estéticas e paisagísticas das cidades são algumas das variáveis que as transformam em patrimônio cultural.
- (C) Não se concebe numa cidade apenas os aspectos econômicos como os vetores principais da vida dos cidadãos.
- (D) Logradouros públicos devem ser compatíveis com a cultura dos cidadãos, assim como deve ser priorizados os fatores paisagístico e estético.

Leia o poema de Carlos Drummond de Andrade, em homenagem a Itabira, sua cidade natal, para responder às questões de números 08 a 10.

Confidência do itabirano

Alguns anos vivi em Itabira.

Principalmente nasci em Itabira.

Por isso sou triste, orgulhoso: de ferro.

(...)

A vontade de amar, que me paralisa o trabalho,

Vem de Itabira, de suas noites brancas, sem mulheres e sem horizontes.

E o hábito de sofrer, que tanto me diverte,

É doce lembrança itabirana.

(...)

Tive ouro, tive gado, tive fazendas.

Hoje sou funcionário público.

Itabira é apenas uma fotografia na parede.

Mas como dói!

08. Pode-se afirmar que a cidade de Itabira

- (A) constituiu-se em referência negativa ao longo da vida do poeta.
- (B) instigou no poeta um estilo de vida com o qual ele se incompatibilizou.
- (C) moldou a consciência do poeta a ponto de transformar-se em matéria poética.
- (D) permitiu ao poeta rememorar episódios vividos com antigos amores.

09. Os dois pontos no verso – Por isso sou triste, orgulhoso: de ferro. – indicam, no contexto,

- (A) retificação de ideia apresentada anteriormente.
- (B) hesitação do poeta diante de seu modo de ser.
- (C) interrupção da autoapresentação do poeta.
- (D) expansão das características subjetivas do poeta.

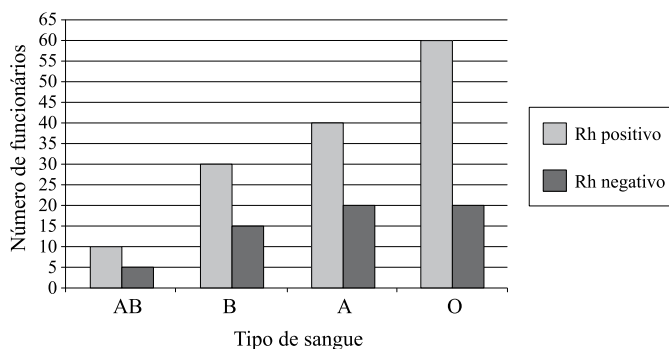
10. Assinale a alternativa em que os dois versos apresentam linguagem figurada.

- (A) Alguns anos vivi em Itabira./ Por isso sou triste, orgulhoso: de ferro.
- (B) Tive ouro, tive gado, tive fazendas./ Hoje sou funcionário público.
- (C) É doce herança itabirana./ Mas como dói!
- (D) Principalmente nasci em Itabira./ Tive ouro, tive gado, tive fazendas.

MATEMÁTICA

11. André vendeu dois microcomputadores por R\$ 900,00 cada um. Em relação ao preço de compra, Pedro teve em um deles um lucro de 25%, e no outro, um prejuízo de 20%. Pode-se concluir que, considerando as duas vendas, Pedro teve um
- (A) lucro de R\$ 45,00.
 (B) lucro de R\$ 9,00.
 (C) prejuízo de R\$ 45,00.
 (D) prejuízo de R\$ 9,00.

12. Em uma firma foi realizado um teste para saber o tipo de sangue de cada funcionário. Os resultados dessa pesquisa estão expressos no gráfico a seguir.



Analise as seguintes afirmações a respeito dos dados apresentados no gráfico:

- I. Do total de funcionários, 22,5% têm sangue tipo B.
 II. Do total de funcionários, 30% têm sangue Rh negativo.
 III. Dentre os funcionários que têm sangue tipo O, 75% têm Rh positivo.

É correto concluir que são verdadeiras as afirmações

- (A) I, II e III.
 (B) II e III, apenas.
 (C) I e III, apenas.
 (D) I e II, apenas.
13. O dono de uma fábrica tem uma dívida de R\$ 1,8 milhão em um banco e vai assinar um acordo para pagá-la. O acordo a ser assinado é o seguinte: pagar $\frac{1}{3}$ desse valor no ato da assinatura e 40% do restante depois de um mês, sem juros. O saldo restante deverá ser pago dois meses após a assinatura do acordo, a uma taxa de 5% ao mês de juros simples. O valor desse saldo restante é de
- (A) R\$ 264.000,00.
 (B) R\$ 480.000,00.
 (C) R\$ 528.000,00.
 (D) R\$ 792.000,00.

14. A tabela indica três das funções de uma firma, os respectivos salários e o número de funcionários em cada uma.

FUNÇÃO	SALÁRIO (R\$)	N.º DE FUNCIONÁRIOS
Gerente	10.000,00	2
Analista	x	6
Escriturário	1.000,00	12

Se o salário médio dos funcionários dessas funções é de R\$ 2.800,00, pode-se concluir que o salário x de cada analista é de

- (A) R\$ 4.000,00.
 (B) R\$ 3.000,00.
 (C) R\$ 2.500,00.
 (D) R\$ 1.750,00.
15. O gerente de uma firma vai comprar pacotes de papel para impressão. Para o mesmo tipo, tamanho e qualidade de papel ele encontrou preços diferentes nas duas distribuidoras que pesquisou:
- | | |
|---|---|
| DISTRIBUIDORA I
Preço de cada pacote com
500 folhas: R\$ 7,50 | DISTRIBUIDORA II
Preço de cada pacote com
500 folhas: R\$ 11,00
Oferta: pague 2 e leve 3 |
|---|---|
- Para comprar 120 desses pacotes, é melhor que o gerente opte pela distribuidora
- (A) I, pois economizaria R\$ 160,00 em relação ao que pagaria na distribuidora II.
 (B) I, pois economizaria R\$ 1.770,00 em relação ao que pagaria na distribuidora II.
 (C) II, pois economizaria R\$ 20,00 em relação ao que pagaria na distribuidora I.
 (D) II, pois economizaria R\$ 160,00 em relação ao que pagaria na distribuidora I.

16. Ana, Bia e Clara são sócias de uma loja. No último mês resolveram dividir o lucro de R\$ 6.552,00 proporcionalmente ao tempo que cada uma se dedicou à loja. Se Ana trabalhou das 9h às 15h, Bia das 12h às 16h e Clara das 15h às 18h, a diferença entre os valores recebidos por Ana e Bia foi de
- (A) R\$ 3.024,00.
 (B) R\$ 1.850,00.
 (C) R\$ 1.008,00.
 (D) R\$ 925,00.

17. A tabela indica os preços cobrados por duas agências para a locação de um mesmo tipo de automóvel. Elas cobram, por dia, uma taxa de aluguel acrescida de um valor correspondente a cada quilômetro rodado.

AGÊNCIA	TAXA POR DIA DE LOCAÇÃO	TAXA POR QUILOMETRO
X	R\$ 40,00	R\$ 5,00
Y	R\$ 60,00	R\$ 4,50

Analise as seguintes afirmações:

- I. para uma locação diária de 30 km, a opção mais barata é a agência X;
- II. para uma locação diária, a agência X é sempre a melhor opção;
- III. para uma locação diária de 40 km, ambas as agências cobram o mesmo valor.

É correto concluir que

- (A) nenhuma das afirmações é verdadeira.
 - (B) apenas as afirmações I e III são verdadeiras.
 - (C) apenas as afirmações I e II são verdadeiras.
 - (D) apenas a afirmação III é verdadeira.
18. O público presente em uma peça de teatro foi de 100 pessoas entre crianças e adultos. O ingresso infantil custou R\$ 25,00 e o do adulto, R\$ 50,00. Como a arrecadação foi de R\$ 3.250,00, pode-se afirmar que o total pago pelos adultos foi
- (A) R\$ 1.250,00.
 - (B) R\$ 1.500,00.
 - (C) R\$ 1.750,00.
 - (D) R\$ 2.250,00.
19. Em alguns países ainda são utilizados pés e polegadas como unidades de comprimento. O quadro mostra a correspondência entre essas unidades e o sistema métrico:

$1 \text{ polegada} = 25,4 \text{ mm}$ $1 \text{ polegada} = \frac{1}{12} \text{ pé}$
--

A altura de um homem é de 6 pés e 2 polegadas. No sistema métrico, essa altura é, aproximadamente, igual a

- (A) 1,75 m.
- (B) 1,79 m.
- (C) 1,83 m.
- (D) 1,88 m.

20. Pedro parou no posto de gasolina para abastecer seu carro e colocou apenas 12 litros de gasolina no tanque. Observou que o marcador, que antes indicava a metade do tanque, passou a indicar $\frac{3}{4}$ do tanque. Depois de Pedro abastecer com os 12 litros de gasolina, o tanque do carro passou a ter a seguinte quantidade de gasolina:

- (A) 48 litros.
- (B) 36 litros.
- (C) 24 litros.
- (D) 12 litros.

RACIOCÍNIO LÓGICO

21. O famoso piloto de fórmula 1, Rubim Masta, iniciou uma prova largando do 12.º lugar. Durante a corrida, ele ultrapassou 7 pilotos, mas foi ultrapassado por 4 pilotos. Além disso, após as ultrapassagens, 2 pilotos que estavam à sua frente e 3 que estavam após Rubim abandonaram a prova. A prova termina. Os números que indicam as posições que Rubim subiu, em relação à sua posição de largada, e a sua posição de chegada são, respectivamente,

- (A) 3 e 10.^a.
- (B) 4 e 2.^a.
- (C) 5 e 7.^a.
- (D) 7 e 9.^a.

22. Em uma sala estão reunidas 13 pessoas. Em relação a essas pessoas, é correto afirmar que

- (A) não é possível que duas delas façam aniversário no mesmo dia.
- (B) duas pessoas, pelo menos, nasceram no mesmo mês.
- (C) em cada um dos meses do ano há, pelo menos, um aniversariante.
- (D) duas pessoas, pelo menos, nasceram em janeiro.

23. Doze são Beta, mas só três são apenas Beta. Doze são Gama, mas só sete são apenas Gama. Seis são Alfa e quatro desses são Beta também. Nenhum Gama é Alfa. Ao todo são

- (A) 21.
- (B) 22.
- (C) 23.
- (D) 24.

24. Por meio de uma lei de formação, o número 69 origina o número 37. Com o uso da mesma lógica, o número 37 origina o número 21. Também com a mesma lógica, o número 21 origina o número 13. O número originado pelo 13, com essa mesma lógica, é

- (A) 5.
- (B) 7.
- (C) 9.
- (D) 11.

25. Alguns barqueiros são poetas. A partir dessa informação, pode-se concluir que

- (A) todos os barqueiros são poetas.
- (B) nenhum poeta é barqueiro.
- (C) existem barqueiros que não são poetas.
- (D) todos os poetas são barqueiros.

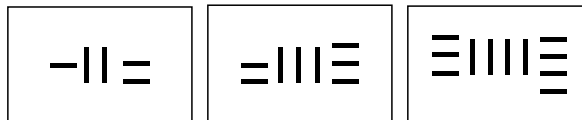
26. Kátia, Luciana e Janaína, três amigas, conversam sobre marrom, vermelho e azul em blusas e calçados preferidos, que são a sandália, o sapato e o tênis, não necessariamente nessa ordem. Janaína, que não usa sapatos, diz para a amiga mais próxima: “linda sua blusa vermelha”. “Também acho, e combina com o meu tênis”, responde a amiga. Luciana diz: “não visto vermelho, nem que me paguem, adoro azul”. A partir dessas afirmações, pode-se concluir que

- (A) Kátia calça tênis e Janaína veste azul.
- (B) Luciana calça sapatos e Janaína calça tênis.
- (C) Kátia calça tênis e Luciana calça sandálias.
- (D) Janaína veste marrom e Luciana calça sapatos.

27. Tomo sorvete ou como pipoca. Se como pipoca, fico com sede. Não fiquei com sede. Logo,

- (A) tomei sorvete.
- (B) comi pipoca.
- (C) não tomei sorvete e não fiquei com sede.
- (D) tomei sorvete e comi pipoca.

28. Observe os três primeiros elementos de uma sequência formada por meio de uma lei de formação que leva em consideração a quantidade de traços, sejam verticais e também horizontais.



A diferença entre o número de traços verticais e o número de traços horizontais para construir o 8.º elemento é

- (A) 4.
- (B) 5.
- (C) 7.
- (D) 8.

29. Marcos, Murilo e Marcelo entraram na cozinha e sentiram um agradável odor de tempero no molho da macarronada. Apenas os temperos orégano e manjericão estavam disponíveis para a cozinheira. Marcos disse: “o molho é de orégano”. “Não é não, o molho é de manjericão”, afirmou Murilo. Marcelo completou: “o Marcos errou, pois não entende nada de molhos”. “Tempero o molho tem”, disse a cozinheira, e completou: “apenas um de vocês três falou a coisa certa”.

A partir dessas informações, pode-se concluir que

- (A) o molho continha orégano e manjericão.
- (B) o molho continha orégano.
- (C) o molho não continha qualquer tempero.
- (D) o molho continha manjericão.

30. Dizem que todos os caminhoneiros são mecânicos. É sabido que alguns mecânicos são eletricitas. Supondo verdadeiras as afirmações, pode-se concluir que

- (A) não existe caminhoneiro que seja eletricitista.
- (B) existe pelo menos um caminhoneiro que não é mecânico.
- (C) para ser mecânico é preciso ser eletricitista.
- (D) algum caminhoneiro pode ser eletricitista.

CONHECIMENTOS ESPECÍFICOS

31. Na hipótese de um munícipe cometer uma infração ao Código Administrativo do Município de São José dos Campos, a fiscalização poderá implantar determinadas penalidades previstas expressamente no Código, exceto a seguinte:
- (A) interdição de atividades.
 - (B) proibição de transacionar com as repartições municipais.
 - (C) cassação da licença.
 - (D) desapropriação de bens.
32. Assinale a alternativa que está de acordo com o disposto no Código de Defesa do Consumidor.
- (A) O produto será considerado defeituoso se outro de qualidade muito superior tiver sido colocado no mercado.
 - (B) O fornecedor de serviços responde, desde que constatada a existência de sua culpa, pela reparação dos danos causados aos consumidores por defeitos relativos à prestação dos serviços, bem como por informações insuficientes ou inadequadas sobre sua fruição e riscos.
 - (C) Os órgãos públicos, por si ou suas empresas, concessionárias, permissionárias ou sob qualquer outra forma de empreendimento, são obrigados a fornecer serviços adequados, eficientes, seguros e, quanto aos essenciais, contínuos.
 - (D) A garantia legal da adequação ou da qualidade do produto ou serviço depende de termo contratual expresso, em que todas as partes estejam devidamente identificadas e qualificadas e o produto ou serviço esteja devidamente descrito, vedada a exoneração contratual do fornecedor do produto ou serviço.
33. Assinale a alternativa correta sobre a Lei Orgânica do Município.
- (A) A Lei Orgânica do Município será emendada mediante proposta de cidadãos, mediante iniciativa popular, nos termos da lei, assinada, no mínimo, por cinco por cento dos eleitores do Município.
 - (B) A Lei Orgânica do Município não poderá ser emendada durante o período compreendido entre a eleição do Prefeito e sua posse.
 - (C) A proposta de emenda à Lei Orgânica do Município será votada em dois turnos, com interstício mínimo de 30 (trinta) dias, considerando-se aprovada aquela que obtiver, em ambos, o voto favorável de dois terços dos membros da Câmara Municipal.
 - (D) A emenda à Lei Orgânica do Município, depois de aprovada pela Câmara de Vereadores, será sancionada e promulgada pelo Prefeito Municipal, com o respectivo número de ordem.
34. Segundo a Lei de zoneamento urbano, uso e ocupação do solo do Município de São José dos Campos, ao longo das águas correntes e dormentes, das faixas de domínio público das rodovias, estradas municipais, ferrovias e dutos, será obrigatória a reserva de faixa “non aedificandi”, de cada lado, de, no mínimo,
- (A) cinco metros.
 - (B) dez metros.
 - (C) quinze metros.
 - (D) trinta metros.
35. Nos termos da Constituição Federal, é correto afirmar que
- (A) as taxas não poderão ter base de cálculo própria de impostos.
 - (B) cabe à lei ordinária federal dispor sobre conflitos de competência, em matéria tributária, entre a União, os Estados, o Distrito Federal e os Municípios.
 - (C) é vedado à União, aos Estados, ao Distrito Federal e aos Municípios exigir ou aumentar tributo sem decreto que o estabeleça.
 - (D) os Estados, o Distrito Federal e os Municípios deverão estabelecer diferença tributária entre bens e serviços, considerando a sua procedência ou seu destino.
36. Quando Henri Fayol estruturou as funções administrativas, estava definindo a base do conhecimento que ainda hoje é válida para a administração atual, com alguns ajustes. Fayol estava desde aquela época (início do século XX) reconhecendo que existia a necessidade de estruturar as ações a serem desenvolvidas. Além da função de planejar, o autor menciona as seguintes:
- (A) organizar, comandar, coordenar e controlar.
 - (B) organizar, monitorar, cobrar e compensar.
 - (C) coordenar, monitorar, supervisionar e cobrar.
 - (D) delegar, comandar, ajustar e compensar.
37. Dentre os princípios de Fayol, a divisão do trabalho tem por finalidade produzir mais e melhor, com o mesmo esforço. O operário que faz todos os dias a mesma peça, e o chefe que trata constantemente dos mesmos negócios adquirem mais habilidade, mais segurança e mais precisão e, conseqüentemente, aumentam seu rendimento na produção.
- O texto aborda o princípio da
- (A) autoridade e responsabilidade.
 - (B) disciplina.
 - (C) especialização do trabalho.
 - (D) unidade de comando.

38. A Teoria *behaviorista* defendia a valorização do trabalhador, em qualquer empreendimento, baseada na cooperação, buscando um novo padrão de teoria e pesquisa administrativas. Foi bastante influenciado pelo desenvolvimento de estudos em vários campos da ciência, como a antropologia, a psicologia e a sociologia. Adotando e adaptando para a administração conceitos originalmente elaborados dentro dessas ciências, propunha-se fornecer uma visão mais ampla daquilo que motiva as pessoas para agirem ou se comportarem do modo como o fazem, particularizando as situações específicas do indivíduo no trabalho. Nesse contexto, dentre tantos, a teoria behaviorista também é conhecida como teoria
- (A) Motivacional da Administração.
 - (B) Comportamental da Administração.
 - (C) Governamental da Administração.
 - (D) Grupal ou consolidadora da Administração.
39. O Capital está diretamente relacionado aos elementos intangíveis resultantes das atividades e práticas administrativas desenvolvidas pelas organizações para se adaptarem e atuarem na realidade atual (CRAWFORD, 1994; BROOKING, 1996; STEWART, 1998 e 2001; PABLOS, 2002; LEV, 2001, 2003; 2004). Na visão dos referidos autores, esses investimentos trazem benefícios intangíveis às organizações e capacitam o seu funcionamento agregando-lhes valor, e foram propiciados, principalmente, pelas revoluções nas áreas da tecnologia da informação e das telecomunicações que, por sua vez, também propiciam as condições atuais da Sociedade do Conhecimento. Os autores estão se referindo ao
- (A) Investimento.
 - (B) Ágio.
 - (C) Capital intelectual.
 - (D) Ativo diferido.
40. Dentro do processo de gestão do conhecimento, pode-se verificar que há uma cadeia de gestões, tais como do capital intelectual, entre outros. Nessa linha de raciocínio, quando se menciona sobre a capacidade de gerar resultados observáveis, necessários ao alcance dos objetivos (de negócios e culturais) definidos no posicionamento estratégico da empresa e no propósito de manutenção e desenvolvimento de sua ideologia essencial, bem como sobre as atitudes, as habilidades e os conhecimentos necessários para alcançar resultados diferenciados e o conjunto de qualificações que a pessoa tem para executar um trabalho com um nível superior de performance, está-se tratando da gestão
- (A) do capital humano.
 - (B) de aprendizagem organizacional.
 - (C) da inteligência empresarial.
 - (D) de competências.
41. Sabendo-se que a taxa de juros de uma determinada aplicação é de 20% ao ano, calcule o valor presente dessa operação que tem como capital inicial o valor de R\$ 1.000,00 e vencerá em dois anos.
- (A) R\$ 594,78.
 - (B) R\$ 598,37.
 - (C) R\$ 600,00.
 - (D) R\$ 694,44.
42. No regime de capitalização composto, no início de janeiro foi efetuada uma aplicação financeira no valor de R\$ 5.000,00 pelo prazo de seis meses. A taxa de juros mensal é de 10%. Considerando essas informações, o valor de resgate da aplicação será de
- (A) R\$ 7.500,00.
 - (B) R\$ 8.000,00.
 - (C) R\$ 8.857,81.
 - (D) R\$ 8.974,98.
43. Como o procedimento estatístico a ser aplicado dependerá da natureza das variáveis, deve-se desenvolver habilidades de distinguir os tipos de variáveis possíveis. Nesse sentido, dentre as variáveis conhecidas, pode-se afirmar que “as variáveis numéricas que assumem somente números inteiros positivos 0, 1, 2, 3 ...” são variáveis
- (A) discretas.
 - (B) contínuas.
 - (C) nominais.
 - (D) ordinárias.
44. Numa população finita, composta de uma quantidade limitada de unidades elementares, a amostragem pode ser realizada de duas maneiras, sendo: amostragem com reposição ou amostragem sem reposição. Isto posto, a amostragem com reposição significa que a unidade selecionada
- (A) não retorna à população, portanto, em cada seleção a população mantém a mesma quantidade de unidades suplementares.
 - (B) retorna à população, portanto, em cada seleção a população mantém a mesma quantidade de unidades elementares.
 - (C) não mais faz parte da população ou do universo selecionado, portanto, a população foi modificada.
 - (D) faz parte da população ou do universo selecionado, portanto, a população foi adicionada.

45. Trata-se de um conceito sistêmico, relacionado com a continuidade dos aspectos econômicos, sociais, culturais e ambientais da sociedade humana. Propõe-se a ser um meio de configurar a civilização e atividade humanas, de tal forma que a sociedade, os seus membros e as suas economias possam preencher as suas necessidades e expressar o seu maior potencial no presente, e ao mesmo tempo preservar a biodiversidade e os ecossistemas naturais, planejando e agindo de forma a atingir pró-eficiência na manutenção indefinida desses ideais. Os conceitos descritos tratam de

- (A) eficiência social e econômica.
- (B) balanço social.
- (C) sustentabilidade.
- (D) igualdade social.

46. A Companhia Voa Alto S.A., que fabrica motores para a aviação aérea, necessita calcular seus custos unitários finais, para o mês base de julho de 2010. No mês de julho de 2010, foram fabricados 25 motores para um mesmo tipo de avião, portanto, todos os motores têm custos idênticos. Baseado nessas informações, pede-se para calcular o custo unitário dessa produção, utilizando-se das seguintes informações adicionais:

DESPESAS E CUSTOS	
Mão-de-Obra Direta	R\$ 442.000
Gastos gerais de fabricação	R\$ 380.000
Salários da Diretoria Industrial	R\$ 128.000
Matéria Prima	R\$ 1.450.000
Depreciação da área de contabilidade de custos	R\$ 230.000
Despesas Administrativas	R\$ 180.000
Tributos	R\$ 85.000
Depreciação de máquinas e equipamentos e administrativa	R\$ 680.000
Financeiras	R\$ 85.000
Outras	R\$ 75.000

Atentar para o rateio das despesas de depreciação de máquinas e equipamentos e administrativa, na proporção de 40% para a área administrativa.

- (A) R\$ 78.080.
- (B) R\$ 107.200.
- (C) R\$ 118.080.
- (D) R\$ 127.280.

47. A Lei n.º 4.769/65 define o campo e a atividade profissional do Administrador, como profissão, liberal ou não. Nesse sentido, de acordo com o art. 3.º da referida Lei, dos itens apresentados, identifique os que são responsabilidade do administrador:

- I. administração de material e financeira;
- II. administração de sistemas de tecnologia da informação;
- III. administração mercadológica;
- IV. administração de impostos;
- V. administração de produção;
- VI. orçamento.

Estão corretas

- (A) I, II, III, IV, V e VI.
- (B) II, III, IV, V e VI, apenas.
- (C) I, II, III, IV e V, apenas.
- (D) I, III, V e VI, apenas.

48. Nas questões de números 48 e 49, assinale a alternativa que completa, corretamente, a lacuna da frase.

O Orçamento tipo _____ é uma previsão orçamentária projetada sem levar em consideração o que ocorreu nos anos anteriores, é também usado quando se inicia uma empresa e ela ainda não tem histórico de vendas e despesas ou de receitas e gastos.

Trata-se de uma abordagem orçamentária desenvolvida nos Estados Unidos da América, pela Texas Instruments Inc., durante o ano de 1969. Foi adotado pelo estado da Geórgia pelo governo Jimmy Carter, com vistas ao ano fiscal de 1973. As principais características são: análise, revisão e avaliação de todas as despesas propostas e não apenas das solicitações que ultrapassam o nível de gasto já existente; e todos os programas devem ser justificados cada vez que se inicia um novo ciclo orçamentário.

- (A) Base Zero (OBZ)
- (B) Beyond Budget
- (C) Gecon
- (D) Estático

49. De acordo com o art. 8.º da Lei Complementar n.º 101/2000, que estabelece as finanças públicas, o Poder Executivo estabelecerá a programação financeira e o cronograma de execução mensal de desembolso, até _____ após a publicação dos orçamentos, nos termos em que dispuser a Lei de Diretrizes Orçamentárias e observado o disposto na alínea c do inciso I do art. 4.º.

- (A) 5 dias
- (B) 15 dias
- (C) 20 dias
- (D) 30 dias

50. A Lei de Responsabilidade Fiscal, de acordo com as suas atribuições, determina como definição da dívida pública consolidada ou fundada

- (A) a representação por títulos emitidos pela União, inclusive os do Banco Central do Brasil, Estados e Municípios.
- (B) o montante total, apurado sem duplicidade, das obrigações financeiras do ente da Federação, assumidas em virtude de leis, contratos, convênios ou tratados e da realização de operações de crédito, para amortização em prazo superior a doze meses.
- (C) o compromisso de adimplência de obrigação financeira ou contratual assumida por ente da Federação ou entidade a ele vinculada.
- (D) o compromisso financeiro assumido em razão de mútuo, abertura de crédito, emissão e aceite de título, aquisição financiada de bens, recebimento antecipado de valores provenientes da venda a termo de bens e serviços, arrendamento mercantil e outras operações assemelhadas, inclusive com o uso de derivativos financeiros.