

**CADERNO DE PROVA**

Nome \_\_\_\_\_ Data \_\_\_\_\_

Inscrição \_\_\_\_\_ Assinatura \_\_\_\_\_

CONCURSO PÚBLICO Nº 001/2010

**CARGO: CONTADOR****SÓ ABRA QUANDO AUTORIZADO****INSTRUÇÕES****(Leia atentamente antes de iniciar as provas)****Neste caderno, você vai encontrar 40 questões de múltipla escolha.**

- 1. Leia com atenção cada questão da prova.**
- 2. Verifique se há falhas de impressão no caderno de provas. Havendo, solicite sua troca antes de iniciar a prova.**
- 3. Ao receber o Cartão de Respostas, verifique:**
  - a) se estão corretos o seu nome, seu código e o cargo;**
  - b) se ele corresponde ao cargo escolhido;**
- 4. Para preenchimento do Cartão de Respostas, use somente caneta esferográfica preta.**
- 5. Não deixe nenhuma questão sem resposta.**
- 6. O cartão de respostas não deve ser dobrado, amassado ou rasurado. Não lhe será fornecido outro.**
- 7. O tempo de duração total da prova é de três horas.**
- 8. Após o período de sigilo que é de 1 hora você poderá sair da sala com sua folha rascunho de gabarito.**
- 9. Este caderno não poderá ser levado embora.**
- 10. Em caso de dúvida chame os fiscais de sala.**

**Boa Prova!**



**LÍNGUA PORTUGUESA**

Texto de apoio às questões

**Como é feita uma lei**

Na contramão da frase antológica do chanceler alemão Otto von Bismarck (1815-1898) – "As leis são como as salsichas. O melhor é não ver como são feitas" –, explica-se aqui como elas são produzidas no Brasil. Os pontos polêmicos do Programa Nacional de Direitos Humanos não têm aplicação imediata, pois serão enviados ao Congresso como projetos de lei. Da chegada de um projeto ao Legislativo até a sua aprovação, há um longo caminho. Existem hoje nos escaninhos do Congresso mais de 1300 projetos em tramitação. No ano passado, deputados e senadores aprovaram 101 propostas. Ou seja, menos de 8%. Há duas razões para isso: a pouca relevância da maioria das proposições e o complexo trâmite pelo qual um projeto passa até ser aprovado. Há quatro maneiras de uma lei ser proposta: pelo Executivo, pelo Judiciário, pelos próprios deputados e senadores ou por iniciativa popular. No ano passado, 58 leis aprovadas tiveram origem no próprio Congresso, contra 43 do Executivo. O Judiciário não conseguiu aprovar nenhum projeto, e a única proposta de iniciativa popular apresentada, a que proíbe a candidatura de políticos de ficha suja, não chegou a ser votada.

Produzir uma lei é um processo demorado. Quando o projeto é apresentado na Câmara dos Deputados ou no Senado, o presidente da Casa avalia sua importância para nomear um relator e definir o calendário de tramitação. Os projetos significativos passam por comissões temáticas, nas quais são minuciosamente analisados, para depois seguir para o plenário, onde são necessários, no mínimo, 257 deputados ou 41 senadores para pô-los em votação. Se forem a plenário, sua aprovação requererá maioria simples. A exceção são os projetos que modificam o texto da Constituição. Para serem sancionados, eles precisam dos votos de três quintos dos parlamentares – 308 deputados e 49 senadores. Toda proposição aprovada na Câmara vai para o Senado, que é a Casa revisora. Se os senadores também a aprovarem, sem modificações, a lei será enviada ao presidente da República, que ainda poderá vetá-la. É esse caminho que o plano de direitos humanos petista terá ainda de percorrer – e que certamente vai servir

para decantar tudo o que foi feito como as piores salsichas de Bismarck.

**Fonte: Revista Veja, 20 de janeiro de 2010, p. 59**

1. O significado da palavra "antológica" no enunciado: "Na contramão da frase **antológica** do chanceler alemão Otto Von Bismarck (1815-1898)..." pode ser:

- A. Notável
- B. Gastronômica
- C. Deplorável
- D. Polêmica

2. "Se os senadores também a aprovarem, sem modificações, a lei será enviada ao presidente da República, que ainda poderá **vetá-la**." O sentido dado no enunciado ao verbo *vetar* é o mesmo que:

- A. Chancelar
- B. Aprovar
- C. Modificar
- D. Proibir

3. O enunciado "**As leis são como as salsichas. O melhor é não ver como são feitas**" encontra uma significação bastante semelhante em outro enunciado do texto. Assinale a alternativa que não se encaixa nessa descrição:

- A. "Da chegada de um projeto ao Legislativo até a sua aprovação, há um longo caminho."
- B. "Produzir uma lei é um processo demorado."
- C. "Se os senadores também a aprovarem, sem modificações, a lei será enviada ao presidente da República, que ainda poderá vetá-la."
- D. "É esse caminho que o plano de direitos humanos petista terá ainda de percorrer – e que certamente vai servir para decantar tudo o que foi feito como as piores salsichas de Bismarck."

4. O texto afirma que, em relação às aprovações das leis pelos congressistas, é possível que

- A. o Judiciário, por ser a autoridade legal máxima de um país, também tenha autonomia na aprovação de leis.
- B. 1300 projetos de lei já tenham sido levados ao Congresso.
- C. 72% de todos os projetos em tramitação no Congresso foram deferidos.
- D. O Executivo apenas aprovou 43 leis no ano passado.

5. "Produzir uma lei é um processo demorado. Quando o projeto é

apresentado na Câmara dos Deputados ou no Senado, o presidente da Casa avalia sua importância para nomear um relator e definir o calendário de tramitação. Os projetos significativos passam por comissões temáticas, nas quais são minuciosamente analisados, para depois seguir para o plenário, onde são necessários, no mínimo, 257 deputados ou 41 senadores para pô-los em votação.”

O trecho reproduzido acima mostra uma forma de escrita, denunciada pelos recursos linguísticos empregados pela Revista Veja. Dentre as características do texto, está:

- A. O emprego da linguagem culta, na voz do narrador da história.
- B. A recriação de uma entrevista, possivelmente entre um jornalista e um congressista.
- C. O uso da descrição de procedimentos.
- D. A presença de argumentos válidos como em “Quando o projeto é apresentado na Câmara dos Deputados ou no Senado, o presidente da Casa avalia sua importância (...)”

6. Leia o trecho: “No ano passado, 58 leis aprovadas tiveram origem no próprio Congresso, contra 43 do Executivo. O Judiciário não conseguiu aprovar nenhum projeto, e a única proposta de iniciativa popular apresentada, a que proíbe a candidatura de políticos de ficha suja, não chegou a ser votada.”

- 1. “O *Judiciário não conseguiu aprovar nenhuma*” é apenas força de expressão, já que as leis têm origem nos três poderes, mas são apenas aprovadas pelo Legislativo.
- 2. A proposta de iniciativa popular foi apresentada pelo Judiciário, mas também, como as outras, não foi aprovada.

Em relação ao trecho acima, qual item encontra-se correto?

- A. I e II estão corretos.
- B. I, apenas.
- C. II apenas.
- D. Nenhum está correto.

7. Os verbos grifados têm a sua flexão definida pela mesma regra gramatical, exceto em:

- A. Os pontos polêmicos do Programa Nacional de Direitos Humanos não têm aplicação imediata.
- B. Há duas razões para isso.
- C. Os projetos significativos passam por comissões temáticas, nas quais são minuciosamente analisados.

D. Da chegada de um projeto ao Legislativo até a sua aprovação, há um longo caminho.

8. Leia o enunciado retirado do texto acima: “**A exceção são os projetos que modificam o texto da Constituição.**”. Qual alternativa traz a correta análise da regra gramatical empregada?

- A. O enunciado está gramaticalmente correto, pois o verbo “são” é regido, nesse caso, pelo predicativo do sujeito.
- B. O verbo “são” poderia ser substituído por “é”, concordando com o nome que o rege, o sujeito “exceção”, mas nesse caso específico a concordância do verbo ser admite as duas formas: é / são
- C. O enunciado acima segue a mesma regra gramatical de: Nem tudo são flores.
- D. É possível alterar a ordem dos elementos da frase para: “Os projetos que modificam o texto da Constituição são a exceção”, o que justifica o uso do verbo no plural concordando com o sujeito “os projetos”.

9. Seguem a mesma regra de acentuação todos os vocábulos da alternativa:

- A. Até, têm, há.
- B. próprio, trâmite, câmara.
- C. necessários, próprio, relevância.
- D. relevância, proíbo, próprio.

10. Assinale a alternativa que apresenta um pronome com função de sujeito destacado:

- A. “(...)são necessários, no mínimo, 257 deputados ou 41 senadores para pô-**los** em votação.”
- B. “ (...) a pouca relevância da maioria das proposições e o complexo trâmite pelo **qual** um projeto passa até ser aprovado.”
- C. “O Judiciário não conseguiu aprovar nenhum projeto, e a única proposta de iniciativa popular apresentada, a **que** proíbe a candidatura de políticos de ficha suja, não chegou a ser votada.”
- D. Os projetos significativos passam por comissões temáticas, nas **quais** são minuciosamente analisados (...).”

## MATEMÁTICA

11. Um imóvel foi vendido com um lucro de 25% sobre seu valor de compra. Podemos afirmar que o lucro sobre a venda foi de:

- A. 25% sobre o valor da venda.
- B. 10% sobre o valor da venda.

- C. 5% sobre o valor da venda.
- D. 20% sobre o valor da venda.

12. Uma torneira enche um recipiente em 4 horas. Outra torneira enche o mesmo recipiente em 6 horas. Em quanto tempo as duas torneiras encherão o tanque se forem abertas simultaneamente?

- A. 3 horas
- B. 1,5 horas
- C. 2 horas e 24 minutos
- D. 3 horas e 10 minutos

13. Em uma cidade com 100 mil habitantes, houve uma epidemia de dengue onde foram notificados 150 casos. Podemos afirmar que a incidência da doença na cidade foi de:

- A. 1,5%
- B. 15%
- C. 1%
- D. 0,15%

14. Um funcionário que aplicou seu 13º salário a juro simples de 2,5% ao mês, durante 90 dias, recebeu R\$ 90,00 de juro. Esse funcionário recebeu de 13º salário a quantia de:

- A. R\$ 800,00
- B. R\$ 950,00
- C. R\$ 1.000,00
- D. R\$ 1.200,00

15. Um operário gasta de seu salário mensal  $\frac{1}{4}$  com aluguel e  $\frac{3}{8}$  na sua manutenção, poupando o restante. A fração correspondente à poupança é:

- A.  $\frac{2}{3}$
- B.  $\frac{1}{2}$
- C.  $\frac{3}{8}$
- D.  $\frac{1}{8}$

16. Márcio tinha em seu quintal 10 garrafas *pet* de dois litros, todas cheias de areia grossa. Repassou a areia para recipientes menores que comportavam 850g do conteúdo. Num site da internet ele viu que cada litro de areia grossa pesa 1,7 kg. Quantas garrafas foram necessárias para armazenar toda a areia?

- A. 32
- B. 40
- C. 42
- D. 48

17. Uma herança de R\$ 42.000,00 deverá ser dividida entre três irmãos de modo que o mais velho receba o triplo do que receberá o caçula. Este receberá a metade do que receberá o irmão do meio. A diferença entre o que receberá o mais velho e o mais novo é:

- A. R\$ 12.000,00
- B. R\$ 13.000,00
- C. R\$ 13.400,00
- D. R\$ 14.000,00

18. Um apostador tem três opções para participar de certa modalidade de jogo, que consiste no sorteio aleatório de um número dentre dez.

1ª opção: comprar três números para um único sorteio.

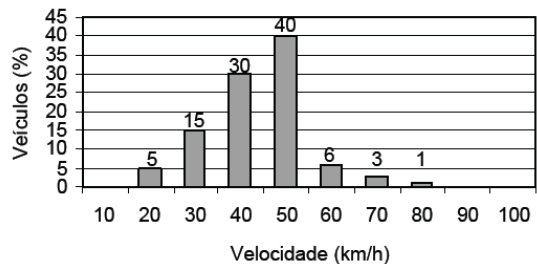
2ª opção: comprar dois números para um sorteio e um número para um segundo sorteio.

3ª opção: comprar um número para cada sorteio, num total de três sorteios.

Se X, Y, Z representam as probabilidades de o apostador ganhar algum prêmio, escolhendo, respectivamente, a 1ª, a 2ª ou a 3ª opção, é correto afirmar que:

- A.  $X = Y = Z$ .
- B.  $X > Y = Z$
- C.  $X = Y > Z$ .
- D.  $X > Y > Z$ .

19. Um sistema de radar é programado para registrar automaticamente a velocidade de todos os veículos trafegando por uma avenida, onde passam em média 300 veículos por hora, sendo 55 km/h a máxima velocidade permitida. Um levantamento estatístico dos registros do radar permitiu a elaboração da distribuição percentual de veículos de acordo com sua velocidade aproximada.



A velocidade média dos veículos que trafegam nessa avenida é de:

- A. 35 km/h
- B. 44 km/h
- C. 55 km/h
- D. 76 km/h

20. Uma garrafa cilíndrica está fechada, contendo um líquido que ocupa quase completamente seu corpo, conforme mostra a figura. Suponha que, para fazer medições, você disponha apenas de uma régua milimetrada. Para calcular o volume do líquido contido na garrafa, o número mínimo de medições a serem realizadas é:



- A. 1
- B. 2
- C. 3
- D. 4

### CONHECIMENTOS ESPECÍFICOS

21. São sistemas da Contabilidade Pública:
- A. Financeiro, Patrimonial, Orçamentário e de Derivativos.
  - B. Fluxo de Caixa, Patrimonial, Orçamentário e de Derivativos.
  - C. Financeiro, Patrimonial, Orçamentário e de Compensação.
  - D. Fluxo de Caixa, Patrimonial, Das Receitas e Despesas e de Derivativos.
22. Segundo os preceitos da lei 4320/64, assinale, entre as opções abaixo, a que **não** contém uma rubrica do Balanço Patrimonial da administração pública:
- A. Ativo Circulante
  - B. Saldo Patrimonial
  - C. Ativo Permanente
  - D. Passivo Permanente
23. O contador público ao contabilizar as receitas correntes arrecadadas provenientes de dívida ativa do município, utilizará de qual regime contábil?
- A. De competência.
  - B. De caixa.
  - C. De arrecadação.
  - D. Financeiro.
24. O serviço autônomo, criado por lei, com personalidade de direito público, interno, com patrimônio e receitas próprias, para executar atividades típicas da administração pública, ou seja, atribuições estatais específicas, chamamos de ?
- A. Sociedade de Economia Mista.
  - B. Administração Direta.
  - C. Empresa Pública.
  - D. Autarquia.
25. A ação planejada e transparente, em que se previnem riscos e corrigem desvios capazes de afetar o equilíbrio das contas públicas, consiste numa conceituação de qual Lei ?

- A. Lei nº 4.320/64; Lei para elaboração e controle dos Orçamentos Públicos.
  - B. Lei nº 8.666/03, Lei das Licitações.
  - C. Decreto-Lei nº 200/67 - Reforma Administrativa.
  - D. Lei nº 101/00 - Lei de Responsabilidade Fiscal.
26. O que são restos a pagar?
- A. são todas as despesas empenhadas e não pagas até o dia 30 de junho, distinguindo-se as processadas das não processadas;
  - B. são todas as despesas empenhadas e não pagas até o dia 31 de dezembro, distinguindo-se as processadas das não processadas;
  - C. são todas as dívidas assumidas pela Administração Pública, que não poderão ser transferidas para os exercícios futuros;
  - D. são créditos tributários que devem ser cobrados pela Fazenda Pública, inscrevendo-os em dívida ativa.
27. O orçamento público é uma lei de iniciativa do Poder:
- A. Legislativo
  - B. Ministério Público
  - C. Judiciário
  - D. Executivo
28. Quanto a receita pública aponte a opção correta:
- A. O recolhimento da receita far-se-á em estrita observância ao princípio de unidade de caixa.
  - B. O recolhimento da receita é caracterizado pelo pagamento feito diretamente pelos contribuintes à rede bancária autorizada.
  - C. A arrecadação da receita compreende a entrega dos recursos financeiros pelos agentes arrecadadores ao tesouro.
  - D. A previsão da receita é a estimativa de quanto se espera gastar durante o exercício financeiro.
29. Despesa obrigatória de caráter continuado é considerada:
- A. a despesa corrente derivada de lei, medida provisória ou ato administrativo normativo que fixem para o ente a obrigação legal de sua execução por um período superior ao mandato do prefeito;
  - B. a despesa corrente derivada de lei, medida provisória ou ato administrativo normativo que fixem para o ente a obrigação legal de sua execução por um período superior a um exercício;
  - C. a despesa corrente derivada de lei, medida provisória ou ato administrativo

- normativo que fixem para o ente a obrigação legal de sua execução por um período superior a três exercícios;
- D. a despesa corrente derivada de lei, medida provisória ou ato administrativo normativo que fixem para o ente a obrigação legal de sua execução por um período superior a dois exercícios.
30. Tendo em vista o nascimento de seu filho em setembro de 2009, um servidor público solicitou ao órgão competente, em fevereiro de 2010, o pagamento de salário-família. O valor devido ao servidor, referente ao salário-família dos meses de setembro a dezembro de 2009 deverá correr à conta de dotação específica na rubrica:
- A. Restos a pagar processados.  
B. Despesas não processadas.  
C. Despesas de exercícios anteriores.  
D. Restos a pagar não processados.
31. Considera-se nulo de pleno direito o ato de que resulte aumento da despesa com pessoal no seguinte período:
- A. oitenta dias anteriores ao final do mandato do titular do respectivo Poder.  
B. cento e vinte dias anteriores ao final do mandato do titular do respectivo Poder.  
C. noventa dias anteriores ao final do mandato do titular do respectivo Poder.  
D. cento e oitenta dias anteriores ao final do mandato do titular do respectivo Poder.
32. Os impostos, as taxas e as contribuições de melhoria são consideradas como as principais fontes de receita da administração pública. Estas receitas classificam-se em:
- A. receita tributária.  
B. receita patrimonial.  
C. receita de capital.  
D. receita financeira.
33. De acordo com a Lei Complementar nº 101/00 (Lei de Responsabilidade Fiscal) é correta afirmar que a receita corrente líquida dos municípios é constituída:
- A. do somatório das receitas tributárias, de contribuições, patrimoniais, industriais, agropecuárias, de serviços, transferências correntes e outras receitas também correntes, deduzidos as parcelas entregues aos Estados.  
B. do somatório das receitas tributárias, de contribuições, patrimoniais, industriais, agropecuárias, de serviços, transferências correntes e outras receitas também correntes, deduzidos a contribuição dos servidores para o custeio do seu sistema de previdência e assistência social e as receitas provenientes da compensação financeira citada no § 9º do artigo 201 da Constituição.  
C. do somatório das receitas tributárias, de contribuições, patrimoniais, industriais, agropecuárias, de serviços, transferências correntes e outras receitas também correntes.  
D. N.D.A.
34. O art.40 da Lei nº 4320/64 define como créditos adicionais as autorizações de despesas não computadas ou insuficientemente dotadas na Lei do Orçamento. Como se classificam estes créditos:
- A. Orçamentário, Extra-Orçamentário e Especial.  
B. Empenho, Liquidação e Pagamento.  
C. Suplementares, Especiais e Extraordinários.  
D. Função, Sub-Função e Programa.
35. Qualquer cidadão poderá consultar e apreciar as contas apresentadas pelo Chefe do Poder Executivo, no respectivo Poder Legislativo e no órgão técnico responsável pela sua elaboração. Pode-se afirmar, nos termos da Lei Complementar nº 101, que a frase acima é:
- A. incorreta, pois tais dados somente são acessíveis em CPI ou no âmbito do Judiciário.  
B. parcialmente correta, pois tais dados não são disponibilizados pelo Poder Legislativo.  
C. correta, pois a Lei Complementar nº 101 prevê exatamente esses termos.  
D. não aplicável, pois não há lei regulamentando o funcionamento desse dispositivo.
36. A despesa total com pessoal, no âmbito Municipal, em cada período de apuração, não poderá exceder os percentuais da receita corrente líquida em:
- A. 55% (cinquenta e cinco por cento).  
B. 50% (cinquenta por cento).  
C. 45% (quarenta e cinco por cento).  
D. 60% (sessenta por cento).
37. Sobre o uso da internet para a disponibilização de aplicações aos usuários, julgue a validade das proposições que seguem:
- A. O uso da tecnologia da internet para a produção de aplicações web trouxe uma grande facilidade ao processo de implantação de sistemas, pois a instalação da aplicação na máquina do cliente torna-se desnecessária. Isso agiliza

- B. a disponibilização de novas aplicações, bem como de inovações em aplicações já existentes.
- C. A segurança, quando se trata de aplicações para a internet, deve ser um ponto de preocupação constante. Uma vez que qualquer pessoa no mundo pode, via internet, acessar o site de sua aplicação, ele deve ser suficientemente robusto para evitar que pessoas indesejáveis usem o sistema.
- D. Apesar das facilidades de se disponibilizar os sistemas na internet, um novo problema que surgiu é a grande dificuldade de se utilizar aplicações via internet. Os usuários de tais aplicações devem

ser hábeis navegadores, além de conhecedores de detalhes de redes como endereçamento IP, topologias de redes e outros.


Assinale a alternativa CORRETA:

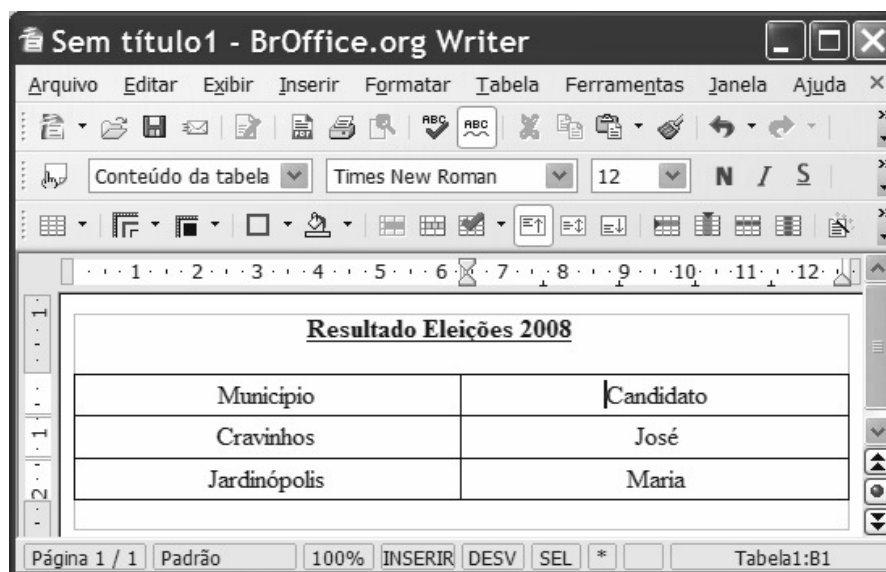
- A. Apenas a proposição I é verdadeira.
- B. Apenas as proposições I e II são verdadeiras.
- C. Apenas a proposição II é verdadeira.
- D. Todas as proposições são verdadeiras.

38. No BrOffice, existem funcionalidades que, para serem usadas, dependem da instalação no computador de um *plugin* que é o:





- A. Java RunTime Environment.
- B. PJW Mine Config.
- C. Sidebar Widgets.
- D. Ultimate Google Analytics.

39. Para se transferir a tabela apresentada no documento em edição para o editor Calc, é suficiente:

- A) selecionar a tabela, clicar a opção *Exportar* do menu **Arquivo** e selecionar a opção Calc.
- B) selecionar a tabela, clicar a seta da ferramenta  e selecionar a opção Calc.
- C) selecionar a tabela, clicar a opção *Recortar* do menu **Editar**, abrir o Calc, clicar a opção *Colar* do menu deste aplicativo.
- D) selecionar a tabela, clicar a opção *Copiar* do menu **Exibir**, abrir o Calc, clicar a opção *Colar* do menu **Exibir**.



40. A figura acima ilustra uma janela do editor *Writer*, com um documento em processo de edição. A partir da figura apresentada no texto, assinale a opção correta.

- A. Para inserir uma linha na
- B. tabela mostrada no documento em edição, é suficiente clicar o botão .
- C. Ao se clicar o botão , o corretor ortográfico do *Writer* será iniciado.
- D. Para definir sombreamento da primeira linha da tabela mostrada, é suficiente selecioná-la e clicar o botão .
- E. Após selecionar a segunda coluna da tabela mostrada e clicar o botão , os nomes dos candidatos, nessa tabela, ficarão permutados.



## REALIZAÇÃO



Prefeitura Municipal de Lençóis Paulista



Cestari Assessoria e Consultoria Ltda

### INFORMAÇÕES

Tel. 16 3043 0681

internet: [www.cestariconsultoria.com.br](http://www.cestariconsultoria.com.br)

E-mail: [atendimento@cestariconsultoria.com.br](mailto:atendimento@cestariconsultoria.com.br)