

CONHECIMENTOS BÁSICOS

PORTUGUÊS

Leia o texto a seguir, de Soninha Francine, para responder as questões 1 e 2.

"Politicamente correto" o cac... Digo, "uma ova"!

Sei que algumas pessoas me consideram "politicamente correta" - algumas, tratando a expressão elogio; outras, com desprezo e deboche. Sinceramente, não me considero elogiada... Acho esse negócio de "politicamente" uma tremenda bobagem. O que diabos quer dizer o advérbio nessa expressão?

Mas acho que se pode, sim, discutir o que é correto e incorreto no trato com as pessoas, e isso inclui a linguagem. Até parece que as palavras não têm importância nenhuma... Se não tivessem, não ficaríamos tão felizes com algumas que nos são ditas e tão furiosos com outras. E como há muitas sutilezas, muitas divergências, há tantas discussões a respeito.

Tempos atrás, usei a palavra "velho" em uma coluna do caderno de Esporte da Folha de São Paulo. Eu dizia que é um absurdo haver pessoas - no caso, eram torcedores enfurecidos - capazes de agredir um velho; que é um sinal gritante de problemas na sociedade o fato de já não respeitarmos velhos, mulheres e crianças.

Pois bem, recebi uma bronca de um leitor, para quem eu não devia dizer "velho", e sim usar a palavra "idoso". Que eu acho feia, metida, forçada. Pra mim, velho não é ofensa, tanto quanto novo ou jovem não é elogio - é só circunstância! Eu quero ficar velha! Adoro roupa velha, meus livros velhos, casas velhas...

Mas há palavras que realmente prefiro não usar, e recomendo que as pessoas não usem - incluindo meus colegas jornalistas. E quer ver como vocês vão entender e concordar comigo? Tanto que, de fato, elas foram praticamente abolidas. "Leproso" e "lepra", por exemplo, têm uma carga tão pejorativa, tão negativa, que não são mais usadas. É melhor falar em "hanseníase" - uma doença com tratamento e cura. O mesmo vale para "aidético". Isso lá é jeito de se referir a alguém? O sujeito não "é aidético". Como definir alguém pela doença que tem??

Há muitos anos não se fala em "mongolóides", ainda bem! Como já está quase esquecido, eu talvez nem devesse lembrar que o termo era usado para descrever as pessoas com Síndrome de Down. Era ou não era horroroso?

Eu ainda batalho pela exclusão ou pelo menos o uso cuidadoso de algumas outras palavras. "Viciado" é uma delas. "Vício" tem o sentido de defeito moral; é o oposto de

virtude... Mas dependência é uma doença, não uma "fraqueza moral". Além disso, é comum usar "viciado" para se referir ao usuário de drogas que não é dependente, o que é um erro grave de informação e serve para aumentar ainda mais a confusão em torno do tema.

(Aliás, outro dia ouvi uma pessoa dizer que tem um projeto com "dependentes de drogas e alcoólatras"... Como se os últimos não fossem dependentes de uma droga também! "Droga" é outra palavra meio mal usada...).

Existem mil outras palavras que deveriam ser banidas. O famoso "doutor", por exemplo, para se dirigir a ricos, engravatados e autoridades... O "excelência" que é obrigatório por regimento quando um vereador se dirige a outro no plenário... É tão forçado que fica ridículo.

Uma discussão séria sobre palavras aconteceu outro dia, por causa da famosa desavença entre Grafite e o argentino Desabato. Afinal, dirigir-se a alguém como "negro" é ofensivo? Depende... José Geraldo Couto, em texto brilhante na Folha, resumiu: "Entre o "minha nega" dito com afeto por um homem apaixonado e o "sua negra" dito com rispidez por uma patroa há um abismo cavado por séculos de história". Perfeito, não?

Pra concluir: sou a favor do cuidado e da reflexão a respeito das palavras que usamos, mas não de se baixarem regras na forma de um "index", do "isso pode e isso não pode". Por isso achei a maior bola fora a edição da "Cartilha do Politicamente Correto" editada em Brasília - ainda mais porque a própria expressão "politicamente correto" podia ser arquivada, imediatamente!

FRANCINE, Soninha. Disponível em [HTTP://obaoba.uol.com.br/coluna/soninha](http://obaoba.uol.com.br/coluna/soninha). Acesso em: 18 maio 2005.

1. A frase integra um texto em que a autora discute o que é ou não **“politicamente correto”**. Qual dos trechos abaixo define corretamente essa expressão:

- (A) A expressão é utilizada para orientar as pessoas a não chamarem indivíduos de raça negra de “negros”, mas de “afrodescendentes”.
- (B) a expressão designa uma forma de comportamento considerada correta em algumas circunstâncias. De modo geral, o uso da expressão refere-se às ações ou comportamentos que indiquem respeito às diferenças, considerando o que é adequado do ponto de vista moral.
- (C) Trata-se de um termo criado pelo governo para dar nome a uma cartilha na qual são determinadas expressões que, embora populares, indicam preconceito. A cartilha indica novas expressões que devem substituir as outras, agora proibidas.
- (D) todas as alternativas estão corretas.

2. A autora do texto afirma que considera “esse negócio de politicamente correto uma tremenda bobagem”. Como ela justifica essa opinião.

- (A) Segundo a autora, o advérbio “politicamente” é inadequado na expressão. A questão central, para ela, é discutir o que é correto ou incorreto no trato com as pessoas, incluindo o uso que fazemos da linguagem.
- (B) Para a autora, trata-se apenas de uma forma ingênua do governo mostrar que está lutando pelos direitos dos excluídos.
- (C) Para a autora, uma palavra pode ou não ser ofensiva. Depende da situação.
- (D) Soninha entende que a cartilha do politicamente correto não cita palavras que realmente deveriam ser excluídas do vocabulário, como mongolóide” e “aidético”.

3. Assinale a alternativa em que a palavra sublinhada não tem valor de adjetivo:

- (A) O garoto carregava um fardo amarelado.
- (B) As nuvens tornavam-se cinzentas.
- (C) O sol desbotou o verde da bandeira.
- (D) O uniforme azul estava molhado.

4. Assinale a alternativa em que a formação do plural dos substantivos está totalmente incorreta:

- (A) os sem-terra / cinco beija-flores / mil barris.
- (B) as estrelas do mar / dois padres-nossos / telegramas de condolências.
- (C) os guarda-noturnos / três pãozinhos / nas segunda-feiras.
- (D) os abaixo-assinados/ alguns animaizinhos / dois fósseis.

5. Na frase “ Pedro é só o *ficante* da Taís”, o termo *ficante* representa:

- (A) Gíria, porque tem vida curta e em breve não comunicará mais nada entre as gerações mais novas.
- (B) Estrangeirismo, visto não ter sido incorporado nos dicionários mais recentes.
- (C) Neologismo, por ter sido criado a partir do verbo *ficar* na linguagem comum entre os jovens.
- (D) Onomatopéia, porque foi criado levando em conta os sons naturais.

6. Do ponto de vista semântico, em qual das expressões abaixo a palavra “velho” pode ser substituída por “idoso”?

- (A) A sabedoria dos velhos deve ser considerada de suma importância, assim como o fazem os povos indígenas.
- (B) Gosto de livros, sobretudo os mais velhos que tenho em minha estante.
- (C) No Natal ficamos sempre juntos. É um velho costume da família.
- (D) Para nascer de novo, é preciso despir-se do velho homem.

7. Leia o poema abaixo e responda o que se pede.

Rios sem discurso

**[...] Em situação de poço, a água equivale
A uma palavra em situação dicionaría:
Isolada, estanque no poço dela mesma,
E poque assim estanque, estancada;
[...]**

CABRAL DE MELO NETO, João. Antologia poética.

Na qualificação progressiva da palavra “água”, feita pela primeira estrofe, dá-se a alteração de *estanque* para *estancada*. Essa alteração expressa uma nova noção a partir do seguinte recurso gramatical:

- (A) correção da concordância nominal.
- (B) emprego da estrutura passiva.
- (C) complemento do nome “palavra”.
- (D) flexão de gênero.

8. Na afirmação “ Depois de me casar com o João, comprei uma casinha lá na Bela Vista”, o diminutivo no substantivo expressa, além do tamanho e carinho, o sentido de:

- (A) Ironia.
- (B) Simplicidade.
- (C) Pobreza.
- (D) Penúria .

Leia o texto abaixo, de Arnaldo Antunes, e responda as questões 9 e 10.

Fora de si

Eu fico louco

Eu fico fora de si

Eu fica assim

Eu fica fora de mim

Eu fico um pouco

Depois eu saio daqui

Eu vai embora

Eu fico fora de si

Eu fico oco

Eu fica bem assim

Eu fico sem ninguém em mim

9. Para construir a idéia de fora de si, o poeta vale-se:

- (A) Do uso exagerado do pronome eu, associando-o ao interlocutor em 2ª pessoa do singular.
- (B) Da utilização do pronome indefinido – ninguém – como forma de sugerir a idéia de imprecisão.
- (C) De pronomes reflexivos que apontam para o próprio sujeito, numa atitude de olhar internamente.
- (D) De variações lingüísticas, sugerindo que ficar fora de si é transmutar-se também em outras pessoas gramaticais.

10. A tradução da primeira estrofe do poema para a expressão formal em língua portuguesa ficaria correta em:

- (A) eu fico louco/eu fico fora de mim/eu fica assim/ eu fico fora de mim.
- (B) eu fico louco/eu fico fora de si/eu fico assim/ eu fico fora de si.
- (C) eu fico louco/eu fico fora de mim/eu fico assim/ eu fico fora de mim.
- (D) eu fico louco/eu fico fora de si/eu fica assim/ eu fica fora de mim.

MATEMÁTICA**11. Numa Faculdade de 3630 alunos, 2015 deles estudam no curso de Engenharia, 1215 estudam no curso de Administração e 515 deles estudam nos dois cursos. Quantos alunos não estudam em nenhum dos dois cursos.**

- (A) 410.
- (B) 915.
- (C) 615.
- (D) 715.

12. A transformação do número racional, escrito na forma decimal, (dízima periódica: 1,131313...) para a forma de fração é:

- (A) $1,12 / 99$
- (B) $11,2 / 99$
- (C) $112 / 99$
- (D) $100 / 99$

13. Determine o valor de “X” para a equação do 1º grau abaixo.

$$0 = 1 + \frac{1 + \frac{1}{x}}{2 - \frac{4}{x}}$$

- (A) -2
- (B) 4

- (C) 5
- (D) 1

14. Calcule o valor de “X” para a equação abaixo.

$$4X^2 + 4X + 1 = 0$$

- (A) $-1/2$
- (B) $2/5$
- (C) $-3/7$
- (D) $4/9$

15. O cliente de um banco consolida uma dívida que, a juros simples de 6%am, representa um compromisso de R\$180.000,00 a ser saldado dentro de um ano e deseja quitar antecipadamente parte do débito, pagando R\$40.000,00 hoje, R\$ 58.000,00 dentro de 8 meses e o saldo devedor “S” na data do vencimento do compromisso. Determine o valor do saldo devedor “S”.

- (A) R\$ 82.000,00.
- (B) R\$ 61.742,30.
- (C) R\$ 55.342,50.
- (D) R\$46.727,81.

16. A temperatura “T” da água no radiador de um carro varia, durante cinco minutos depois de acionado o motor, de acordo com a função $T = 2t^2 + 2t + 25$, com $0 \leq t \leq 5$, onde “T” é a temperatura em °C, e “t” é o tempo decorrido em minutos a partir do instante em que o motor foi acionado. Após esses cinco minutos iniciais, a temperatura mantém-se constante. A temperatura da água no radiador do carro após 8 minutos de acionamento é:

- (A) 40 °C
- (B) 85 °C
- (C) 120 °C
- (D) 169 °C

17. Doze operários em 90 dias de trabalho com jornada de 8 horas diárias produzem 36 m de um fio condutor elétrico especial. Quantos dias levarão 15 operários para fazer 12 m de fio condutor elétrico especial com o dobro de diâmetro, trabalhando 6 horas por dia?

- (A) 82 dias.
- (B) 74 dias.
- (C) 64 dias.
- (D) 58 dias.

18. Calcule o lado de um triângulo equilátero de área $8\sqrt{3}$ centímetros quadrados.

- (A) $2\sqrt{2}$ cm.
- (B) $2\sqrt{3}$ cm.
- (C) $3\sqrt{3}$ cm.
- (D) $5\sqrt{2}$ cm.

19. Determine a área lateral de um cilindro de 4 centímetros de diâmetro e 30 milímetros de altura.

- (A) 3π cm²
- (B) 9π cm²
- (C) 12π cm²
- (D) 18π cm²

20. A inclinação de uma reta pode ser interpretada como uma razão ou taxa de variação. Para a reta, a razão ou taxa de variação são constantes. Neste sentido, sabendo que a população de uma determinada cidade do estado de Minas Gerais, Brasil, era 12.000 em 1990 e 16.000 em 2010. Determine a taxa média de crescimento da população ao longo do período de 20 anos.

- (A) 100.
- (B) 150.
- (C) 200.
- (D) 250.

CONHECIMENTOS ESPECÍFICOS

Nas questões de nº 21 a 24, considere que o *mouse* está em configuração-padrão, ou seja, configurado para pessoas destros e que o sistema operacional está configurado no estilo *Web*, em português. Assim, a menos que seja explicitamente informado o contrário, expressões como clicar, clique simples e clique duplo referem-se a cliques com o botão esquerdo do *mouse*. Considere também que não há restrições de proteção e de uso, em relação aos programas, arquivos, diretórios e equipamentos mencionados.

21. Acerca do sistema operacional *Windows XP*, assinale a alternativa correta.

- (A) O sistema operacional especificado para o computador apresenta diferenças em relação ao *Windows 98*, no referente ao *menu* “iniciar”, que foi remodelado, podendo agora ser apresentado em uma janela com duas colunas.
- (B) O *Windows XP* é um sistema operacional multitarefa de 32 *bits*, que apresenta recursos do sistema em que diversas aplicações podem, em um determinado momento, compartilhar dados com outros computadores, dispensando tanto a placa de rede quanto a placa de fax-*modem*.
- (C) O sistema operacional *Windows XP*, possui recursos internos de *firewall* que, quando ativados, durante a inicialização do sistema, dificultam que informações armazenadas

em arquivos sejam enviadas de forma não-autorizada, como mensagens de correio eletrônico ou pela ação de vírus de computador, por meio de sistemas criptografados e chaves de segurança.

- (D) Com os recursos internos de *firewall* que já vêm instalados no sistema operacional *Windows XP*, não há necessidade de instalação de nenhum sistema especial para impedir ataques de *hackers* ou *crackes*, pois nesse tipo de sistema, a segurança é garantida pelo uso de senhas de acesso e de técnicas de criptografia das informações durante a criação de contas de usuários.

22. Trabalhando com o sistema operacional Windows XP, um usuário acessou o utilitário Windows Explorer. Para selecionar todo o conteúdo da unidade de disco rígido (C:\), ele deve acionar concomitantemente as teclas:

- (A) CTRL+T.
(B) CTRL+B.
(C) CTRL+S.
(D) CTRL+A.

23. O item do painel de controle do sistema operacional Windows XP que permite alterar o modo de exibição de hora e data é:

- (A) relógio.
(B) opções regionais e de idioma.
(C) data/hora.
(D) fontes.

24. Com relação à lixeira no Windows XP, julgue as afirmações abaixo.

- I - O tamanho ocupado pela lixeira pode ser definido pelo usuário.
II - Todo arquivo apagado é movido para a lixeira.
III - Depois de um tempo determinado pelo usuário, o *Windows* remove definitivamente os arquivos contidos na lixeira.

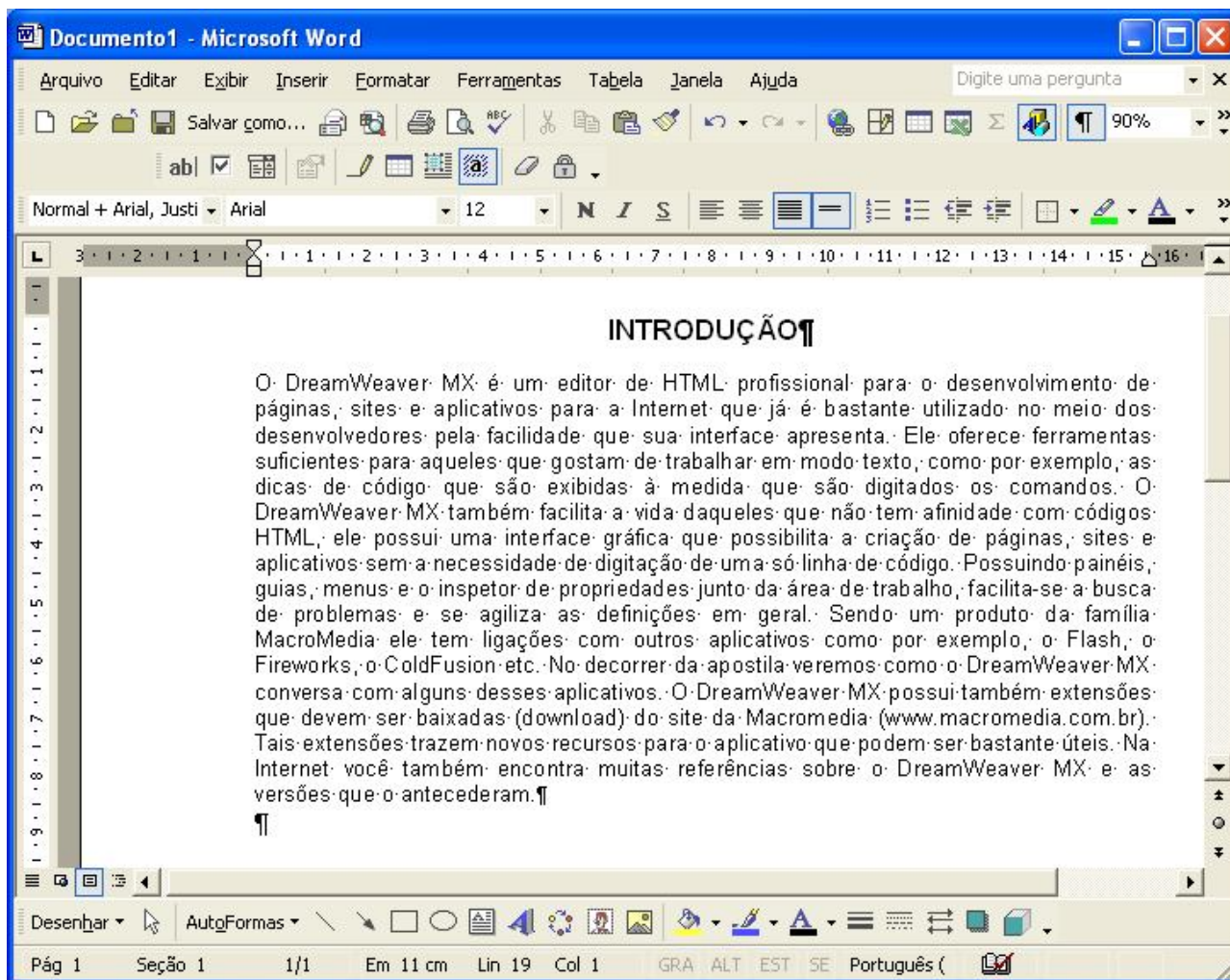
Estão corretas:

- (A) somente I.
(B) somente I e II.
(C) somente II e III.
(D) I, II e III.


25. A definição do idioma no qual o texto será redigido e corrigido gramaticalmente é realizada, no Word, através do menu denominado:

- (A) editar.
(B) arquivo.
(C) formatar.
(D) ferramentas.

26. A figura abaixo mostra uma janela do aplicativo Word 2003.



Com base na figura e no Word 2003, julgue os itens a seguir.

- I - Em documentos com muitas páginas e com vários tipos de informações, como títulos, tabelas e gráficos, uma maneira de deslocar o cursor rapidamente no documento é utilizar o botão de procura , localizado na barra horizontal de rolagem.
- II - Por meio do menu “Exibir”, pode-se visualizar uma página Internet, caso o computador esteja devidamente conectado a uma rede de acesso e seja fornecido, na caixa de dialogo correspondente, um endereço válido.
- III - Por meio do menu “Inserir”, é possível, entre outras opções, adicionar ao Documento1 em edição qualquer arquivo armazenado no disco rígido do computador que contenha texto no formato do Word 2003.
- IV - Caso outros arquivos contendo documentos do Word 2003 estejam abertos, para alternar entre eles, é suficiente clicar o arquivo desejado na lista disponibilizada ao se clicar o menu “Janela”.

Estão corretas:

- (A) somente I e II.

- (B) somente III e IV.
 (C) somente II e III.
 (D) I, II, III e IV.

27. A figura seguinte apresenta a barra de *menus* padrão do programa Word.




Assinale a alternativa errada.


- (A) O *menu* “arquivo” possui o comando “propriedades”, que fornece o número de linhas e o número de palavras do documento.
 (B) O *menu* “inserir” possui o comando “hifenização”, que permite hifenizar de forma correta as palavras do texto.
 (C) O *menu* “formatar” possui o comando “fonte”, que permite definir o estilo, o tamanho e a cor da fonte, bem como o espaçamento de caracteres.
 (D) O *menu* “exibir” possui o comando “cabeçalho e rodapé”, que permite criar, por exemplo, um rodapé que contenha números de página e data.

28. A tabela mostrada a seguir foi editada com o programa *Word*. Embora o *Word* disponha de muitos recursos para a edição de tabelas, quem editou essa tabela não dominava completamente os comandos do programa.

PROVA/TIPO	ÁREA DE CONHECIMENTO	QUESTÕES	VALOR
(P1) Objetiva	Língua Portuguesa	08	80
(P2) Objetiva	Noções Básicas de Direito Administrativo	05	110
(P3) Objetiva	Noções Básicas de Direito Penal	05	80
(P4) Discursiva	Noções Básicas de Microinformática		80
(P5) Discursiva	Redação		90
	Total	18	

Considerando a tabela apresentada, assinale a alternativa errada.

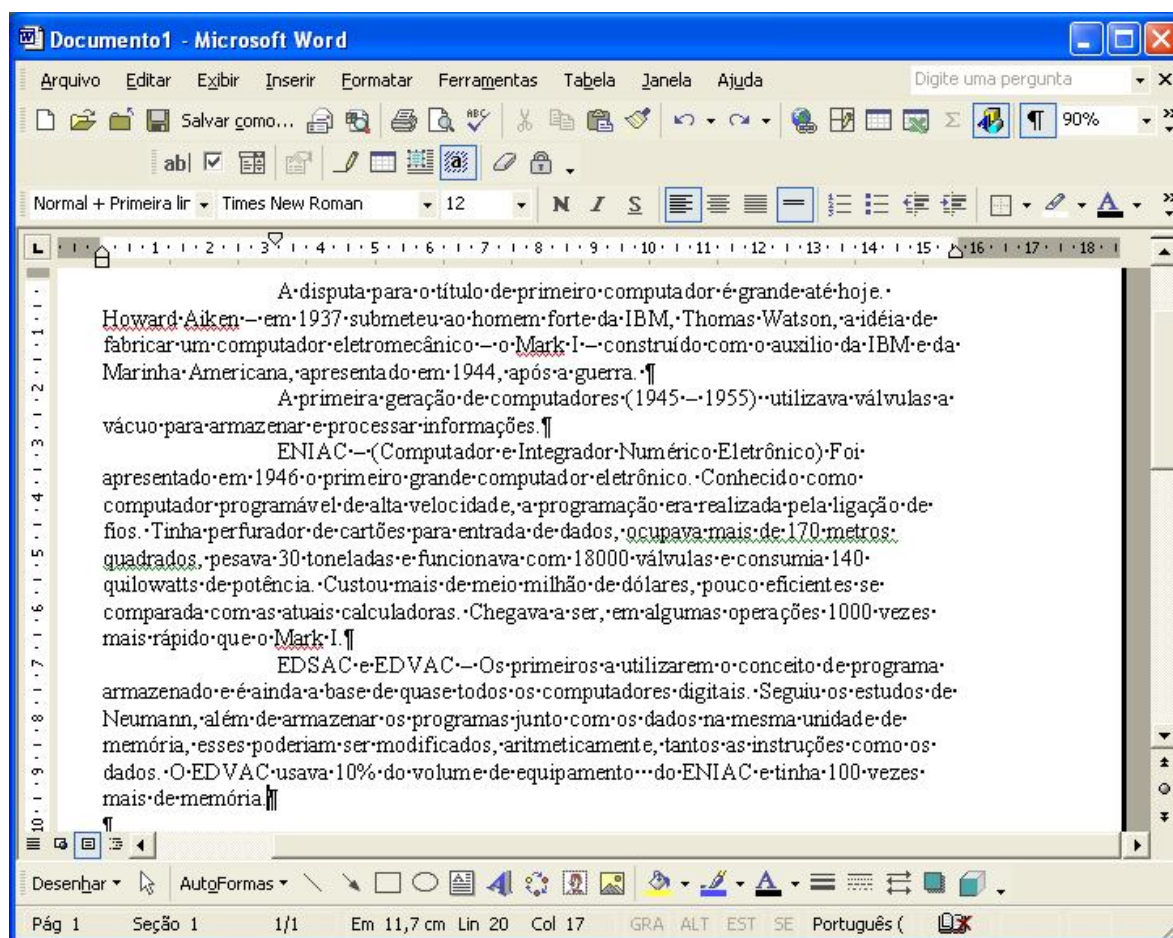
- (A) Pode-se alinhar a palavra “redação” à esquerda, usando-se o seguinte procedimento: clicar o botão esquerdo do *mouse* com o seu ponteiro sobre a palavra “redação” e, então clicar na figura  da barra de ferramentas, para alinhar a palavra à esquerda da célula.
 (B) Pode-se obter o somatório dos valores da última coluna da tabela, usando-se o seguinte procedimento: posicionar o cursor sobre a célula inferior da coluna e utilizar o comando “fórmula” do *menu* “tabela”.

- (C) Pode-se centralizar na vertical o texto das células da primeira linha da tabela, usando-se o seguinte procedimento: posicionar o ponteiro do *mouse* sobre a margem esquerda da página, na altura da linha, e pressionar o botão direito do *mouse*, para selecionar a linha; depois, selecionar, no *menu* “tabela”, o comando “centralizar” com opção “linha”, para centralizar na vertical.
- (D) Pode-se centralizar a tabela entre as margens esquerda e direita da página, usando-se o seguinte procedimento: selecionar toda a tabela com o comando “selecionar tabela” do *menu* “tabela” e, então clicar na figura  da barra de ferramentas.


29. A criação de um arquivo, a partir de um documento digitado no editor de texto *Word*, é realizada através da caixa de diálogo denominada:

- (A) novo.
 (B) editar.
 (C) salvar como.
 (D) arquivo.

30. Com referência à figura mostrada no texto e ao *Word 2000*, assinale a alternativa errada.




- (A) Os parágrafos mostrados na figura serão alinhados às margens direita e esquerda caso seja realizado o seguinte procedimento: clicar sobre qualquer palavra do primeiro

parágrafo; pressionar e manter pressionada a tecla Shift; clicar sobre qualquer palavra do último parágrafo; liberar a tecla Shift; clicar o botão .

- (B) Para se procurar as ocorrências da palavra “computador” em todo o documento, é suficiente aplicar um clique duplo sobre essa palavra na primeira linha do texto e, a seguir, utilizar as funcionalidades da opção Localizar, encontrada no menu Editar.
- (C) A Inserção, no documento que esta sendo editado de numeração das páginas ou de quebra de coluna pode ser realizada por meio do menu Inserir.
- (D) Caso seja selecionado todo o segundo parágrafo mostrado e, a seguir, sejam pressionadas seqüencialmente as teclas Ctrl, Alt e **N** o referido parágrafo terá o estilo de fonte alterado para negrito.

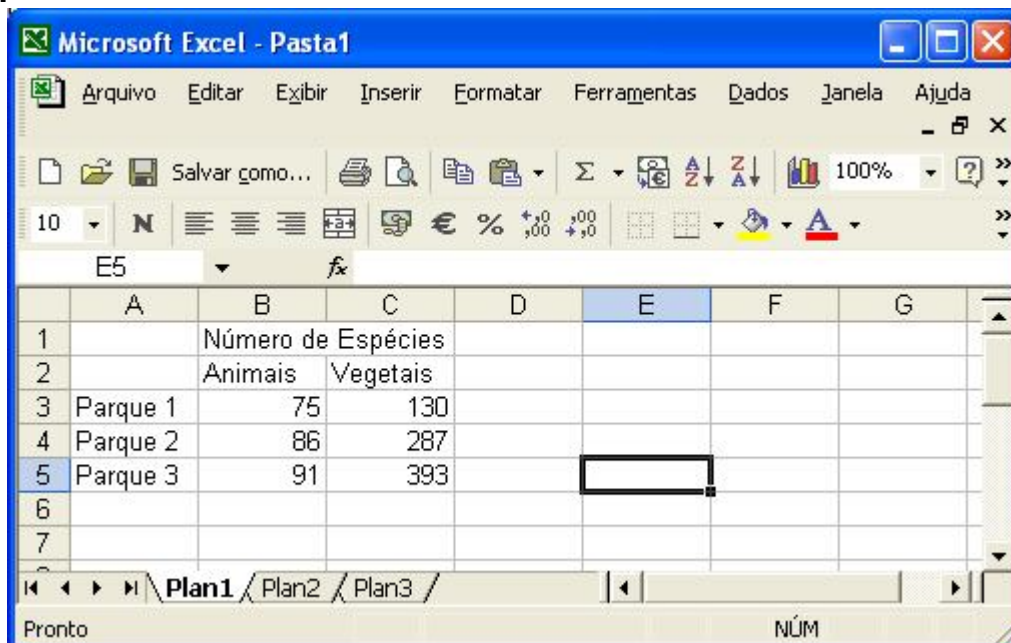
31. Com relação ao Excel para Windows 2000, julgue os itens abaixo:

- I - No *menu* “ferramentas”, como no Word para *Windows 2000*, também existe a opção “verificar ortografia”.
- II - No *menu* “Editar”, existem as opções “Localizar”, “Substituir” e “Ir Para”.
- III - No *Excel*, existe o botão , chamado de assistente de gráfico, que facilita a tarefa de criar gráficos.
- IV - O botão de desfazer do Excel é mais limitado que o do *Word*.

Estão corretas:

- (A) somente I e II.
- (B) somente I, II e III.
- (C) somente IV.
- (D) I, II, III, IV.

32. A figura abaixo mostra uma janela do Excel 2000, que contém uma planilha em processo de edição, com o número de espécies animais e vegetais em três parques nacionais.







The screenshot shows the Microsoft Excel 2000 interface. The spreadsheet has the following data:

	A	B	C	D	E	F	G
1		Número de Espécies					
2		Animais	Vegetais				
3	Parque 1	75	130				
4	Parque 2	86	287				
5	Parque 3	91	393				
6							
7							

The spreadsheet is titled "Microsoft Excel - Pasta1" and shows the menu bar (Arquivo, Editar, Exibir, Inserir, Formatar, Ferramentas, Dados, Janela, Ajuda) and the toolbar. The active cell is E5.

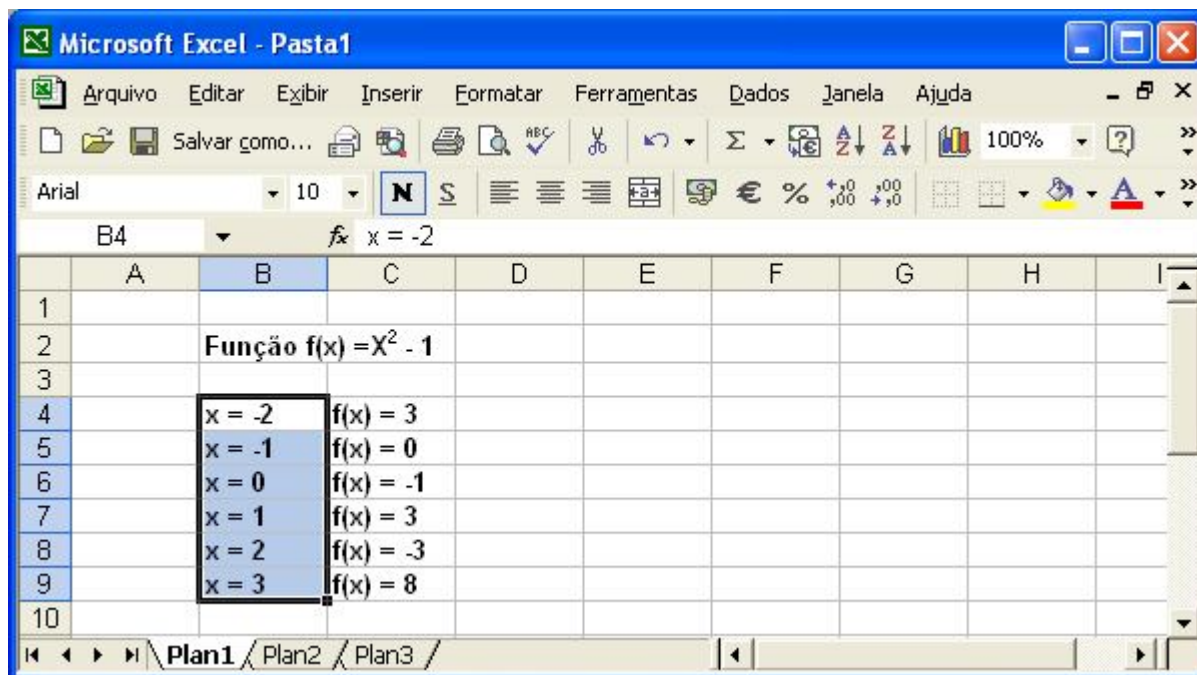
Com relação a essa situação hipotética e ao Excel 2000, julgue os itens que se seguem.

- I - Para calcular o número de espécies animais e o de espécies vegetais contidas nos parques 1, 2 e 3, colocando os resultados, respectivamente nas células B6 e C6, é suficiente realizar a seguinte seqüência de ações: clicar na célula B6; digitar =B3+B4+B5 e, em seguida, teclar enter; clicar novamente na célula B6: clicar ; clicar C6; clicar .
- II - Sabendo que a célula E5 está selecionada, para aumentar a largura da coluna E, é suficiente alterar  para um número maior.
- III - Para selecionar as células B3, B4 e B5, é suficiente realizar a seguinte seqüência de ações: clicar na célula B5; pressionar e manter pressionada a tecla *Shift*; teclar duas vezes a tecla ; liberar a tecla *Shift*.

Estão corretas:

- (A) somente I.
- (B) somente I e II.
- (C) somente II e III.
- (D) somente I e III.


33. A figura seguinte mostra uma tela de trabalho do programa Excel 2000, no Windows 98, em sua configuração padrão.



Com base na figura, assinale a alternativa errada.

- (A) A expressão $(X^2 - 1)$ mostrada na figura pode ser digitada da seguinte forma: digita-se a tecla "X"; pressionam-se simultaneamente as teclas Shift e Ctrl e, mantendo-as




pressionadas, digita-se a tecla “=”; liberam-se as teclas Shift e Ctrl; digita-se a tecla “2”, pressionam-se simultaneamente as teclas Shift e Ctrl e, mantendo-as pressionadas, digita-se a tecla “=”; liberam-se as teclas Shift e Ctrl; digitam-se as teclas “-“ e “1”;

- (B) O botão  permite copiar o formato de um objeto ou texto selecionado e aplicar tal formato ao objeto ou texto clicado.
- (C) Para selecionar um bloco vertical de texto, como mostrado na figura acima, pode-se usar a tecla *shift* e, mantendo-a pressionada, seleciona-se o bloco com o *mouse*.
- (D) Para aplicar-se negrito aos conteúdos das células de B4 a B9, é suficiente a seguinte seqüência de ações: clicar na célula B4; pressionar e, mantendo pressionada a tecla Shift, clicar a célula B9; liberar a tecla Shift; pressionar a tecla Ctrl e, mantendo-a pressionada, teclar N; liberar a tecla Ctrl.

34. No Excel, qual das opções abaixo não é função do comando “Células” do menu “Formatar”?

- (A) Mudar a cor de fundo da célula.
- (B) Mudar a altura da célula.
- (C) Proteger uma célula.
- (D) Mudar o alinhamento do texto.

35. Acerca do programa Excel, versão 7.0, julgue os itens a seguir (idem para versão Excel 2000).

- I - Se o botão  for acionado, os dados da planilha que está sendo editada serão apagados.
- II - Para ajustar-se a largura de uma coluna da planilha, pode-se usar a opção “coluna” do menu “Formatar”.
- III - Para se colocarem bordas nas células de uma tabela, pode-se selecionar as células e usar a opção “células”, do menu “Formatar”.
- IV - A função do botão  é inverter a ordem da planilha, de forma que a primeira coluna passe a ser a última, e a última passe a ser a primeira.
- V - Suponha que uma célula que contém o número 53 seja selecionada. Se o botão  for clicado, aparecerá, na célula, o número 53%.





Estão corretas:

- (A) somente I, II e III.
- (B) somente II e III.
- (C) somente IV e V.
- (D) somente II, III, IV.

36. Um representante de bairro realizou o levantamento das quantidades de ocorrências de três tipos específicos, em um período de trinta dias, em três bairros de uma cidade. Para isso, ele consultou os registros apropriados, os dados foram tabulados em uma planilha do Excel 2000, mostrada na figura abaixo.

	A	B	C	D	E	F	G
1		Bairro A	Bairro B	Bairro C			
2	Ocorrências do tipo 1	67	96	87			
3	Ocorrências do tipo 2	56	76	56			
4	Ocorrências do tipo 3	65	65	76			
5							
6							

Com relação à situação hipotética descrita e ao Excel 2000, assinale a alternativa correta.

- (A) A seguinte seqüência de ações descreve um processo completo que levará o representante de bairro à criação de um gráfico de barras para visualizar graficamente a incidência de cada tipo de ocorrência nos seguintes bairros: selecionar todas as células da tabela; em seguida, clicar em .
- (B) Para determinar a média diária de ocorrências do tipo 1 no bairro C, no período considerado, e colocar o resultado na célula E2, seria correto o representante adotar o seguinte procedimento: clicar na célula E2; em seguida, digitar = média(D2:30) e, finalmente, teclar enter.
- (C) Para calcular a porcentagem de ocorrências do tipo 1 no bairro C, em relação ao total de ocorrências do mesmo tipo nos três bairros, e colocar o resultado na célula E2, seria correto o representante executar o seguinte procedimento: clicar na célula E2; em seguida, digitar =C2/(B2+D2) e teclar enter; clicar novamente em E2 e, finalmente, clicar em .
- (D) Os números 160 e 168 aparecerão nas células E3 e E4, respectivamente, se o representante realizar a seguinte seqüência de ações: clicar na célula E3, digitar = B3+C3+D3/2 e teclar enter; em seguida, clicar novamente na célula E3, clicar em , clicar na célula E4 e, finalmente clicar em .

37. Em relação ao Excel 2000, assinale a alternativa errada.


- (A) O menu "Formatar" possui opções que permitem ocultar tanto uma coluna quanto uma linha. Para isso, é necessário que a linha inteira ou a coluna inteira seja selecionada.
- (B) A fórmula = \$A\$1+\$B\$1 contém apenas referências absolutas, e a fórmula = A1+B1 contém apenas referências relativas.
- (C) O menu "Formatar" possui opções que permitem alterar tanto a largura das colunas quanto a altura das linhas.

- (D) Em uma planilha do Excel 2000, pode-se excluir de forma automática uma linha ou coluna, selecionando-a através do cabeçalho, e clicando sobre “Excluir”, no *menu* “Editar”.

38. Observe a figura abaixo, que mostra uma tela de trabalho do *Excel 2000*, para responder a questão abaixo. Essa planilha hipotética mostra o número de gols de times de futebol, em determinado campeonato estadual, ano a ano de 2005 a 2008.

	A	B	C	D	E	F	G	H
1								
2			ANO					
3			2005	2006	2007	2008		
4		TIME 1	51	69	37	21		
5		TIME 2	47	60	53	33		
6		TIME 3	22	50	20	65		
7		TIME 4	45	56	70	56		
8								

Com base na figura, assinale a alternativa correta:

- (A) No Excel, um mesmo arquivo pode conter, no máximo 7 planilhas.
 (B) Clicando-se no botão , as células selecionadas passarão a ter um fundo colorido.
 (C) Em uma planilha do *Excel 2000*, pode-se excluir uma linha, selecionando-a e clicando sobre “Excluir”, no *menu* “Editar”.
 (D) O resultado da operação =soma(F4;F7) é 175.

39. A figura abaixo mostra uma tela de trabalho do *Excel 2000*.

	A	B	C	D	E	F	G	H	I	J
1	3	4	5	7	8	10				
2	6	7	8		11					
3	9	10	11		14					
4										
5										

Com respeito à figura e ao *Excel 2000*, assinale a alternativa errada.

- (A) Para criar uma função (exemplo: média) das células "A1 e B2", na célula C1, mostradas na figura, é suficiente clicar em Σ após as células selecionadas, o que fará aparecer o resultado "5".
- (B) Clicando-se com o botão direito do *mouse* na barra de *status* e ativando-se a opção "média", basta selecionar as células (A2,B3 e C2), que aparecerá o resultado "8" na barra de *status*.
- (C) A partir da opção "área de impressão" ..., no *menu* "Arquivo", é possível DEFINIR OU LIMPAR a área de impressão.
- (D) O valor "14", apresentado na célula E3, pode ter sido obtido seguindo o seguinte procedimento: Clicar simples na célula E3, digitar =SOMA((B1+B3)+(B1*C1-A2)/2) – MÉDIA(B1;B3) e, em seguida, pressionar a tecla "enter".

40. Marque a opção que não é um componente da janela do *Excel 2000*.

- (A) *Menu* Tabela.
- (B) Barra de *status*.
- (C) Barra de Fórmulas.
- (D) Caixa de endereço.