



# Prefeitura de **SOROCABA**

## CONCURSO PÚBLICO

### 1. PROVA OBJETIVA

#### AGENTE DE VIGILÂNCIA SANITÁRIA I

- ♦ VOCÊ RECEBEU SUA FOLHA DE RESPOSTAS E ESTE CADERNO CONTENDO **50** QUESTÕES OBJETIVAS.
- ♦ CONFIRA SEU NOME E NÚMERO DE INSCRIÇÃO IMPRESSOS NA CAPA DESTE CADERNO.
- ♦ LEIA CUIDADOSAMENTE AS QUESTÕES E ESCOLHA A RESPOSTA QUE VOCÊ CONSIDERA CORRETA.
- ♦ RESPONDA A TODAS AS QUESTÕES.
- ♦ MARQUE, NA FOLHA INTERMEDIÁRIA DE RESPOSTAS, LOCALIZADA NO VERSO DESTA PÁGINA, A LETRA CORRESPONDENTE À ALTERNATIVA QUE VOCÊ ESCOLHEU.
- ♦ TRANSCREVA PARA A FOLHA DE RESPOSTAS, COM CANETA DE TINTA AZUL OU PRETA, TODAS AS RESPOSTAS ANOTADAS NA FOLHA INTERMEDIÁRIA DE RESPOSTAS.
- ♦ A DURAÇÃO DA PROVA É DE **3** HORAS.
- ♦ A SAÍDA DO CANDIDATO DA SALA SERÁ PERMITIDA APÓS TRANSCORRIDA A METADE DO TEMPO DE DURAÇÃO DA PROVA.
- ♦ AO SAIR, VOCÊ ENTREGARÁ AO FISCAL A FOLHA DE RESPOSTAS E ESTE CADERNO, PODENDO DESTACAR ESTA CAPA PARA FUTURA CONFERÊNCIA COM O GABARITO A SER DIVULGADO.

AGUARDE A ORDEM DO FISCAL PARA ABRIR ESTE CADERNO DE QUESTÕES.



# Prefeitura de **SOROCABA**

## FOLHA INTERMEDIÁRIA DE RESPOSTAS

QUESTÃO	RESPOSTA				
01	<input type="checkbox"/> A	<input type="checkbox"/> B	<input type="checkbox"/> C	<input type="checkbox"/> D	<input type="checkbox"/> E
02	<input type="checkbox"/> A	<input type="checkbox"/> B	<input type="checkbox"/> C	<input type="checkbox"/> D	<input type="checkbox"/> E
03	<input type="checkbox"/> A	<input type="checkbox"/> B	<input type="checkbox"/> C	<input type="checkbox"/> D	<input type="checkbox"/> E
04	<input type="checkbox"/> A	<input type="checkbox"/> B	<input type="checkbox"/> C	<input type="checkbox"/> D	<input type="checkbox"/> E
05	<input type="checkbox"/> A	<input type="checkbox"/> B	<input type="checkbox"/> C	<input type="checkbox"/> D	<input type="checkbox"/> E

06	<input type="checkbox"/> A	<input type="checkbox"/> B	<input type="checkbox"/> C	<input type="checkbox"/> D	<input type="checkbox"/> E
07	<input type="checkbox"/> A	<input type="checkbox"/> B	<input type="checkbox"/> C	<input type="checkbox"/> D	<input type="checkbox"/> E
08	<input type="checkbox"/> A	<input type="checkbox"/> B	<input type="checkbox"/> C	<input type="checkbox"/> D	<input type="checkbox"/> E
09	<input type="checkbox"/> A	<input type="checkbox"/> B	<input type="checkbox"/> C	<input type="checkbox"/> D	<input type="checkbox"/> E
10	<input type="checkbox"/> A	<input type="checkbox"/> B	<input type="checkbox"/> C	<input type="checkbox"/> D	<input type="checkbox"/> E

11	<input type="checkbox"/> A	<input type="checkbox"/> B	<input type="checkbox"/> C	<input type="checkbox"/> D	<input type="checkbox"/> E
12	<input type="checkbox"/> A	<input type="checkbox"/> B	<input type="checkbox"/> C	<input type="checkbox"/> D	<input type="checkbox"/> E
13	<input type="checkbox"/> A	<input type="checkbox"/> B	<input type="checkbox"/> C	<input type="checkbox"/> D	<input type="checkbox"/> E
14	<input type="checkbox"/> A	<input type="checkbox"/> B	<input type="checkbox"/> C	<input type="checkbox"/> D	<input type="checkbox"/> E
15	<input type="checkbox"/> A	<input type="checkbox"/> B	<input type="checkbox"/> C	<input type="checkbox"/> D	<input type="checkbox"/> E

16	<input type="checkbox"/> A	<input type="checkbox"/> B	<input type="checkbox"/> C	<input type="checkbox"/> D	<input type="checkbox"/> E
17	<input type="checkbox"/> A	<input type="checkbox"/> B	<input type="checkbox"/> C	<input type="checkbox"/> D	<input type="checkbox"/> E
18	<input type="checkbox"/> A	<input type="checkbox"/> B	<input type="checkbox"/> C	<input type="checkbox"/> D	<input type="checkbox"/> E
19	<input type="checkbox"/> A	<input type="checkbox"/> B	<input type="checkbox"/> C	<input type="checkbox"/> D	<input type="checkbox"/> E
20	<input type="checkbox"/> A	<input type="checkbox"/> B	<input type="checkbox"/> C	<input type="checkbox"/> D	<input type="checkbox"/> E

21	<input type="checkbox"/> A	<input type="checkbox"/> B	<input type="checkbox"/> C	<input type="checkbox"/> D	<input type="checkbox"/> E
22	<input type="checkbox"/> A	<input type="checkbox"/> B	<input type="checkbox"/> C	<input type="checkbox"/> D	<input type="checkbox"/> E
23	<input type="checkbox"/> A	<input type="checkbox"/> B	<input type="checkbox"/> C	<input type="checkbox"/> D	<input type="checkbox"/> E
24	<input type="checkbox"/> A	<input type="checkbox"/> B	<input type="checkbox"/> C	<input type="checkbox"/> D	<input type="checkbox"/> E
25	<input type="checkbox"/> A	<input type="checkbox"/> B	<input type="checkbox"/> C	<input type="checkbox"/> D	<input type="checkbox"/> E

QUESTÃO	RESPOSTA				
26	<input type="checkbox"/> A	<input type="checkbox"/> B	<input type="checkbox"/> C	<input type="checkbox"/> D	<input type="checkbox"/> E
27	<input type="checkbox"/> A	<input type="checkbox"/> B	<input type="checkbox"/> C	<input type="checkbox"/> D	<input type="checkbox"/> E
28	<input type="checkbox"/> A	<input type="checkbox"/> B	<input type="checkbox"/> C	<input type="checkbox"/> D	<input type="checkbox"/> E
29	<input type="checkbox"/> A	<input type="checkbox"/> B	<input type="checkbox"/> C	<input type="checkbox"/> D	<input type="checkbox"/> E
30	<input type="checkbox"/> A	<input type="checkbox"/> B	<input type="checkbox"/> C	<input type="checkbox"/> D	<input type="checkbox"/> E

31	<input type="checkbox"/> A	<input type="checkbox"/> B	<input type="checkbox"/> C	<input type="checkbox"/> D	<input type="checkbox"/> E
32	<input type="checkbox"/> A	<input type="checkbox"/> B	<input type="checkbox"/> C	<input type="checkbox"/> D	<input type="checkbox"/> E
33	<input type="checkbox"/> A	<input type="checkbox"/> B	<input type="checkbox"/> C	<input type="checkbox"/> D	<input type="checkbox"/> E
34	<input type="checkbox"/> A	<input type="checkbox"/> B	<input type="checkbox"/> C	<input type="checkbox"/> D	<input type="checkbox"/> E
35	<input type="checkbox"/> A	<input type="checkbox"/> B	<input type="checkbox"/> C	<input type="checkbox"/> D	<input type="checkbox"/> E

36	<input type="checkbox"/> A	<input type="checkbox"/> B	<input type="checkbox"/> C	<input type="checkbox"/> D	<input type="checkbox"/> E
37	<input type="checkbox"/> A	<input type="checkbox"/> B	<input type="checkbox"/> C	<input type="checkbox"/> D	<input type="checkbox"/> E
38	<input type="checkbox"/> A	<input type="checkbox"/> B	<input type="checkbox"/> C	<input type="checkbox"/> D	<input type="checkbox"/> E
39	<input type="checkbox"/> A	<input type="checkbox"/> B	<input type="checkbox"/> C	<input type="checkbox"/> D	<input type="checkbox"/> E
40	<input type="checkbox"/> A	<input type="checkbox"/> B	<input type="checkbox"/> C	<input type="checkbox"/> D	<input type="checkbox"/> E

41	<input type="checkbox"/> A	<input type="checkbox"/> B	<input type="checkbox"/> C	<input type="checkbox"/> D	<input type="checkbox"/> E
42	<input type="checkbox"/> A	<input type="checkbox"/> B	<input type="checkbox"/> C	<input type="checkbox"/> D	<input type="checkbox"/> E
43	<input type="checkbox"/> A	<input type="checkbox"/> B	<input type="checkbox"/> C	<input type="checkbox"/> D	<input type="checkbox"/> E
44	<input type="checkbox"/> A	<input type="checkbox"/> B	<input type="checkbox"/> C	<input type="checkbox"/> D	<input type="checkbox"/> E
45	<input type="checkbox"/> A	<input type="checkbox"/> B	<input type="checkbox"/> C	<input type="checkbox"/> D	<input type="checkbox"/> E

46	<input type="checkbox"/> A	<input type="checkbox"/> B	<input type="checkbox"/> C	<input type="checkbox"/> D	<input type="checkbox"/> E
47	<input type="checkbox"/> A	<input type="checkbox"/> B	<input type="checkbox"/> C	<input type="checkbox"/> D	<input type="checkbox"/> E
48	<input type="checkbox"/> A	<input type="checkbox"/> B	<input type="checkbox"/> C	<input type="checkbox"/> D	<input type="checkbox"/> E
49	<input type="checkbox"/> A	<input type="checkbox"/> B	<input type="checkbox"/> C	<input type="checkbox"/> D	<input type="checkbox"/> E
50	<input type="checkbox"/> A	<input type="checkbox"/> B	<input type="checkbox"/> C	<input type="checkbox"/> D	<input type="checkbox"/> E

## LÍNGUA PORTUGUESA

Leia o texto para responder às questões de números 01 a 06.

Aos quarenta anos, depois de três casamentos e incontáveis namoros, Mara se considerava uma mulher preparada para enfrentar as surpresas da vida. Não tenho medo do desconhecido, dizia às amigas. Assim, não estranhou quando, num bar, o rapaz começou a olhá-la de maneira insistente e sedutora. Era um legítimo gatão, como se dizia antigamente. Com um gesto, convidou-o para sua mesa.

Ele veio, chamava-se André. Descreveu-se como um jovem refinado, que gostava de música, cinema, que tinha viajado muito e que estava à espera do grande amor de sua vida.

Ela não acreditou em nada daquilo, naquele momento não estava interessada em qualquer tipo de ligação, mesmo porque daí a dois dias viajaria para o exterior. Esperava que ele fosse embora logo, mas André tinha uma proposta: ali perto havia um restaurante que adotara a moda do jantar de olhos vendados, onde poderiam apreciar aromas e pequenos detalhes da comida, que passavam despercebidos do convencional cliente ou frequentador de restaurante comum.

O primeiro impulso dela foi de recusar o convite, mas jantar de olhos vendados lhe dava a sensação de uma experiência fascinante. Vamos, decidi. Arrumou-se e foram.

O restaurante, para ela desconhecido, não ficava longe. Era um lugar pequeno, mas cheio de gente. Sentaram, veio o garçom, deu-lhes duas vendas para os olhos e o cardápio. André escolheu um prato sofisticado. O garçom trouxe o prato e eles colocaram as vendas nos olhos. Com um sorriso, André fez um pedido: gostaria que comessem em silêncio, sem conversar, para que pudessem se concentrar melhor nos aromas e pequenos detalhes da comida. Mara riu e concordou. E quando, finalmente, terminou de comer, tirou a venda dos olhos.

O rapaz já não estava, havia sumido e bem assim a sua bolsa, recheada de dinheiro que levaria na viagem. Suspirou. Tinha aprendido uma lição: no escuro, para provar a melhor comida, todos os gatos, inclusive gatões, são pardos.

(Moacyr Seliar, *Folha de S.Paulo*, 08.03.10. Adaptado)

01. De acordo com o texto, Mara

- (A) procurava, naquela noite, alguém para um relacionamento duradouro.
- (B) disse não, de início, ao convite de André para o jantar.
- (C) acabou jantando num restaurante bem distante e pouco iluminado.
- (D) estava já com os olhos cobertos ao aceitar a sugestão de comer em silêncio.
- (E) foi enganada por André num restaurante enorme e cheio de gente.

02. Em – ... *jantar de olhos vendados lhe dava a sensação de uma experiência fascinante*. (4.º parágrafo) – o termo destacado significa

- (A) estranha.
- (B) nova.
- (C) diferente.
- (D) encantadora.
- (E) sofisticada.

03. Considere as seguintes afirmações.

- I. Mara acabava de chegar de uma viagem, de fora do país.
- II. Tanto Mara como André já tinham ido ao restaurante em que iriam jantar.
- III. Mara era uma mulher experiente e decidida.

Está correto, segundo o texto, o que se afirma apenas em

- (A) I.
- (B) II.
- (C) III.
- (D) I e III.
- (E) II e III.

04. Em – *Esperava que ele fosse embora logo, mas André tinha uma proposta ...* (3.º parágrafo) – a conjunção **mas** pode ser substituída, sem alteração do significado do texto, por

- (A) pois.
- (B) porque.
- (C) porém.
- (D) por conseguinte.
- (E) portanto.

05. Assinale a alternativa em que a parte destacada do trecho – ... *que passam despercebidos do convencional cliente ou frequentador de restaurante comum*. (3.º parágrafo) – está escrita corretamente no plural.

- (A) ... convencionais cliente ou frequentadores de restaurantes comum.
- (B) ... convencional clientes ou frequentadores de restaurante comum.
- (C) ... convencionais clientes ou frequentador de restaurantes comuns.
- (D) ... convencional cliente ou frequentadores de restaurantes comuns.
- (E) ... convencionais clientes ou frequentadores de restaurantes comuns.

06. Em – *Ela não acreditou...* (3.º parágrafo) – alterando-se o pronome para **Elas** e colocando-se o verbo no tempo futuro, obtém-se

- (A) acreditaram.
- (B) acreditarão.
- (C) acreditavam.
- (D) acreditassem.
- (E) acreditam.

**07.** Assinale a alternativa que apresenta o uso correto de vírgulas.

- (A) Da entrada do restaurante Mara, observava curiosa, os fregueses, de olhos vendados.
- (B) Da entrada do restaurante, Mara observava, curiosa, os fregueses de olhos vendados.
- (C) Da entrada do restaurante Mara observava, curiosa os fregueses, de olhos, vendados.
- (D) Da entrada, do restaurante, Mara observava curiosa os fregueses, de olhos vendados.
- (E) Da entrada do restaurante, Mara, observava curiosa os fregueses, de olhos vendados.

Nas questões de números **08** e **09**, assinale a alternativa que preenche, correta e respectivamente, os espaços das frases dadas.

**08.** O restaurante \_\_\_\_\_ os dois jantaram ontem fica aberto \_\_\_\_\_ partir das quinze horas.

- (A) em que ... a
- (B) que ... à
- (C) a que ... a
- (D) que ... a
- (E) em que ... à

**09.** Quando saímos do restaurante \_\_\_\_\_ encontramos com Mara que poderá solicitar estes serviços quando ela \_\_\_\_\_.

- (A) se ... quer
- (B) nos ... quiser
- (C) se ... querer
- (D) nos ... querer
- (E) se ... quiser

**10.** Considerando a concordância das palavras, assinale a alternativa correta.

- (A) Boa parte dos frequentadores jantava silenciosamente.
- (B) Os garçons andava pelo restaurante olhando para os fregueses.
- (C) Logo após a chegada do casal, entrou mais dois garçons apressados.
- (D) Algumas conversas animada, porém, eram ouvida até do lado de fora.
- (E) Na mesa, dois cartões do restaurante estavam anexo ao cardápio.

**11.** Antônio, Hélio e Emílio são três responsáveis pela fiscalização sanitária da dengue e fazem plantão, respectivamente, a cada 10, 15 e 18 dias. Eles trabalharam juntos no dia 27 de março. O próximo plantão, imediatamente após esse, que os três farão juntos, será no dia

- (A) 15 de maio.
- (B) 26 de maio.
- (C) 25 de junho.
- (D) 30 de junho.
- (E) 27 de julho.

**12.** Na compra de um automóvel, Lucy deu R\$ 7.800,00 de entrada e financiou o restante em 60 parcelas de R\$ 520,00. O valor da entrada paga corresponde, do preço total do automóvel, a

- (A) 10%.
- (B) 12%.
- (C) 15%.
- (D) 20%.
- (E) 22%.



**13.** Um prestador de serviços gerais ganha R\$ 70,00 por dia trabalhado. No último mês, dos 30 dias, ele não trabalhou 6 dias e do total recebido pelos dias trabalhados economizou apenas R\$ 555,00. A média de seu gasto diário nos 30 dias foi de

- (A) R\$ 35,70.
- (B) R\$ 37,50.
- (C) R\$ 42,17.
- (D) R\$ 43,70.
- (E) R\$ 51,50.

**14.** Na repartição onde Luiza trabalha, são 180 funcionários entre homens e mulheres. Se a metade dos homens é igual a dois quintos das mulheres, o número de homens que lá trabalham é igual a

- (A) 60.
- (B) 80.
- (C) 90.
- (D) 100.
- (E) 120.

15. Observe as figuras que aparecem na sequência.

1.<sup>a</sup> FIGURA2.<sup>a</sup> FIGURA3.<sup>a</sup> FIGURA

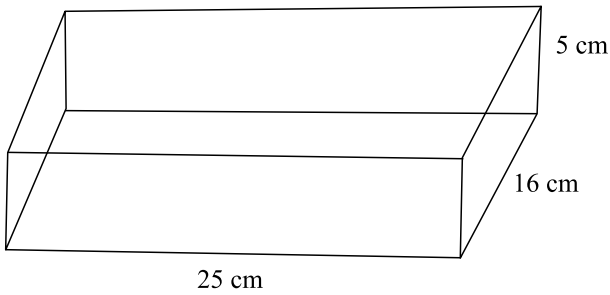
Continuando a sequência de acordo com o padrão, o número de pontos que formarão a 6.<sup>a</sup> figura será

- (A) 26.  
 (B) 28.  
 (C) 30.  
 (D) 32.  
 (E) 44.
16. Em quatro semanas do mês passado, foram capturados 338 animais ao todo. Na segunda semana, foi capturado o dobro de animais da primeira semana. Na terceira, a metade dos animais da primeira e, na última semana, 30 animais. Desse modo, pode-se concluir que na semana em que aconteceu a maior captura de animais, foram capturados
- (A) 88.  
 (B) 103.  
 (C) 132.  
 (D) 176.  
 (E) 264.
17. Do trecho total que Elias deve fiscalizar, ontem ele fiscalizou a metade e hoje  $\frac{3}{8}$ , faltando ainda para fiscalizar 1 800 metros. Portanto, hoje ele fiscalizou
- (A) 1,6 km.  
 (B) 2,4 km.  
 (C) 5,4 km.  
 (D) 5,8 km.  
 (E) 7,2 km.
18. Ivan e Mateus formaram uma sociedade. Ivan entrou com R\$ 400,00 e Mateus com R\$ 800,00. Depois de certo tempo, eles tiveram um lucro de R\$ 3.600,00. A parte do lucro que Mateus recebeu, de acordo com o que ele investiu, foi igual a
- (A) R\$ 2.400,00.  
 (B) R\$ 2.100,00.  
 (C) R\$ 1.800,00.  
 (D) R\$ 1.600,00.  
 (E) R\$ 1.200,00.

19. Heitor confeccionou uma caixa de madeira, sem tampa, e colocou areia em 60% de sua capacidade total.

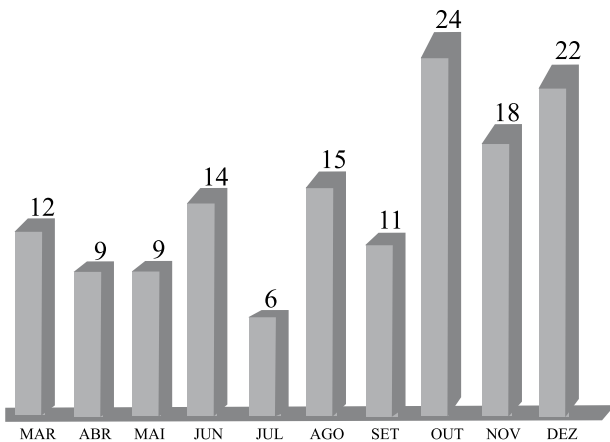
A caixa tem a forma de um paralelepípedo reto-retângulo, e suas medidas internas são as indicadas na figura.

**Dado:**  $1 \text{ dm}^3 = 1 \text{ litro}$



Da capacidade total dessa caixa, não foi ocupada pela areia

- (A) 0,8 litro.  
 (B) 1,0 litro.  
 (C) 1,2 litro.  
 (D) 1,8 litro.  
 (E) 2,0 litros.
20. O gráfico seguinte representa o número de casos registrados de certa doença em um pronto-socorro, de março a dezembro de 2009.



Comparando-se o menor número de casos registrados com o maior número de casos, houve um aumento de

- (A) 75%.  
 (B) 100%.  
 (C) 150%.  
 (D) 200%.  
 (E) 300%.

## ATUALIDADES

### 21. “Venda de carro bate recorde”.

(Folha de S.Paulo, 02.04.2010)

Assinale a alternativa que indica corretamente o fato que impulsionou o ótimo resultado da venda de carros no país, no primeiro trimestre de 2010.

- (A) O elevado crescimento da economia dos Estados Unidos no período, acima de 6%.
- (B) A redução, em mais de 10%, do preço do álcool e da gasolina.
- (C) A medida do Governo Federal de redução do IPI.
- (D) A elevação do salário mínimo que fez crescer o poder de compra das classes A e B.
- (E) A crise da produção de automóveis na Argentina que motivou a queda nas importações.

### 22. O assassinato do cartunista Glauco e de seu filho Raoni, pelo jovem Eduardo Nunes, colocou no centro das atenções uma seita que tem, entre suas características, a ingestão de um chá que provoca alucinações. Trata-se da seita

- (A) Moonista.
- (B) Meninos de Deus.
- (C) Nova Era.
- (D) Cientologia.
- (E) Santo Daime.

### 23. O quadro da sucessão presidencial ficou mais claro no início do mês de abril, quando, seguindo as regras eleitorais vigentes, os candidatos se desincompatibilizaram dos cargos que exerciam. O PT e o PSDB optaram, respectivamente, pelos seguintes pré-candidatos:

- (A) Dilma Rousseff e José Serra.
- (B) Marta Suplicy e Aécio Neves.
- (C) Patrus Ananias e Tasso Jereissati.
- (D) Tarso Genro e Katia Abreu.
- (E) Marina Silva e Ciro Gomes.

### 24. A permanência de Henrique Meirelles no Governo Federal surpreendeu aos analistas políticos. Entretanto, Meirelles optou por ficar à frente do

- (A) Ministério do Planejamento.
- (B) Banco Central.
- (C) BNDES.
- (D) Ministério da Fazenda.
- (E) INCRA.

### 25. O governo havia contabilizado 214 mortes no fim do primeiro dia. Quatro dias depois, as vítimas fatais alcançavam 802. Assinale a alternativa que indica corretamente o país da América do Sul atingido por um forte terremoto em 27 de fevereiro.

- (A) Colômbia.
- (B) Venezuela.
- (C) Paraguai.
- (D) Uruguai.
- (E) Chile.

### 26. Observe a charge.



([http://lh3.ggpht.com/\\_HZm551fyLqs/S3XHyaD82vI/AAAAAAAAAuLg/wrogY0F9rwg/s800/100212migueljornaldoComercioPE.jpg](http://lh3.ggpht.com/_HZm551fyLqs/S3XHyaD82vI/AAAAAAAAAuLg/wrogY0F9rwg/s800/100212migueljornaldoComercioPE.jpg))

A charge destaca, com bom humor, a prisão do ex-governador José Roberto Arruda. A prisão foi motivada

- (A) pelo não pagamento de pensão alimentícia.
- (B) por sonegação de impostos federais.
- (C) pela tentativa de obstruir a investigação sobre o pagamento de propina no governo do DF.
- (D) por agredir fisicamente adversários políticos.
- (E) pelo desvio de dinheiro público para aquisição de imóveis nos Estados Unidos e Europa.

### 27. “Emenda aprovada na Câmara muda distribuição de royalties”.

([http://g1.globo.com/Noticias/Economia\\_Negocios/0,MUL1538249-9356,00.html](http://g1.globo.com/Noticias/Economia_Negocios/0,MUL1538249-9356,00.html))

A emenda elaborada pelo deputado Ibsen Pinheiro, aprovada na Câmara dos Deputados, prevê a distribuição dos royalties do petróleo com base nos fundos de Participação dos Estados e Municípios. Assinale o Estado da Federação que é o mais prejudicado pela emenda em questão.

- (A) Bahia.
- (B) São Paulo.
- (C) Minas Gerais.
- (D) Rio de Janeiro.
- (E) Paraná.

### 28. “A vitória é colossal... mas o preço é uma incógnita”.

(Veja, 31.03.2010)

A manchete chama a atenção para a maior vitória do governo Obama que foi conquistada no mês de março, na Câmara dos Deputados por 219 votos contra 212. Trata-se da reforma na área da

- (A) política externa.
- (B) educação.
- (C) economia.
- (D) segurança.
- (E) saúde.

29. “Mais uma matança de inocentes”.

(Veja, 07.04.2010)

A ação de terrorista no metrô de Moscou, no dia 29 de março, teve como consequência a morte de 40 pessoas. Assinale a alternativa que aponta corretamente a República da Federação Russa que abriga o grupo terrorista responsável pelo atentado.

- (A) Tatarstão.
- (B) Tuva.
- (C) Tomi.
- (D) Chechênia.
- (E) Mordóvia.

30. A economia desse país caiu em um círculo vicioso, com apenas uma saída: a drástica redução do *déficit* e da dívida. A cúpula da União Europeia está preocupada com a possibilidade de a crise econômica que atingiu esse país no início do ano de 2010 alcançar outros países da Europa. Trata-se da

- (A) Grécia.
- (B) Espanha.
- (C) Inglaterra.
- (D) Irlanda.
- (E) França.

### CONHECIMENTOS ESPECÍFICOS

31. É possível evitar o nascimento de novos mosquitos *Aedes aegypti* e, o avanço da dengue, com ações de saneamento ambiental, adotadas no próprio domicílio. Basta que

- (A) seja fornecido inseticida de poder residual para que o morador utilize na residência, para matar os mosquitos adultos.
- (B) a prefeitura realize semanalmente nebulização nos imóveis onde se tem observado uma maior infestação de mosquitos, de acordo com as reclamações dos moradores.
- (C) se eliminem os criadouros onde as fêmeas do mosquito colocam ovos para reprodução: pratinhos de vasos de plantas, pneus, garrafas destampadas, etc.
- (D) a prefeitura realize atividade de coleta de larvas em todos os imóveis do município.
- (E) se coloque inseticida semestralmente nos recipientes que acumulam água.

32. Com a instalação de água encanada de boa qualidade e da coleta de esgoto e lixo, em uma comunidade, observou-se que os agravos à saúde diminuíram, pois

- (A) não havia mais ambiente propício à existência de vetores de interesse em saúde pública como artrópodes e roedores.
- (B) a população passou a ter um nível econômico melhor que permitia o pagamento de água tratada e coleta de lixo e esgoto.
- (C) com a instalação dessas melhorias, os moradores adquiriram imunidade passiva contra os antigos agravos.
- (D) o meio ambiente ficou imunizado contra bactérias e vírus.
- (E) a população que possui água encanada não adoecer, já que adquire imunidade ativa contra as doenças.

33. Um fator determinante da saúde são as condições ambientais. Portanto, entre as várias ações de saneamento do meio, para que haja uma promoção da saúde da população, deve(m)-se priorizar:

- (A) a construção de habitações aproveitando a água de chuva em toda a área do terreno.
- (B) a realização de desinsetizações quinzenais nos imóveis, a fim de imunizá-los contra baratas, pulgas, roedores e escorpiões.
- (C) a desinfecção de águas residuárias, originárias de hospitais, habitações onde existam moradores acamados, orfanatos e asilos.
- (D) abastecimento de água, desinfestação em hospitais e escolas, e controle de artrópodes de importância em saúde pública.
- (E) o saneamento básico que engloba o abastecimento de água potável, a coleta e o tratamento de esgoto, a coleta de resíduos sólidos e a drenagem urbana.

34. O vírus da raiva penetra no organismo humano, geralmente, através da mordedura ou lambedura de um animal infectado. Podem transmitir raiva para os seres humanos

- (A) o morcego e a galinha.
- (B) o morcego e o cão.
- (C) a vaca e a cobra.
- (D) o cão e o papagaio.
- (E) o cavalo e o escorpião.

35. A raiva é uma zoonose que assume grandes proporções em algumas áreas, mas pode ser controlada no meio urbano, adotando-se medidas como

- (A) vacinação antirrábica na população de morcegos.
- (B) vacinação antirrábica em toda a população do meio urbano.
- (C) apreensão de animais errantes: cavalos e cães.
- (D) vacinação antirrábica de cães e gatos.
- (E) sacrifício de cães errantes.

36. Os estudos sobre a biologia dos morcegos demonstram sua importância ecológica e econômica. Sobre esses animais, é correto afirmar que

- (A) são responsáveis por causar grandes prejuízos para o setor agrícola, por isso devem ser capturados e sacrificados.
- (B) são os únicos roedores que voam e são responsáveis pela transmissão de inúmeras doenças para as plantas onde se alimentam.
- (C) a única espécie de morcego responsável pela transmissão de doenças para os seres humanos e outros animais são os morcegos hematófagos.
- (D) todas as espécies de morcegos existentes no Brasil são hematófagos, ou seja, alimentam-se obrigatoriamente do sangue de outros animais.
- (E) contribuem para o equilíbrio natural ao polinizar numerosas plantas, disseminar frutos e sementes e capturar insetos noturnos.



37. Durante vistoria a um imóvel, onde se observa que no forro há uma infestação de morcegos, o agente deve orientar o morador para
- observar os pontos de saída dos morcegos ao anoitecer e vedá-los um a um. No dia seguinte, reabrir um dos pontos que foram fechados, para a saída dos animais que não saíram na noite anterior;
  - armar uma rede, capturar os morcegos, e passar pasta vampiricida em todos os animais capturados;
  - desratizar o forro, pois os morcegos são roedores velhos que criaram asas, portanto podem ser eliminados com raticida;
  - jamais pegar morcegos, sem proteger as mãos com luvas de raspa de couro, pois eles podem morder.
- Está correto apenas o contido em
- II e IV.
  - I e IV.
  - III e IV.
  - II.
  - III.
38. O *Aedes aegypti* é um mosquito que se adaptou às áreas urbanas das cidades e vive preferencialmente dentro das casas ou perto delas, onde encontra melhores condições para sua reprodução, como
- sangue humano e depósitos com água.
  - temperatura mais amena e umidade.
  - temperatura em torno de 28 °C e abrigo.
  - plantas e matéria orgânica.
  - matéria orgânica e temperatura em torno de 25 °C.
39. Com a campanha *Xô Preguiça – Dengue Não!*, a Prefeitura tenta chamar a atenção da população sobre a necessidade de
- procurar as unidades de saúde para tomar vacina contra a dengue.
  - canalizar os córregos para acabar com os casos de dengue, já que o mosquito utiliza essas coleções de água como criadouros.
  - eliminar criadouros do mosquito *Aedes aegypti*, pois a maior parte dos criadouros está nas residências.
  - realizar quinzenalmente nebulização nas ruas do município.
  - conhecer os sintomas da dengue, que podem ser confundidos com uma simples indisposição, para comprar o remédio correto.
40. O *Aedes aegypti* adulto vive, em média, de 30 a 35 dias e, no seu ciclo de vida, apresenta metamorfose completa dividida em
- três fases: ovo, pupa e adulto.
  - duas fases: ovo e adulto.
  - duas fases: larva e adulto.
  - cinco fases: ovo, larva, ninfa, pupa e adulto.
  - quatro fases: ovo, larva, pupa e adulto.
41. Pontos estratégicos são locais onde há concentração de depósitos do tipo preferencial para a desova da fêmea do *Aedes aegypti*, especialmente vulneráveis à introdução do vetor, como: cemitérios, borracharias, ferros-velhos, depósitos de sucata ou de materiais de construção, garagens de ônibus e de outros veículos de grande porte. As atividades de vigilância, nesses locais, devem ser realizadas com periodicidade
- diária.
  - semestral.
  - mensal.
  - quinzenal.
  - semanal.
42. A infestação de *Aedes aegypti* alerta as autoridades de saúde para a possibilidade do retorno de uma doença conhecida como
- febre amarela urbana.
  - malária.
  - leishmaniose.
  - febre maculosa.
  - febre do oeste do Nilo.
43. As construções modernas podem tornar-se propícias para o abrigo e reprodução de uma série de animais da fauna sinantrópica, como
- cães, ratos e morcegos.
  - pombos, galinhas e cães.
  - ratos, morcegos e pombos.
  - baratas, lagartixas e gatos.
  - cães, gatos e galinhas.
44. Os insetos que afetam o homem e seus animais causam maior dano quando agem como vetores de doenças. A espécie que se reproduz na matéria orgânica em decomposição e possui grande importância como vetor mecânico de micro-organismos são
- lacrarias.
  - cupins.
  - percevejos.
  - moscas.
  - formigas.

45. Na realização das atividades de campo, o agente, ao atender um munícipe que está com uma infestação de pragas urbanas no seu imóvel, tem como obrigação básica
- (A) realizar a eliminação da praga infestante, tendo como método de primeira escolha o controle químico.
  - (B) inspecionar o imóvel junto com o morador e orientá-lo sobre o manejo integrado, pois o controle químico sem alterar as condições do ambiente é ineficaz.
  - (C) orientar o munícipe que, para evitar a proliferação da praga infestante, ele deve utilizar produtos (raticida ou inseticida) de última geração.
  - (D) inspecionar os imóveis, realizando sempre tratamento químico, como medida complementar às orientações fornecidas ao morador sobre o comportamento da espécie infestante.
  - (E) conversar com o morador sobre as doenças que as pragas urbanas podem transmitir para amedrontá-lo.
46. Há mais de 3 500 espécies de baratas no mundo todo. Mas, apenas 1% das espécies possui hábitos domissanitários. Isso significa que
- (A) infestam somente os banheiros, onde encontram ótimas condições de sobrevivência.
  - (B) são encontradas no peridomicílio, onde abrigam-se sob as pedras, podendo ter livre acesso às plantas, de onde retiram alimento.
  - (C) somente são encontradas no ambiente natural, onde existem condições ótimas de temperatura e umidade.
  - (D) se abrigam somente em locais onde não há grandes variações de temperatura, preferindo temperaturas em torno de 29 °C.
  - (E) se adaptaram aos domicílios, onde danificam alimentos e roupas e ainda disseminam doenças.
47. São animais que pertencem ao grupo dos artrópodes, possuem hábitos noturnos e, durante o dia, permanecem escondidos em vários locais protegidos. São vivíparos e durante algum tempo os filhotes são carregados sobre o corpo da mãe. É necessário controlar sua população pelo risco que representam para a saúde humana, já que a erradicação das espécies não é possível e nem viável.
- O animal descrito é o(a)
- (A) escorpião.
  - (B) barata.
  - (C) carrapato.
  - (D) lagarta.
  - (E) percevejo-de-cama.
48. Em um imóvel, onde foram encontrados alguns exemplares de escorpiões, o agente deve orientar os moradores que o controle dessa espécie deve basear-se na
- (A) adoção de medidas de limpeza, retirando dos quintais e adjacências das casas amontoados de madeira velha, tijolos, entulho e evitando acúmulo de lixo.
  - (B) utilização de inseticidas de poder residual como os microencapsulados, que devem ser aplicados mensalmente, nas áreas internas e externas.
  - (C) adoção de medidas de higiene, mantendo a área interna sem lixo, pois os locais preferidos pelo escorpião são aqueles onde há acúmulo de lixo.
  - (D) aplicação de inseticida, diluído em óleo de soja, semestralmente, nos locais onde existe infestação por escorpiões.
  - (E) conservação dos alimentos preferidos do escorpião armazenados em locais fechados.
49. A ação sobre o meio ambiente, visando eliminar abrigo para roedores e impedir seu acesso ao alimento, é denominada
- (A) desratização.
  - (B) desinsetização.
  - (C) desinfecção.
  - (D) imunização.
  - (E) antirratização.
50. O crescimento urbano desordenado, a grande quantidade de lixo espalhado sobre as vias e terrenos baldios propiciam um ambiente ideal para a proliferação da população de roedores e conseqüentemente a ocorrência de casos de doenças como
- (A) leishmaniose.
  - (B) raiva.
  - (C) leptospirose.
  - (D) cólera.
  - (E) esquistossomose.