



CONCURSO PÚBLICO UNIFICADO SAD/MT 2009
EDITAL Nº 007/2009 - SAD/MT, DE 30 DE JULHO DE 2009

CADERNO DE PROVA

ANALISTA REGULADOR ECONOMISTA

Data da Prova: 21 de Março de 2010

CANDIDATO

PROVA
703

A

INSTRUÇÕES

- I. Este caderno contém 46 (quarenta e seis) questões objetivas e 4 (quatro) dissertativas.
- II. Caso apresente defeito de impressão ou falta de questão, solicite ao fiscal a substituição do caderno de prova.
- III. Para cada questão da Prova Objetiva há apenas uma alternativa correta. No cartão de respostas assinale somente uma letra como resposta, pintando completamente o círculo correspondente à alternativa escolhida, seguindo o exemplo: A B C D E
- IV. Cada questão da Prova Dissertativa deve ser respondida no local apropriado obedecendo a sequência apresentada no caderno de prova, e utilizando, no máximo, 35 (trinta e cinco) linhas.
- V. Use caneta esferográfica azul ou preta, fabricada em material transparente, para marcar a resposta, no cartão de respostas.
- VI. O tempo de duração das Provas (Prova Objetiva e Prova Dissertativa) é de 4 (quatro) horas, incluído o tempo destinado à transcrição dos Cartões de Respostas.
- VII. O candidato só poderá deixar a sala após 2 (duas) horas do início das provas.
- VIII. O candidato somente poderá levar este caderno, 15 (quinze) minutos antes do horário determinado para o término das provas.

FATORES QUE ANULAM UMA QUESTÃO DA PROVA OBJETIVA

- a. Questão sem marcar;
- b. Questão com rabisco, rasuras ou manchas;
- c. Questão com mais de uma opção assinalada.

Boa Prova!



CONHECIMENTOS GERAIS

LÍNGUA PORTUGUESA

QUESTÃO 01

Na revista *Língua Portuguesa* nº 42, de abril de 2009, o cronista português João Pereira Coutinho emite sua opinião sobre o novo acordo ortográfico celebrado pelos países lusófonos. Leia-a.

“Sou contra. Visceralmente contra. Filosoficamente contra. Linguisticamente contra. Começo por ser contra com a força das minhas entranhas: sou incapaz de aceitar que uma dúzia de sábios se considere dona de uma língua falada por milhões. Ninguém é dono da língua. Ninguém a pode transformar por capricho. Por capricho, vírgula: por mentalidade concentracionária, em busca de uma unidade que, para além de impossível, seria sinistra. A língua é produto de uma história; e não foram apenas Portugal e Brasil que tiveram a sua história, apresentando variações fonéticas, léxicas ou sintáticas; a África, Macau, Timor e Goa, que os sábios do Acordo ignoraram nas suas maquinações racionalistas, também têm direito a usar e a abusar da língua.”

Sobre o texto, assinale a alternativa **incorreta**.

- A insistente repetição da palavra “contra” foi um recurso de linguagem usado pelo entrevistado para enfatizar sua posição adversa em relação ao Acordo.
- O termo “visceralmente” e a expressão “com a força das minhas entranhas” apresentam afinidade de sentidos.
- “uma dúzia de sábios” refere-se expressamente a doze intelectuais responsáveis pela instituição do Acordo.
- O cronista afirma ser a língua um bem de domínio público, que não deve sofrer intervenção estatal.
- A expressão “Por capricho, vírgula” introduz uma autorretificação do pensamento.

QUESTÃO 02

Assinale a alternativa em que a evolução sequencial e previsível dos fatos está prejudicada.

- O Governo apresentou a proposta, ela foi aprovada no Congresso Nacional e sancionada pelo presidente.
- A economia mundial foi abalada por uma grande crise, a população ficou apreensiva, mas os países já retomam seu crescimento.

- As grandes nações reduziram a emissão de CO₂, o planeta se superaqueceu e, agora, buscam-se medidas para reter a degradação ambiental.
- Ocorreu o acidente, a família requereu o seguro DPVAT e, com a indenização, cobriu as despesas hospitalares.
- O presidente da Nicarágua foi deposto, o governo foi assumido por um presidente interino e o país entrou em crise interna, com reflexos mundiais.

QUESTÃO 03

“Ninguém será privado de direito por motivo de crença religiosa ou de convicção filosófica ou política, salvo se as invocar para eximir-se de obrigação legal a todos imposta e recusar-se a cumprir prestação alternativa, fixada em lei.”
(Inciso VIII do Art. 5º da Constituição Federal Brasileira)

Sobre o texto, assinale a alternativa **incorreta**.

- A palavra “salvo” introduz restrições a eventuais desvios no exercício das liberdades religiosa, política e filosófica.
- O verbo “invocar” tem sentido de presumir.
- A expressão “a todos imposta” afirma o caráter coercitivo da lei.
- O texto prevê a possibilidade de se proporem opções, desde que legais, ao cumprimento de deveres por parte dos cidadãos.
- O pronome “as”, em “salvo se as invocar”, refere-se às crenças e convicções.

QUESTÃO 04

Considerando as flexões verbais nos enunciados e considerando a formalidade da língua, assinale a alternativa **correta**.

- A Polícia Federal não entrevistou no caso da guerrilha urbana, porque entendeu não ser de sua competência.
- Se este verão trazer mais chuvas, teremos novas enchentes Brasil afora.
- Em qualquer ramo da atividade humana, sempre houveram bons e maus profissionais.
- Especialistas recomendam que respeitemos a natureza se não quisermos legar desastres irreparáveis a nossos filhos.
- A adoção de políticas mais severas em Nova Iorque reteu a onda de crimes que assolava a cidade.

QUESTÃO 05

A redundância consiste no uso de palavras que expressam a mesma idéia de forma excessiva. Assinale a alternativa em que ocorre esse fenômeno.

- O cientista falou, em vídeo, sobre o aumento de casos de câncer no Brasil e no mundo.
- Considero que a queda do muro de Berlim e o atentado contra o World Trade Center sejam os acontecimentos mais importantes da história recente.
- A formação de cartéis e o monopólio exclusivo no comércio de bens de consumo são práticas prejudiciais aos consumidores.
- Em várias cidades brasileiras, a população saiu às ruas para protestar contra a corrupção política.
- Nem sempre se identifica a doença num primeiro exame clínico.

QUESTÃO 06

Assinale a alternativa em que o pronome oblíquo foi usado em conformidade com a língua padrão.

- Nunca lhe disse antes, mas gosto muito de você.
- Agradecemos por você ter feito-nos este grande favor.
- Não fosse a exiguidade do espaço, a cerimônia de formatura poderia-se realizar no salão nobre.
- Te prepara, meu filho, porque a viagem será longa e cansativa.
- Os fortes não abatem-se com as derrotas.

QUESTÃO 07

"A maior linha de roçadeiras do País agora tem a maior garantia do mercado: 18 meses"
(Propaganda veiculada na revista *Veja* nº 43, de 28/11/2009)

Sobre o enunciado, é **incorreto** afirmar.

- O sujeito da oração é "A maior linha de roçadeiras do país".
- O advérbio "agora", se transposto para o início da frase, alteraria o sentido da mensagem.
- No lugar de dois pontos, poder-se-ia utilizar travessão.
- "Mercado", neste contexto, corresponde ao comércio de roçadeiras pelos concorrentes.
- A repetição da palavra "maior" estabelece correspondência entre a dimensão da empresa e a extensão do benefício oferecido.

QUESTÃO 08

"Aquele casamento não poderia mesmo dar certo: ela gosta de ler Dostoiévsky; já ele só lê as tirinhas e as colunas esportivas do jornal... e olhe lá!"

Sobre o enunciado, assinale a alternativa **incorreta**.

- A palavra "mesmo" funciona como reforço argumentativo de uma opinião, a de que o casamento estava fadado ao insucesso.
- O locutor fundamenta sua opinião na adversidade socioeconômica do casal.
- Em "ela gosta de ler Dostoiévsky" ocorre uma figuração linguística que equivale a "Ela gosta de ler os livros que foram escritos por Dostoiévsky".
- Tirinhas são fragmentos ou segmentos de histórias em quadrinhos, em faixas horizontais.
- A expressão "e olhe lá!" faz parte do linguajar coloquial e é usada para dar ênfase a uma expressão ou fazer uma advertência.

QUESTÃO 09

Observe o enunciado abaixo.

Que frio! Que vento! Que calor! Que caro! Que absurdo! Que bacana! Que tristeza! Que tarde! Que amor! Que besteira! Que esperança! Que modos! Que noite! Que graça! Que horror! Que doçura! Que novidade! Que susto! Que pão! Que vexame! Que mentira! Que confusão! Que vida! Que talento! Que alívio! Que nada...

Assim, em plena floresta de exclamações, vai-se tocando pra frente.

Carlos Drummond de Andrade.

Em relação ao enunciado, é **correto** afirmar.

- Não é um texto, pois é um amontoado de frases sem conexão entre si.
- O texto não tem sentido por falta de elementos coesivos.
- A pontuação compromete o sentido do texto.
- A última frase compensa a falta de elementos coesivos e dá sentido ao todo.
- Não é um texto, pois o trecho faz parte de um poema do autor.

QUESTÃO 10

Analise a frase.

"A multidão se dirigiu para onde havia água em abundância, pois assim teriam mais tempo até serem resgatados".

Com base nela, assinale a **correta**.

- a. Está correta, pois, os verbos no plural se explicam como um caso de silepse de número.
- b. Não está correta porque o primeiro verbo está no singular.
- c. Não há concordância em número, pois há, para o sujeito "multidão", verbos tanto no singular quanto no plural.
- d. A conjunção "pois" é coordenativa explicativa e em seu lugar deveria haver uma subordinativa conformativa.
- e. Está totalmente incorreta, pois não há concordância em número ou em gênero.

QUESTÃO 11

O uso dos verbos, quanto à conjugação, tempo ou modo, está **correto** em qual das alternativas?

- a. A empresa iria destinar mais recursos para problemas relacionados ao meio-ambiente se houver melhores incentivos financeiros.
- b. A empresa destinará mais recursos para problemas relacionados ao meio-ambiente se houverem melhores incentivos financeiros.
- c. A empresa irá destinar mais recursos para problemas relacionados ao meio-ambiente se haverem melhores incentivos financeiros.
- d. A empresa destinará mais recursos para problemas relacionados ao meio-ambiente se houvessem melhores incentivos financeiros.
- e. A empresa vai destinar mais recursos para problemas relacionados ao meio-ambiente se houver melhores incentivos financeiros.

QUESTÃO 12

"Ouviram do Ipiranga as margens plácidas de um povo heróico o brado retumbante."

A função sintática de cada um dos termos grifados é, respectivamente:

- a. núcleo do sujeito e objeto direto.
- b. objeto direto e sujeito.
- c. adjunto adverbial de lugar e sujeito.
- d. sujeito e objeto indireto.
- e. substantivo e adjunto adnominal.

HISTÓRIA E GEOGRAFIA DO MATO GROSSO

QUESTÃO 13

Assinale a questão abaixo que **não** corresponde à história do período colonial mato-grossense.

- a. A Rusga foi um conflito político que envolveu as facções dos Liberais e dos Caramurus, usando o povo para que realizassem motins e rebeliões.
- b. O conflito entre o governador de São Paulo, Rodrigo César de Menezes, e os Irmãos Leme.
- c. O Rio Jauru, por ocasião do Tratado de Madri, foi considerado um marco geográfico muito importante, o que fez com que a Coroa Portuguesa, em 1754, mandasse despachar, de Portugal, grandes blocos de pedra esculpidos em forma piramidal com inscrições que declaravam que aquelas terras eram de domínio português.
- d. O rei de Portugal, considerando o pedido do governador, autorizou que fossem montadas bandeiras e expedições para exterminar os índios Paiaguá.
- e. Uma construção estrategicamente erguida ao longo da fronteira ocidental foi o Forte Real Príncipe de Beira, por ordem de Luís de Albuquerque de Melo Pereira e Cáceres, pois a posição geopolítica dessa fortificação era estratégica.

QUESTÃO 14

Assinale a alternativa **correta** sobre a história econômica de Mato Grosso, do Império à República.

- a. A extração da erva-mate foi pouco expressiva na região de Mato Grosso, não configurando presença nos rumos da economia da província mato-grossense.
- b. A poaia, conhecida cientificamente como *Cephaeles ipecacuanha*, foi raiz de exportação apenas até a primeira metade do século XIX, pouco contribuindo com a economia da província.
- c. Em Mato Grosso, as mangabeiras e seringueiras nativas floresceram nas bacias dos rios Tapajós e Paraguai, de onde era retirado látex de excelente qualidade, muito procurado pelos europeus. Grandes casas comerciais regionais a comercializam, exportando a produção diretamente aos mercados platinos e europeus.
- d. O pioneiro na implantação de usinas de açúcar em Mato Grosso foi Antônio Paes de Barros, conhecido como Totó Paes, famoso proprietário da Usina Itaiçi. Porém, com a falta de recurso e tecnologia esta usina teve um caráter efêmero.
- e. A pecuária, em Mato Grosso, foi historicamente uma atividade pouco exercida pela necessidade de grande

número de mão-de-obra. Inicialmente o gado era utilizado no abastecimento da região mineradora, depois surgiram algumas charqueadas ao longo do Rio Cuiabá e Paraguai, mas, com pouca expressão econômica.

QUESTÃO 15

"O Coronelismo pode ser definido como o poder exercido pelos homens ricos e proprietários de terras, pessoas influentes politicamente que haviam sido agraciadas, durante o Império, com patentes da Guarda Nacional correspondentes àquelas do Exército, sendo que a maioria deles era chamada de coronel, porém, eram coronéis civis, da Guarda Nacional" (SIQUEIRA, 2002, p.157).

Foram ações ou movimentos coronelistas no período republicano em Mato Grosso, **exceto**:

- a deposição de Magessi.
- o massacre da Baía do Garcez.
- o assassinato de Totó Paes.
- a Caetanada.
- o conflito entre José Morbeck e Carvalhinho.

QUESTÃO 16

A partir das décadas de 1960 e 1970, Mato Grosso conheceu significativas mudanças no meio rural e urbano, em busca da modernização.

Sobre essas mudanças, assinale **V** para as alternativas verdadeiras e **F** para as falsas.

- () Implantação dos grandes eixos rodoviários e o aumento da urbanização.
- () Expansão agropecuária e a mecanização agrícola.
- () Desenvolvimento industrial, em especial da agroindústria, e desenvolvimento do setor de telecomunicações.
- () Avanços do setor de serviços e de informática.

Assinale a sequência **correta**.

- F, V, V, V.
- V, V, V, V.
- F, V, F, V.
- V, V, F, F.
- F, F, F, V.

QUESTÃO 17

As afirmativas sobre a hidrografia mato-grossense estão corretas, **exceto**:

- a maior parte dos rios mato-grossenses encontra-se em área de clima tropical semi-úmido, com estação seca muito pronunciada e, portanto, com grande oscilação da vazão fluvial.

- o principal divisor de águas, em Mato Grosso, é o Planalto dos Parecis.
- está localizado, em Mato Grosso, o grande divisor de águas das bacias hidrográficas do Amazonas e do Paraná, com grande número de cabeceiras de rios que são impróprios para o transporte fluvial de cargas.
- em Mato Grosso, os rios pertencentes à bacia Amazônica drenam 2/3 do seu território. Esses rios percorrem superfícies de Planaltos e Chapadas dos Parecis, Planaltos e Serras Residuais e Depressões, as duas últimas do Norte de Mato Grosso, apresentando em seus cursos cachoeiras e corredeiras.
- possui grandes lagos e lagoas de erosão fluvial e de barragem, notadamente no Pantanal.

CONHECIMENTOS COMPLEMENTARES

QUESTÃO 18

Com base na Lei Complementar nº 266, de 29/12/2006, considera-se cargo de assessoramento, um conjunto de atribuições que:

- corresponde a encargos de direção, chefia e assessoramento, criados por lei, exercido por titular de cargo efetivo do Poder Executivo Estadual.
- implica na responsabilidade de coordenar a execução de programas, projetos e atividades de uma ou mais unidades administrativas.
- implica na responsabilidade de dirigir, ou seja, estabelecer diretrizes e estratégias, desenvolver e coordenar a execução de programas, projetos e atividades de órgãos ou conjunto de unidades administrativas.
- concerne a um ou mais assuntos complementares cometidos a um cargo que exija formação ou experiência específica para seu desenvolvimento.
- corresponde a encargos de direção, chefia e assessoramento, criados por lei, de livre nomeação e exoneração, cujo provimento se faz em caráter temporário através de ato governamental.

QUESTÃO 19

Segundo a LC 266/2006, são direitos dos servidores exclusivamente comissionados, **exceto**:

- gratificação natalina correspondente a 01(um) subsídio mensal integral.
- contribuição referente à cota parte do empregador ao INSS.

- c. licença médica, atestada pela unidade de perícia médica do INSS, dentro de um período máximo de 15 (quinze) dias.
- d. 30 (trinta) dias de férias remuneradas, a cada período de 12 (doze) meses efetivamente trabalhados.
- e. adicional de 1/3 (um terço) de férias.

QUESTÃO 20

O Diretor-Geral de Polícia Judiciária Civil do Estado de Mato Grosso tem as seguintes competências, **exceto**:

- a. empossar novos Delegados de Polícia Judiciária Civil, nomeados por concurso público, observada a ordem de classificação.
- b. suspender o direito de o policial civil portar arma de fogo, por conveniência disciplinar, ou recomendação médica ou solicitação da Gerência de Armas *ad referendum*, do Conselho Superior da Polícia Judiciária Civil.
- c. avocar, excepcional e fundamentadamente, Inquérito Policial e outros procedimentos de Polícia Judiciária Civil, para redistribuição.
- d. gerir as atividades referentes à administração de pessoal, material, orçamento, finanças e serviços gerais.
- e. determinar a instauração de procedimento administrativo disciplinar.

QUESTÃO 21

Sobre o estágio probatório, previsto para a Polícia Judiciária Civil do Estado de Mato Grosso, assinale a alternativa **correta**.

- a. Será exonerado por ato do Diretor-Geral de Polícia Judiciária Civil do Estado de Mato Grosso ou por Ato Governamental o policial civil em estágio probatório que não preencher os requisitos estabelecidos em lei específica para o estágio probatório.
- b. Esgotado o prazo de defesa e produzidas as provas requeridas, a comissão decidirá, mediante voto e pela maioria simples de seus membros presentes, sobre a conveniência ou não da permanência do policial civil no serviço público.
- c. O policial civil em estágio probatório, exceto por ato presidencial, não poderá ser colocado à disposição de outros órgãos, instituições ou poderes, do Estado ou de Unidades da Federação, nem exercer cargo ou função de confiança.
- d. O período de estágio probatório em cargo policial civil é considerado de efetivo exercício para todos os fins.

- e. Até o vigésimo dia, antes de encerrar o prazo de estágio probatório, deverá a comissão emitir parecer conclusivo e fundamentado sobre a permanência ou demissão do policial civil.

QUESTÃO 22

Em relação à Lei Complementar nº 112/2002, que instituiu o Código de Ética Funcional do Servidor Público Civil do Estado de Mato Grosso, assinale a alternativa **incorreta**.

- a. Concluídas as diligências promovidas pela Comissão de Ética, o servidor público será oficiado para nova manifestação, no prazo de 05 (cinco) dias.
- b. É vedado ao servidor público, o uso de cargo, emprego ou função, bem como facilidades, amizades, tempo, posição e influências, para obter qualquer favorecimento, para si ou para outrem.
- c. À Comissão de Ética incumbe fornecer, aos organismos encarregados da execução do quadro de carreira, os registros sobre a conduta ética dos servidores públicos, para o efeito de instruir e fundamentar promoções e para todos demais procedimentos próprios da carreira do servidor público.
- d. Toda ausência injustificada do servidor público de seu local de trabalho é fator de desmoralização do serviço público estadual, o que quase sempre conduz à desordem nas relações humanas.
- e. O servidor público será oficiado para manifestar-se no prazo de 05 (cinco) dias, em razão do processo de apuração de prática de ato em desrespeito ao preceituado neste código, instaurado pela Comissão de Ética, de ofício ou em razão de denúncia fundamentada formulada por autoridade, servidor público, qualquer cidadão que se identifique ou quaisquer entidades associativas regularmente constituídas.

QUESTÃO 23

Na organização básica dos órgãos da Administração Direta do Estado de Mato Grosso, o Nível de Gerência Superior será:

- a. representado pela coordenação e execução de atividades em determinados pólos regionais a serem definidos por decreto.
- b. exercido pelos subsecretários, com funções relativas à implantação e controle de programas e projetos, bem como atividades de gerência necessárias ao desempenho da Pasta.

- c. representado pelos Conselhos ou assemelhados com respectivas funções regimentais.
- d. representado pelos Secretários de Estado, no desempenho de suas funções institucionais e administrativas.
- e. relativo ao apoio especializado aos titulares dos órgãos.

CONHECIMENTOS ESPECÍFICOS

QUESTÃO 24

Sobre a Curva de Aprendizado e Experiência, analise os itens.

- I. É utilizada para calcular o tempo que uma pessoa leva para alcançar a média de produção de algum item.
- II. Os seus efeitos não existem em todos os setores, podendo variar de zero a um valor bastante elevado, fazendo com que a avaliação da importância da curva na geração de ganhos de eficiência deva ser feita caso a caso.
- III. Os benefícios em termos de redução de custo poderão ocorrer de forma imediata.
- IV. Uma ênfase muito forte na redução de custos pode trazer algumas consequências competitivas indesejadas para a empresa.

Com base neles, assinale a alternativa **correta**.

- a. Apenas I está correto.
- b. Apenas I, II e III estão corretos.
- c. Apenas I, II e IV estão corretos.
- d. Apenas II, III e IV estão corretos.
- e. Todos estão corretos.

QUESTÃO 25

Analise as afirmações.

1. O lado da oferta dos mercados de muitos bens agrícolas (trigo, milho, soja, tabaco, gado e algodão) composto literalmente por milhares de firmas — cada uma tende a ser pequena em termos absolutos e também em relação ao mercado como um todo. Na verdade, algumas fazendas são maiores do que outras em termos de extensão territorial, mas nem mesmo as maiores fazendas são tão grandes como as firmas industriais de tamanho médio.

2. Os produtos agrícolas são essencialmente idênticos de fazenda para fazenda. A soja, por exemplo, não é um produto que possua marca registrada ao nível da fazenda e não possui qualquer identificação que se refira à fazenda onde foi plantado. Carnes, produtos derivados do leite, frutas e vegetais podem trazer a marca da loja ou da empresa que os processou, mas em geral não trazem a marca da fazenda onde foram plantados (as exceções a essa regra incluem ovos, bananas e abacaxis). Como resultado, os produtos agrícolas que pertencem a uma mesma classe ou grau são altamente substituíveis entre si.

3. Comparada a outras indústrias, existem poucas barreiras à entrada de novas firmas na produção de gêneros agrícolas. Ao mesmo tempo, é relativamente fácil para um fazendeiro se retirar da produção de um item em particular (para o qual as perspectivas de lucro sejam reduzidas) e investir na produção de outro item (para o qual as perspectivas de lucro são melhores): em tais casos, as barreiras existentes à entrada e à saída são extremamente baixas, uma vez que a cada estação o agricultor pode facilmente ajustar sua combinação de culturas agrícolas em qualquer direção apontada no mercado.

A que estrutura de mercado se referem estas afirmações?

- a. Concorrência Monopolística.
- b. Oligopólio.
- c. Monopólio.
- d. Monopsônio.
- e. Concorrência Perfeita.

QUESTÃO 26

A função de produção de curto prazo indica a quantidade de produto que pode ser obtida a partir de diversos montantes dos insumos variáveis, dada a disponibilidade existente de insumos fixos. A variação exata na quantidade produzida, associada ao uso de uma ou mais unidades adicionais de insumo fixo, é conhecida como Produto Marginal do Insumo Variável. Se a relação entre a quantidade produzida (Q) e a quantidade utilizada do insumo variável (X) for dada pela equação:

$$Q = 21X + 9X^2 - X^3$$

o produto marginal do insumo variável pode ser representado por:

- a. $21 + 9X - X^2$
- b. $21 + 18X - 3X^2$
- c. $9X^2 - 3X^2$
- d. $21 + 18X^2 - 3X^3$
- e. $21 + 9X - 3X^2$

QUESTÃO 27

Considere-se uma pequena empresa na qual o proprietário investiu R\$ 100.000,00. Suponha que o proprietário recebe um pequeno salário e dedica 60 horas por semana à administração do empreendimento. Um economista argumentaria que o proprietário deveria calcular seu custo de oportunidade relativo ao seu investimento em tempo e em dinheiro.

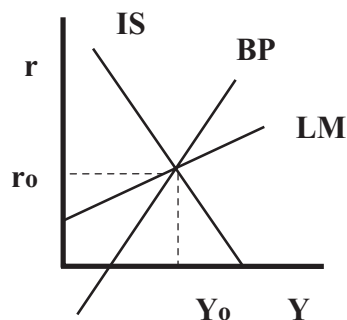
Assinale a alternativa que representa a **correta** avaliação do seu custo de oportunidade.

- a. O custo de oportunidade de seu tempo é o melhor salário que ele poderia obter se trabalhasse 60 horas numa ocupação alternativa.
- b. O custo de oportunidade de seu capital é o retorno que os R\$ 100.000,00 investidos dariam a uma taxa de retorno determinada.
- c. O custo de oportunidade de seu tempo é o melhor salário que ele poderia receber tendo como referência o salário mínimo da economia local.
- d. O custo de oportunidade de seu capital é o retorno que os R\$ 100.000,00 investidos proporcionariam numa aplicação em renda fixa.
- e. O custo de oportunidade está associado ao sacrifício que o empresário teria em aplicar os R\$ 100.000,00 em outra empresa do ramo.

QUESTÃO 28

Mundell-Fleming é um modelo integrado que reúne o mercado interno (modelo IS-LM) e o mercado externo (Curva BP) e explica o relacionamento da economia nacional com a economia externa, conforme ilustra o gráfico 1.

Gráfico 1. Modelo Mundell-Fleming



Este modelo revela a existência de diversas opções de política econômica para a obtenção do equilíbrio externo. As políticas são de ordem ortodoxa (fiscal, monetária, cambial) e heterodoxa (tabelamentos, incentivos, tarifas, etc.).

Desta forma, qual das alternativas abaixo representa uma opção de política econômica para correção de um superávit?

- a. Política Monetária Expansionista.
- b. Política Fiscal Contracionista.
- c. Política Monetária Contracionista.
- d. Política de desvalorização cambial.
- e. Política de Rendas com aumento de preços.

QUESTÃO 29

Qual dos itens a seguir não seria contabilizado como um investimento nas contas nacionais?

- a. Um aumento no estoque de matéria-prima da Ford.
- b. Um aumento no estoque de componentes acabados da Ford.
- c. A construção de uma fábrica pela Ford.
- d. A compra de uma cota de ações da Ford por um funcionário da Ford.
- e. A adição de algum equipamento pela Ford.

QUESTÃO 30

Conforme o modelo das curvas IS-LM, se o governo cortasse os impostos, ao mesmo tempo em que houvesse um aumento autônomo da demanda por investimentos, o que ocorreria?

- a. A renda aumentaria, mas o efeito sobre a taxa de juros seria incerto.
- b. A renda aumentaria e a taxa de juros cairia.
- c. A taxa de juros aumentaria, mas o efeito sobre a renda seria incerto.
- d. Os efeitos sobre a renda e a taxa de juros seriam incertos.
- e. A renda e a taxa de juros aumentariam.

QUESTÃO 31

"O déficit público corresponde a uma des poupança do governo". Esta afirmativa apresenta falhas que podem ser explicadas por qual das alternativas?

- a. A causa do déficit pode ser não de uma poupança positiva, e sim o fato de a poupança ser negativa, porém inferior ao investimento do governo.

- b. O déficit do setor público incorpora o resultado das empresas estatais e também não considera a existência do investimento do governo.
- c. O déficit do setor público além de considerar a existência do investimento do governo em suas três esferas, também incorpora o resultado das empresas estatais.
- d. Ter uma despoupança significa que a necessidade de financiamento do governo é positiva e o investimento do governo superior à poupança.
- e. Ter uma despoupança significa que a necessidade de financiamento do governo é negativa, e o investimento do governo superior à poupança.

QUESTÃO 32

Um programa conjunto de política monetária e fiscal para reduzir a inflação poderia incluir um:

- a. corte nos gastos do governo e uma redução da taxa de desconto.
- b. corte nos gastos do governo e uma compra de títulos do governo no mercado aberto.
- c. aumento tributário e uma venda de títulos no mercado aberto.
- d. corte tributário e uma redução da taxa de reservas compulsórias sobre as contas de movimento.
- e. aumento tributário e uma compra de títulos no mercado aberto.

QUESTÃO 33

Uma questão complexa na economia brasileira diz respeito à avaliação do desempenho das empresas estatais. A questão è: "como medir o nível de eficiência de uma entidade que é ao mesmo tempo uma empresa e um instrumento de política econômica do governo?". Como se sabe, pela lógica empresarial, uma firma capitalista deve visar ao maior nível de lucros possíveis, com um mínimo de custos. Entretanto, ao longo do processo da formação e consolidação do sistema produtivo estatal, o que se viu foi que, em grande medida, as empresas estatais:

- a. praticaram reajustes de tarifas acima da inflação.
- b. forneceram insumos com preços acima da média do mercado para setores considerados estratégicos.
- c. tiveram que abrir mão da ótica privada em favor dos objetivos nacionais.
- d. receberam empréstimos dos bancos estatais com juros compatíveis ao do mercado externo.

- e. promoveram o processo de endividamento com a captação de recursos em bancos privados.

QUESTÃO 34

No Brasil, o estado desenvolvimentista perseguiu vários objetivos ao longo de sua existência, sempre tendo como meta a superação do atraso mediante o processo de industrialização. Alguns objetivos foram mais importantes.

- I. Limitar as importações.
- II. Diversificar as exportações.
- III. Desenvolver fontes domésticas de energia.
- IV. Proteger firmas domésticas.
- V. Promover a transferência de tecnologia.

Assinale a alternativa que apresenta **corretamente** esses objetivos.

- a. Apenas I, II e IV estão corretos.
- b. Apenas I, III e IV estão corretos.
- c. Apenas I, III e V estão corretos.
- d. Apenas II, III, IV e V estão corretos.
- e. Todos estão corretos.

QUESTÃO 35

No debate brasileiro a respeito da relação entre a inflação e a política fiscal, argumentava-se, em torno de 1993/1994 – após a queda do déficit operacional verificada em relação ao final dos anos 1980 e antes do plano Real – que essa relação seria diferente em comparação com a maioria dos países. Por exemplo, quando pressionado por um governador ou por algum colega de ministério a liberar uma verba, bastava ao ministro da Fazenda "postergar" a liberação por um mês, para provocar uma perda real do valor liberado.

A este fenômeno deu-se o nome de:

- a. Efeito-Ponzi.
- b. Efeito-Tanzi.
- c. Efeito-Fischer.
- d. Efeito-Muller.
- e. Efeito-Kandir.

QUESTÃO 36

Lei aprovada no ano 2000 representou uma série de diretrizes gerais para as autoridades governamentais, na administração das finanças públicas dos níveis central, estadual e municipal. Entre os principais aspectos incluídos no projeto encontram-se o estabelecimento de tetos para a despesa com pessoal; limitação do endividamento público; vedação da possibilidade de refinanciamentos ou postergação de dívidas entre entes da federação.

Assinale a alternativa que representa esta Lei.

- a. Lei de Diretrizes Orçamentárias (LDO).
- b. Lei de Diretrizes da União (LDU).
- c. Lei Orgânica da Previdência Social (LOPS).
- d. Lei de Responsabilidade Fiscal (LRF).
- e. Lei do Orçamento Geral (LOG).

QUESTÃO 37

Um fato importante no âmbito da política cambial no Brasil, no ano de 1999, foi a mudança do regime cambial por força da necessidade de propiciar o equilíbrio no balanço de pagamentos. O novo regime implantado, denominado de Câmbio Flutuante ou Livre, tinha como característica:

- a. a definição da taxa de câmbio pelo Banco Central.
- b. a definição da taxa de câmbio pelo mercado.
- c. a utilização das reservas cambiais para fazer frente à saída de capitais do país.
- d. a exigência de gerar superávits nominais no orçamento do Tesouro Nacional.
- e. o financiamento do balanço de pagamentos com capitais autônomos.

QUESTÃO 38

A taxa SELIC nominal diminuiu de 45% para 19% ao ano, entre o auge da crise, no início de 1999 e o final do ano, como consequência da redução dos juros externos. Este fato permitiu que os juros domésticos cedessem. No atual regime cambial, implementado pela equipe econômica – pós Jan/1999, a taxa de juros interna passou a depender de quais variáveis?

- a. Taxa de juros externa (EUA), da taxa de inflação (Brasil) e do risco país.
- b. Taxa de juros externa (LIBOR), da taxa de inflação (Brasil) e do risco país.
- c. Taxa de juros externa (PRIME), da taxa de inflação (Brasil) e do risco país.
- d. Taxa de juros externa (EUA), da taxa de inflação (EUA) e do risco país.
- e. Taxa de juros externa (LIBOR), da taxa de inflação (EUA) e do risco país.

QUESTÃO 39

A trajetória de crescimento do consumo das famílias brasileiras sofreu forte desaceleração no final de 2008, em resposta aos efeitos do agravamento da crise internacional, que deterioraram os níveis de confiança dos consumidores. Esta piora se traduziu numa queda de 1,4% na passagem entre o terceiro e o quarto trimestre de 2008, na série sem efeitos sazonais (IPEA, Relatório de Conjuntura,

setembro/09).

Este cenário, no entanto, se alterou já a partir do início de 2009, quando a percepção dos agentes sobre o ambiente econômico começou a melhorar. Desde então, o consumo das famílias vem retomando gradativamente o ritmo de crescimento anterior à crise, influenciado por uma série de fatores. Assinale a alternativa que os representa **corretamente**.

- a. A manutenção do ritmo de crescimento da massa salarial, refletindo não só o crescimento da população ocupada como também o avanço do rendimento médio real influenciado por uma trajetória decrescente dos índices de inflação, que proporciona aos consumidores a manutenção do seu poder de compra.
- b. A piora nas condições do mercado de trabalho. Principal fator de influência sobre a confiança dos consumidores.
- c. A política monetária implementada pelo governo, uma vez que a demanda por crédito aumenta, em função da recuperação da confiança por parte dos agentes, sendo necessário a redução da oferta de crédito para atendê-la.
- d. O aumento do compulsório quanto a redução da taxa básica de juros – Taxa do Serviço Especial de Liquidação e Custódia (SELIC) – para o aumento das concessões de crédito, como também para o seu barateamento.
- e. A política fiscal restritiva adotada pelo governo para um maior controle dos gastos públicos e a geração de superávits primários.

QUESTÃO 40

Considere um modelo de duopólio com duas empresas (A e B) que produzem produtos diferenciados, mas substitutos próximos. Suponha que a empresa A deva anunciar o preço de seu produto antes de a empresa B o fazer. Nenhuma empresa poderá remarcar o preço de seu produto após esse ser divulgado.

Observando essas condições, é **correto** afirmar que:

- a. o resultado desse modelo é equivalente ao resultado de um modelo liderança quantidade (Stackelberg).
- b. o resultado deste modelo será idêntico ao resultado do modelo de Cournot, caso as duas empresas tenham as mesmas condições de custo.
- c. o equilíbrio deste mercado irá gerar uma provisão eficiente do produto das duas empresas, caso não haja diferenciação desses produtos.

- d. a empresa A estará em condições mais vantajosas, caso ambas as empresas tenham as mesmas condições de custo e de demanda.
- e. a empresa B terá lucro superior ao da empresa A, independentemente das condições de custo e de demanda das duas empresas.

QUESTÃO 41

Com respeito à economia da concorrência, assinale a alternativa **correta**.

- a. O fato de muitos postos de gasolina, em várias cidades brasileiras, praticarem paralelismo de preços é suficiente para entender que essas empresas constituem um cartel, caso em que são passíveis de punição no âmbito da legislação antitruste.
- b. Os custos de eficiência das fusões são nulos porque a unificação de plantas promove o melhor uso de recursos, reduz custos e permite operar em escala compatível com congêneres estrangeiras, fortalecendo, assim, a posição competitiva da empresa.
- c. No caso das práticas verticais, o principal efeito anticoncorrencial é o de reduzir ou eliminar a concorrência no mercado relevante, por exemplo, por meio da formação de cartéis e outros acordos entre empresas ou mediante o uso de preços predatórios.
- d. O suposto acordo entre empresas farmacêuticas no Brasil, para boicotar distribuidores que vendiam medicamentos genéricos, ilustra um tipo de conduta classificável como um caso de cartel.
- e. O setor de telecomunicações caracteriza-se pela existência de baixos custos fixos para as redes de comunicação locais, o que facilita a entrada de novas concessionárias nesse mercado e contribui, assim, para elevar os níveis de competição nessa indústria.

QUESTÃO 42

A teoria econômica clássica preceitua que a livre concorrência produz maior nível de bem-estar possível comparado a qualquer outra forma de mercado. Entretanto, existem mercados em que a concorrência não oferece, necessariamente, uma solução superior.

Nesse setor, a presença de custos fixos elevados em capital altamente específico, implica em um dilema entre eficiência produtiva e eficiência alocativa, além de subincentivo *ex ante* ao investimento. Outro fator refere-se à incerteza associada ao longo período de

maturação dos projetos e à possibilidade de mudanças de condições que são fatores que reduzem os incentivos ao investimento de capitais privados, afetando até mesmo o sistema de incentivos que determina o investimento público no setor. Esse setor está sujeito à falha de mercado conhecida como monopólio natural.

Assinale a alternativa que caracteriza o serviço público a que o enunciado se refere.

- a. De saúde.
- b. De saneamento básico.
- c. De educação.
- d. De segurança.
- e. De transporte.

QUESTÃO 43

Sobre a regulação, analise as afirmações.

- I. A regulação tem sido definida como uma limitação imposta pelo Estado sobre a discricção que pode ser exercida pelos indivíduos ou organizações, as quais são sustentadas pela ameaça de sanção.
- II. A regulação é o uso do poder coercitivo que tem como objetivo ampliar as decisões dos agentes econômicos.
- III. A regulamentação econômica refere-se às restrições impostas pelo governo sobre as decisões das firmas com relação ao preço, quantidades, entrada e saída do setor.
- IV. A regulação ocorre em um ambiente de informação assimétrica entre agentes econômicos que buscam seu próprio interesse, sendo em essência uma manifestação do problema principal-agente.

Com base nelas, assinale alternativa **correta**.

- a. Apenas I, III e IV estão corretas.
- b. Apenas I e II estão corretas.
- c. Apenas III e IV estão corretas.
- d. Apenas II e IV estão corretas.
- e. Todas estão corretas.

QUESTÃO 44

Governança regulatória é o desenvolvimento sistemático e a implementação de políticas gerais sobre como o governo utiliza seus poderes regulatórios. A governança regulatória envolve mecanismos que restringem o comportamento discricionário dos governos: a OCDE preocupada com a criação de um sistema regulatório transparente e previsível que seja sustentável no tempo, sintetizou todas essas vertentes em princípios gerais de governança publicados no catálogo dos

Princípios da Boa Governança Regulatória, em 2004.

Assinale a alternativa que apresenta **corretamente** estes princípios.

- a. Prestação de contas, transparência, responsividade e equidade.
- b. Prestação de contas, transparência, isonomia e equidade.
- c. Prestação de contas, transparência, eficiência/efetividade, responsividade, equidade e império da lei.
- d. Prestação de contas, transparência, eficiência/efetividade, responsividade, equidade, visão de futuro e império da lei.
- e. Prestação de contas, transparência, eficiência/efetividade, responsividade, visão de futuro e império da lei.

QUESTÃO 45

O Conselho Administrativo de Defesa do Consumidor (CADE) tem a finalidade de defesa da concorrência e a vigilância, prevenção e repressão aos abusos do poder econômico. O CADE foi reformulado e reforçado pela lei 8.884, de 1994, e hoje tem representado um papel importante, especialmente diante da integração brasileira aos mercados mundiais e da vinda maciça de capital de investimento para o Brasil, em muitos casos para a aquisição de empresas já existentes, ou facilitando fusões de empresas brasileiras e estrangeiras.

Dentre os casos mais recentes, assinale a alternativa em que o CADE **não** aprovou o processo de fusão ou incorporação.

- a. JBS-Friboi e Grupo Bertin, no setor de processamento de carnes e derivados.
- b. Brahma e Antártica, no setor de bebidas e derivados.
- c. Nestlé e Garoto, no setor de chocolates e derivados.
- d. Itaú e Unibanco, no setor de serviços financeiros.
- e. Sadia e Perdigão, no setor de processamento de alimentos.

QUESTÃO 46

Os mecanismos de defesa da concorrência são considerados importantes para estimular a eficiência dos mercados privados e garantir os investimentos necessários para sua implantação.

Em relação a isso, assinale a alternativa **correta**.

- a. A concentração vertical, em que há fusão ou incorporação de empresas em diferentes estágios da cadeia produtiva, embora facilite a adoção de práticas anticoncorrenciais, não constitui violação da lei da concorrência.
- b. Para preservar a competição no mercado de telefonia, as medidas reguladoras adotadas pela Agência Brasileira de Telecomunicações (ANATEL) impedem que as companhias prestem serviços de telecomunicações fora de sua área de concessão, mesmo que para isso tenham adquirido o controle acionário de empresas locais.
- c. Para promover a defesa da concorrência no setor de telecomunicações no Brasil, além de os preços não serem regulados, as participações acionárias cruzadas entre fornecedores de serviços fixos e móveis também são permitidas.
- d. Nos setores de infraestrutura, em segmentos onde as economias de escala e de escopo não são relevantes, o potencial competitivo pode ser explorado mediante contrato de arrendamento, que assegure que a empresa arrendatária assuma a responsabilidade pelos investimentos na área.
- e. Quando o índice Herfindahl-Hirschman é igual a zero, o mercado tende a ser monopolizado, e, portanto, para aumentar os níveis de competição, é necessário que ele seja objeto de regulamentação do governo.

PROVA DISSERTATIVA

QUESTÃO 01

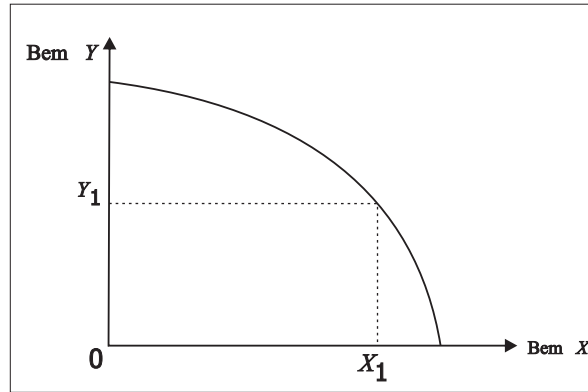
Por que é mais razoável considerar como receita "acima da linha", diminuindo a Necessidade de Financiamento do Setor Público (NFSP), a arrecadação resultante de uma concessão que gera para os vencedores desta a necessidade de fazer pagamentos mensais ao governo, ao longo de 30 anos, que adotar o mesmo tratamento no caso de pagamento de uma única parcela, no ato da assinatura do contrato de concessão?


Blank lined area for answer.

QUESTÃO 02

Em relação à curva de possibilidade de produção a seguir, a produtividade física marginal de cada recurso produtivo decresce com a maior utilização de recursos produtivos da economia (Figura 1), pois a curva de possibilidades de produção desloca-se, a longo prazo, em função do aumento da quantidade de fatores de produção e do progresso tecnológico. Explique esta relação utilizando, como referência, a Lei dos Rendimentos Decrescentes.

Figura 1 – Curva de Possibilidade de Produção





QUESTÃO 04

Por que vários Bancos Centrais usam metas intermediárias com frequência e por que não se concentram simplesmente nos objetivos finais das políticas econômicas, como a inflação e o desemprego?

