

CONCURSO PÚBLICO

CÓDIGO A14	PROVA V	ATENÇÃO: VERIFIQUE SE CÓDIGO E PROVA DESTES CADERNO DE QUESTÕES CONFEREM COM O SEU CARTÃO DE RESPOSTAS
MANHÃ		



DER - DEPARTAMENTO DE ESTRADAS
DE RODAGEM E TRANSPORTES

CARGO: ECONOMISTA

FRASE PARA EXAME GRAFOLÓGICO (TRANSCREVA NO QUADRO DE SEU CARTÃO DE RESPOSTAS)

“A alegria é o segredo da beleza. Sem entusiasmo não há beleza que seja atraente.”

Christian Dior

A T E N Ç Ã O

- O **Caderno de Questões** contém questões de múltipla-escolha, cada uma com 5 opções A, B, C, D e E.
- Ao receber o material, verifique no **Cartão de Respostas** seu nome, número de inscrição, data de nascimento, cargo e prova. Qualquer irregularidade comunique imediatamente ao fiscal de sala. Não serão aceitas reclamações posteriores.
- Leia atentamente cada questão e assinale no **Cartão de Respostas** a opção que responde corretamente a cada uma delas. O **Cartão de Respostas** será o único documento válido para a correção eletrônica. O preenchimento do **Cartão de Respostas** e a respectiva assinatura serão de inteira responsabilidade do candidato. Não haverá substituição do **Cartão de Respostas**, por erro do candidato.
- Observe as seguintes recomendações relativas ao **Cartão de Respostas**:
 - A maneira correta de marcação das respostas é cobrir, fortemente, com esferográfica de tinta azul ou preta, o espaço correspondente à letra a ser assinalada.
 - Outras formas de marcação diferentes implicarão a rejeição do **Cartão de Respostas**.
 - Será atribuída nota zero às questões não assinaladas ou com falta de nitidez, ou com marcação de mais de uma opção, e as emendadas ou rasuradas.
- O fiscal de sala não está autorizado a alterar qualquer destas instruções. Em caso de dúvida, solicite a presença do coordenador local.
- Você só poderá retirar-se definitivamente do recinto de realização da prova após 1 hora contada do seu efetivo início, **sem levar o Caderno de Questões**.
- Você só poderá levar o próprio **Caderno de Questões** caso permaneça na sala até 1 hora antes do término da prova.
- Por motivo de segurança, só é permitido fazer anotação durante a prova no **Caderno de Questões** e no **Cartão de Respostas**. Qualquer outro tipo de anotação será motivo de eliminação automática do candidato.
- Após identificado e instalado na sala, você não poderá consultar qualquer material, enquanto aguarda o horário de início da prova.
- Os três últimos candidatos deverão permanecer na sala até que o último candidato entregue o **Cartão de Respostas**.
- Ao terminar a prova, é de sua responsabilidade entregar ao fiscal o **Cartão de Respostas**. Não esqueça seus pertences.
- O **Gabarito Oficial da Prova Objetiva** será disponibilizado no site www.funcab.org, conforme estabelecido no Cronograma.

Realização:



BOA PROVA

CONHECIMENTOS GERAIS:

- Língua Portuguesa

Leia o texto abaixo e responda às questões propostas.

Fora com os carros

Como enfrentar os congestionamentos que se tornaram uma praga do inferno nas centenárias cidades europeias, cujas ruas estreitas não foram planejadas para tanto carro? A prefeitura de Londres anunciou uma medida radical e impopular: vai cobrar pedágio na região central a partir de 2003. Já o prefeito de Paris decidiu ampliar as faixas exclusivas de transporte coletivo. As armas adotadas pelas duas capitais são diferentes, mas o objetivo é o mesmo: convencer os motoristas de que só deixando o carro em casa será possível amenizar o pesadelo dos congestionamentos. Outros países já adotaram medidas duras para restringir o uso do automóvel. Em três cidades da Noruega, incluindo a capital, Oslo, os motoristas também pagam tarifa para circular em certas áreas urbanizadas. Roma, que já limita bastante o acesso de veículos à zona central, está testando um modelo de pedágio eletrônico. Cingapura foi a pioneira na cobrança de tributo em várias regiões movimentadas, a partir de 1975. Bangcoc, capital da Tailândia, seguiu o exemplo, e a Cidade do México instituiu o rodízio dia sim, dia não, de acordo com a placa. O de São Paulo só vale na hora do rush.

O drama dessas cidades é que a frota aumenta a uma velocidade muito maior que a da malha viária. Mesmo com uma excelente rede de metrô, tanto os parisienses, quanto os londrinos não abrem mão do automóvel. “Quem precisar de rapidez terá de usar transporte público. Quem preferir o conforto do carro vai ficar parado nos congestionamentos”, diz o consultor de trânsito Gilberto Lehfeld, ex-presidente da Companhia de Engenharia de Tráfego de São Paulo. Quando as autoridades agem, a gritaria é geral. Os motoristas parisienses ficaram irritados com a redução de espaço em três dos maiores corredores da cidade, em favor de amplas faixas exclusivas para ônibus, táxis, motos e bicicletas. A prefeitura ainda construiu barricadas para impedir que os carros invadam a área restrita ao transporte coletivo. Cerca de 70% das viagens diárias em Paris são feitas de carro. Por enquanto, são 7 quilômetros de faixa exclusiva, e a intenção do prefeito Bertrand Delanoë é estender o corredor para 41 quilômetros e aumentar a velocidade média dos ônibus em 20%. Só que os congestionamentos, nas faixas de carros pioraram e devem agravar o problema da poluição.

O prefeito de Londres, Ken Livingstone, quer pegar os motoristas pelo bolso. Vai custar 5 libras (o equivalente a 18 reais) a autorização para circular por um dia na área central da cidade, das 7 às 19 horas. Livingstone pretende instalar câmaras para vigiar os 50 000 carros que entram por hora na região. Os motoristas poderão pagar o pedágio no dia em vários locais ou, antecipadamente, pela internet, apresentando o número da placa. A multa para quem circular sem pagar é de 100 libras (372 reais), e todo o dinheiro arrecadado será revertido para a melhoria do transporte coletivo. Com o pedágio, a prefeitura espera reduzir o tráfego no centro em 15%. Não deve resolver o problema. “Há o risco de os motoristas irem de carro até o limite da zona central e pegarem o metrô”, adverte o especialista em trânsito Philippe Gold. “Os congestionamentos só vão mudar de lugar.” (Revista Veja, 12/09/2001)

1. De acordo com a leitura do texto, apenas uma das afirmativas abaixo NÃO é verdadeira. Aponte-a.

- A) Embora as medidas relativas ao controle do trânsito difiram de cidade para cidade, todas têm o mesmo objetivo.
- B) Observa-se, em cidades de diferentes países, a preocupação das autoridades em conter o excesso de carros circulando nos grandes centros.
- C) Normalmente, nas cidades de maior movimento, o número de carros aumenta na contramão da disponibilidade de vias.
- D) O incentivo ao uso do transporte coletivo continua sendo um dos maiores recursos dos governantes para a redução dos congestionamentos.
- E) Como a maioria dos motoristas mostra-se insatisfeita com a cobrança de pedágios nos centros das grandes cidades, as autoridades tendem a ser permissivas com os infratores.

2. Assinale a opção em que se identifica um termo utilizado no sentido conotativo.

- A) “A multa para quem circular sem pagar é de 100 libras (372 reais), e todo o dinheiro arrecadado será revertido para a melhoria do transporte coletivo.” (parágrafo 3)
- B) “As armas adotadas pelas duas capitais são diferentes, mas o objetivo é o mesmo: convencer os motoristas de que só deixando o carro em casa será possível amenizar o pesadelo dos congestionamentos.” (parágrafo 1)
- C) “Quem preferir o conforto do carro vai ficar parado nos congestionamentos”, diz o consultor de trânsito Gilberto Lehfeld, ex-presidente da Companhia de Engenharia de Tráfego de São Paulo.” (parágrafo 2)
- D) “Vai custar 5 libras (o equivalente a 18 reais) a autorização para circular por um dia na área central da cidade, das 7 às 19 horas.” (parágrafo 3)
- E) “Os motoristas poderão pagar o pedágio no dia em vários locais ou, antecipadamente, pela internet, apresentando o número da placa.” (parágrafo 3)

3. Pela leitura do texto, NÃO se pode inferir que:

- A) de acordo com os exemplos apresentados, o Brasil se mostra como o país mais permissivo com a movimentação de veículos.
- B) dentre os recursos utilizados no combate aos grandes congestionamentos já se poderá contar com os tecnológicos.
- C) embora as medidas sejam adotadas para melhorar o trânsito das grandes cidades, é possível que muitos motoristas tentem burlar essas normas.
- D) o real objetivo dos governantes ao cobrar pedágio dos motoristas é recolher verba suficiente para a conservação das vias.
- E) apesar de as medidas tomadas em relação ao trânsito serem reconhecidamente necessárias, elas não repercutem bem na população.

4. Assinale a opção em que as palavras grifadas foram, correta e respectivamente, classificadas entre parênteses.

- A) “Como enfrentar os congestionamentos que se tornaram uma praga do inferno nas centenárias cidades europeias, cujas ruas estreitas não foram planejadas para tanto carro?” (conjunção - pronome - preposição)
- B) “Já o prefeito de Paris decidiu ampliar as faixas exclusivas de transporte coletivo.” (preposição - artigo definido - verbo)
- C) “Bangcoc, capital da Tailândia, seguiu o exemplo, e a Cidade do México instituiu o rodízio dia sim, dia não, de acordo com a placa. O de São Paulo só vale na hora do rush.” (artigo - preposição - pronome)
- D) “O drama dessas cidades é que a frota aumenta a uma velocidade muito maior que a da malha viária.” (artigo - preposição - artigo)
- E) “Os motoristas parisienses ficaram irritados com a redução de espaço em três dos maiores corredores da cidade, em favor de amplas faixas exclusivas para ônibus, táxis, motos e bicicletas.” (conjunção - substantivo - preposição)

5. Indique a opção em que, no texto, a mudança de posição do determinante grifado acarreta tanto mudança de sentido quanto de classe gramatical.

- A) “Em três cidades da Noruega, incluindo a capital, Oslo, os motoristas também pagam tarifa para circular em certas áreas urbanizadas.” (parágrafo 1)
- B) “Mesmo com uma excelente rede de metrô, tanto os parisienses, quanto os londrinos não abrem mão do automóvel.” (parágrafo 2)
- C) “Outros países já adotaram medidas duras para restringir o uso do automóvel.” (parágrafo 1)
- D) “Como enfrentar os congestionamentos que se tornaram uma praga do inferno nas centenárias cidades europeias...” (parágrafo 1)
- E) “A prefeitura de Londres anunciou uma medida radical e impopular: vai cobrar pedágio na região central a partir de 2003.” (parágrafo 1)

6. Marque a opção em que, segundo a norma culta da língua, ocorre ERRO quanto à concordância.

- A) Os Estados Unidos, que possui a maior malha rodoviária do planeta, tem apenas 7.150 km contra 9.500 km de rodovias pedagiadas do Brasil.
- B) No Estado de São Paulo, o campeão brasileiro de pedágios, foram concedidos 12 lotes à iniciativa privada, mas nove não saíram do papel, estão bloqueados e poderão representar mais cerca de 100 pontos de cobrança.
- C) No Estado do Rio de Janeiro, quase todos os trechos de pista dupla foram concedidos à iniciativa privada.
- D) O Governo Federal concedeu as rodovias e as concessionárias só puderam cobrar depois de fazerem inúmeras obras e implantarem diversos serviços.
- E) No Estado de São Paulo, as concessionárias assumiram rodovias importantes, onde já havia pedágio e, portanto, começaram com receita imediata.

7. Assinale a ideia expressa pela locução grifada abaixo.

Mesmo que a estrada seja privatizada, ela é uma permissionária ou concessionária do poder público e, como tal, está enquadrada no Código de Proteção e Defesa do Consumidor.

- A) causa.
- B) consequência.
- C) conformidade.
- D) condição.
- E) concessão.

8. Marque a alternativa que completa, correta e respectivamente, os espaços do período abaixo.

O usuário, apesar de compulsoriamente ser obrigado _____ aceitar _____ cobrança de pedágio, já revelou, em quase 60% dos casos, que é _____ favor da concessão, mas rejeita _____ quantia estabelecida.

- A) a - a - à - a.
- B) a - a - à - à.
- C) à - à - a - à.
- D) a - a - a - a.
- E) à - à - a - a.

9. Assinale a opção em que ocorre ERRO quanto à acentuação gráfica.

- A) Nosso século é o da aceleração tecnológica e científica, que se operou e continuará a se operar em ritmos antes inconcebíveis.
- B) O homem ainda é prisioneiro do trânsito, em carros que são celas ambulantes, onde, indubitavelmente, desperdiça precioso tempo de vida.
- C) Vigor e potência do automóvel passam a ser encarados como a própria expressão do poder no mundo contemporâneo.
- D) Pela visão de negócios das seguradoras de automóveis, os fatos negam o histórico preconceito quanto à competência da mulher motorista.
- E) Apesar do rigor da chamada Lei Seca, alguns brasileiros demonstram falta de consciência e, na prática, procuram burlar a legislação.

10. Assinale a opção em que o termo grifado foi INCORRETAMENTE substituído por um pronome oblíquo.

- A) “A prefeitura de Londres anunciou uma medida radical e impopular: vai cobrar pedágio na região central a partir de 2003.”

A prefeitura de Londres anunciou-a: vai cobrar pedágio na região central a partir de 2003.

- B) “... mas o objetivo é o mesmo: convencer os motoristas de que só deixando o carro em casa será possível amenizar o pesadelo dos congestionamentos.”

... mas o objetivo é o mesmo: convencê-los de que só deixando o carro em casa será possível amenizar o pesadelo dos congestionamentos.

- C) “Em três cidades da Noruega, incluindo a capital, Oslo, os motoristas também pagam tarifa para circular em certas áreas urbanizadas.”

Em três cidades da Noruega, incluindo a capital, Oslo, os motoristas também pagam-lhe para circular em certas áreas urbanizadas.

- D) “Livingstone pretende instalar câmaras para vigiar os 50 000 carros que entram por hora na região.” Livingstone pretende instalá-las para vigiar os 50 000 carros que entram por hora na região.

- E) “A prefeitura ainda construiu barricadas para impedir que os carros invadam a área restrita ao transporte coletivo.”

A prefeitura ainda construiu barricadas para impedir que os carros invadam-na.

- Geografia e História de Rondônia

11. A Amazônia faz parte de uma gigantesca planície com domínio de terras baixas florestadas, disposta em anfiteatro, enclausurada entre a grande barreira imposta pelas terras cisandinas e pelas bordas dos planaltos Brasileiro e Guianense. Neste espaço, o relevo de Rondônia localiza-se:

- A) junto à planície, área na qual o processo de erosão se sobrepõe ao de sedimentação, rica em sedimentos.
B) próximo à planície, onde há o predomínio do relevo tabular, intercalando chapadas cristalinas e sedimentares.
C) afastado da planície, com natureza cristalina onde os processos de deposição de materiais superam os de desgaste.
D) na área vizinha à planície, onde aparecem terras baixas e o processo erosivo supera o deposicional.
E) próximo à planície, onde predominam terras baixas numa área cortada de norte a sul entre os rios Ji-Paraná e Guaporé.

12. Na composição do PIB do estado de Rondônia, em 2007, aparece a seguinte distribuição – agropecuária: 20,4%; indústria: 14,6%; serviços: 65,0%. Para um estado cujo crescimento está atrelado à expansão da fronteira agrícola, um percentual tão elevado no setor de serviços pode ser justificado a partir de:

- A) ter atraído somente trabalhadores ligados à construção civil.
B) ser a principal área prestadora de serviços na Amazônia ocidental.
C) ter desenvolvido uma agricultura que utiliza pouca mão de obra.
D) dispor de infraestrutura que estimula o desenvolvimento comercial.
E) incentivar a abertura de empresas vinculadas ao turismo ecológico.

13. O agronegócio inverte o sentido das migrações brasileiras: agora se vai do Sul e do Leste para o Norte. A população de Rondônia aumentou a taxas de 16% ao ano durante a década de 1990. A cidade de Buritis é, entre os 5 560 municípios brasileiros, a que mais recebeu migrantes nos últimos tempos – 90% deles vindos das regiões Sul e Sudeste do país. Os que chegaram na última década do século passado, se diferenciam dos que vieram nos anos 70 e 80 pelo fato de:

- A) mudarem o perfil agropecuário do estado investindo no gado leiteiro.
B) terem sido atraídos por terras de boa qualidade a preços mais baixos.
C) realizarem investimentos em cana-de-açúcar para a produção de etanol.
D) utilizarem mão de obra boliviana, qualificada no cultivo de oleaginosas.
E) associarem-se a estrangeiros no beneficiamento da produção agrícola.

14. Com muito atraso, produtores rurais finalmente apelam para as hidrovias amazônicas para o escoamento da sua produção. A soja chega ao exterior a partir do rio Madeira, com 910 Km de navegabilidade ajustada. Barcaças de 3 200 toneladas são rastreadas por satélites e orientadas por sonares. O calado é de cinco metros. Na secular hidrovia do Mississipi, o calado é de somente três metros e a carga não pode passar de 1 100 toneladas por barcaça.



Um dos fatores que garante a navegabilidade do rio Madeira é:

- todos os afluentes à direita do rio Amazonas são navegáveis.
- sua profundidade varia somente entre a estação chuvosa e seca.
- possuir um grande número de eclusas ao longo do trajeto.
- ser ligado por canais artificiais que garantem o volume de água.
- não apresentar corredeiras porque não tem pedras no seu leito.

15. No mapa da questão nº 14, aparece um trecho da rodovia BR-364 atravessando o estado de Rondônia e a imagem retrata basicamente um dos objetivos da rodovia: escoamento da produção de grãos do Centro-Oeste. Quanto ao outro propósito desta rodovia, que vai interferir na economia do estado é:

- permitir o acesso mais rápido aos portos do Pacífico.
- acelerar o intercâmbio comercial com o Peru e a Bolívia.
- tornar o estado um elo entre o Brasil e o Pacto Andino.
- explorar o potencial turístico existente ao redor da rodovia.
- agilizar as operações que envolvem a extração da madeira.

16. É possível detectar algumas fases bem definidas na história da ocupação humana na Amazônia Brasileira. Após um longo período pré-histórico, que se desenvolveu por alguns milênios – envolvendo grupos étnicos e linguísticos vindos por rotas complexas – sucederam-se três modelos históricos de apropriação e utilização dos espaços regionais. Em relação ao estado de Rondônia, a sequência correta é:

- extração de madeiras nobres / extração da borracha / garimpos em floramentos cristalinos e extração de diamantes.
- exploração do ouro e diamantes / extração de madeiras / implantação de núcleos de povoamento.
- exploração de pedras preciosas / extração da borracha / implantação de núcleos de colonização.
- coleta de drogas do sertão / exploração de ouro e diamantes / abertura de rodovias de penetração.
- exploração do ouro e diamantes / extração da borracha / implantação de agrovilas ao longo das rodovias de penetração.

17. Muitos consideram a Estrada de Ferro Madeira-Mamoré como precursora da rodovia BR-364. O início da sua construção está vinculado ao Tratado de Petrópolis que resolveu as disputas territoriais entre o Brasil e a Bolívia, ficando a construção da ferrovia como contrapartida para concretizar uma aspiração boliviana no que diz respeito ao problema de:

- realizar a ligação ao Pacífico.
- integração ao Centro-Oeste.
- acessibilidade ao rio Amazonas.
- escoamento de sua produção mineral.
- ocupar a fronteira com o Peru.

18. O início da exploração da borracha amazônica foi próspero, mas a bonança durou pouco. Em 1912, a produção atingia o pico de 42 mil toneladas. A borracha representava 40% de todas as exportações nacionais. Em um segundo momento, entre 1942 e 1945, a borracha teve uma sobrevida que não foi com a mesma pujança do início do século, e logo voltou a perder em expressão no cenário econômico nacional. Nas duas fases mais expressivas da produção, um fator apontado abaixo pode ser considerado como responsável pelo declínio da borracha brasileira:

- falta de crédito à extração e ao beneficiamento do látex.
- precariedade da mão de obra usada pelos seringueiros.
- dificuldade para escoar a produção até o porto de Belém.
- concorrência da borracha produzida pelos asiáticos.
- população indígena dificultava o acesso aos seringais.


19. Porto Velho nasceu em 1907, como “porto velho dos militares”, referência a uma guarnição que acampara no local em uma das guerras que ocorreram durante a segunda metade do século XIX, entre as nações do continente. Mais tarde, a região passou a ser usada para descarregar material para construção da estrada de ferro Madeira-Mamoré. O conflito continental a que o texto faz referência foi:

- Guerra do Pacífico.
- Guerra do Paraguai.
- Guerra do Chaco.
- Guerra da Cisplatina.
- Guerra dos Farrapos.

20. Consideradas como as duas maiores obras do governo Lula, as hidrelétricas de Santo Antônio e Jirau devem consumir até R\$ 28 bilhões em investimentos para gerar, a partir de 2013, 6 450 MW de energia e tentar tirar o país da rota de um novo apagão. Apesar de toda euforia provocada pela construção das obras e, os possíveis benefícios que elas irão trazer, a consequência social mais provável que irá afetar parte da população pode ser assinalada em:


- A) desaparecimento por completo da pesca.
- B) fim do garimpo que ainda atrai aventureiros.
- C) remoção de famílias que vivem na beira do rio.
- D) extinção dos pastos que atendem à pecuária.
- E) lagos das usinas vão afetar o setor madeireiro.

- Noções de Informática

21. Sobre a área de Notificação do Windows XP exibida abaixo, ao clicar sobre a imagem :



- A) é acionada a aplicação associada a esta imagem.
- B) é exibida a tela "Propriedades de Data e hora".
- C) é ativado o editor de imagens Paint, da Microsoft.
- D) o computador é desligado.
- E) os ícones ocultos são exibidos.

22. Na barra de ferramentas "Desenho" do Microsoft Office Word 2003, o ícone  insere no documento:

- A) uma imagem.
- B) uma caixa de texto.
- C) um diagrama.
- D) um clip-art.
- E) um fluxograma.

23. No Microsoft Office Word 2003, a combinação de teclas do teclado que centraliza o parágrafo é:


- A) CTRL+E
- B) CTRL+C
- C) CTRL+J
- D) SHIFT+F2
- E) F4

24. O Microsoft Office Excel 2003, ao clicar na função "Limpar Conteúdo", quando uma determinada célula estiver selecionada, limpará na célula selecionada:

- A) a formatação da borda.
- B) a fonte.
- C) a fórmula, caso a célula possua uma associada.
- D) a cor de fundo.
- E) o tamanho da fonte.

25. O ícone do Microsoft Office Excel 2003 que permite criar a aparência abaixo para "Edital Concurso DER-RO 2010" é:

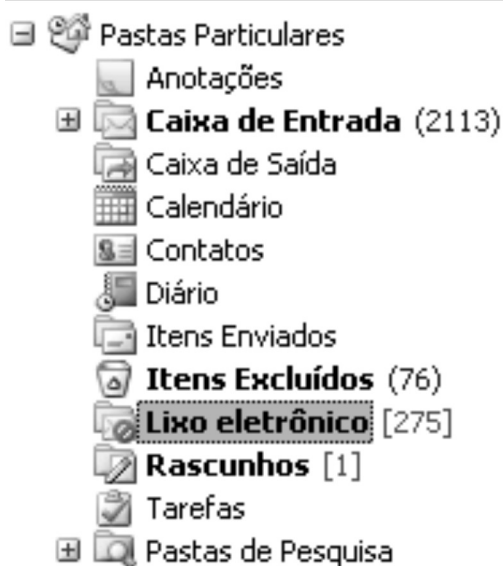
	A	B	C	D
1				
2		Edital Concurso DER-RO 2010		
3				
4				
5				



26. Considere a situação em que um determinado indivíduo deseje receber uma lista de atualizações de sites escolhidos por ele próprio, no momento em que elas ocorrerem como, por exemplo, sites de notícias, sites de previsão do tempo e informações econômicas e blogs. A tecnologia da internet que atende a essa necessidade chama-se:

- A) RSS.
- B) Pesquisa Avançada, do Google.
- C) Favoritos, do Windows Explorer.
- D) Wi-Fi.
- E) Twitter.

27. Sobre a organização de pastas do Microsoft Outlook exibida abaixo, é correto afirmar que a pasta:



- A) **Lixo eletrônico** possui 275 mensagens não lidas.
- B) **Contatos** contém mensagens enviadas pelos contatos cadastrados no correio eletrônico.
- C) **Caixa de Entrada** possui 2113 emails não lidos.
- D) Tarefas contém a relação de ações que devem ser tomadas para garantir que as mensagens sejam enviadas de forma correta e segura.
- E) **Lixo eletrônico** contém as mensagens que foram excluídas permanentemente do seu correio eletrônico.

28. No Microsoft Outlook, é correto afirmar que a função Excluir:

- A) apaga permanentemente uma mensagem.
- B) permite apagar pastas que contenham mensagens, mas antes de apagá-las, exibe mensagem solicitando confirmação.
- C) tem acesso restrito ao administrador do sistema.
- D) não permite apagar mensagens com arquivo anexado.
- E) não permite apagar mensagens contaminadas por vírus.

29. O endereço de uma página *web* é representado pela sigla:

- A) URL
- B) WWW
- C) HTTP
- D) MSN
- E) *Home Page*

30. Ao selecionar mais de um documento no Windows XP, é possível realizar diversas operações, EXCETO:

- A) criar atalho.
- B) recortar.
- C) copiar.
- D) excluir.
- E) mesclar os documentos selecionados, transformando-os em um único documento.

CONHECIMENTOS ESPECÍFICOS:

- Noções de Direito Administrativo

31. Sobre a responsabilidade civil do Estado, é correto afirmar que:

- A) o Estado não tem qualquer responsabilidade pelos danos que seus agentes, nessa qualidade, causarem ao particular.
- B) para que o lesado possa exercer seu direito à reparação dos prejuízos, é indispensável a comprovação de que o fato danoso se originou do mau funcionamento do serviço.
- C) para que o lesado possa exercer seu direito à reparação dos prejuízos, é indispensável a identificação do agente público causador do dano.
- D) somente as pessoas jurídicas de direito público respondem pelos danos que seus agentes, nessa qualidade, causarem a terceiros.
- E) as pessoas jurídicas de direito público e as de direito privado prestadoras de serviços públicos responderão pelos danos que seus agentes, nessa qualidade causarem a terceiros.

32. O controle administrativo é o poder de fiscalização e correção que a Administração Pública exerce sobre sua própria atuação, sendo correto afirmar sobre o tema que:

- A) o recurso administrativo somente é dotado do efeito devolutivo.
- B) nos recursos administrativos, por expressa determinação constitucional, é assegurada a ampla defesa e o contraditório.
- C) é vedado o pedido de reconsideração no âmbito da Administração Pública.
- D) o controle de legalidade do ato administrativo somente pode ser realizado pela Administração Pública.
- E) os atos praticados pela Administração somente se sujeitam a controle interno, isto é, realizado pela própria Administração.

33. Sobre descentralização e delegação de competência, assinale a alternativa correta.

- A) A delegação de competência é utilizada como instrumento de centralização administrativa.
- B) A delegação de competência deve ser utilizada com o objetivo de assegurar maior rapidez e objetividade às decisões, situando-as na proximidade dos fatos, pessoas ou problemas a atender.
- C) A descentralização implica a realização das atividades administrativas por intermédio dos inúmeros órgãos e agentes que compõem a estrutura funcional da Administração Direta.
- D) O ato de delegação é sempre genérico, e independe de indicação da autoridade delegante, da autoridade delegada e das atribuições objeto de delegação.
- E) Não é permitida a delegação de competência no âmbito da Administração Pública brasileira.

34. A retribuição pecuniária pelo exercício do cargo público é denominada:

- A) indenização.
- B) vencimento.
- C) adicional.
- D) empenho.
- E) gratificação.

35. O poder administrativo representa uma prerrogativa especial de direito público outorgada aos agentes do Estado. Sobre o tema, é correto afirmar que:

- A) é legítima a conduta do agente que se afasta do interesse público.
- B) os poderes administrativos são sempre renunciáveis.
- C) o uso do poder é a utilização normal, pelos agentes públicos, das prerrogativas que a lei lhes confere.
- D) não constitui abuso de poder a conduta do agente público fora dos limites de sua competência.
- E) abuso de poder é a conduta ilegítima, que guarda conformidade com o que dispõe a lei.

- Noções de Direito Constitucional

36. Acerca das regras constitucionais que tratam da Administração Pública é correto afirmar que:

- A) os acréscimos pecuniários percebidos por servidor público serão computados e acumulados para fins de concessão de acréscimos ulteriores.
- B) é vedada a contratação por tempo determinado, ainda que para atender a necessidade temporária de excepcional interesse público.
- C) os vencimentos dos cargos do Poder Legislativo e do Poder Judiciário poderão ser superiores aos pagos pelo Poder Executivo.
- D) é garantido ao servidor público civil o direito à livre associação sindical.
- E) são exercidos exclusivamente por servidores ocupantes de cargo efetivo as funções de confiança e os cargos em comissão.

37. Sobre o Poder Legislativo, assinale a alternativa correta.

- A) A Câmara dos Deputados compõe-se de representantes dos Estados, eleitos pelo sistema proporcional.
- B) O Poder Legislativo é exercido pelo Congresso Nacional, que se compõe da Câmara dos Deputados e do Senado Federal.
- C) O Senado Federal é integrado por representantes do povo, escolhidos de acordo com o sistema proporcional.
- D) Cada Senador será eleito com um suplente.
- E) As deliberações de cada Casa e de suas Comissões somente serão tomadas pela maioria absoluta de votos, presente a unanimidade de seus membros.

38. O Título IV, Capítulo II da Constituição Federal elenca regras sobre o Poder Executivo. Sobre o tema, é correto afirmar que:

- A) será considerado eleito Presidente o candidato que, registrado por partido político, obtiver a maioria absoluta de votos, não computados os em branco e os nulos.
- B) o Presidente e o Vice-Presidente da República tomarão posse em sessão na Câmara dos Deputados, prestando o compromisso de manter, defender e cumprir a Constituição.
- C) compete privativamente ao Presidente da República exercer, com o auxílio dos Deputados e Senadores, a direção superior da administração estadual.
- D) os Ministros de Estado serão escolhidos dentre brasileiros maiores de trinta e cinco anos e no exercício dos direitos políticos.
- E) a eleição do Presidente da República não importará a do Vice-Presidente com ele registrado.

39. O processo legislativo NÃO compreende a elaboração de:

- A) decretos legislativos.
- B) leis complementares.
- C) medidas provisórias.
- D) resoluções.
- E) alvarás.

40. A segurança pública, dever do Estado, direito e responsabilidade de todos, é exercida para a preservação da ordem pública e da incolumidade das pessoas e do patrimônio. Acerca do tema, assinale a alternativa correta.

- A) A polícia federal instituída por lei como órgão permanente, é organizada e mantida pelos Estados.
- B) As polícias militares e corpos de bombeiros militares subordinam-se ao Ministro da Defesa.
- C) Incumbem às polícias civis, ressalvada a competência da União, as funções de polícia judiciária e a apuração de infrações penais, exceto as militares.
- D) A polícia ferroviária federal, órgão permanente, organizado e mantido pela União e estruturado em carreira, destina-se, na forma da lei, ao patrulhamento ostensivo das rodovias federais.
- E) A polícia militar destina-se, dentre outras atribuições, a apurar infrações penais contra a ordem política e social ou em detrimento de bens, serviços e interesses da União ou de suas entidades autárquicas e empresas públicas.

- Conhecimentos na Área de Formação

41. Vamos supor um diagrama apresentando um equilíbrio de mercado dado pela interseção das curvas de demanda e de oferta de um produto **X**. No eixo vertical, deste diagrama está o preço do produto **X** e o eixo horizontal contém os valores da quantidade deste produto. Nesse sentido, leia as alternativas abaixo e marque a correta.

- A) Sendo a curva de demanda decrescente (ou seja, tem uma inclinação negativa), tudo o mais constante, e, ao mesmo tempo, sabendo-se que a demanda (ou procura) é a quantidade do produto **X** que os consumidores desejam comprar (desejam e tendem a consumir), podemos dizer que o produto **X** é um bem de Giffen.
- B) Como a oferta é a quantidade de **X** que os produtores desejam vender, e sendo esta curva de oferta com inclinação positiva, tudo o mais constante, o ingresso de empresas produtoras (e vendedoras) no mercado do produto **X** iria provocar uma queda do preço do produto deslocando esta curva de oferta para a esquerda.
- C) Sendo a curva de demanda decrescente e a curva de oferta crescente no mercado do produto **X** e sabendo-se que as empresas que constituem este mercado têm individualmente, as suas respectivas curvas de demanda paralelas ao eixo das quantidades, assim, o mercado de **X** é de concorrência perfeita.
- D) Tudo o mais constante, sendo o produto **X** um bem de consumo inferior, um aumento da renda média dos consumidores provocaria um deslocamento para a direita da curva de demanda deste mercado, fazendo com que houvesse o aumento do preço deste produto, caracterizando-se, assim, uma elasticidade renda da demanda positiva.
- E) Tudo o mais constante, suponha um produto **Y** substituto ao produto **X**. A diminuição do preço de **Y** provocará um deslocamento positivo (para a direita) da curva de demanda por **X**, levando a um aumento do preço de **X** e mostrando que, assim, a elasticidade-preço cruzada da demanda tem um resultado maior do que zero.

42. Suponha um gráfico dado por uma curva de indiferença sendo tangenciada num determinado ponto **E** por uma linha de restrição orçamentária. No gráfico, considere nas abscissas, quantidades de (tipos de) verduras e, nas ordenadas, quantidades de (tipos de) frutas. Por conseguinte, o ponto **E** representa uma cesta que tem diferentes quantidades de (tipos de) verduras e de (tipos de) frutas. Nesse sentido, sejam as seguintes informações abaixo para um determinado consumidor hipotético.

- I. Tendo-se além desse ponto **E** mais dois pontos **H** e **G**, ao longo dessa mesma curva de indiferença, mas que estes dois últimos pontos não são tangenciados pela linha da restrição orçamentária, e que podemos defini-los também como sendo cestas de mercadorias, o consumidor é indiferente ao consumir tanto as cestas **H** e **G**, quanto a cesta **E**, pois todas essas cestas estão dentro da sua restrição orçamentária.
- II. Suponha um efeito renda (negativo), obtido através do aumento dos preços das verduras e (também) das frutas. O poder aquisitivo do consumidor diminui, e a quantidade demandada deve cair pelos dois (tipos de) produtos, sendo eles bens de consumo normal. Para isso, a linha da restrição orçamentária irá se deslocar mais para a direita, tangenciando uma nova curva de indiferença e fazendo com que o equilíbrio do consumidor (ponto **E**) fique mais afastado da origem dos eixos das coordenadas das verduras e das frutas.
- III. Havendo um aumento do preço das frutas, mas ocorrendo uma queda do preço das verduras (supondo nas mesmas proporções percentuais), isso faz ocorrer um efeito substituição de frutas por verduras, e a posição da linha da restrição orçamentária (bem como a posição do ponto **E**) tende a ficar mais para a horizontal com referência ao eixo das abscissas. Isso demonstra que as verduras ficaram mais baratas que as frutas. O consumidor, então, em relação à limitação do seu orçamento, acaba diminuindo a sua demanda por frutas e tendendo a comprar mais verduras.
- IV. Estando o consumidor equilibrado com a cesta **E**, este consumidor maximiza a sua satisfação escolhendo esta cesta que contém uma determinada quantidade de (tipos de) verduras e de (tipos de) frutas. Isso demonstra que a inclinação da linha do orçamento do consumidor é igual à inclinação da curva de indiferença, e que a renda do consumidor está sendo alocada de forma a equalizar a razão entre as utilidades marginais (das verduras e das frutas) com a razão entre os seus respectivos preços.

Em função dessas proposições acima, é correto afirmar que:

- A) I e II são verdadeiras e III e IV são falsas.
- B) I e III são verdadeiras e II e IV são falsas.
- C) III e IV são verdadeiras e I e II são falsas.
- D) II é verdadeira e I, III e IV são falsas.
- E) IV é verdadeira e I, II e III são falsas.

43. Leia, atentamente, as informações abaixo que se referem às teorias da produção e de custo de produção a curto e longo prazos e marque a opção correta.

- I. Em curto prazo, na teoria da produção, a lei dos rendimentos decrescentes enuncia que ao aumentar o fator variável, sendo dada a quantidade de um fator fixo, a produtividade marginal do fator variável cresce até certo ponto e, a partir daí, decresce, até tornar-se negativa.
 - II. Pela análise da teoria da produção a longo prazo, se todos os fatores de produção crescerem numa mesma proporção e a produção cresce numa proporção maior do que a destes fatores de produção, tem-se o que chamamos de rendimentos crescentes de escala.
 - III. Pela análise da teoria dos custos de produção em microeconomia, um aumento da produção a curto prazo de uma firma sempre diminuirá, neste contexto de tempo, o seu custo fixo médio e manterá constante o valor do custo variável médio.
 - IV. Quando são relacionadas em um diagrama as curvas de custos médios (fixos e variáveis) e marginal a longo prazo, observa-se que os custos fixos são proporcionais aos custos variáveis e o custo marginal corta o custo médio no ponto de máximo deste custo médio.
- A) I e III são verdadeiras e II e IV são falsas.
B) I e II são verdadeiras e III e IV são falsas.
C) II e IV são verdadeiras e I e III são falsas.
D) I é falsa e II, III e IV são verdadeiras.
E) II é falsa e I, III e IV são verdadeiras.

44. Vamos supor uma empresa em concorrência perfeita na comercialização de um dado produto X em um determinado mercado de uma região, onde se tem as seguintes informações a respeito dessa empresa em curto prazo:

> função do custo total: $CT = 2 + 4Q + 6Q^2$
> valor do preço (unitário) do produto X: $P = \$ 40,00$

Sabendo-se que para obter a função custo marginal deve-se fazer a derivada primeira da função custo total, o resultado da quantidade (Q) do produto X que maximiza o lucro total, o valor da receita média (RMe) e o valor desse lucro total (LT) são, respectivamente:

- A) $Q = 3$, $RMe = \$ 40$, $LT = \$ 52$.
B) $Q = 4$, $RMe = \$ 40$, $LT = \$ 25$.
C) $Q = 4$, $RMe = \$ 50$, $LT = \$ 52$.
D) $Q = 3$, $RMe = \$ 50$, $LT = \$ 52$.
E) $Q = 4$, $RMe = \$ 50$, $LT = \$ 25$.

45. No que se refere a informações sobre os mercados competitivos e não competitivos, por meio de uma análise microeconômica, abaixo temos alternativas sobre tais mercados. Marque a opção que NÃO condiz com as reais características da estrutura em questão.

- A) A concorrência monopolista aparece pouco no mercado brasileiro. Porém, temos como exemplos desta estrutura, o serviço de fornecimento de gás, de água e alguns serviços públicos, cujo poder do produtor, então, é normalmente limitado, na prática, pela regulação do governo.
- B) O oligopólio aparece quando existem poucos produtores de uma matéria-prima ou de mercadorias similares. Também inclui muitos produtos manufaturados, tais como veículos motorizados e detergentes, assim como os serviços de companhias aéreas e de telecomunicações.
- C) O oligopólio é um mercado no qual a maior parte das vendas é realizada por poucas empresas, sendo que cada uma delas é capaz de influenciar o preço de mercado com suas próprias atividades, e que tais empresas têm consciência de sua interdependência estratégica.
- D) O oligopólio colusivo que consegue atuar como tal, maximiza seus lucros conjuntos e pratica um nível de produção e preço monopolista, obtendo, também, o lucro de um monopólio. O grupo de empresas que atua desse modo, ou seja, como oligopólio colusivo, é conhecido como sendo cartel.
- E) Nos mercados de concorrência monopolista, a heterogeneidade ou a diferenciação entre os bens e serviços oferecidos está na raiz de situações não competitivas. Neste sentido, diz-se que a concorrência monopolista é a estrutura de mercado em que muitas empresas vendem produtos similares, mas não idênticos.

46. Assinale a opção que se refere corretamente à elasticidade-preço da demanda.

- A) Segundo a teoria microeconômica, a elasticidade-preço da demanda mede o grau em que a quantidade demandada responde a uma variação de preço, mantendo-se constantes todos os demais fatores que afetam a quantidade demandada.
- B) Quando existem bens substitutos próximos, estes bens tendem a apresentar uma demanda mais inelástica do que os (bens) que não o são, pois diante de uma alta no preço, os consumidores são mais sensíveis a esta alta no preço.
- C) No caso dos bens de luxo, estes costumam apresentar uma demanda bastante inelástica, pois os consumidores podem abster-se de comprá-los quando os preços sobem. Em módulo, o resultado da elasticidade-preço da demanda para estes bens é maior que 1.
- D) A elasticidade-preço da demanda será permanentemente inelástica quando a inclinação da curva de demanda for infinita. Melhor dizendo, o resultado em módulo da elasticidade-preço é igual a infinito, demonstrando que os consumidores comprarão em qualquer quantidade.
- E) Se o resultado em módulo, da elasticidade-preço da demanda é menor do que 1, diz-se que a demanda por determinado produto é elástica. Tal situação geralmente ocorre quando o bem tem uma situação considerável no orçamento do consumidor.

47. A macroeconomia tem interesse inegável para todos os indivíduos e sociedades, uma vez que as questões macroeconômicas fundamentais visam, em última instância, influenciar o bem-estar em um país no qual todos estão inseridos. Neste sentido, abaixo há uma opção que NÃO condiz com as características de um ambiente macroeconômico. Assinale tal opção.

- A) A macroeconomia apresenta uma visão simplificada da realidade para, assim, explicar a conduta dos agentes econômicos e a evolução das variáveis agregadas em um determinado país.
- B) Na macroeconomia são elaborados modelos que pretendem ilustrar o funcionamento da economia em suas individualidades (famílias e empresas) através da formação dos preços em um mercado específico.
- C) Na macroeconomia, os distintos bens e serviços, assim como os mercados são agregados até serem reduzidos a um só bem genérico, que representa o conjunto de todos os produtos produzidos em um país.
- D) Pelo ramo da macroeconomia, são estudadas as variáveis econômicas agregadas, como a produção da economia em seu conjunto, denominada produção agregada, ou mesmo o nível geral de preços.
- E) Pelo ramo da macroeconomia, verifica-se que há o estudo do funcionamento da economia em seu conjunto, permitindo conhecer o nível da atividade econômica de um determinado país e atuar sobre ele.

48. A política macroeconômica é o conjunto de medidas do governo que tentam influenciar o andamento da economia de um país. Neste sentido, dentre os objetivos-chave desta política, podemos constatar, marcando a alternativa correta.

- A) A elevação do nível de emprego, a estabilidade do nível de preços e a satisfação do consumidor.
- B) O controle do déficit público, o controle do déficit externo e a maximização da receita das empresas.
- C) O crescimento do produto interno bruto, a estabilidade do nível de preços e o nível de emprego elevado.
- D) A elevação do nível de emprego, o controle do déficit externo e a maximização do lucro das empresas.
- E) A satisfação do consumidor, a maximização da receita das empresas e o crescimento do produto interno bruto.

49. A contabilidade nacional ou contabilidade social mede a atividade de uma economia ao longo de um período de tempo (geralmente de um ano). Na verdade, registra as transações realizadas entre os diferentes agentes que fazem parte desta economia. Nesse sentido, suponha a tabela abaixo que apresenta as contas nacionais de um determinado país Y.

Contas (Nacionais) do País Y	Valores (em \$ bilhões)
Produto Interno Bruto a preços de mercado (PIBpm)	8.000,00
Renda Recebida do Exterior (RRdE)	200,00
Depreciação (D)	400,00
Impostos Indiretos (II)	800,00
Renda Enviada para o Exterior (REpE)	400,00
Subsídios (Sub)	400,00

Assim, o valor do produto nacional líquido a custo de fatores PNLcf é, em \$ bilhões:

- A) 8.000,00
- B) 7.800,00
- C) 8.700,00
- D) 7.400,00
- E) 7.000,00

50. Vamos supor que o governo brasileiro está com uma situação de déficit no resultado das suas contas públicas. Sabendo-se que, além das medidas tradicionais que o governo pode utilizar em relação a uma política fiscal, esta entidade também tem como financiar este déficit através dos chamados recursos extrafiscais.

Uma das medidas abaixo, então, caracteriza-se como sendo uma das fontes destes recursos para que tal financiamento possa ser realizado e, ao mesmo tempo, mostra qual a devida consequência que a mesma medida pode trazer para a economia do país. Identifique-a.

- A) Aumentar os impostos com a finalidade de ampliar a base de arrecadação do governo, mas gera-se uma recessão ao realizar tal procedimento.
- B) Monetizar a dívida, significando que o Banco Central diminui a base monetária, mas financia a dívida do Tesouro, porém gera-se, conseqüentemente, uma elevação da dívida pública.
- C) Diminuir os gastos públicos com o objetivo de reduzir o endividamento público, mas, conseqüentemente, há uma queda da capacidade do governo em gerar investimentos.
- D) Vender títulos da dívida pública ao setor privado (interno e externo), entretanto, isto provocaria uma pressão inflacionária na economia do país.
- E) Emitir moeda, onde o Tesouro Nacional pede emprestado ao Banco Central, porém gera-se, com tal medida, o imposto inflacionário.

51. Suponha dois gráficos um do lado do outro. No primeiro gráfico, há a interseção da curva de demanda agregada no trecho crescente ou intermediário da curva de oferta agregada; e, no segundo gráfico, há uma curva de Phillips. Neste sentido, em função das informações abaixo, assinale a opção correta.

- I. Uma política expansionista, fiscal ou monetária, desloca a curva de demanda agregada para a direita, fazendo a produção aumentar no curto prazo e a taxa de desemprego cair abaixo da taxa natural, o que nos termos da curva de Phillips, seria representado, no curto prazo, por um movimento ascendente ao longo desta curva (de Phillips).
 - II. No longo prazo, uma política expansionista, fiscal ou monetária, acaba gerando uma aceleração das tensões inflacionárias e desloca a curva de Phillips para a direita, ou seja, isto acaba gerando um aumento da inflação antecipada e desloca a curva de oferta agregada para a esquerda, até que a produção e o desemprego possam retomar o seu nível natural.
 - III. Entre o curto e o longo prazo, uma política monetária, por meio da expansão da moeda, desloca a curva de demanda agregada para a esquerda, diminuindo a produção (que terá um nível inferior do início deste processo) e, ao mesmo tempo, fará com que haja um movimento ascendente ao longo da curva de Phillips onde a taxa de desemprego irá cair abaixo da taxa natural.
 - IV. Uma expansão monetária no longo prazo, persistindo neste período em uma economia, fará com que haja uma queda da inflação. Tal cenário desloca a curva de Phillips para cima e diminui a inflação antecipada. A diminuição da inflação antecipada irá deslocar a curva de oferta agregada para a direita, o que fará com que os preços voltem a cair, assim como os saldos reais também possam cair.
- A) I e II são falsas e III e IV são verdadeiras.
 B) I e III são falsas e II e IV são verdadeiras.
 C) II e III são falsas e I e IV são verdadeiras.
 D) III e IV são falsas e I e II são verdadeiras.
 E) II e IV são falsas e I e III são verdadeiras.

52. Vamos supor o modelo IS/LM/BP de macroeconomia aberta. A tabela abaixo contém informações que estão inseridas neste modelo e dizem respeito ao grau de eficácia das políticas econômicas.

Alternativas	Mobilidade de Capitais	Regimes Cambiais			
		Câmbio Fixo		Câmbio Flexível	
		Política Monetária	Política Fiscal	Política Monetária	Política Fiscal
I	Sem	Forte	Nula	Nula	Forte
II	(com) Fraca	Forte	Fraca	Fraca	Forte
III	(com) Forte	Nula	Forte	Forte	Fraca
IV	(com) Perfeita	Nula	Forte	Forte	Nula

De acordo com a tabela, assinale a opção correta em função das colocações apresentadas pelas alternativas acima.

- A) I e II são verdadeiras e III e IV são falsas.
 B) I e III são verdadeiras e II e IV são falsas.
 C) I e IV são verdadeiras e II e III são falsas.
 D) III e IV são verdadeiras e I e II são falsas.
 E) II e IV são verdadeiras e I e III são falsas.

53. Uma desvalorização, isto é, uma alteração para cima da taxa de câmbio oficial, torna os produtos nacionais:

- A) mais caros para os importadores estrangeiros, o que provoca uma diminuição das exportações nacionais.
- B) mais caros e, paralelamente, os produtos estrangeiros ficam mais baratos para os importadores nacionais.
- C) com um valor igual ao dos importados do exterior, o que tende a provocar um equilíbrio do saldo da balança comercial.
- D) mais baratos que, em termos reais, fará com que aumente o saldo do componente (X – M) da demanda agregada.
- E) mais baratos para os importadores estrangeiros e que, a curto prazo, irá diminuir a renda real da economia.

54. Os países em desenvolvimento caracterizam-se por um conjunto de insuficiências, quando comparados com as economias que podemos considerar desenvolvidas. Neste sentido, como o desenvolvimento compreende muitos aspectos, o grau de desenvolvimento deve ser medido por um amplo conjunto de indicadores, entre os quais destacamos, EXCETO:

- A) baixa renda *per capita*.
- B) baixos índices de analfabetismo.
- C) frágil estrutura sanitária.
- D) baixa taxa de poupança por habitante.
- E) frágil estrutura produtiva e tecnológica.

55. Leia e analise as seguintes proposições abaixo que se referem ao lado e ao mercado monetário.

- I. Dentre os motivos pelos quais há a demanda por moeda, os monetaristas destacam, por exemplo, o motivo transação, pois para eles as pessoas demandam moeda fundamentalmente porque querem comprar produtos em um futuro imediato.
- II. Os defensores da teoria quantitativa da moeda, entre os quais cabe destacar os monetaristas, que argumentam que a variação percentual dos preços é determinada pelo excesso da variação da oferta monetária nominal em relação à variação da produção.
- III. Ao analisar a equação quantitativa da moeda, os clássicos supunham que, como a economia estava no pleno emprego a curto prazo, a velocidade de circulação era constante e que o crescimento da produção real era exógeno, pois era determinado pelo aumento dos fatores de produção e da tecnologia.
- IV. A equação quantitativa da moeda também pode ser utilizada para explicitar ainda mais a capacidade do Banco Central de utilizar a política monetária para controlar o crescimento e o processo inflacionário no país. Neste sentido, por exemplo, se o objetivo principal da política monetária é estabilizar os preços, a implementação desta política pode ser a de diminuir as taxas de juros.

- A) I e II são verdadeiras e III e IV são falsas.
 B) I, II e IV são verdadeiras e III é falsa.
 C) III e IV são verdadeiras e I e II são falsas.
 D) I, II e III são verdadeiras e IV é falsa.
 E) II, III e IV são verdadeiras e I é falsa.

56. Ao lado de diversos outros países, o Brasil tem participação significativa em várias instituições internacionais. De uma maneira geral, estas instituições têm como objetivos gerar financiamento a longo prazo, realizar empréstimos, regular o fluxo do comércio exterior etc. Porém, dentre tais instituições, há uma que funciona como sendo um organismo que, dentre as suas finalidades, no curto prazo, socorre seus países-membros para que estes possam superar os seus problemas derivados de desequilíbrios nos seus balanços de pagamentos e evitar a instabilidade cambial. Este organismo internacional a que o enunciado se refere é:

- A) Corporação Financeira Internacional – CFI.
- B) Organização das Nações Unidas – ONU.
- C) Organização Mundial do Comércio – OMC.
- D) Banco Internacional para Reconstrução e Desenvolvimento – BIRD.
- E) Fundo Monetário Internacional – FMI.

57. De um modo geral, no cotidiano da vida dos brasileiros, uma certa parte dos impostos relaciona-se ao nível da renda. Neste sentido, há uma categoria destes impostos que produz uma receita pautada em um dado percentual da renda. De modo genérico, pode-se dizer que tal categoria de impostos, com dada alíquota t (supondo-a constante), gera um total de impostos sendo $t \times Y$, sendo Y a renda nacional (isto é, a renda das pessoas). Estes impostos então geram uma renda disponível para estas pessoas no formato $Y - tY = (1 - t)Y$, onde R\$ 1,00 de renda nacional ocasiona aumento da renda disponível de $(1 - t)$ reais. Neste sentido, tais impostos podem ser caracterizados como sendo:

- A) proporcionais e diretos.
- B) regressivos e diretos.
- C) progressivos e indiretos.
- D) progressivos e diretos.
- E) proporcionais e indiretos.

58. Na economia brasileira, no ano de 2002, o processo de transição política embutia uma série de dúvidas quanto à manutenção da política econômica nos moldes que vinham sendo seguidos até então. As saídas de dólares do país e o estrangulamento do financiamento externo de várias operações levou a cotação da moeda norte-americana a patamares cada vez mais elevados, chegando a R\$ 4,00 em alguns momentos no segundo semestre de 2002. Em função disso, o Banco Central (BC) realizou:

- A) várias intervenções no mercado de câmbio brasileiro, vendendo dólares para tentar evitar as diversas depreciações do real frente as outras moedas estrangeiras.
- B) diversas intervenções no câmbio brasileiro, com o objetivo de alinhar as preocupações dos efeitos da apreciação da moeda nacional sobre os preços dos produtos comercializáveis no exterior.
- C) diferentes intervenções no mercado de câmbio brasileiro, comprando dólares para tentar conter a evolução do processo inflacionário crescente no país.
- D) várias interferências no câmbio brasileiro, pois a moeda nacional estava depreciada, deixando, em função de tal depreciação, um saldo negativo no comércio internacional brasileiro.
- E) diversas interferências no câmbio brasileiro, comprando dólares para tentar evitar a redução das reservas internacionais, dada a grande dívida internacional que o país tinha.

59. A partir de 1999, o esforço fiscal se materializou e o setor público brasileiro passou a registrar superávits consideráveis. Podemos dizer que estes resultados foram, em grande medida, originados a partir da implementação do Programa de Estabilidade Fiscal, em 1998. Do ponto de vista estratégico, grande parte desse programa se centrava, dentre outras iniciativas:

- I. na elevação da arrecadação federal e nos aumentos das contribuições previdenciárias.
- II. particularmente, no programa que previa a prorrogação e a elevação da alíquota da Contribuição Provisória sobre a Movimentação Financeira – CPMF.
- III. na queda significativa dos gastos públicos nesse período, fazendo com que a dívida pública ficasse em torno de 32% do PIB.
- IV. por causa da equalização do tratamento tributário, bem como da alíquota da Contribuição para Financiamento da Seguridade Social – COFINS.

Em função das considerações acima, assinale a alternativa correta.

- A) I, II e III são verdadeiras e IV é falsa.
- B) I, II e IV são verdadeiras e III é falsa.
- C) I e II são verdadeiras e III e IV são falsas.
- D) II e III são verdadeiras e I e IV são falsas.
- E) III e IV são verdadeiras e I e II são falsas.

60. No Brasil, segundo a Resolução nº 2.828 do Conselho Monetário Nacional – CMN, as agências de fomento têm como objeto social a concessão de financiamento de capital fixo e de giro associada a projetos na Unidade da Federação onde tenham sede. Neste sentido, dadas as alternativas abaixo, marque a que condiz, corretamente, com uma das características de uma Agência de Fomento em função desta resolução.

- A) Devem ser constituídas sob a forma de sociedade anônima de capital fechado e estar sob o controle de Unidade da Federação, sendo que cada Unidade só pode constituir uma agência.
- B) Tais entidades têm status de instituição financeira, e, por isso, podem captar recursos junto à iniciativa privada, bem como junto à iniciativa pública.
- C) Estas agências podem recorrer ao redesconto, assim como podem ter conta de reserva no Banco Central, e contratar depósitos interfinanceiros.
- D) Na qualidade de depositantes ou de depositárias no Banco Central, têm participação societária em outras instituições financeiras.
- E) Dadas as suas funções, para tais entidades são permitidas suas transformações em qualquer outro tipo de instituição integrante do Sistema Financeiro Nacional.