

Português

TEXTO 1

Trabalhar é criar vida!

O ser humano trabalha quando cria a vida ou melhora as condições de vida. O trabalho transforma a natureza para obter sustento e bem-estar, criando entre as pessoas as relações sociais que marcam o cotidiano. No entanto, às vezes o trabalho é algo penoso, forçado, um esforço obrigatório, pouco reconfortante. Isso pode ser percebido na origem da palavra trabalho, que vem do latim *tripallium*, o nome de um instrumento com o qual se castigavam os escravos no tempo do Império Romano. Trabalhador também se chama operário, que vem de *opera* em latim, isto é, obra. Nada mais emocionante do que parar para ver um trabalhador em atividade. É a dignidade do trabalho que transforma e dá mais valia às coisas da natureza, enobrecendo e dignificando a própria pessoa que trabalha. Isso se refere a todo tipo de trabalho.

01. O tema central do texto é:

- a) Os empregos.
- b) Trabalho e dignidade.
- c) Trabalho e sofrimento.
- d) O trabalho no tempo do Império Romano.
- e) O ser humano.

02. Quando o autor diz: “às vezes o trabalho é algo penoso, forçado, um esforço obrigatório, pouco reconfortante”, ele quer que se entenda que:

- a) O trabalho é algo ruim.
- b) Trabalhar é sempre penoso.
- c) Nem sempre o trabalho se refere a bons momentos.
- d) As pessoas trabalham porque são forçadas e obrigadas.
- e) O homem só encontra conforto se trabalhar.

03. No texto, ‘enobrecendo’ é o mesmo que:

- a) Ficando rico
- b) Esforçando
- c) Esclarecendo
- d) Engrandecendo
- e) Agradecendo

04. Qual é a única das palavras abaixo em que o encontro consonantal se separa?

- a) Dignidade
- b) Trabalho
- c) Obra
- d) Chamar
- e) Melhorar

05. Em qual das alternativas a sílaba tônica está corretamente sublinhada?

- a) nobel- tranquilo- náufrago
- b) ruim- réptil- juiz
- c) cateter- chapéu- estereutipos
- d) rubrica- meteorito- álibi
- e) árduo- mágoa – poeta

TEXTO 2



06. Que frase seria adequada à imagem acima?

- a) A corrupção no Senado é algo muito engraçado.
- b) O senado brasileiro sofre com os assaltos constantes em suas redondezas.
- c) Os casos de corrupção no Senado estão sendo divulgados diariamente pela imprensa.
- d) Os prédios do governo brasileiro precisam de reformas urgentes.
- e) Os ladrões estão invadindo até os prédios públicos para assaltar.

TEXTO 3

*Nas ondas da praia
Nas ondas do mar
Quero ser feliz
Quero me afogar.*

*Nas ondas da praia
Quem vem me beijar?
Quero a estrela-d'alva
Rainha do mar.*

*Quero ser feliz
Nas ondas do mar
Quero esquecer tudo
Quero descansar.*

(Estrela da Manhã)

07. A palavra que pode definir o poema acima é:

- a) Ambição
- b) Desejo
- c) Litoral
- d) Fazenda
- e) Beijo

08. No poema o eu lírico revela:

- a) Alegria
- b) Felicidade
- c) Medo
- d) Dor
- e) Insatisfação

09. Em qual das frases a concordância foi feita de maneira INCORRETA?

- a) Gritava o pai, a mãe e as crianças.
- b) O pessoal gostou muito do passeio.
- c) O garoto e a amiga são crianças aplicadas.
- d) Você acredita na dança da chuva?
- e) Os Estados Unidos é maior do que o Brasil.

10. Só em uma das frases abaixo o tempo verbal está empregado INCORRETAMENTE. Assinale-a:

- a) O poeta queria descanso.
- b) É possível que o poeta procurasse uma praia deserta.
- c) Todos um dia quererão fugir dos problemas.
- d) Quando viver tudo que o poeta viveu você se afligiria igualmente.
- e) Algum dia podereis viver na simplicidade.

Matemática

11. Pedro comprou US\$ 1000,00 dólares a uma taxa de 1,80 reais por dólar para levar para sua viagem de férias ao exterior. Como não utilizou este dinheiro na viagem, ao retornar ele o vendeu a uma taxa de 1,90 reais por dólar. Neste caso, Pedro:

- a) Perdeu R\$ 100,00
- b) Ganhou R\$ 80,00
- c) Ganhou R\$ 180,00
- d) Perdeu R\$ 180,00
- e) Ganhou R\$ 100,00

12. Um ciclista partiu do ponto A e pedalou 4 km para o sul. Depois pedalou 9 km para o oeste, e depois mais 4 km para o norte, chegando ao ponto B. Calcule a distância entre os pontos A e B.

- a) 12 km
- b) 10 km
- c) 9 km
- d) 8 km
- e) 4 km

13. Um comerciante comprou vários pares de sapatos iguais de uma indústria. Pagou no total, R\$ 926,00. Neste valor, estão incluídos o frete de R\$ 12,00 e uma taxa de desembarque da mercadoria, paga ao entregador, no valor de R\$ 4,00. Sabendo-se que foram comprados 25 pares de sapatos, o valor de cada par foi de:

- a) R\$ 36,40
- b) R\$ 36,56
- c) R\$ 36,80
- d) R\$ 37,20
- e) R\$ 38,60

14. Na Loja do Povo uma bicicleta pode ser vendida de duas maneiras: à vista por R\$ 518,00 ou em 12 parcelas de R\$ 53,30 cada. Paula e Maria compraram bicicletas nessa loja: Paula pagou à vista e Maria, a prazo. Que quantia Maria pagou a mais que Paula?

- a) R\$ 118,60
- b) R\$ 119,20

- c) R\$ 120,16
- d) R\$ 121,60
- e) R\$ 122,60

15. Certo dia, um carteiro gastou 4200 segundos para entregar as correspondências de um determinado bairro. Sabe-se que essa atividade teve início às 8 horas da manhã, sendo executada sem descanso. A que horas o carteiro finalizou a entrega das correspondências?

- a) 9 horas
- b) 9 horas e 5 minutos
- c) 9 horas e 10 minutos
- d) 9 horas e 40 minutos
- e) 9 horas e 46 minutos

16. Caio possui 15 cédulas de R\$ 10,00, 22 cédulas de R\$ 5,00, 24 moedas de R\$ 0,50 e uma quantidade X de moedas de R\$ 0,25, totalizando um montante de R\$ 300,00. Calcule a quantidade X de moedas de R\$ 0,25 existente no montante de Caio.

- a) 56
- b) 64
- c) 86
- d) 112
- e) 124

17. Um comerciante comprou 300 cadernos ao preço unitário de R\$ 3,00. Vendeu 30 do total a R\$ 4,00 cada e o restante a R\$ 3,50 cada. Qual foi o lucro do comerciante?

- a) R\$ 166,00
- b) R\$ 165,00
- c) R\$ 160,00
- d) R\$ 155,00
- e) R\$ 175,00

18. O terreno do Sr. José possui a forma de um quadrado. Calcule quantos metros de arame serão necessários para cercar o terreno, sabendo que possui 36 m de lado e deseja-se dar 6 voltas com o arame.

- a) 360m
- b) 446m
- c) 672m
- d) 864 m
- e) 932m

19. O valor da expressão $\left\{\frac{1}{2} + \left[\frac{1}{3} + \left(\frac{3}{5} - \frac{1}{5}\right)\right] - \frac{2}{3}\right\}$ é igual a:

- a) $\frac{17}{15}$
- b) $\frac{15}{17}$
- c) $\frac{17}{30}$
- d) $\frac{30}{17}$
- e) $\frac{1}{30}$

20. Um automóvel percorreu uma distância de 10 quilômetros em 35 minutos. Neste caso, cada quilômetro foi percorrido no tempo médio de:

- a) 3 minutos e 50 segundos.
- b) 3 minutos e 45 segundos.
- c) 3 minutos e 40 segundos.
- d) 3 minutos e 35 segundos.
- e) 3 minutos e 30 segundos.

Conhecimentos Gerais



21. Para manter um bom relacionamento no local de trabalho é necessário que cada pessoa tome certos cuidados com a sua higiene pessoal. São cuidados de higiene pessoal:


- a) Escarrar nas paredes de edifícios públicos, quando ninguém estiver olhando, a fim de efetuar a limpeza do nariz e da garganta.
- b) Independente do estilo, deixar os cabelos sempre limpos e bem cortados.
- c) Escovar os dentes duas vezes ao dia, independente da quantidade de refeições, e só utilizar o fio dental uma vez por semana.
- d) Não tomar banho antes de ir trabalhar pela manhã se já tiver tomado antes de dormir, pois dormindo não se suja.
- e) Limpar as unhas das mãos, mas não precisa estar atento à limpeza das unhas dos pés, afinal você trabalha de sapato e ninguém vê seus pés.

22. Sobre os produtos químicos é correto afirmar:

- a) Os produtos químicos geralmente não são perigosos, podendo ser manuseados de forma tranquila e descuidada.
- b) Os produtos químicos só exigem cuidados especiais na hora da utilização, mas não exigem cuidados na hora do armazenamento.
- c) As embalagens dos produtos químicos podem ser utilizadas para guardar outros tipos de substâncias, como, por exemplo, água potável.
- d) Os produtos químicos causam riscos às pessoas, devendo ser manuseados de forma cuidadosa, obedecendo às informações do rótulo da embalagem e utilizando os equipamentos de segurança adequados, como luvas, por exemplo.
- e) Os produtos químicos devem ser armazenados em embalagens diferentes das originais e que contenham rótulos cujas informações não se refiram ao produto.

23. Qual dos símbolos abaixo deve ser utilizado quando se quer indicar que determinada substância atua como veneno?

- a) 
- b) 



24.

Este símbolo representa:

- a) Não lavar com água.
- b) Não deixar de molho.
- c) Não colocar as mãos.
- d) Não misturar o sabão.
- e) Não segurar.

25. O mundo se encontra assustado com a Gripe A (H1N1), a gripe suína, que já causou várias mortes e ataca inclusive o Brasil. Sobre os cuidados que devemos ter para evitar a contaminação é incorreto afirmar:

- a) Evitar locais com aglomeração de pessoas.
- b) Não compartilhar alimentos, copos, toalhas e objetos de uso pessoal.
- c) Lavar sempre as mãos com água e sabão.
- d) Evitar colocar as mãos nos olhos, nariz e boca.
- e) Evitar comer carne de porco.

26. Os equipamentos de proteção individual (EPI) são os meios que devem ser utilizados pelas pessoas para se protegerem dos riscos à saúde que determinadas atividades geram. Assim, são equipamentos de proteção individual, exceto:

- a) Capacete, para proteger a cabeça.
- b) Máscaras, para proteger as vias respiratórias.
- c) Luvas, para proteger as mãos e os braços.
- d) Óculos, para proteger o rosto e os olhos.
- e) Crachá, para proteger contra confusão.

27. A proclamação da República aconteceu no dia:

- a) 22 de abril de 1500.
- b) 15 de novembro de 1889.
- c) 07 de setembro de 1822.
- d) 11 de novembro de 1822.
- e) 07 de setembro de 1889.

28. Entre os povos que influenciaram a cultura brasileira não se destacam:

- a) Os africanos, vindos para o Brasil principalmente como escravos para trabalharem nos engenhos de açúcar.
- b) Os portugueses que chegaram ao Brasil como colonizadores.
- c) Os imigrantes italianos, que vieram trabalhar principalmente nas lavouras de café no Sudeste do país.
- d) Os índios, primeiro habitantes do Brasil, que aqui já moravam antes da chegada dos colonizadores.
- e) Os ingleses, que construíram as caravelas e vieram juntamente com os portugueses colonizar o Brasil.

29. Analise o caso concreto.


“Se Cláudia disse a verdade, Carol e Marcos mentiram. Se Marcos mentiu, Lucas falou a verdade. Se Lucas falou a verdade, há um elefante azul na varanda. Mas não há nenhum elefante azul na varanda.” Logo:

- a) Marcos e Lucas mentiram.
- b) Cláudia e Carol disseram a verdade.
- c) Marcos mentiu e Lucas disse a verdade.
- d) Cláudia e Lucas mentiram.
- e) Marcos e Carol mentiram.

30. O meio ambiente é o conjunto de fatores que afetam os seres que vivem nele. Há dois tipos de meio ambiente, o natural, que se forma sem a intervenção do homem e o artificial, no qual a intervenção do homem é necessária. São exemplos de meio ambiente artificial, exceto:

- a) Jardim
- b) Lago artificial
- c) Campos cultivados
- d) Ambiente urbano
- e) Pântanos

31. Um dos cuidados que devemos ter para proteger o meio ambiente é a reciclagem do lixo. Sobre este tema, analise a figura abaixo, que representa os tipos de materiais recicláveis.



Os números indicam, respectivamente:

- a) 1 – lata de alumínio; 2 – papel; 3 – plástico; 4 – vidro.

- b) 1 – lata de alumínio; 2 – plástico; 3 – papel; 4 – vidro.
- c) 1 – vidro; 2 – plástico; 3 – lata de alumínio; 4 – papel.
- d) 1 – plástico; 2 – lata de alumínio; 3 – vidro; 4 – papel.
- e) 1 – lata de alumínio; 2 – vidro; 3 – papel; 4 – plástico.

32. O número MDCCCLXVII representa, em algarismos arábicos:

- a) 1757
- b) 5867
- c) 1867
- d) 1917
- e) 1857


33. A camada pré-sal é um reservatório de petróleo e gás natural que foi recentemente descoberto pela Petrobrás no Brasil. Este reservatório se localiza:

- a) No litoral dos estados do Rio Grande do Sul, Santa Catarina, Paraná, São Paulo e Rio de Janeiro.
- b) No litoral dos estados de Santa Catarina, Paraná, São Paulo, Rio de Janeiro e Espírito Santo.
- c) No litoral dos estados do Paraná, São Paulo, Rio de Janeiro e Espírito Santo.
- d) No litoral dos estados de São Paulo, Rio de Janeiro e Espírito Santo.
- e) No litoral dos estados de São Paulo, Rio de Janeiro, Espírito Santo e Bahia.

34. É indispensável que haja um bom relacionamento entre as pessoas no ambiente de trabalho. Para tanto é necessário que tomemos algumas atitudes, exceto:

- a) Devemos respeitar o espaço do outro, suas idéias e sua maneira de ser.
- b) Devemos tentar criar um clima de confiabilidade e harmonia.
- c) Devemos evitar brigas e desavenças desnecessárias.
- d) Devemos evitar criar “grupinhos” rivais, onde uns querem ser melhores que os outros.
- e) Devemos tentar corrigir os comportamentos dos outros que achamos errados ou que nos incomodam.

35. Observe a figura.



A conduta representada, no ambiente de trabalho:

- a) É correta, pois os mais fortes sempre ganham.
- b) É aceitável, pois cada um deve defender seus interesses em detrimento dos interesses dos outros.

- c) É inaceitável, pois deve-se garantir a igualdade entre as pessoas, ou seja, devem lutar de maneira igual, utilizando as mesmas “armas”.
- d) É inaceitável, pois no ambiente de trabalho não deve existir nenhuma forma de conflito entre as pessoas, uma vez que elas convivem no mesmo ambiente.
- e) É correta, pois só através da força conseguimos que os outros nos respeitem e respeitem a nossa autoridade.

36. Qual o horário indicado pelo relógio?



- a) 10h05min
- b) 11h10min
- c) 22h10min
- d) 21h10min
- e) 23h10min

37. Observe a seguinte situação prática:

“Fulaninho, que não trabalha com você, lhe entrega uma mensagem e pede para que você a encaminhe a uma determinada pessoa. Ele diz ainda que essa mensagem deve ser entregue ao destinatário até o dia X.”. Nesta situação você deve:

- a) Anotar a quem se destina e quando deve ser entregue a mensagem para não se esquecer de encaminhá-la.
- b) Guardar a mensagem na gaveta que ninguém usa, para que passe despercebida por todos, inclusive por você.
- c) Entregar a mensagem a outra pessoa para que ela a encaminhe, pois você não deve perder tempo encaminhando mensagens que não são suas.
- d) Perguntar a Fulaninho por que ele mesmo não faz a entrega, afinal você não tem a obrigação de fazer favores para ninguém.
- e) Pedir educadamente a Fulaninho que ele mesmo faça a entrega, explicando-lhe que se ele entregar a você, você pode se esquecer.

38. Leia atentamente.

Ou Matemática é fácil, ou Pedro não gosta de Matemática. Porém, se Português não é difícil, então Matemática é difícil. Pedro, por sua vez, gosta de Matemática. Então:

- a) Português é difícil, logo Matemática é difícil.
- b) Matemática é fácil e Português é difícil.
- c) Matemática é fácil e Português é fácil.
- d) Matemática é difícil e Português é fácil.
- e) Matemática é difícil ou Português é fácil.

39. A Copa do Mundo de 2014 será realizada no Brasil. Das alternativas abaixo, todas são cidades que vão sediar os jogos, exceto uma, assinale-a.

- a) Rio de Janeiro (RJ)
- b) Curitiba (PR)
- c) Brasília (DF)
- d) Recife (PE)
- e) Amazonas (AM)

40. O aquecimento global é o aumento da temperatura média dos oceanos e do ar perto da superfície. Estão entre as causas prováveis do aquecimento global, exceto:

- a) Variação da atividade solar.
- b) Aumento da emissão de gases poluentes (gases do efeito estufa).
- c) Poluição dos rios e dos mares.
- d) Desmatamento das florestas.
- e) Queimadas.

FIM DO CADERNO