

CONCURSO PÚBLICO

PORTUGUÊS

1. O nosso alfabeto é formado por:

- a) consoantes e frases
- b) vogais e consoantes
- c) vogais e frases
- d) palavras e vogais

2. A seguir, temos alguns pares de palavras contrárias. Marque o único par de palavras que têm o mesmo significado:

- a) viver – morrer
- b) beleza – feiúra
- c) vida – morte
- d) bonita – bela

3. A frase “Que bela moça, você namora!”, finaliza com:

- a) ponto de interrogação
- b) ponto de exclamação
- c) ponto final
- d) dois pontos

4. Marque a alternativa que contém apenas as VOGAIS do nosso alfabeto:

- a) a – e – i – o – u
- b) a – o – u
- c) a – i – u
- d) b – c – d – f – g

5. “Pé” é uma palavra:

- a) Dissílaba
- b) Trissílaba
- c) Monossílaba
- d) Polissílabo

6. As consoantes que estão presentes na palavra “JORDÃO” são:

- a) o – a
- b) j – o – r
- c) j – r – d
- d) d – a – o

7. Das palavras abaixo, marque a única que devia estar escrita com letra maiúscula:

- a) coelho
- b) água
- c) suco
- d) maria

8. A opção em que o plural das palavras está incorreto é:

- a) bolo – bolos
- b) casa – casas
- c) pai – pais
- d) dedo – dedão

9. Em qual das alternativas abaixo as sílabas da palavra “ameixa” foram divididas corretamente:

- a) ame – ixa
- b) ame- i – xa
- c) a – mei – xa
- d) a- me – ixa

10. Qual sinal de pontuação deveria ser empregado na frase abaixo? “ Como você se chama ”:

- a) ponto de exclamação
- b) ponto final
- c) ponto de interrogação
- d) reticências

11. Qual das palavras abaixo tem as sílabas divididas de maneira errada?

- a) fós-fo-ro
- b) re-lâm-pa-go
- c) ves-ti-do
- d) fo-gã-o

12. Assinale a alternativa que apresenta palavra polissílaba:

- a) nós
- b) casa
- c) mágico
- d) desconhecimento

13. Qual das palavras abaixo é dissílaba?

- a) camisa
- b) pé
- c) bicicleta
- d) manga

14. A alternativa em que o aumentativo da palavra nariz está CORRETO é:

- a) nazão
- b) narigudão
- c) narigão
- d) nenhuma das alternativas anteriores

15. Qual das alternativas abaixo está escrita corretamente?

- a) Televisão
- b) Lápis
- c) Tezoura
- d) Casa

CONCURSO PÚBLICO

16. O plural da palavra “curral” é:

- a) currales
- b) currals
- c) currais
- d) curralses

17. Abaixo, uma das alternativas está ERRADA:

- a) vaso
- b) picina
- c) lixo
- d) armazém

18. A alternativa correta para o plural de pneu é:

- a) pneuses
- b) pneu
- c) pneus
- d) pnéis

19. Quais são as vogais da palavra IGREJA?

- a) i, e, a
- b) i, g, r
- c) g, r, j
- d) r, e, a

20. Assinale a frase que está escrita corretamente:

- a) Peguemos todas as muda e levemo para o jardim.
- b) Peguemos tudo as mudas e levamo para o jardim.
- c) Pegamos todas as mudas e levamos para o jardim.
- d) Pegamo tudo as muda e levamo para o jardim.

CONHECIMENTOS GERAIS

21. O nome do atual Prefeito do Município de Foz do Jordão é:

- a) Anildo Alves da Silva
- b) Arildo Alves da Silva
- c) Anildo Alves e Silva
- d) Anildo da Silva

22. O Santo Padroeiro do Município de Foz do Jordão é:

- a) São Sebastião
- b) São Roque
- c) São Pedro Apóstolo
- d) São Francisco de Assis

23. O aniversário da cidade de Foz do Jordão é comemorado no dia:

- a) 11 de outubro
- b) 21 de outubro
- c) 10 de outubro
- d) 22 de outubro

24. Segundo dados do IBGE/2000, o número de habitantes do Município de Foz do Jordão é:

- a) 6.378
- b) 8.377
- c) 5.378
- d) 7.378

25. Os principais rios que banham a cidade de Foz do Jordão são:

- a) Rio Ney Braga e Rio Santiago
- b) Rio Iguaçu e Rio Jordão
- c) Rio Jordão e Rio Santiago
- d) Rio Iguaçu e Rio Ney Braga

26. A principal atividade econômica de Foz do Jordão é:

- a) comércio
- b) indústria
- c) agropecuária
- d) pecuária

27. Em que ano aconteceu o *Impeachment* de Fernando Collor de Melo:

- a) 1990
- b) 1992
- c) 1991
- d) 1989

28. O atual governador do Estado do Paraná é:

- a) Ricardo Requião
- b) Roberto Requião
- c) Rogério Requião
- d) Ronaldo Requião

29. Celebramos a Proclamação da República brasileira no dia:

- a) 12 de outubro
- b) 02 de novembro
- c) 15 de novembro
- d) 21 de abril

30. Movimento de libertação, liberado por Joaquim José da Silva Xavier (Tiradentes):

- a) Inconfidência Mineira
- b) Revolução de 31 de março
- c) Proclamação da República
- d) Independência do Brasil

CONCURSO PÚBLICO

CONHECIMENTOS ESPECÍFICOS

31. Marque a alternativa que **NÃO** apresenta cuidados para evitar acidentes no local de trabalho.

- a) Nunca deixar as gavetas abertas.
- b) É aconselhável usar botas, pois o grande número de acidentes acontece com os pés.
- c) Reaproveitar os recipientes de substâncias tóxicas para guardar alimentos.
- d) Guardar as substâncias tóxicas como desinfetante, inseticida, detergente, sabão e gasolina nos recipientes devidamente rotulados em armários trancados, separados dos alimentos.

32. A água potável é muito cara, pois passa por vários processos de tratamento para depois ser distribuída. Uma maneira de economizar a água é:

- a) Utilizar cisternas.
- b) Utilizar água de poço.
- c) Descobrir novas fontes de água.
- d) Verificar vazamentos nos banheiros.

33. Observe o que está escrito abaixo: **“OBEDEÇA A SINALIZAÇÃO, EVITE ACIDENTES”**

Este aviso:

- a) Faz um convite.
- b) Traz uma recomendação.
- c) Pede um auxílio.
- d) Cita uma lei.

34. Na limpeza de piso e escadas deve-se usar:

- a) Água, sabão, desinfetante e cera.
- b) Parafina, cera e sabão.
- c) Detergente neutro e parafina líquida.
- d) Água, sabão, desinfetante e cera antiderrapante.

35. Sobre a limpeza das portas e janelas, o Auxiliar de Serviços Gerais **NÃO** deverá:

- a) Limpar as maçanetas todos os dias.
- b) Lavar as portas e janelas uma vez por semana com água, detergente e esponja.
- c) Enxaguar as portas e janelas com pano limpo.
- d) Utilizar nas portas e janelas os mesmos panos usados para limpar o piso.

36. Para limpar o balcão de atendimento e as mesas de funcionários, é necessário usar:

- a) Pano limpo ou flanela, levemente umedecido.
- b) Pano úmido com palha de aço.
- c) Esponja e querosene.
- d) Água sanitária e soda cáustica.

37. Sobre a limpeza correta do ambiente é **CORRETO** afirmar que:

- a) Deve-se limpar diariamente os revestimentos da parede com água, detergente e esponja molhando sempre as tomadas.
- b) Limpar o piso somente quando necessário, ou seja, quando tiver acumulado muita sujeira.
- c) Evitar o uso de panos úmidos para retirar o pó, utilizar sempre espanadores.
- d) Iniciar a limpeza do ambiente pelas partes mais altas até chegar ao piso.

38. A higiene pessoal faz parte da apresentação de um bom profissional, sabendo disso o mais importante é:

- a) Preocupar-se com o uso de perfumes bons e caros.
- b) Tomar banhos diários, andar sempre com as mãos e unhas limpas e cabelos adequadamente penteados.
- c) Andar sempre com roupas de boa grife e na moda.
- d) Cuidar dos dentes é fator importante, basta escová-los duas vezes ao dia.

39. Com relação aos desinfetantes, é **CORRETO** afirmar que:

- a) A colocação de maior ou menor quantidade de água não interfere na sua ação.
- b) Os desinfetantes podem ser misturados com outras substâncias químicas.
- c) O mesmo desinfetante não é eficaz contra todos os tipos de bactérias.
- d) As soluções desinfetantes podem ser preparadas com dois dias de antecedência.

40. Como vidros quebrados e lâmpadas devem ser destinados ao lixo?

- a) Deve-se juntar os cacos e colocar diretamente nos sacos de lixo.
- b) Deve-se juntar os cacos, pegar um saco de lixo somente para estes e colocá-los junto ao restante do lixo.
- c) Deve-se juntar os cacos, envolvê-los em papel, para evitar que os garis se machuquem.
- d) Deve-se juntar os cacos, cavar um buraco e enterrá-los, assim você garante que ninguém irá se machucar.

PSICOTÉCNICO



41. Observe as figuras abaixo:



De quais delas têm somente **duas** iguais?

- a) ;
- b) ;

CONCURSO PÚBLICO

- c)  ;
d)  .

42. Observe a seqüência abaixo:







Assinale a alternativa que possui a seqüência correta:

- a) estrela, círculo, triângulo, quadrado, cruz;
b) estrela, círculo, quadrado, triângulo, cruz;
c) cruz, quadrado, círculo, triângulo, círculo;
d) estrela, cruz, triângulo, quadrado, círculo.

43. Observando a figura abaixo, assinale a alternativa que possui a parte da figura que está faltando:







- a) 
b) 
c) 
d) 

44. Observe a figura abaixo:







Assinale a alternativa que completa corretamente a seqüência:

- a) 
b) 
c) 
d) 

45. A figura abaixo representa uma casa.



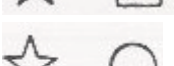



Assinale a alternativa que completa corretamente o desenho da casa:

- a) 
b) 
c) 
d) 

46. 

Assinale a alternativa que completa corretamente a seqüência apresentada acima:

- a) 
b) 
c) 
d) 

CONCURSO PÚBLICO

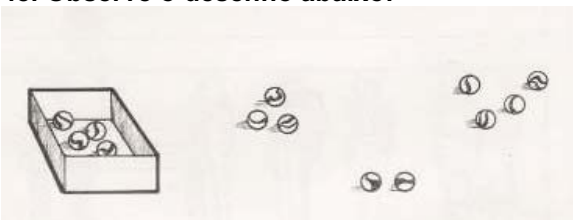
47. Observe as figuras abaixo:



Quantos erros existem na figura de baixo, quando comparamos com a de cima?

- a) 6;
- b) 5;
- c) 4;
- d) 7.


48. Observe o desenho abaixo:



Quantas bolinhas estão dentro da caixa, na figura acima?

- a) 13;
- b) 4;
- c) 9;
- d) 7.


49. Observe os desenhos abaixo:



Qual(is) do(s) desenho(s) acima é(são) fruta(s)?

- a) 2 e 3;
- b) 1 e 2
- c) 2;
- d) 1.

50. No desenho abaixo, estão faltando algumas partes nas flores.



Quantos dos desenhos acima estão completos, não faltando nenhuma parte?

- a) 2;
- b) 3;
- c) 1;
- d) 4.