



PROCESSO SELETIVO SIMPLIFICADO

PREFEITURA MUNICIPAL DE CARDOSO MOREIRA/RJ

EDITAL DE PROCESSO SELETIVO SIMPLIFICADO Nº. 003/2009

INSTRUÇÕES

- 01 - Material a ser utilizado: caneta esferográfica azul ou preta. Os objetos restantes devem ser colocados em local indicado pelo fiscal da sala, inclusive aparelho celular desligado e devidamente identificado com etiqueta.
- 02 - Não é permitido consulta, utilização de livros, códigos, dicionários, apontamentos, apostilas, calculadoras e etc. Não é permitido ao candidato ingressar na sala de provas sem a respectiva identificação e o devido recolhimento de telefone celular, bip e outros aparelhos eletrônicos.
- 03 - Durante a prova, o candidato não deve levantar-se, comunicar-se com outros candidatos e nem fumar.
- 04 - A duração da prova é de 03 (TRÊS) horas, já incluindo o tempo destinado à entrega do Caderno de Provas e à identificação – que será feita no decorrer da prova – e ao preenchimento da FOLHA DE RESPOSTAS (GABARITO).
- 05 - Somente em caso de urgência pedir ao fiscal para ir ao sanitário, devendo no percurso permanecer absolutamente calado, **podendo** antes e depois da entrada sofrer revista através de detector de metais. Ao sair da sala no término da prova, o candidato não poderá utilizar o sanitário. Caso ocorra uma emergência, o fiscal deverá ser comunicado.
- 06 - O Caderno de Provas consta de 30 (TRINTA) questões objetivas de múltipla escolha. Leia-o atentamente.
- 07 - As questões das provas objetivas são do tipo múltipla escolha, com 04 (quatro) opções (A a D) e uma única resposta correta.**
- 08 - Ao terminar a conferência do Caderno de Provas, caso o mesmo esteja incompleto ou tenha qualquer defeito, o candidato deverá solicitar ao fiscal de sala que o substitua, não cabendo reclamações posteriores neste sentido.
- 09 - Os fiscais não estão autorizados a emitir opinião e prestar esclarecimentos sobre o conteúdo das provas. Cabe única e exclusivamente ao candidato interpretar e decidir.
- 10 - O candidato somente poderá retirar-se do local de realização das provas **após 90 (noventa) minutos** de seu início e só poderá levar o Caderno de Provas no decurso dos últimos **30 (trinta) minutos** anteriores ao horário previsto para o seu término.

RESULTADOS E RECURSOS

- Os gabaritos oficiais preliminares das provas objetivas serão divulgados na Internet, no site www.consulplan.net, às **14h00min do dia subsequente ao da realização da prova objetiva**.
- Os recursos deverão ser apresentados, conforme determinado no **item 8 do Edital de Processo Seletivo Simplificado nº. 003/2009**, sendo observados os seguintes aspectos:
 - a) Caberá recurso contra questões das provas e contra erros ou omissões no gabarito, até **24 (vinte e quatro) horas ininterruptas, iniciando-se às 14h00min do dia 21 de setembro de 2009, encerrando-se às 14h00min do dia 22 de setembro de 2009.**
 - b) A interposição de recursos poderá ser feita **somente via Internet**, através do *Sistema Eletrônico de Interposição de Recursos*, com acesso pelo candidato após o fornecimento de dados referentes à sua inscrição, no prazo recursal à **Consulplan**, conforme disposições contidas no site www.consulplan.net, no link correspondente ao **Processo Seletivo Simplificado**.

atendimento@consulplan.com / www.consulplan.net

C
A
D
E
R
N
O

D
E

P
R
O
V
A
S

TEXTO:

“Olhai os lírios do campo”

Estive pensando muito na fúria cega com que os homens se atiram à caça do dinheiro. É essa a causa principal dos dramas, das injustiças, da incompreensão da nossa época. Eles esquecem o que têm de mais humano e sacrificam o que a vida lhes oferece de melhor: as relações de criatura para criatura. De que serve construir arranha-céus se não há mais almas humanas para morar neles?

Quero que abras os olhos, Eugênio, que acordes enquanto é tempo. Peço-te que pegues a minha Bíblia que está na estante de livros, perto do rádio, leias apenas o Sermão da Montanha. Os homens deviam ler e meditar esse trecho, principalmente no ponto em que Jesus nos fala dos lírios do campo, que não trabalham, nem fiam, e no entanto nem Salomão em toda a sua glória jamais se vestiu como um deles.

É indispensável trabalhar, pois um mundo de criaturas passivas seria também triste e sem beleza. Precisamos, entretanto, dar um sentido humano às nossas construções. E quando o amor ao dinheiro, ao sucesso nos estiver deixando cegos, saibamos fazer pausas para olhar os lírios do campo e as aves do céu.

Não penses que estou fazendo o elogio do puro espírito contemplativo e da renúncia, ou que acho que o povo deva viver narcotizado pela esperança da felicidade na “outra vida”. Há na terra um grande trabalho a realizar. É tarefa para seres fortes, para corações corajosos. É indispensável que conquistemos este mundo, não com as armas do ódio e da violência e sim com as do amor e da persuasão. Considera a vida de Jesus. Ele foi antes de tudo um homem de ação e não um puro contemplativo.

(Érico Veríssimo/Fragmento/ Porto Alegre, Globo, 1980)

01) No trecho do livro “Olhai os lírios do campo”, identifique a alternativa que corresponde à ideia principal:

- A) Há na terra um grande trabalho a realizar.
- B) O amor ao dinheiro e ao sucesso são os causadores de dramas e injustiças dessa época.
- C) A vida contemplativa de Jesus.
- D) Os lírios do campo, que não trabalham e nem fiam.

02) O texto identifica que mais importante que as riquezas são as relações de criatura para criatura. Assinale abaixo, o trecho que exemplifica essa ideia:

- A) “Considera a vida de Jesus.”
- B) “Há na terra um grande trabalho a realizar.”
- C) “De que serve construir arranha-céus se não há mais almas humanas para morar neles?”
- D) “Precisamos, entretanto, dar um sentido humano às nossas construções.”

03) De acordo com o autor do texto, quando se deve olhar os lírios do campo e as aves do céu?

- A) Ao conquistar o mundo com as armas do amor e da persuasão.
- B) Durante o trabalho, no dia-a-dia.
- C) Se o amor ao dinheiro, ao sucesso estiver deixando o ser humano cego.
- D) Nas tarefas para seres fortes, para corações corajosos.

04) Analise as afirmativas abaixo, de acordo com o texto “Olhai os lírios do campo”:

- I. Deve-se conquistar o mundo com as armas do amor e da persuasão.
- II. A Bíblia se encontra na estante de livros, perto do rádio.
- III. As relações de criatura para criatura são o que a vida oferece de melhor aos homens.

Está(ão) correta(s) apenas a(s) afirmativa(s):

- A) II, III
- B) I
- C) II
- D) I, II, III

05) Em “Não penses que estou fazendo o elogio do puro espírito contemplativo...” a palavra destacada foi acentuada pelo mesmo motivo que:

- A) Eugênio
- B) época
- C) há
- D) indispensável

06) O trecho “Considera a vida de Jesus.” apresenta como palavra no masculino:

- A) de
- B) considera
- C) vida
- D) Jesus

07) Em “Quero que abras os olhos, Eugênio, que acordes enquanto é tempo.” as vírgulas foram utilizadas para:

- A) Marcar expressão de caráter explicativo.
- B) Marcar termos deslocados.
- C) Separar termos assindéticos.
- D) Marcar o vocativo.

08) Assinale abaixo, a alternativa que apresenta o significado correto da palavra em destaque:

- A) “É indispensável que conquistemos este mundo,...” (imprescindível)
- B) “...que acordes enquanto é tempo.” (despertar de sono ou sonho)
- C) “Estive pensando na fúria cega...” (privada da vista)
- D) “Os homens deviam ler e meditar esse trecho,...” (determinar, verificar)



09) No trecho “E quando o amor ao dinheiro, ao sucesso nos estiver deixando cegos...” as palavras destacadas apresentam, respectivamente:

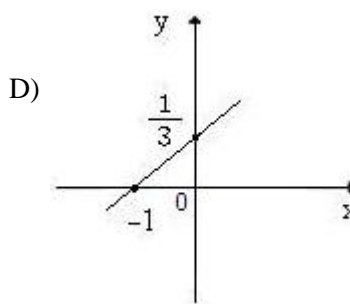
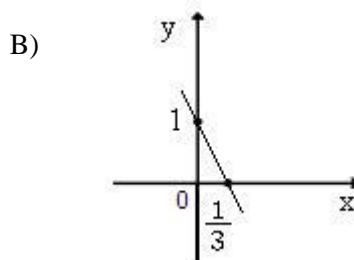
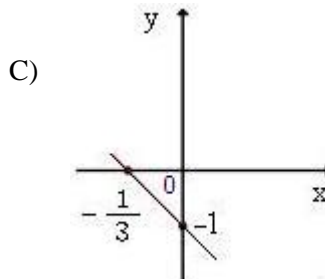
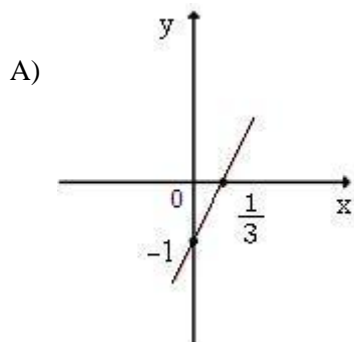
- A) dígrafo / tritongo / ditongo
- B) dígrafo / dígrafo / ditongo
- C) hiato / dígrafo / ditongo
- D) dígrafo / dígrafo / dígrafo

10) Assinale a alternativa abaixo em que o antônimo da palavra destacada encontra-se correto:

- A) “Considera a vida de Jesus.” (força, vitalidade)
- B) “Quero que abras os olhos...” (fendes, furas)
- C) “Eles esquecem o que têm de mais humano...” (lembram)
- D) “De que serve construir arranha-céus...” (apertar)

MATEMÁTICA

11) Qual dos gráficos abaixo representa a função $f(x) = 3x - 1$?



12) A variação da área não desmatada em uma determinada floresta, em um certo período, é dada pela função $A(t) = A_0 \cdot (4)^{-t/10}$, sendo A_0 a área inicial não desmatada da floresta e $A(t)$ a área não desmatada, após t meses. Em quantos meses a floresta terá 1/8 de sua área inicial não desmatada?

- A) 6
- B) 19
- C) 12
- D) 15

13) Um triângulo retângulo tem lados iguais a PQ, QR e PR. Sendo α um dos ângulos internos desse triângulo tal que $\text{sen} \alpha = PQ/QR$ e $\text{tg} \alpha = PQ/PR$, qual o valor de $\text{cos} \alpha$?

- A) QR/PQ
- B) PR/PQ
- C) PR/QR
- D) QR/PR

14) A temperatura em um deserto durante um ano atingiu a máxima de 42°C e a mínima de -13°C . No ano anterior ao considerado, a temperatura máxima atingiu 44°C e a mínima -9°C . Qual é a diferença entre as variações de temperatura entre os dois anos considerados?

- A) 2°C
- B) 3°C
- C) 4°C
- D) 6°C

15) Seja uma função do 1º grau $f(x) = ax + b$. Qual das condições abaixo deve ser satisfeita, para garantir que a raiz dessa equação seja um número positivo?

- A) $a \cdot b > 0$
- B) $a \cdot b < 0$
- C) $a < b$
- D) $a > b$

CONHECIMENTOS ESPECÍFICOS

16) Em relação à taxa de coleta de lixo, de acordo com o Código Tributário Municipal de Cardoso Moreira, é correto afirmar que:

- A) É devido à cobrança a todos os imóveis na municipalidade.
- B) Objetiva custear o serviço utilizado pelo contribuinte ou colocado à sua disposição.
- C) Será cobrada mensalmente.
- D) As remoções especiais de lixo, que excedam à quantidade máxima fixada pelo poder legislativo serão feitas mediante ao pagamento de preço público.



PROCESSO SELETIVO SIMPLIFICADO – PREFEITURA MUNICIPAL DE CARDOSO MOREIRA/RJ

- 17) De acordo com o Código Tributário Municipal de Cardoso Moreira, é correto afirmar em relação à licença de localização e funcionamento:
- A) Será exigida a renovação, sempre que ocorrer modificações nas características do estabelecimento.
 - B) No caso da transferência de local, permanecerá válida até o exercício seguinte, quando deverá ser renovada.
 - C) Será válida para o exercício em que for concedida, sendo renovada automaticamente, no exercício seguinte.
 - D) Não será renovada, caso a mudança de ramo de atividade não for informada à Prefeitura, com antecedência de 60 dias.
- 18) Segundo o Código de Obras do município de Cardoso Moreira, os tapumes e andaimes não poderão ocupar o passeio público, EXCETO:
- A) Além da metade de sua largura.
 - B) Deixando parte livre e desimpedida aos transeuntes na largura mínima de 90cm.
 - C) Até sua metade, deixando livre e desimpedida aos transeuntes, a faixa mínima de 80cm.
 - D) Até a metade da largura do passeio, deixando livre e desimpedida aos transeuntes, a faixa mínima de 1 metro.
- 19) Não dispondo em contrário à Lei de Zoneamento e Uso do Solo Urbano, estabelece o Código de Obras do município de Cardoso Moreira, que os afastamentos mínimos para edificações residenciais serão, EXCETO:
- A) Recuo obrigatório de 3 metros.
 - B) Afastamento lateral de 1,50 metros, quando existirem aberturas para edificações até três pavimentos.
 - C) Afastamento de fundos de 1,50 metros, quando existirem aberturas para edificações até três pavimentos.
 - D) Afastamento de 6 metros entre edificações até três pavimentos, quando em mesmo lote e aberturas confrontantes.
- 20) “Dispõe o Código de Obras do município de Cardoso Moreira, no âmbito da competência da fiscalização, que a notificação preliminar terá prazo de _____ dias para ser atendida.” Assinale a alternativa que completa corretamente a afirmativa anterior:
- A) 10
 - B) 30
 - C) 15
 - D) 20
- 21) Dispõe o Código de Obras do município de Cardoso Moreira que, obrigatoriamente, o auto de infração conterá, EXCETO:
- A) Nome do infrator, endereço e assinatura.
 - B) Discriminação da infração.
 - C) Dia, mês, ano e lugar em foi lavrado.
 - D) Prazo para recursos.
- 22) Aos comprovados infratores das disposições do Código de Obras do município de Cardoso Moreira, poderão ser aplicadas as seguintes penalidades, EXCETO:
- A) Multa.
 - B) Embargo da obra.
 - C) Advertência ao responsável técnico da obra.
 - D) Interdição da obra.
- 23) O Código de Obras do município de Cardoso Moreira dispõe que os profissionais de Engenharia, habilitados e registrados na Prefeitura Municipal de Cardoso Moreira, estarão sujeitos à suspensão da matrícula na Prefeitura no(s) seguinte(s) caso(s):
- I. Acobertarem o exercício ilegal da profissão.
 - II. Execução de obras em desacordo com projeto aprovado na Prefeitura.
 - III. Não permanecerem assiduamente nas obras em que são responsáveis.
 - IV. Apresentarem projetos em evidente desacordo com a realidade do local.
- Está(ão) correta(s) apenas a(s) alternativa(s):
- A) I
 - B) II, III
 - C) I, II, IV
 - D) III
- 24) Dispõe a Lei Orgânica do município de Cardoso Moreira, que os lotes de loteamentos aprovados só serão liberados para vendas, após a implantação de:
- A) Redes de água potável e esgotamento sanitário.
 - B) Meio fio e rede elétrica.
 - C) Rede de água potável e rede elétrica.
 - D) Rede de água potável e meio fio.
- 25) NÃO dispõe a Lei Orgânica do município de Cardoso Moreira:
- A) Os lançamentos finais dos sistemas públicos e particulares de coleta de esgotos sanitários deverão ser procedidos, no mínimo, de tratamento primário completo, na forma da Lei.
 - B) Poderão ser implantados sistemas de coleta conjunta de águas pluviais e esgotos domésticos ou industriais.
 - C) O município aplicará, anualmente, nunca menos que 25% da receita, resultante de impostos e transferências recebidas do Estado e da União, na manutenção e desenvolvimento do ensino.
 - D) O montante das despesas de saúde não será inferior a 15% das despesas globais do orçamento anual do município.



PROCESSO SELETIVO SIMPLIFICADO – PREFEITURA MUNICIPAL DE CARDOSO MOREIRA/RJ
CONHECIMENTOS LOCAIS

26) No artesanato, o município de Cardoso Moreira tem projeção, considerando:

- A) Bordado e pintura em tela.
- B) Bordado, material reciclável e madeira.
- C) Barro e recicláveis.
- D) Confeção de bonecas.

27) Sobre a história do município de Cardoso Moreira, analise:

- I. Os freis franciscanos, na margem direita do Rio Muriaé, fundaram um agrupamento indígena, por volta de 1672.
- II. Os fazendeiros que precisam escoar sua produção se organizaram para construir um ramal da estrada de ferro até Carangola.
- III. O Comendador Cardoso Moreira, fazendeiro de grandes investimentos, tornou-se grande acionista da estrada de ferro.
- IV. D. Pedro II e a Princesa Isabel compareceram à inauguração da estrada de ferro.

Estão corretas apenas as afirmativas:

- A) I, II, III
- B) II, III, IV
- C) I, II, III, IV
- D) I, III, IV

28) Assinale abaixo, um dos pontos turísticos de maior atração no município de Cardoso Moreira:

- A) O Morro do Cristo.
- B) As embarcações.
- C) O Museu da Criança.
- D) O Festival do Sorvete.

29) Pela sustentação econômica do município de Cardoso Moreira, identifique abaixo, as Agências Bancárias que funcionam nesse município:

- A) Bradesco e Unibanco.
- B) Itaú, Bradesco e Brasil.
- C) Caixa Econômica Federal, HSBC e Mercantil.
- D) HSBC e Brasil.

30) Nas afirmativas abaixo sobre o município de Cardoso Moreira, marque V para as verdadeiras e F para as falsas:

- () A rodovia que dá acesso ao município é a BR-356.
- () A assinatura do documento de emancipação do município de Cardoso Moreira foi do Governador Moreira Franco, em 1989.
- () Catarino, Palmeira e Cachoeiro são alguns dos bairros do município de Cardoso Moreira.
- () Italva e São Fidélis são alguns dos municípios limítrofes de Cardoso Moreira.

A sequência está correta em:

- A) V, V, V, V
- B) V, V, V, F
- C) V, F, V, F
- D) V, V, F, F

