



# PROCESSO SELETIVO SIMPLIFICADO

## PREFEITURA MUNICIPAL DE CARDOSO MOREIRA/RJ

**EDITAL DE PROCESSO SELETIVO SIMPLIFICADO Nº. 003/2009**

### INSTRUÇÕES

- 01 - Material a ser utilizado: caneta esferográfica azul ou preta. Os objetos restantes devem ser colocados em local indicado pelo fiscal da sala, inclusive aparelho celular desligado e devidamente identificado com etiqueta.
- 02 - Não é permitido consulta, utilização de livros, códigos, dicionários, apontamentos, apostilas, calculadoras e etc. Não é permitido ao candidato ingressar na sala de provas sem a respectiva identificação e o devido recolhimento de telefone celular, bip e outros aparelhos eletrônicos.
- 03 - Durante a prova, o candidato não deve levantar-se, comunicar-se com outros candidatos e nem fumar.
- 04 - A duração da prova é de 03 (TRÊS) horas, já incluindo o tempo destinado à entrega do Caderno de Provas e à identificação – que será feita no decorrer da prova – e ao preenchimento da FOLHA DE RESPOSTAS (GABARITO).
- 05 - Somente em caso de urgência pedir ao fiscal para ir ao sanitário, devendo no percurso permanecer absolutamente calado, **podendo** antes e depois da entrada sofrer revista através de detector de metais. Ao sair da sala no término da prova, o candidato não poderá utilizar o sanitário. Caso ocorra uma emergência, o fiscal deverá ser comunicado.
- 06 - O Caderno de Provas consta de 30 (TRINTA) questões objetivas de múltipla escolha. Leia-o atentamente.
- 07 - As questões das provas objetivas são do tipo múltipla escolha, com 04 (quatro) opções (A a D) e uma única resposta correta.**
- 08 - Ao terminar a conferência do Caderno de Provas, caso o mesmo esteja incompleto ou tenha qualquer defeito, o candidato deverá solicitar ao fiscal de sala que o substitua, não cabendo reclamações posteriores neste sentido.
- 09 - Os fiscais não estão autorizados a emitir opinião e prestar esclarecimentos sobre o conteúdo das provas. Cabe única e exclusivamente ao candidato interpretar e decidir.
- 10 - O candidato somente poderá retirar-se do local de realização das provas **após 90 (noventa) minutos** de seu início e só poderá levar o Caderno de Provas no decurso dos últimos **30 (trinta) minutos** anteriores ao horário previsto para o seu término.

### RESULTADOS E RECURSOS

- Os gabaritos oficiais preliminares das provas objetivas serão divulgados na Internet, no site [www.consulplan.net](http://www.consulplan.net), às **14h00min do dia subsequente ao da realização da prova objetiva**.
- Os recursos deverão ser apresentados, conforme determinado no **item 8 do Edital de Processo Seletivo Simplificado nº. 003/2009**, sendo observados os seguintes aspectos:
  - a) Caberá recurso contra questões das provas e contra erros ou omissões no gabarito, até **24 (vinte e quatro) horas ininterruptas, iniciando-se às 14h00min do dia 21 de setembro de 2009, encerrando-se às 14h00min do dia 22 de setembro de 2009.**
  - b) A interposição de recursos poderá ser feita **somente via Internet**, através do *Sistema Eletrônico de Interposição de Recursos*, com acesso pelo candidato após o fornecimento de dados referentes à sua inscrição, no prazo recursal à **Consulplan**, conforme disposições contidas no site [www.consulplan.net](http://www.consulplan.net), no link correspondente ao **Processo Seletivo Simplificado**.

[atendimento@consulplan.com](mailto:atendimento@consulplan.com) / [www.consulplan.net](http://www.consulplan.net)

C  
A  
D  
E  
R  
N  
O  
  
D  
E  
  
P  
R  
O  
V  
A  
S

**PROCESSO SELETIVO SIMPLIFICADO – PREFEITURA MUNICIPAL DE CARDOSO MOREIRA/RJ**  
**CARGO: AUXILIAR ADMINISTRATIVO**

**TEXTO:**

**“Olhai os lírios do campo”**

Estive pensando muito na fúria cega com que os homens se atiram à caça do dinheiro. É essa a causa principal dos dramas, das injustiças, da incompreensão da nossa época. Eles esquecem o que têm de mais humano e sacrificam o que a vida lhes oferece de melhor: as relações de criatura para criatura. De que serve construir arranha-céus se não há mais almas humanas para morar neles?

Quero que abras os olhos, Eugênio, que acordes enquanto é tempo. Peço-te que pegues a minha Bíblia que está na estante de livros, perto do rádio, leias apenas o Sermão da Montanha. Os homens deviam ler e meditar esse trecho, principalmente no ponto em que Jesus nos fala dos lírios do campo, que não trabalham, nem fiam, e no entanto nem Salomão em toda a sua glória jamais se vestiu como um deles.

É indispensável trabalhar, pois um mundo de criaturas passivas seria também triste e sem beleza. Precisamos, entretanto, dar um sentido humano às nossas construções. E quando o amor ao dinheiro, ao sucesso nos estiver deixando cegos, saibamos fazer pausas para olhar os lírios do campo e as aves do céu.

Não penses que estou fazendo o elogio do puro espírito contemplativo e da renúncia, ou que acho que o povo deva viver narcotizado pela esperança da felicidade na “outra vida”. Há na terra um grande trabalho a realizar. É tarefa para seres fortes, para corações corajosos. É indispensável que conquistemos este mundo, não com as armas do ódio e da violência e sim com as do amor e da persuasão. Considera a vida de Jesus. Ele foi antes de tudo um homem de ação e não um puro contemplativo.

*(Érico Veríssimo/Fragmento/ Porto Alegre, Globo, 1980)*

**01) No trecho do livro “Olhai os lírios do campo”, identifique a alternativa que corresponde à ideia principal:**

- A) Há na terra um grande trabalho a realizar.
- B) O amor ao dinheiro e ao sucesso são os causadores de dramas e injustiças dessa época.
- C) A vida contemplativa de Jesus.
- D) Os lírios do campo, que não trabalham e nem fiam.

**02) O texto identifica que mais importante que as riquezas são as relações de criatura para criatura. Assinale abaixo, o trecho que exemplifica essa ideia:**

- A) “*Considera a vida de Jesus.*”
- B) “*Há na terra um grande trabalho a realizar.*”
- C) “*De que serve construir arranha-céus se não há mais almas humanas para morar neles?*”
- D) “*Precisamos, entretanto, dar um sentido humano às nossas construções.*”

**03) De acordo com o autor do texto, quando se deve olhar os lírios do campo e as aves do céu?**

- A) Ao conquistar o mundo com as armas do amor e da persuasão.
- B) Durante o trabalho, no dia-a-dia.
- C) Se o amor ao dinheiro, ao sucesso estiver deixando o ser humano cego.
- D) Nas tarefas para seres fortes, para corações corajosos.

**04) Analise as afirmativas abaixo, de acordo com o texto “Olhai os lírios do campo”:**

- I. Deve-se conquistar o mundo com as armas do amor e da persuasão.
- II. A Bíblia se encontra na estante de livros, perto do rádio.
- III. As relações de criatura para criatura são o que a vida oferece de melhor aos homens.

**Está(ão) correta(s) apenas a(s) afirmativa(s):**

- A) II, III
- B) I
- C) II
- D) I, II, III

**05) Em “Não penses que estou fazendo o elogio do puro espírito contemplativo...” a palavra destacada foi acentuada pelo mesmo motivo que:**

- A) Eugênio
- B) época
- C) há
- D) indispensável

**06) O trecho “*Considera a vida de Jesus.*” apresenta como palavra no masculino:**

- A) de
- B) considera
- C) vida
- D) Jesus

**07) Em “*Quero que abras os olhos, Eugênio, que acordes enquanto é tempo.*” as vírgulas foram utilizadas para:**

- A) Marcar expressão de caráter explicativo.
- B) Marcar termos deslocados.
- C) Separar termos assindéticos.
- D) Marcar o vocativo.

**08) Assinale abaixo, a alternativa que apresenta o significado correto da palavra em destaque:**

- A) “*É indispensável que conquistemos este mundo,...*” (imprescindível)
- B) “*...que acordes enquanto é tempo.*” (despertar de sono ou sonho)
- C) “*Estive pensando na fúria cega...*” (privada da vista)
- D) “*Os homens deviam ler e meditar esse trecho,...*” (determinar, verificar)



09) No trecho “E quando o amor ao dinheiro, ao sucesso nos estiver deixando cegos...” as palavras destacadas apresentam, respectivamente:

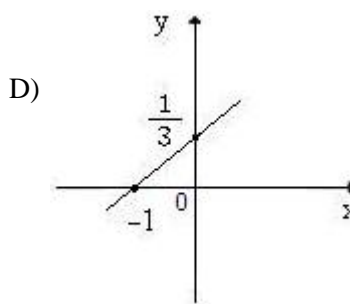
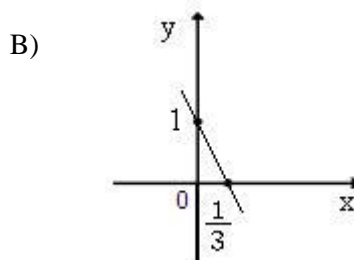
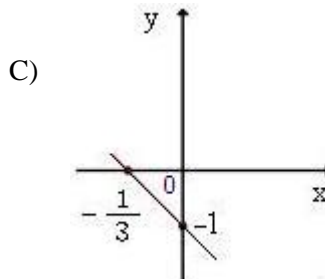
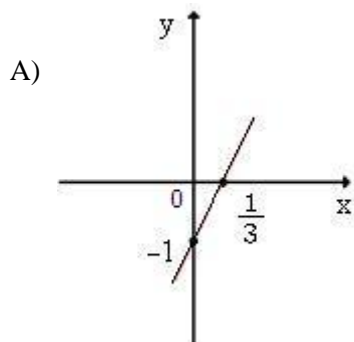
- A) dígrafo / tritongo / ditongo
- B) dígrafo / dígrafo / ditongo
- C) hiato / dígrafo / ditongo
- D) dígrafo / dígrafo / dígrafo

10) Assinale a alternativa abaixo em que o antônimo da palavra destacada encontra-se correto:

- A) “Considera a vida de Jesus.” (força, vitalidade)
- B) “Quero que abras os olhos...” (fendes, furas)
- C) “Eles esquecem o que têm de mais humano...” (lembram)
- D) “De que serve construir arranha-céus...” (apertar)

**MATEMÁTICA**

11) Qual dos gráficos abaixo representa a função  $f(x) = 3x - 1$ ?



12) A variação da área não desmatada em uma determinada floresta, em um certo período, é dada pela função  $A(t) = A_0 \cdot (4)^{-t/10}$ , sendo  $A_0$  a área inicial não desmatada da floresta e  $A(t)$  a área não desmatada, após  $t$  meses. Em quantos meses a floresta terá 1/8 de sua área inicial não desmatada?

- A) 6
- B) 19
- C) 12
- D) 15

13) Um triângulo retângulo tem lados iguais a PQ, QR e PR. Sendo  $\alpha$  um dos ângulos internos desse triângulo tal que  $\text{sen} \alpha = PQ/QR$  e  $\text{tg} \alpha = PQ/PR$ , qual o valor de  $\text{cos} \alpha$ ?

- A) QR/PQ
- B) PR/PQ
- C) PR/QR
- D) QR/PR

14) A temperatura em um deserto durante um ano atingiu a máxima de  $42^\circ\text{C}$  e a mínima de  $-13^\circ\text{C}$ . No ano anterior ao considerado, a temperatura máxima atingiu  $44^\circ\text{C}$  e a mínima  $-9^\circ\text{C}$ . Qual é a diferença entre as variações de temperatura entre os dois anos considerados?

- A)  $2^\circ\text{C}$
- B)  $3^\circ\text{C}$
- C)  $4^\circ\text{C}$
- D)  $6^\circ\text{C}$

15) Seja uma função do 1º grau  $f(x) = ax + b$ . Qual das condições abaixo deve ser satisfeita, para garantir que a raiz dessa equação seja um número positivo?

- A)  $a \cdot b > 0$
- B)  $a \cdot b < 0$
- C)  $a < b$
- D)  $a > b$

16) Dadas as funções  $f(x) = x + 9$  e  $g(x) = -x + 3$ , o valor de  $x$  para que  $g(x) = \frac{f(x)}{2}$  é:

- A) Menor que 1.
- B) Primo.
- C) Maior que 2.
- D) Par.

17) Em uma sapataria foram empilhadas caixas de sapatos em forma de paralelepípedo retângulo, cujas dimensões são: 32cm de largura, 20cm de comprimento e 10cm de altura. Se o volume total dessas pilhas é  $76,8\text{cm}^3$ , assinale o número total de caixas empilhadas:

- A) 116
- B) 120
- C) 128
- D) 126



**PROCESSO SELETIVO SIMPLIFICADO – PREFEITURA MUNICIPAL DE CARDOSO MOREIRA/RJ**

- 18) Um pote de 2 litros de sorvete tem 2,4kg do produto. Qual é o volume de sorvete utilizado para se preparar uma banana-split com 3 bolas de 60g cada?
- A) 120ml                      B) 140ml                      C) 150ml                      D) 160ml
- 19) Numa casa, somando-se a área dos dois quartos de solteiro, ambos retangulares, obtém-se  $\frac{3}{2}$  da área do quarto de casal, cujas dimensões são: 5m de comprimento e 4m de largura. Assinale a área de cada quarto de solteiro, considerando que eles têm o mesmo tamanho:
- A)  $12m^2$                       B)  $14m^2$                       C)  $15m^2$                       D)  $16m^2$
- 20) Uma moeda de R\$0,50 tem 6,80 gramas e uma moeda de R\$1,00 tem 7,00 gramas. Numa sacola há R\$7,00, totalizando 82 gramas. Pode-se afirmar que nesta sacola:
- A) Há um número ímpar de moedas de R\$1,00.  
B) O número de moedas de R\$0,50 é menor que o número de moedas de R\$1,00.  
C) Há um número par de moedas.  
D) Há menos de 10 moedas.

**CONHECIMENTOS GERAIS**

- 21) Na cidade do Rio de Janeiro, capital do estado, existem diversos pontos turísticos e dentre os mais visitados na área esportiva podemos destacar:
- A) Museu do Futebol.  
B) Pista de Skate Central.  
C) Estádio do Maracanã.  
D) Marina da Glória e seus veleiros.
- 22) A energia eólica é produzida através do:
- A) Milho.                      B) Vento.                      C) Petróleo.                      D) Gás.
- 23) Sobre a participação da mulher no trabalho é INCORRETO afirmar que:
- A) Hoje as mulheres ocupam 63% das vagas no ensino superior.  
B) Houve uma redução no número de filhos nas famílias brasileiras.  
C) A vida doméstica hoje tem maior participação dos homens.  
D) O acesso ao primeiro emprego é restrito aos homens.
- 24) Uma das maiores consequências do aquecimento global é o derretimento das geleiras, que provoca:
- A) Aumento do nível das águas do mar.  
B) Desaparecimento das nascentes dos rios.  
C) Redução das praias e aumento das areias.  
D) Seca dos manguezais.
- 25) Uma grande obra está sendo feita para aproveitar as águas do rio São Francisco. Nas alternativas abaixo, marque **V** para as afirmativas verdadeiras e **F** para as falsas, considerando este assunto:
- ( ) A transposição do rio São Francisco, no Nordeste, beneficiará grande parte desta população.  
( ) Existem pessoas que são favoráveis à transposição do rio e outras que são contrárias.  
( ) A melhoria da agricultura pela irrigação é um dos objetivos de transposição do rio.
- A sequência está correta em:
- A) V, V, F                      B) V, V, V                      C) V, F, V                      D) F, V, V

**CONHECIMENTOS LOCAIS**

- 26) No artesanato, o município de Cardoso Moreira tem projeção, considerando:
- A) Bordado e pintura em tela.  
B) Bordado, material reciclável e madeira.  
C) Barro e recicláveis.  
D) Confeção de bonecas.
- 27) Sobre a história do município de Cardoso Moreira, analise:
- I. Os freis franciscanos, na margem direita do Rio Muriaé, fundaram um agrupamento indígena, por volta de 1672.  
II. Os fazendeiros que precisam escoar sua produção se organizaram para construir um ramal da estrada de ferro até Carangola.  
III. O Comendador Cardoso Moreira, fazendeiro de grandes investimentos, tornou-se grande acionista da estrada de ferro.  
IV. D. Pedro II e a Princesa Isabel compareceram à inauguração da estrada de ferro.
- Estão corretas apenas as afirmativas:
- A) I, II, III                      B) II, III, IV                      C) I, II, III, IV                      D) I, III, IV



**PROCESSO SELETIVO SIMPLIFICADO – PREFEITURA MUNICIPAL DE CARDOSO MOREIRA/RJ**

**28) Assinale abaixo, um dos pontos turísticos de maior atração no município de Cardoso Moreira:**

- A) O Morro do Cristo.
- B) As embarcações.
- C) O Museu da Criança.
- D) O Festival do Sorvete.

**29) Pela sustentação econômica do município de Cardoso Moreira, identifique abaixo, as Agências Bancárias que funcionam nesse município:**

- A) Bradesco e Unibanco.
- B) Itaú, Bradesco e Brasil.
- C) Caixa Econômica Federal, HSBC e Mercantil.
- D) HSBC e Brasil.

**30) Nas afirmativas abaixo sobre o município de Cardoso Moreira, marque V para as verdadeiras e F para as falsas:**

- A rodovia que dá acesso ao município é a BR-356.
- A assinatura do documento de emancipação do município de Cardoso Moreira foi do Governador Moreira Franco, em 1989.
- Catarino, Palmeira e Cachoeiro são alguns dos bairros do município de Cardoso Moreira.
- Italva e São Fidélis são alguns dos municípios limítrofes de Cardoso Moreira.

**A sequência está correta em:**

- A) V, V, V, V
- B) V, V, V, F
- C) V, F, V, F
- D) V, V, F, F

