

CONCURSO PÚBLICO – PREFEITURA MUNICIPAL DE GUARAPARI – ES
CARGO: AGENTE DE GESTÃO MUNICIPAL AGM I (CÓDIGO I) / BOMBEIRO

TEXTO:

Conversa com a chuva

A chuva bateu na minha janela,
Veio conversar comigo,
Tão melancólica,
Tão fina,
Falou-me de tristezas esquecidas.
Depois,
saiu cantando uma canção triste
Que o vento levou.

(Francisco de Assis Barbosa)

01) De acordo com o texto, a chuva ao bater na janela...

- A) veio conversar sobre as alegrias da vida. D) cantava uma melodia doce.
B) estava forte e valente. E) estava fina e delicada.
C) falou de tristezas esquecidas.

02) Em “*Veio conversar comigo,*

Tão melancólica,” a palavra destacada é acentuada pelo mesmo motivo que:

- A) Fósforo. B) Você. C) Palácio. D) Canção. E) Amável.

03) De acordo com o texto, são características da chuva:

- A) Bateu na janela. D) Cantou uma canção triste.
B) Fina. E) Todas as alternativas anteriores estão corretas.
C) Melancólica.

04) Assinale a alternativa que apresenta o diminutivo INCORRETO:

- A) janela/janelinha D) ilha/ilhinha
B) chuva/chuvisco E) palácio/palacete
C) rio/riacho

05) “*Saiu cantando uma canção triste que o vento levou.*” Assinale a alternativa que apresenta o mesmo significado que a palavra destacada anteriormente:

- A) Consumiu. B) Puniu. C) Saciou. D) Carregou. E) Trouxe.

06) Assinale a única palavra escrita de forma correta:

- A) Tristesas. B) Esquesida. C) Vento. D) Converssar. E) Cansão.

07) “*Falou-me de tristezas esquecidas.*” Assinale a alternativa que apresenta o significado contrário da palavra destacada anteriormente:

- A) Caridades. B) Mágoas. C) Objetivos. D) Vaidades. E) Alegrias.

08) O texto relata a conversa do personagem com o(a):

- A) Vento. B) Janela. C) Chuva. D) Canção. E) Tristeza.

09) “*Tão fina.*” Assinale a alternativa que apresenta o mesmo significado que a palavra destacada anteriormente:

- A) Delicada. B) Amarga. C) Voraz. D) Insubstituível. E) Positiva.

10) Assinale a alternativa que apresenta o aumentativo INCORRETO:

- A) muro/muralha B) pedra/pedregulho C) rocha/rochedo D) voz/vozeirão E) amigo/amigão

MATEMÁTICA

11) Isaura fez 35 doces de abacaxi e 20 doces de coco. Quantos doces fez Isaura?

- A) 51 B) 53 C) 55 D) 58 E) 59

12) Das sequências de números apresentados abaixo, marque a correta:

- A) 100 – 102 – 105 D) 400 – 407 – 409
B) 200 – 203 – 208 E) 500 – 503 – 510
C) 300 – 301 – 302

13) O mês de janeiro é o primeiro do ano e fevereiro é o:

- A) Segundo mês. D) Quinto mês.
B) Terceiro mês. E) Sexto mês.
C) Quarto mês.

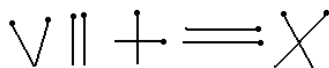
14) Marcos tem 20 anos e Paulo, seu irmão, é mais novo 8 anos. Qual a idade de Paulo?

- A) 10 anos. B) 11 anos. C) 12 anos. D) 13 anos. E) 14 anos.

15) Marisa guardou no armário duas dúzias de ovos de galinha. Quantos ovos Marisa guardou?

- A) 10 B) 12 C) 18 D) 20 E) 24

16) Veja os desenhos abaixo e marque quantos palitos de fósforo ele tem:



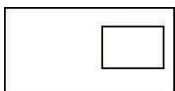
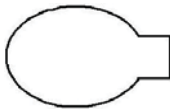

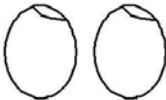

- A) 6 B) 8 C) 10 D) 12 E) 14



CONCURSO PÚBLICO – PREFEITURA MUNICIPAL DE GUARAPARI – ES

- 17) Sabe-se que Roberto bebe 2 litros de água por dia. Em 7 dias (uma semana), ele beberá quantos litros de água?
A) 14 B) 12 C) 10 D) 8 E) 6
- 18) Num canteiro há 23 pés de alface. Se Marta colheu 10 pés de alface, quantos sobraram no canteiro?
A) 10 B) 11 C) 12 D) 13 E) 14
- 19) Uma dezena de lápis tem 10 lápis e 2 dezenas tem:
A) 20 lápis. B) 22 lápis. C) 24 lápis. D) 30 lápis. E) 40 lápis.
- 20) Marque a operação abaixo que está INCORRETA:
A) $32 \times 4 = 128$ D) $81 \div 9 = 8$
B) $55 \times 5 = 275$ E) $60 + 600 = 660$
C) $21 \div 3 = 7$

CONHECIMENTOS ESPECÍFICOS

- 21) Em caso de reparos nas instalações hidráulicas em funcionamento, é recomendado:
A) Em reparos que envolvem adesivos e vedantes é preciso fechar o registro.
B) Quebrar paredes para verificação.
C) Orientar-se a partir da caixa d'água.
D) Utilizar grampo e broca.
E) Utilizar de luvas de plástico duro.
- 22) A válvula da descarga apresenta problemas de vazamento. É importante verificar:
A) Se há desgaste nas borrachas permitindo que a gaxeta comece a pingar.
B) Se as molas estão enfraquecidas.
C) O êmulo (miolo da válvula) pode estar danificado.
D) Se a válvula apenas travou.
E) Todas as alternativas anteriores completam corretamente o enunciado.
- 23) Nas instalações de água usa-se tubos de PVC. Sobre esta utilização em prédios, é correto afirmar que:
A) Os tubos soldáveis têm espessuras maiores que os de rosca.
B) A linha de tubos soldáveis é fabricada em azul.
C) A linha de tubos soldáveis necessita de adesivo para execução de juntas.
D) A linha soldável é fácil de instalar por dispensar equipamentos e ferramentas mais sofisticadas.
E) Tubos de rosca são fornecidos em barras com apenas uma das extremidades com rosca.
- 24) O Bombeiro NÃO utiliza como ferramenta básica:
A) Alicata gasista. B) Barrilete. C) Chave inglesa. D) Chave de grifo. E) Arco de serra.
- 25) Como equipamento de proteção individual utilizado pelo Bombeiro para evitar possíveis acidentes, marque o INCORRETO:
A) Respirador de plástico duro. D) Calçados especiais.
B) Capacete de segurança. E) Luvas protetoras.
C) Óculos de segurança.
- 26) Nas plantas baixas ou de execução de uma obra, os símbolos hidráulicos são padronizados. Indique abaixo, o que NÃO está correto:
A)  Pia de cozinha. D)  Vaso sanitário novo.
B)  Banheira. E)  Lavatório.
C)  Tanque.
- 27) Existe um tubo para cada tipo de uso, procure conhecer bem os materiais que são utilizados em obras, a saber:
A) PVC.
B) CPVC.
C) Cobre.
D) Polietileno.
E) As alternativas anteriores completam o enunciado corretamente.
- 28) Sujeito a impurezas de pias do banheiro e da cozinha existe uma peça que retém sujeira e a água não segue seu fluxo normal, causando entupimentos. Dá-se a esta peça o nome de:
A) Válvula. B) Anéis. C) Sifão. D) Tanque séptico. E) Conexão.

CONCURSO PÚBLICO – PREFEITURA MUNICIPAL DE GUARAPARI – ES

29) São poderes municipais, independentes e harmônicos entre si, conforme estabelece a Lei Orgânica/Guarapari:

- A) Judiciário e Legislativo. D) Deputados e Senadores.
B) Secretários e Executivo. E) Deputados e Executivo.
C) Legislativo e Executivo.

30) O município poderá dividir-se para fins administrativos (Lei Orgânica/Guarapari) em:

- A) Ruas e pontilhões. D) Fundações.
B) Reservas ecológicas. E) Autarquias.
C) Distritos.

CONHECIMENTOS GERAIS

31) Ronaldo Nazário ou Ronaldo “Fenômeno” é um jogador de futebol conhecido mundialmente e que, atualmente, joga no Brasil, no seguinte time:

- A) Flamengo. B) Corinthians. C) Palmeiras. D) Vasco da Gama. E) Santos.

32) Em 2010, a Copa do Mundo de Futebol será realizada no(a):

- A) África do Sul. B) Alemanha. C) China. D) Chile. E) Brasil.

33) O estado do Espírito Santo compõe a região Sudeste juntamente com os seguintes estados:

- A) Rio de Janeiro, Bahia e São Paulo. D) Bahia e São Paulo.
B) Mato Grosso, Bahia e São Paulo. E) São Paulo e Pernambuco.
C) Minas Gerais, São Paulo e Rio de Janeiro.

34) A educação ambiental nas escolas tem o objetivo de:

- A) Sensibilizar os alunos acerca da conservação da biodiversidade do planeta.
B) Manter o equilíbrio de todas as espécies vivas.
C) Utilizar o solo sem esgotá-lo.
D) Reciclar o lixo.
E) Todas as alternativas anteriores estão corretas.

35) O Brasil é um país marcado por grandes quantidades de rios e, infelizmente, muitos se encontram totalmente poluídos. NÃO é uma causa desta poluição:

- A) Dejetos humanos. D) Desmatamento.
B) Resíduos das indústrias. E) Resíduos de minérios.
C) Venenos e sedimentos das lavouras.

CONHECIMENTOS LOCAIS

36) Assinale, entre as alternativas abaixo, o rio que banha o município de Guarapari:

- A) Pardo. B) Benevente. C) Reritiba. D) Capixaba. E) São Marcos.

37) A lei n° 779 de 1953 fixa em três distritos que compõem o município de Guarapari. São eles:

- A) Guarapari (sede), Todos os Santos e Rio Calçado. D) Guarapari (sede), Anchieta e Piúma.
B) Guarapari (sede), Iriri e Rio Comprido. E) Nenhuma das alternativas anteriores.
C) Guarapari (sede), Anchieta e Rio Calçado.

38) A cidade de Guarapari é conhecida como “Cidade Saúde” e é referência mundial para o turismo. Tal titulação é devido à(ao):

- A) Clima fresco. D) Mar com águas quentes.
B) Praia de areias monazíticas. E) Ar sem poluição.
C) Alimentação fresca.

39) O Parque Morro da Pescaria, em Guarapari, está localizado no(a):

- A) Praia do Morro. D) Morro dos Carais.
B) Divisa entre Guarapari e Vila Velha. E) Praia das Castanheiras.
C) Praia de Setiba.

40) O nome do programa que ajuda a preservar o meio ambiente do despejo de resíduos oleosos, em Guarapari, denomina-se:

- A) Tamar. D) Pescar.
B) Salvamar. E) Limpamar.
C) Livramar.

