

Notícia de Jornal

Fernando Sabino

Leio no jornal a notícia de que um homem morreu de fome. Um homem de cor branca, 30 anos presumíveis, pobremente vestido, morreu de fome, sem socorros, em pleno centro da cidade, permanecendo deitado na calçada durante 72 horas, para finalmente morrer de fome.

Morreu de fome. Depois de insistentes pedidos e comentários, uma ambulância do Pronto Socorro e uma radiopatrulha foram ao local, mas regressaram sem prestar auxílio ao homem, que acabou morrendo de fome.

Um homem que morreu de fome. O comissário de plantão (um homem) afirmou que o caso (morrer de fome) era da alçada da Delegacia de Mendicância, especialista em homens que morrem de fome. E o homem morreu de fome.

O corpo do homem que morreu de fome foi recolhido ao Instituto Anatômico sem ser identificado. Nada se sabe dele, senão que morreu de fome.

Um homem morre de fome em plena rua, entre centenas de passantes. Um homem caído na rua. Um bêbado. Um vagabundo. Um mendigo, um anormal, um tarado, um pária, um marginal, um proscrito, um bicho, uma coisa - não é um homem. E os outros homens cumprem seu destino de passantes, que é o de passar. Durante setenta e duas horas todos passam, ao lado do homem que morre de fome, com um olhar de nojo, desdém, inquietação e até mesmo piedade, ou sem olhar nenhum. Passam, e o homem continua morrendo de fome, sozinho, isolado, perdido entre os homens, sem socorro e sem perdão.

Não é da alçada do comissário, nem do hospital, nem da radiopatrulha, por que haveria de ser da minha alçada? Que é que eu tenho com isso? Deixa o homem morrer de fome.

E o homem morre de fome. De trinta anos presumíveis. Pobremente vestido. Morreu de fome, diz o jornal. Louve-se a insistência dos comerciantes, que jamais morrerão de fome, pedindo providências às autoridades. As autoridades nada mais puderam fazer senão remover o corpo do homem. Deviam deixar que apodrecesse, para escarmento dos outros homens. Nada mais puderam fazer senão esperar que morresse de fome.

E ontem, depois de setenta e duas horas de inanição, tombado em plena rua, no centro mais movimentado da cidade do Rio de Janeiro, Estado da Guanabara, um homem morreu de fome.

01. Assinale a alternativa que apresenta o objetivo do autor ao escrever esse texto.

- a) Criticar um fato absurdo e inaceitável da morte de um homem por inanição e a omissão das autoridades e da sociedade diante desse fato.
- b) Apresentar um fato absurdo: um homem que morreu de fome.
- c) Apresentar um fato inaceitável: as autoridades não cumprem seus deveres.
- d) Mostrar a falta de cidadania das pessoas que passam naquela rua.
- e) Criticar falta de sentimentos dos transeuntes

02. Leia os trechos do texto: “Notícia de Jornal” e assinale a alternativa em que aparece a desculpa apresentada por uma autoridade para justificar sua omissão diante do fato retratado no texto.

- a) Louve-se a insistência dos comerciantes, que jamais morrerão de fome, pedindo providências às autoridades.
- b) Um bêbado. Um vagabundo. Um mendigo, um anormal, um tarado, um pária, um marginal, um proscrito, um bicho, uma coisa - não é um homem.
- c) O comissário de plantão (um homem) afirmou que o caso (morrer de fome) era da alçada da Delegacia de Mendicância, especialista em homens que morrem de fome.
- d) E ontem, depois de setenta e duas horas de inanição, tombado em plena rua, no centro mais movimentado da cidade do Rio de Janeiro, Estado da Guanabara, um homem morreu de fome.
- e) As autoridades nada mais puderam fazer senão remover o corpo do homem.

03. O narrador do texto se posiciona perante os fatos. Que sentimentos ele expressa? Assinale a alternativa que responde corretamente a questão.

- a) Ódio e vingança
- b) Respeito e satisfação
- c) Revolta e conformismo
- d) Indignação e inconformismo
- e) Indiferença e desamor

04. “Ironia é um modo de exprimir-se em que se diz o contrário do se pensa ou sente.”

Aurélio Buarque de Holanda – Dicionário da Língua Portuguesa.

Assinale a alternativa em que o autor do texto: “Notícia de Jornal” utiliza esse recurso.

- a) “Pobrememente vestido.”
- b) “Louve-se a insistência dos comerciantes, que jamais morrerão de fome, pedindo providências às autoridades.”
- c) “E o homem morre de fome.”
- d) “Nada se sabe dele, senão que morreu de fome.”
- e) “Leio no jornal a notícia de que um homem morreu de fome.”

05. “Notícia de Jornal” é considerado um texto:

- a) Dissertativo Descritivo
- b) Dissertativo
- c) Descritivo
- d) Dissertativo Argumentativo
- e) Narrativo

06. No último quadrinho da tira, que expressão, de acordo com a variedade padrão, Helga deverá usar para responder a Hagar?



(Dik Browne. Folha de S. Paulo, 3/4/2003.)

Assinale a alternativa que responde corretamente a pergunta;

- a) Muito obrigada.
- b) Muito obrigado.

- c) Obrigadas.
- d) Obrigados.
- e) Todas estão corretas.

07. Assinale a alternativa que completa corretamente as lacunas das frases, de acordo com as regências nominais próprias da variedade padrão.

- Ⓐ A atitude do jogador é passível_____ punição.
- Ⓑ Vitor é muito hábil _____ computação gráfica.
- Ⓒ Tenho que tomar cuidado _____ piratas e tubarões.
- Ⓓ Ainda não estou apta _____ usar o computador.

- a) de, para, em, a
- b) por, com, com, em
- c) de, em, com, para
- d) a, em, em, com
- e) por, em, com, em

08. Assinale a alternativa em que a frase NÃO está de acordo com a gramática normativa, no que se refere à concordância verbal.

- a) Vende-se beijos.
- b) Há várias razões.
- c) Existem razões para essa situação?
- d) As esperanças do time era a Paula.
- e) Faz dois dias que está com febre.

09. “Não importa **se seu perfil é conservador, moderado ou dinâmico**: se você é prático invista pelo shopinvest” (Revista **Classe**, n. 95).

No trecho acima, há um período composto por subordinação. Assinale a alternativa que classifica corretamente a oração subordinada destacada:

- a) Oração subordinada adverbial causal.
- b) Oração subordinada substantiva objetiva direta.
- c) Oração subordinada substantiva subjetiva.
- d) Oração subordinada adjetiva restritiva.
- e) Oração subordinada Adverbial condicional.

10. Assinale a alternativa que completa adequadamente as lacunas na tira a seguir:



- a) Por que, por que, Por que
- b) Porque, por quê, Por que
- c) Por quê, por quê, Por quê
- d) Por que, por quê, Por que
- e) Por quê, por que, Por quê

11. O Windows é o sistema operacional pertencente à Microsoft e considerado o mais procurado pelos usuários. No que se refere a esse programa considere:

- I. Através do Windows Explorer é possível a visualização de pastas e respectivos arquivos existentes no ambiente operacional.
- II. Grande parte das operações efetuadas pelo mouse também podem ser feitas através de teclas de atalho.
- III. Com a ferramenta Propriedades de vídeo é possível configurar as cores da janela, o papel de parede e o protetor de telas.
- IV. O Windows é um programa que poderá ser alterado através da internet.

É correto o que consta em:

- a) I.
- b) I e II.
- c) I, II e III.
- d) II e III.
- e) I, II, III e IV.

12. No Windows, a lixeira tem como finalidade armazenar os arquivos que foram excluídos. Porém, ao armazenar os “lixos” é possível resgatá-los para o local de origem. Entretanto, isso não é considerado eliminação de espaço no disco, já que o material ainda está contando como espaço utilizado. Mas, se o objetivo é ganhar espaço em disco, faz-se necessário excluir definitivamente os arquivos. Assinale a seguir a alternativa que possui um atalho através de combinação de teclas para tal execução:

- a) teclar Delete e confirmar.
- b) pressionar a tecla CTRL, teclar Delete e confirmar.
- c) pressionar a tecla SHIFT, teclar Delete e confirmar.
- d) clicar com o botão direito do mouse, escolher Excluir e confirmar.
- e) clicar com o botão esquerdo do mouse, escolher Excluir e confirmar.

13. No Windows, ao acessar o menu INICIAR pode colocar o ponteiro do mouse sobre um item que contém uma seta para a direita, e exibido-se:

- a) os itens de um menu secundário.
- b) uma caixa de texto para digitar comandos.
- c) o nome completo do item.
- d) a janela de abertura do objeto associado ao item.
- e) o nome do autor e a data de criação do item.

14. No Windows Explorer, com o cursor do mouse posicionado em uma área livre do lado direito da janela, dentro de uma pasta específica, pode-se criar uma subpasta nova clicando no botão:

- a) direito do mouse e selecionando Novo e depois Pasta.
- b) direito do mouse e selecionando propriedade.
- c) esquerdo do mouse e selecionando Novo e depois Subpasta.
- d) Direito do mouse e selecionando Pasta e depois Nova.
- e) esquerdo do mouse e selecionando Novo e depois Pasta.

15. As ferramentas e recursos do Word tanto podem ser utilizadas pelo mouse como pelo teclado, o que são chamados de teclas de atalho. Desse modo, assinale a alternativa correta que traz a finalidade do atalho CTRL+P.

- a) Abrir uma nova pasta e salvar o documento.
- b) Colar no documento um texto copiado.
- c) Imprimir o documento.
- d) Copiar o conteúdo da tela na área de transferência.
- e) Abrir páginas na tela.

16. Com objetivo de inserir outros parágrafos onde eles deverão estar numerados, marque a alternativa que contém o recurso correto:

- a) os parágrafos receberão a formatação atual das tabulações.
- b) os parágrafos receberão a formatação atual do marcador de bordas.
- c) os parágrafos receberão a formatação do marcador ou numerador.
- d) as páginas receberão a formatação das bordas e numeração nas páginas.
- e) as páginas receberão a formatação das bordas e marcadores nas páginas.

17. O próximo conteúdo que será inserido no texto deverá estar na próxima página. Para ir direto para página seguinte, a ação VIA TECLADO (atalho) que o usuário deverá realizar é:

- a) CTRL+ENTER
- b) CTRL+BARRA DE ESPAÇO
- c) ALT+J
- d) ALT+DEL
- e) ALT+ENTER

18. Utilizando o Word poderemos utilizar vários recursos para construção de documentos. Na configuração o espaçamento entre linhas de um parágrafo, deve-se abrir o menu _____ seguido da opção _____.

- a) Ferramentas - Opções
- b) Arquivo – Configurar
- c) Editar – Espaçamento de linhas
- d) Formatar – Parágrafo
- e) Exibir – Barra de Ferramentas

19. Na empresa Brasil, um funcionário ficou encarregado de construir no Word um convite para a inauguração da filial, sendo que deveria enviar para 300 convidados com o nome personalizado de cada um. Diante dessa situação, ele deveria criar uma maneira de realizar isso mais rápido e em menos tempo. Marque a alternativa a seguir que contém o recurso apropriado para tal atividade:

- a) Macros
- b) Tabela
- c) Etiqueta
- d) Envelope
- e) Mala-direta

20. No dia-a-dia de uma empresa, documentos são digitados com muita frequência. Antônio é responsável pela organização dos textos através da formatação utilizando o Word. A seleção de todo conteúdo ao mesmo tempo poderá ocorrer através das teclas:

- a) CTRL+C
- b) ALT+CONTEÚDO
- c) CTRL+T
- d) ALT+TUDO
- e) CTRL+1

21. Considerando a importância de criar uma planilha para realizar determinadas atividades que envolvam cálculos, fez-se necessário utilizar a seguinte fórmula: =SOMA(B10:B30). Nesse caso, o resultado alcançado é:

- a) apenas a soma das células B10 e B30.
- b) a soma de todos os valores das células do intervalo de B10 até B30.
- c) a soma de todos os valores das células do intervalo de B10.
- d) a célula B10 receberá o valor da célula B30.
- e) a célula B10 receberá o valor de todas as células B30.

Utilizar a figura para as questões 22, 23, 24 e 25

	A	B	C	D	E
3					
4					
5		LISTA 01	LISTA 02		
6		10,00	20,00		
7		20,00	40,00		
8		10,00	40,00		
9		40,00	10,00		
10					
11					
12					

22. O Excel é um programa que proporciona a criação de planilhas eletrônicas e através de suas fórmulas é possível obter resultados de cálculos. Diante disso, João Pedro construiu uma tabela, conforme mostrou a figura anterior.

Buscando realizar um cálculo, o usuário criou a fórmula =MEDIA(B06;B08;C06;C08). Considerando os dados que correspondem aos endereços, marque a alternativa que contém o resultado correto:




- a) 20,00
- b) 24,00
- c) 80,00
- d) 40,00
- e) 30,00


23. Considerando a tabela criada, João Pedro necessitou inserir 02 dados logo após o segundo item da relação, tanto na lista 01 como na lista 02. Para realizar tal ação, a célula

deverá estar no local indicado para os novos dados. O procedimento correto usando o botão do mouse é:

- a) Botão esquerdo – linha
- b) Botão direito - inserir – propriedades
- c) Botão direito - inserir – linha inteira
- e) Botão direito - linha inteira
- e) Botão esquerdo – 02 cliques

24. A célula A5 deverá ser mesclada com as células A6, A7, A8 e A9 e logo após digitar a informação LISTA. Para essa mesclagem de células ocorrer, marque a seguir a alternativa que contém o procedimento correto:

- a) Selecionar as células A5 até A9 e clicar 
- b) Selecionar a célula A5 e clicar 
- c) Selecionar as células e digite a palavra MESCLAR
- d) Selecione autosoma e digite a palavra LISTA
- e) Selecione a ferramenta  e depois digite em cada célula LISTA

25. Estando na célula B10 na planilha, clique no botão . Diante dessa ação, qual o resultado será obtido?

- a) 30,00
- b) 100,00
- c) 50,00
- d) 80,00
- e) 10,00

26. Antônio, em seu escritório, precisou realizar uma listagem e resolveu utilizar os vários recursos do programa Excel. Veja a figura:

	A	B	C	D	E	F
1						
2						
3						
4					JULHO	2009
5						
6						
7						
8						
9						
10						
11						

Diante do pouco tempo que ele teria para desenvolver a atividade, resolveu utilizar o recurso de selecionar a célula E4 arrastando para baixo com o botão do mouse pressionado no canto inferior direito da célula. Dessa forma, ele fez também com o endereço F4.

Qual o resultado obtido, respectivamente, na célula E9 e F9?

- a) NOVEMBRO e 2014
- b) JULHO e 2009
- c) DEZEMBRO e 2009
- d) JULHO e 2014
- e) JULHO

27. O PowerPoint é um programa que proporciona apresentações através de seus slides. No entanto, podem conter efeitos de transição e de animação aplicados, respectivamente:

- a) nos slides e nos objetos do slide.
- b) nos objetos de slide.
- c) nos slides e no arquivo.
- d) no mestre e nos slides.
- e) nas figuras e nos objetos de slide.

28. Após a construção de uma apresentação no PowerPoint, o usuário resolveu imprimir todo o material em um formato menor. Para isso ocorrer com sucesso, a alternativa correta para esta ação na janela imprimir é:

- a) opção IMPRESSÃO
- b) opção IMPRIMIR - SLIDES
- c) opção IMPRIMIR - FOLHETOS
- d) opção CONFIGURAR PÁGINA
- e) opção IMPRIMIR – PÁGINAS MENORES

29. Durante a construção de uma apresentação no PowerPoint, faz-se necessário padronizar todas as páginas com determinadas informações e imagens. O nome dado à página que é utilizada para tal objetivo é:

- a) SLIDE MESTRE
- b) SLIDE PADRÃO
- c) SLIDE MODELO
- d) SLIDE PERMANENTE
- e) SLIDE ÚNICO

30. Durante uma apresentação no PowerPoint, os slides são conduzidos página por página pelo usuário de várias maneiras. Analise a seguir as afirmativas:

- I. Através da tecla de barra de espaço segue para o próximo slide.
- II. Através das teclas de direção segue ou retorna slide.
- III. Através da tecla ENTER segue para o próximo slide.
- IV. Através da tecla ALT segue para o próximo slide.

Diante das afirmações anteriores, marque a alternativa correta:

- a) II, III e IV.
- b) I, II III e IV.
- c) I, II e IV.
- d) I, II e III.
- e) III e IV.

31. No Corel Draw as ferramentas de desenho podem ser identificadas através da alternativa:

- a) Retângulos, elipses, lápis.
- b) Ciclos, réguas, lápis.
- c) Brochuras.
- d) Textos ao caminho.
- e) Retângulos, seleção e balde.

32. Com objetivo de obter um formulário disponibilizado em um site na internet, João acessou a rede em busca do arquivo para inserir no seu disco. Assinale a alternativa que corresponde a essa ação:

- a) NLOAD
- b) UPLOAD
- c) Recortar
- d) DOWNLOAD
- e) Colar

33. Associe os itens de uma coluna com a outra.

- | | |
|----------------------|---|
| I Internet | (1) Acesso e exibição de páginas (browser) |
| II Internet Explorer | (2) Rede de tecnologia web |
| III E-mail | (3) Mensagem eletrônica |
| IV Intranet | (4) Rede de tecnologia Web, restrita âmbito-empresa |

São corretas as associações:

- a) I-3, II-4, III-2 e IV-1.
- b) I-2, II-3, III-4 e IV-1.
- c) I-2, II-1, III-3 e IV-4.
- d) I-4, II-3, III-1 e IV-2.
- e) I-4, II-1, III-2 e IV-3.

34. No Internet Explorer, ao clicar o botão Atualizar na janela aberta ocorrerá:

- a) uma nova cópia da página atual.
- b) uma nova cópia da página inicial.
- c) a última cópia arquivada da página inicial.
- d) uma nova cópia da página anterior.
- e) a cópia arquivada da página anterior.

35. Um endereço na internet corresponde à localização de cada página. Identifique a seguir a alternativa correta que contém o item correspondente :

- a) @
- b) servidor
- c) TCP/IP
- d) FTP
- e) URL

36. João, funcionário dedicado, finalizou um relatório importantíssimo que seu chefe havia exigido. Entretanto, o documento deveria ser enviado para a matriz o mais rápido possível, e o caminho utilizado foi o correio eletrônico. Para o envio do arquivo, identifique a opção que foi acessada.

- a) Enviar
- b) Download
- c) Salvar Como
- d) Anexar
- e) Gravar em

37. De acordo com os conceitos de correio eletrônico, analise as afirmativas a seguir:

- I. Para se encaminhar uma mensagem com cópia para outro destinatário, é necessário utilizar a opção COM CÓPIA.
- II. Um e-mail recebido poderá ser enviado para outra pessoa através da opção ENCAMINHAR.
- III. Quando um arquivo é encaminhado anexo a uma mensagem, é necessário que ele seja compactado.
- IV. O correio eletrônico permite a navegação na Internet e nas páginas de busca.

Assinale a alternativa que contém a resposta correta:

- a) I, II e III
- b) I, II, III e IV.
- c) I e II.
- d) III e IV
- e) I e III

38. Um ambiente de correio eletrônico possui muitos recursos para que o usuário articule suas mensagens e várias outras ações. Assinale a seguir, a alternativa correta:

- a) funciona apenas em empresas.
- b) tradicional não oferece envio de imagens.
- c) permite alterar o endereço do destinatário.
- d) não permite que um e-mail possa ser visualizada através de outro local.
- e) permite que determinado usuário archive vários endereços.

39. No Internet Explorer, utilizando uma combinação de teclas CTRL+F em uma página aberta, qual a operação desejada?

- a) abrir o menu favoritos na página presente.
- b) localizar uma palavra ou um texto na página presente.
- c) exibir a barra de ferramentas na página presente.
- d) exibir codificação HTM na página presente.
- e) Realizar verificação ortográfica no texto da página presente.

40. Considere-se um dos maiores benefícios obtidos por meio do uso da Internet:

- a) impossibilitar o ataque de hackers.
- b) evitar a entrada de vírus.
- c) o compartilhamento de informações.
- d) garantir a execução correta dos trabalhos individuais, realizados nas estações de trabalho.
- e) o aumento da velocidade de gravação nas mídias rígidas das estações de trabalho.