

CONTADOR

LEIA ATENTAMENTE AS INSTRUÇÕES ABAIXO.

- 01 - Você recebeu do fiscal o seguinte material:
- a) este caderno, com o enunciado das 55 questões das Provas Objetivas e das 2 (duas) questões da Prova Discursiva, sem repetição ou falha, com a seguinte distribuição:

LÍNGUA PORTUGUESA II		CONHECIMENTOS GERAIS II				CONHECIMENTOS ESPECÍFICOS			
Questões	Pontos	Questões	Pontos	Questões	Pontos	Questões	Pontos	Questões	Pontos
1 a 5	1,5	11 a 15	0,5	21 a 25	1,5	31 a 35	1,8	46 a 50	2,4
6 a 10	2,5	16 a 20	1,0	26 a 30	2,0	36 a 40	2,0	51 a 55	2,6
						41 a 45	2,2		

- b) Um Caderno de Respostas para o desenvolvimento da Prova Discursiva, grampeado ao **CARTÃO-RESPOSTA** destinado às respostas às questões objetivas formuladas nas provas.
- 02 - Verifique se este material está em ordem e se o seu nome e número de inscrição conferem com os que aparecem no **CARTÃO-RESPOSTA**. Caso contrário, notifique **IMEDIATAMENTE** o fiscal.
- 03 - Após a conferência, o candidato deverá assinar no espaço próprio do **CARTÃO-RESPOSTA**, preferivelmente a caneta esferográfica de tinta na cor preta.
- 04 - No **CARTÃO-RESPOSTA**, a marcação das letras correspondentes às respostas certas deve ser feita cobrindo a letra e preenchendo todo o espaço compreendido pelos círculos, a **caneta esferográfica de tinta na cor preta**, de forma contínua e densa. A LEITORA ÓTICA é sensível a marcas escuras; portanto, preencha os campos de marcação completamente, sem deixar claros.
- Exemplo: (A) ● (C) (D) (E)
- 05 - Tenha muito cuidado com o **CARTÃO-RESPOSTA**, para não o **DOBRAR, AMASSAR ou MANCHAR**. O **CARTÃO-RESPOSTA SOMENTE** poderá ser substituído caso esteja danificado em suas margens superior ou inferior - **BARRA DE RECONHECIMENTO PARA LEITURA ÓTICA**.
- 06 - Para cada uma das questões objetivas, são apresentadas 5 alternativas classificadas com as letras (A), (B), (C), (D) e (E); só uma responde adequadamente ao quesito proposto. Você só deve assinalar **UMA RESPOSTA**: a marcação em mais de uma alternativa anula a questão, **MESMO QUE UMA DAS RESPOSTAS ESTEJA CORRETA**.
- 07 - As questões objetivas são identificadas pelo número que se situa acima de seu enunciado.
- 08 - **SERÁ ELIMINADO** do Concurso Público o candidato que:
- a) se utilizar, durante a realização das provas, de máquinas e/ou relógios de calcular, bem como de rádios gravadores, *headphones*, telefones celulares ou fontes de consulta de qualquer espécie;
- b) se ausentar da sala em que se realizam as provas levando consigo o Caderno de Questões e/ou o **CARTÃO-RESPOSTA** grampeado ao Caderno de Respostas da Prova Discursiva;
- c) se recusar a entregar o Caderno de Questões e/ou o **CARTÃO-RESPOSTA** grampeado ao Caderno de Respostas da Prova Discursiva quando terminar o tempo estabelecido.
- 09 - Reserve os 30 (trinta) minutos finais para marcar seu **CARTÃO-RESPOSTA**. Os rascunhos e as marcações assinaladas no Caderno de Questões **NÃO SERÃO LEVADOS EM CONTA**.
- 10 - Quando terminar, entregue ao fiscal **O CADERNO DE QUESTÕES E O CARTÃO-RESPOSTA** grampeado ao Caderno de Respostas da Prova Discursiva e **ASSINE A LISTA DE PRESENÇA**.
Obs. O candidato só poderá se ausentar do recinto das provas após **1 (uma) hora** contada a partir do efetivo início das mesmas. Por motivo de segurança, o candidato **não** poderá levar o Caderno de Questões, a qualquer momento.
- 11 - **O TEMPO DISPONÍVEL PARA ESTAS PROVAS DE QUESTÕES OBJETIVAS E DISCURSIVAS É DE 4 (QUATRO) HORAS E 30 (TRINTA) MINUTOS**, findo o qual o candidato deverá, **obrigatoriamente**, entregar o Caderno de Questões e o **CARTÃO-RESPOSTA** grampeado ao Caderno de Respostas da Prova Discursiva.
- 12 - As questões e os gabaritos das Provas Objetivas serão divulgados no primeiro dia útil após a realização das mesmas, no endereço eletrônico da **FUNDAÇÃO CESGRANRIO** (<http://www.cesgranrio.org.br>).

LÍNGUA PORTUGUESA II

Texto I

O Cerco Total aos Fumantes

O estado de São Paulo aprova a lei antifumo mais restritiva do país. É um grande passo para tentar apagar o cigarro da vida moderna.

A vida de quem fuma só piora no Brasil e no mundo. Mas agora, em São Paulo, fumar virou um inferno. Daqui para a frente, será proibido acender cigarros, cachimbos e charutos em qualquer ambiente coletivo fechado em todo o estado. Isso significa que: 1) restaurantes não poderão mais ter alas para fumantes; 2) bares terão de aposentar seus cinzeiros; 3) hotéis passarão a fiscalizar seus hóspedes; e 4) empresas serão obrigadas a fechar as acinzentadas salinhas conhecidas como fumódromos. Quem quiser dar suas tragadas só poderá fazê-lo em casa, no carro ou ao ar livre. A lei é tão rigorosa que mesmo ambientes com teto alto e sem paredes, como marquises, serão vetados ao tabaco. Os empresários que não se adequarem à lei em noventa dias poderão ser multados em até 3,2 milhões de reais. É para deixar qualquer um sem fôlego. (...)

No Palácio dos Bandeirantes quem quer fumar um cigarro precisa andar 500 metros, cruzar o portão e sair para a rua. “Quando chove é pior, porque a gente precisa usar o guarda-chuva para chegar lá”, conta um funcionário da Casa Civil do governo. “Ficou tão difícil fumar que até decidi parar”, diz ele. (...)

Quem considera a lei exagerada deve saber que São Paulo apenas se alinha a uma tendência mundial. Em Londres, desde 2007 não se pode fumar em espaços fechados, como *pubs*, cafés, restaurantes e escritórios. Lá, também foram extintos os fumódromos. Em Nova York, já é proibido fumar em lugares fechados, desde 2003. No estado americano da Califórnia, a lei é ainda mais dura. Há mais de um ano é vetado fumar dentro dos carros se um dos passageiros tiver menos de 18 anos. Na cidade de Belmont, também na Califórnia, a restrição chega aos lares. Não se podem acender cigarros em apartamentos que dividam chão, teto ou parede com outros. Os fumantes americanos têm outro problema com que se preocupar: eles pagam, em média, 25% a mais pelo plano de saúde, já que o cigarro está associado a um sem-número de doenças. O caso mais radical é o do Butão, pequeno país espremido entre a Índia e a China, que simplesmente banuiu a venda de tabaco em 2004. A brasa do tabagismo está-se apagando mundo afora. E a maioria não fumante não quer deixar que ela seja reavivada.

BRASIL, Sandra. *Revista Veja*, 15 abr. 2009. (Adaptado)

1

Na segunda frase do Texto I, (ℓ. 2-3) o autor emprega uma imagem coloquial e impactante que tem como objetivo

- (A) atrair a atenção do leitor ao apresentar, logo no princípio, uma opinião defendida na matéria.
- (B) contrastar de maneira jocosa o teor científico da matéria e a leveza do veículo utilizado.
- (C) ironizar a postura adotada em São Paulo acerca do fumo.
- (D) apresentar o argumento dos países estrangeiros para, em seguida, contrapô-lo.
- (E) revelar opiniões divergentes sobre o assunto proibição do fumo no Brasil.

2

O Texto I é uma matéria jornalística. Entretanto, emprega na sua estrutura construções que revelam um teor expressivo por meio do uso de figuras de linguagem, trocadilhos e ambiguidades. A passagem que **NÃO** serve de exemplo para essa afirmação é

- (A) “Mas agora, em São Paulo, fumar virou um inferno.” (ℓ. 2-3)
- (B) “bares terão de aposentar seus cinzeiros;” (ℓ. 7)
- (C) “É para deixar qualquer um sem fôlego.” (ℓ. 16-17)
- (D) “Em Nova York, já é proibido fumar em lugares fechados, desde 2003.” (ℓ. 29-30)
- (E) “A brasa do tabagismo está-se apagando mundo afora.” (ℓ. 43)

3

Na passagem “Os empresários que não se adequarem à lei em noventa dias poderão ser multados em até 3,2 milhões de reais.” (ℓ. 14-16), o termo **que** apresenta a mesma classe gramatical que em

- (A) “A lei é tão rigorosa que mesmo ambientes com teto alto e sem paredes,” (ℓ. 12-13)
- (B) “ ‘Ficou tão difícil fumar que até decidi parar’, ” (ℓ. 22-23)
- (C) “Quem considera a lei exagerada deve saber que São Paulo apenas se alinha a uma tendência mundial.” (ℓ. 24-25)
- (D) “Os fumantes americanos têm outro problema com que se preocupar:” (ℓ. 36-37)
- (E) “E a maioria não fumante não quer deixar que ela seja reavivada.” (ℓ. 44-45)

Texto II

RECORDE NA PRODUÇÃO DE RIQUEZAS
FAZ BRASIL SER A 12ª ECONOMIA MUNDIAL



WILLY. Tribuna da Imprensa (RJ), 02 abr. 05.

A charge é um gênero textual que apresenta um caráter burlesco e caricatural, em que se satiriza um fato específico, em geral de caráter político e que é do conhecimento público.

4

No plano linguístico, o humor da charge

- (A) tem como foco a imagem antagônica entre a palavra riqueza e a figura do homem maltrapilho.
- (B) baseia-se no jogo polissêmico da palavra economia, ora empregada como ciência, ora como conter gastos.
- (C) baseia-se na linguagem não verbal, que apresenta um homem subnutrido como um exemplo de brasileiro.
- (D) está centrado na ironia com que é tratada a produção de riquezas no Brasil.
- (E) reside na ideia de um morador de rua saber falar tão bem sobre assuntos como política, saúde e economia.

5

A primeira frase do personagem pode ser lida como uma hipótese formulada a partir da fala que faz a seguir. Apesar de não estarem ligadas por um conectivo, pode-se perceber a relação estabelecida entre as duas orações.

O conectivo que deve ser usado para unir essas duas orações, mantendo o sentido, é

- (A) embora.
- (B) entretanto.
- (C) logo.
- (D) se.
- (E) pois.

Texto III

Olívia se aproximou de Eugênio e com um lenço enxugou-lhe o suor da testa. Estava terminada a traqueostomia. A enfermeira juntava os ferros. Ruído de metais tinindo, de mesas se arrastando.

5 Eugênio tirou as luvas e foi tomar o pulso do pequeno paciente. A criança como que ressuscitava. A respiração voltava lentamente, a princípio superficial, depois mais funda e visível. O rosto perdia aos poucos a rigidez cianótica.

10 Eugênio examinava-lhe as mudanças do rosto com comovida atenção.

Vencera! Salvara a vida de uma criança!

A vida é boa! – pensava Eugênio. Ele tinha salvo uma criança. Começou a cantarolar baixinho

15 uma canção antiga que julgava esquecida. Sorvia com delícia o refresco impregnado do cheiro da gasolina queimada. Sentia-se leve e aéreo. Era como se dentro dele as nuvens de tempestade se tivessem despejado em chuva e sua alma agora estivesse

20 límpida, fresca e estrelada como a noite.

– Por que será – perguntou ele a Olívia – por que será que às vezes de repente a gente tem a impressão de que acabou de nascer... ou de que o mundo ainda está fresquinho, recém-saído das mãos

25 de quem o fez?

VERÍSSIMO, Érico. **Olhai os lírios do campo**. Rio de Janeiro: Globo, 1987. (Fragmento)

6

Para descrever a sensação do personagem em salvar a criança, no 4º parágrafo, o narrador emprega algumas estratégias como o uso de adjetivos, comparações, além de imagens poéticas.

Qual dos substantivos a seguir expressa tal sensação do personagem?

- (A) Cansaço
- (B) Angústia
- (C) Certeza
- (D) Empáfia
- (E) Alívio

7

Sinais de pontuação ajudam a revelar a expressividade de um texto. A exclamação presente no terceiro parágrafo (ℓ.12) do Texto III é empregada, sobretudo, para revelar

- (A) assombro.
- (B) indignação.
- (C) surpresa.
- (D) tensão.
- (E) admiração.

8

A Gramática da Língua Portuguesa prevê que o emprego do acento grave para indicar a ocorrência de crase pode ser facultativo em alguns casos.

Em qual das passagens transcritas do texto há a ocorrência da crase, e o emprego do acento grave é facultativo?

- (A) “Estava terminada **a** traqueostomia.” (l. 2-3)
- (B) “A respiração voltava lentamente, **a** princípio superficial, depois mais funda e visível.” (l. 7-8)
- (C) “Começou **a** cantarolar baixinho uma canção antiga que julgava esquecida.” (l. 14-15)
- (D) “– Por que será – perguntou ele **a** Olívia –” (l. 21)
- (E) “...a gente tem **a** impressão de que acabou de nascer...” (l. 22-23)

9

Na passagem “Eugênio examinava-lhe as mudanças do rosto com comovida atenção.” (l. 10-11), o pronome oblíquo **lhe** exerce função sintática idêntica ao termo destacado em

- (A) “Olívia se aproximou **de Eugênio...**” (l. 1)
- (B) “A enfermeira juntava **os ferros.**” (l. 3)
- (C) “A respiração voltava **lentamente,**” (l. 7)
- (D) “Vencera! Salvava a vida **de uma criança!**” (l. 12)
- (E) “Sentia-se **leve e aéreo.**” (l. 17)

Texto IV



Disponível em: <http://www.clickmarket.com.br>

10

Na propaganda apresentada, o texto verbal que sintetiza corretamente as ideias presentes estritamente na imagem é que o cigarro é um(a)

- (A) vício que leva as pessoas à morte.
- (B) instrumento de prazer e desgosto, ao mesmo tempo.
- (C) arma, e por meio dela você está se matando.
- (D) forma de sociabilização das pessoas, mas mata.
- (E) marca do desequilíbrio das pessoas, antes de tudo.

CONHECIMENTOS GERAIS II

11

Qual é a negação da proposição “Alguma lâmpada está acesa e todas as portas estão fechadas”?

- (A) Todas as lâmpadas estão apagadas e alguma porta está aberta.
- (B) Todas as lâmpadas estão apagadas ou alguma porta está aberta.
- (C) Alguma lâmpada está apagada e nenhuma porta está aberta.
- (D) Alguma lâmpada está apagada ou nenhuma porta está aberta.
- (E) Alguma lâmpada está apagada e todas as portas estão abertas.

12

Em uma urna há 5 bolas pretas, 4 bolas brancas e 3 bolas verdes. Deseja-se retirar, aleatoriamente, certa quantidade de bolas dessa urna. O número mínimo de bolas que devem ser retiradas para que se tenha certeza de que entre elas haverá 2 de mesma cor é

- (A) 8 (B) 7 (C) 5 (D) 4 (E) 3

13

Considere a pergunta e as três informações apresentadas a seguir.

Pergunta: Duílio é mais alto do que Alberto?

1ª informação: Alberto é mais alto que Bruno.

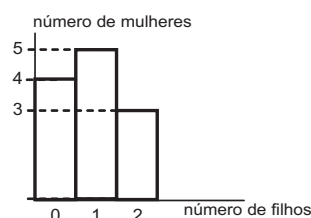
2ª informação: Alberto é mais alto que Carlos.

3ª informação: Duílio é mais alto que Bruno.

A partir desses dados, conclui-se que

- (A) a primeira informação e a segunda informação, em conjunto, são suficientes para que se responda corretamente à pergunta.
- (B) a primeira informação e a terceira informação, em conjunto, são suficientes para que se responda corretamente à pergunta.
- (C) a segunda informação e a terceira informação, em conjunto, são suficientes para que se responda corretamente à pergunta.
- (D) as três informações, em conjunto, são suficientes para que se responda corretamente à pergunta.
- (E) as três informações, em conjunto, são insuficientes para que se responda corretamente à pergunta.

14




O gráfico acima classifica 12 mulheres em função da quantidade de filhos. Juntando-se todos os filhos dessas mulheres, tem-se um total de filhos igual a

- (A) 8 (B) 10 (C) 11 (D) 12 (E) 15

15

A figura ao lado apresenta uma página sendo visualizada no Microsoft Internet Explorer em sua configuração padrão. Sobre a figura acima e os recursos do Microsoft Internet Explorer é **FALSO** afirmar que



- (A) o ícone  é utilizado para acessar o Windows Messenger.
- (B) a figura apresenta o Microsoft Internet Explorer com quatro guias abertas.
- (C) os Favoritos são páginas cujos links foram salvos pelo usuário para posterior acesso.
- (D) no campo Endereço pode ser digitado a URL do site que o usuário deseja navegar.
- (E) através do Microsoft Internet Explorer é possível navegar em sites que não são seguros.



16

Considere a tabela ao lado em uma planilha do Microsoft Excel, que apresenta a quantidade de empregados por setor de uma empresa.

A respeito do Excel e de seus recursos, são feitas as afirmativas a seguir.

- I – Para somar a quantidade de empregados da empresa, deve-se digitar, na célula B6, a fórmula =SOMA(B2:B5).
- II – Através do ícone , o usuário pode classificar os setores da empresa, em ordem alfabética crescente.
- III – O ícone  pode ser utilizado para definir bordas para as células da planilha.



	A	B
1	Setor	Quantidade de empregados
2	Financeiro	5
3	Compras	2
4	RH	2
5	Informática	20
6		
7		

Está(ão) correta(s) a(s) afirmativa(s)

- (A) I, somente.
- (B) II, somente.
- (C) I e II, somente.
- (D) II e III, somente.
- (E) I, II e III.

17

Para que possam funcionar, os microcomputadores devem estar dotados de recursos de hardware e de software. A esse respeito, é correto afirmar que a(o)

- (A) memória RAM é o software no qual o hardware de sistema operacional é processado.
- (B) unidade de DVD é um software que serve para gravar os arquivos usados pelo microcomputador.
- (C) Firefox é um conjunto de componentes eletrônicos, circuitos integrados e placas, que se comunicam através de barramentos.
- (D) Mapa de Caracteres do Windows XP é um hardware utilizado para gerenciar discos rígidos do microcomputador.
- (E) modem é um hardware que pode ser utilizado para fazer a comunicação entre o microcomputador e a Internet.

18

A Segurança da Informação se refere à proteção existente sobre as informações de uma determinada empresa ou pessoa, aplicando-se tanto às informações corporativas quanto às pessoais. Abaixo, são apresentadas algumas propriedades básicas que, atualmente, orientam a análise, o planejamento e a implementação da segurança para um determinado grupo de informações que se deseja proteger.

Relacione as propriedades apresentadas na coluna da esquerda com as respectivas descrições, na coluna da direita.

Propriedade	Descrição
I – Confidencialidade	(Q) Propriedade que limita o acesso à informação tão somente às entidades legítimas, ou seja, àquelas autorizadas pelo proprietário da informação.
II – Disponibilidade	(R) Propriedade que garante que a informação manipulada mantenha todas as características originais estabelecidas pelo proprietário da informação, incluindo controle de mudanças e garantia do seu ciclo de vida (nascimento, manutenção e destruição).
III – Integridade	

Estão corretas as associações:

- (A) I – Q; II – R
- (B) I – Q; III – R
- (C) I – R; II – Q
- (D) II – Q; III – R
- (E) II – R; III – Q

19

Nos termos da Lei nº 8.080/90 (Art. 6, I, a), inclui-se no campo de atuação do SUS, dentre outras, a execução de ações de vigilância sanitária. A este respeito, considere as afirmativas a seguir.

- I – À União é vedada a execução de ações e serviços de vigilância sanitária, cabendo à direção nacional apenas definir e coordenar os sistemas de vigilância sanitária.
- II – A execução de ações e serviços de vigilância sanitária é de competência dos Municípios, podendo ser exercida, em caráter complementar, pelos Estados.
- III – Aos Municípios é vedada a execução de ações e serviços de vigilância sanitária em portos, aeroportos e fronteiras.

Está(ão) correta(s) **APENAS** a(s) afirmativa(s)

- (A) I.
- (B) II.
- (C) III.
- (D) I e II.
- (E) I e III.

20

De acordo com o Art. 199 da Constituição Federal, “a assistência à saúde é livre à iniciativa privada”. No entanto,

- (A) só poderão participar do Sistema Único de Saúde as entidades privadas que sejam filantrópicas ou sem fins lucrativos.
- (B) é vedada a destinação de recursos públicos para subvenções às instituições privadas.
- (C) é vedada a participação de empresas estrangeiras na assistência à saúde no País.
- (D) as instituições privadas só poderão participar do Sistema Único de Saúde de forma complementar e em condições de igualdade entre si.
- (E) a participação das instituições privadas, incluindo as entidades filantrópicas e as sem fins lucrativos, só ocorrerá mediante contrato de direito público ou convênio.

21

A Lei nº 9.836/99 acrescentou à Lei nº 8.080/90 dispositivos que tratam do Subsistema de Atenção à Saúde Indígena. Sobre este Subsistema, é **INCORRETO** afirmar que

- (A) será financiado pela União, com recursos próprios, podendo Estados e Municípios atuar complementarmente no custeio e execução das ações.
- (B) será centralizado na União, podendo contar com a participação de instituições governamentais e não governamentais.
- (C) será descentralizado, hierarquizado e regionalizado, tal como o SUS.
- (D) atuará de forma articulada com os órgãos responsáveis pela Política Indígena do País.
- (E) deverá obrigatoriamente levar em consideração a realidade local e as especificidades da cultura dos povos indígenas.

22

A respeito dos direitos e garantias fundamentais previstos na Constituição Federal, considere as afirmativas a seguir.

- I – São gratuitos para os reconhecidamente pobres, na forma da lei, o registro civil de nascimento, a certidão de casamento e a certidão de óbito.
- II – Qualquer cidadão pode ajuizar uma ação popular para anular ato lesivo ao patrimônio público e à moralidade administrativa.
- III – Todos têm direito a receber dos órgãos públicos informações de seu interesse particular, salvo as informações cujo sigilo seja imprescindível à segurança da sociedade e do Estado.

Está(ão) correta(s) **APENAS** a(s) afirmativa(s)

- (A) I.
- (B) II.
- (C) I e II.
- (D) I e III.
- (E) II e III.

23

Suponha que seja aprovada uma lei estadual que estabeleça normas específicas sobre proteção e defesa da saúde. Esta lei será considerada

- (A) constitucional, porque é competência dos Estados editar normas específicas sobre proteção e defesa da saúde.
- (B) constitucional, porque são reservadas aos Estados as competências que não lhes são vedadas pela Constituição.
- (C) inconstitucional, porque é competência privativa da União legislar sobre proteção e defesa da saúde.
- (D) inconstitucional, porque é competência privativa dos Municípios editar normas específicas sobre proteção e defesa da saúde.
- (E) inconstitucional, porque é competência concorrente da União, dos Estados e dos Municípios legislar sobre proteção e defesa da saúde.

24

Considerando o Art. 2º da Lei Federal nº 4.717/65, que regula a ação popular, são elementos do ato administrativo:

- (A) a vinculação, a discricionariedade e a controlabilidade.
- (B) a competência, a forma, o objeto, a finalidade e o motivo.
- (C) a competência, a forma, a vinculação e a presunção de legalidade.
- (D) a presunção de legitimidade e a heteroexecutoriedade.
- (E) a presunção de legalidade, a economicidade e a eficiência.

25

Um candidato a um concurso buscou informações a respeito do provimento de cargos públicos. Ao consultar a Lei Federal nº 8.112/90, que dispõe sobre o Regime Jurídico dos Servidores Públicos Federais, verificou que

- (A) os cargos públicos são acessíveis a todos os brasileiros e somente podem ser criados por lei complementar, com denominação própria e vencimento pago pelo Tesouro.
- (B) o provimento de cargos comissionados depende de prévio procedimento público seletivo, e a exoneração é decisão discricionária da autoridade nomeante.
- (C) o concurso público terá validade de até três anos, podendo ser prorrogado uma única vez, por igual período.
- (D) é vedada a abertura de novo concurso público enquanto houver candidato aprovado em concurso anterior com prazo de validade não expirado.
- (E) é livre a nomeação para cargos em comissão, e a exoneração depende de processo administrativo em que seja assegurada ao servidor ampla defesa.

26

No que tange ao regime jurídico dos servidores públicos, analise as afirmativas abaixo.

- I – O servidor público responde civil, penal e administrativamente pelo exercício irregular de suas atribuições.
- II – Os atos de improbidade administrativa importarão a cassação de direitos políticos, a perda da função pública, a indisponibilidade dos bens e o ressarcimento ao erário.
- III – A responsabilidade civil decorre de ato omissivo ou comissivo, doloso ou culposo, que importe prejuízo ao patrimônio do Estado ou de terceiros.
- IV – A ação disciplinar prescreve em cinco anos, seja qual for a natureza da infração administrativa cometida pelo servidor.

É(São) correta(s) **APENAS** a(s) afirmativa(s)

- (A) I. (B) III.
- (C) I e III. (D) I e IV.
- (E) I, II e III.

27

Em processos administrativos, a exigência de interpretação da norma administrativa da forma que melhor garanta o atendimento do fim público a que se dirige, vedada a aplicação retroativa de nova interpretação, decorre da aplicação do princípio de

- (A) ampla defesa. (B) publicidade.
- (C) razoabilidade. (D) motivação.
- (E) segurança jurídica.

Considere a proposição abaixo para responder às questões de nºs 28 e 29.

O Estatuto da Fundação Nacional de Saúde – FUNASA (Decreto Federal nº 4.727/2003) – regula uma série de procedimentos e de competências.

28

De acordo com seu Estatuto, a FUNASA é

- (A) fundação pública vinculada ao Ministério da Saúde, constituindo entidade de promoção e proteção à saúde.
- (B) fundação pública regida inteiramente pelo Direito Privado, à qual compete fomentar soluções de saneamento para prevenção e controle de doenças.
- (C) fundação pública independente, com competência para baixar normas de vigilância sanitária.
- (D) autarquia pública vinculada ao Ministério da Saúde, à qual compete promover políticas de prevenção e controle de doenças e outros agravos à saúde.
- (E) agência reguladora vinculada ao Ministério da Saúde, à qual compete baixar normas de vigilância sanitária.

29

Analise as seguintes atribuições:

- I – prevenir e controlar doenças e outros agravos à saúde;
- II – assegurar a saúde dos povos indígenas;
- III – administrar e arrecadar a taxa de fiscalização de vigilância sanitária;
- IV – fomentar soluções de saneamento para prevenção e controle de doenças.

Competem à FUNASA as atribuições

- (A) I e IV, apenas.
- (B) II e III, apenas.
- (C) I, II e III, apenas.
- (D) I, II e IV, apenas.
- (E) I, II, III e IV.

30

No âmbito da FUNASA, a instauração de processos administrativos disciplinares e de Tomada de Contas Especiais compete à(o)

- (A) Procuradoria Federal.
- (B) Auditoria Interna.
- (C) Departamento de Planejamento e Desenvolvimento Institucional.
- (D) Departamento de Engenharia de Serviço Público.
- (E) Departamento de Administração.

CONHECIMENTOS ESPECÍFICOS

31

A proposta de Reforma do Estado desenvolvida pelo governo federal, contendo o Plano Diretor da Reforma do Aparelho do Estado de 1995, identificava claramente a necessidade de redefinição do papel do Estado, apontando um quadro de crise que se diferenciava em várias dimensões, dentre elas, a crise fiscal, definida por

- (A) uso clientelista das instituições públicas.
- (B) perda de crédito público e por poupança pública negativa.
- (C) esgotamento do modelo protecionista de substituição de importações em vigor desde os anos 30.
- (D) desprofissionalização dos quadros de pessoal e extremo enrijecimento burocrático.
- (E) fracasso do modelo de Estado de bem-estar inspirado em valores da social-democracia europeia.

32

Accountability, Governabilidade e Governança são categorias muito utilizadas pelos cientistas políticos e por profissionais especializados na área de administração pública, cujos conceitos são importantes para a compreensão da formulação e da implementação das políticas públicas. Nesse contexto, como se caracteriza o conceito de Governabilidade?

- (A) Conjunto dos mecanismos e procedimentos para lidar com a dimensão participativa e plural da sociedade, o que implica expandir e aperfeiçoar os meios de interlocução e de administração do jogo de interesses.
- (B) Capacidade governativa em sentido amplo, envolvendo a capacidade de ação estatal na formulação e implementação das políticas, tendo em vista a consecução de metas coletivas.
- (C) Condições sistêmicas mais gerais sob as quais se dá o exercício do poder numa dada sociedade, refletindo características do sistema político, como a forma do governo, as relações entre os poderes, o sistema partidário e de intermediação de interesses.
- (D) Efetividade das políticas públicas elaboradas por governos, caracterizadas pelo rigor dos mecanismos que induzem os decisores a prestar contas dos resultados de suas ações, garantindo a transparência.
- (E) Prestação de contas pelo governo à Sociedade como fator de exposição pública das políticas.

33

Uma das grandes questões a serem enfrentadas pelas metrópoles nos dias de hoje é como tornar viável uma administração mais próxima dos cidadãos, como nos pequenos Municípios. Boa parte dos estudiosos converge para uma mesma solução, que estaria na descentralização e na criação de canais de participação popular. Entretanto, o tema, em geral, é tratado como se descentralização e participação fossem meras categorias administrativas. Nesta perspectiva, conceitua-se descentralização como

- (A) categoria administrativa voltada para a democratização do processo decisório cuja tônica se encontra na delegação de autoridade e autonomia.
- (B) prática de aproximar as estruturas prestadoras de serviços municipais dos cidadãos, situando-as nos locais de demanda destes serviços.
- (C) participação organizada dos cidadãos na tomada de decisões sobre as políticas públicas municipais.
- (D) criação de mecanismos que permitam o desenvolvimento de parceria entre governo e sociedade.
- (E) criação de mecanismos que permitam a participação dos cidadãos na elaboração do orçamento.

34

Admita a hipótese de que uma empresa tenha prazo determinado para o seu encerramento. Neste caso específico de liquidação da empresa, os ativos devem ser contabilizados pelo valor de

- (A) liquidação.
- (B) custo.
- (C) entrada.
- (D) realização.
- (E) estimativa.

35

Analise cuidadosamente o lançamento a seguir, sem data, valor e histórico, realizado por uma empresa prestadora de serviços.

Peças de Reparo
a Fornecedores

Tal registro indica que a empresa realizou

- (A) compra de peças para estoque, a prazo.
- (B) compra de peças para estoque, à vista.
- (C) despesa com peças de reparo, a prazo.
- (D) despesa com peças de reparo, à vista.
- (E) requisição de peças para consumo, a prazo.

36

A Copiadora Ideal paga os salários de seus empregados pelo regime de competência, até o 5º dia do mês seguinte, em cheque. Desse modo, o reconhecimento da despesa de salários deve ser feito da seguinte forma:

Débito	Crédito
(A) Banco conta Movimento	Salários a Pagar
(B) Despesa de Salário	Caixa
(C) Despesa de Salário	Banco conta Movimento
(D) Despesa de Salário	Salários a Pagar
(E) Salários a Pagar	Banco conta Movimento

37

A Empresa Pintura do Futuro presta serviços de manutenção e pintura de casas e apartamentos. Em janeiro de 2009, contratou a realização de um serviço de pintura a ser feito no mês de abril de 2009, recebendo o valor integral da operação no ato da contratação do serviço.

O registro contábil desse recebimento deve ser feito da seguinte forma:

Débito	Crédito
(A) Adiantamento de Clientes	Caixa
(B) Adiantamento de Clientes	Receita de Serviços
(C) Adiantamento para Serviços	Caixa
(D) Caixa	Receita de Serviços
(E) Caixa	Adiantamento de Clientes

38

A base de cálculo do imposto de renda, nas pessoas jurídicas, é o lucro. O cálculo do imposto de renda correspondente ao período de apuração terá por base o lucro real e o lucro

- (A) arbitrado e estimado.
- (B) arbitrado e presumido.
- (C) contábil e arbitrado.
- (D) contábil e presumido.
- (E) estimado e presumido.

39

Para efeito de PIS e COFINS, as entidades imunes são identificadas na Constituição Federal. Sabe-se que as imunidades podem ser objetivas ou subjetivas.

A imunidade é considerada objetiva quando

- (A) a operação é considerada imune e a pessoa jurídica que a pratica, não.
- (B) a operação é considerada imune e a pessoa jurídica que a pratica, também.
- (C) a própria pessoa jurídica é considerada imune.
- (D) a própria pessoa jurídica imune pratica atividades específicas.
- (E) União, estados e municípios praticam atividades empresariais.

40

Em Contabilidade Tributária, considere os seguintes requisitos:

- I – aplicar seus recursos integralmente no País, na manutenção de seus objetivos institucionais;
- II – estar legalmente habilitado e ser reconhecido como de utilidade pública;
- III – manter escrituração de suas receitas e despesas em livros revestidos de formalidades capazes de assegurar sua exatidão;
- IV – manter representação partidária em pelo menos 3/4 dos municípios;
- V – não distribuir qualquer parcela de seu patrimônio ou de suas rendas, a título de participação no resultado ou lucro.

Para determinar a imunidade dos partidos políticos ao recolhimento do PIS e COFINS, devem ser aplicados, de forma cumulativa, os requisitos

- (A) I, II e III.
- (B) I, II e IV.
- (C) I, III e V.
- (D) II, III e IV.
- (E) II, III e V.

41

Considere as seguintes informações, fornecidas pela Comercial Lopes, relativas a determinado período de operações comerciais:

- ICMS sobre vendas, apurado no período, R\$ 280.000,00;
- ICMS pago no mesmo período das vendas, R\$ 65.000,00.

Admita que a empresa, nesse mesmo período:

- não teve estoque inicial de mercadorias;
- só comprou mercadorias de empresas comerciais sediadas no mesmo estado;
- teve alíquota de ICMS, de 20%, em todas as operações realizadas;
- apurou, ao final, um estoque de mercadorias no valor de R\$ 205.000,00;
- concedeu um desconto de R\$ 15.000,00, para recebimento antecipado de uma das vendas a prazo.

Considerando exclusivamente as informações recebidas da Companhia, o lucro bruto apurado, nesse período, em reais, foi

- (A) 420.000,00
- (B) 450.000,00
- (C) 465.000,00
- (D) 550.000,00
- (E) 745.000,00

42

Um investidor aplicou, durante quatro meses, determinada quantia em um título que rende juros simples de 2,5% ao mês. O valor de resgate deste título será de R\$ 55.000,00. Com base no que foi informado, o valor da aplicação, em reais, foi

- (A) 45.454,54
- (B) 50.000,00
- (C) 52.255,52
- (D) 52.500,00
- (E) 54.545,45

43

A Companhia Trilhos obteve um empréstimo no Banco em que opera, com as características apresentadas a seguir.

Prazo de resgate:	2 anos
Taxa de juros compostos:	12% ao ano
Valor final a pagar:	R\$ 150.000,00

Com base nesses dados, conclui-se que o valor do empréstimo obtido, em reais, foi

- (A) 129.975,80
- (B) 122.111,11
- (C) 120.000,00
- (D) 119.579,08
- (E) 118.891,99

44

Em Contabilidade Pública, pode ser classificada como receita de capital aquela oriunda de

- (A) agropecuária.
- (B) bem extrapatrimonial.
- (C) transferências correntes.
- (D) transferência de crédito.
- (E) alienação de bens.

45

A Lei Orçamentária Anual (LOA) engloba o(s)

- (A) Plano Plurianual, a Lei de Diretrizes Orçamentárias e o orçamento-programa.
- (B) Plano Plurianual e o orçamento base-zero.
- (C) orçamento de receitas e despesas, o orçamento de créditos adicionais e o orçamento de reservas especiais.
- (D) orçamento fiscal, o orçamento de investimentos das estatais e o orçamento da seguridade social.
- (E) orçamentos dos três poderes: Executivo, Legislativo e Judiciário.

46

O registro que caracteriza a arrecadação de uma receita de capital decorrente de operações de crédito, pelo ente público, no sistema financeiro, é o seguinte:

- D: Bancos
- C: Receita Arrecadada
Receita de Capital

Qual o registro da mesma arrecadação no sistema patrimonial?

- (A) D: Execução da Receita
Empréstimos Obtidos
C: Receita Prevista
Receita de Capital
- (B) D: Receita Prevista
Receita de Capital
C: Variações Ativas
Empréstimos Obtidos
- (C) D: Variações Passivas
Alienação dos Bens Imóveis
C: Bens Imóveis
Receita de Capital
- (D) D: Variações Passivas
Empréstimos Tomados
C: Dívida Fundada Interna
Empréstimos em Títulos
- (E) D: Créditos Inscritos
Cobrança de Dívida Ativa
C: Receita Arrecadada
Receita de Capital

47

Pode-se conceituar orçamento como ferramenta legal de planejamento, em que são apresentadas as receitas e despesas que serão realizadas pelo ente, em um determinado período, objetivando a execução de programas de governo (manutenção e investimentos), bem como as transferências legais e voluntárias, os pagamentos de dívidas e outros encargos decorrentes da atividade estatal.

As receitas e despesas descritas neste conceito referem-se a

	Receitas	Despesas
(A)	previstas	fixadas
(B)	previstas	previstas
(C)	orçadas	previstas
(D)	recebidas	diferidas
(E)	arrecadadas	empenhadas

48

Dentre os itens de custos abaixo, assinale aquele que sistematicamente possui uma parte direta e outra indireta.

- (A) Depreciação das máquinas.
- (B) Matéria-prima.
- (C) Embalagem.
- (D) Aluguel de fábrica.
- (E) Mão de obra.

49

Na Cia. Industrial Vale Dourado, os custos indiretos a ratear entre os produtos X e Y totalizam R\$ 23.500,00. A Companhia faz o rateio desses custos com base na matéria-prima utilizada na fabricação de cada produto. Sabe-se que:

- cada unidade do produto X consome 12 kg de matéria-prima, e cada unidade do produto Y, 13 kg;
- foram produzidas 1.000 unidades do produto X;
- o custo direto do produto X é R\$ 15,00 por unidade.

Com base exclusivamente nos dados acima, o custo unitário total do produto X, em reais, é

- (A) 25,00
- (B) 26,28
- (C) 26,55
- (D) 27,22
- (E) 27,25

50

No critério de custeio variável, somente os custos variáveis são alocados aos produtos, ficando os custos fixos separados e considerados como

- (A) custos indiretos.
- (B) custos diretos.
- (C) custos semivariáveis.
- (D) custos semifixos.
- (E) despesas.

51

A Cia. Industrial Divina Comédia possui três departamentos de produção: Corte, Montagem e Acabamento.

Em abril de 2008, ao realizar a distribuição dos custos pelo critério de departamentalização, rateou os custos de energia elétrica para os três departamentos, considerando o critério de número de máquinas, conforme apresentado a seguir.

- Departamento de Corte: 12 máquinas
- Departamento de Montagem: 2 máquinas
- Departamento de Acabamento: 4 máquinas

Sabe-se que as máquinas registram o mesmo consumo de energia por hora trabalhada, e que o consumo de energia elétrica do período somou R\$ 18.000,00.

Qual a apropriação de custos de energia elétrica por departamento, em reais?

	CORTE	MONTAGEM	ACABAMENTO
(A)	10.000,00	6.000,00	2.000,00
(B)	10.000,00	4.000,00	4.000,00
(C)	12.000,00	2.000,00	4.000,00
(D)	12.000,00	4.000,00	2.000,00
(E)	14.000,00	2.000,00	2.000,00

52

A despesa pública deve obedecer aos seguintes princípios: utilidade, legitimidade, oportunidade, legalidade e economicidade.

O princípio da oportunidade evidencia-se na execução da despesa, em função

- (A) de uma necessidade pública e de uma necessidade coletiva.
- (B) da razoável certeza de ocorrência e da tempestividade do registro da despesa.
- (C) da tempestividade e da integridade do registro da despesa.
- (D) da proteção à sociedade contra violações dos direitos e da proteção ao indivíduo contra injustiças e opressões.
- (E) da aceitação coletiva de sua legitimidade e da capacidade contributiva dos indivíduos e das entidades.

53

“É a aplicação de recursos públicos na realização dos gastos necessários à manutenção e expansão dos serviços públicos.”

O texto acima indica o conceito de

- (A) créditos adicionais.
- (B) restos a pagar.
- (C) despesa diferida.
- (D) despesa orçamentária.
- (E) despesa extraorçamentária.

54

De acordo com o Art. 105 parágrafo 3º da Lei nº 4.320/64, o Passivo Financeiro, demonstrado no Balanço Patrimonial, compreende os compromissos que

- (A) passaram pela lei orçamentária anual.
- (B) independem de autorização orçamentária para seu pagamento.
- (C) representam somente os desembolsos financeiros.
- (D) decorrem somente de empréstimos contraídos pela Administração Pública.
- (E) decorrem somente de depósitos de terceiros.

55

O Art. 17 da Lei nº 8.666/93 determina:

A alienação de bens da Administração Pública, subordinada à existência de interesse público devidamente justificado, será precedida de avaliação e obedecerá às seguintes normas:.....

Na alienação de imóveis de órgãos da administração direta, entidades autárquicas e fundacionais, conforme reza o item I do mesmo artigo, é necessário que exista

- (A) autorização do Poder Legislativo.
- (B) análise prévia de órgão de controle como Controladoria ou Auditoria da União, dos Estados ou Municípios.
- (C) certificação prévia e expressa do Tribunal de Contas.
- (D) arbitramento da Secretaria Patrimonial do Estado.
- (E) laudo elaborado por três peritos nomeados pelo Poder Judiciário.



2

Com base no balancete preliminar a seguir e aplicando a boa técnica da contabilidade pública, fundamentada na Lei Federal nº 4.320/64, responda aos itens que seguem.

Itens	Sistema	Saldos	D/C
Caixa (Tesouraria)	Financeiro	20.000,00	D
Bancos C/Movimento	Financeiro	214.000,00	D
Salário Família a Receber	Financeiro	2.000,00	D
Depósitos Diversos	Financeiro	49.000,00	C
Fornecedores do Exercício	Financeiro	85.000,00	C
Pessoal a pagar do Exercício	Financeiro	35.000,00	C
Encargos Sociais a Recolher	Financeiro	47.000,00	C
Bens Móveis	Patrimonial	210.000,00	D
Bens Imóveis	Patrimonial	321.500,00	D
Almoxarifado	Patrimonial	154.000,00	D
Dívida Ativa	Patrimonial	104.000,00	D
Empréstimos Concedidos	Patrimonial	318.000,00	D
Operações de Crédito em Títulos	Patrimonial	756.000,00	C
Operações de Crédito em Contratos	Patrimonial	210.000,00	C
Patrimônio Líquido Anterior	Patrimonial	95.400,00	C
Resultado do Exercício	Patrimonial	66.100,00	C

a) Ocorreu superávit ou déficit financeiro? Apresente o valor respectivo e explique a razão de sua existência.

b) Informe o valor do Ativo real e o do Passivo real.

c) Indique se a entidade possui Ativo real líquido ou Passivo a descoberto, fundamentando a sua resposta.

(valor: 10,0 pontos)



a)

RASCUNHO

b)

RASCUNHO

c)

RASCUNHO