









MOTORISTA

01. O motor explode fora do tempo ou, então, engasga. É uma causa possível:
- Os cabos das velas de ignição estão instalados na ordem errada.
 - O afogador não está funcionando direito.
 - A cuba do carburador não tem combustível suficiente.
 - Não há faíscas nas velas.
02. A placa auxiliar abaixo indica:
- 
- Proibido parar.
 - Proibido estacionar.
 - Estrada à direita.
 - Área de estacionamento.
03. Dirigir com farol desregulado, atrapalhando outros motoristas, é considerada uma infração:
- Leve.
 - Média.
 - Grave.
 - Gravíssima.
04. São os perigos de desgaste excessivo da suspensão, exceto:
- Aumenta a possibilidade de derrapagem em solo molhado.
 - O sistema de ABS não funciona adequadamente sem as rodas tocarem o solo.
 - Menor estabilidade em curvas.
 - Menor distância de frenagem.
05. Três silvos breves emitidos pelo agente da autoridade de trânsito significam que, o motorista:
- Deve parar o veículo.
 - Deve acender as lanternas do seu veículo.
 - Deve acelerar o veículo.
 - Acabou de cometer uma infração.
06. Não prejudica a vida útil da embreagem do veículo:
- Reduzir a velocidade freando ou desacelerando subitamente o motor.
 - Sempre sair em primeira marcha, nunca em segunda.
 - Numa rampa segurar o veículo utilizando a embreagem como freio.
 - Ultrapassar a capacidade de carga especificada pelo fabricante do veículo.
07. De acordo com sua utilização, as vias se classificam em:
- Urbanas e rurais.
 - Principais e arteriais.
 - Rodovias e estradas.
 - Avenidas e ruas.
08. A placa auxiliar abaixo indica:
- 
- Área escolar.
 - Ponto de parada.
 - Traffic permitido para veículos pesados.
 - Estacionamento de trailer.
09. Onde não existir sinalização indicadora de velocidade, o motorista poderá atingir nas vias coletoras até:
- 30 km/h.
 - 40 km/h.
 - 50 km/h.
 - 60 km/h.
10. Durante a aceleração o motor apresenta falhas e uma leve hesitação. São causas possíveis, exceto:
- A bomba de aceleração está com defeito.
 - O carburador está entupido.
 - O pistão de um carburador de jato variável está prendendo ou o diafragma está furado.
 - As velas estão superaquecendo.
11. Condutores de veículos articulados com reboque ou semi-reboque, cujo peso ultrapasse a 6 toneladas ou cuja lotação ultrapasse a 8 lugares, excluindo-se o motorista é a categoria para puxar trailers, independente do peso ou da lotação dos mesmos. Trata-se de qual categoria de C.N.H.?
- B.
 - C.
 - D.
 - E.
12. A figura abaixo representa uma placa:
- 
- De circulação.
 - Auxiliar.
 - Educativa.
 - Indicativa.
13. O candidato que vai se habilitar para a categoria "D" deverá realizar o exame de direção veicular em veículo:
- Que tenha, no mínimo, 8 (oito) lugares, sem contar com o do condutor.
 - Que tenha, no mínimo, 15 (quinze) lugares, sem contar com o do condutor.
 - Que tenha, no mínimo, 20 (vinte) lugares, sem contar com o do condutor.
 - Que tenha, no mínimo, 36 (trinta e seis) lugares, sem contar com o do condutor.
14. A placa de trânsito abaixo indica:
- 
- Ambulância.
 - Cruzamento de vias.
 - Pronto Socorro.
 - Aeroporto.
15. Efetuar retorno em local proibido é considerado uma infração:
- Leve.
 - Média.
 - Grave.
 - Gravíssima.
16. Para fazer ultrapassagem e circular em maior velocidade deve ser utilizada:
- As faixas de trânsito da direita.
 - As faixas de trânsito da esquerda.
 - As faixas de trânsito do meio.
 - As faixas de trânsito que estiverem com melhor fluxo.

17. A Alfândega é representada por qual placa abaixo?

- a) 
- b) 
- c) 
- d) 

18. Devemos verificar o nível do óleo do câmbio a cada:

- a) 10.000 km.
b) 30.000 km.
c) 40.000 km.
d) 45.000 km.

Análise as infrações de trânsito abaixo e responda as questões 19, 20, 21, 22, e 23:

- I- *Deixar de dar passagem pela esquerda quando isso for solicitado por outro veículo.*
II- *Dirigir com a Carteira vencida há mais de trinta dias.*
III- *Usar luz alta em vias com iluminação pública.*
IV- *Seguir ambulância, carro de bombeiros ou de polícia.*
V- *Jogar lixo pela janela do veículo.*
VI- *Deixar de prestar socorro à vítima no acidente em que estiver envolvido.*
VII- *Parar o veículo sobre a faixa de pedestre na mudança de sinal luminoso.*
VIII- *Dirigir na contramão em via de mão dupla.*
IX- *Bloquear via com o veículo.*

19. Qual dessas infrações é considerada leve?

- a) Apenas a VII.
b) Apenas a III.
c) Apenas a I.
d) Apenas a VIII.

20. Quais dessas infrações acarretam 5 pontos na carteira?

- a) IV e VIII.
b) I e V.
c) VIII e IX.
d) III e IV.

21. É considerada uma infração gravíssima:

- a) IV.
b) I.
c) VII.
d) IX.

22. Equivale multa de 120 ufirs:

- a) IV.
b) VII.
c) II.
d) III.

23. É considerada uma infração média:

- a) V.
b) III.
c) IV.
d) II.

24. Parar o veículo por falta de combustível é considerada uma infração de:

- a) 50 UFIRS.
b) 80 UFIRS.
c) 120 UFIRS.
d) 180 UFIRS.

25. Os freios travam e puxam violentamente quando acionados. Não é uma causa possível:

- a) Uma das lonas de freio está contaminada por fluido de freio ou óleo.
b) Os discos ou tambores racham ou empenaram.
c) O cilindro mestre quebrou.
d) Os freios a tambor, se houver, precisam de regulagem.

26. A placa de trânsito abaixo indica:



- a) Pode atravessar.
b) Faixa exclusiva de pedestres.
c) Perigo de acidente.
d) Pedestre ande pela direita.

27. Conduzir o carro sobre calçadas, passarelas, ciclo vias, gramados ou jardins públicos a multa é de:

- a) 150 UFIRS.
b) 180 UFIRS.
c) 540 UFIRS.
d) 900 UFIRS.

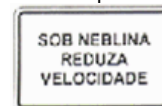
28. Em condições normais de uso um amortecedor mantém sua ação original em média durante:

- a) 10.000 km, de acordo com especificações do fabricante.
b) 20.000 km, de acordo com especificações do fabricante.
c) 40.000 km, de acordo com especificações do fabricante.
d) 60.000 km, de acordo com especificações do fabricante.

29. O candidato que pretende se habilitar na categoria "C" deverá preencher os seguintes requisitos, exceto:

- a) 1 Ano de Categoria "B".
b) Não ser reincidente em infrações Médias, nos últimos doze meses.
c) Não ser reincidente em infrações Leves, nos últimos seis meses.
d) Não ter cometido infrações Graves ou Gravíssimas.

30. A figura abaixo representa uma placa:



- a) De advertência.
b) Auxiliar.
c) Educativa.
d) De circulação.

31. Qual a principal função do óleo de motor?

- a) Lubrificar as partes de atrito do motor e também resfriá-lo.
b) Fazer o carro funcionar.
c) Equilibrar os líquidos internos do motor.
d) Fazer com que os freios funcionem normalmente.

32. Onde não existir sinalização indicadora de velocidade, o motorista poderá atingir nas vias de trânsito rápido até:

- a) 60 km/h.
b) 70 km/h.
c) 80 km/h.
d) 120 km/h.

33. A placa de trânsito abaixo indica:



- a) Saliência ou lombada.
b) Depressão.
c) Pista irregular.
d) Pista escorregadia.

34. A embreagem está muito dura, isso por que:
- O eixo do pedal está enroscado.
 - Numa embreagem hidráulica, o cilindro mestre ou o servocilindro emperrou.
 - O regulador automático quebrou.
 - Entrou ar no sistema hidráulico.
35. Conduzir veículo automotor, na via pública, sob a influência de álcool ou substância de efeitos análogos, expondo a dano potencial a incolumidade de outrem a pena é:
- Detenção, de seis meses a um ano, ou multa.
 - Detenção, de seis meses a dois anos e suspensão ou proibição de se obter a permissão ou a habilitação para dirigir veículo automotor.
 - Detenção, de dois a quatro anos, e suspensão ou proibição de se obter a permissão ou a habilitação para dirigir veículo automotor.
 - Detenção, de seis meses a três anos, multa e suspensão ou proibição de se obter a permissão ou a habilitação para dirigir veículo automotor.
36. Assinale a alternativa em que todas as palavras estão escritas corretamente:
- Cafajeste – hereje – jejum – apojeu.
 - Genjibre – tangerina – majestade – monge.
 - Canjica – rabujice – jiló – gorjeta.
 - Enrijecer – agiotagem – vertigem – varejista.
37. Analise a alternativa que corresponde à figura de linguagem retratada na frase abaixo:
Sua doce voz nos cativa.
- Sinestesia.
 - Pleonasmo.
 - Polissíndeto.
 - Antítese.
38. Analise sintaticamente o termo grifado e assinale a alternativa correta quanto a sua classificação:
Os amigos de Rafael, que moravam no mesmo prédio, eram sócios do clube.
- Vocativo.
 - Aposto.
 - Adjunto Adnominal.
 - Adjunto Adverbial.
39. Em qual das alternativas o verbo sublinhado encontra-se no futuro do pretérito simples do modo indicativo?
- Ele seria mais feliz com a primeira namorada.
 - Nós andaremos no carro de Celso.
 - Eles marcaram a festa no domingo.
 - Tu és a pessoa mais linda desse mundo.
40. Assinale a alternativa que possui o sinônimo da palavra “**brando**”?
- Claro.
 - Suave.
 - Forte.
 - Duro.
41. Em uma reunião de condomínio estão presentes apenas 10 condôminos e necessita-se formar uma comissão de três pessoas. De quantas formas diferentes pode ser formada essa comissão?
- 604.800.
 - 64.800.
 - 720.
 - 120.
42. Em uma pirâmide de base quadrada, a medida da aresta da base é a terça parte da medida da altura. Se o volume dessa pirâmide é 216 cm^3 , a aresta da base mede em centímetros:
- 3.
 - $4 \sqrt[3]{3}$.
 - 6.
 - $5 \sqrt[3]{2}$.
43. Comprei um lote de ações que se valorizou 5% no primeiro mês, 7% no segundo mês e 8% no terceiro mês. Qual foi o percentual de valorização nos 3 meses?
- 2.133,8 %.
 - 213,38 %.
 - 121,33 %.
 - 21,338 %.
44. Um barril vazio pesa 200 dag, e completamente cheio de óleo pesa 480 hg. Sabendo-se que a capacidade do barril é de 480 dl, o peso de 1 dm^3 do conteúdo é de aproximadamente:
- 4.500 dg.
 - 405 dg.
 - 958 g.
 - 95,8 dg.
45. A razão entre o ângulo externo e o ângulo interno do mesmo polígono é $\frac{1}{5}$. Qual é polígono?
- Hexágono.
 - Icoságono.
 - Dodecágono.
 - Pentágono.
46. A promulgação da Constituição de 1.967 se deu no governo:
- Castelo Branco.
 - Costa e Silva.
 - Collor de Mello.
 - Jânio Quadros.
47. O Ato Institucional nº 5, em 1.968, foi deflagrado no governo de:
- Café Filho.
 - Eurico Gaspar Dutra.
 - General Costa e Silva.
 - General Ernesto Geisel.
48. As cidades de Paulínia, Monte Verde e Itaguaí localizam-se no Estado de:
- Rio de Janeiro.
 - São Paulo.
 - Minas Gerais.
 - As alternativas a, b e c estão incorretas.
49. A produção das indústrias metalúrgica e siderúrgica destacam-se na cidade de:
- Cabo Frio.
 - Volta Redonda.
 - Alfenas.
 - Poços de Caldas.
50. A acadêmica Zélia Gattai, recentemente falecida, era esposa do famoso escritor:
- Fernando Morais.
 - Artur da Távola.
 - Paulo Coelho.
 - Jorge Amado.