

AGENTE DE SERVIÇOS GERAIS

01. Assinale a alternativa em que todas as palavras estão escritas corretamente:
- Cafajeste – hereje – jejum – apojeu.
 - Genjibre – tangerina – majestade – monge.
 - Canjica – rabujice – jiló – gorjeta.
 - Enrijecer – agiotagem – vertigem – varejista.
-
02. Analise a alternativa que corresponde à figura de linguagem retratada na frase abaixo:
Sua doce voz nos cativa.
- Sinestesia.
 - Pleonasmo.
 - Polissíndeto.
 - Antítese.
-
03. Analise sintaticamente o termo grifado e assinale a alternativa correta quanto a sua classificação:
Os amigos de Rafael, que moravam no mesmo prédio, eram sócios do clube.
- Vocativo.
 - Aposto.
 - Adjunto Adnominal.
 - Adjunto Adverbial.
-
04. Complete a frase abaixo e assinale a alternativa correta:
Ele perdeu o _____ e _____ a fogueira.
- Censo – acendeu.
 - Senso – ascendeu.
 - Senso – acendeu.
 - Censo – ascendeu.
-
05. Em qual das alternativas abaixo a concordância está incorreta?
- Não faltará pessoas que se inscrevam na corrida.
 - Eram cinqüenta homens em apenas uma cela.
 - João e Lúcia contaram com ajuda de seus vizinhos.
 - Andréa e Guilherme casaram-se na data planejada.
-
06. Em qual das alternativas o verbo sublinhado encontra-se no futuro do pretérito simples do modo indicativo?
- Ele seria mais feliz com a primeira namorada.
 - Nós andaremos no carro de Celso.
 - Eles marcaram a festa no domingo.
 - Tu és a pessoa mais linda desse mundo.
-
07. Assinale a alternativa em que há erro ortográfico:
- O encanador afrouxou a rosca com o alicate.
 - Ele estava ansioso para conhecer Franco da Rocha.
 - Por obséquio, passe-me a caneta.
 - O carangueijo assado estava delicioso.
-
08. Assinale a alternativa que possui o sinônimo da palavra “**brando**”?
- Claro.
 - Suave.
 - Forte.
 - Duro.
-
09. Assinale a alternativa em que o verbo sublinhado não corresponde com a sua classificação:
- As crianças estudiosas brincam – verbo intransitivo.
 - Ele cogitou em abandonar o cargo – verbo transitivo direto.
 - Ele achou a carteira no chão – verbo transitivo direto.
 - Assim que Ricardo me chamou, parei – verbo intransitivo.
-
10. Analise a frase abaixo e assinale a alternativa que possui o antônimo do termo sublinhado:
O ourives olhou com soberba para a pobre mulher.
- Arrogância.
 - Orgulho.
 - Penas.
 - Humildade.
-
11. Analise as assertivas abaixo e assinale a alternativa correta:
- O garoto comeu duas barras de chocolate.
 - Suzana nos chama.
 - Assistimos ao jogo.
- Em I, II e III há objeto direto.
 - Em II, o objeto indireto é “chama”.
 - Somente em III há objeto indireto.
 - Em II e III há objeto indireto.
-
12. Analise as frases abaixo em relação à utilização da crase e assinale a alternativa correta:
- Pintava quadros a óleo.
 - Ele foi à cidade de Franco da Rocha prestar um concurso.
 - Dirigi-me àquele Senhor com a educação necessária.
- Somente II está correta.
 - Somente I está incorreta.
 - I e II estão corretas.
 - Todas estão corretas.
-
13. O coletivo dos substantivos abaixo é, respectivamente:
Utensílios de mesa – Pessoas religiosas – Ladrões
- Chusma – cordoalha – corja.
 - Baixela – confraria – malta.
 - Malta – legião – corja.
 - Baixela – cordoalha – malta.
-
14. Assinale a alternativa em que a oração é sem sujeito:
- Trovejava na noite fatídica.
 - Socorreu desesperadamente as vítimas.
 - Foi excomungado pelo Padre.
 - Na parede branca havia inscrições.
-
15. Assinale a alternativa em que a obra literária corresponde com seu autor:
- “Onze Minutos” – Jorge Amado.
 - “Morte e Vida Severina” – João Cabral de Melo Neto.
 - “Gabriela, Cravo e Canela” – Monteiro Lobato.
 - “O Ateneu” – Raquel de Queiroz.
-
16. Em qual das alternativas o feminino da frase abaixo está correto:
O guardião foi repreendido pelo varão.
- A guardiona foi repreendida pela varonesa.
 - A guardiã foi repreendida pela varonesa.
 - A guardiona foi repreendida pela matrona.
 - A guardiã foi repreendida pela matrona.
-
17. Assinale a alternativa que possui uma palavra proparoxítona e uma oxítona, respectivamente:
- Fantástico – você.
 - Paralelepípedo – saúde.
 - Cafeína – vovó.
 - Árvore – hífen.
-
18. Complete a frase e assinale a alternativa correta:
Não é fácil encontrar o _____ de suas atitudes.
- Por que.
 - Porque.
 - Por quê.
 - Porquê.
-
19. Complete a frase abaixo e assinale a alternativa correta:
Ela estava _____ triste, então decidiu tomar um _____.
- Meia – chops.
 - Meio – chope.
 - Meia – chope.
 - Meio – chops.
-
20. Qual das alternativas corresponde a figura de linguagem “Hipérbole”?
- Ela comeu até explodir.
 - Cacá é uma pérola.
 - Esta torta está gostosa, o doce não.
 - Leandro era tão belo e insuportável.

21. Em uma reunião de condomínio estão presentes apenas 10 condôminos e necessita-se formar uma comissão de três pessoas. De quantas formas diferentes pode ser formada essa comissão?
- 604.800.
 - 64.800.
 - 720.
 - 120.
22. Em uma pirâmide de base quadrada, a medida da aresta da base é a terça parte da medida da altura. Se o volume dessa pirâmide é 216 cm^3 , a aresta da base mede em centímetros:
- 3.
 - $4 \sqrt[3]{3}$.
 - 6.
 - $5 \sqrt[3]{2}$.
23. Comprei um lote de ações que se valorizou 5% no primeiro mês, 7% no segundo mês e 8% no terceiro mês. Qual foi o percentual de valorização nos 3 meses?
- 2.133,8 %.
 - 213,38 %
 - 121,33 %.
 - 21,338 %.
24. Um barril vazio pesa 200 dag, e completamente cheio de óleo pesa 480 hg. Sabendo-se que a capacidade do barril é de 480 dl, o peso de 1 dm^3 do conteúdo é de aproximadamente:
- 4.500 dg.
 - 405 dg.
 - 958 g.
 - 95,8 dg.
25. A razão entre o ângulo externo e o ângulo interno do mesmo polígono é $\frac{1}{5}$. Qual é polígono?
- Hexágono.
 - Icoságono.
 - Dodecágono.
 - Pentágono.
26. Davi acendeu duas velas do mesmo tamanho no mesmo instante. Sabe-se que uma das velas demora 4 horas para se consumir totalmente, enquanto a outra demora 6 horas. Em quanto tempo, após terem sido acesas, uma das velas terá exatamente o dobro da outra?
- 4 horas.
 - 1 hora.
 - 2 horas.
 - 3 horas.
27. A razão entre as idades de duas pessoas é, atualmente, $\frac{2}{3}$. Há 8 anos atrás, essa razão era $\frac{1}{2}$. Pode-se afirmar que a diferença entre essas idades é:
- 3 anos.
 - 8 anos.
 - 9 anos.
 - 12 anos.
28. Se 30 teares trabalhando 12 horas por dia, durante 20 dias produzem 1.200 m de um certo tecido, quantos teares são necessários para fazer 4.800 m do mesmo tecido, em 60 dias, com 8 horas de trabalho por dia?
- 60.
 - 100.
 - 120.
 - 80.
29. Dois irmãos Téo e Déa medem juntos 3,30 m, mas a altura de Téo supera a altura de Déa em 10 cm. Bia, a irmã mais nova, que tem $\frac{9}{8}$ da altura de Déa mede:
- 1,60 m.
 - 170 dam.
 - 190 cm.
 - 18 dm.
30. Quanto é a soma dos seis primeiros termos de uma P.G., sabendo-se que o segundo termo é 4 e quarto termo é 64?
- 2.195.
 - 5.461.
 - 1.365.
 - 341.
31. A revolução de 1.930 terminou com o governo do Presidente:
- Afonso Pena.
 - Washington Luiz.
 - João Pessoa.
 - Getulio Vargas.
32. A promulgação da Constituição de 1.967 se deu no governo:
- Castelo Branco.
 - Costa e Silva.
 - Collor de Mello.
 - Jânio Quadros.
33. O Ato Institucional nº 5, em 1.968, foi deflagrado no governo de:
- Café Filho.
 - Eurico Gaspar Dutra.
 - General Costa e Silva.
 - General Ernesto Geisel.
34. Durante os anos da ditadura militar, iniciada em 1.964, o Sr. Delfim Neto exerceu o cargo de:
- Senador.
 - Deputado Federal.
 - Ministro de Estado.
 - As alternativas a, b e c estão incorretas.
35. As cidades de Paulínia, Monte Verde e Itaguaí localizam-se no Estado de:
- Rio de Janeiro.
 - São Paulo.
 - Minas Gerais.
 - As alternativas a, b e c estão incorretas.
36. A produção das indústrias metalúrgica e siderúrgica destacam-se na cidade de:
- Cabo Frio.
 - Volta Redonda.
 - Alfenas.
 - Poços de Caldas.
37. O Rio Amazonas tem sua nascente no:
- Peru.
 - Venezuela.
 - Colômbia.
 - As alternativas a, b e c estão incorretas.
38. Assinale a alternativa incorreta dos países que fazem parte do MERCOSUL:
- Brasil.
 - Venezuela.
 - Uruguai.
 - Paraguai.
39. O advogado, compadre do Presidente Lula, suposto envolvido na negociação da VARIG-LOG é o senhor:
- Roberto Teixeira.
 - José Dirceu.
 - Miguel Reale Jr.
 - Pinheiro Neto.
40. A acadêmica Zélia Gattai, recentemente falecida, era esposa do famoso escritor:
- Fernando Morais.
 - Artur da Távola.
 - Paulo Coelho.
 - Jorge Amado.
41. O programa "Paint" do Windows serve para:
- Criar e editar imagens.
 - Criar e editar músicas.
 - Assistir DVD's.
 - Assistir DVD's e reproduzir CD's de música.


42. As opções:

Backup.
Limpeza de disco.
Mapa de caracteres.

São pertencentes ao grupo:

- a) Ferramentas do sistema.
- b) Entretenimento.
- c) Acessibilidade.
- d) Comunicação.

43. A figura apresenta botões pertencente à barra de ferramentas *Padrão* do Excel. São eles respectivamente:



- a) Auto Soma; Mesclar.
- b) Auto Soma; Colar função.
- c) Colar função; Auto soma.
- d) Mesclar; Colar função.

44. No Microsoft Excel a função =HOJE()-10 resulta:

- a) #NOME?
- b) Na data de dez dias atrás.
- c) Na data e na hora atual.
- d) Na data de 10 anos atrás.

45. Para fechar uma janela aberta no Windows podemos usar entre outras possibilidades a junção das teclas:

- a) CTRL+F6.
- b) SHIFT+F4.
- c) ALT+F4.
- d) CTRL+X.





46. Assinale a alternativa incorreta. São programas que compõe o Pacote Office:

- a) Access.
- b) Power Point.
- c) Paint.
- d) Excel.

47. Para localizar, entre as células F1 e F100 a célula de maior valor existente, utiliza-se a função:

- a) =MAIOR(F1:F100).
- b) =MÉDIA(F1:F100).
- c) =MÁXIMO(F1:F100).
- d) =SUPERIOR(F1:F100).

48. Para “Maximizar” uma tela devemos clicar em qual botão?

- a) 
- b) 
- c) 
- d) 

49. Quando abrimos um documento novo no Word, o fundo da tela é branco, para alterar sua cor devemos:

- a) Clicar no menu *Formatar*; escolher a opção *Plano de fundo*; e escolher a cor desejada.
- b) Clicar no botão *Realçar* na barra de ferramentas *Formatação*; e escolher a cor desejada.
- c) Clicar no menu *Ferramentas*; escolher a opção *Fonte*; e escolher a cor desejada.
- d) Clicar no menu *Tela*; escolher a opção *Cor*; e escolher a cor desejada.

50. Inicia e configura as ferramentas de acessibilidade de uma janela. Estamos nos referindo a qual acessório que acompanha o Windows?

- a) Gerenciador de Utilitários.
- b) Lente de aumento.
- c) Assistente de acessibilidade.
- d) Informações do sistema.