

CONCURSO PÚBLICO

Maio - 2008



Técnico de Contabilidade

Leia estas instruções:

1	Confira se os dados contidos na parte inferior desta capa estão corretos e, em seguida, assine no espaço reservado para isso. Caso se identifique em qualquer outro local deste Caderno, você será eliminado do Concurso.
2	Este Caderno contém, respectivamente, uma proposta de Redação, três questões discursivas de Conhecimentos Específicos e trinta questões de múltipla escolha, assim distribuídas: 01 a 20 → Conhecimentos Específicos; 21 a 30 → Conhecimentos em Informática.
3	Se o Caderno contiver alguma imperfeição gráfica que impeça a leitura, comunique isso imediatamente ao Fiscal.
4	Na Redação e nas questões discursivas, você será avaliado exclusivamente por aquilo que escrever dentro dos espaços destinados ao texto definitivo e às respostas.
5	Escreva de modo legível. Dúvida gerada por grafia ou rasura implicará redução de pontos.
6	Cada questão de múltipla escolha apresenta apenas uma resposta correta.
7	Os rascunhos e as marcações feitas neste Caderno não serão considerados para efeito de avaliação.
8	Interpretar as questões faz parte da avaliação; portanto, não adianta pedir esclarecimentos aos Fiscais.
9	Utilize qualquer espaço em branco deste Caderno para rascunhos e não destaque nenhuma folha.
10	Você dispõe de, no máximo, quatro horas e meia para elaborar, em caráter definitivo, a Redação, responder às questões discursivas e às de múltipla escolha e preencher a Folha de Respostas.
11	O preenchimento da Folha de Respostas é de sua inteira responsabilidade.
12	Antes de retirar-se definitivamente da sala, devolva ao Fiscal a Folha de Respostas e este Caderno.

Assinatura do Candidato: _____



Prova de Redação

O acesso à água de qualidade para consumo se constitui um direito do cidadão no mundo atual.

- Elabore um texto argumentativo no qual você explicita os prejuízos que o descumprimento desse direito acarreta para a população.

OBSERVAÇÕES:

- O texto deverá ser redigido em prosa, no registro padrão da língua portuguesa escrita, de forma coesa e coerente.
- Ao texto com **menos de 15 (quinze) linhas**, será atribuído **zero**.
- **NÃO assine** a Redação.

ESPAÇO DESTINADO À REDAÇÃO DEFINITIVA

1

2

3

4

5

6

7

8

9

10

11

12

13

14

15

16

17

18

19

20

21

22

23

24

25

26

27

28

29

30

31

32

33

34

35

NÃO assine a Redação.

Discursiva ⇒ Conhecimentos Específicos ⇒ 1 a 3

1. Determinado funcionário da empresa ABC, que tem como dependente um filho de cinco anos, recebeu no mês de abril de 2008, salário bruto de R\$ 3.500,00.

Observe as tabelas de desconto a seguir:

Tabela Progressiva Mensal – Imposto de Renda		
Base de Cálculo em R\$	Alíquota %	Parcela a deduzir do Imposto em R\$
Até 1.372,81	-	-
De 1.372,82 até 2.743,25	15	205,92
Acima de 2.743,25	27,5	548,82
a quantia de R\$ 137,99 (cento e trinta e sete reais e noventa e nove centavos) por dependente		

Salário de contribuição (R\$)	Alíquota para recolhimento ao INSS
até R\$ 911,70	8,0%
de R\$ 911,71 a R\$ 1.519,50	9,0%
de R\$ 1.519,51 até R\$ 3.038,99	11,0%
Portaria MF/MPS nº 77, de 12 de março de 2008 Teto de Contribuição de INSS: R\$ 334,29	

Com base nas informações acima, contabilize apenas os fatos referentes à apropriação desse salário. Não esqueça dos descontos a ele pertinentes.

Espaço destinado à Resposta

Fim do espaço destinado à Resposta

Rascunho

2. Em 01 de junho, a empresa JK Ltda. contratou um agente de vendas, com um salário bruto mensal de R\$ 1.200,00. Após três meses, a empresa resolveu promovê-lo a gerente, aumentando seu salário para R\$ 1.800,00 no dia 1º de setembro.

Em relação a esse caso, efetue os cálculos e a contabilização para a provisão do 13º salário a ser realizada em 30 de setembro, observado o Princípio da Competência.

Espaço destinado à Resposta

Fim do espaço destinado à Resposta

Rascunho

3. Observe os saldos a seguir, apresentados por uma Sociedade Limitada:

Contas	Valores (em R\$)
Adiantamento a Sócios	1.000
Lucros Acumulados	6.550
Móveis e Utensílios	10.000
Capital Realizado	70.000
Duplicatas a Receber	25.000
Fornecedores	15.000
Provisão para Devedores Duvidosos	375
Provisão para 13º Salário	10.000
Terrenos	30.000
Estoque	45.000
Duplicatas Descontadas	5.375
Reservas de Lucros	4.500
Depreciação Acumulada	1.200
Bancos c/Movimento	2.000

A partir dessas informações, elabore o balanço patrimonial, de acordo com os princípios contábeis e a legislação fiscal.

Espaço destinado à Resposta

Fim do espaço destinado à Resposta

Rascunho

Objetiva ⇒ Conhecimentos Específicos ⇒ 01 a 20

01. Por um serviço prestado, a empresa TANACA recebeu, no dia do vencimento, o valor líquido de R\$ 1.400,00. Sabendo-se que a retenção do imposto de renda na fonte é de 15%, a contabilização desse recebimento é feita desse modo:

A) Caixa
a Contas a receber - 1.647,06

B) Diversos
a Contas a receber - 1.647,06
Caixa 1.400,00
IR a Recuperar 247,06

C) Diversos
a Contas a receber - 1.610,00
Caixa 1.400,00
IR a Recolher 210,00

D) Caixa
a Contas a receber - 1.610,00

As respostas às questões 2 e 3 devem basear-se nas informações do quadro abaixo, referentes ao Balanço Patrimonial do exercício de 2005, da empresa Jucurutu:

Contas	Valores em R\$
Clientes	35.000
Reserva de Legal	4.000
Despesas Antecipadas	10.000
Provisão para devedores duvidosos	1.750
Fornecedores	45.750
Créditos fiscais	6.500
Adiantamento a Fornecedores	6.750
Exigível a Longo Prazo	3.500
Depreciação Acumulada	10.000
Banco	5.000
Adiantamento de Clientes	3.250
Capital Social	38.000
Ativo Imobilizado	50.000

02. Os valores presentes no balanço acima que correspondem, **respectivamente**, ao Ativo Circulante e ao Patrimônio Líquido, são:

- A) 54.750,00 e 38.000,00
- B) 58.000,00 e 49.250,00
- C) 64.750,00 e 42.000,00
- D) 61.500,00 e 42.000,00

03. O valor do capital circulante líquido gerado pela empresa Jucurutu é:

- A) 1.000,00
- B) 19.000,00
- C) 12.500,00
- D) 5.500,00

04. Em relação às Demonstrações Financeiras, exigidas pela Lei da 6.404/76, é **incorreto** afirmar:

- A) A demonstração das mutações do patrimônio líquido fornece a movimentação ocorrida, durante o exercício, nas diversas contas que compõem o Patrimônio Líquido.
- B) No balanço, as contas são classificadas segundo os elementos do patrimônio que registram, e agrupadas de modo a facilitar o conhecimento da posição financeira e patrimonial da empresa em determinada data, representando uma posição estática.
- C) A Demonstração das Origens e Aplicações de Recursos tem a função de apresentar, de forma ordenada e sumariada, principalmente as informações relativas às apurações de financiamento e de investimento da empresa durante o exercício.
- D) O Fluxo de Caixa tornou-se peça obrigatória das Demonstrações Financeiras, com a promulgação da Lei 11.638/07.

05. Considere as informações abaixo, referentes à composição do Patrimônio Líquido da empresa Tsunami no final de um dado exercício:

Contas	Valores em R\$
Capital Social	950.000
Reserva de Ágio na Emissão de Ações	50.000
Reserva de Reavaliação	25.000
Reserva de Correção Monetária do Capital Realizado	11.200
Reserva Legal	7.725
Reserva Estatutária	12.275
Reserva para Contingências	8.000

De acordo com essas informações, os valores que representam, **respectivamente**, as Reservas de Capital e as Reservas de Lucros são:

- A) 86.200,00 e 28.000,00
- B) 50.000,00 e 64.200,00
- C) 61.200,00 e 53.000,00
- D) 61.200,00 e 28.000,00

06. Para Amortização dos Planos de Empréstimos, existem vários sistemas, dentre os quais podem ser citados o SAC e o SPC.

Em relação ao SAC, pode-se afirmar:

- A) É conhecido como Sistema Francês.
- B) Todos os valores de amortização são iguais em toda a duração do plano.
- C) É uma aplicação das séries uniformes de capitais antecipados.
- D) Sua atratividade consiste no decréscimo da taxa de juros no decorrer do tempo.

07. A empresa TOTOYA, no final do exercício de 2006, levantou o seguinte demonstrativo:

Contas	Valores em R\$
Receita Bruta	200.000
Impostos sobre Venda	55.000
Lucro Operacional	25.000
Provisão para Imposto de Renda e Contribuição Social sobre o Lucro Líquido	6.000
CPV	85.000

Com base nessas informações e sabendo-se que a reserva estatutária é de 15%, os valores da Reserva Legal e da Reserva Estatutária que deverão ser constituídas pela TOTOYA são, **respectivamente**:

- A) 950,00 e 2.850,00
- C) 950,00 e 2.707,50

B) 807,50 e 2.850,00

D) 807,50 e 2.707,50

08. A carteira de clientes da empresa comercial Tsunami está mensurada no valor total de R\$ 80.000,00. Devido ao fato de promessas de pagamento de duplicatas não estarem sendo cumpridas, a empresa resolveu fazer a provisão para devedores duvidosos.

Nesse caso, a contabilização que a empresa deve fazer, para o final do exercício, é:

A) Despesa com vendas
a Provisão para créditos de liquidação duvidosa R\$ 1.200,00

B) Despesa com vendas
a Contas a receber R\$ 1.200,00

C) Despesa administrativa
a Provisão para créditos de liquidação duvidosa R\$ 1.200,00

D) Despesa administrativa
a Contas a Receber R\$ 1.200,00

09. Uma empresa com data de encerramento do balanço em 31 de dezembro, obteve, no dia 1º de outubro de 2007, um empréstimo no valor de R\$ 240.000,00, para amortização em 24 meses, em parcelas fixas. Nesse caso, os valores (em reais) que deverão ser apropriados, **respectivamente**, como Passivo Circulante e como Passivo Exigível à Longo Prazo, são:

A) 150.000,00 e 90.000,00

C) 120.000,00 e 120.000,00

B) 30.000,00 e 210.000,00

D) 140.000,00 e 100.000,00

10. A Empresa Oscar Ltda., em março 2007, comprou mercadorias no valor de R\$ 100.000,00 (ICMS de 17% incluso). Em abril desse mesmo ano, vendeu 60% das mercadorias em estoque por R\$ 180.000,00 (ICMS de 17% incluso).

Sabendo-se que o estoque final de mercadorias, em fevereiro de 2007, era de R\$ 31.500,00, em abril o Lucro Bruto e estoque final (em reais) foram, **respectivamente**:

A) 101.100,00 e 52.600,00

C) 99.600,00 e 64.700,00

B) 120.000,00 e 71.500,00

D) 80.700,00 e 45.800,00

11. Em 2006, a Empresa Tocana Ltda. adquiriu mercadorias no valor de \$ 55.000,00, para serem usadas no início de 2007. No fechamento do exercício, a contabilidade resolveu que, a partir do ano seguinte seu estoque deveria ser avaliado pelo método PEPS, já que, para o ano de 2006, estava sendo este avaliado pela Média Ponderada Móvel.

Nesse caso, a convenção contábil que deve ser observada é:

A) conservadorismo

C) materialidade

B) consistência

D) objetividade

12. De acordo com os princípios e convenções contábeis, é **incorreto** afirmar:

A) Pelo princípio do Denominador Comum Monetário, as demonstrações contábeis, sem prejuízo dos registros detalhados de natureza qualitativa e física, serão expressas em termos de moeda nacional de poder aquisitivo da data do último balanço patrimonial.

B) Na conversão do Conservadorismo, o contador deverá escolher, entre conjuntos alternativos de avaliação para o patrimônio, igualmente válidos o que apresentar o menor valor atual para o ativo e o que apresentar o maior para as obrigações.

C) No princípio da Competência, as receitas e despesas devem ser incluídas na apuração do resultado no período em que efetivamente ocorreram, simultaneamente com os devidos recebimentos e pagamentos.

D) O princípio da Oportunidade se refere, simultaneamente, à tempestividade e à integridade do registro do patrimônio e das suas mutações, determinando que ele seja feito de

imediatos e com a extensão correta, independentemente das causas que originaram essas mutações.

13. A empresa Loya Ltda. demitiu um funcionário, que recorreu à justiça trabalhista, reclamando o pagamento de horas extras, não efetuado pela empresa.

Diante desse fato, a empresa deve fazer uma provisão da despesa, de acordo com o que estabelece

- A) a convenção da Uniformidade.
- B) a convenção da Materialidade.
- C) o princípio da Prudência.
- D) o princípio da Entidade.

14. A Demonstração das Origens e Aplicações de Recursos, que visa identificar as modificações ocorridas na posição financeira de curto prazo da empresa, deve ser composta por transações que afetam e transações que não afetam o capital circulante da empresa. Não afetam o capital circulante da empresa

- A) perdas por equivalência patrimonial, depreciação e integralização de capital social em bens do ativo permanente.
- B) receita de venda, despesa administrativa e depreciação.
- C) lucro na alienação de bens permanentes, variação monetária de direitos realizáveis e integralização de capital em dinheiro.
- D) integralização de capital em dinheiro, Integralização de capital social em bens do ativo permanente e aquisição de bens do ativo permanente para pagamento de longo prazo.

15. As naturezas básicas das contas do Ativo, do Passivo, do Patrimônio Líquido, das Receitas e das Despesas são, **respectivamente**,

- A) devedora, credora, credora, devedora e credora.
- B) credora, devedora, devedora, credora e devedora.
- C) devedora, devedora, credora, devedora e credora.
- D) devedora, credora, credora, credora e devedora

16. Os elementos patrimoniais que sofrem desgaste de sua vida útil através de exaustão, depreciação e amortização são, **respectivamente**,

- A) móveis e utensílios, reservas florestais, marcas e patentes.
- B) reservas minerais, veículos, marcas e patentes.
- C) reservas florestais, veículos, contas a receber.
- D) móveis e utensílios, marcas e patentes, reservas florestais.

17. Determinada empresa fez uma aplicação financeira no fundo de investimento de curto prazo, no valor de R\$ 5.000,00, para resgate após três meses. A taxa de juros utilizada era de 2% ao mês.

Ao final desse período, essa empresa conseguiu resgatar, num regime de capitalização composta, o valor de:

- A) 5.106,04
- B) 5.300,00
- C) 5.100,00
- D) 5.306,04

18. Uma empresa comercial foi constituída em 1º de dezembro de 2006, com um capital de R\$ 1.000.000,00, sendo integralizados, no ato, 50% em dinheiro, 30% em moveis e utensílios, e o restante em mercadorias para revenda adquiridas diretamente pelos proprietários da empresa.

A contabilização, para tais fatos, é:

A) Disponibilidade a Capital Integralizado	R\$ 1.000.000,00	R\$ 1.000.000,00
B) Capital a Integralizar a Diversos	R\$ 1.000.000,00	
Banco		R\$ 500.000,00
Móveis e Utensílios		R\$ 300.000,00
Estoque		R\$ 200.000,00
C) Diversos a capital integralizado		R\$ 1.000.000,00
Banco	R\$ 500.000,00	
Móveis e Utensílios	R\$ 300.000,00	
Estoque	R\$ 200.000,00	
D) Banco a Capital Integralizado	R\$ 1.000.000,00	R\$ 1.000.000,00

19. Em 31 de dezembro, a contabilidade da empresa Tabajara apresentava as seguintes contas:

Contas	Valores em R\$
Despesas Antecipadas	1.000
Lucros Acumulados	6.550
Móveis e Utensílios	10.000
Capital Realizado	70.000
Duplicatas a Receber	25.000
Fornecedores	15.000
Provisão para Devedores Duvidosos	375
Provisão para 13º Salário	10.000
Terrenos	30.000
Estoque	45.000
Duplicatas Descontadas	5.375
Reservas de Lucros	4.500
Depreciação Acumulada	1.200
Bancos c/Movimento	2.000

Nesse caso, na elaboração do balanço patrimonial da empresa, o montante das contas redutoras do ativo e o montante das contas do Patrimônio Líquido, eram, **respectivamente**:

- | | |
|--------------------------------|---------------------------------|
| A) 6.950,00 e 81.050,00 | C) 17.950,00 e 91.050,00 |
| B) 7.950,00 e 91.050,00 | D) 7.950,00 e 81.050,00 |

20. Em relação a tipos de contas, afirma-se:

I	“Salários a Pagar” é uma conta de despesas, pois representa a parte dos Salários que ainda não foram pagos.
II	“Adiantamento de clientes” representa uma dívida da empresa, por isso é uma conta de saldo devedor, contabilizada no Ativo Circulante.
III	“Adiantamento aos Sócios” é uma conta do ativo, tem saldo devedor e representa um crédito da empresa.
IV	Adiantamento a funcionários é uma conta de saldo devedor e representa conta um débito da empresa.

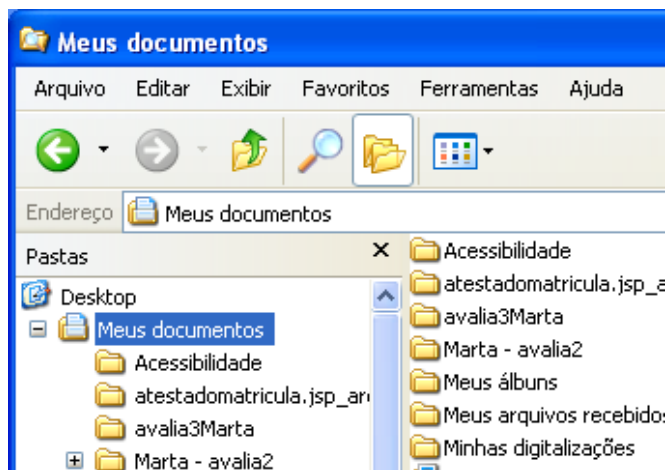
Em relação às afirmativas acima, estão **incorretas**:

- A)** somente as afirmativas I e IV
- B)** somente as afirmativas I e II



- C)** somente as afirmativas III e IV
- D)** todas as afirmativas

Objetiva ⇒ Conhecimentos em Informática ⇒ 21 a 30

21. A figura abaixo mostra um trecho de uma janela do **Windows Explorer** (gerenciador de arquivos e pastas do Windows XP Professional Versão 5.1) com a pasta **Meus Documentos** selecionada.



Com base na figura e em informações sobre o Windows, é correto afirmar:




- A) O modo de exibição dos arquivos e pastas na janela **Meus Documentos** é o modo Detalhes.
- B) O sinal + antes da pasta **Marta – avalia2** indica que ela contém pelo menos uma subpasta.
- C) O botão  , quando clicado uma vez (botão esquerdo do *mouse*) aumenta o tamanho das letras.
- D) O efeito de um clique (botão esquerdo do *mouse*) no botão  é o mesmo de se apertarem as teclas (Ctrl+Z).

22. Com base nos conhecimentos sobre Windows XP Professional (*Acessórios e Ferramentas do sistema*), é correto afirmar:

- A) O Paint cria e edita desenhos, além de exibir e editar fotos digitalizadas.
- B) O Bloco de Notas cria e edita documentos de texto com formatação complexa.
- C) O Backup atualiza a cópia da rede de materiais que foram editados *off-line*.
- D) O acessório Sincronizar arquiva dados, para protegê-los de perda acidental.

A figura a seguir mostra parte de uma janela do Microsoft Office Excel 2003 que servirá de base para as questões 23, 24 e 25.

Consumidor	Categoria	Cota básica	Tarifa mínima	Consumo	Excesso	Tarifa excesso	Tarifa total
Antonio	RS 115	10	R\$ 3,81	18	8	R\$ 18,00	R\$ 21,81
Bruno	RP 101	10	R\$ 12,02	8	0		
Carla	R 102	10	R\$ 18,91	20	10		
Daniel	R 105	10	R\$ 18,91	15	5		
Francisca	RP 101	10	R\$ 12,02	12	2		
George	R 121	10	R\$ 18,91	9	0		

23. O trecho de planilha da figura mostra a fórmula $=SE(F5=0;0;SE(F5>5;10,5+(F5-5)*2,5;F5*2,1))$ na célula G5 (que usa a função SE para cálculo da Tarifa do excesso de consumo com base na Tabela Tarifária que vem na Conta Mensal da CAERN). Se essa fórmula for copiada usando a alça de preenchimento para a faixa [G6:G10], os valores da Tarifa excesso para os consumidores **Carla, Daniel e Francisca** serão, *respectivamente*:
- A) 41,91; 29,41 e 16,22
 B) R\$ 41,91; R\$ 29,41 e R\$ 16,22
 C) R\$ 23,50; R\$ 10,20 e R\$ 4,60
 D) R\$ 23,00; R\$ 10,50 e R\$ 4,20
24. A partir da análise da figura e de informações sobre o Excel, é correto afirmar:
- A) Se a faixa [A5:F10] for selecionada e, em seguida se clicar (botão esquerdo) no botão , a categoria de Daniel (R 105) será mudada para R 102.
 B) A planilha **Tarifa** foi renomeada clicando-se (botão esquerdo) com a seta  sobre Plan1, e em seguida, escolhendo-se Renomear e digitando-se Tarifa.
 C) O título principal da planilha **CÁLCULO DA TARIFA DE CONSUMO MENSAL COM BASE NA TABELA TARIFÁRIA** está na célula A2.
 D) Com a célula D5 selecionada, um clique simples (botão esquerdo do *mouse*) no botão  desativará o formato de moeda (retirá o R\$ da célula D5).
25. Se, na célula D11 for digitada a fórmula $=CONT.SE(A5:F10;">5")$ e, na célula E11 for digitada a fórmula $=CONT.VALORES(A5;E10)$, em seguida teclando-se Enter após cada digitação, aparecerão nas células D11 e E11, **respectivamente**, os seguintes valores:
- A) 29 e 30
 B) 29 e 2
 C) 19 e 30
 D) 19 e 2

26. A respeito do serviço de correio eletrônico na Internet, é correto afirmar:

- A) É possível enviar-se mais de um arquivo como anexo a uma mensagem de correio eletrônico.
- B) As mensagens lidas são apagadas automaticamente da caixa postal pelo serviço de correio eletrônico.
- C) A caixa postal de correio eletrônico pode armazenar no máximo 10(dez) mensagens não lidas.
- D) <http://www.caern.com.br@usuario> é um exemplo de um endereço de correio eletrônico na Internet.

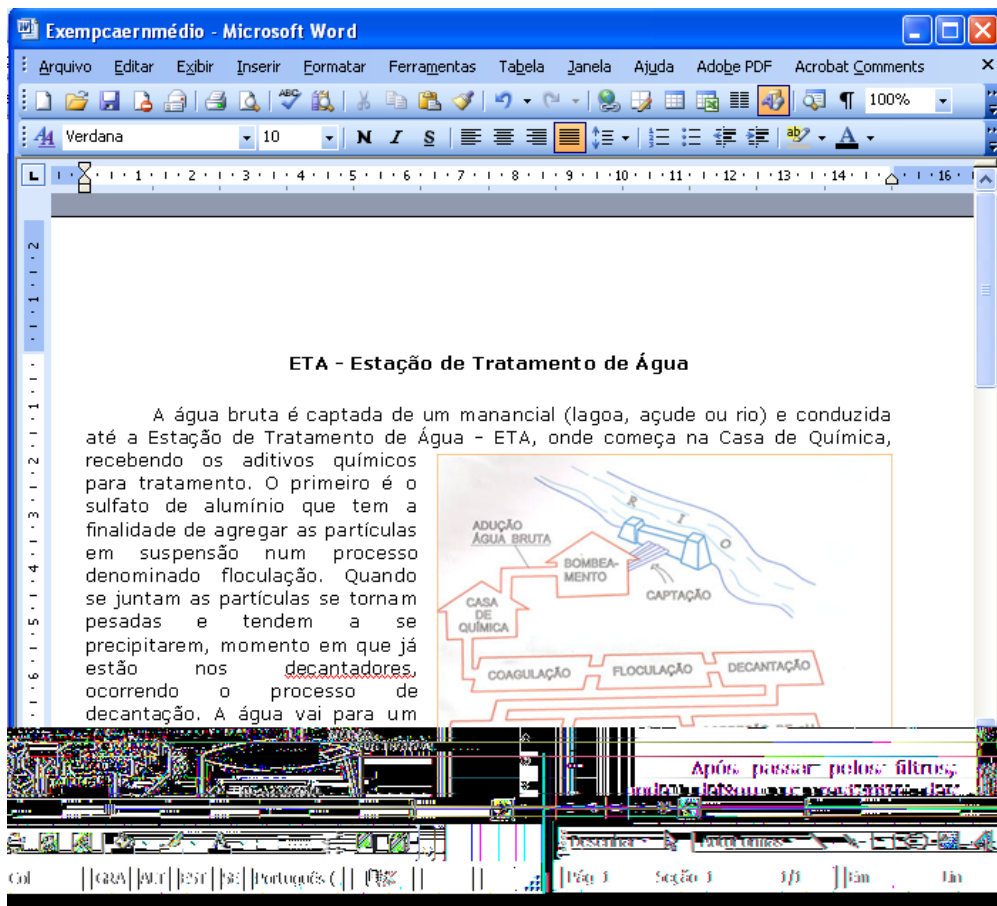
27. Considere as seguintes afirmativas, relativas a serviços na Internet

I	Uma mensagem pode ser armazenada na caixa postal de um usuário de correio eletrônico, mesmo que o computador do usuário esteja desligado.
II	A operação de enviar um arquivo do computador do usuário para um servidor da Internet é chamada de <i>download</i> .
III	A Caixa Postal é o componente de um serviço de <i>e-mail</i> que armazena as mensagens de correio eletrônico.
IV	nome@caern.com.br é um exemplo de um endereço válido de um <i>site</i> na Internet.
V	Um serviço de busca na Internet fornece uma lista de endereços de <i>sites</i> , na Internet, onde se encontra um assunto escolhido (através de uma chave de busca: palavra, texto, grupo de caracteres, etc.).

A opção em que todas as afirmativas são verdadeiras é:

- A) I, II e IV
- B) I, III e V
- C) II, III e V
- D) II, III e IV

A figura a seguir mostra parte de uma janela do Microsoft Office Word 2003 que servirá de base para as questões 28 e 29. Ela reproduz fragmento de um texto e figura retirados do *site* da CAERN (<http://www.caern.com.br/informestecnicos/eta.html>), acessado em 14 de abril de 2008.



28. Com base na figura e em informações sobre Word, é correto afirmar:

- A) O número que aparece logo após *Lin* na barra de status (quando disponível) mostra o número de linhas do documento.
- B) A informação 1/1, na barra de *status*, indica que está sendo mostrada a página 1 (ou parte dela) de um documento de uma página.
- C) Para se colocar cabeçalho ou rodapé em um documento, utiliza-se a opção *Cabeçalho e rodapé*, do menu *Inserir*.
- D) Para se desenhar uma borda numa página de um documento, utiliza-se a opção *Bordas e sombreamento*, do menu *Exibir*.





29. A partir da análise da figura e de informações sobre o Word, é correto afirmar:

- A) A opção *Maiúsculas e minúsculas...* faz parte do menu *Ferramentas*, da barra de Menu.
- B) O Layout da figura inserida no texto é *Na frente*, com alinhamento horizontal à direita.
- C) A palavra **decantadores** não pertence ao dicionário da versão do Word usada na figura.
- D) A opção *Em*, da barra de *status* está desativada porque a margem esquerda tem menos de 1 cm.

30. A figura a seguir mostra a barra de ferramentas que auxilia na inclusão de Cabeçalho e rodapé num texto. Com base na figura e informações sobre o Word é correto afirmar que:



Com base, nessa figura e em informações sobre o Word, é correto afirmar:

- A) Um clique simples (botão esquerdo do *mouse*) no botão  insere o número de páginas do documento no cabeçalho ou rodapé.
- B) Um clique simples (botão esquerdo do *mouse*) no botão  alterna entre o cabeçalho e o rodapé do documento.
- C) Um clique simples (botão esquerdo do *mouse*) no botão  insere o número da página em uso no cabeçalho ou rodapé.
- D) Um clique simples (botão esquerdo do *mouse*) no botão  insere a data no cabeçalho ou rodapé do documento.